

تم تحميل هذا الملف من موقع المناهج البحرينية



الملف أوراق عمل شاملة

[موقع المناهج](#) ⇌ [الصف الثاني](#) ⇌ [رياضيات](#) ⇌ [الفصل الثاني](#) ⇌ [الملف](#)

روابط مواقع التواصل الاجتماعي بحسب الصف الثاني



روابط مواد الصف الثاني على تلغرام

[الرياضيات](#)

[اللغة الانجليزية](#)

[اللغة العربية](#)

[التربية الاسلامية](#)

المزيد من الملفات بحسب الصف الثاني والمادة رياضيات في الفصل الثاني

نشاط تدريبي عد النقود	1
نشاط تدريبي تمييز فئات النقود	2
نشاط كتابة الأعداد بالأرقام	3
نشاط وحدة الكسور	4
تدريبات على كسور الوحدة	5

بسم الله الرحمن الرحيم

المادة / رياضيات

الصف / الثانى الابتدائى

الموضوع / الوقت بالساعات الكاملة

التاريخ /


الاسم /

الحصة /


مثال : استعمل الصورة وأكتب الوقت الذى تشير اليه الساعة

∴

-1



-2



بسم الله الرحمن الرحيم

المادة / رياضيات

الصف / الثاني الابتدائي

الموضوع / الوقت بنصف ساعة


التاريخ /

الاسم /


الحصة /

أكتب الوقت الذي تشير اليه الساعة :

-1



-2



بسم الله الرحمن الرحيم

المادة / رياضيات

الصف / الثانى الابتدائى

الموضوع / تقدير الزمن

التاريخ /

الاسم /

الحصة /

﴿ قدر الزمن اللازم لكل مما حدث مما يأتى . ثم أحيط إجابتك .

1- تحضير حقيبة المدرسة .



ثَانِيَّةً وَاحِدَةً دَقِيقَةً وَاحِدَةً سَاعَةً وَاحِدَةً

2- العب فى الحديقة



ثَانِيَّةً وَاحِدَةً دَقِيقَةً وَاحِدَةً سَاعَةً وَاحِدَةً

بسم الله الرحمن الرحيم

المادة / رياضيات

الصف / الثاني الابتدائي

الموضوع / الوقت بالساعات الكاملة ونصف الساعة

التاريخ /

الاسم /

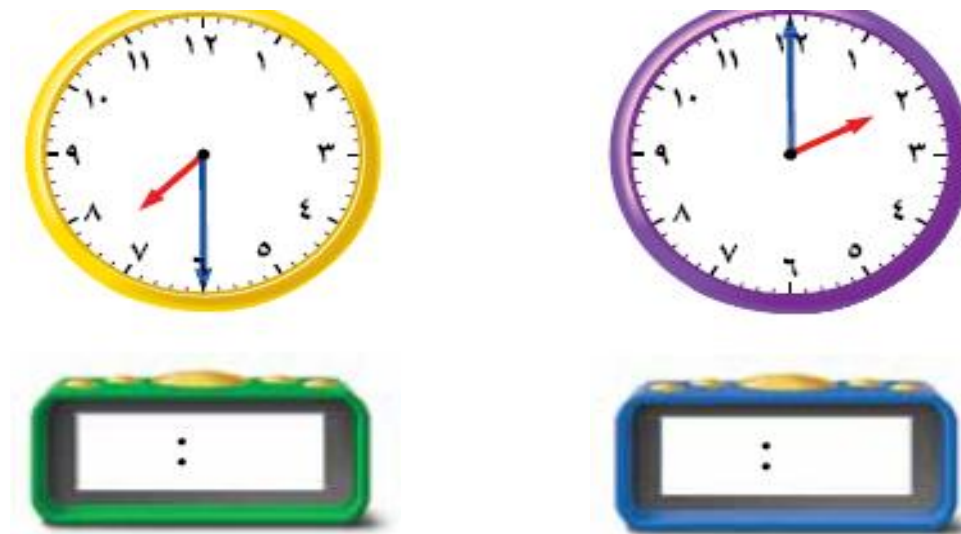
الحصة /

أقرأ الساعة ثم أكتب الوقت :

1-



2-



بسم الله الرحمن الرحيم

المادة / رياضيات

الصف / الثاني الابتدائي

الموضوع / النشاط والزمن

التاريخ /

الاسم /

الحصة /

أحيط النشاط الذي يستغرق زمنا أطول .

-1



-2



بسم الله الرحمن الرحيم

المادة / رياضيات

الصف / الثانى الابتدائى

الموضوع / الوقت بربع ساعة

التاريخ /

الاسم /

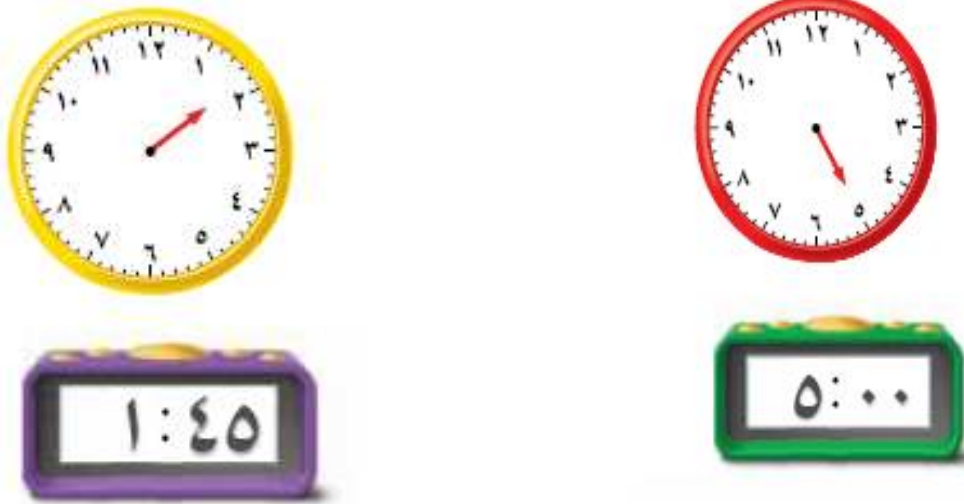
الحصة /

أقرأ الساعة ثم ارسمى عقرب الدقائق على الوقت المعطى .

1-



2-



بسم الله الرحمن الرحيم

المادة / رياضيات

الصف / الثانى الابتدائى

الموضوع / الوقت لأقرب 5 دقائق

التاريخ /

الاسم /

الحصة /

أقرأ الساعة ثم أكتب الوقت الذى تشير اليه ..

-1



-2



بسم الله الرحمن الرحيم

المادة / رياضيات

الصف / الثاني الابتدائي

الموضوع / كسور الوحدة

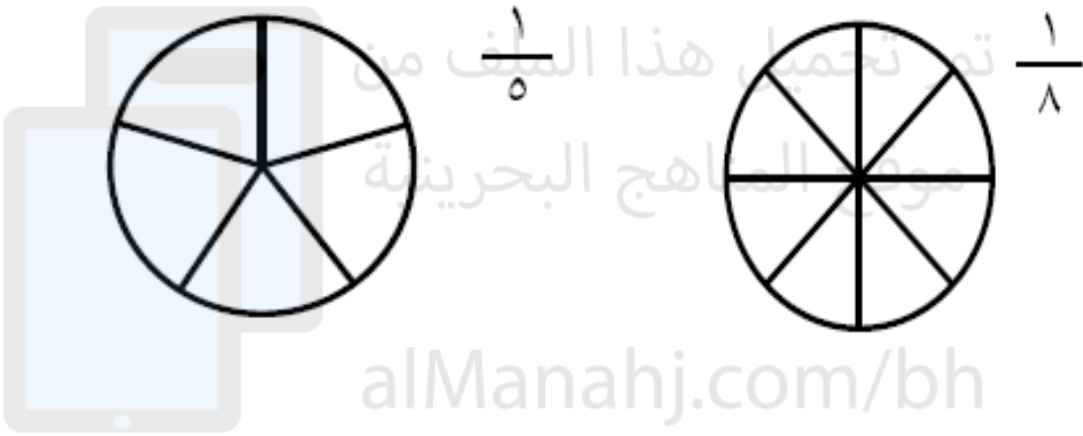
التاريخ /

الاسم /

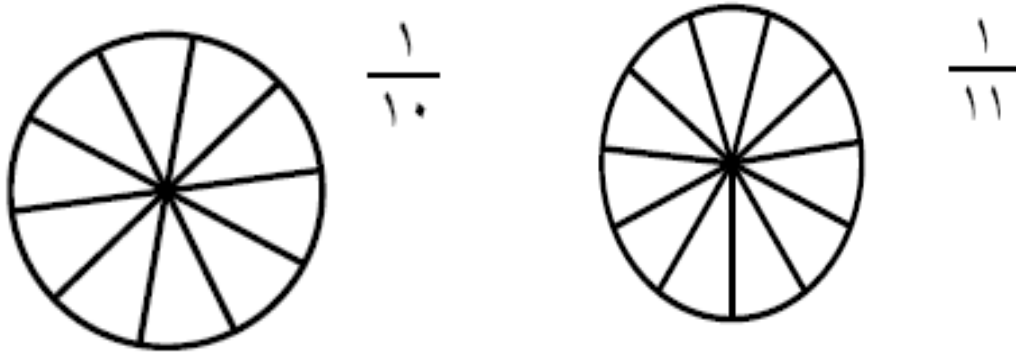
الحصة /

🧠 - ألَوّن الجزء الذي يمثّل الكسر المكتوب:.

-1



-2



بسم الله الرحمن الرحيم

المادة / رياضيات

الصف / الثاني الابتدائي

الموضوع / الكسور الدالة على أكثر من جزء

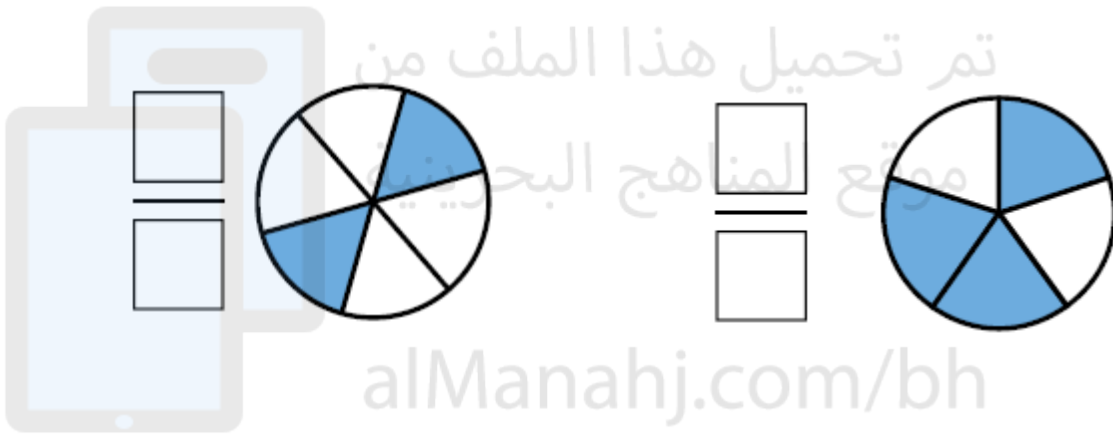
التاريخ /

الاسم /

الحصة /

🧠 - استعمل نماذج الكسور لتمثيل الكسر الدال على الأجزاء الملونة
ثم اكتبه واقرئه .

-1



-2



بسم الله الرحمن الرحيم

المادة / رياضيات

الصف / الثاني الابتدائي

الموضوع / الكسور المساوية للواحد


التاريخ /

الاسم /

الحصة /

🧠 - عدى الأجزاء الملونة وأكتبى الكسر الدال عليها ثم احيط الكسر الذى يساوى 1 :

-1



تم تحميل هذا الملف من
موقع المناهج البحرينية



-2



بسم الله الرحمن الرحيم

المادة / رياضيات

الصف / الثاني الابتدائي

الموضوع / مقارنة الكسور


التاريخ /

الاسم /

الحصة /

أحيط الكسر الأكبر :

-1



تم تحميل هذا الملف من
موقع المناهج البحرينية

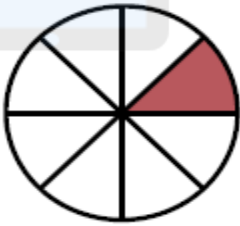


$$\frac{1}{4}$$

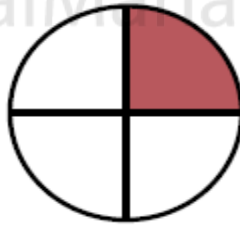


$$\frac{1}{3}$$

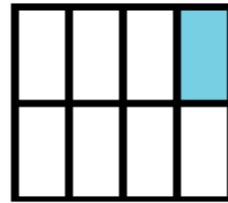
alManahj.com/bh



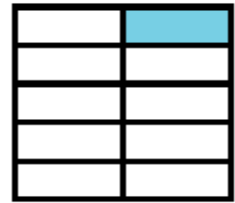
$$\frac{1}{8}$$



$$\frac{1}{4}$$



$$\frac{1}{8}$$



$$\frac{1}{10}$$

بسم الله الرحمن الرحيم

المادة / رياضيات

الصف / الثاني الابتدائي

الموضوع / الكسور كاجزاء من مجموعة


التاريخ /

الاسم /

الحصة /

استعمل قطع العد لتمثيل الكسور ثم اقرئ الكسر الدال على الأشياء الملونة بالأصفر :

-1

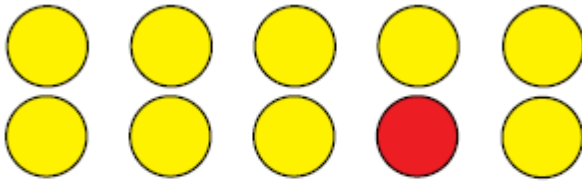


تم تحميل هذا الملف من
موقع المناهج البحرينية

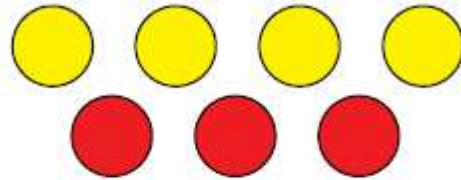


..... المُرَبَّعاتِ

alManahj.com/bh



..... الأشكال الدائرية



..... الأشكال الدائرية

بسم الله الرحمن الرحيم

المادة / رياضيات

الصف / الثانى الابتدائى

الموضوع / المئات

التاريخ /

الاسم /

الحصة /

استعمل النماذج لتمثيل المئات ثم اكتب العدد فى صورة مئات وعشرات وآحاد .

1-

تم تحميل هذا الملف من
موقع المناهج البحرينية
alManahj.com/bn






.....مئات

.....عشرات

.....آحاد

2-



.....مئات

.....عشرات

.....آحاد

بسم الله الرحمن الرحيم

المادة / رياضيات

الصف / الثاني الابتدائي

الموضوع / المئات والعشرات والآحاد

التاريخ /

الاسم /

الحصة /

استعمل النماذج لتمثيل العدد ثم إملاء لوحة المنازل وأكتب العدد

:

1-

تم تحميل هذا الملف من موقع المناهج والبحرنية

آحَادٌ	عَشَرَاتٌ	مِائَاتٌ

٣ و ٦ و ٢

alManahjz.com/bh

آحَادٌ	عَشَرَاتٌ	مِائَاتٌ

٢ و ٨ و ٣

آحَادٌ	عَشَرَاتٌ	مِائَاتٌ

٩ و ٠ و ٧

بسم الله الرحمن الرحيم

المادة / رياضيات

الصف / الثاني الابتدائي

الموضوع / القيمة المنزلية للأعداد حتى 1000

التاريخ /

الاسم /

الحصة /

أكتب العدد :

$$= 600 + 30 + 8 - 1$$



$$= 900 + 60 + 5 - 2$$



$$= 500 + 20 + 5 - 3$$



بسم الله الرحمن الرحيم

المادة / رياضيات

الصف / الثاني الابتدائي

الموضوع / قراءة الأعداد حتى 1000 وكتابتها

التاريخ /

الاسم /

الحصة /

أكتب الأعداد بالكلمات .

1- 710

تم تحميل هذا الملف من
موقع المنهج البحرينية
alManahj.com/bh

2- 900

3- 226

بسم الله الرحمن الرحيم

المادة / رياضيات

الصف / الثاني الابتدائي

الموضوع / مقارنة الأعداد

التاريخ /

الحصة /

الاسم /

🧠 - قارن بين العددين ثم اكتب الإشارة المناسبة (< أو > أو =)

١٥٠ ○ ١٥٠

٢١٣ ○ ١٣٢

٦٢٧ ○ ٦٨٩

٤٢٥ ○ ٤٢٥

٨٩٩ ○ ٩٠٧

٥٣٣ ○ ٥٣٣

٢١٠ ○ ٢٠٧

٦٦٧ ○ ٦٩٧

٤٢١ ○ ٤١١

٦٢١ ○ ٦١٩

٧٢٩ ○ ٧٢٩

٣٠٠ ○ ٣٢٥

٣٣٥ ○ ٣٣٢

٨٩٤ ○ ٩٨٤

بسم الله الرحمن الرحيم

المادة / رياضيات

الصف / الثاني الابتدائي

الموضوع / ترتيب الأعداد

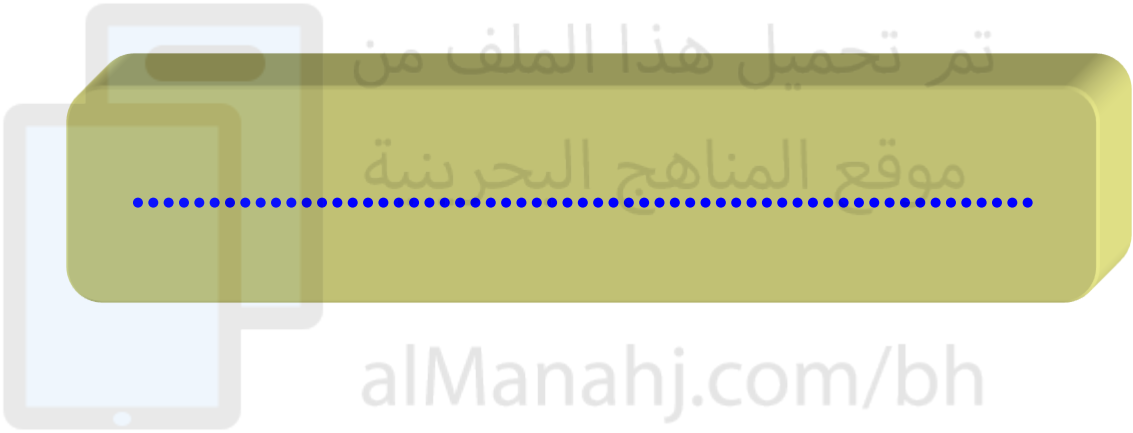
التاريخ /

الاسم /

الحصة /

🧠 - رتب الأعداد التالية من الأصغر الى الأكبر :

1- 798 ؛ 805 ؛ 801



2- 608 ، 612 ، 601 ، 621



بسم الله الرحمن الرحيم

المادة / رياضيات

الصف / الثاني الابتدائي

الموضوع / الأنماط العددية

التاريخ /

الاسم /

الحصة /

أكتشف النمط ثم أكتب الأعداد المفقودة :

500 ، 510 ، ، 530 ،

تم تحميل هذا الملف من

النمط هو : موقع المناهج البحرينية

alManahj.com/bh

760 ، ، 780 ، 790 ، 800

النمط هو :

بسم الله الرحمن الرحيم

المادة / رياضيات

الصف / الثاني الابتدائي

الموضوع / المجسمات

التاريخ /

الاسم /

الحصة /

🧠 — اكتب اسم المجسم ثم حوِّط الشيء الذي له الشكل نفسه .

1-

تم تحميل هذا الملف من
موقع المناهج البحرينية



2-



.....



بسم الله الرحمن الرحيم

المادة / رياضيات

الصف / الثاني الابتدائي

الموضوع / الأوجه والأحرف والرؤوس

التاريخ /

الاسم /

الحصة /

أحوط الأشياء التي تتفق مع الوصف :

6 أوجه 12 حرفا 8 رؤوس



0 أوجه 0 حرفا 0 رؤوس



بسم الله الرحمن الرحيم

المادة / رياضيات

الصف / الثاني الابتدائي

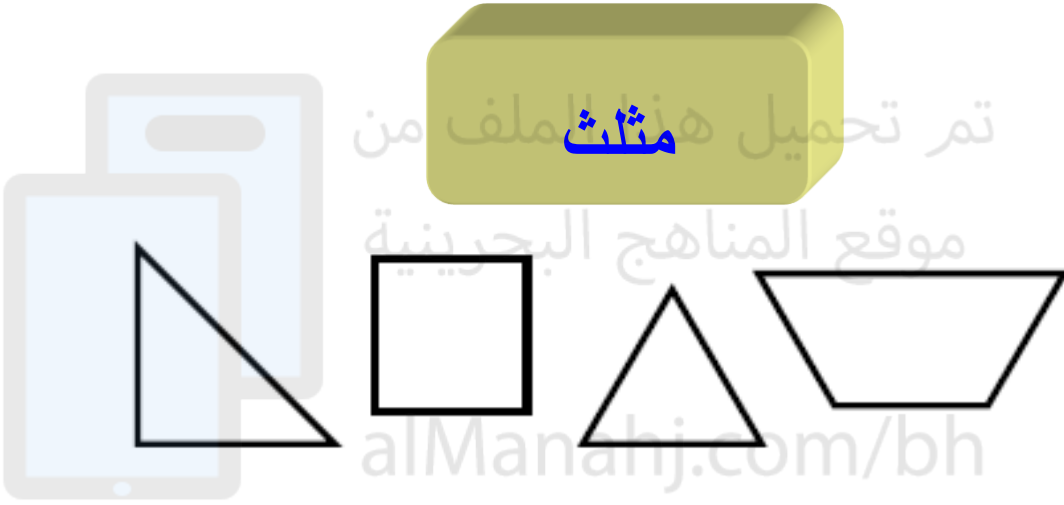
الموضوع / الأشكال المستوية

التاريخ /

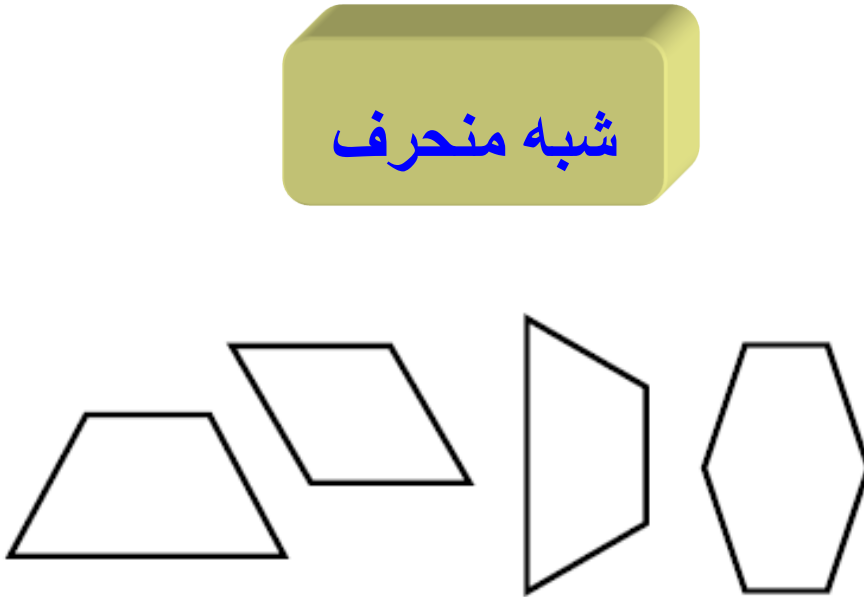
الاسم /

أحيط الأشكال التي لها الاسم نفسه :

-1



-2



بسم الله الرحمن الرحيم

المادة / رياضيات

الصف / الثاني الابتدائي

الموضوع / الأشكال المستوية ، الأضلاع والرؤوس

التاريخ /

الاسم /

الحصة /

أحيط الأشكال التي تتفق مع الوصف :

-1

4 أضلاع و 4 رؤوس




تم تحميل هذا الملف من موقع المناهج البحرينية

alMarjahj.com



-2

3 أضلاع و 3 رؤوس



بسم الله الرحمن الرحيم

المادة / رياضيات

الصف / الثاني الابتدائي

الموضوع / مقارنة الأشكال الهندسية

التاريخ /

الاسم /

الحصة /

أكمل الجملة التالية :



المكعب ومتوازي المستطيلات متشابهان لأن

.....

.....

بسم الله الرحمن الرحيم

المادة / رياضيات

الصف / الثاني الابتدائي

الموضوع / تكوين الأشكال





التاريخ /

الاسم /

الحصة /

استعمل النماذج لتكوين أشكالا جديدة ثم ارسميها

1-

الشَّكْل	أَسْتَغْمِلُ	أَرْسُمُ
		
		

2- انسخ كل شكل مما يأتى على ورقة ثم قص عند الخط المنقط وحوط الأشكال الناتجة .



مستطيل - مربع - مثلث - شبه منحرف

بسم الله الرحمن الرحيم

المادة / رياضيات

الصف / الثاني الابتدائي

الموضوع / الطول والمساحة

التاريخ /

الاسم /

الحصة /

🧠 — ابحث عن الأشياء الموضوحة صورها ثم قيس أطوالها مستعمل وحدة قياس مناسبة .



وحدة القياس :

القياس : تقريبا.



وحدة القياس :

القياس : تقريبا.

بسم الله الرحمن الرحيم

المادة / رياضيات

الصف / الثاني الابتدائي

الموضوع / قياس الأطوال بالسنتيمترات

التاريخ /

الاسم /

الحصة /

🧠 — إبحث عن الأشياء الموجودة صورها ثم قيس أطوالها مستعمل وحدة قياس طولها سنتمتر واحد .

الشيء	وَحْدَةُ الْقِيَاسِ	الْقِيَاسُ
٤ 		سَنْتِمِترَاتٍ تَقْرِيبًا
٥ 		سَنْتِمِترَاتٍ تَقْرِيبًا
٦ 		سَنْتِمِترَاتٍ تَقْرِيبًا
٧ 		سَنْتِمِترَاتٍ تَقْرِيبًا
٨ 		سَنْتِمِترَاتٍ تَقْرِيبًا

بسم الله الرحمن الرحيم

المادة / رياضيات

الصف / الثاني الابتدائي

الموضوع / استعمال مسطرة السنتمترات

التاريخ /

الاسم /

الحصة /

🧠 — إبحث عن الأشياء الموجودة صورها وقدر طول كل منهما ثم أوجد قياسه بالسنتمترات .

الشيء	التقدير	القياس
٤ 	سنتمترًا تقريبًا	سنتمترًا تقريبًا
٥ 	سنتمترًا تقريبًا	سنتمترًا تقريبًا
٦ 	سنتمترًا تقريبًا	سنتمترًا تقريبًا
٧ 	سنتمترًا تقريبًا	سنتمترًا تقريبًا

بسم الله الرحمن الرحيم

المادة / رياضيات

الصف / الثاني الابتدائي

الموضوع / المساحة

التاريخ /

الاسم /

الحصة /

لإيجاد المساحة .



استعمل

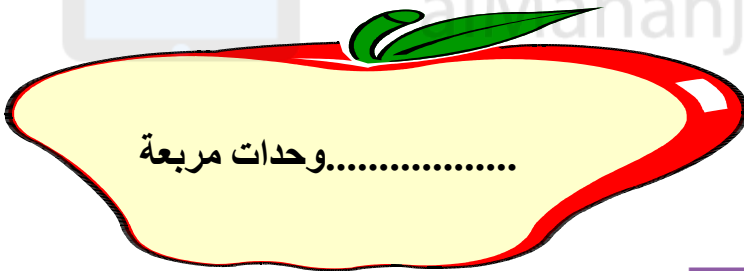
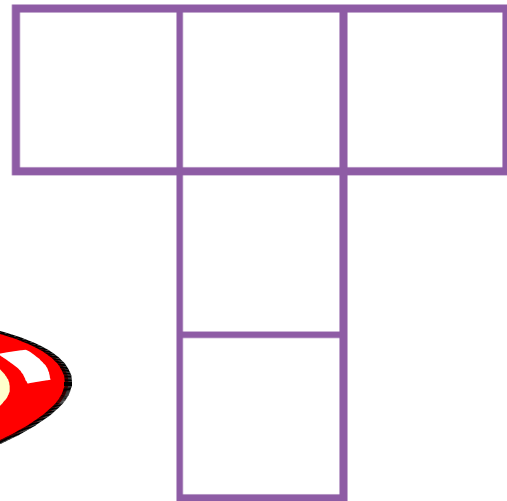
-1




تم تحميل هذا الملف من
موقع المناهج البحرينية

alManahj.com/bh

-2



وحدات مربعة.....



وحدات مربعة.....

بسم الله الرحمن الرحيم

المادة / رياضيات

الصف / الثانى الابتدائى

الموضوع / وحدات السعة غير القياسية

التاريخ /

الاسم /

الحصة /

أحضر الأوعية الموضحة صورها فى الجدول وقيس سعتها مستعمل وحدة القياس المناسبة أو اقترح وحدة خاصة بك.

السعة	وحدة القياس	الوعاء
	وَحْدَتِي الْخَاصَّةُ	٤
	وَحْدَتِي الْخَاصَّةُ	٥
	وَحْدَتِي الْخَاصَّةُ	٦
	وَحْدَتِي الْخَاصَّةُ	٧

بسم الله الرحمن الرحيم

المادة / رياضيات

الصف / الثاني الابتدائي

الموضوع / الملتترات واللتترات

التاريخ /

الاسم /

الحصة /

أحيط الوحدة المناسبة (لتر ، مليلتر) لتقدير السعة .

الْوَعَاءُ	تَقْدِيرُ السَّعَةِ
٥ 	لِتْر مَلِّلْتْر
٦ 	لِتْر مَلِّلْتْر
٧ 	لِتْر مَلِّلْتْر
٨ 	لِتْر مَلِّلْتْر

بسم الله الرحمن الرحيم

المادة / رياضيات

الصف / الثانى الابتدائى

الموضوع / وحدات الوزن غير القياسية

التاريخ /

الاسم /

الحصة /

أحضر الأشياء الموضحة صورها فى الجدول
وقيس وزنها مستعمل وحدة القياس المناسبة او اقترح
وحدة خاصة بك .

الوزن	وحدة القياس	الشئ
	وَحْدَتِي الْخَاصَّةُ	٤
	وَحْدَتِي الْخَاصَّةُ	٥
	وَحْدَتِي الْخَاصَّةُ	٦
	وَحْدَتِي الْخَاصَّةُ	٧

بسم الله الرحمن الرحيم

المادة / رياضيات

الصف / الثانى الابتدائى

الموضوع / الجرام والكيلوجرام

التاريخ /

الاسم /

الحصة /

🧠 — أ حضر الأشياء الموضحة صورها فى الجدول
وأحيط التقدير الأنسب ثم أقيس كتلتها وأحيط القياس
الأقرب :

الشيء	التقدير	القياس
٥ 	٣ جرامات تقريباً ١٥ جراماً تقريباً	٣ جرامات ١٥ جراماً
٦ 	١٠ جرامات تقريباً جرام واحد تقريباً	١٠ جرامات جرام واحد
٧ 	٥ كيلو جرامات تقريباً ١٥ كيلو جراماً تقريباً	٥ كيلو جرامات ١٥ كيلو جراماً
٨ 	٣٠ كيلو جراماً تقريباً ٢ كيلو جرام تقريباً	٣٠ كيلو جراماً ٢ كيلو جرام
٩ 	١٠٠ جرام تقريباً ١٠٠٠ جرام تقريباً	١٠٠ جرام ١٠٠٠ جرام

بسم الله الرحمن الرحيم

المادة / رياضيات




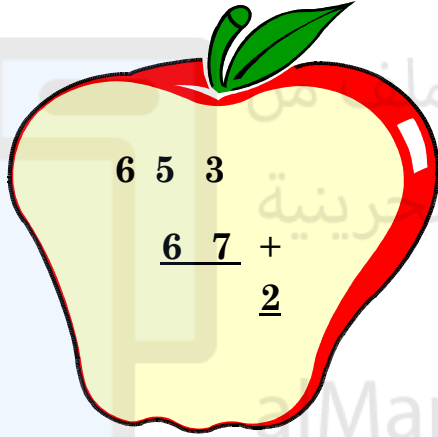
الصف / الثاني الابتدائي

الموضوع / الجمع بإعادة تجميع الآحاد

التاريخ /

الاسم / الحصة /

استعمل النماذج وورقة العمل (7) وأوجدى ناتج الجمع .



بسم الله الرحمن الرحيم

المادة / رياضيات





الصف / الثاني الابتدائي

الموضوع / الجمع بإعادة تجميع العشرات

التاريخ /

الاسم / الحصة /

استعمل النماذج وورقة العمل (7) وأوجد ناتج الجمع .



بسم الله الرحمن الرحيم

المادة / رياضيات

الصف / الثاني الابتدائي

الموضوع / تقدير ناتج الجمع

التاريخ /

الاسم /

الحصة /

🧠 - قدر ناتج الجمع الى أقرب عشرة ثم الى أقرب مئة
ثم أوجد ناتج الجمع المضبوط وأحيط التقدير الأقرب .

السؤال	إلى أقرب عشرة	إلى أقرب مئة	ناتج الجمع المضبوط
$\begin{array}{r} 583 \\ 376 + \\ \hline \end{array}$	$\begin{array}{r} \\ + \\ \hline \end{array}$	$\begin{array}{r} \\ + \\ \hline \end{array}$	$\begin{array}{r} 583 \\ 376 + \\ \hline \end{array}$
$\begin{array}{r} 246 \\ 212 + \\ \hline \end{array}$	$\begin{array}{r} \\ + \\ \hline \end{array}$	$\begin{array}{r} \\ + \\ \hline \end{array}$	$\begin{array}{r} 246 \\ 212 + \\ \hline \end{array}$
$\begin{array}{r} 625 \\ 355 + \\ \hline \end{array}$	$\begin{array}{r} \\ + \\ \hline \end{array}$	$\begin{array}{r} \\ + \\ \hline \end{array}$	$\begin{array}{r} 625 \\ 355 + \\ \hline \end{array}$

بسم الله الرحمن الرحيم

المادة / رياضيات

الصف / الثاني الابتدائي







الموضوع/ طرح المئات

التاريخ/

الاسم /

الحصة/

🧠 - أوجد ناتج الطرح :



بسم الله الرحمن الرحيم

الصف/ الثانى الابتدائي

المادة / رياضيات







الموضوع/ الطرح بإعادة تجميع العشرات

التاريخ/

الاسم/

الحصة/

استعمل النماذج وورقة العمل 7 وأوجد ناتج الطرح :



بسم الله الرحمن الرحيم

الصف/ الثانى الابتدائي

المادة / رياضيات

الموضوع/ الطرح بإعادة تجميع المئات

التاريخ/

الاسم/

الحصة/

استعمل النماذج وورقة العمل 7 وأوجد ناتج الطرح

