

أنشطة تقويمية



تم تحميل هذا الملف من موقع مناهج مملكة البحرين

موقع المناهج ← مناهج مملكة البحرين ← الصف الثاني ← رياضيات ← الفصل الثاني ← ملفات متنوعة ← الملف

تاريخ إضافة الملف على موقع المناهج: 03:45:29 2025-07-28

ملفات اكتب للمعلم اكتب للطالب ا اختبارات الكترونية ا اختبارات ا حلول ا عروض بوربوينت ا أوراق عمل
منهج انجليزي ا ملخصات وتقارير ا مذكرات وبنوك ا الامتحان النهائي للمدرس

المزيد من مادة
رياضيات:

التواصل الاجتماعي بحسب الصف الثاني



صفحة مناهج مملكة
البحرين على
فيسبوك

الرياضيات

اللغة الانجليزية

اللغة العربية

التربية الاسلامية

المواد على تلغرام

المزيد من الملفات بحسب الصف الثاني والمادة رياضيات في الفصل الثاني

مذكرة براعم الرياضيات

1

أوراق عمل رياضيات للفصل الثاني

2

مراجعة درس الزمن

3

كراسة براعم الرياضيات

4

مراجعة تقويم الرياضيات

5



الاسم : _____ الصف : ثاني \ _____ التاريخ : 10 \ 2018

**نشاط تقويمي (1) في مادة الرياضيات للصف الثاني من العام الدراسي
2018 – 2019**

الرقم	الكفايات	رقم السؤال	مستوى الإتقان
1	تقرأ الأعداد ضمن 100 وتكتبها وتقارنها وتقدرها	6\5\4\3\2\1	22
2	تكتشف أنماطا عددية وهندسية وتوسعها	8 \ 7	3
	الدرجة الكلية		25

الملاحظات : _____

ملاحظات ولي الأمر : _____ التوقيع _____

تمنياتنا لכן بالتوفيق والنجاح

إعداد الأستاذة هدى عبدالعزيز
المعلمة الأولى : أ.نعيمة سكيكاوي
مديرة المدرسة : أ.فاطمة الدوسري

3

السؤال الأول : أكتب عدد الآحاد وعدد العشرات :

23 ■ _____ آحاد و _____ عشرات

88 ■ _____ آحاد و _____ عشرات

56 ■ _____ آحاد و _____ عشرات

3

السؤال الثاني : أحوط القيمة المنزلية للرقم الذي تحته خط :

<u>٣١</u> ٣ أو ٣٠	<u>٨٧</u> ٧ أو ٧٠	<u>٤٧</u> ٧ أو ٧٠
<u>٩٤</u> ٩ أو ٩٠	<u>٢٥</u> ٥ أو ٥٠	<u>١٧</u> ١ أو ١٠

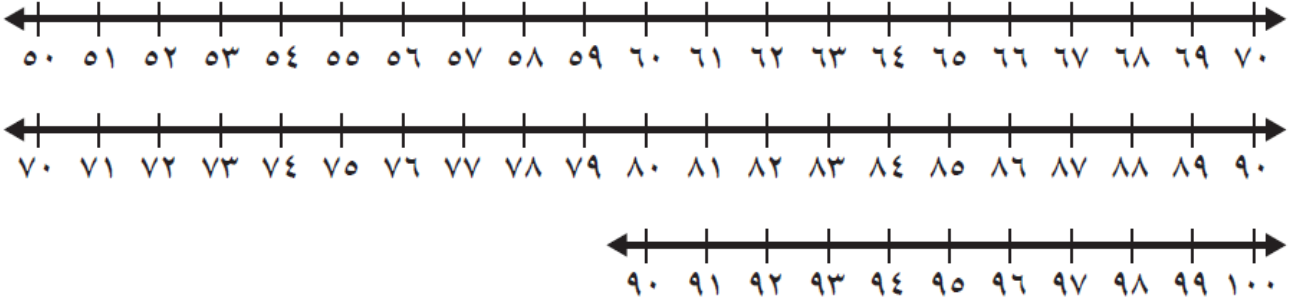
4

السؤال الثالث : أكمل الجدول التالي :

العدد بالأرقام	العدد بالأحرف
	اثنان وعشرون
45	
	ثمانية عشر
10	

4

السؤال الرابع : أستعمل خط الأعداد المناسب لحل كل مسألة مما يأتي :



83 ، _____ ، _____ 80 ■

52 ، 51 ، _____ ■

98 ، 99 ، _____ ■

4

السؤال الخامس : أستعمل لوحة المئة وأعد قفزياً :

١	٢	٣	٤	٥	٦	٧	٨	٩	١٠
١١	١٢	١٣	١٤	١٥	١٦	١٧	١٨	١٩	٢٠
٢١	٢٢	٢٣	٢٤	٢٥	٢٦	٢٧	٢٨	٢٩	٣٠
٣١	٣٢	٣٣	٣٤	٣٥	٣٦	٣٧	٣٨	٣٩	٤٠
٤١	٤٢	٤٣	٤٤	٤٥	٤٦	٤٧	٤٨	٤٩	٥٠
٥١	٥٢	٥٣	٥٤	٥٥	٥٦	٥٧	٥٨	٥٩	٦٠
٦١	٦٢	٦٣	٦٤	٦٥	٦٦	٦٧	٦٨	٦٩	٧٠
٧١	٧٢	٧٣	٧٤	٧٥	٧٦	٧٧	٧٨	٧٩	٨٠
٨١	٨٢	٨٣	٨٤	٨٥	٨٦	٨٧	٨٨	٨٩	٩٠
٩١	٩٢	٩٣	٩٤	٩٥	٩٦	٩٧	٩٨	٩٩	١٠٠

■ خمس قفزات :

_____ ، _____ ، 5





■ ثلاث قفزات :

_____ ، _____ ، 3

(2)


4

السؤال السادس : أقرن بين العددين وأكتب < أو > أو = في  :

78  87	22  66
44  44	5  10


3

السؤال السابع : أكمل النمط التالي برسم الصورة الصحيحة :




2025

السؤال الثامن : أقرر العدد فيما يأتي وأحيط الإجابة :



10 تقريبا أو 20 تقريبا



10 تقريبا أو 20 تقريبا



(3)



انتهت الأسئلة

