

أوراق عمل رياضيات للفصل الثاني



تم تحميل هذا الملف من موقع مناهج مملكة البحرين


موقع المناهج ← مناهج مملكة البحرين ← الصف الثاني ← رياضيات ← الفصل الثاني ← ملفات متنوعة ← الملف

تاريخ إضافة الملف على موقع المناهج: 20:39:12 2025-07-20

ملفات اكتب للمعلم اكتب للطالب | اختبارات الكترونية | اختبارات | حلول | عروض بوربوينت | أوراق عمل
منهج انجليزي | ملخصات وتقارير | مذكرات وبنوك | الامتحان النهائي | للمدرس

المزيد من مادة
رياضيات:

التواصل الاجتماعي بحسب الصف الثاني



صفحة مناهج مملكة
البحرين على
فيسبوك

الرياضيات

اللغة الانجليزية

اللغة العربية

التربية الاسلامية

المواد على تلغرام

المزيد من الملفات بحسب الصف الثاني والمادة رياضيات في الفصل الثاني

مراجعة درس الزمن

1

كراسة براعم الرياضيات

2

مراجعة تقويم الرياضيات

3

مذكرة و حصاد تعليمي الرياضيات

4

كراسة براعم الرياضيات

5

المادة / رياضيات

الصف / الثانى الابتدائى

الموضوع / الوقت بالساعات الكاملة

التاريخ /


الاسم /

الحصة /


مثال : استعمل الصورة وأكتب الوقت الذى تشير اليه الساعة

∴

-1



-2



المادة / رياضيات

الصف / الثاني الابتدائي

الموضوع / الوقت بنصف ساعة


التاريخ /

الاسم /


الحصة /

✎ - اكتب الوقت الذي تشير اليه الساعة :

-1



-2



بسم الله الرحمن الرحيم

المادة / رياضيات

الصف / الثانى الابتدائي

الموضوع / تقدير الزمن

التاريخ /

الاسم /

الحصة /

✿ - قدر الزمن اللازم لكل مما حدث مما يأتى . ثم أحيط إجابتك .

1- تحضير حقيبة المدرسة .



ثَانِيَّةً وَاحِدَةً دَقِيقَةً وَاحِدَةً سَاعَةً وَاحِدَةً

2- اللعب فى الحديقة



ثَانِيَّةً وَاحِدَةً دَقِيقَةً وَاحِدَةً سَاعَةً وَاحِدَةً

المادة / رياضيات

الصف / الثاني الابتدائي

الموضوع / الوقت بالساعات الكاملة ونصف الساعة

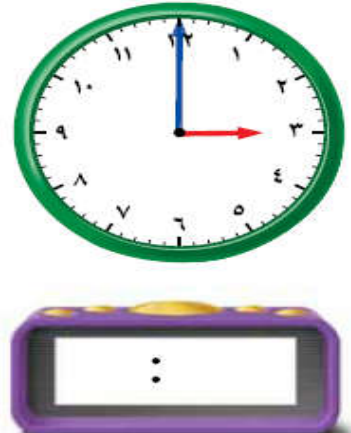
التاريخ /

الاسم /

الحصة /

أقرأ الساعة ثم أكتب الوقت :

1-



2-



المادة / رياضيات

الصف / الثاني الابتدائي

الموضوع / النشاط والزمن

التاريخ /

الاسم /

الحصة /

أحيط النشاط الذي يستغرق زمنا أطول .

-1



إلى



إلى



-2



إلى



إلى



المادة / رياضيات

الصف / الثاني الابتدائي

الموضوع / الوقت بربع ساعة

التاريخ /

الاسم /

الحصة /

🔑 - أقرء الساعة ثم ارسمى عقرب الدقائق على الوقت المعطى .

-1



-2



المادة / رياضيات

الصف / الثاني الابتدائي

الموضوع / الوقت لأقرب 5 دقائق

التاريخ /

الاسم /

الحصة /

🔔 - أقرء الساعة ثم أكتب الوقت الذى تشير اليه ..

-1



-2



بسم الله الرحمن الرحيم

المادة / رياضيات

الصف / الثاني الابتدائي

الموضوع / كسور الوحدة

التاريخ /

الاسم /

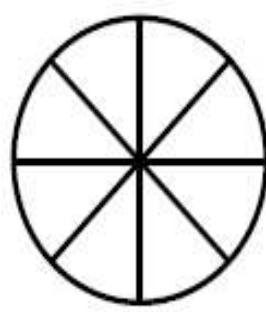
الحصة /

✿ - ألون الجزء الذي َ يمثل الكسر المكتوب:.

-1

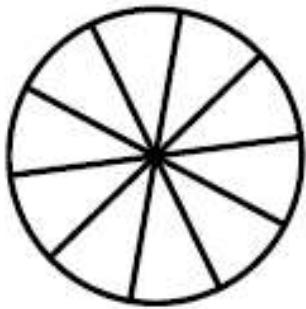


$$\frac{1}{5}$$




$$\frac{1}{8}$$

-2



$$\frac{1}{10}$$



$$\frac{1}{11}$$

بسم الله الرحمن الرحيم

المادة / رياضيات

الصف / الثاني الابتدائي

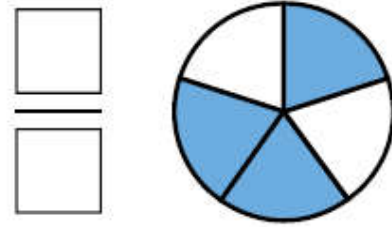
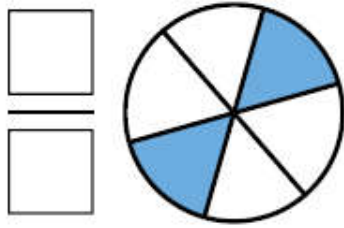
الموضوع / الكسور الدالة على أكثر من جزء

التاريخ /

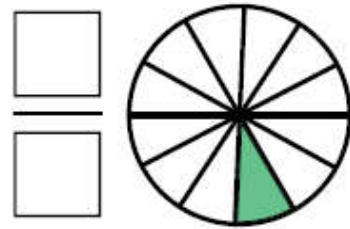
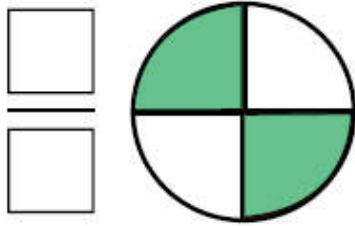
الاسم / الحصة /

✎ - استعمل نماذج الكسور لتمثيل الكسر الدال على الأجزاء الملونة
ثم اكتبه واقرئه .

-1



-2



بسم الله الرحمن الرحيم

المادة / رياضيات

الصف / الثاني الابتدائي

الموضوع / الكسور المساوية للواحد

التاريخ /

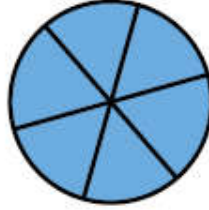
الاسم /

الحصة /

🧠 - عدى الأجزاء الملونة وأكتبى الكسر الدال عليها ثم احيط الكسر الذى يساوى 1 :
-1

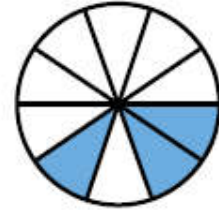


.....




.....

-2



.....



.....

بسم الله الرحمن الرحيم

المادة / رياضيات

الصف / الثاني الابتدائي

الموضوع / مقارنة الكسور


التاريخ /

الاسم /


الحصة /

أحيط الكسر الأكبر :

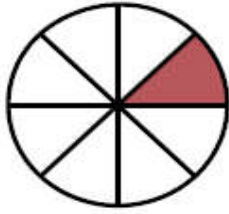
-1



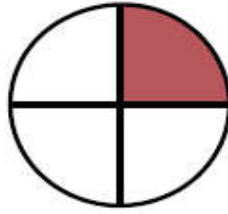
$$\frac{1}{4}$$



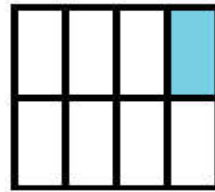
$$\frac{1}{3}$$



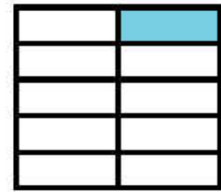
$$\frac{1}{8}$$



$$\frac{1}{4}$$



$$\frac{1}{8}$$



$$\frac{1}{10}$$

بسم الله الرحمن الرحيم

المادة / رياضيات

الصف / الثاني الابتدائي

الموضوع / الكسور كاجزاء من مجموعة

التاريخ /

الاسم /

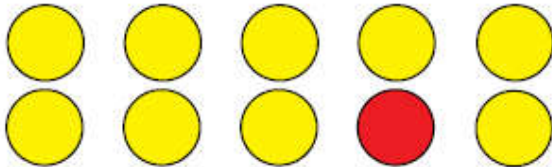
الحصة /

استعمل قطع العد لتمثيل الكسور ثم اقرئ الكسر الدال على الأشياء الملونة بالأصفر :

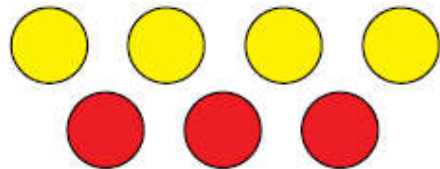
1-



..... المُرَبَّعات



..... الأشكال الدائرية



..... الأشكال الدائرية

بسم الله الرحمن الرحيم

المادة / رياضيات

الصف / الثانى الابتدائى

الموضوع / المئات


التاريخ /

الاسم /

الحصة /


استعمل النماذج لتمثيل المئات ثم اكتب العدد فى صورة مئات وعشرات وآحاد .

-1-



.....آحادعشراتمئات
-----------	------------	-----------

-2-



.....آحادعشراتمئات
-----------	------------	-----------

بسم الله الرحمن الرحيم

المادة / رياضيات

الصف / الثاني الابتدائي

الموضوع / المئات والعشرات والآحاد

التاريخ /

الاسم /

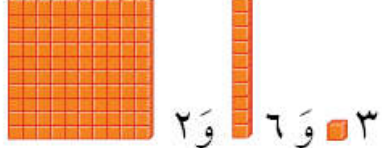
الحصة /

🔑 - استعمل النماذج لتمثيل العدد ثم إملاء لوحة المنازل وأكتب العدد :

-1-

آحَادٌ	عَشَرَاتٌ	مِائَاتٌ

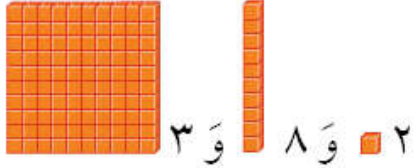
.....



٣ ٠ ٦ ٠ ٢

آحَادٌ	عَشَرَاتٌ	مِائَاتٌ

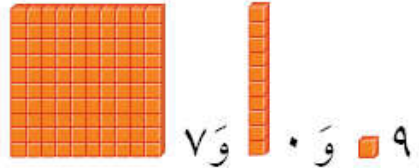
.....



٢ ٠ ٨ ٠ ٣

آحَادٌ	عَشَرَاتٌ	مِائَاتٌ

.....



٩ ٠ ٠ ٧

بسم الله الرحمن الرحيم

المادة / رياضيات

الصف / الثاني الابتدائي

الموضوع / القيمة المنزلية للأعداد حتى 1000

التاريخ /

الحصة /

الاسم /

✎ - أكتب العدد :

$$= 600 + 30 + 8 - 1$$

.....

$$= 900 + 60 + 5 - 2$$

.....

$$= 500 + 20 + 5 - 3$$

.....

بسم الله الرحمن الرحيم

المادة / رياضيات

الصف / الثاني الابتدائي

الموضوع / قراءة الأعداد حتى 1000 وكتابتها

التاريخ /

الاسم /

الحصة /

✎ - أكتب الأعداد بالكلمات .

710 -1

.....

900 -2

.....

226 -3

.....

بسم الله الرحمن الرحيم

المادة / رياضيات

الصف / الثاني الابتدائي

الموضوع / مقارنة الأعداد

التاريخ /

الاسم /

الحصة /

🔑 - قارن بين العددين ثم اكتب الإشارة المناسبة (< أو > أو =)

$$١٥٠ \bigcirc ١٥٠$$

$$٢١٣ \bigcirc ١٣٢$$

$$٦٢٧ \bigcirc ٦٨٩$$

$$٤٢٥ \bigcirc ٤٢٥$$

$$٨٩٩ \bigcirc ٩٠٧$$

$$٥٣٣ \bigcirc ٥٣٣$$

$$٢١٠ \bigcirc ٢٠٧$$

$$٦٦٧ \bigcirc ٦٩٧$$

$$٤٢١ \bigcirc ٤١١$$

$$٦٢١ \bigcirc ٦١٩$$

$$٧٢٩ \bigcirc ٧٢٩$$

$$٣٠٠ \bigcirc ٣٢٥$$

$$٣٣٥ \bigcirc ٣٣٢$$

$$٨٩٤ \bigcirc ٩٨٤$$

بسم الله الرحمن الرحيم

المادة / رياضيات

الصف / الثاني الابتدائي

الموضوع / ترتيب الأعداد

التاريخ /

الاسم /

الحصة /

✎ - رتب الأعداد التالية من الأصغر الى الأكبر :

1- 798 ؛ 805 ؛ 801

.....

2- 608 ، 612 ، 601 ، 621

.....

بسم الله الرحمن الرحيم

المادة / رياضيات

الصف / الثاني الابتدائي

الموضوع / الأنماط العددية

التاريخ /

الاسم /

الحصة /

🧠 - أكتشف النمط ثم أكتب الأعداد المفقودة :

500 ، 510 ، ، 530 ،

النمط هو :

760 ، ، 780 ، 790 ، 800

النمط هو :

بسم الله الرحمن الرحيم

المادة / رياضيات

الصف / الثاني الابتدائي

الموضوع / المجسمات

التاريخ /

الاسم /

الحصة /

✎ - اكتب اسم المجسم ثم حوِّط الشيء الذي له الشكل نفسه .

-1



.....



-2



.....



بسم الله الرحمن الرحيم

المادة / رياضيات

الصف / الثاني الابتدائي

الموضوع / الأوجه والأحرف والرؤوس

التاريخ /

الاسم /

الحصة /

أحوظ الأشياء التي تتفق مع الوصف :

6 أوجه 12 حرفا 8 رؤوس



0 أوجه 0 حرفا 0 رؤوس



بسم الله الرحمن الرحيم

المادة / رياضيات

الصف / الثاني الابتدائي

الموضوع / الأشكال المستوية

التاريخ /



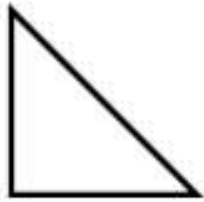
الاسم /

الحصة /

أحيط الأشكال التي لها الاسم نفسه :

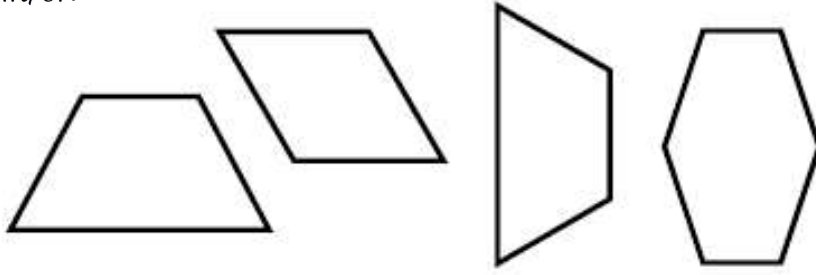
-1

مثلث



-2

شبه منحرف



بسم الله الرحمن الرحيم

المادة / رياضيات

الصف / الثاني الابتدائي

الموضوع / الأشكال المستوية ، الأضلاع والرؤوس

التاريخ /

الاسم /

الحصة /

أحوظ الأشكال التي تتفق مع الوصف :


-1

4 أضلاع و 4 رؤوس



-2

3 أضلاع و 3 رؤوس



بسم الله الرحمن الرحيم

المادة / رياضيات

الصف / الثاني الابتدائي

الموضوع / مقارنة الأشكال الهندسية

التاريخ /

الاسم /

الحصة /

أكمل الجملة التالية :



المكعب ومتوازي المستطيلات متشابهان لأن

.....

.....

بسم الله الرحمن الرحيم

المادة / رياضيات

الصف / الثاني الابتدائي

الموضوع / تكوين الأشكال



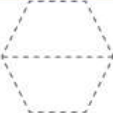


التاريخ /

الاسم /

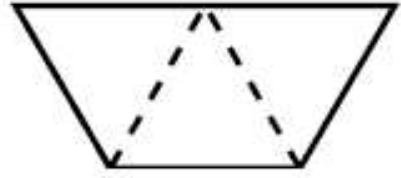
الحصة /

استعمل النماذج لتكوين أشكالا جديدة ثم ارسمها

1-

الشكل	أَسْتَعْمِلُ	أَرْسُمُ
		
		

2- انسخ كل شكل مما ياتي على ورقة ثم قص عند الخط المنقط وحوط الأشكال الناتجة .



مستطيل - مربع - مثلث - شبه منحرف

بسم الله الرحمن الرحيم

المادة / رياضيات

الصف / الثاني الابتدائي

الموضوع / الطول والمساحة

التاريخ /

الاسم /

الحصة /

أطوالها مستعمل وحدة قياس مناسبة .
ابحث عن الأشياء الموضوحة صورها ثم قيس



وحدة القياس :

القياس :تقريبا.



بسم الله الرحمن الرحيم

المادة / رياضيات

الصف / الثاني الابتدائي

الموضوع / قياس الأطوال بالسنتيمترات

التاريخ /

الاسم /

الحصة /

🧠 - إبحث عن الأشياء الموجودة صورها ثم قيس أطوالها مستعمل وحدة قياس طولها سنتمتر واحد .

الشيء	وَحْدَةُ الْقِيَاسِ	الْقِيَاسُ
٤ 		سَنَمَتْرَاتٍ تَقْرِيبًا
٥ 		سَنَمَتْرَاتٍ تَقْرِيبًا
٦ 		سَنَمَتْرَاتٍ تَقْرِيبًا
٧ 		سَنَمَتْرَاتٍ تَقْرِيبًا
٨ 		سَنَمَتْرَاتٍ تَقْرِيبًا

بِسْمِ اللَّهِ الرَّحْمَنِ الرَّحِيمِ

المادة / رياضيات

الصف / الثاني الابتدائي

الموضوع / استعمال مسطرة السنتمترات

التاريخ /

الاسم /

الحصة /

🧠 - إبحث عن الأشياء الموجودة صورها وقدر طول كل منهما ثم أوجد قياسه بالسنتمترات .

الشيء	التقدير	القياس
٤ 	سَتَمْتَرًا تَقْرِبًا	سَتَمْتَرًا تَقْرِبًا
٥ 	سَتَمْتَرًا تَقْرِبًا	سَتَمْتَرًا تَقْرِبًا
٦ 	سَتَمْتَرًا تَقْرِبًا	سَتَمْتَرًا تَقْرِبًا
٧ 	سَتَمْتَرًا تَقْرِبًا	سَتَمْتَرًا تَقْرِبًا

بسم الله الرحمن الرحيم

المادة / رياضيات

الصف / الثاني الابتدائي

الموضوع / المساحة

التاريخ /



الاسم /

الحصة /


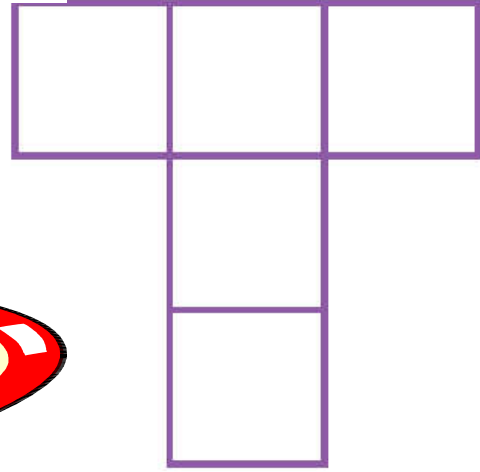
لإيجاد المساحة .



استعمل



-2



بسم الله الرحمن الرحيم

المادة / رياضيات

الصف / الثاني الابتدائي

الموضوع / وحدات السعة غير القياسية

الاسم /

التاريخ /

الحصة /

.....

🧠 - أحضر الأوعية الموضحة صورها في الجدول
وقيس سعتها مستعمل وحدة القياس المناسبة أو اقترح
وحدة خاصة بك.

السَّعة	وَحْدَةُ الْقِيَاسِ	الْوَعَاءُ
 وَحْدَتِي الْخَاصَّةُ	 ٤
 وَحْدَتِي الْخَاصَّةُ	 ٥
 وَحْدَتِي الْخَاصَّةُ	 ٦
 وَحْدَتِي الْخَاصَّةُ	 ٧

بسم الله الرحمن الرحيم

المادة / رياضيات

الصف / الثاني الابتدائي

الموضوع / الملئترات والملئترات

التاريخ /

الاسم /

الحصة /

.....

أحيط الوحدة المناسبة (لتر ، مليلتر) لتقدير السعة .

تَقْدِيرُ السَّعَةِ	الْوَعَاءُ
لتر مللتر	٥ 
لتر مللتر	٦ 
لتر مللتر	٧ 
لتر مللتر	٨ 

بسم الله الرحمن الرحيم

المادة / رياضيات

الصف / الثاني الابتدائي

الموضوع / وحدات الوزن غير القياسية

التاريخ /

🧠 - أحضر الأشياء الموضحة صورها في الجدول
وقيس وزنها مستعمل وحدة القياس المناسبة او اقترح
وحدة خاصة بك .

الشيء	وَحْدَةُ الْقِيَاسِ	الوزن
٤ 	  وَحْدَتِي الْخَاصَّةُ	
٥ 	  وَحْدَتِي الْخَاصَّةُ	
٦ 	  وَحْدَتِي الْخَاصَّةُ	
٧ 	  وَحْدَتِي الْخَاصَّةُ	

بسم الله الرحمن الرحيم

المادة / رياضيات

الصف / الثاني الابتدائي

الموضوع / الجرام والكيلوجرام

التاريخ /

🧠 - أحضر الأشياء الموضحة صورها في الجدول
وأحيط التقدير الأنسب ثم أقيس كتلتها وأحيط القياس
الأقرب :

القياس	التقدير	الشئ	
٣ جرامات ١٥ جراماً	٣ جرامات تقريباً ١٥ جراماً تقريباً		٥
١٠ جرامات جرام واحد	١٠ جرامات تقريباً جرام واحد تقريباً		٦
٥ كيلو جرامات ١٥ كيلو جراماً	٥ كيلو جرامات تقريباً ١٥ كيلو جراماً تقريباً		٧
٣٠ كيلو جراماً ٢ كيلو جرام	٣٠ كيلو جراماً تقريباً ٢ كيلو جرام تقريباً		٨
١٠٠ جرام ١٠٠٠ جرام	١٠٠ جرام تقريباً ١٠٠٠ جرام تقريباً		٩

بسم الله الرحمن الرحيم





المادة / رياضيات

الصف / الثاني الابتدائي

الموضوع / الجمع بإعادة تجميع الآحاد

التاريخ /

استعمل النماذج وورقة العمل (7) وأوجدى ناتج الجمع .



بسم الله الرحمن الرحيم





الصف / الثاني الابتدائي

المادة / رياضيات

التاريخ /

الموضوع / الجمع بإعادة تجميع العشرات

استعمل النماذج وورقة العمل (7) وأوجد ناتج الجمع .



بسم الله الرحمن الرحيم

الصف / الثاني الابتدائي

التاريخ /

المادة / رياضيات

الموضوع / تقدير ناتج الجمع

🧠 - قدر ناتج الجمع الى أقرب عشرة ثم الى أقرب مئة ثم أوجد ناتج الجمع المضبوط وأحيط التقدير الأقرب .

السؤال	إلى أقرب عشرة	إلى أقرب مئة	ناتج الجمع المضبوط
$\begin{array}{r} 583 \\ + 376 \\ \hline \end{array}$	$\begin{array}{r} \\ + \\ \hline \end{array}$	$\begin{array}{r} \\ + \\ \hline \end{array}$	$\begin{array}{r} 583 \\ + 376 \\ \hline \end{array}$
$\begin{array}{r} 246 \\ + 212 \\ \hline \end{array}$	$\begin{array}{r} \\ + \\ \hline \end{array}$	$\begin{array}{r} \\ + \\ \hline \end{array}$	$\begin{array}{r} 246 \\ + 212 \\ \hline \end{array}$
$\begin{array}{r} 625 \\ + 355 \\ \hline \end{array}$	$\begin{array}{r} \\ + \\ \hline \end{array}$	$\begin{array}{r} \\ + \\ \hline \end{array}$	$\begin{array}{r} 625 \\ + 355 \\ \hline \end{array}$

بسم الله الرحمن الرحيم







المادة / رياضيات

الصف / الثاني الابتدائي

الموضوع / طرح المئات

التاريخ /

أوجد ناتج الطرح :



بسم الله الرحمن الرحيم







المادة / رياضيات

الصف / الثاني الابتدائي

الموضوع / الطرح بإعادة تجميع العشرات

التاريخ /

استعمل النماذج وورقة العمل 7 وأوجد ناتج الطرح :



بسم الله الرحمن الرحيم

المادة / رياضيات

الصف / الثاني الابتدائي

الموضوع / الطرح بإعادة تجميع المئات

التاريخ /

استعمل النماذج وورقة العمل 7 وأوجد ناتج الطرح

