

## ملخص الدرس العاشر (الماء على الأرض)



### تم تحميل هذا الملف من موقع مناهج مملكة البحرين

موقع المناهج ← مناهج مملكة البحرين ← الصف الثاني ← علوم ← الفصل الثاني ← ملفات متنوعة ← الملف

تاريخ إضافة الملف على موقع المناهج: 2025-07-20 18:54:32

ملفات اكتب للمعلم اكتب للطالب ا اختبارات الكترونية ا اختبارات ا حلول ا عروض بوربوينت ا أوراق عمل  
منهج انجليزي ا ملخصات وتقارير ا مذكرات وبنوك ا الامتحان النهائي ا للمدرس

المزيد من مادة  
علوم:

### التواصل الاجتماعي بحسب الصف الثاني



صفحة مناهج مملكة  
البحرين على  
فيسبوك

الرياضيات

اللغة الانجليزية

اللغة العربية

التربية الاسلامية

المواد على تلغرام

### المزيد من الملفات بحسب الصف الثاني والمادة علوم في الفصل الثاني

ملخص درس الصخور و المعادن

1

ملخص درس التربة

2

كراسة عالم العلوم

3

ملخص وشرح درس المغناطيس

4

ملخص وشرح درس المواد الصلبة

5

ملخص و أنشطة مادة العلوم – الصف الثاني الابتدائي \ الفصل الدراسي الأول



الدرس العاشر:

# الماء على الأرض

اسمي:	.....
صفي:	.....

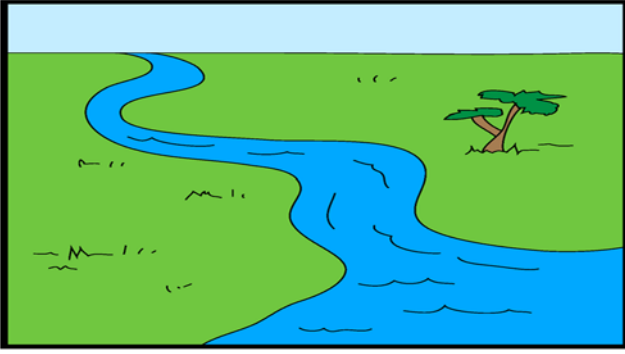


## الماء العذب

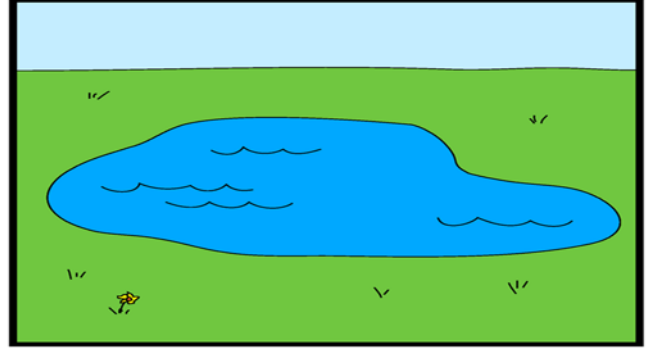


- **الماء العذب:** ماء غير مالح (صالح للشرب)
- لا تستطيع المخلوقات الحية العيش من دون الماء.
- تحتاج النباتات إلى الماء لتصنع غذاءها.
- يحتاج الإنسان والكثير من الحيوانات إلى شرب الماء العذب لكي يبقى حيًا.
- تتكون البحيرات و الوديان من نزول الأمطار أو انصهار الثلوج على الجبال.

### مصادر المياه العذبة



الأنهار




البحيرات



العيون



الجداول




انصهار ثلوج الجبال



الأمطار

## الماء المالح



- **المحيطات:** هو تجمع كبير و عميق من الماء المالح (غير صالح للشرب).
- يعتبر البحر من المياه المالحة.
- لا يشرب الإنسان ماء البحار و المحيطات لأنه مالح.
- يوجد معظم مياه الأرض في المحيطات.
- تغطي المحيطات ثلاثة أرباع الأرض.
- المساحات الزرقاء على الكرة الأرضية تشير إلى المحيطات.



## استخدامات المحيط



نقل البضائع



السفر و التنقل



صيد الأسماك



مكان تعيش فيه الكائنات البحرية





س1: أكمل العبارات الآتية بما يناسبها:

الماء العذب

المحيط

البحيرات


ماء

1. ( ..... ) هو ماء غير مالح.
2. ( ..... ) تجمع كبير و عميق من المياه المالحة.
3. ( ..... ) لا تستطيع المخلوقات الحية العيش من دون.
4. ( ..... ) تتكون من نزول الأمطار او انصهار الثلوج على الجبال.



س2: ألون الإشارة الصحيحة بحسب العبارة:

الإشارة	العبارة
<input checked="" type="checkbox"/> <input type="checkbox"/>	يوجد معظم المياه في المحيطات.
<input checked="" type="checkbox"/> <input type="checkbox"/>	ماء المطر ماء مالح.
<input checked="" type="checkbox"/> <input type="checkbox"/>	تغطي المحيطات ثلاثة أرباع الأرض.
<input checked="" type="checkbox"/> <input type="checkbox"/>	تبحر السفن الكبيرة في الأنهار.
<input checked="" type="checkbox"/> <input type="checkbox"/>	تحتاج النبات إلى الماء لتصنع غذائها.
<input checked="" type="checkbox"/> <input type="checkbox"/>	المساحات الزرقاء على الكرة الأرضية تشير إلى اليابسة.




س3: صل استخدامات المحيطات بالصورة المناسبة لها:

تعيش فيه الكائنات البحرية

للسفر و التنقل

نقل البضائع




س4: أذكر 3 من مصادر المياه العذبة:

.....

.....

.....



س5: أذكر السبب:

.....  
.....

■ لماذا لا يشرب الإنسان من ماء البحر ؟