

## مراجعة درس الزمن



### تم تحميل هذا الملف من موقع مناهج مملكة البحرين

موقع المناهج ← مناهج مملكة البحرين ← الصف الثاني ← رياضيات ← الفصل الثاني ← ملفات متنوعة ← الملف

تاريخ إضافة الملف على موقع المناهج: 19:21:27 2025-07-20

ملفات اكتب للمعلم اكتب للطالب | اختبارات الكترونية | اختبارات | حلول | عروض بوربوينت | أوراق عمل  
منهج انجليزي | ملخصات وتقارير | مذكرات وبنوك | الامتحان النهائي | للمدرس

المزيد من مادة  
رياضيات:

### التواصل الاجتماعي بحسب الصف الثاني



صفحة مناهج مملكة  
البحرين على  
فيسبوك

الرياضيات

اللغة الانجليزية

اللغة العربية

التربية الاسلامية

المواد على تلغرام

### المزيد من الملفات بحسب الصف الثاني والمادة رياضيات في الفصل الثاني

كراسة براعم الرياضيات

1

مراجعة تقويم الرياضيات

2

مذكرة و حصاد تعليمي الرياضيات

3

كراسة براعم الرياضيات


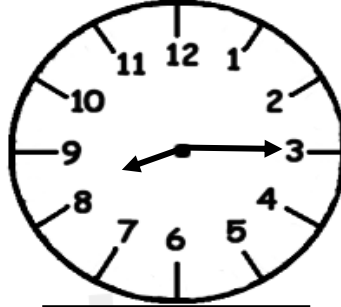
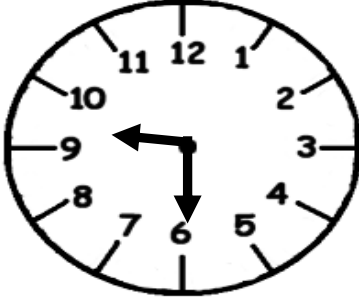
4

أنشطة الرياضيات للصف الثاني

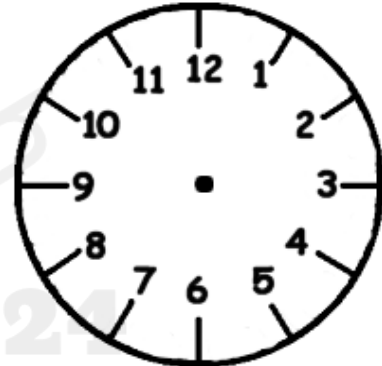
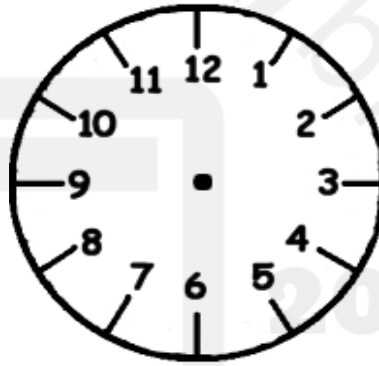
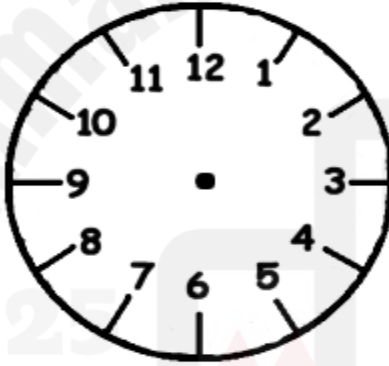
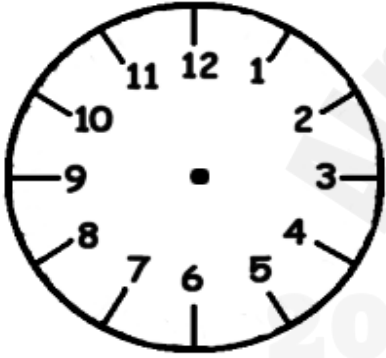
5

الكفاية : يتعامل مع وحدات القياس الأساسية .

## ١. اكتب الوقت الذي تشير إليه الساعات التالية :



## ٢. أرسم عقارب الساعة الذي يدل على الوقت المعطى :



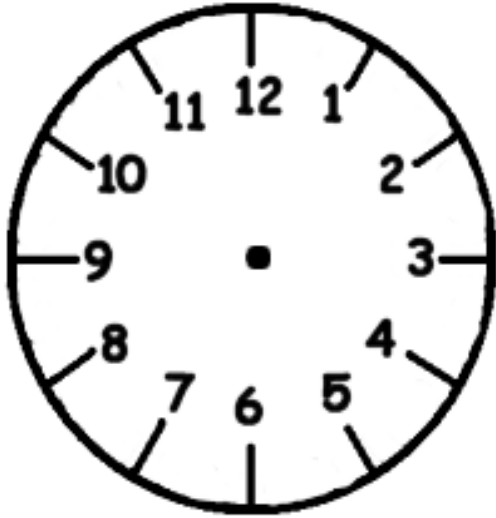
## ٣. أقدّر الزمن اللازم لكل حدث ، ثم أكتب ( ثانية – دقيقة – ساعة ) :



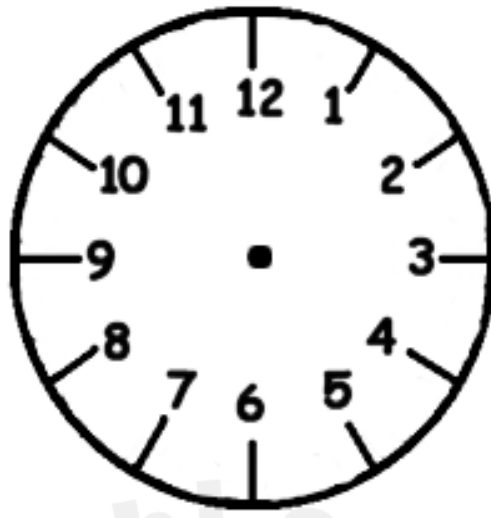
طرفه عين



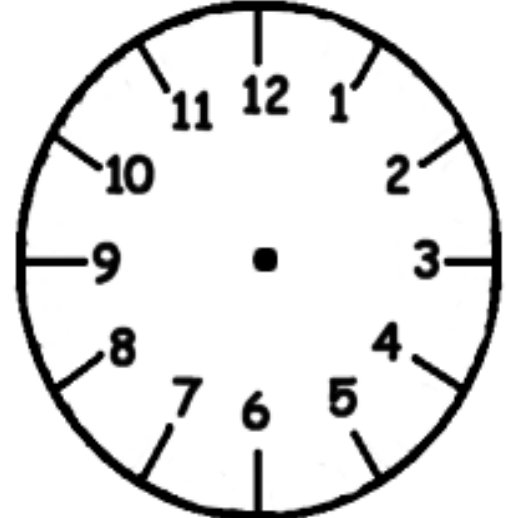
٤. أرسم عقارب الساعة للوقت المشار إليه أسفل الساعة ، وأكتب الوقت بالكلمات :



٤ : ٤٥



٢ : ١٠



١١ : ١٥

٥. أبحث عن نمط ، لأحلّ المسألة ( أرسم جدولاً ) :

أ. تقلع الطائرات بمعدل طائرة كلّ ساعتين ، فإذا أقلعت الطائرة الأولى الساعة .. : ٩ ، فمتى تقلع الطائرة الثالثة ؟

ب. يرسم حسن لوحة كلّ نصف ساعة ، فإذا رسم اللوحة الأولى الساعة .. : ٦ والثانية ٦ : ٣ والثالثة .. : ٧ ، فمتى يرسم اللوحة الخامسة ؟