

## نماذج أسئلة امتحان مقرر أجا 221 ثالث ثانوي



### تم تحميل هذا الملف من موقع مناهج مملكة البحرين

موقع المناهج ← مناهج مملكة البحرين ← الصف الثالث الثانوي ← جغرافيا ← الفصل الأول ← ملفات متنوعة ← الملف

تاريخ إضافة الملف على موقع المناهج: 2025-12-29 15:28:54

ملفات اكتب للمعلم اكتب للطالب | اختبارات الكترونية | اختبارات | حلول | عروض بوربوينت | أوراق عمل  
منهج انجليزي | ملخصات وتقارير | مذكرات وبنوك | الامتحان النهائي | للمدرس

المزيد من مادة  
جغرافيا:

### التواصل الاجتماعي بحسب الصف الثالث الثانوي



صفحة مناهج مملكة  
البحرين على  
فيسبوك

الرياضيات

اللغة الانجليزية

اللغة العربية

التربية الاسلامية

المواد على تلغرام

### المزيد من الملفات بحسب الصف الثالث الثانوي والمادة جغرافيا في الفصل الأول

ملخص مقرر الجغرافيا أجا 221

1

نماذج إجابة امتحان نهاية الفصل الأول مقرر أجا 221

2

ملخص مقرر جغرافيا الخليج العربي

3

ملخص أجا 312 الشامل

4

شرح درس النمو الطبيعي للسكان

5

مملكة البحرين

وزارة التربية والتعليم

قسم الامتحانات الداخلية

امتحان نهاية الفصل الدراسي الأول للتعليم الثانوي للعام الدراسي 2025/2024م

المسار: توحيد المسارات

الزمن: ساعة ونصف

اسم المقرر: جغرافية دول الخليج العربية

رمز المقرر: أجا 221

## السؤال الأول:

أولاً: ضع دائرة حول رمز الإجابة الصحيحة من بين البدائل التالية:

1. مضيق يمثل منطقة استراتيجية مهمة لكونه ممراً بحرياً لجميع دول الخليج العربية هو:

أ. مضيق باب المندب

ب. مضيق جبل طارق

ج. مضيق هرمز

د. قناة السويس

2. صحراء تقع في المملكة العربية السعودية وتعتبر أكبر المسطحات الرملية في العالم هي:

أ. النفوذ

ب. الحسمة

ج. نجد

د. الربع الخالي

3. المرحلة التي بدأت بسيطرة دول الخليج العربية على مواردها النفطية وعائداتها المالية هي:

أ. ما قبل النفط

ب. اكتشاف النفط

ج. ما قبل الوفرة النفطية

د. الوفرة النفطية

4. جميعها من خصائص مناخات دول الخليج العربية ما عدا:

أ. ارتفاع الحرارة

ب. قلة التبخر

ج. قوة الإشعاس

د. الجفاف

5. تتميز دول الخليج العربية بمعدل خصوبة:

أ. متدني جداً

ب. منخفض

ج. متوسط

د. مرتفع

6. مصارف مهمتها إصدار العملة الوطنية ومراقبة تداولها هي:

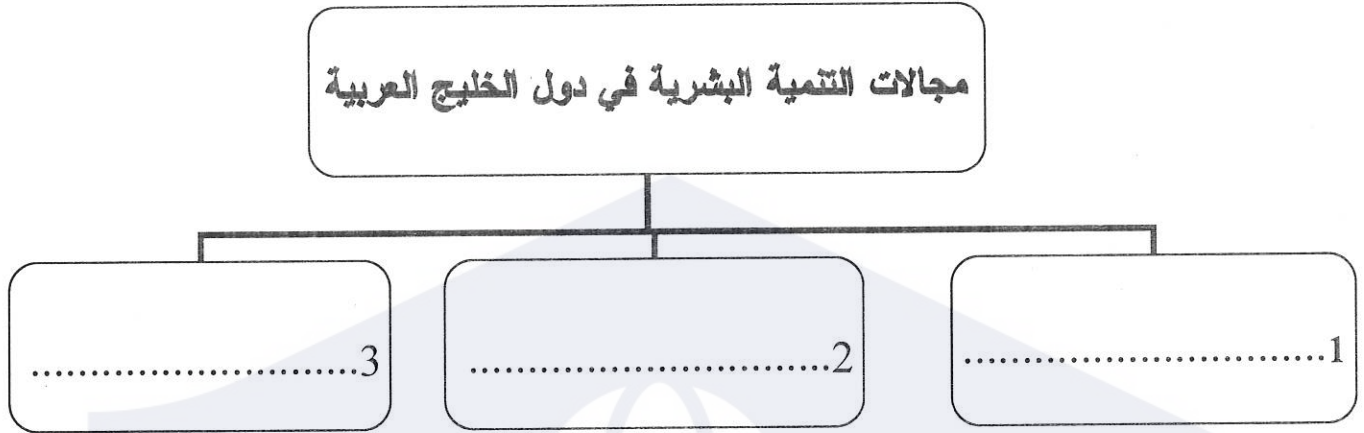
أ. المصارف المتخصصة

ب. المصارف التجارية

ج. المصارف المركزية

د. المصارف الاجتماعية

ثانياً: أكمل المخطط التالي الذي يبين مجالات التنمية البشرية في دول الخليج العربية:



السؤال الثاني:

وضح ما يأتي:

1. أهداف المبادرة الوطنية التي أطلقتها مملكة البحرين لتحقيق الاكتفاء الذاتي.

- .....
- .....
- .....

2. مقومات الصناعة في دول الخليج العربية.

- .....
- .....

3. مميزات المرحلة الثالثة (1973-1980م) لتطورات السوق النفطية العالمية.

- .....
- .....

4. مظاهر تطور القطاع السياحي في دول الخليج العربية.

- .....
- .....

### السؤال الثالث:

أولاً: علل ما يأتي:

1. اكتسبت دول الخليج العربية ثقلاً جيوسياسياً مهماً في الوطن العربي والعالم الإسلامي.

- .....
- .....


2. ارتفاع كلفة الإنتاج الزراعي في دول الخليج العربية.

- .....

3. تتميز دول الخليج العربية بانخفاض تكاليف تسويق النفط.

- .....

ثانياً: أقرأ المستند الذي يمثل معدل النمو السكاني في دول الخليج العربية، ثم أجب عن الأسئلة التي تليه:



1. أذكر الدول التي يترفع فيها معدل النمو السكاني عن المعدل العام لدول الخليج العربية.

- .....
- .....

2. ما هي الدولة التي سجلت أقل معدل نمو سكاني؟

- .....

3. برأيك، لماذا ترتفع معدلات النمو السكاني في دول الخليج العربية؟

- .....

## السؤال الرابع:

أولاً: صنف المعطيات (العبارات) الآتية حسب الجدول أدناه:

1. التأثيرات القارية / تأثير التضاريس على مناخ دول الخليج العربية:

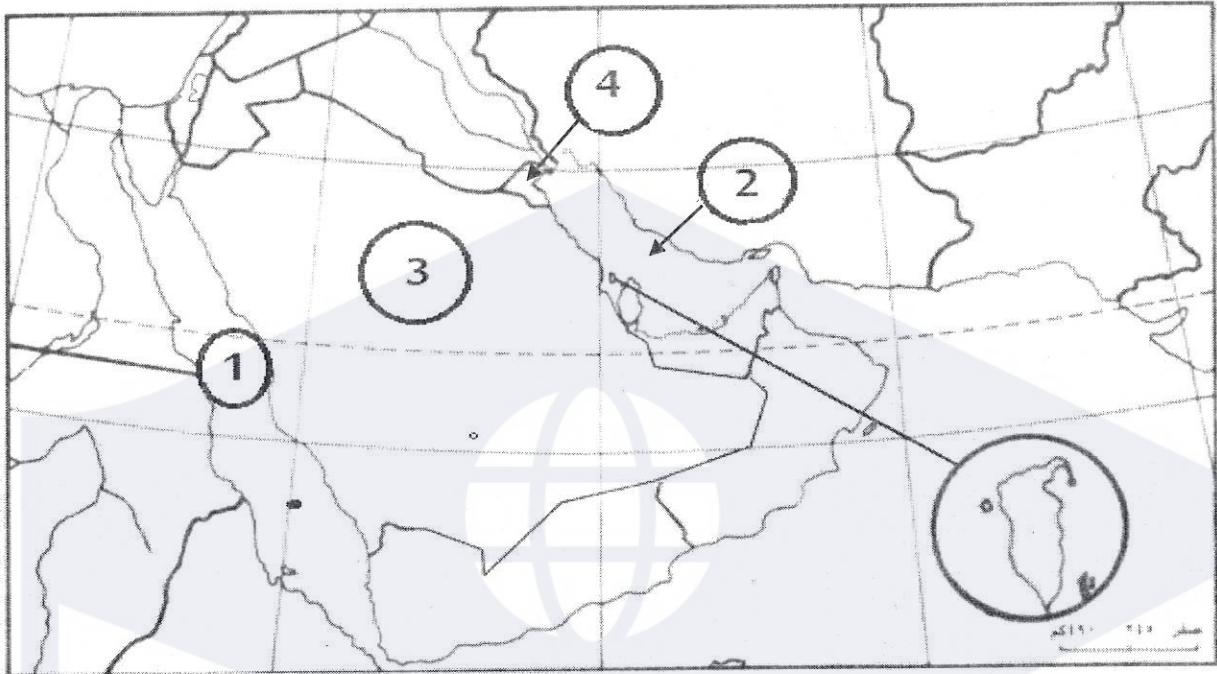
تتسبب بانخفاض حرارة الأجواء بمعدل 6 درجات مئوية مع كل علو يبلغ 1000 متر / يصل تأثيرها إلى دول الخليج العربية في الشتاء على شكل رياح باردة وجافة / تتمثل في ارتفاع الفروقات الحرارية اليومية والفصلية / تسبب بتساقط كميات أوفر من الأمطار فوق السفوح المواجهة للرياح الرطبة.

2. جبال ظفار في سلطنة عُمان / الجبال الشمالية -الشرقية في العراق:

تعادل مساحتها 5% من مساحة الدولة / تتكون من طبقات من الصخور الكلسية / تشرف على ساحل ضيق تكثر فيه السبخات والمستنقعات / هي جزء من جبال زاغروس الالتوائية.

التأثيرات القارية	تأثيرات التضاريس
.....	.....
.....	.....
جبال ظفار	الجبال الشمالية - الشرقية
.....	.....
.....	.....

ثانياً: ضع في الجدول التالي مدلولات الأرقام المثبتة على خريطة العالم الصماء:



العبارة	الرقم	مدلول الرقم على الخريطة
مسطحات مائية	1	.....
	2	.....
دول خليجية	3	.....
	4	.....

انتهت الأسئلة

مملكة البحرين

وزارة التربية والتعليم

قسم الامتحانات الداخلية

امتحان نهاية الفصل الدراسي الأول للتعليم الثانوي للعام الدراسي 2025/2024م

المسار: مكفوفين

الزمن: ساعة ونصف

اسم المقرر: جغرافية دول الخليج العربية

رمز المقرر: أجا 221

### السؤال الأول:

أولاً: ضع دائرة حول رمز الإجابة الصحيحة من بين البدائل التالية:

1. مضيق يمثل منطقة استراتيجية مهمة لكونه ممراً بحرياً لجميع دول الخليج العربية هو:

أ. مضيق باب المندب

ب. مضيق جبل طارق

ج. مضيق هرمز

د. قناة السويس

2. صحراء تقع في المملكة العربية السعودية تعتبر أكبر المسطحات الرملية في العالم هي:

أ. الربع الخالي

ب. الحسمة

ج. نجد

د. النفوذ

3. المرحلة التي بدأت بسيطرة دول الخليج العربية على مواردها النفطية وعائداتها المالية هي:

أ. ما قبل النفط

ب. اكتشاف النفط

ج. ما قبل الوفرة النفطية

د. الوفرة النفطية

4. جميعها من خصائص مناخات دول الخليج العربية ما عدا:

أ. ارتفاع الحرارة

ب. قلة التبخر

ج. قوة الإشعاس

د. الجفاف

5. تتميز دول الخليج العربية بمعدل خصوبة:

أ. متدني جداً

ب. منخفض

ج. متوسط

د. مرتفع

6. مصارف مهمتها إصدار العملة الوطنية ومراقبة تداولها هي:

أ. المصارف المتخصصة

ب. المصارف التجارية

ج. المصارف المركزية

د. المصارف الاجتماعية

7. سيطرت على السوق النفطية العالمية حتى عام 1973م سبع شركات كبرى تسمى:

أ. الكارتل الدولي

ب. منظمة الأوبك

ج. منظمة الأوبك

د. منظمة إيكو

ثانياً: ضع علامة ( ✓ ) أمام الإجابة الصحيحة وعلامة ( X ) أمام الإجابة الخاطئة فيما يأتي:

1. جزر الخليج العربي كثيرة وصغيرة وتتميز بعمق شواطئها نسبياً. ( )
2. يتألف سطح البحرين من خمسة وحدات طبيعية بوضاوية الشكل. ( )
3. تتميز دول الخليج العربية بمستوى تحضر منخفض. ( )
4. يعتبر إسهام القطاع الخاص في التنمية الاقتصادية ضئيلاً في دول الخليج العربية. ( )
5. يحتل إنتاج الحبوب المرتبة الأولى بالنسبة إلى الإنتاج الزراعي بدول الخليج العربية. ( )
6. تحتل دول الخليج العربية المرتبة العشرين في إجمالي التبادل التجاري العالمي سنة 2014م ( )
7. يمر مدار السرطان في القسم الجنوبي لدول الخليج العربية. ( )

السؤال الثاني:

علل ما يأتي:

1. اكتسبت دول الخليج العربية ثقلاً جيوسياسياً مهماً في الوطن العربي والعالم الإسلامي.

.....

.....

2. تتلقى المرأة في دول الخليج العربية اهتماماً ملحوظاً من قبل الحكومة والمجتمع على حد سواء.

.....

.....

3. ارتفاع كلفة الإنتاج الزراعي في دول الخليج العربية.

.....

4. تتميز دول الخليج العربية بانخفاض تكاليف تسويق النفط.

.....

**السؤال الثالث:****وضح ما يأتي:**

1. أهداف المبادرة الوطنية التي أطلقتها مملكة البحرين لتنمية القطاع الزراعي.

- .....
- .....
- .....

2. مقومات الصناعة في دول الخليج العربية.

- .....
- .....

3. مميزات المرحلة الثالثة (1973-1980م) من مراحل السوق النفطية العالمية.

- .....
- .....

4. مظاهر تطور القطاع السياحي في دول الخليج العربية.

- .....
- .....

## السؤال الرابع:

أولاً: صنف المعطيات الآتية الجدول أدناه:

1. التأثيرات القارية / تأثير التضاريس على مناخ دول الخليج العربية:

(تتسبب بانخفاض حرارة الأجواء بمعدل 6 درجات مئوية مع كل علو يبلغ 1000 متر / يصل تأثيرها إلى دول الخليج العربية في الشتاء على شكل رياح باردة وجافة / تتمثل في ارتفاع الفروقات الحرارية اليومية والفصلية / تسبب تساقط كميات أوفر من الأمطار فوق السفوح المواجهة للرياح الرطبة)

2. جبال ظفار في سلطنة عُمان / الجبال الشمالية - الشرقية في العراق:

(تعاود مساحتها 5% من مساحة الدولة / تتكون من طبقات من الصخور الكلسية / تشرف على ساحل ضيق تكثر فيه السبخات والمستنقعات / هي جزء من جبال زاغروس الالتوائية)

التأثيرات القارية	تأثيرات التضاريس
- .....	- .....
- .....	- .....
جبال ظفار	الجبال الشمالية - الشرقية
- .....	- .....
- .....	- .....

ثانياً: اقرأ المستند الذي أمامك، ثم أجب عن الأسئلة التي تليه:

#### أهداف التكامل الاقتصادي الخليجي:

- تسعى دول مجلس التعاون إلى تحقيق التكامل الاقتصادي، ومن أبرز أهدافها لتحقيق التكامل الاقتصادي ما يأتي:
- تحقيق التنسيق والتكامل والترابط بين الدول الأعضاء في جميع الميادين وصولاً إلى وحدتها.
  - توثيق الروابط والصلات وأوجه التعاون القائمة بين شعوبها في مختلف المجالات.
  - وضع أنظمة متماثلة في الشؤون الاقتصادية والمالية والتجارية والجمارك والمواصلات وغيرها.
  - دفع عجلة التقدم العلمي والتقني في المجالات الاقتصادية وإنشاء مراكز بحوث علمية وإقامة مشاريع مشتركة وتشجيع التعاون مع القطاع الخاص.
- ويقوم العمل التكاملي الخليجي على تحرير حركة عوامل الإنتاج، وإزالة كافة التحديات التجارية، وتنسيق السياسات الاقتصادية ومن ثم توحيدها، من خلال مراحل تجسدت في إقامة منطقة التجارة الحرة عام 1983، الاتحاد الجمركي الخليجي 2003 والسوق الخليجية المشتركة 2008، فيما العمل جارٍ حالياً على استكمال متطلبات الاتحاد النقدي وإصدار عملة موحدة لدول مجلس التعاون الخليجي.

المصدر: موقع وزارة المالية/ الإمارات العربية المتحدة

1. أذكر الأهداف الرئيسية لدول مجلس التعاون لتحقيق التكامل الاقتصادي.

- .....
- .....

2. على ماذا يقوم العمل التكاملي الخليجي؟

- .....
- .....

3. برأيك، ما هي إيجابيات التكامل الاقتصادي بين دول مجلس التعاون؟

- .....
- .....

انتهت الأسئلة

مملكة البحرين

وزارة التربية والتعليم

قسم الامتحانات الداخلية

امتحان الدور الثالث للتعليم الثانوي للعام الدراسي 2024/2023 م

اسم المقرر: جغرافية دول الخليج العربية

رمز المقرر: أجا 221

المسار: توحيد المسارات

الزمن: ساعة ونصف

## السؤال الأول:

أولاً: ضع دائرة حول رمز الإجابة الصحيحة من بين البدائل التالية.

1-جميعها من مقومات الصناعة في دول الخليج العربية ما عدا:

أ-تنوع المواد الأولية

ب-توافر الطاقة

ج-توفر الأيدي العاملة

د-استثمار الرساميل

2-المرتبة التي تحتلها دول مجلس التعاون الخليجي في إجمالي التبادل التجاري العالمي لسنة 2014م هي:

أ-الأولى

ب-الرابعة

ج-الثالثة

د-الخامسة

3-جميعها من خصائص مناخات دول الخليج العربية ما عدا:

أ-ارتفاع الحرارة

ب-قلة التبخر

ج-قوة الإشعاس

د-الجفاف

4-الجبال المطلة على بحر العرب وتتكون من صخور كلسية تغيب عنها الالتواءات وتكثر فيها الانكسارات هي:

أ-جبال ظفار

ب-جبال عسير

ج-جبال عُمان

د-جبال الحجاز

5-الدولة الأولى في مساحة الأراضي المزروعة بين دول الخليج العربية هي:

أ-عُمان

ب-الكويت

ج-العراق

د-السعودية

6-السياحة التي تتمثل بزيارة الأماكن الطبيعية والأثرية من قلاع وحصون وغيرها تسمى:

أ-الترفيهية

ب-الدينية

ج-الطبية

د-رجال الأعمال

ثانيًا: اقرأ المستند الآتي، الذي يمثل نسبة التركيب العمري لسكان دول الخليج العربية 2016م، ثم أجب عن الأسئلة

التي تليه:

أكثر من 65 سنة (%)	65-15 سنة (%)	أقل من 15 سنة (%)	الفئات العمرية الدول
2.3	77.4	20.3	مملكة البحرين
1.1	85	12.9	الإمارات العربية المتحدة
3.2	72.1	24.7	المملكة العربية السعودية
3.2	56.3	40.5	العراق
2.4	75.6	22	سلطنة عُمان
1.2	84.9	13.9	قطر
2.2	76.8	20	الكويت
2.5	75.5	22	دول الخليج العربية

1- استنتج المقصود بالتركيب العمري للسكان: .....

.....

2- ما الفئة العمرية التي تشكل النسبة الأقل من سكان دول الخليج العربية؟

.....

3- حدد الدولة التي يوجد فيها أعلى نسبة في الفئة العمرية أقل من 15 سنة.

.....

السؤال الثاني:

وضح ما يأتي.

1- مميزات الصناعات البتروكيمياوية.

.....

.....

2- مهام المصارف المركزية.

.....

.....

.....

3-الوحدات الطبيعية التي يتألف منها سطح مملكة البحرين.

.....  
.....

4-المؤشرات التي تعبر عن الحالة الغذائية.

.....  
.....

### السؤال الثالث:

علل ما يلي:

1-يكاد لا يكون هنالك تأثير للخليج العربي والبحر الأحمر في تلطيف الحرارة وهطول الأمطار.

.....  
.....

2-الزراعة في دول الخليج العربية مرتفعة الكلفة.

.....  
.....

3-يعتبر النفط والغاز الطبيعي في الوقت الحاضر أهم مورد طبيعي للطاقة في العالم.

.....  
.....

### السؤال الرابع:

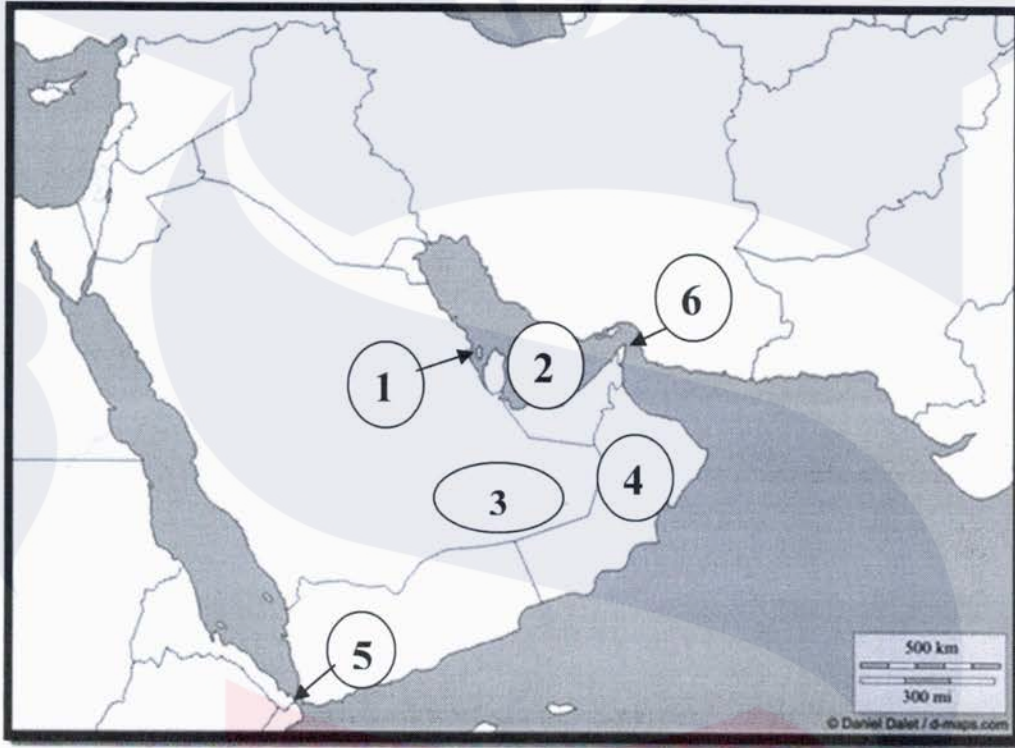
أولاً: صنف العبارات الآتية بوضع كل منها في مكانه المناسب من الجدول التالي.

-مراحل تحولات الاقتصاد في دول الخليج العربية: (صيد الأسماك واستخراج اللؤلؤ على السواحل - سيطرة الشركات الغربية على الثروة النفطية - تجارة مقتصرة على المدن - اضطلاع القطاع العام بدور أساسي في الاقتصاد).

-مراحل السوق النفطية العالمية: (ترشيد استهلاك النفط - سيطرة الدول المنتجة على السوق النفطية عن طريق رفع أسعار النفط - سيطرة دول الخليج العربية على نفطها تماما - إيجاد مصادر بديلة للنفط).

مرحلة تحول الاقتصاد ما قبل الوفرة النفطية (الربع الأول من القرن العشرين)	مرحلة تحول الاقتصاد ما قبل الوفرة النفطية (1930-1973م)
.....-	.....-
.....-	.....-
المرحلة الرابعة للسوق النفطية العالمية (1980-1986 م)	المرحلة الثالثة للسوق النفطية العالمية (1973-1980 م)
.....-	.....-
.....-	.....-

ثانيًا: اكتب في الجدول التالي مدلولات الأرقام المثبتة على خريطة دول الخليج العربية:



العنصر	الرقم	مدلول الأرقام
دولة عربية خليجية ذات كثافة سكانية مرتفعة	1	
مسطح مائي	2	
صحراء (أكبر المسطحات الرملية في العالم)	3	
دولة عربية خليجية	4	
ممرات مائية	5	
	6	

انتهت الأسئلة

مملكة البحرين

وزارة التربية والتعليم

قسم الامتحانات الداخلية

امتحان الدور الثاني للتعليم الثانوي للعام الدراسي ٢٠٢٣/٢٠٢٤ م

المسار: توحيد المسارات

اسم المقرر: جغرافية دول الخليج العربية

الزمن: ساعة ونصف

رمز المقرر: أجا ٢٢١

## السؤال الاول:

ضع دائرة حول رمز الإجابة الصحيحة من بين البدائل التالية.

١-تبلغ المساحة الإجمالية لدول الخليج العربية حوالي ٢٨٦٠٠٠٠ كلم ٢ أي ما يعادل:

أ-٢٢٪ من مساحة الوطن العربي

ب-٥٠٪ من مساحة الوطن العربي

ج-١٠٪ من مساحة الوطن العربي

د-٥٪ من مساحة الوطن العربي

٢-تتميز دول الخليج العربية بمستوى تحضر:

أ-منخفض

ب-مرتفع

ج-متوسط

د-منخفض جداً

٣-مرحلة من مراحل السوق النفطية تميزت بوضع الدول الصناعية المستهلكة يدها على السوق النفطية هي:

أ-الأولى (١٩٣٠-١٩٥٠م)

ب-المرحلة الثانية (١٩٥٠-١٩٧٣م)

ج-الخامسة (١٩٨٦-١٩٩٩م)

د-المرحلة الرابعة (١٩٨٠-١٩٨٦م)

٤-جميعها من خصائص مناخات دول الخليج العربية ما عدا:

أ-قوة الأشماس

ب-ارتفاع الحرارة

ج-انخفاض نسبة التبخر

د-قلة الأمطار

٥-هضبة تقع شمال المملكة العربية السعودية، وإلى الشرق من المرتفعات الغربية، ويتكون سطحها من طبقة من

الصخور الرملية هي:

أ-نجد

ب-الحسمة

ج-المرتفعات الوسطى

د-الصمان

٦-جميعها من المؤشرات التي تعبر عن الحالة الغذائية ما عدا:

أ-السعرات الحرارية

ب-إنتاج الغذاء

ج-العمر المتوقع عند الولادة

د-حصة الفرد من البروتينات

٧-السياحة التي تتمثل بزيارة الأماكن الطبيعية والأثرية من قلاع وحصون وغيرها تسمى:

أ-الترفيهية

ب-الدينية

ج-الطبية

د-رجال الأعمال

## السؤال الثاني:

أولاً: وضح ما يأتي.

١- مميزات حقول النفط والغاز في دول الخليج العربي.

.....

.....

٢- مميزات الاقتصاد في دول الخليج العربي في مرحلة ما قبل النفط (الربع الأول من القرن العشرين).

.....

.....

.....

ثانياً: اقرأ المستند الآتي، ثم أجب عن الأسئلة التي تليه:

مقتطف من الكلمة السامية لحضرة صاحب الجلالة الملك "حمد بن عيسى آل خليفة" ملك البلاد المعظم حفظه الله ورعاه في افتتاح دور الانعقاد الثاني من الفصل التشريعي الخامس.

"...وبالنظر إلى الجهود العالمية المتواصلة في إيجاد حلول ترتقي بجودة حياة الإنسان واستمرار تمتعه بالعيش الكريم، وخصوصاً في مجال تحقيق الأمن الغذائي، تبادر البحرين، بكل جدية، بتبني الحلول المناسبة لتطوير مجالات الاكتفاء الذاتي، حيث أصدرنا توجيهاتنا، بوضع وتنفيذ "مشروع استراتيجي للإنتاج الوطني للغذاء"، ليشمل تخصيص مواقع متعددة للاستزراع السمكي والإنتاج النباتي، ويهدف المشروع بشكل رئيسي، إلى تطوير القدرات الوطنية في مجال الصناعات الغذائية ورفع نسبة الإنتاج المحلي، والحفاظ على خبرة أصحاب تلك المهن ليكونوا جزءاً هاماً في إنجاح تلك المشاريع..."

١- على ماذا اشتمل المشروع الاستراتيجي للإنتاج الوطني للغذاء الذي أصدره جلالته الملك حمد بن عيسى آل خليفة ملك البلاد المعظم حفظه الله ورعاه؟

.....

٢- بين أهداف المشروع الاستراتيجي للإنتاج الوطني للغذاء الذي أصدره جلالته الملك حمد بن عيسى آل خليفة ملك البلاد المعظم حفظه الله ورعاه.

.....

.....

٣- اقترح حلاً لتطوير الاكتفاء الذاتي الغذائي في مملكة البحرين.

.....

.....

## السؤال الثالث:

أولاً: علل ما يلي:

١- تتميز دول الخليج العربية بانخفاض كلفة استخراج النفط فيها.

.....-

.....-

٢- تلقى المرأة في دول الخليج العربية اهتماماً ملحوظاً من قبل الحكومة والمجتمع على حد سواء.

.....-

٣- تنتشر البساتين وتتعدد المراكز السكنية في سهل الباطنة الذي يقع معظمه في سلطنة عُمان.

.....-

ثانياً: اقرأ المستند الآتي، الذي يمثل نسبة التركيب العمري لسكان دول الخليج العربية ٢٠١٦م، ثم أجب عن الأسئلة

التي تليه:

الدول	الفئات العمرية	أقل من ١٥ سنة (%)	١٥-٦٥ سنة (%)	أكثر من ٦٥ سنة (%)
مملكة البحرين		٢٠.٣	٧٧.٤	٢.٣
الإمارات العربية المتحدة		١٢.٩	٨٥	١.١
المملكة العربية السعودية		٢٤.٧	٧٢.١	٣.٢
العراق		٤٠.٥	٥٦.٣	٣.٢
سلطنة عُمان		٢٢	٧٥.٦	٢.٤
قطر		١٣.٩	٨٤.٩	١.٢
الكويت		٢٠	٧٦.٨	٢.٢
دول الخليج العربية		٢٢	٧٥.٥	٢.٥

١- استنتج المقصود بالتركيب العمري للسكان:

.....

.....

٢- ما الفئة العمرية التي تشكل النسبة الأقل من سكان دول الخليج العربية؟

.....

٣- حدد الدولة التي يوجد فيها أعلى نسبة في الفئة العمرية أقل من ١٥ سنة.

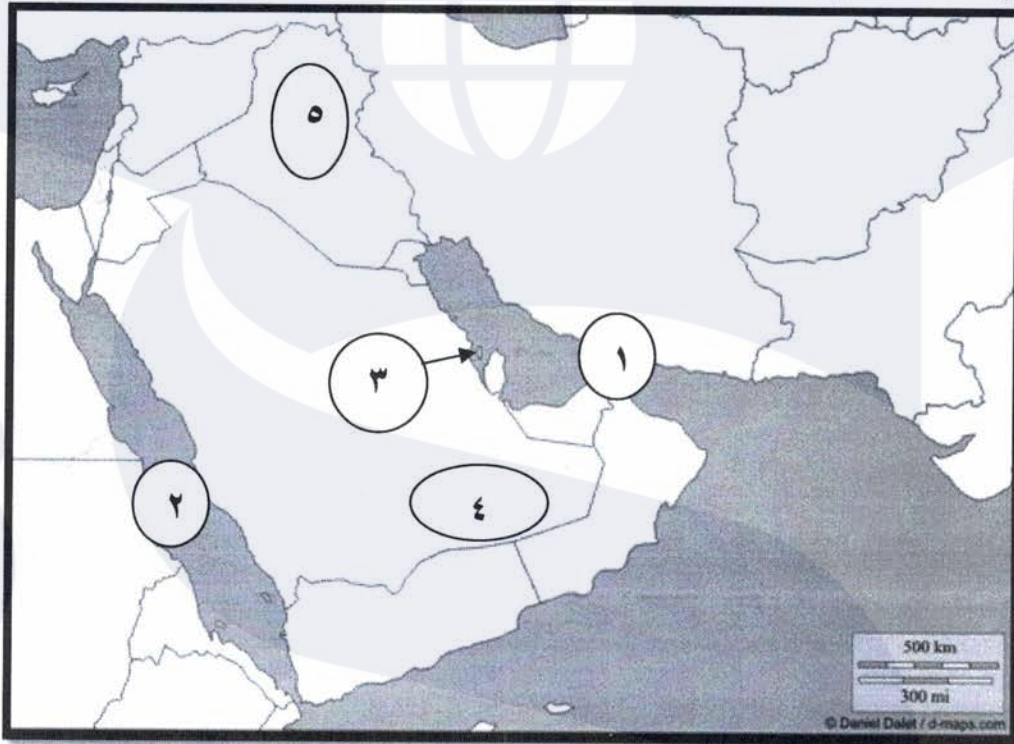
.....

## السؤال الرابع:

أولاً: ضع إشارة صح ( ✓ ) أمام العبارة الصحيحة وإشارة خطأ ( × ) أمام العبارة الخاطئة لكل مما يأتي:

- ١- يحتل إنتاج الفاكهة المرتبة الأولى بالنسبة إلى الإنتاج الزراعي في دول الخليج العربية ( ) .
- ٢- يشكل النفط والغاز الطبيعي والمنتجات المنجمية السلعتين المصدرتين الأساسيتين لدول الخليج العربية ( ) .
- ٣- الصناعات المعدة للتصدير تهدف إلى تأمين السلع الوسيطة الضرورية للصناعات الاستهلاكية ( ) .
- ٤- تتميز جزر الخليج العربي بكونها كثيرة وصغيرة إجمالاً وشواطئها عميقة نسبياً ( ) .
- ٥- ترتفع معدلات الرطوبة الجوية في قلب الصحراء وتنخفض تدريجياً باتجاه السواحل ( ) .

ثانياً: اكتب في الجدول التالي مدلولات الأرقام المثبتة على دول الخليج العربية.



العنصر	الرقم	مدلول الأرقام
ممر مائي	١	
مسطح مائي	٢	
دولة خليجية ذات كثافة سكانية مرتفعة	٣	
صحراء (أكبر المسطحات الرملية في العالم)	٤	
دولة خليجية يسود في شمالها الشرقي المناخ المعتدل القريب من المناخ المتوسطي	٥	

انتهت الأسئلة

مملكة البحرين

وزارة التربية والتعليم

قسم الامتحانات الداخلية

امتحان نهاية الفصل الدراسي الثاني للتعليم الثانوي للعام الدراسي ٢٠٢٣/٢٠٢٤ م

المسار: توحيد المسارات

اسم المقرر: جغرافية دول الخليج العربية

الزمن: ساعة ونصف

رمز المقرر: أجا ٢٢١

## السؤال الأول:

أولاً: ضع دائرة حول رمز الإجابة الصحيحة من بين البدائل التالية.

١- جميعها من خصائص مناخات دول الخليج العربية ما عدا:

أ- ارتفاع نسبة التبخر

ب- انخفاض نسبة التبخر

د- ارتفاع الحرارة

ج- قوة الإشعاس

٢- الإنتاج الزراعي النباتي الذي يحتل المرتبة الأولى بدول الخليج العربية هو:

ب- الحبوب

د- الخضار

أ- الفاكهة

ج- النباتات الزيتية

٣- البلدان التي تأتي بالمرتبة الأولى في التعامل التجاري مع دول الخليج العربية هي:

ب- العربية

د- الإسلامية

أ- المتقدمة

ج- النامية

٤- العامل الأكبر في تنظيم المجال الجغرافي في دول الخليج العربية على أساس تنموي للمناطق هو:

ب- الاقتصاد

د- النفط

أ- الدولة

ج- السكان

٥- تتميز دول الخليج العربية بمعدل خصوبة:

ب- منخفض

د- مرتفع

أ- متوسط

ج- منخفض جداً

٦- جميعها من أنواع الصناعات التحويلية المرتبطة بالنفط والغاز الطبيعي في دول الخليج العربية ما عدا:

ب- صناعة الأسمدة الكيماوية

د- صناعة تكرير النفط

أ- صناعة تسييل الغاز الطبيعي

ج- صناعة الألومنيوم

ثانيًا: اقرأ المستند المجاور الذي يمثل الكثافة السكانية في دول الخليج العربية، ثم أجب عن الأسئلة التي تليه:

الدولة	المساحة (كلم <sup>2</sup> )	الكثافة السكانية (نسمة / كلم <sup>2</sup> )
مملكة البحرين	٧٨٠	١٩٢١
المملكة العربية السعودية	٢٠٠٠٠٠٠	١٦
الإمارات العربية المتحدة	٨٢,٦٠٠	١٠٤
الكويت	١٧٨١٨	٣٢٨
عُمان	٣٠٩,٥	١٣
قطر	١١,٦	٢١٠
العراق	٤٣٥,٥	٨٥

١- ما الدولة التي يوجد فيها أعلى كثافة سكانية؟

.....

٢- ما الدولة التي يوجد فيها أدنى كثافة سكانية؟

.....

٣- قارن بين الكثافات السكانية في دول الخليج العربية، ماذا

تستنتج؟

.....

.....

.....

### السؤال الثاني:

وضح ما يأتي.

١- مميزات حقول النفط والغاز في دول الخليج العربية.

.....

.....

٢- مقومات الصناعة في دول الخليج العربية.

.....

.....

٣- الوحدات الطبيعية التي يتألف منها سطح مملكة البحرين.

.....

.....

٤- السياسات الصحية التي اتبعتها دول الخليج العربية.

.....

.....

.....

## السؤال الثالث:

علل ما يلي:

١- يكاد لا يكون هنالك تأثير للخليج العربي والبحر الأحمر في تلطيف الحرارة وهطول الأمطار.

.....-

.....-

٢- الاهتمام المتزايد بزراعة الخضار في دول الخليج العربية.

.....-

.....-

٣- اكتسبت دول الخليج العربية ثقلًا جيوسياسيًا مهمًا في الوطن العربي والعالم الإسلامي.

.....-

.....-

.....-

## السؤال الرابع:

أولاً: صنف العبارات الآتية بوضع كل منها في مكانه المناسب من الجدول التالي.

- تحولات الاقتصاد في دول الخليج العربية:

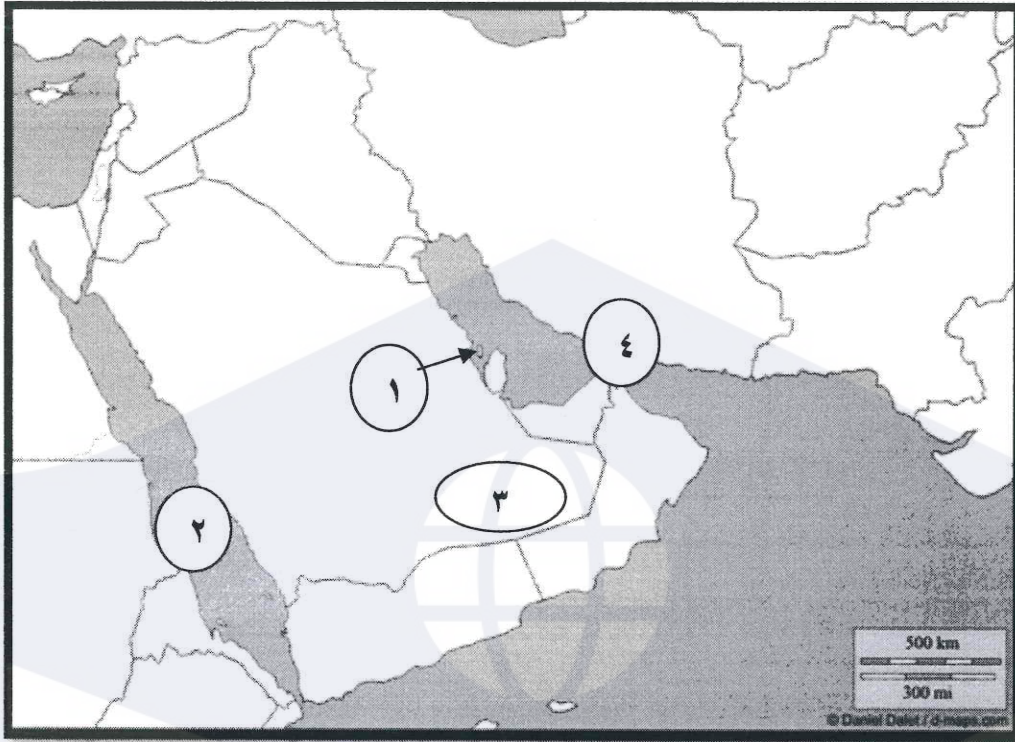
(سيطرة الشركات الغربية على الثروة النفطية - سيطرة دول الخليج على مواردها النفطية وعائداتها المالية - شهدت تنوع اقتصادي كبير - اضطلاع القطاع العام بدور أساسي في الاقتصاد).

- أنواع المصارف في دول الخليج العربية:

(هي المصارف الأكثر انتشارًا - من مهامها إصدار العملات الوطنية ومراقبة تداولها - من مهامها تنفيذ السياسات المالية والنقدية المحددة من قبل الدولة - تتلقى الودائع المالية من المقيمين والأجانب فتستثمرها بطرق مختلفة).

مرحلة ما قبل الوفرة النفطية (١٩٣٠-١٩٧٣م)	مرحلة الوفرة النفطية (١٩٧٣-٢٠٢٠م)
.....-	.....-
.....-	.....-
المصارف المركزية	المصارف التجارية
.....-	.....-
.....-	.....-

ثانيًا: اكتب في الجدول التالي مدلولات الأرقام المثبتة على خريطة دول الخليج العربية.



العنصر	الرقم	مدلول الأرقام
دولة عربية خليجية	١	
مسطح مائي	٢	
صحراء (أكبر المسطحات الرملية في العالم)	٣	
ممر مائي	٤	

انتهت الأسئلة

مملكة البحرين  
وزارة التربية والتعليم  
قسم الامتحانات الداخلية

امتحان نهاية الفصل الدراسي الأول للتعليم الثانوي للعام الدراسي 2024/2023 م

المسار: توحيد المسارات

اسم المقرر: جغرافية دول الخليج العربية

الزمن: ساعة ونصف

رمز المقرر: أجا 221

السؤال الاول:

أولاً: ضع دائرة حول رمز الإجابة الصحيحة من بين البدائل التالية.

1- تتميز الكثافة السكانية في دول الخليج العربية بصورة إجمالية بأنها:

أ-مرتفعة ب-متدنية ج-متوسطة د-خالية من السكان

2- الإنتاج الزراعي النباتي الذي يحتل المرتبة الأولى بدول الخليج العربية هو:

أ-الحبوب ب-الخضار ج-الفاكهة د-النباتات الزيتية

3- الجبل الذي يحتل موقعاً وسطياً في المنبسط الداخلي والأكثر ارتفاعاً في مملكة البحرين يسمى:

أ-ظفار ب-طويق ج-الدخان د-الزلاق

4- مصارف مهمتها إصدار العملة الوطنية ومراقبة تداولها هي:

أ-المصارف المتخصصة ب-المصارف التجارية ج-المصارف الصناعية د-المصارف المركزية

5- جميعها من مميزات حقول النفط والغاز في دول الخليج العربية ما عدا:

أ-ضخامة انتاجها ب-قلة تكاليف التنقيب ج-انخفاض تكاليف التسويق د-ارتفاع تكاليف التنقيب

ثانياً: اقرأ المستند المجاور، ثم أجب عن الأسئلة التي تليه:

1- استنتج المقصود بالميزان التجاري.

الميزان التجاري	الواردات	الصادرات
+ ٢,٧٩٤	١٣,٧٤٦	١٦,٥٤٠
+ ٢٨,٨٧٥	١٧٤,٦٧٥	٢٠٣,٥٥٠
+ ٣٧,٠٦٠	٢٦٣,٤١٧	٣٠٠,٤٧٧
+ ٢٣,٢٩٤	٣٠,٧٩٥	٥٤,٠٨٩
+ ٩,١١٦	٣٦,٥٥٦	٣٥,٦٧٢
+ ٤٠,١٧٤	٣٧,١٢٠	٧٧,٢٩٤
- ٢,٦٨٠	٥٢,٠٠٠	٤٩,٣٢٠
+ ١٣٨,٦٣٣	٥٩٨,٣٠٩	٧٣٦,٩٤٢

2- قارن بين قيم الصادرات والواردات، ماذا تستنتج؟

3- ما هي الدولة التي سجلت عجز في ميزانها التجاري؟

## السؤال الثاني:

وضح ما يأتي.

1- مميزات جُزر الخليج العربي.

.....

.....

2- أهداف المبادرة الوطنية لتنمية القطاع الزراعي بمملكة البحرين.

.....

.....

.....

3- أهم الصحاري في المملكة العربية السعودية.

.....

.....

4- مميزات الصناعات البتروكيماوية.

.....

.....

## السؤال الثالث:

أولاً: اقرأ المستند المجاور، ثم أجب عن الأسئلة التي تليه:

1- استنتج مفهوم الخصخصة.

.....

.....

2- بين أهمية الخصخصة في مملكة البحرين.

.....

.....

.....

3- حدد المبادئ الأساسية للرؤية الاقتصادية (البحرين 2030م).

.....

.....

(٦) الخصخصة في مملكة البحرين:

في التاسع والعشرين من شهر يناير الماضي صدر عن صاحب السمو الملكي الأمير خليفة بن سلمان آل خليفة رئيس الوزراء "طبيب الله ثراه القرار رقم (٣) لسنة ٢٠١٤م باعتماد سياسات وضوابط التخصيص، حيث تبنت حكومة البحرين الخصخصة وعدتها خياراً استراتيجياً في سياساتها الاصلاحية ومدخلاً هاماً من مداخل التنمية المستندة على تفعيل دور القطاع الخاص، وجذب الاستثمارات الاجنبية، وتحقيق أقصى كفاءة ممكنة في استثمار الموارد المتاحة.

وبعد تدشين بتوجيه من حضرة صاحب الجلالة الملك "حمد بن عيسى آل خليفة" ملك البلاد المعظم حفظه الله ورعاه الرؤية الاقتصادية (البحرين ٢٠٣٠م)، كتعبير عن انطلاق مرحلة جديدة من البناء التنموي المخطط والمستند على أسس علمية في البرمجة والتخطيط طويل الأجل الهادف إلى الارتقاء بالعملية التنموية فكرياً وتطبيقاً، وبما يعزز حاضري البحرين ويرسخ مستقبلها الواعد، ويحقق أهدافها في التنوع الاقتصادي والتنمية المستدامة، تواصل مسار الخصخصة في المملكة مستحضراً المبادئ الأساسية للرؤية والمتمثلة بالاستدامة، والتنافسية، والعدالة.

المصدر: د. أسعد السعدون، أخبار الخليج، العدد ١٣١٠٧،

فبراير ٢٠١٤م، بتصرف

ثانيًا: عرف المفاهيم والمصطلحات الآتية:

- 1- مؤشر التنمية البشرية: .....
- 2- أوبيك (OAPEC): .....
- 3- الصناعة الاستخراجية: .....
- 4- محمية العرين: .....

السؤال الرابع:

بين سبب ما يلي:

1- تتميز دول الخليج العربية بمعدل خصوبة مرتفع.

.....-

2- تلقى المرأة في دول الخليج العربية اهتمامًا ملحوظًا من قبل الحكومة والمجتمع على حد سواء.

.....-

3- يمثل مضيق هرمز منطقة استراتيجية مهمة.

.....-

4- الجفاف في دول الخليج العربية.

.....-

انتهت الأسئلة

مملكة البحرين

وزارة التربية والتعليم

إدارة الامتحانات / قسم الامتحانات

امتحان نهاية الفصل الدراسي الثاني للتعليم الثانوي للعام الدراسي 2022م/2023م

المسار: مكفوفين

الزمن: ساعة ونصف

اسم المقرر: جغرافية الخليج العربي

رمز المقرر: أجا 221

## السؤال الأول: (14 علامة)

أولاً: ضع دائرة حول رمز الإجابة الصحيحة من بين البدائل التالية:

1. مضيق يمثل منطقة استراتيجية مهمة لكونه ممراً بحرياً لجميع دول الخليج العربية هو:

أ. مضيق باب المندب

ب. مضيق جبل طارق

ج. مضيق هرمز

د. قناة السويس

2. أكبر دولة خليجية يوجد بها خامات النحاس، وتعمل على استثماره هي:

أ. سلطنة عمان

ب. الكويت

ج. العراق

د. الإمارات العربية المتحدة

3. تتميز حقول النفط والغاز الطبيعي في دول الخليج العربية بـ:

أ. صغر حجمها

ب. ضخامتها

ج. عدم اتصال الكثير منها

د. انخفاض كمية النفط فيها

4. جميعها من خصائص مناخات دول الخليج العربية ما عدا:

أ. ارتفاع الحرارة

ب. قلة التبخر

ج. قوة الإشعاس

د. الجفاف

5. تتميز دول الخليج العربية بمعدل خصوبة:

أ. منخفض

ب. متوسط

ج. مرتفع

د. مرتفع جداً

6. مصارف مهمتها إصدار العملة الوطنية ومراقبة تداولها هي:

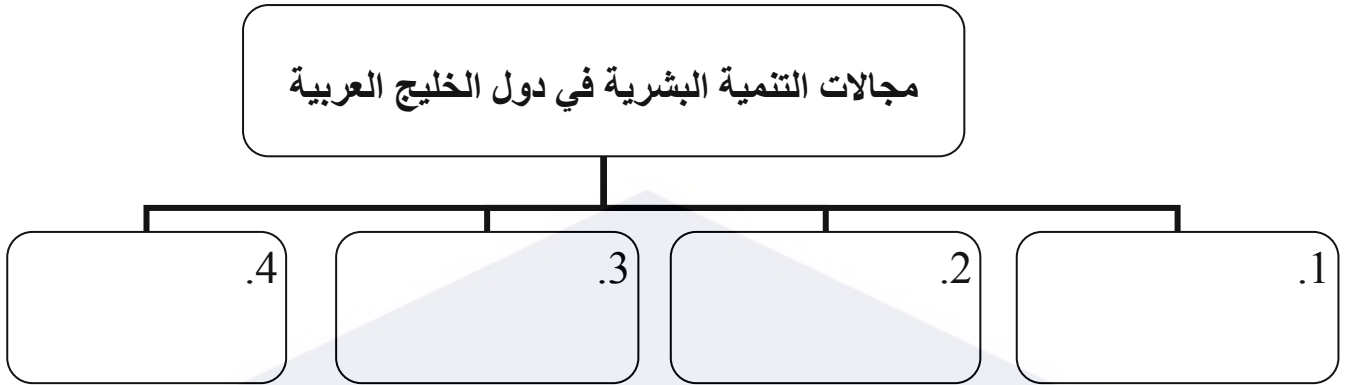
أ. المصارف المتخصصة

ب. المصارف التجارية

ج. المصارف الصناعية

د. المصارف المركزية

ثانياً: أكمل المخطط التالي الذي يبين مجالات التنمية البشرية في دول الخليج العربية:



السؤال الثاني: (18 علامة)

- علّل ما يأتي.

1. اكتسبت دول الخليج العربية ثقلاً جيوسياسياً مهماً في الوطن العربي والعالم الإسلامي.

- .....
- .....
- .....
- .....

2. تدني فعالية الأمطار من الناحيتين البيولوجية والهيدرولوجية في دول الخليج العربية.

- .....
- .....

3. حققت دول الخليج العربية تقدماً مهماً في مجال استعمال التقنيات المتطورة في القطاع الزراعي.

- .....
- .....

### السؤال الثالث: (18 علامة)

وضح ما يأتي:

1. الوحدات الطبيعية التي يتألف منها سطح مملكة البحرين.

- .....
- .....
- .....

2. مميزات المرحلة الثالثة (1973-1980م) لتطورات السوق النفطية العالمية.

- .....
- .....
- .....

3. أهداف المبادرة الوطنية التي أطلقتها مملكة البحرين لتحقيق الاكتفاء الغذائي.

- .....
- .....
- .....

## السؤال الرابع: (10 علامة)

صنف البيانات الآتية في الجدول التالي:1. التأثيرات البحرية / تأثير التضاريس على مناخ دول الخليج العربية:

- تتسبب بانخفاض حرارة الأجواء بمعدل 6 درجات مئوية مع كل علو يبلغ 1000 متر.
- تأثيرات البحر المتوسط تسبب الأمطار وتلطف الحرارة في الشتاء.
- تأثيرات المحيط الهندي تسبب هطول الأمطار الموسمية صيفاً على بعض أجزاء دول الخليج العربية.
- تسبب بتساقط كميات أوفر من الأمطار فوق السفوح المواجهة للرياح الرطبة.

2. تحولات الاقتصاد في دول الخليج العربية (مرحلة ما قبل الوفرة النفطية 1930-1973م / مرحلة الوفرة النفطية 1973-2020م).

- تعاظم الاستيراد خصوصاً المواد الغذائية والسلع المصنعة.
- تكون احتياطي نقدي مهم في معظم الدول.
- الاتجاه نحو استقطاب العمالة الوافدة للمساهمة في عملية التنمية.
- توطد الدور الاقتصادي للقطاع العام.
- تقدم قطاعي الخدمات والتشييد على القطاعات الإنتاجية الأخرى.
- اضطلاع القطاع العام بدور أساسي في الاقتصاد.

التأثيرات البحرية	تأثيرات التضاريس
.....	.....
.....	.....
.....	.....
مرحلة الوفرة النفطية (1973-2020م)	مرحلة ما قبل الوفرة النفطية (1930-1973م)
.....	.....
.....	.....

انتهت الأسئلة

مملكة البحرين

وزارة التربية والتعليم

إدارة الامتحانات / قسم الامتحانات المركزية

امتحان نهاية الفصل الدراسي الأول للتعليم الثانوي للعام الدراسي 2023/2022 م

المسار: مكفوفين

الزمن: ساعة ونصف

اسم المقرّر: جغرافية دول الخليج العربية

رمز المقرّر: أجا 221

**السؤال الأول: (12 علامة)**أولاً: ضع دائرة حول رمز الإجابة الصحيحة من بين البدائل التالية:

1. يتألف سطح مملكة البحرين من وحدات طبيعية ببيضاوية الشكل يبلغ عددها:

- أ. ثلاث وحدات  
ب. أربع وحدات  
ج. خمس وحدات  
د. ستة وحدات

2. الدولة الخليجية التي لا تعاني من العجز المائي هي:

- أ. دولة الكويت  
ب. المملكة العربية السعودية  
ج. سلطنة عمان  
د. الإمارات العربية المتحدة

3. جميع ما يأتي من معوقات استثمار الثروة المعدنية في دول الخليج العربية ماعدا:

- أ. الحاجة لليد العاملة  
ب. ارتفاع التكلفة  
ج. النقص في المياه  
د. بعد المناجم عن التجمعات المائية

4. أكبر حقل نفط بري في دول الخليج العربية هو:

- أ. الغوار  
ب. الخوير  
ج. الزبير  
د. الروضتين

5. الفئة العمرية المنتجة والتي تشكل نسبة 78% وتعتبر في دول الخليج العربية هي فئة:

- أ. حديث الولادة  
ب. 15 سنة فأقل  
ج. 15-65 سنة  
د. 65 سنة فأكثر

6. المرحلة التي شهدت تنوع اقتصادي كبير وخصخصة الكثير من المجالات الاقتصادية هي:

- أ. ما قبل النفط  
ب. بداية إنتاج النفط  
ج. ما قبل الوفرة النفطية  
د. الوفرة النفطية

ثانياً: أكمل المخطط التالي الذي يبين العوامل المؤثرة في مناخ دول الخليج العربية:



السؤال الثاني: (20 علامة)

- علّل ما يأتي.

1. اكتسبت دول الخليج العربية ثقلاً جيوسياسياً مهماً في الوطن العربي والعالم الإسلامي.

.....

.....

.....

.....

2. تنامي دور الصناعات التحويلية في اقتصادات دول الخليج العربية.

.....

.....

.....

.....

3. يواجه القطاع الزراعي تحديات في دول الخليج العربية.

.....

.....

.....

.....

## السؤال الثالث: (18 علامة)

وضح ما يأتي:

1. أهم خصائص مناخات دول الخليج العربية.

.....

.....

.....

.....

2. السياسات الصحية التي اتبعتها دول الخليج العربية.

.....

.....

.....

.....

3. مقومات الصناعة في دول الخليج العربية.

.....

.....

.....

.....

## السؤال الرابع: (10 علامة)

صنف البيانات الآتية في الجدول أدناه:1- المياه الجوفية:

- تقع خزاناتها على أعماق كبيرة.
- هي المياه الموجودة في الترسبات وشقوق طبقات الصخور السطحية.
- هي مياه موجودة في خزانات تصل حتى عمق 500 متر كحد أقصى.
- تجمعت خلال آلاف السنين في عصور مطيرة تعاقبت على دول شبه الجزيرة العربية.
- تعتبر المملكة العربية السعودية أغنى البلدان الخليجية بهذا النوع من المياه.
- يحصل عليها بواسطة الأفلاج والآبار.

المصارف:

- تعطي قروض بأرباح متدنية وطويلة الأجل.
- تتلقى الودائع المالية من المقيمين والأجانب.
- يمتلكها القطاع الخاص أو تابعة للدولة مثل مصرف البحرين الوطني.
- أنشأها القطاع العام بغية التسليف في قطاعات اقتصادية معينة.

المياه الجوفية غير المتجددة (الأحفورية)	المياه الجوفية المتجددة
.....	.....
.....	.....
.....	.....
المصارف المتخصصة	المصارف التجارية
.....	.....
.....	.....

انتهت الأسئلة

مملكة البحرين

وزارة التربية والتعليم

إدارة الامتحانات / قسم الامتحانات المركزية

امتحان نهاية الفصل الدراسي الأول للتعليم الثانوي للعام الدراسي 2018/2019 م

اسم المقرر: جغرافية الخليج العربي

رمز المقرر: أجا 221

المسار: المكفوفون

الزمن: ساعة ونصف

السؤال الأول: - (26 علامة)

أولاً: ضع دائرة حول رمز الإجابة الصحيحة من بين البدائل التالية.

1- تنتمي مناخات دول الخليج العربية إلى فئة المناخات.

أ. المدارية الجافة.

ب. القطبية.

ج. الاستوائية.

د. المدارية الرطبة.

2- أكبر الحقول النفطية في دول الخليج العربية هو حقل.

أ. عوالي.

ب. الغوار.

ج. البرقان.

د. الفهود.

3- يمتلك القطاع الصناعي في دول الخليج العربية عدة مقومات.

أ. قلة اليد العاملة.

ب. نقص الرساميل.

ج. المواد الأولية.

د. نقص الطاقة.

4- حقق القطاع الزراعي في دول الخليج العربية إنجازات عديدة منها.

أ. التوسع الأفقي وهدر المياه.

ب. ارتفاع كلفة الإنتاج الزراعي.

ج. اشتراك محدود للقطاع الخاص.

د. ارتفاع نسبة نمو الناتج الزراعي.

5- سيطرت الشركات الأجنبية على قطاع التشييد في دول الخليج العربية بسبب.

أ. توافر العمالة.

ب. صغر الشركات المحلية.

ج. توافر المواد الأولية.

د. انخفاض كلفة الإنتاج.

6- جميع ما يأتي من مؤشرات التنمية لدول الخليج العربية في المجالات الصحية ما عدا.

أ. نتائج إيجابية في مجال العناية الصحية.

ب. السياسات الصحية.

ج. نتائج إيجابية في القطاعات المساعدة للتنمية الصحية.

د. السياسات الغذائية.

ثانياً: صحح م تحته خط في العبارات الآتية.

1. تعتبر جزر أبو موسى وطنب الكبرى وطنب الصغرى تابعة لدولة الكويت.

2. توجد أكثر كثافة سكانية مرتفعة في المملكة العربية السعودية.

3. ارتفعت عائدات النفط لدول الخليج العربية بنسبة كبيرة جداً في المرحلة الثانية (1950-1973).

4. الدولة الخليجية التي لا زالت تشهد ارتفاعاً في نسبة وفيات الأطفال دون الخامسة هي دولة الإمارات العربية المتحدة.

5. عجز السلع عن منافسة الإنتاج الأجنبي من حيث مستوى الجودة من أهم المشاكل التي تعترض التجارة الخارجية.

6. المصارف الأكثر انتشاراً وتتلقى الودائع المالية من المقيمين والأجانب هي المصارف المتخصصة.

7. الدولة التي يتولى فيها القطاع العام إنشاء المرافق ومعظم البنى الأساسية وغالبية الخدمات هي الدولة المستثمرة.

1- انخفاض تأثير الخليج العربي والبحر الأحمر في تلطيف الحرارة وسقوط الأمطار.

.....

.....

.....

.....

.....

2- ارتفاع كلفة الإنتاج الزراعي في دول الخليج العربية.

.....

.....

.....

.....

.....

3- فئة السدود المخصصة للري أقل عدداً واستعمالاً.

.....

.....

.....

.....

.....

4- ارتفاع عدد سكان دول الخليج العربية بين سنتي 1990 و 2012م ارتفاعاً ملحوظاً.

.....

.....

.....

.....

.....

السؤال الثالث: - (24 علامة)

- وضح ما يأتي.

1- العوامل الثلاثة التي تعطي دول الخليج العربية أهمية استراتيجية كبرى.

.....

.....

.....

.....

2- معوقات القطاع المصرفي في دول الخليج العربية.

.....

.....

.....

.....

.....

3- إنجازات الصناعة التحويلية في دول الخليج العربية.

.....

.....

.....

.....

.....

4- أهداف مجتمعات دول الخليج العربية من الصناعة.

.....

.....

.....

.....

.....

السؤال الرابع: - (24 علامة)

- صنف العبارات التالية بما يناسبها في الجدول ادناه.

المياه الجوفية: -

- تقع خزاناتها على أعماق كبيرة. - هي المياه الموجودة في شقوق وطبقات الصخور السطحية.
- مياه قديمة تجمعت خلال آلاف السنين في العصور المطيرة. - يتم الحصول عليها بواسطة الأفلاج والآبار.

التسويق: -

- يجري من خلال المعارض الموسمية والأسواق الأسبوعية. - هو الأكثر شيوعاً في دول الخليج العربية.
- يتم الاحتكاك المباشر بين المنتج والمستهلك. - يقوم على توجيه المستهلك إلى المحلات التجارية المتعددة الأنواع لشراء حاجاته.

التحولات الاقتصادية في دول الخليج العربية (المراحل): -

- تميزت بسيطرة الشركات الغربية على الثروة النفطية. - اعتماد سياسة إنفاق واسعة على مشاريع إنمائية كبرى.
- سيطرة دول الخليج العربية على مواردها النفطية. - إنفاق مداخل الثروة النفطية المحدودة على بناء الدولة والبنية التحتية.

المياه الجوفية المتجددة	المياه الجوفية غير المتجددة
التسويق المباشر	التسويق عبر التجار الوسطاء
مرحلة الوفرة النفطية (1973-1980)	مرحلة ما قبل الوفرة النفطية (1930-1973)

انتهت الأسئلة

مملكة البحرين

وزارة التربية والتعليم

إدارة الامتحانات / قسم الامتحانات المركزية

**امتحان نهاية الفصل الدراسي الأول للتعليم الثانوي للعام الدراسي 2017/2018 م**

المسار: المكفوفين

اسم المقرر: جغرافية الخليج العربي

الزمن: ساعة ونصف

رمز المقرر: أجا 221

**السؤال الأول:**

أولاً: ضع دائرة حول رمز الإجابة الصحيحة من بين البدائل التالية.

**1- تنتمي دول الخليج العربية إلى فئة الأقاليم المناخية.**

- أ. القطبية الباردة.  
ب. المدارية الحارة الرطبة.  
ج. المدارية الحارة الجافة.  
د. المعتدلة الدافئة.

**2- الدولتان الخليجتان اللتان تتمتعان بأعلى ثقل سكاني هما.**

- أ. المملكة العربية السعودية والعراق.  
ب. البحرين وعمان.  
ج. الامارات العربية المتحدة والمملكة العربية السعودية.  
د. عمان والكويت.

**3- يوجد حقل زاخم في دولة.**

- أ. المملكة العربية السعودية.  
ب. الامارات العربية المتحدة.  
ج. الكويت.  
د. العراق.

**4- معوقات القطاع المصرفي في دول الخليج العربية.**

- أ. كبر احجام المصارف.  
ب. قلة فروع المصارف.  
ج. استخدام تقنيات مصرفية حديثة.  
د. الممارسات التقليدية للمصارف.

**5- الدولة الخليجية التي تتأى في المرتبة الأول من حيث المساحة.**

- أ. المملكة العربية السعودية.  
ب. والعراق.  
ج. الامارات العربية المتحدة.  
د. عمان والكويت.

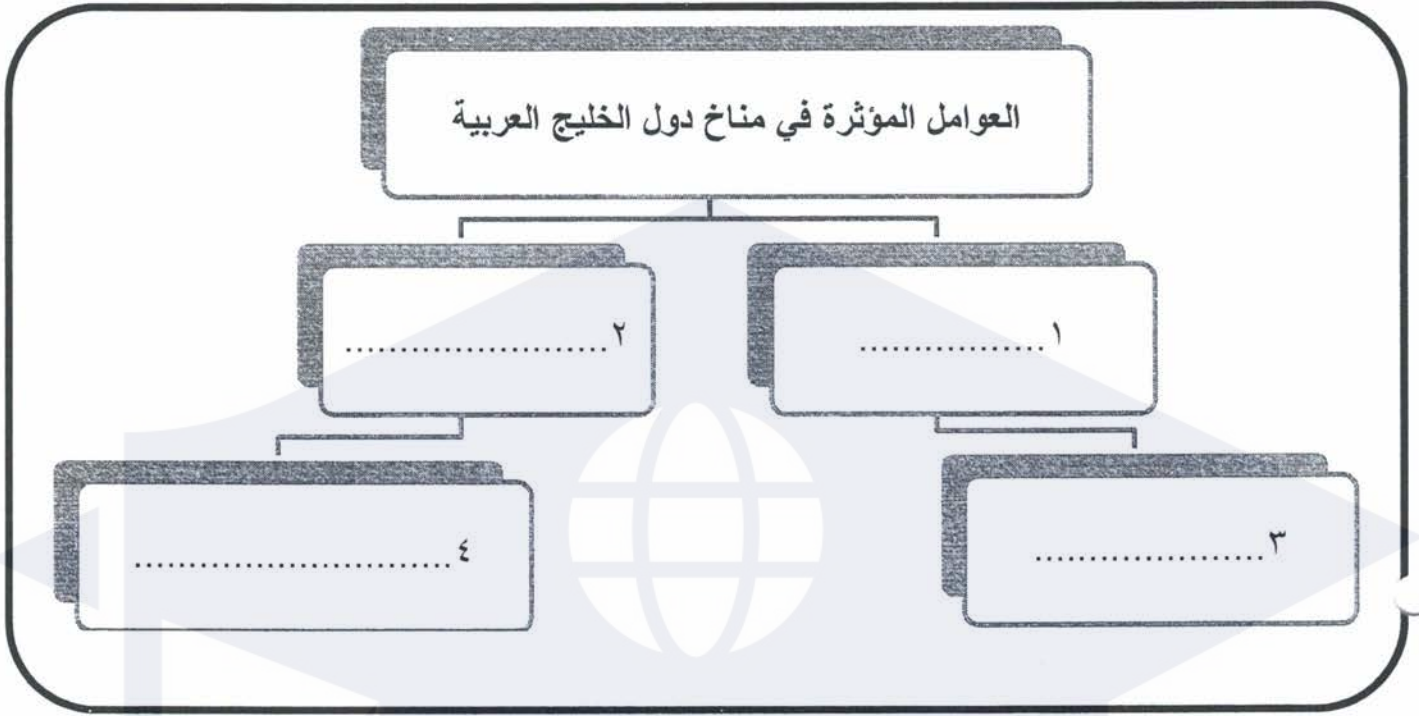
**6- جميع ما ذكر من الأسباب المحلية لضعف تصريف المنتجات محلياً ما عدا.**

- أ. ضيق السوق الخليجي عموماً.  
ب. تشابه المشاريع الصناعية في الدول الخليجية.  
ج. القوة الشرائية الكبيرة.  
د. قيود الحماية التي تفرضه الدول المستوردة.

**7- جميع ما ذكر من النشاطات التي مارسها أهل الخليج في مرحلة ما قبل النفط ما عدا.**

- أ. الزراعة المحدودة.  
ب. صناعة الملابس والجلود.  
ج. صيد الاسماك.  
د. جمع البخور والعسل والحطب.

ثانياً: أكمل المخطط التالي الذي يبين العوامل المؤثرة في مناخ دول الخليج العربية.



السؤال الثاني:  
- علل ما يأتي.

1-ارتفاع كلفة الإنتاج الزراعي في دول الخليج العربية.

.....

.....

.....

.....

.....

2-تدني فعالية الامطار من الناحية البيولوجية والهيدرولوجية.

.....

.....

.....

.....

.....

3-اعتبار نتائج التعليم في دول الخليج العربية مشجعة.

.....

.....

.....

.....

.....

4-تمتع دول الخليج العربية بمعطيات سياحية عدة.

.....

.....

.....

.....

.....

السؤال الثالث:

- وضح ما يأتي.

1-مقومات الصناعة في دول الخليج العربية.

.....

.....

.....

.....

.....

2-المشاكل التي تعترض التجارة الداخلية في دول الخليج العربية.

.....

.....

.....

.....

.....

3-العوامل التي تعطي دول الخليج العربية أهمية استراتيجية كبرى.

.....

.....

.....

.....

.....

4-مميزات حقول النفط في دول الخليج العربية.

.....

.....

.....

.....

.....

السؤال الرابع:  
من خلال الجدول الموجود أمامك صنف العبارات التالية بوضع علامة ( x ) في المكان المناسب حسب التحولات الاقتصادية في دول الخليج العربية.

العبارة	مرحلة ما قبل النفط (الربع الأول من هذا القرن)	مرحلة ما قبل الوفرة النفطية (1973-1930)	مرحلة الوفرة النفطية (1981-1973)
1.الاتجاه نحو استقطاب العاملة الوافدة للمساهمة في عملية التنمية.			
2.تعاظم الاستيراد وخصوصاً المواد الغذائية والسلع المصنعة.			
3.صيد الأسماك واستخراج اللؤلؤ على السواحل.			
4.اضطلاع القطاع العام بدور أساسي في الاقتصاد سواء في العراق الذي اختار النظام الاقتصادي الموجه أو في بقية دول التي اختارت النظام الحر.			
5.توطد الدور الاقتصادي للقطاع العام وتعاظم نمو قطاعي الخدمات والتشييد.			
6.الرعي البدوي المتنقل مع الامطار النادرة.			
7.تقدم قطاع الخدمات والتشييد على القطاعات الإنتاجية الأخرى.			
8.الزراعة البسيطة الضيقة المحصورة في القرى والواحات.			

انتهت الاسئلة

مملكة البحرين  
وزارة التربية والتعليم  
إدارة الامتحانات / قسم الامتحانات

**امتحان نهاية الفصل الدراسي الأول للتعليم الثانوي للعام الدراسي 2016/2017 م**

المسار: توحيد المسارات (المكفوفين)

الزمن: ساعة ونصف

اسم المقرر: جغرافية الخليج العربي

رمز المقرر: أجا 221

( 24 علامة )

**السؤال الأول:**

-ضع دائرة حول رمز الإجابة الصحيحة من البدائل التالية.

1-تنتمي مناخات دول الخليج العربية الى فئة المناخات.

أ. الاستوائية.

ب. المعتدلة الدفيئة.

ج. المدارية الحارة الرطبة.

د. المدارية الحارة الجافة وشبه الجافة.

2-الدولة الخليجية التي ترتفع فيها الكثافة السكانية هي.

أ. مملكة البحرين.

ب. سلطنة عمان.

ج. قطر.

د. المملكة العربية السعودية.

3-جميع ما ذكر من مجالات التنمية الصحية لدول الخليج العربية ما عدا.

أ. نتائج إيجابية في مجال العناية الصحية.

ب. نتائج إيجابية في القطاعات المساعدة للتنمية الصحية.

ج. اهتمام كبير بالغذاء.

د. السياسات الصحية.

4-المرحلة التي تميزت بصيد الأسماك واستخراج اللؤلؤ على سواحل الخليج العربي من مراحل تحولات الاقتصاد هي.

أ. ما قبل الوفرة النفطية (1930-1973).

ب. ما قبل النفط (الربع الأول من هذا القرن).

ج. الوفرة النفطية (1973-1981).

د. تراجع العائدات النفطية (1982).

5-قامت نواة صناعية في معظم دول الخليج العربية مطلع السبعينات من بينها دولة.

أ. الكويت.

ب. قطر.

ج. عمان.

د. الإمارات العربية المتحدة.

6-نوع من السياحة يشمل زيارة الأماكن الطبيعية والأماكن الأثرية هي السياحة.

أ. الترفيهية.

ب. الطبية (العلاجية).

ج. رجال الأعمال.

د. دراسية.

7-نشاط اقتصادي مارسه سكان دول الخليج العربية في مرحلة ما قبل النفط.

أ. المنتجات المعدنية المصنعة.

ب. الصناعات الغذائية.

ج. استخراج اللؤلؤ.

د. صناعة الورق.

8-دولتان خليجيتان تملكان مياه طبيعية متجددة تسمح لهما بتجاوز خط الفقر المائي هما.

أ. العراق والمملكة العربية السعودية.

ب. العراق وسلطنة عمان.

ج. الكويت وقطر.

د. المملكة العربية السعودية وسلطنة عمان.

( 24 علامة )

**السؤال الثاني:**

-علل ما يأتي.

1- أهمية دول الخليج العربية الاستراتيجية.

2- انخفاض تأثير الخليج العربي والبحر الأحمر في تلطيف الحرارة ومسبب للأمطار.

3- ارتفاع كلفة الإنتاج الزراعي في دول الخليج العربية.

4- ضعف تصريف المنتجات المصنعة محلياً في دول الخليج العربية.

**السؤال الثالث :**

وضح ما يأتي.

1- الأسباب التي تحد من فعالية الأمطار من الناحيتين الهيدرولوجية والبيولوجية.

2- مميزات الحقول النفطية في دول الخليج العربية.

### 3- أهداف المجتمعات الصناعية.

### 4- مشاكل التجارة الداخلية لدول الخليج العربية.

(26 علامة)

السؤال الرابع :

-أولاً: أكمل الجدول التالي بما يناسبه.

المثال	العبارة
	أكبر حقل نفطي يوجد بالمملكة العربية السعودية.
	دولة خليجية تضاعف عدد سكانها أربع مرات بين سنتي 1990-2012م.
	تلقت المرأة في دول الخليج العربية اهتماماً ملحوظاً على الصعيد الصحي.
	مضيق يمثل منطقة استراتيجية مهمة لكونه ممراً بحرياً مهماً لجميع دول الخليج العربية.
	مقوم من مقومات الصناعة في دول الخليج العربية.
	نشطت صناعة استخراج النحاس والكروميت.
	تقتصر وجود المياه السطحية (الأنهار) في دول الخليج العربية في دولة.

ثانياً: صنف العناصر الآتية حسب الجدول التالي.

-الدولة تبني الاقتصاد وتقوده:

- عمدت الحكومات الى الاستثمار المباشر في مشروعات اقتصادية في مختلف القطاعات.
- شكل الانفاق الحكومي بصورة دائمة العامل الأكبر في تنشيط الاقتصاد.

- تملك وتدير الدولة المشروعات الكبرى بمشاركات أجنبية.
- طلب الدولة على منتوجات وخدمات معينة ومن أهم الأمثلة قطاع التشييد.

#### -المصارف:

- هي المصارف الأكثر انتشاراً تتلقى الودائع المالية من المقيمين والاجانب.
- أنشأ القطاع العام أكثرها بغية تسليف القطاعات الاقتصادية الإنتاجية (صناعية وزراعية).
- يوجد في الدولة مصارف وطنية يملكها القطاع الخاص أو القطاع العام التابع للدولة.
- نشاطاتها تتطلب بطبيعتها قروضاً بأرباح متدنية وطويلة الأجل.

#### -التسويق:

- يكون بالاحتكاك المباشر بين المنتج والمستهلك.
- يجري في الخليج من خلال المعارض الموسمية أو الأسواق الأسبوعية.
- أكثر شيوعاً في دول الخليج العربية وفي العالم.
- يقوم على توجيه المستهلك الى المحلات التجارية المتعددة الأنواع لشراء حاجاته.

الدولة المستثمرة	الدولة المستهلكة
.....	.....
.....	.....
المصارف المتخصصة	المصارف التجارية
.....	.....
.....	.....
التسويق عن طريق التجار الوسيطاء	التسويق المباشر
.....	.....
.....	.....

انتهت الاسئلة