

نموذج امتحان نهاية الفصل الثاني مقرر بدن 311



تم تحميل هذا الملف من موقع مناهج مملكة البحرين

موقع المناهج ← مناهج مملكة البحرين ← الصف الثالث الثانوي ← بدن ← الفصل الثاني ← ملفات متنوعة ← الملف

تاريخ إضافة الملف على موقع المناهج: 13:08:43 2025-05-19

ملفات اكتب للمعلم اكتب للطالب ا اختبارات الكترونية ا اختبارات ا حلول ا عروض بوربوينت ا أوراق عمل
منهج انجليزي ا ملخصات وتقارير ا مذكرات وبنوك ا الامتحان النهائي للمدرس

المزيد من مادة
بدن:

التواصل الاجتماعي بحسب الصف الثالث الثانوي



صفحة مناهج مملكة
البحرين على
فيسبوك

الرياضيات

اللغة الانجليزية

اللغة العربية

التربية الاسلامية

المواد على تلغرام

المزيد من الملفات بحسب الصف الثالث الثانوي والمادة بدن في الفصل الثاني

نموذج إجابة امتحان نهاية الفصل الثاني	1
امتحان نهاية الفصل الثاني	2
امتحان نهاية الدور الثاني	3
امتحان نهاية الدور الثالث كرة القدم 311 كرة القدم	4
امتحان نهاية الفصل الثاني بدن 311 كرة القدم	5

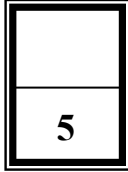
مملكة البحرين
وزارة التربية والتعليم
إدارة الامتحانات / قسم الامتحانات المركزية

امتحان نهاية الفصل الدراسي الثاني للتعليم الثانوي للعام الدراسي 2023/2022م

المسار: توحيد المسارات
الزمن: ساعة ونصف

اسم المقرر: كرة القدم
رمز المقرر: بدن 311

أجب عن جميع الأسئلة الآتية

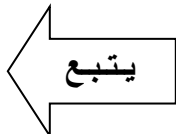


0.5

السؤال الأول :

ضع علامة (√) أمام العبارة الصحيحة و (X) أمام العبارة الخاطئة فيما يلي:

1. () تستخدم مهارة ضرب الكرة بالرأس لقطع الكرات المنخفضة.
2. () تقام بطولة كأس العالم كل 4 سنوات.
3. () نشأت كرة القدم في دربي بإنجلترا 211 م.
4. () يجب أن تكون الكرة غير ثابتة عند لعب الركلات الحرة المباشرة وغير المباشرة.
5. () تعتبر واقيات الساقين من معدات اللاعبين الأساسية.
6. () لا يجوز أن تزيد فترة الراحة بين الشوطين عن 15 دقيقة.
7. () يمكن احتساب الهدف إذا دخلت الكرة مباشرة للمرمى من خلال رمية التماس.
8. () يتم تحديد ميدان اللعب بخطوط لا يزيد عرضها عن 5 بوصة.
9. () يطلق على كرة القدم في إنجلترا (سوكير Soccer) .
10. () لا يمكن تسجيل هدف مباشرة من ركلة البداية.



السؤال الثاني:

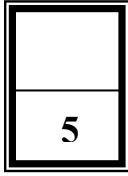
0.5

5

ضع دائرة حول رمز الإجابة الصحيحة:

1. تأسس الاتحاد الدولي لكرة القدم سنة:
 - أ. 1905 م
 - ب. 1904 م
 - ج. 1903 م
2. عندما يترك اللاعب ميدان اللعب عن عمد دون إذن الحكم فإن هذه المخالفة تستوجب:
 - أ. ركلة جزاء
 - ب. الطرد
 - ج. الإنذار
3. يطلق على الاتحاد الدولي لكرة القدم:
 - أ. FIFA
 - ب. FIBA
 - ج. IHF
4. جميعها تعتبر من طرق اللعب في كرة القدم ما عدا:
 - أ. (3/2/4)
 - ب. (3/3/4)
 - ج. (2/4/4)
5. عند ضرب أو محاولة ضرب الخصم يحتسب الحكم:
 - أ. ركلة جزاء
 - ب. ركلة حرة غير مباشرة
 - ج. ركلة حرة مباشرة
6. عندما يعيق اللاعب تقدم الخصم يحتسب الحكم:
 - أ. ركلة ركنية
 - ب. ركلة حرة غير مباشرة
 - ج. ركلة حرة مباشرة
7. عند تلقي الإنذار الثاني في نفس المباراة فإن هذه المخالفة تستوجب:
 - أ. الطرد.
 - ب. الإنذار
 - ج. جميع ما ذكر صحيح
8. أقيمت أول بطولة لكأس العالم سنة 1930م في :
 - أ. البرازيل
 - ب - الأرجنتين
 - ج - الأرجواي
9. لا يمكن بدء المباراة إذا كان عدد أحد الفريقين يقل عن:
 - أ. (10 لاعبين)
 - ب. (7 لاعبين)
 - ج. (8 لاعبين)
10. جميعها تعتبر من طرق استئناف اللعب ما عدا:
 - أ. ركلة المرمى
 - ب. الركلة الركنية
 - ج. ركلة الجزاء

يتبع



0.5

السؤال الثالث:

أولاً: املأ الجدول أدناه بما هو مناسب:

(التصويب بوجه القدم الأمامي - التصويب بالرأس - السيطرة على الكرة - التمرير بوجه القدم الخارجي - التمرير بوجه القدم الداخلي - التمرير بباطن القدم)

المهارة	الحالات	
	تستخدم في حالات لعب الكرات العالية	1
	لا يمكن للاعب أداء أي مهارة أخرى ما لم يتمكن من إتقان مهارة	2
	يستخدم هذا النوع في التمريرات القصيرة	3
	يعتبر من أقوى أنواع التصويب	4
	يستخدم هذا النوع لإتمام التمريرات الطويلة، وكذلك يمكن استخدامه في التهديف من مسافات بعيدة	5

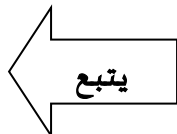
ثانياً: في ضوء دراستك للمقرر، أجب عما يلي:

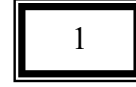
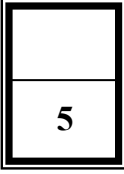
أ. اذكر أنواع الخداع في كرة القدم؟

1.
2.
3.

ب. اذكر نوعين من أنواع امتصاص كرة القدم؟

1.
2.





السؤال الرابع:


اكتب أسم المهارة المناسبة أسفل الصور الآتية:




السيطرة على الكرة.....




الجري بالكرة.....



الجري بالكرة.....



.....



السيطرة على الكرة.....

انتهت الاسئلة
تمنياتنا لكم بالتوفيق