

## نموذج امتحان نهاية الفصل الثاني



### تم تحميل هذا الملف من موقع مناهج مملكة البحرين

موقع المناهج ← مناهج مملكة البحرين ← الصف الثالث الثانوي ← بدن ← الفصل الثاني ← ملفات متنوعة ← الملف

تاريخ إضافة الملف على موقع المناهج: 13:12:26 2025-05-19

ملفات اكتب للمعلم اكتب للطالب ا اختبارات الكترونية ا اختبارات ا حلول ا عروض بوربوينت ا أوراق عمل  
منهج انجليزي ا ملخصات وتقارير ا مذكرات وبنوك ا الامتحان النهائي للمدرس

المزيد من مادة  
بدن:

### التواصل الاجتماعي بحسب الصف الثالث الثانوي



صفحة مناهج مملكة  
البحرين على  
فيسبوك

الرياضيات

اللغة الانجليزية

اللغة العربية

التربية الاسلامية

المواد على تلغرام

### المزيد من الملفات بحسب الصف الثالث الثانوي والمادة بدن في الفصل الثاني

|   |   |
|---|---|
| امتحان نهاية الدور الثاني مقرر بدن 311                | 1 |
| نموذج الإجابة لامتحان نهاية الفصل الثاني مقرر بدن 311 | 2 |
| نموذج امتحان نهاية الفصل الثاني مقرر بدن 311          | 3 |
| نموذج إجابة امتحان نهاية الفصل الثاني                 | 4 |
| امتحان نهاية الفصل الثاني                             | 5 |

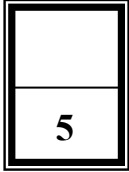
مملكة البحرين  
وزارة التربية والتعليم  
إدارة الامتحانات / قسم الامتحانات المركزية

امتحان نهاية الفصل الدراسي الثاني للتعليم الثانوي للعام الدراسي 2023/2022م

المسار: المكفوفين  
الزمن: ساعة ونصف

اسم المقرر: كرة القدم  
رمز المقرر: بدن 311

أجب عن جميع الأسئلة الآتية

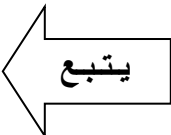


0.5

السؤال الأول :

ضع علامة ( √ ) أمام العبارة الصحيحة و ( X ) أمام العبارة الخاطئة فيما يلي:

1. ( ) أقيمت أول بطولة لكأس العالم في الأورجواي.
2. ( ) لا يمكن تسجيل هدف مباشرة من ركلة البداية.
3. ( ) تأسس الاتحاد الدولي لكرة القدم سنة 1904م.
4. ( ) يمكن أن تزيد فترة الراحة بين الشوطين عن 30 دقيقة.
5. ( ) يتم لعب الركلة الحرة المباشرة وغير المباشرة من المكان الذي حدثت فيه المخالفة.
6. ( ) الفريق الذي يفوز بالقرعة يختار المرمى الذي سيقوم بمهاجمته في الشوط الأول.
7. ( ) يمكن احتساب الهدف إذا دخلت الكرة مباشرة للمرمى من خلال رمية التماس.
8. ( ) نشأت كرة القدم في دربي بإنجلترا 211 م.
9. ( ) تستخدم مهارة ضرب الكرة بالرأس لقطع الكرات العالية.
10. ( ) يعتبر التصويب بوجه القدم الخارجي من أقوى أنواع التصويب



## السؤال الثاني:

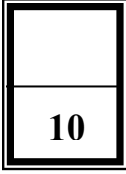
0.5

5

### ضع دائرة حول رمز الإجابة الصحيحة:

1. يتم تحديد ميدان اللعب بخطوط لا يزيد عرضها عن .....:
  - أ. 4 بوصة
  - ب. 5 بوصة
  - ج. 6 بوصة
2. هي الوسيلة التي تجعل المنافس يتوقع حركة اللاعب المستحوذ على الكرة توقعاً خاطئاً:
  - أ. الخداع
  - ب. التمرير
  - ج. التصويب
3. لا يمكن بدء المباراة إذا كان عدد أحد الفريقين يقل عن:
  - أ. (10 لاعبين)
  - ب. (7 لاعبين)
  - ج. (8 لاعبين)
4. مهارة ضرب الكرة بالرأس تستخدم لمحاولة قطع الكرات:
  - أ. المنخفضة
  - ب. المتوسطة
  - ج. العالية
5. من أكثر أنواع التمرير شيوعاً، ويستخدم هذا النوع في التمريرات القصيرة:
  - أ. التمرير بالرأس
  - ب. التمرير بوجه القدم
  - ج. التمرير بباطن القدم
6. عند ضرب أو محاولة ضرب الخصم يحتسب الحكم:
  - أ. ركلة ركنية
  - ب. ركلة حرة مباشرة
  - ج. ركلة حرة غير مباشرة
7. عند تلقي الإنذار الثاني في نفس المباراة فإن هذه المخالفة تستوجب:
  - أ. الإنذار.
  - ب. الطرد
  - ج. جميع ما ذكر
8. لا يمكن للاعب أداء أي مهارة أخرى ما لم يتمكن من إتقان مهارة:
  - أ. السيطرة على الكرة
  - ب. ضرب الكرة بالرأس
  - ج. الخداع
9. يطلق على الاتحاد الدولي لكرة القدم:
  - أ. FIFA
  - ب. FIBA
  - ج. IHF
10. تقام بطولة كأس العالم كل .....:
  - أ. 3 سنوات
  - ب. 4 سنوات
  - ج. 5 سنوات

يتبع



السؤال الثالث:

في ضوء دراستك للمقرر، أجب عما يلي:

أ. اذكر أنواع الخداع في كرة القدم:

1. ....
2. ....
3. ....

ب. اذكر نوعين من أنواع امتصاص كرة القدم:

1. ....
2. ....

ت. اذكر أنواع السيطرة على الكرة:

1. ....
2. ....
3. ....

ث. اذكر أنواع اللعب الجماعي في كرة القدم:

1. ....
2. ....

انتهت الاسئلة  
تمنياتنا لكم بالتوفيق