

## امتحان نهاية الدور الثالث كرة القدم 311 كرة القدم



### تم تحميل هذا الملف من موقع مناهج مملكة البحرين

موقع المناهج ← مناهج مملكة البحرين ← الصف الثالث الثانوي ← بدن ← الفصل الثاني ← ملفات متنوعة ← الملف

تاريخ إضافة الملف على موقع المناهج: 2025-05-19 12:40:00

ملفات اكتب للمعلم اكتب للطالب ا اختبارات الكترونية ا اختبارات ا حلول ا عروض بوربوينت ا أوراق عمل  
منهج انجليزي ا ملخصات وتقارير ا مذكرات وبنوك ا الامتحان النهائي للمدرس

المزيد من مادة  
بدن:

### التواصل الاجتماعي بحسب الصف الثالث الثانوي



صفحة مناهج مملكة  
البحرين على  
فيسبوك

الرياضيات

اللغة الانجليزية

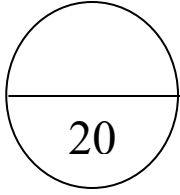
اللغة العربية

التربية الاسلامية

المواد على تلغرام

### المزيد من الملفات بحسب الصف الثالث الثانوي والمادة بدن في الفصل الثاني

امتحان نهاية الفصل الثاني بدن 311 كرة القدم	1
امتحان نهاية الفصل الثاني بدن 311 كرة القدم	2
إجابة امتحان نهاية الفصل الثاني بدن 311 كرة القدم	3
نموذج إجابة امتحان نهاية الفصل الثاني	4
نموذج امتحان نهاية الفصل الثاني	5



## الاجابة النموذجية

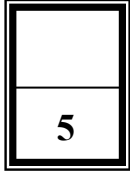
مملكة البحرين  
وزارة التربية والتعليم  
إدارة الامتحانات / قسم الامتحانات المركزية

### امتحان الدور الثالث للتعليم الثانوي للعام الدراسي 2023/2022م

المسار: توحيد المسارات  
الزمن: ساعة ونصف

اسم المقرر: كرة القدم  
رمز المقرر: بدن 311

### أجب عن جميع الأسئلة الآتية



0.5

### السؤال الأول :

ضع علامة ( √ ) أمام العبارة الصحيحة و ( X ) أمام العبارة الخاطئة فيما يلي:

1. ( X ) تستخدم مهارة تمرير الكرة بباطن القدم في حالات لعب الكرات العالية.
2. ( √ ) يطلق على كرة القدم في إنجلترا ( سوكير Soccer ) .
3. ( X ) تمنح رمية التماس عندما تجتاز الكرة بكاملها خط المرمى.
4. ( √ ) يطلق على الاتحاد الدولي لكرة القدم FIFA.
5. ( X ) أقيمت أول بطولة لكأس العالم سنة 1930م في البرازيل.
6. ( √ ) يتم تحديد ميدان اللعب بخطوط لا يزيد عرضها عن 5 بوصة.
7. ( X ) تستخدم مهارة ضرب الكرة بالرأس لقطع الكرات المنخفضة.
8. ( √ ) يمكن تسجيل هدف مباشرة من ركلة البداية.
9. ( √ ) تقام بطولة كأس العالم كل 4 سنوات.
10. ( X ) يمكن بدء المباراة إذا كان عدد أحد الفريقين يبلغ 5 لاعبين.

يتبع

## السؤال الثاني:

1

10

أولاً: ضع دائرة حول رمز الإجابة الصحيحة:

1. عندما يترك اللاعب ميدان اللعب عن عمد دون إذن الحكم فإن هذه المخالفة تستوجب:
  - أ. ركلة حرة
  - ب. الإنذار
  - ج. الطرد
2. جميعها تعتبر من طرق استئناف اللعب ما عدا:
  - أ. ركلة الجزاء
  - ب. ركلة المرمى
  - ج. رمية التماس
3. عند تلقي الإنذار الثاني في نفس المباراة فإن هذه المخالفة تستوجب:
  - أ. الطرد.
  - ب. الإنذار
  - ج. جميع ما ذكر صحيح
4. تعتبر ..... من معدات اللاعبين الأساسية:
  - أ. القبعات
  - ب. القفازات
  - ج. واقيات الساقين
5. هي الوسيلة التي تجعل المنافس يتوقع حركة اللاعب المستحوذ على الكرة توقعاً خاطئاً:
  - أ. رمية التماس
  - ب. الخداع
  - ج. التمرير

ثانياً: في ضوء دراستك للمقرر، أجب عما يلي:

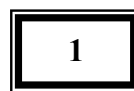
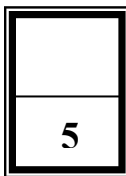
أ. اذكر أنواع الجري بالكرة:

1. الجري بالكرة بوجه القدم الداخلي.
2. الجري بالكرة بوجه القدم الخارجي.
3. الجري بالكرة بوجه القدم الأمامي.

ب. اذكر نوعين من أنواع امتصاص كرة القدم:

1. امتصاص الكرة بمشط القدم.
2. امتصاص الكرة بالصدر.
3. امتصاص الكرة بالفخذ.

يتبع



### السؤال الثالث:

املاً جدول الصور الموجود امامك بما هو مناسب:

المهارة	الصور	
<u>ضرب الكرة بالرأس</u>		1
<u>التصويب بوجه القدم الامامي</u>		2
<u>السيطرة على الكرة بأسفل القدم</u>		3
<u>التمرير بوجه القدم الخارجي</u>		4
<u>السيطرة على الكرة بباطن القدم</u>		5

انتهت الاجابة