

نماذج إجابة امتحان نهاية الفصل الأول مقرر أجا 221



تم تحميل هذا الملف من موقع مناهج مملكة البحرين

موقع المناهج ← مناهج مملكة البحرين ← الصف الثالث الثانوي ← جغرافيا ← الفصل الأول ← ملفات متنوعة ← الملف

تاريخ إضافة الملف على موقع المناهج: 2025-12-29 15:21:15

ملفات اكتب للمعلم اكتب للطالب | اختبارات الكترونية | اختبارات | حلول | عروض بوربوينت | أوراق عمل
منهج انجليزي | ملخصات وتقارير | مذكرات وبنوك | الامتحان النهائي | للمدرس

المزيد من مادة
جغرافيا:

التواصل الاجتماعي بحسب الصف الثالث الثانوي



صفحة مناهج مملكة
البحرين على
فيسبوك

الرياضيات

اللغة الانجليزية

اللغة العربية

التربية الاسلامية

المواد على تلغرام

المزيد من الملفات بحسب الصف الثالث الثانوي والمادة جغرافيا في الفصل الأول

ملخص مقرر جغرافيا الخليج العربي

1

ملخص أجا 312 الشامل

2

شرح درس النمو الطبيعي للسكان

3

مراجعة عامة للتطبيق الشامل الجغرافيا السكانية مقرر أجا 312

4

ورقة عمل ونشاط بعنوان اهم الموارد المعدنية في الوطن العربي مقرر أجا 211

5

الإجابة النموذجية

مملكة البحرين

وزارة التربية والتعليم

قسم الامتحانات الداخلية

إجابة امتحان نهاية الفصل الدراسي الأول للتعليم الثانوي للعام الدراسي 2025/2024م

المسار: توحيد المسارات

الزمن: ساعة ونصف

اسم المقرر: جغرافية دول الخليج العربية

رمز المقرر: أجا 221

السؤال الأول: (12 علامة)

6 علامات/ لكل نقطة علامة

أولاً: ضع دائرة حول رمز الإجابة الصحيحة من بين البدائل التالية:

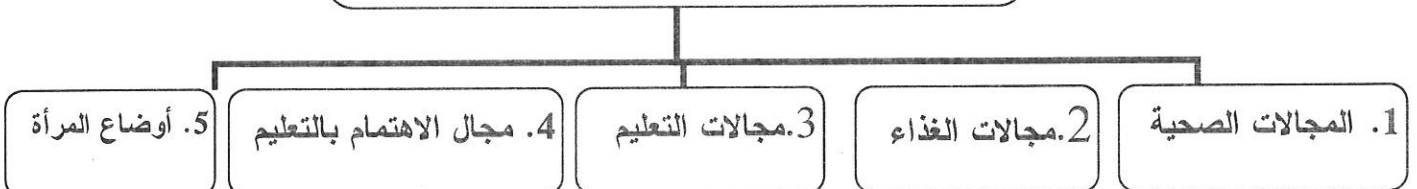
1. مضيق يمثل منطقة استراتيجية مهمة لكونه ممراً بحرياً لجميع دول الخليج العربية هو:
 - ج. مضيق هرمز
2. صحراء تقع في المملكة العربية السعودية وتعتبر أكبر المسطحات الرملية في العالم هي:
 - د. الربع الخالي
3. المرحلة التي بدأت بسيطرة دول الخليج العربية على مواردها النفطية وعائداتها المالية هي:
 - د. الوفرة النفطية
4. جميعها من خصائص مناخات دول الخليج العربية ما عدا:
 - ب. قلة التبخر
5. تتميز دول الخليج العربية بمعدل خصوبة:
 - د. مرتفع
6. مصارف مهمتها إصدار العملة الوطنية ومراقبة تداولها هي:
 - ج. المصارف المركزية

6 علامات/ لكل نقطة

علامتين / يكتفى بثلاث نقاط

ثانياً: أكمل المخطط التالي الذي يبين مجالات التنمية البشرية في دول الخليج العربية:

مجالات التنمية البشرية في دول الخليج العربية



السؤال الثاني: (18 علامة)**وضح ما يأتي:****1. أهداف المبادرة الوطنية التي أطلقتها مملكة البحرين لتحقيق الاكتفاء الغذائي.****6 علامات / لكل نقطة علامتين / يكتفى بثلاث نقاط**

- مضاعفة الإنتاج الزراعي.
- تخصيص إحدى الحدائق العامة في البحرين لعرض منتجات المزارعين سمي ((سوق المزارعين)) الذي تطور ليصبح سوق دائمة في هورة عالي.
- تسهيل وصول المزارعين للأسواق وحصولهم على الفرص التسويقية.
- تيسير الحصول على المعلومات عن الأسواق والاحتياجات من الأغذية.
- دعم مدخلات الإنتاج والتوسع في الزراعات الحديثة وبخاصة الزراعة المحمية بدون تربة للحفاظ على البيئة ومواردها المحدودة.
- زيادة الأبحاث الزراعية، والتركيز على الابتكار وزيادة الإنتاجية الزراعية، وتعزيز القدرة على التكيف مع تغير المناخ ومواجهة أحوال الطقس المتطرفة وحالات الجفاف والفيضانات.
- استخدام التقنيات الزراعية الحديثة.

2. مقومات الصناعة في دول الخليج العربية.**4 علامات / لكل نقطة علامتين / يكتفى بنقطتين**

- تنوع المواد الأولية.
- توافر الطاقة.
- استثمار الرساميل.

3. مميزات المرحلة الثالثة (1973-1980م) لتطورات السوق النفطية العالمية.**4 علامات / لكل نقطة علامتين / يكتفى بنقطتين**

- سيطرة الدول المنتجة على السوق النفطية عن طريق رفع أسعار النفط.
- سيطرة دول الخليج العربية على نفطها تمامًا.
- ارتفاع عائدات النفط المالية بنسبة كبيرة في دول الخليج العربية مما دعم اقتصادها.
- دخول الصناعات الغربية في أزمة اقتصادية.
- إدراك العالم لأهمية دور النفط كسلاح استراتيجي.

4 علامات / لكل نقطة علامتين / يكتفى بنقطتين**4. مظاهر تطور القطاع السياحي في دول الخليج العربية.**

- ارتفاع عدد الفنادق.
- تطور عدد السياح الوافدين.
- تطور مساهمة السياحة في إجمالي الناتج المحلي.

السؤال الثالث: (14 علامة)

أولاً: علل ما يأتي: (8 علامات)

1. اكتسبت دول الخليج العربية ثقلاً جيوسياسياً مهماً في الوطن العربي والعالم الإسلامي.

- العون الإنمائي والعسكري الذي تقدمه دول الخليج العربية للدول العربية المحتاجة.
- التوسط لفض العديد من النزاعات بالوطن العربي بالوسائل السلمية.
- النشاط البارز الذي تلعبه دول الخليج العربية وخصوصاً المملكة العربية السعودية في منظمة التعاون الإسلامي.
- تعزيز العلاقات المباشرة السياسية والاقتصادية مع الدول الإسلامية.

4 علامات / لكل نقطة
علامتين / يكتفى
بنقطتين

2. ارتفاع كلفة الإنتاج الزراعي في دول الخليج العربية.

- كثير من لوازم الزراعة من مواد ومعدات واسمدة وبذور تستورد من الخارج.
- معظم اليد العاملة الزراعية من الأجانب.

علامتين / يكتفى بنقطة

3. تتميز دول الخليج العربية بانخفاض تكاليف تسويق النفط.

- قرب حقول النفط في دول الخليج العربية من مرافئ التصدير.
- موقع دول الخليج العربي الواسطي بين دول العالم المستهلك.

علامتين / يكتفى بنقطة

ثانياً: أقرأ المستند الذي يمثل معدل النمو السكاني في دول الخليج العربية، ثم أجب عن الأسئلة التي تليه: (6)

(علامات)

1. أذكر الدول التي يترفع فيها معدل النمو السكاني عن المعدل العام لدول الخليج العربية.

- المملكة العربية السعودية_ سلطنة عمان_ مملكة البحرين -دولة قطر.

علامتين

2. ما هي الدولة التي سجلت أقل معدل نمو سكاني؟

- الإمارات العربية المتحدة.

3. برأيك، لماذا ترتفع معدلات النمو السكاني في دول الخليج العربية

علامتين

- ارتفاع نسبة الولادات/ انخفاض نسبة الوفيات / إي إجابة منطقية من الطالب.

السؤال الرابع: (16 علامة)

أولاً: صنف المعطيات الآتية الجدول أدناه:

8 علامات / لكل نقطة علامة

التأثيرات القارية	تأثيرات التضاريس
<ul style="list-style-type: none"> - يصل تأثيرها إلى دول الخليج العربية في الشتاء على شكل رياح باردة وجافة. - تتمثل في ارتفاع الفروقات الحرارية اليومية والفصلية. 	<ul style="list-style-type: none"> - تتسبب بانخفاض حرارة الأجواء بمعدل 6 درجات مئوية مع كل علو يبلغ 1000 متر. - تسبب بتساقط كميات أوفر من الأمطار فوق السفوح المواجهة للرياح الرطبة.
جبال ظفار	الجبال الشمالية - الشرقية
<ul style="list-style-type: none"> - تتكون من طبقات من الصخور الكلسية. - تشرف على ساحل ضيق تكثر فيه السبخات والمستنقعات. 	<ul style="list-style-type: none"> - تعادل مساحتها 5% من مساحة الدولة. - هي جزء من جبال زاغروس الالتوائية.

ثانياً: ضع في الجدول التالي مدلولات الأرقام المثبتة على خريطة العالم الصماء: 8 علامات / لكل نقطة علامتين

العبارة	الرقم	مدلول الرقم على الخريطة
مسطحات مائية	1	البحر الأحمر
	2	الخليج العربي
دول خليجية	3	المملكة العربية السعودية.
	4	الكويت

انتهت الإجابة

مملكة البحرين

وزارة التربية والتعليم

قسم الامتحانات الداخلية

الإجابة النموذجية

إجابة امتحان نهاية الفصل الدراسي الأول للتعليم الثانوي للعام الدراسي 2025/2024م

المسار: مكفوفين

الزمن: ساعة ونصف

اسم المقرر: جغرافية دول الخليج العربية

رمز المقرر: أجا 221

السؤال الأول: (14 علامة)

أولاً: ضع دائرة حول رمز الإجابة الصحيحة من بين البدائل التالية: (7 علامات) 7 علامات / لكل نقطة علامة

1. مضيق يمثل منطقة استراتيجية مهمة لكونه ممراً بحرياً لجميع دول الخليج العربية هو:
ج. مضيق هرمز
2. صحراء تقع في المملكة العربية السعودية تعتبر أكبر المسطحات الرملية في العالم هي:
أ. الربع الخالي
3. المرحلة التي بدأت بسيطرة دول الخليج العربية على مواردها النفطية وعاداتها المالية هي:
د. الوفرة النفطية
4. جميعها من خصائص مناخات دول الخليج العربية ما عدا:
ب. قلة التبخر
5. تتميز دول الخليج العربية بمعدل خصوبة:
د. مرتفع
6. مصارف مهمتها إصدار العملة الوطنية ومراقبة تداولها هي:
ج. المصارف المركزية
7. سيطرت على السوق النفطية العالمية حتى عام 1973م سبع شركات كبرت تسمى:
أ. الكارتل الدولي

ثانياً: ضع علامة (✓) أمام الإجابة الصحيحة وعلامة (X) أمام الإجابة الخاطئة فيما يأتي: (7 علامات)

1. جزر الخليج العربي كثيرة وصغيرة وتتميز بعرق شواطئها نسبياً. (✓) 7 علامات / لكل نقطة علامة
2. يتألف سطح البحرين من خمسة وحدات طبيعية ببيضاوية الشكل. (X)
3. تتميز دول الخليج العربية بمستوى تحضر منخفض. (X)
4. يعتبر إسهام القطاع الخاص في التنمية الاقتصادية ضئيلاً في دول الخليج العربية. (✓)
5. يحتل إنتاج الحبوب المرتبة الأولى بالنسبة إلى الإنتاج الزراعي بدول الخليج العربية. (✓)
6. تحتل دول الخليج العربية المرتبة العشرين في إجمالي التبادل التجاري العالمي سنة 2014م. (X)
7. يمر مدار السرطان في القسم الجنوبي لدول الخليج العربية. (✓)

السؤال الثاني: (12 علامة)

علل ما يأتي:

4 علامات/ لكل

نقطة علامتين/

يكتفى بنقطتين

1. اكتسبت دول الخليج العربية ثقلاً جيوسياسياً مهماً في الوطن العربي والعالم الإسلامي.
 - العون الإنمائي والعسكري الذي تقدمه دول الخليج العربية للدول العربية المحتاجة.
 - التوسط لفض العديد من النزاعات بالوطن العربي بالوسائل السلمية.
 - النشاط البارز الذي تلعبه دول الخليج العربية وخصوصاً المملكة العربية السعودية في منظمة التعاون الإسلامي.
 - تعزيز العلاقات المباشرة السياسية والاقتصادية مع الدول الإسلامية.

2. تتلقى المرأة في دول الخليج العربية اهتماماً ملحوظاً من قبل الحكومة والمجتمع على حد سواء.

علامتين

- إدراكاً لتأثير المرأة ودورها المنتج في إعداد الأسرة وفي مختلف مجالات الحياة العامة الاجتماعية والاقتصادية والثقافية.

3 علامات/ يكتفى بنقطة

3. ارتفاع كلفة الإنتاج الزراعي في دول الخليج العربية.

- كثير من لوازم الزراعة من مواد ومعدات واسمدة وبذور تستورد من الخارج.
- معظم اليد العاملة الزراعية من الأجانب.

3 علامات / يكتفى بنقطة

4. تتميز دول الخليج العربية بانخفاض تكاليف تسويق النفط.

- قرب حقول النفط في دول الخليج العربية من مرافئ التصدير.
- موقع دول الخليج العربي لوسطي بين دول العالم المستهلك.

السؤال الثالث: (18 علامة)**وضح ما يأتي:****1. أهداف المبادرة الوطنية التي أطلقتها مملكة البحرين لتنمية القطاع الزراعي.****6 علامات / لكل نقطة علامتين / يكتفى بثلاث نقاط**

- مضاعفة الإنتاج الزراعي.
- تخصيص إحدى الحدائق العامة في البحرين لعرض منتجات المزارعين سمي ((سوق المزارعين)) الذي تطور ليصبح سوق دائمة في هورة عالي.
- تسهيل وصول المزارعين للأسواق وحصولهم على الفرص التسويقية.
- تيسير الحصول على المعلومات عن الأسواق والاحتياجات من الأغذية.
- دعم مدخلات الإنتاج والتوسع في الزراعات الحديثة وبخاصة الزراعة المحمية بدون تربة للحفاظ على البيئة ومواردها المحدودة.
- زيادة الأبحاث الزراعية، والتركيز على الابتكار وزيادة الإنتاجية الزراعية، وتعزيز القدرة على التكيف مع تغير المناخ ومواجهة أحوال الطقس المتطرفة وحالات الجفاف والفيضانات.
- استخدام التقنيات الزراعية الحديثة.

2. مقومات الصناعة في دول الخليج العربية.**4 علامات / لكل نقطة علامتين / يكتفى بنقطتين**

- تنوع المواد الأولية.
- توافر الطاقة.
- استثمار الرساميل.

3. مميزات المرحلة الثالثة (1973-1980م) من مراحل السوق النفطية العالمية.

4. سيطرة الدول المنتجة على السوق النفطية عن طريق رفع أسعار النفط.

4 علامات / لكل نقطة علامتين / يكتفى بنقطتين

- 5. سيطرة دول الخليج العربية على نفطها تمامًا.
- 6. ارتفاع عائدات النفط المالية بنسبة كبيرة في دول الخليج العربية مما دعم اقتصادها.
- 7. دخول الصناعات الغربية في أزمة اقتصادية.
- 8. إدراك العالم لأهمية دور النفط كسلاح استراتيجي.

9. مظاهر تطور القطاع السياحي في دول الخليج العربية.**4 علامات / لكل نقطة علامتين / يكتفى بنقطتين**

- ارتفاع عدد الفنادق.
- تطور عدد السياح الوافدين.
- تطور مساهمة السياحة في إجمالي الناتج المحلي.

السؤال الرابع: (16 علامة)

أولاً: صنف المعطيات الآتية الجدول أدناه: (8 علامات)

8 علامات / لكل نقطة علامة

التأثيرات القارية	تأثيرات التضاريس
<ul style="list-style-type: none"> - يصل تأثيرها إلى دول الخليج العربية في الشتاء على شكل رياح باردة وجافة. - تتمثل في ارتفاع الفروقات الحرارية اليومية والفصلية. 	<ul style="list-style-type: none"> - تتسبب بانخفاض حرارة الأجواء بمعدل 6 درجات مئوية مع كل علو يبلغ 1000 متر. - تسبب بتساقط كميات أوفر من الأمطار فوق السفوح المواجهة للرياح الرطبة.
جبال ظفار	الجبال الشمالية- الشرقية
<ul style="list-style-type: none"> - تتكون من طبقات من الصخور الكلسية. - تشرف على ساحل ضيق تكثر فيه السبخات والمستنقعات. 	<ul style="list-style-type: none"> - تعادل مساحتها 5% من مساحة الدولة. - هي جزء من جبال زاغروس الالتوائية.

ثانياً: اقرأ المستند الذي أمامك ثم اجب عن الأسئلة التي تليه: (8 علامات)

4 علامات/ لكل نقطة

علامتين / يكتفى بنقطتين

1. أذكر الأهداف الرئيسية لدول مجلس التعاون لتحقيق التكامل الاقتصادي:

- تحقيق التنسيق والتكامل والترابط بين الدول الأعضاء في جميع الميادين وصولاً إلى وحدتها.
- توثيق الروابط والصلات وأوجه التعاون القائمة بين شعوبها في مختلف المجالات.
- وضع أنظمة متماثلة في الشؤون الاقتصادية والمالية والتجارية والجمارك والمواصلات وغيرها.
- دفع عجلة التقدم العلمي والتقني في المجالات الاقتصادية وإنشاء مراكز بحوث علمية وإقامة مشاريع مشتركة وتشجيع التعاون مع القطاع الخاص.

2. على ماذا يقوم العمل التكاملي الخليجي:

- تحرير حركة عوامل الإنتاج.
- إزالة كافة التحديات التجارية.
- تنسيق السياسات الاقتصادية ومن ثم توحيدها، من خلال مراحل تجسدت في إقامة منطقة التجارة الحرة عام 1983، الاتحاد الجمركي الخليجي 2003 والسوق الخليجية المشتركة 2008.

3. برأيك، ما هي إيجابيات التكامل الاقتصادي بين دول مجلس التعاون. علامتين

- تقبل أي إجابة منطقة للطالب مثل: فتح أسواق خارجية لبضائع دول مجلس التعاون/ جذب رؤوس الأموال والاستثمارات إلى دول مجلس التعاون / جذب الشركات العالمية للاستثمار في دول مجلس التعاون/ تحقيق الرخاء الاقتصادي لسكان دول مجلس التعاون.

انتهت الإجابة

الإجابة النموذجية

مملكة البحرين

وزارة التربية والتعليم

قسم الامتحانات الداخلية

إجابة امتحان الدور الثالث للتعليم الثانوي للعام الدراسي 2024/2023 م

المسار: توحيد المسارات

اسم المقرر: جغرافية دول الخليج العربية

الزمن: ساعة ونصف

رمز المقرر: أجا 221

(16 علامة)

إجابة السؤال الاول:

أولاً: ضع دائرة حول رمز الإجابة الصحيحة من بين البدائل التالية. (12 علامة لكل نقطة علامتان)

1-جميعها من مقومات الصناعة في دول الخليج العربية ما عدا:

ج-توفر الأيدي العاملة

2-المرتبة التي تحتلها دول مجلس التعاون الخليجي في إجمالي التبادل التجاري العالمي لسنة 2014م هي:

د-الخامسة

3-جميعها من خصائص مناخات دول الخليج العربية ما عدا:

ب-قلة التبخر

4-الجبال المطلة على بحر العرب وتتكون من صخور كلسية تغيب عنها الالتواءات وتكثر فيها الانكسارات هي:

أ-جبال ظفار

5-الدولة الأولى في مساحة الأراضي المزروعة بين دول الخليج العربية هي:

ج-العراق

6-السياحة التي تتمثل بزيارة الأماكن الطبيعية والأثرية من قلاع وحصون وغيرها تسمى:

أ-الترفيهية

ثانياً: اقرأ المستند الآتي، الذي يمثل نسبة التركيب العمري لسكان دول الخليج العربية 2016م، ثم أجب عن الأسئلة

(4 علامات)

التي تليه:

(علامة)

1-استنتج المقصود بالتركيب العمري للسكان:

هو توزيع السكان حسب الفئات العمرية أو توزيع السكان حسب الأعمار (أي تعبير أو صياغة من الطالب تعبر عن المفهوم).

(علامتان)

2-ما الفئة العمرية التي تشكل النسبة الأقل من سكان دول الخليج العربية؟

فئة أكثر من 65 سنة أو فئة كبار السن.

(علامة)

3-حدد الدولة التي يوجد فيها أعلى نسبة في الفئة العمرية أقل من 15 سنة.

العراق.

إجابة السؤال الثاني:

(18 علامة)

وضح ما يأتي.

- 1- مميزات الصناعات البتروكيمياوية.
 - حاجتها إلى رساميل كبيرة.
 - استعمالها عمالة قليلة العدد وذات مهارة عالية.
 - مستوى تكنولوجي متطور.
- 2- مهام المصارف المركزية.
 - إصدار العملة الوطنية ومراقبة تداولها.
 - استعمال الاحتياطي النقدي لديه من أجل تنظيم السيولة النقدية في البلاد.
 - الدفاع عن العملة الوطنية خصوصا في وجه المضاربات.
 - مراقبة الأوضاع المصرفية والعمل على تفعيلها وتصحيح مساراتها.
- 3- الوحدات الطبيعية التي يتألف منها سطح مملكة البحرين.
 - منبسط داخلي واسع تنتثر فوقه بعض التلال وأكثرها ارتفاعا تل ((جبل الدخان)) الذي يحتل موقعا وسطا وفي أجزائه الجنوبية ينتشر عدد كبير من السبخات أبرزها سبختا الغينة والشبك.
 - شريط صخري ناتئ قليل الارتفاع يتقطع احيانا يحيط بالمنبسط الداخلي.
 - منحدرات الشريط الصخري المائلة إلى الخارج نحو السواحل وتعتبرها مجموعة من الأودية كوادي الزلاق.
 - شريط ساحلي منبسط ومنخفض يلي المنحدرات.
- 4- المؤشرات التي تعبر عن الحالة الغذائية.
 - حصة الفرد من البروتينات.
 - السعرات الحرارية.
 - إنتاج الغذاء.

إجابة السؤال الثالث:

(12 علامة)

علل ما يلي:

- 1- يكاد لا يكون هنالك تأثير للخليج العربي والبحر الأحمر في تلطيف الحرارة وهطول الأمطار.
 - لصعوبة تكون كتل هوائية خاصة بهما.
 - ارتفاع حرارة مياههما السطحية.
- 2- الزراعة في دول الخليج العربية مرتفعة الكلفة.
 - لأن الكثير من لوازمها من مواد ومعدات وأسمدة تستورد من الخارج.
 - لأن معظم اليد العاملة من الأجانب.
- 3- يعتبر النفط والغاز الطبيعي في الوقت الحاضر أهم مورد طبيعي للطاقة في العالم.
 - الوقود الأساسي للطاقة في العالم.
 - يستعمل مادة أولية في الصناعات البتروكيمياوية.

إجابة السؤال الرابع:

(14 علامة)

أولاً: صنف العبارات الآتية بوضع كل منها في مكانه المناسب من الجدول التالي. (8 علامات لكل نقطة علامة)

مرحلة تحول الاقتصاد ما قبل الوفرة النفطية (الربع الأول من القرن العشرين)	مرحلة تحول الاقتصاد ما قبل الوفرة النفطية (1930-1973م)
-صيد الأسماك واستخراج اللؤلؤ على السواحل. -تجارة مقتصرة على المدن.	-سيطرة الشركات الغربية على الثروة النفطية. -اضطلاع القطاع العام بدور أساسي في الاقتصاد.
المرحلة الرابعة للسوق النفطية العالمية (1980-1986 م)	المرحلة الثالثة للسوق النفطية العالمية (1973-1980 م)
-ترشيد استهلاك النفط. -إيجاد مصادر بديلة للنفط.	-سيطرة الدول المنتجة على السوق النفطية عن طريق رفع أسعار النفط. -سيطرة دول الخليج العربية على نفطها تماماً.

ثانياً: اكتب في الجدول التالي مدلولات الأرقام المثبتة على خريطة دول الخليج العربية.

(6 علامات لكل نقطة علامة)

مدلول الأرقام	الرقم	العنصر
مملكة البحرين	1	دولة عربية خليجية ذات كثافة سكانية مرتفعة
الخليج العربي	2	مسطح مائي
الربع الخالي	3	صحراء (أكبر المسطحات الرملية في العالم)
عُمان	4	دولة عربية خليجية
باب المندب	5	ممرات مائية
هرمز	6	

انتهت الإجابة

الإجابة النموذجية

مملكة البحرين

وزارة التربية والتعليم

قسم الامتحانات الداخلية

إجابة امتحان الدور الثاني للتعليم الثانوي للعام الدراسي ٢٠٢٣/٢٠٢٤ م

المسار: توحيد المسارات

اسم المقرر: جغرافية دول الخليج العربية

الزمن: ساعة ونصف

رمز المقرر: أجا ٢٢١

١٤ علامة

إجابة السؤال الاول:

ضع دائرة حول رمز الإجابة الصحيحة من بين البدائل التالية. (١٤ علامة لكل نقطة علامتان)

١- تبلغ المساحة الاجمالية لدول الخليج العربية حوالي ٢٨٦٠٠٠٠ كلم ٢ أي ما يعادل:

أ- ٢٢٪ من مساحة الوطن العربي

٢- تتميز دول الخليج العربية بمستوى تحضر:

ب- مرتفع

٣- مرحلة من مراحل السوق النفطية تميزت بوضع الدول الصناعية المستهلكة يدها على السوق النفطية هي:

د- المرحلة الرابعة (١٩٨٠-١٩٨٦م)

٤- جميعها من خصائص مناخات دول الخليج العربية ما عدا:

ج- انخفاض نسبة التبخر

٥- هضبة تقع شمال المملكة العربية السعودية، وإلى الشرق من المرتفعات الغربية، ويتكون سطحها من طبقة من

الصخور الرملية هي:

ب- الحسمة

٦- جميعها من المؤشرات التي تعبر عن الحالة الغذائية ما عدا:

ج- العمر المتوقع عند الولادة

٧- السياحة التي تتمثل بزيارة الأماكن الطبيعية والأثرية من قلاع وحصون وغيرها تسمى:

أ- الترفيهية

إجابة السؤال الثاني:

١٦ علامة

أولاً: وضح ما يأتي. (١٠ علامات)

- ١- مميزات حقول النفط والغاز في دول الخليج العربي. (٤ علامات لكل نقطة علامتان يكتفى بنقطتين)
 - ضخامة انتاجها / واتصال العديد منها ببعضها البعض.
 - قلة تكاليف التنقيب.
 - انخفاض تكاليف التسويق.
- ٢- مميزات الاقتصاد في دول الخليج العربي في مرحلة ما قبل النفط (الربع الأول من القرن العشرين). (٦ علامات لكل نقطة علامتان يكتفى بثلاث نقاط)
 - الزراعة البسيطة الضيقة المحصورة في القرى والواحات حيث القليل من الماء والتربة الزراعية.
 - الرعي البدوي المتنقل.
 - صيد الأسماك واستخراج اللؤلؤ على السواحل.
 - نشاطات حرفية محدودة غرضها تأمين الأدوات للاستعمال المنزلي.
 - تجارة مقتصرة على المدن.

ثانياً: اقرأ المستند المجاور، ثم أجب عن الأسئلة التي تليه: (٦ علامات)

- ١- على ماذا اشتمل المشروع الاستراتيجي للإنتاج الوطني للغذاء الذي أصدره جلالة الملك حمد بن عيسى آل خليفة ملك البلاد المعظم حفظه الله ورعاه. (علامتان)

تخصيص مواقع متعددة للاستزراع السمكي والإنتاج النباتي.
- ٢- بين أهداف المشروع الاستراتيجي للإنتاج الوطني للغذاء الذي أصدره جلالة الملك حمد بن عيسى آل خليفة ملك البلاد المعظم حفظه الله ورعاه. (علامتان لكل نقطة علامة يكتفى بنقطتين)
 - تطوير القدرات الوطنية في مجال الصناعات الغذائية.
 - رفع نسبة الإنتاج المحلي.
 - الحفاظ على خبرة أصحاب المهن ليكونوا جزء من نجاح تلك المشاريع.
- ٣- اقترح حلاً لتطوير الاكتفاء الذاتي الغذائي في مملكة البحرين. (علامتان)

أي طرح منطقي مرتبط بالموضوع.

إجابة السؤال الثالث:

١٥ علامة

أولاً: علل ما يلي:

(١٠ علامات)

١- تتميز دول الخليج العربية بانخفاض كلفة استخراج النفط فيها. (٤ علامات لكل نقطة علامتان يكتفى بنقطتين)
- كبر حقول النفط مساحة وحجماً.

- وجود النفط قرب السطح / في طبقات سهلة الحفر.

- يكون النفط مصحوباً بالغاز الطبيعي الذي يسهل خروجه بالضغط عليه.

٢- تلقى المرأة في دول الخليج العربية اهتماماً ملحوظاً من قبل الحكومة والمجتمع على حد سواء. (٣ علامات)
- إدراكاً لتأثير المرأة ودورها في إعداد الأسرة في مختلف مجالات الحياة العامة.

٣- تنتشر البساتين وتتعدد المراكز السكنية في سهل الباطنة الذي يقع معظمه في سلطنة عُمان.

(٣ علامات لكل نقطة ٣ يكتفى بنقطة واحدة)

- خصوبة التربة.

- وفرة المياه.

ثانياً: اقرأ المستند الآتي، الذي يمثل نسبة التركيب العمري لسكان دول الخليج العربية ٢٠١٦م، ثم أجب عن الأسئلة

التي تليه:

(٥ علامات)

١- استنتج المقصود بالتركيب العمري للسكان:

(علامة)

هو توزيع السكان حسب الفئات العمرية أو توزيع السكان حسب الأعمار (أي تعبير أو صياغة من الطالب تعبر عن المفهوم).

٢- ما الفئة العمرية التي تشكل النسبة الأقل من سكان دول الخليج العربية؟ (علامتان)
فئة أكثر من ٦٥ سنة أو فئة كبار السن.

٣- حدد الدولة التي يوجد فيها أعلى نسبة في الفئة العمرية أقل من ١٥ سنة. (علامتان)
العراق.

إجابة السؤال الرابع:

١٥ علامة

أولاً: ضع إشارة صح (✓) أمام العبارة الصحيحة وإشارة خطأ (×) أمام العبارة الخاطئة لكل مما يأتي:
(١٠ علامات)

- ١- يحتل إنتاج الفاكهة المرتبة الأولى بالنسبة إلى الإنتاج الزراعي في دول الخليج العربية (×).
- ٢- يشكل النفط والغاز الطبيعي والمنتجات المنجمية السلعتين المصدرتين الأساسيتين لدول الخليج العربية (✓).
- ٣- الصناعات المعدة للتصدير تهدف إلى تأمين السلع الوسيطة الضرورية للصناعات الاستهلاكية (×).
- ٤- تتميز جزر الخليج العربي بكونها كثيرة وصغيرة إجمالاً وشواطئها عميقة نسبياً (✓).
- ٥- ترتفع معدلات الرطوبة الجوية في قلب الصحراء وتتنخفض تدريجياً باتجاه السواحل (×).

ثانياً: اكتب في الجدول التالي مدلولات الأرقام المثبتة على دول الخليج العربية. (٥ علامات لكل نقطة علامة)

الرقم	المدلول الأرقام	العنصر
١	مضيق هرمز	ممر مائي
٢	البحر الأحمر	مسطح مائي
٣	مملكة البحرين	دولة خليجية ذات كثافة سكانية مرتفعة
٤	الربع الخالي	صحراء (أكبر المسطحات الرملية في العالم)
٥	العراق	دولة خليجية يسود في شمالها الشرقي المناخ المعتدل القريب من المناخ المتوسطي

انتهت الاجابة

الإجابة النموذجية

مملكة البحرين
وزارة التربية والتعليم
قسم الامتحانات الداخلية

إجابة امتحان نهاية الفصل الدراسي الثاني للتعليم الثانوي للعام الدراسي ٢٠٢٣/٢٠٢٤ م

المسار: توحيد المسارات

اسم المقرر: جغرافية دول الخليج العربية

الزمن: ساعة ونصف

رمز المقرر: أجا ٢٢١

١٦ علامة

إجابة السؤال الاول:

أولاً: ضع دائرة حول رمز الإجابة الصحيحة من بين البدائل التالية. (١٢ علامة لكل نقطة علامتان)

١- جميعها من خصائص مناخات دول الخليج العربية ما عدا:

ب- انخفاض نسبة التبخر

٢- الإنتاج الزراعي النباتي الذي يحتل المرتبة الأولى بدول الخليج العربية هو:

ب- الحبوب

٣- البلدان التي تأتي بالمرتبة الأولى في التعامل التجاري مع دول الخليج العربية هي:

أ- المتقدمة

٤- العامل الأكبر في تنظيم المجال الجغرافي في دول الخليج العربية على أساس تنموي للمناطق هو:

أ- الدولة

٥- تتميز دول الخليج العربية بمعدل خصوبة:

د- مرتفع

٦- جميعها من أنواع الصناعات التحويلية المرتبطة بالنفط والغاز الطبيعي في دول الخليج العربية ما عدا:

ج- صناعة الألومنيوم

ثانياً: اقرأ المستند المجاور الذي يمثل الكثافة السكانية في دول الخليج العربية، ثم أجب عن الأسئلة التي تليه:

(٤ علامات)

١- ما الدولة التي يوجد فيها أعلى كثافة سكانية؟ مملكة البحرين (علامة)

٢- ما الدولة التي يوجد فيها أدنى كثافة سكانية؟ عُمان (علامة)

٣- قارن بين الكثافات السكانية في دول الخليج العربية، ماذا تستنتج؟ (علامتان)

تتميز الكثافة السكانية بدول الخليج العربية بأنها متدنية بصور إجمالية، لكنها تختلف من دول خليجية إلى أخرى.

إجابة السؤال الثاني:

(١٨ علامة)

وضح ما يأتي.

- ١- مميزات حقول النفط والغاز في دول الخليج العربية. (٤ علامات لكل نقطة علامتان يكتفى بنقطتين)
 - ضخامة انتاجها / واتصال العديد منها ببعضها البعض.
 - قلة تكاليف التنقيب.
 - انخفاض تكاليف التسويق.
- ٢- مقومات الصناعة في دول الخليج العربية. (٤ علامات لكل نقطة علامتان يكتفى بنقطتين)
 - تنوع المواد الأولية.
 - توافر الطاقة.
 - استثمار الرساميل.
- ٣- الوحدات الطبيعية التي يتألف منها سطح مملكة البحرين. (٤ علامات لكل نقطة علامتان يكتفى بنقطتين)
 - منبسط داخلي واسع تتناثر فوقه بعض التلال وأكثرها ارتفاعاً تل ((جبل الدخان)) الذي يحتل موقعاً وسطاً وفي أجزائه الجنوبية ينتشر عدد كبير من السبخات أبرزها سبختا الغينة والشبك.
 - شريط صخري ناتئ قليل الارتفاع يتقطع احياناً يحيط بالمنبسط الداخلي.
 - منحدرات الشريط الصخري المائلة إلى الخارج نحو السواحل وتعبورها مجموعة من الأودية كوادي الزلاق.
 - شريط ساحلي منبسط ومنخفض يلي المنحدرات.
- ٤- السياسات الصحية التي اتبعتها دول الخليج العربية. (٦ علامات لكل نقطة علامتان يكتفى بثلاث نقاط)
 - توسيع القطاع الصحي الحكومي.
 - تشجيع القطاع الخاص على تحمل مسؤولياته في المجال الصحي بمنحه التسهيلات المختلفة.
 - تقديم التسهيلات من أجل استقدام المزيد من الكفاءات الطبية والصحية الضرورية من الخارج.
 - تأسيس المزيد من الجامعات والكليات والمعاهد الطبية والصحية.
 - العمل بشكل شمولي كإهتمام بالمدينة والريف على حد سواء، والتنقيف الصحي والتوعية الصحية وحملات التلقيح الشاملة.

١٤ علامة

إجابة السؤال الثالث:

علل ما يلي:

١- يكاد لا يكون هنالك تأثير للخليج العربي والبحر الأحمر في تلطيف الحرارة وهطول الأمطار.

(٤ علامات لكل نقطة علامتان يكتفى بنقطتين)

- لصعوبة تكون كتل هوائية خاصة بهما.

- صغر مساحتهما / وضيق امتدادهما.

- ارتفاع حرارة مياههما السطحية.

٢- الاهتمام المتزايد بزراعة الخضار في دول الخليج العربية. (٤ علامات لكل نقطة علامتان يكتفى بنقطتين)

- مردودها النقدي المرتفع.

- قابليتها للاستعمال في التكتيف الزراعي (زراعة أكثر من موسم في السنة).

- إنتاجيتها المرتفعة.

- تكنولوجيتها التي باتت في متناول معظم المزارعين.

٣- اكتسبت دول الخليج العربية ثقلًا جيوسياسيًا مهمًا في الوطن العربي والعالم الإسلامي.

(٦ علامات لكل نقطة علامتان يكتفى بثلاث نقاط)

- العون الإنمائي والعسكري الذي تقدمه دول الخليج العربية للدول العربية المحتاجة.

- التوسط لفض الكثير من النزاعات بالوطن العربي بالوسائل السلمية.

- النشاط البارز الذي تلعبه دول الخليج العربية وخاصة المملكة العربية السعودية في منظمة التعاون الإسلامي.

- تعزيز العلاقات السياسية والاقتصادية مع الدول الإسلامية.

إجابة السؤال الرابع:

١٢ علامة

أولاً: صنف العبارات الآتية بوضع كل منها في مكانه المناسب من الجدول التالي. (٨ علامات لكل نقطة علامة)

مرحلة ما قبل الوفرة النفطية (١٩٣٠-١٩٧٣م)	مرحلة الوفرة النفطية (١٩٧٣-٢٠٢٠م)
<ul style="list-style-type: none"> -سيطرة الشركات الغربية على الثروة النفطية. -اضطلاع القطاع العام بدور أساسي في الاقتصاد. 	<ul style="list-style-type: none"> -سيطرة دول الخليج على مواردها النفطية وعائداتها المالية. -شهدت تنوع اقتصادي كبير.
المصارف المركزية	المصارف التجارية
<ul style="list-style-type: none"> -من مهامها إصدار العملات الوطنية ومراقبة تداولها. -من مهامها تنفيذ السياسات المالية والنقدية المحددة من قبل الدولة. 	<ul style="list-style-type: none"> -هي المصارف الأكثر انتشاراً. -تتلقى الودائع المالية من المقيمين والأجانب فتستثمرها بطرق مختلفة.

ثانياً: اكتب في الجدول التالي مدلولات الأرقام المثبتة على خريطة دول الخليج العربية.

(٤ علامات لكل نقطة علامة)

الغصن	الرقم	مدلول الأرقام
دولة عربية خليجية	١	مملكة البحرين
مسطح مائي	٢	البحر الأحمر
صحراء (أكبر المسطحات الرملية في العالم)	٣	الربع الخالي
ممر مائي	٤	مضيق هرمز

انتهت الإجابة

الإجابة النموذجية

مملكة البحرين

وزارة التربية والتعليم

قسم الامتحانات الداخلية

إجابة امتحان نهاية الفصل الدراسي الأول للتعليم الثانوي للعام الدراسي 2024/2023 م

المسار: توحيد المسارات

اسم المقرر: جغرافية دول الخليج العربية

الزمن: ساعة ونصف

رمز المقرر: أجا 221

(16 علامة)

إجابة السؤال الأول:

أولاً: ضع دائرة حول رمز الإجابة الصحيحة من بين البدائل التالية. (10 علامات لكل نقطة علامتان)

1- تتميز الكثافة السكانية في دول الخليج العربية بصورة إجمالية بأنها:

ب-متدنية

2- الإنتاج الزراعي النباتي الذي يحتل المرتبة الأولى بدول الخليج العربية هو:

أ-الحبوب

3- الجبل الذي يحتل موقعاً وسطياً في المنبسط الداخلي والأكثر ارتفاعاً في مملكة البحرين يسمى:

ج-الدخان

4- مصارف مهمتها إصدار العملة الوطنية ومراقبة تداولها هي:

د-المصارف المركزية

5- جميعها من مميزات حقول النفط والغاز في دول الخليج العربية ما عدا:

د-ارتفاع تكاليف التنقيب

ثانياً: اقرأ المستند المجاور، ثم أجب عن الأسئلة التي تليه: (6 علامات)

(علامتان)

1- استنتج المقصود بالميزان التجاري.

الفرق بين قيمة الصادرات وقيمة الواردات.

(علامتان)

2- قارن بين قيم الصادرات والواردات، ماذا تستنتج؟

أغلب الدول الخليجية لديها فائض في ميزانها التجاري.

(علامتان)

3- ما هي الدولة التي سجلت عجز في ميزانها التجاري؟

العراق

إجابة السؤال الثاني:

(18 علامة)

وضح ما يأتي.

1- مميزات جُزر الخليج العربي.

(4 علامات لكل نقطة علامتان يكتفى بنقطتين)

-كثيرة.

-صغيرة.

-شواطئها عميقة نسيبًا.

2- أهداف المبادرة الوطنية لتنمية القطاع الزراعي بمملكة البحرين. (6 علامات لكل نقطة علامتان يكتفى بثلاث نقاط)

-مضاعفة الإنتاج الزراعي.

-تسهيل وصول المزارعين للأسواق وحصولهم على فرص تسويقية.

-تخصيص إحدى الحدائق العامة لعرض منتجات المزارعين (سوق المزارعين).

-تيسير الحصول على المعلومات عن الأسواق والاحتياجات من الأغذية.

-دعم مدخلات الإنتاج والتوسع في الزراعات الحديثة.

-استخدام التقنيات الزراعية الحديثة.

3- أهم الصحاري في المملكة العربية السعودية. (4 علامات لكل نقطة علامتان يكتفى بنقطتين)

-صحراء النفوذ.

-صحراء الدهناء.

-صحراء الربع الخالي.

4- مميزات الصناعات البتروكيمياوية. (4 علامات لكل نقطة علامتان يكتفى بنقطتين)

-حاجتها إلى رساميل كبيرة.

-استعمالها عمالة قليلة العدد وذات مهارة عالية.

-مستوى تكنولوجي متطور.

إجابة السؤال الثالث:

(14 علامة)

أولاً: اقرأ المستند المجاور، ثم أجب عن الأسئلة التي تليه: (6 علامات)

(علامة)

1- استنتج مفهوم الخصخصة.

هي نقل الملكية العامة إلى القطاع الخاصة تأخذ شكلين الأول بيع أصول مملوكة للدولة إلى القطاع الخاص والثاني ان

تتوقف الدولة عن تقديم خدمة معينة كانت تقوم بها وتعتمد على القطاع الخاص في تقديمها.

2- بين أهمية الخصخصة في مملكة البحرين. (3 علامات لكل نقطة علامة يكتفى بثلاث نقاط)

-خيار استراتيجي في سياستها الإصلاحية.

-مدخل هام من مداخل التنمية المستندة على تفعيل دور القطاع الخاص.

-جذب الاستثمارات الأجنبية.

-تحقيق أقصى كفاءة ممكنة في استثمار الموارد المتاحة.

-يحقق أهداف التنوع الاقتصادي والتنمية المستدامة.

3- حدد المبادئ الأساسية للرؤية الاقتصادية (البحرين 2030م). (علامتان لكل نقطة علامة يكتفى بنقطتين)

-العدالة.

-التنافسية.

-الاستدامة.

ثانيًا: عرف المفاهيم والمصطلحات الآتية:

(8 علامات لكل مفهوم علامتان)

- 1- مؤشر التنمية البشرية: مؤشر احصائي مركب من مؤشرات بسيطة عدة مثل نصيب الفرد من الناتج المحلي الإجمالي والعمر المتوقع عند الولادة ... وغيرها.
- 2- أوبيك (OAPEC): منظمة الأقطار المصدرة للنفط تأسست عام 1960.
- 3- الصناعة الاستخراجية: هي الصناعة التي تختص في عمليات الاستخراج والتحضير ومعالجات أخرى غير تحويلية للمواد الطبيعية الخام وتؤمن المواد الأولية الخام للصناعات التحويلية.
- 4- محمية العرين: حديقة للحيوانات والنباتات ومركز للأبحاث والعلوم الطبيعية، وتعد من أهم المعالم الطبيعية في مملكة البحرين وتبلغ مساحتها 8 كيلو متر مربع.

(12 علامة)

إجابة السؤال الرابع:

بين سبب ما يلي:

- 1- تتميز دول الخليج العربية بمعدل خصوبة مرتفع. (3 علامات)
-اهتمام الحكومات بالخدمات الصحية والاجتماعية للسكان وخاصة للمرأة.
- 2-تلقى المرأة في دول الخليج العربية اهتمامًا ملحوظًا من قبل الحكومة والمجتمع على حد سواء. (3 علامات)
-إدراكا لتأثير المرأة ودورها في إعداد الأسرة في مختلف مجالات الحياة العامة.
- 3-يمثل مضيق هرمز منطقة استراتيجية مهمة. (3 علامات)
-لكونه ممر بحري مهم لجميع دول الخليج العربية.
- 4-الجفاف في دول الخليج العربية. (3 علامات لكل نقطة 3 علامات يكتفى بنقطة واحدة)
-قلة الأمطار وتذبذبها.
-ارتفاع نسبة التبخر والنتح.

انتهت الإجابة

الإجابة النموذجية

مملكة البحرين
وزارة التربية والتعليم

إدارة الامتحانات / قسم الامتحانات

إجابة امتحان نهاية الفصل الدراسي الثاني للتعليم الثانوي للعام الدراسي 2022م/2023م

المسار: مكفوفين

الزمن: ساعة ونصف

اسم المقرر: جغرافية الخليج العربي

رمز المقرر: أجا 221

السؤال الأول: (14 علامة)

أولاً: ضع دائرة حول رمز الإجابة الصحيحة من بين البدائل التالية:

1. مضيق يمثل منطقة استراتيجية مهمة لكونه ممراً بحرياً لجميع دول الخليج العربية هو:

ج. مضيق هرمز

6 علامات/ لكل نقطة علامة

1. أكبر دولة خليجية يوجد بها خامات النحاس، وتعمل على استثماره هي:

أ. سلطنة عمان

3. تتميز حقول النفط والغاز الطبيعي في دول الخليج العربية بـ:

ب. ضخامتها

4. جميعها من خصائص مناخات دول الخليج العربية ما عدا:

ب. قلة التبخر

5. تتميز دول الخليج العربية بمعدل خصوبة:

ج. مرتفع

6. مصارف مهمتها إصدار العملة الوطنية ومراقبة تداولها هي:

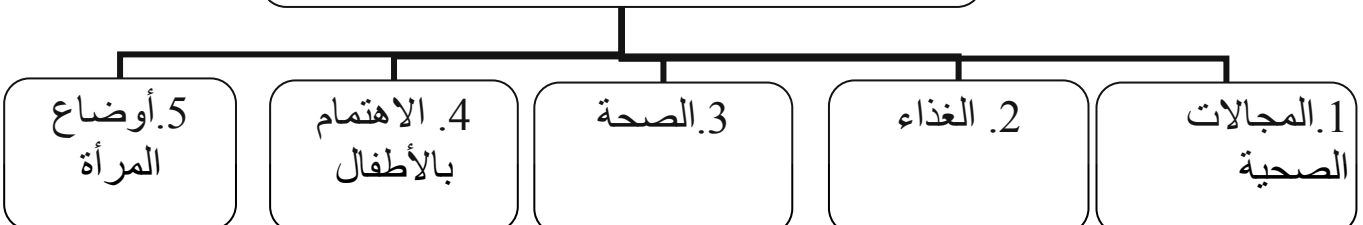
د. المصارف المركزية

8 علامات/ لكل نقطة

علامتين/ يكتفى
بأربع نقاط

ثانياً: أكمل المخطط التالي الذي يبين مجالات التنمية البشرية في دول الخليج العربية:

مجالات التنمية البشرية في دول الخليج العربية



السؤال الثاني: (18 علامة)

- علل ما يأتي.

6 علامات/ لكل
نقطة علامتين/
يكتفى بثلاث نقاط

1. اكتسبت دول الخليج العربية ثقلًا جيوسياسيًا مهمًا في الوطن العربي والعالم الإسلامي.
 - العون الإنمائي والعسكري الذي تقدمه دول الخليج العربية لدول العربية المحتاجة.
 - التوسط لفض العديد من النزاعات بالوطن العربي بالوسائل السلمية.
 - النشاط البارز الذي تلعبه دول الخليج العربية وخصوصًا المملكة العربية السعودية في منظمة التعاون الإسلامي.
 - تعزيز العلاقات المباشرة السياسية والاقتصادية مع الدول الإسلامية.

6 علامات/ لكل
نقطة 3 علامات/
يكتفى بنقطتين

2. تدني فعالية الأمطار من الناحيتين البيولوجية والهيدرولوجية في دول الخليج العربية.
 - انخفاض عدد أيام المطر، وانخفاض كمية المياه المتساقطة أثناء المطرة الواحدة.
 - اتساع أوقات الجفاف ما بين مطره وأخرى ويوم ماطر وآخر وفصل وآخر وسنة وأخرى.
 - التبخر الشديد الذي يسحب الكميات المتساقطة وأحيانًا على نحو شبه فوري.
3. حققت دول الخليج العربية تقدمًا مهمًا في مجال استعمال التقنيات المتطورة في القطاع الزراعي.

6 علامات/ لكل
نقطة 3 علامات/
يكتفى بنقطتين

- استعمال معدات زراعية متطورة وتقنيات أكثر ملائمة للزراعة في المناطق الجافة ورافق ذلك تطور استعمال الآلات والأسمدة ومكافحة الآفات.
- التوسع في اعتماد مركز البحوث والمختبرات ليس من أجل القيام بتجارب زراعية فقط بل من أجل اختبار تقنيات جديدة وإيجاد أنواع جديدة أكثر ملائمة للبيئة الخليجية الجافة.
- التنويع في الزراعة الكثيفة التي تعتمد على البيوت المحمية.

السؤال الثالث: (18 علامة)

وضح ما يأتي:

6 علامات/ لكل
نقطة علامتين/
يكتفى بثلاث نقاط

1. الوحدات الطبيعية التي يتألف منها سطح مملكة البحرين.

- منبسط داخلي واسع تنتشر فوقه بعض التلال وأكثرها ارتفاعاً تل ((جبل الدخان)) الذي يحتل موقعاً وسطاً وفي أجزائه الجنوبية ينتشر عدد كبير من السبخات أبرزها سبختا الغينة والشبك.
- شريط صخري ناتئ قليل الارتفاع يحيط بالمنبسط الداخلي.
- منحدرات الشريط الصخري المائلة إلى الخارج نحو السواحل وتعبورها مجموعو من الأودية كوادي الزلاق.
- شريط ساحلي منبسط ومنخفض يلي المنحدرات.

6 علامات/ لكل
نقطة علامتين/
يكتفى بثلاث نقاط

2. مميزات المرحلة الثالثة (1973-1980م) لتطورات السوق النفطية العالمية.

- سيطرة الدول المنتجة على السوق النفطية عن طريق رفع أسعار النفط.
- سيطرة دول الخليج العربية على نفطها تماماً.
- ارتفاع عائدات النفط المالية بنسبة كبيرة في دول الخليج العربية مما دعم اقتصادها.
- إدراك العالم لأهمية دور النفط كسلاح استراتيجي.

6 علامات/ لكل
نقطة علامتين/
يكتفى بثلاث نقاط

3. أهداف المبادرة الوطنية التي أطلقتها مملكة البحرين لتحقيق الاكتفاء الغذائي.

- مضاعفة الإنتاج الزراعي.
- تخصيص إحدى الدائق العاملة في البحرين لعرض منتجات المزارعين بسوق سمي ((سوق المزارعين)) في هورة عالي.
- تسهيل وصول المزارعين للأسواق وحصولهم على الفرص التسويقية.
- تيسير الحصول على المعلومات عن الأسواق والاحتياجات من الأغذية.
- دعم مدخلات الإنتاج والتوسع في الزراعات الحديثة وبخاصة الزراعة المحمية بدون تربة.
- زيادة الأبحاث الزراعية والتركيز على الابتكار وزيادة الإنتاجية الزراعية وتعزيز القدرة على التكيف مع تغيير المناخ.

السؤال الرابع: (10 علامة)

صنف البيانات الآتية في الجدول التالي:

تأثيرات التضاريس	4 علامات/ لكل نقطة علامة	التأثيرات البحرية
<ul style="list-style-type: none"> • تتسبب بانخفاض حرارة الأجواء بمعدل 6 درجات مئوية مع كل علو يبلغ 1000 متر. • تسبب بتساقط كميات أوفر من الأمطار فوق السفوح المواجهة للرياح الرطبة. 	<ul style="list-style-type: none"> • تأثيرات البحر المتوسط تسبب الأمطار وتلطف الحرارة في الشتاء. • تأثيرات المحيط الهندي تسبب هطول الأمطار الموسمية صيفاً على بعض أجزاء دول الخليج العربية. 	
مرحلة ما قبل الوفرة النفطية (1930-1973م)	6 علامات/ لكل نقطة علامة	مرحلة الوفرة النفطية (1973-2020م)
<ul style="list-style-type: none"> • الاتجاه نحو استقطاب العمالة الوافدة للمساهمة في عملية التنمية. • تقدم قطاعي الخدمات والتشييد على القطاعات الإنتاجية الأخرى. • اضطلاع القطاع العام بدور أساسي في الاقتصاد 	<ul style="list-style-type: none"> • تعاضم الاستيراد خصوصاً المواد الغذائية والسلع المصنعة. • تكون احتياطي نقدي مهم في معظم الدول. • توطد الدور الاقتصادي للقطاع العام. 	

انتهت الإجابة

الإجابة النموذجية

مملكة البحرين
وزارة التربية والتعليم

إدارة الامتحانات / قسم الامتحانات المركزية

امتحان نهاية الفصل الدراسي الأول للتعليم الثانوي للعام الدراسي 2023/2022 م

المسار: مكفوفين

الزمن: ساعة ونصف

اسم المقرر: جغرافية دول الخليج العربية

رمز المقرر: أجا 221

السؤال الأول: (12 علامة)

أولاً: ضع دائرة حول رمز الإجابة الصحيحة من بين البدائل التالية:

1. يتألف سطح مملكة البحرين من وحدات طبيعية ببيضاوية الشكل يبلغ عددها:

ب. أربع وحدات

6 علامات/ لكل نقطة علامة

2. الدولة الخليجية التي لا تعاني من العجز المائي هي:

ج. سلطنة عمان

3. جميع ما يأتي من معوقات استثمار الثروة المعدنية في دول الخليج العربية ماعدا:

ب. ارتفاع التكلفة

4. أكبر حقل نفط بري في دول الخليج العربية هو:

أ. الغوار

5. الفئة العمرية المنتجة والتي تشكل نسبة 78% وتعتبر في دول الخليج العربية هي فئة:

ج. 15-65 سنة

6. المرحلة التي شهدت تنوع اقتصادي كبير وخصخصة الكثير من المجالات الاقتصادية هي:

د. الوفرة النفطية

ثانياً: ثانياً: أكمل المخطط التالي الذي يبين العوامل المؤثرة في مناخ دول الخليج العربية:

6 علامات/ لكل نقطة علامتين/ يكتفى بثلاث نقاط

العوامل المؤثرة في مناخ دول الخليج العربية

1. الموقع الفلكي

2. توزع خلايا
الضغط الجوي

3. التأثيرات البحرية
والقارية

4. تأثير التضاريس

السؤال الثاني: (20 علامة)

- علل ما يأتي.

1. اكتسبت دول الخليج العربية ثقلًا جيوسياسيًا مهمًا في الوطن العربي والعالم الإسلامي.

- العون الإنمائي والعسكري الذي تقدمه دول الخليج العربية لدول العربية المحتاجة.
- التوسط لفض العديد من النزاعات بالوطن العربي بالوسائل السلمية.
- النشاط البارز الذي تلعبه دول الخليج العربية وخصوصًا المملكة العربية السعودية في منظمة التعاون الإسلامي.
- تعزيز العلاقات المباشرة السياسية والاقتصادية مع الدول الإسلامية.

2. تنامي دور الصناعات التحويلية في اقتصادات دول الخليج العربية.

- ارتفاع عدد المنشآت الصناعية.
- المساهمة الكبيرة في التشغيل.
- الارتفاع الملحوظ في قسمتها المضافة.
- المساهمة بنسبة 10% في الناتج المحلي الإجمالي.
- تزايد نسبة الصادرات من السلع الصناعية التحويلية.

3. يواجه القطاع الزراعي تحديات في دول الخليج العربية.

- ارتفاع كلفة الإنتاج الزراعي.
- التوسع الأفقي وهدر المياه.
- اشتراك محدود للقطاع الخاص.

السؤال الثالث: (18 علامة)

وضح ما يأتي:

6 علامات/ لكل نقطة علامتين/
يكتفى بثلاث نقاط

1. أهم خصائص مناخات دول الخليج العربية.

- قوة الإشماس.
- ارتفاع الحرارة مع اتساع فروقاتها اليومية والسنوية.
- انخفاض الرطوبة الجوية.
- ارتفاع نسبة التبخر.
- قلة الأمطار مع عنف سقوطها وفصليتها وتذبذبها الشديد جغرافيًا وزمنيًا.
- الجفاف الذي يتمثل في النقص الحاد في كميات المياه العذبة الطبيعية.

6 علامات/ لكل نقطة علامتين/
يكتفى بثلاث نقاط

2. السياسات الصحية التي اتبعتها دول الخليج العربية.

- توسيع القطاع الصحي الحكومي (مستشفيات ومراكز صحية)، وهو يقدم خدماته مجانًا لكل السكان.
- تشجيع القطاع الخاص (خصوصًا في دول مجلس التعاون)، على تحمل مسؤولياته في المجال الصحي بمنحه التسهيلات المختلفة، خصوصًا توفير التمويل الميسر لإنشاء المؤسسات الصحية الخاصة.
- تقديم التسهيلات من أجل استقدام المزيد من الكفاءات الطبية والصحية الضرورية من الخارج.
- تأسيس المزيد من الجامعات والكليات والمعاهد الطبية والصحية.
- العمل بشكل شمولي كإهتمام بالمدينة والريف على حد سواء واعتماد التنقيف الصحي، وحملات التوعية الصحية وحملات التلقيح الشاملة.

6 علامات/ لكل نقطة ثلاث
علامات/ يكتفى بنقطتين

3. مقومات الصناعة في دول الخليج العربية.

- تنوع المواد الأولية.
- توافر الطاقة.
- استثمار الرساميل.

السؤال الرابع: (10 علامة)

صنف البيانات الآتية في الجدول أدناه:

10 علامات/ لكل نقطة علامة

المياه الجوفية غير المتجددة (الأحفورية)	المياه الجوفية المتجددة
<ul style="list-style-type: none"> • تقع خزاناتها على أعماق كبيرة. • تجمعت خلال آلاف السنين في عصور مطيرة • تعاقبت على دول شبة الجزيرة العربية. • تعتبر المملكة العربية السعودية أغنى البلدان الخليجية بهذا النوع من المياه. 	<ul style="list-style-type: none"> • هي المياه الموجودة في الترسبات وشقوق طبقات الصخور السطحية. • هي مياه موجودة في خزانات تصل حتى عمق 500 متر كحد أقصى. • يحصل عليها بواسطة الأفلاج والآبار.
المصارف المتخصصة	المصارف التجارية
<ul style="list-style-type: none"> • تعطي قروض بأرباح متدنية وطويلة الأجل. • أنشأها القطاع العام بغية التسليف في قطاعات اقتصادية معينة. 	<ul style="list-style-type: none"> • تتلقى الودائع المالية من المقيمين والأجانب. • يمتلكها القطاع الخاص أو تابعة للدولة مثل مصرف البحرين الوطني.

انتهت الإجابة

نموذج الإجابة

مملكة البحرين

وزارة التربية والتعليم

إدارة الامتحانات / قسم الامتحانات المركزية

امتحان نهاية الفصل الدراسي الأول للتعليم الثانوي للعام الدراسي 2018 / 2019م

المسار: المكفوفون

الزمن: ساعة ونصف

اسم المقرر: جغرافية الخليج العربي

رمز المقرر: أجا 221

السؤال الأول: -(26 علامة)

أولاً: ضع دائرة حول رمز الإجابة الصحيحة من بين البدائل التالية. (12 علامة / لكل نقطة علامتان)

- 1- تنتمي مناخات دول الخليج العربية إلى فئة المناخات.
 - أ. المدارية الجافة.
 - 2- أكبر الحقول النفطية في دول الخليج العربية هو حقل.
 - ب. الغوار.
 - 3- يمتلك القطاع الصناعي في دول الخليج العربية عدة مقومات.
 - ج. المواد الأولية.
 - 4- حقق القطاع الزراعي في دول الخليج العربية إنجازات عديدة منها.
 - د. ارتفاع نسبة نمو الناتج الزراعي.
 - 5- سيطرت الشركات الأجنبية على قطاع التشييد في دول الخليج العربية بسبب.
 - ب. صغر الشركات المحلية.
 - 6- جميع ما يأتي من مؤشرات التنمية لدول الخليج العربية في المجالات الصحية ما عدا.
 - د. السياسات الغذائية.

ثانياً: صحح م تحته خط في العبارات الآتية. (14 علامة / لكل نقطة علامتان)

1. تعتبر جزر أبو موسى وطنب الكبرى وطنب الصغرى تابعة لدولة الكويت.

دولة الإمارات العربية المتحدة.
2. توجد أكثر كثافة سكانية مرتفعة في المملكة العربية السعودية.

مملكة البحرين.
3. ارتفعت عائدات النفط لدول الخليج العربية بنسبة كبيرة جداً في المرحلة الثانية (1950-1973).

الثالثة (1973-1980).
4. الدولة الخليجية التي لا زالت تشهد ارتفاعاً في نسبة وفيات الأطفال دون الخامسة هي دولة الإمارات العربية المتحدة.

المملكة العربية السعودية / العراق / سلطنة عمان.
5. عجز السلع عن منافسة الإنتاج الأجنبي من حيث مستوى الجودة من أهم المشاكل التي تعترض التجارة الخارجية.

التجارة الداخلية.
6. المصارف الأكثر انتشاراً وتتلقى الودائع المالية من المقيمين والأجانب هي المصارف المتخصصة.

المصارف التجارية.
7. الدولة التي يتولى فيها القطاع العام إنشاء المرافق ومعظم البنى الأساسية وغالبية الخدمات هي الدولة المستثمرة.

الدولة الراعية.

السؤال الثاني: -(26 علامة)

- علل ما يأتي.

1- انخفاض تأثير الخليج العربي والبحر الأحمر في تلطيف الحرارة وسقوط الأمطار.

(8 علامات / لكل نقطة علامتان)

- صعوبة تكون كتل هوائية خاصة بهما ومؤثرة.
- صغر مساحتهما.
- ضيق امتدادهما.
- ارتفاع حرارة مياههما السطحية طوال السنة.

2- ارتفاع كلفة الإنتاج الزراعي في دول الخليج العربية.

(6 علامات / لكل نقطة 3 علامات/ يكتفي بنقطتين)

- كثير من لوازمها من المعدات والأسمدة والبذور تستورد من الخارج.
- معظم اليد العاملة الزراعية من الأجانب.
- المغالة في استخدام المواد الزراعية المدعومة من قبل الدولة.

3- فئة السدود المخصصة للري أقل عدداً واستعمالاً.

(6 علامات / لكل نقطة 3 علامات)

- مياهها المكشوفة تتعرض للتبخر والنقص.
- الوحول الكثيرة التي تجرفها السيول تعيق استعمال المياه في الري وتردم بسرعة.

4- ارتفاع عدد سكان دول الخليج العربية بين سنتي 1990 و2012م ارتفاعاً ملحوظاً.

(6 علامات / لكل نقطة 3 علامات)

- ارتفاع نسبة النمو الطبيعي للسكان.
- الهجرة الوافدة التي تزايدت أهميتها منذ بداية الطفرة النفطية.

السؤال الثالث: -(24 علامة)

- وضح ما يأتي.

1- العوامل الثلاثة التي تعطي دول الخليج العربية أهمية استراتيجية كبرى.

(6 علامات / لكل نقطة 3 علامات/ يكتفي بنقطتين)

- موقع الخليج العربي في وسط العالم وقربه من مسطحات مائية عالمية كانت معبراً لطرق التجارة المهمة منذ القدم.
- ثروة دول الخليج العربية النفطية والعائدات المالية الكبيرة الناتجة منها.
- تقل هذه الدول الجيوسياسي بسبب النفط الذي يزداد تركزه الجغرافي في أراضيها الأمر الذي يعطيها دوراً مؤثراً على الصعيد العربية والإسلامية والعالمية.

2- معوقات القطاع المصرفي في دول الخليج العربية.

(6 علامات / لكل نقطة 3 علامات/ يكتفي بنقطتين)

- الممارسات التقليدية التي اعتادت المصارف منذ قيامها.
- صغر حجوم المصارف القائمة وتكاثر فروعها إلى حد التخمة.
- النقص في استعمال تقنيات الخدمات المصرفية الحديثة إضافة إلى قلة المصارف القائمة من خدمات.

3- إنجازات الصناعة التحويلية في دول الخليج العربية.

(6 علامات / لكل نقطة 3 علامات/ يكتفي بنقطتين)

- ازدياد الناتج المحلي للصناعة التحويلية.
- ازدياد الاستثمارات في الصناعة التحويلية.
- ازدياد عدد المصانع والعمال.
- ازدياد حصة الفرد من ناتج الصناعة التحويلية.

4- أهداف مجتمعات دول الخليج العربية من الصناعة.

(6 علامات / لكل نقطة 3 علامات/ يكتفي بنقطتين)

- تأمين ما يلزم البلاد من منتجات هذا القطاع وهي منتجات لا يمكن الاستغناء عنها ويتم ذلك عن طريق استثمار الثروات المحلية إذا وجدت أو عن طريق استيراد المواد الأولية من الخارج.
- توفير فرص عمل لبعض السكان الذين هم في سن النشاط الاقتصادي.
- تقوية الاقتصاد بحيث يزداد الدخل الوطني والفردى وتحسن ظروف الحياة في البلاد ومما يسهم في زيادة الثروة الوطنية تصدير قسم الإنتاج الصناعي إلى الخارج.

السؤال الرابع:- (24 علامة)

- صنف العبارات التالية بما يناسبها في الجدول ادناه.

المياه الجوفية غير المتجددة	المياه الجوفية المتجددة
<ul style="list-style-type: none"> - تقع خزاناتها على أعماق كبيرة. - مياه قديمة تجمعت خلال آلاف السنين في العصور المطيرة. <p>(4علامات/ لكل نقطة علامتان)</p>	<ul style="list-style-type: none"> - هي المياه الموجودة في شقوق وطبقات الصخور السطحية. - يتم الحصول عليها بواسطة الأفلاج والآبار. <p>(4علامات/ لكل نقطة علامتان)</p>
التسويق المباشر	التسويق عبر التجار الوسطاء
<ul style="list-style-type: none"> - يجري من خلال المعارض الموسمية والأسواق الأسبوعية. - يتم الاحتكاك المباشر بين المنتج والمستهلك. <p>(4علامات/ لكل نقطة علامتان)</p>	<ul style="list-style-type: none"> - هو الأكثر شيوعاً في دول الخليج العربية. - يقوم على توجيه المستهلك إلى المحلات التجارية المتعددة الأنواع لشراء حاجاته. <p>(4علامات/ لكل نقطة علامتان)</p>
مرحلة الوفرة النفطية(1973-1980)	مرحلة ما قبل الوفرة النفطية(1930-1973)
<ul style="list-style-type: none"> - اعتماد سياسة إنفاق واسعة على مشاريع إنمائية كبرى. - سيطرة دول الخليج العربية على مواردها النفطية. <p>(4علامات/ لكل نقطة علامتان)</p>	<ul style="list-style-type: none"> - إنفاق مداخل الثروة النفطية المحدودة على بناء الدولة والبنى التحتية. - تميزت بسيطرة الشركات الغربية على الثروة النفطية. <p>(4علامات/ لكل نقطة علامتان)</p>

انتهت الإجابة

مملكة البحرين
وزارة التربية والتعليم
إدارة الامتحانات / قسم الامتحانات

نموذج الإجابة

امتحان نهاية الفصل الدراسي الاول للتعليم الثانوي للعام الدراسي 2016/2017 م

المسار: توحيد المسارات (المكفوفين)
الزمن: ساعة ونصف

اسم المقرر: جغرافية الخليج العربي
رمز المقرر: أجا 221

السؤال الأول: (24 علامة / لكل نقطة ثلاث علامات)

- ضع دائرة حول رمز الإجابة الصحيحة من البدائل التالية.
- 1-تنتمي مناخات دول الخليج العربية الى فئة المناخات.
د. المدارية الحارة الجافة وشبه الجافة.
 - 2-الدولة الخليجية التي ترتفع فيها الكثافة السكانية هي.
أ. مملكة البحرين.
 - 3-جميع ما ذكر من مجالات التنمية الصحية لدول الخليج العربية ما عدا.
ج. اهتمام كبير بالغذاء.
 - 4- المرحلة التي تميزت بصيد الأسماك واستخراج اللؤلؤ على سواحل الخليج العربي من مراحل تحولات الاقتصاد هي.
ب. ما قبل النفط (الربع الأول من هذا القرن).
 - 5-قامت نواة صناعية في معظم دول الخليج العربية مطلع السبعينات في دولة.
أ. الكويت.
 - 6-نوع من السياحة يشمل زيارة الأماكن الطبيعية والأماكن الاثرية هي السياحة.
أ. الترفيهية.
 - 7-نشاط اقتصادي مارسه سكان دول الخليج العربية في مرحلة ما قبل النفط.
ج. استخراج اللؤلؤ.
 - 8-دولتان خليجيتان تملكان مياه طبيعية متجددة تسمح لهما بتجاوز خط الفقر المائي هما.
ب. العراق وسلطنة عمان.

السؤال الثاني: (24 علامة)

- علل ما يأتي.
- 1-أهمية دول الخليج العربية الاستراتيجية. (6 علامات / لكل نقطة ثلاث علامات / يكتفي بنقطيتين)

- موقع الخليج العربي في وسط العالم وقربه من مسطحات مائية عالمية كانت معبر لطرق التجارة المهمة منذ القدم حتى اليوم.
- ثروة دول الخليج العربية النفطية والعائدات المالية الكبيرة الناتجة منها.
- ثقل هذه الدول الجيوسياسي بسبب النفط الذي يزداد تركزه الجغرافي في أراضيها الامر الذي يعطيها دورا مؤثرا على الصعد العربية والإسلامية والعالمية.

2-انخفاض تأثير الخليج العربي والبحر الأحمر في تلطيف الحرارة ومسبب للإمطار. (6علامات /لكل نقطة ثلاث علامات /يكتفي بنقطيتين)

- صعوبة تكون كتل هوائية خاصة بهما ومؤثرة.
- صغر مساحتهما.
- ضيق امتدادهما.
- ارتفاع حرارة مياههما السطحية طوال السنة.

3-ارتفاع كلفة الإنتاج الزراعي في دول الخليج العربية. (6علامات /لكل نقطة ثلاث علامات /يكتفي بنقطيتين)

- كثير من لوازمها من المواد والمعدات والاسمدة والبذور يستورد من الخارج.
- اليد العاملة الزراعية من الأجانب.
- المغالاة في استخدام المواد الزراعية المدعوة من قبل الدولة.

4-ضعف تصريف المنتجات المصنعة محلياً في دول الخليج العربية. (6علامات /لكل نقطة ثلاث علامات /يكتفي بنقطيتين)

- ضيق السوق الخليجي.
- تشابه المشروعات الصناعية في الدول الخليجية.
- منافسة بضائع الدول الصناعية.
- ضعف التصدير إلى الخارج بسبب ارتفاع الأسعار.
- قيود الحماية التي تفرضها الدول المستوردة.
- منافسة الدول الصناعية لها.

السؤال الثالث: (26 علامة)

-وضح ما يأتي.

1-الأسباب التي تحد من فعالية الامطار من الناحيتين الهيدرولوجية والبيولوجية. (6علامات /لكل نقطة ثلاث علامات /يكتفي بنقطيتين)

- انخفاض عدد أيام المطر وانخفاض كمية المياه المتساقطة في أثناء المطرة الواحدة.
- اتساع أوقات الجفاف ما بين مطرة وأخرى ويوم ماطر وآخر وفصل وآخر وسنة وأخرى.
- التبخر الشديد يسحب التبخر الشديد الكميات المتساقطة.

2-مميزات الحقول النفطية في دول الخليج العربية. (8علامات /لكل نقطة علامتان /يكتفي بأربع نقاط)

- ضخامة الحقول النفطية.
- اتصال الحقول النفطية بعضها ببعض.
- قلة تكاليف التنقيب.
- قلة تكاليف انتاجه.
- خفض تكاليف التسويق.
- قرب الحقول النفطية من مرافئ التصدير.

3-أهداف المجتمعات الصناعية. (6علامات /لكل نقطة ثلاث علامات /يكتفي بنقطيتين)

- تأمين ما يلزم البلاد من منتجات هذا القطاع وهي منتجات لا يمكن الاستغناء عنها.
- توفير فرص عمل لبعض السكان الذين هم في سن النشاط الاقتصادي.
- تقوية الاقتصاد بحيث يزداد الدخل الوطني والفردى وتحسن ظروف الحياة في البلاد.

4-مشاكل التجارة الداخلية لدول الخليج العربية. (6علامات / لكل نقطة ثلاث علامات / يكتفي بنقطيتين)

- عجز هذه السلع عن منافسة الإنتاج الأجنبي.
- عدم ربط ارتفاع كلفة الإنتاج المحلي بما ينفق على جودته بل يربط هذا الارتفاع بظروف الإنتاج وانخفاض كفاءته.
- تقصير المنتج والتاجر المحليين عن التوسع في الحملات الاعلانية والترويج لبضائعها.
- غياب المؤسسات الكبيرة الشركات المساهمة ذات التوزيع المنتشر.
- قلة عدد السكن التي تشكل عائقاً أمام التوسع هذا القطاع.

السؤال الرابع: (26 علامة)

-أولاً: أكمل الجدول التالي بما يناسبه. (14 علامة / لكل نقطة علامتان)

المثال	العبارة
الغوار.	أكبر حقل نفطي يوجد بالمملكة العربية السعودية.
الامارات العربية المتحدة.	دولة خليجية تضاعف عدد سكانها أربع مرات بين سنتي 1990-2012م.
العناية البارزة للأمهات والحوامل بصورة خاصة.	تلقت المرأة في دول الخليج العربية اهتماماً ملحوظاً على الصعيد الصحي.
مضيق هرمز.	مضيق يمثل منطقة استراتيجية مهمة لكونه ممراً بحرياً مهماً لجميع دول الخليج العربية.
المواد الأولية – الطاقة – الرساميل.	مقوم من مقومات الصناعة في دول الخليج العربية.
سلطنة عمان.	نشطت صناعة استخراج النحاس والكروميت.
العراق.	تقتصر وجود المياه السطحية (الأنهار) في دول الخليج العربية في دولة.

ثانياً: صنف العناصر الآتية حسب الجدول التالي. (12 علامة)

الدولة المستثمرة	الدولة المستهلكة
------------------	------------------

<ul style="list-style-type: none"> • عمل الانفاق الحكومي بصورة دائمة العامل الأكبر في تنشيط الاقتصاد. • طلب الدولة على منتجات وخدمات معينة ومن أهم الأمثلة قطاع التشييد. <p>(علامتان لكل نقطة علامة)</p>	<ul style="list-style-type: none"> • عملت الحكومات الى الاستثمار المباشر في مشروعات اقتصادية في مختلف القطاعات. • تملك وتدير الدولة المشروعات الكبرى بمشاركة أجنبية. <p>(علامتان لكل نقطة علامة)</p>
المصارف التجارية	المصارف المتخصصة
<ul style="list-style-type: none"> • هي المصارف الأكثر انتشاراً تتلقى الودائع المالية من المقيمين والاجانب. • يوجد في الدولة مصارف وطنية يملكها القطاع الخاص أو القطاع العام التابع للدولة. <p>(علامتان لكل نقطة علامة)</p>	<ul style="list-style-type: none"> • أنشأ القطاع العام أكثرها بغية تسليف القطاعات الاقتصادية الإنتاجية (صناعية وزراعية). • نشاطاتها تتطلب بطبيعتها قروضاً بأرباح متدنية وطويلة الأجل. <p>(علامتان لكل نقطة علامة)</p>
التسويق المباشر	التسويق عن طريق التجار الوسطاء
<ul style="list-style-type: none"> • يكون بالاحتكاك المباشر بين المنتج والمستهلك. • يجري في الخليج من خلال المعارض الموسمية أو الأسواق الأسبوعية. <p>(علامتان لكل نقطة علامة)</p>	<ul style="list-style-type: none"> • أكثر شيوعاً في دول الخليج العربية وفي العالم. • يقوم على توجيه المستهلك الى المحلات التجارية المتعددة الأنواع لشراء حاجاته. <p>(علامتان لكل نقطة علامة)</p>

انتهت الإجابة

مملكة البحرين

وزارة التربية والتعليم

إدارة الامتحانات / قسم الامتحانات المركزية

الإجابة النموذجية

امتحان نهاية الفصل الدراسي الأول للتعليم الثانوي للعام الدراسي 2017/2018 م

المسار: المكفوفين

الزمن: ساعة ونصف

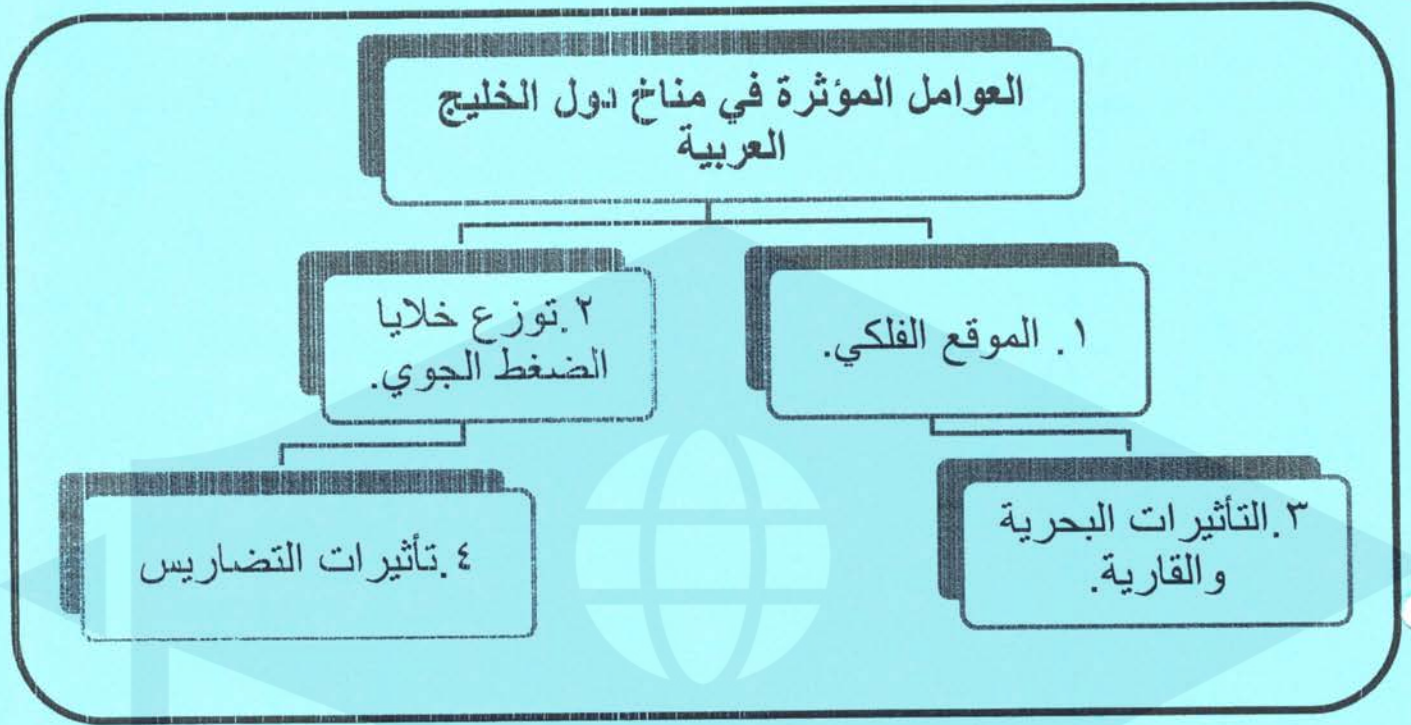
اسم المقرر: جغرافية الخليج العربي

رمز المقرر: أجا 221

السؤال الأول: (26 علامة)
أولاً: ضع دائرة حول رمز الإجابة الصحيحة من بين البدائل التالية. (14 علامة/ لكل نقطة علامتان)

- 1- تنتمي دول الخليج العربية إلى فئة الأقاليم المناخية.
ج. المدارية الحارة الجافة.
- 2- الدولتان الخليجتان اللتان تتمتعان بأعلى ثقل سكاني هما.
أ. المملكة العربية السعودية والعراق.
- 3- يوجد حقل زاخم في دولة.
ب. الإمارات العربية المتحدة.
- 4- معوقات القطاع المصرفي في دول الخليج العربية.
د. الممارسات التقليدية للمصارف.
- 5- الدولة الخليجية التي تتأثر في المرتبة الأولى من حيث المساحة.
أ. المملكة العربية السعودية.
- 6- جميع ما ذكر من الأسباب المحلية لضعف تصريف المنتجات محلياً ما عدا.
د. قيود الحماية التي تفرضه الدول المستوردة.
- 7- جميع ما ذكر من النشاطات التي مارسها أهل الخليج في مرحلة ما قبل النفط ما عدا.
ب. صناعة الملابس والجلود.

ثانياً: أكمل المخطط التالي الذي يبين العوامل المؤثرة في مناخ دول الخليج العربية. (12 علامة/ لكل نقطة 3 علامات)



السؤال الثاني (24 علامة)

- علل ما يأتي.

1- ارتفاع كلفة الإنتاج الزراعي في دول الخليج العربية. (6 علامات/ يكتفي بنقطتين/ لكل نقطة 3 علامات)

- كثير من لوازمها من المواد والمعدات والاسمدة والبذور يستورد من الخارج.
- معظم اليد العاملة الزراعية من الأجانب.
- المغالاة في استخدام المواد الزراعية المدعوة من قبل الدولة.

2- تدني فعالية الامطار من الناحية البيولوجية والهيدرولوجية. (6 علامات/ يكتفي بنقطتين/ لكل نقطة 3 علامات)

- انخفاض عدد أيام المطر وانخفاض كمية المياه المتساقطة في اثناء المطرة الواحدة.
- اتساع أوقات الجفاف ما بين مطرة وأخرى ويوم ماطر واخر وفصل اخر وسنة أخرى.
- التبخر الشديد يسحب التبخر الشديد الكميات المتساقطة.

3- اعتبار نتائج التعليم في دول الخليج العربية مشجعة. (6 علامات/ يكتفي بثلاث نقاط/ لكل نقطة علامتان)

- يبلغ نسبة المنتسبين الى المدارس الابتدائية والثانوية في هذه الدول 90%.
- ارتفاع عدد الطلاب المسجلين في جامعات دول المجلس.
- نمو كبير في قطاع التعليم المهني والفني.
- ارتفاع اعداد المتدربين.

4- تمتع دول الخليج العربية بمعطيات سياحية عدة. (6 علامات/ يكتفي بنقطتين/ لكل نقطة 3 علامات)

- المناخ الذي يصلح لدورة سياحية على مدار السنة.
- المشاهد الطبيعية في السواحل والصحراء.
- التراث التاريخي والديني والوطني والعمراني الغني.

السؤال الثالث: (26 علامة)

- وضح ما يأتي.

1- مقومات الصناعة في دول الخليج العربية. (6 علامات/ يكتفي بنقطتين /لكل نقطة 3 علامات)

- المواد الأولية.
- الطاقة.
- الرساميل.

2- المشاكل التي تعترض التجارة الداخلية في دول الخليج العربية. (6 علامات/ يكتفي بثلاث نقاط/ لكل نقطة علامتان)

- عجز هذه السلع عن منافسة الإنتاج الأجنبي من حيث مستوى الجودة ومن حيث مستوى الأسعار.
- عدم ربط ارتفاع كلفة الإنتاج المحلي بما ينفق على جودته.
- تقصير المنتج والتاجر المحليين عن التوسع في الحملات الاعلانية والترويج.
- غياب المؤسسات الكبيرة الشركات المساهمة ذات التوزيع المنتشر.
- قلة عدد السكن التي تشكل عائقاً كبيراً أمام توسع هذا القطاع.

3- العوامل التي تعطي دول الخليج العربية أهمية استراتيجية كبرى. (6 علامات/ يكتفي بنقطتين /لكل نقطة 3 علامات)

- موقع الخليج العربي في وسط العالم وقربه من مسطحات مائية عاتية.
- ثروة دول الخليج العربية النفطية والعائدات المالية الكبيرة الناتجة منها.
- ثقل هذه الدول الجيوسياسي بسبب النفط الذي يزداد تركزه الجغرافي في أرضها.

4- مميزات حقول النفط في دول الخليج العربية. (8 علامات/ يكتفي بأربع نقاط/ لكل نقطة علامتان)

- تتميز حقول النفط والغاز في دول الخليج العربية عامة بخصائصها.
- تتميز حقول النفط والغاز في دول الخليج العربية عامة باتصال العديد منها ببعضه.
- قلة تكاليف التنقيب فيها.
- خفض تكاليف التسويق.
- قرب حقول النفط من مرافئ تصديره.
- ووقوعها موقعا وسطاً بالنسبة للعالم المستهلك (الولايات المتحدة، أوروبا، اليابان)

السؤال الرابع: (24 علامة/لكل نقطة 3 علامات)

من خلال الجدول الموجود أمامك صنف العبارات التالية بوضع علامة (√) في المكان المناسب حسب التحولات الاقتصادية في دول الخليج العربية.

العبارة	مرحلة ما قبل النفط (الربع الأول من هذا القرن)	مرحلة ما قبل الوفرة النفطية (1973-1930)	مرحلة الوفرة النفطية (1981-1973)
1. الاتجاه نحو استقطاب العاملة الوافدة للمساهمة في عملية التنمية.		√	
2. تعاظم الاستيراد وخصوصاً المواد الغذائية والسلع المصنعة.			√
3. صيد الأسماك واستخراج اللؤلؤ على السواحل.	√		
4. اضطلاع القطاع العام بدور أساسي في الاقتصاد سواء في العراق الذي اختار النظام الاقتصادي الموجه أو في بقية دول التي اختارت النظام الحر.		√	
5. توطد الدور الاقتصادي للقطاع العام وتعاظم نمو قطاعي الخدمات والتشييد.			√
6. الرعي البدوي المتنقل مع الامطار النادرة.	√		
7. تقدم قطاع الخدمات والتشييد على القطاعات الإنتاجية الأخرى.		√	
8. الزراعة البسيطة الضيقة المحصورة في القرى والواحات.	√		

انتهت الإجابة