

امتحان نهاية الدور الثاني



تم تحميل هذا الملف من موقع مناهج مملكة البحرين

موقع المناهج ← مناهج مملكة البحرين ← الصف الثالث الثانوي ← بدن ← الفصل الثاني ← ملفات متنوعة ← الملف

تاريخ إضافة الملف على موقع المناهج: 13:03:21 2025-05-19

ملفات اكتب للمعلم اكتب للطالب ا اختبارات الكترونية ا اختبارات ا حلول ا عروض بوربوينت ا أوراق عمل
منهج انجليزي ا ملخصات وتقارير ا مذكرات وبنوك ا الامتحان النهائي للمدرس

المزيد من مادة
بدن:

التواصل الاجتماعي بحسب الصف الثالث الثانوي



صفحة مناهج مملكة
البحرين على
فيسبوك

الرياضيات

اللغة الانجليزية

اللغة العربية

التربية الاسلامية

المواد على تلغرام

المزيد من الملفات بحسب الصف الثالث الثانوي والمادة بدن في الفصل الثاني

امتحان نهاية الدور الثالث كرة القدم 311 كرة القدم

1

امتحان نهاية الفصل الثاني بدن 311 كرة القدم

2

امتحان نهاية الفصل الثاني بدن 311 كرة القدم

3

إجابة امتحان نهاية الفصل الثاني بدن 311 كرة القدم

4

نموذج إجابة امتحان نهاية الفصل الثاني

5

الاجابة النموذجية

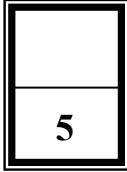
مملكة البحرين
وزارة التربية والتعليم
إدارة الامتحانات / قسم الامتحانات المركزية

امتحان الدور الثاني للتعليم الثانوي للعام الدراسي 2023/2022م

المسار: توحيد المسارات
الزمن: ساعة ونصف

اسم المقرر: كرة القدم
رمز المقرر: بدن 311

أجب عن جميع الأسئلة الآتية



0.5

السؤال الأول:

املاً الفراغات التالية بما هو مناسب:

1. يطلق على الاتحاد الدولي لكرة القدم FIFA.
2. تأسس الاتحاد الدولي لكرة القدم سنة 1904م.
3. تقام بطولة كأس العالم كل 4 سنوات.
4. يجب أن تكون الكرة ثابتة عند لعب الركلات الحرة المباشرة وغير المباشرة.
5. مدة المباراة شوطان متساويان كل منهما 45 دقيقة.
6. يتم منح رمية التماس عندما تجتاز الكرة بكاملها خط التماس سواء على الأرض أو الهواء.
7. لا تعتبر مخالفة تسلل إذا استلم لاعب الكرة مباشرة من ركلة مرمى أو رمية تماس أو ركلة ركنية.
8. أقيمت أول بطولة لكأس العالم في الأرجواي.
9. لا يمكن بدء المباراة إذا كان عدد لاعبي أحد الفريقين يقل عن سبعة لاعبين.

يتبع

السؤال الثاني:

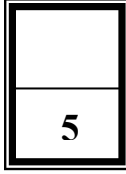
0.5

5

ضع دائرة حول رمز الإجابة الصحيحة:

1. يعتبر التصويب من أقوى أنواع التصويب:
 - أ. بالرأس
 - ب. بوجه القدم الخارجي
 - ج. بوجه القدم الأمامي
2. يتم تحديد ميدان اللعب بخطوط لا يزيد عرضها عن:
 - أ. 5 متر
 - ب. 5 بوصة
 - ج. 5 سم
3. يعتبر من أكثر أنواع التمرير شيوعاً، ويستخدم هذا النوع في التمريرات القصيرة:
 - أ. بوجه القدم الخارجي
 - ب. بوجه القدم الداخلي
 - ج. بباطن القدم
4. من طرق اللعب في كرة القدم:
 - أ. (3/3/4)
 - ب. (1/3/4)
 - ج. (2/3/4)
5. تعتبر من طرق استئناف اللعب:
 - أ. ركلة ركنية
 - ب. الركلة حرة مباشرة
 - ج. ركلة الجزاء
6. هي الوسيلة التي تجعل المنافس يتوقع حركة اللاعب المستحوذ على الكرة توقعاً خاطئاً:
 - أ. رمية التماس
 - ب. الخداع
 - ج. التمرير
7. تعتبر من معدات اللاعبين الأساسية:
 - أ. القبعات
 - ب. القفازات
 - ج. واقيات الساقين
8. تستخدم مهارة تمرير الكرة..... في حالات لعب الكرات العالية :
 - أ. بوجه القدم الداخلي
 - ب. بباطن القدم
 - ج. بوجه القدم الخارجي
9. يمكن إشهار البطاقة الصفراء أو الحمراء فقط:
 - أ. اللاعبين الأساسيين
 - ب. البدلاء
 - ج. جميع ما ذكر
10. لا يمكن تسجيل هدف مباشرة في مرمى الخصم من:
 - أ. ركلة الجزاء
 - ب. رمية التماس
 - ج. ركلة المرمى

يتبع



0.5

السؤال الثالث:

أولاً: في ضوء دراستك للمقرر، أجب عما يلي:

أ. أكمل أنواع الجري بالكرة:

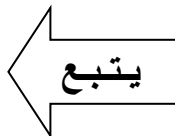
1. الجري بالكرة بوجه القدم الداخلي.
2. الجري بالكرة بوجه القدم الخارجي.
3. الجري بالكرة بوجه القدم الأمامي.

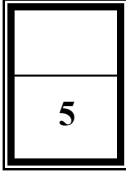
ب. اذكر نوعين من أنواع الخداع في كرة القدم:

1. الخداع بالجسم.
2. الخداع بالكرة.
3. الخداع المركب.

ثانياً: املاً الجدول أدناه بالحكم المناسب (الإنذار/الطرد):

| الحكم | الحالات | |
|---------|--|---|
| الطرد | تلقي اللاعب الإنذار الثاني في نفس المباراة | 1 |
| الإنذار | أظهر اللاعب اعتراضاً بالقول أو بالفعل | 2 |
| الطرد | لاعب مذنباً بارتكاب اللعب العنيف. | 3 |
| الإنذار | ترك اللاعب ميدان اللعب عن عمد دون إذن الحكم | 4 |
| الإنذار | لاعب لا يراعي المسافة المطلوبة عند استئناف اللعب بالركلة الركنية أو الركلة الحرة | 5 |





السؤال الرابع:

ضع رقم الاجابة الصحيحة أمام الصورة المناسبة:

| المهارات | رقم الاجابة | الرسم التوضيحي |
|--------------------------------------|-------------|----------------|
| (1) السيطرة على الكرة بأسفل القدم | (4) | |
| (2) امتصاص الكرة بالصدر | (1) | |
| (3) ضرب الكرة بالرأس | (5) | |
| (4) امتصاص الكرة بالفخذ | (3) | |
| (5) امتصاص الكرة بمشط القدم | (2) | |

انتهت الاجابة