

ملخص مقرر أجا 210



تم تحميل هذا الملف من موقع مناهج مملكة البحرين

موقع المناهج ← مناهج مملكة البحرين ← الصف الثاني الثانوي ← جغرافيا ← الفصل الأول ← ملفات متنوعة ← الملف

تاريخ إضافة الملف على موقع المناهج: 2025-12-29 16:46:28

ملفات اكتب للمعلم اكتب للطالب ا اختبارات الكترونية ا اختبارات ا حلول ا عروض بوربوينت ا أوراق عمل
منهج انجليزي ا ملخصات وتقارير ا مذكرات وبنوك ا الامتحان النهائي ا للمدرس

المزيد من مادة
جغرافيا:

التواصل الاجتماعي بحسب الصف الثاني الثانوي



صفحة مناهج مملكة
البحرين على
فيسبوك

الرياضيات

اللغة الانجليزية

اللغة العربية

التربية الاسلامية

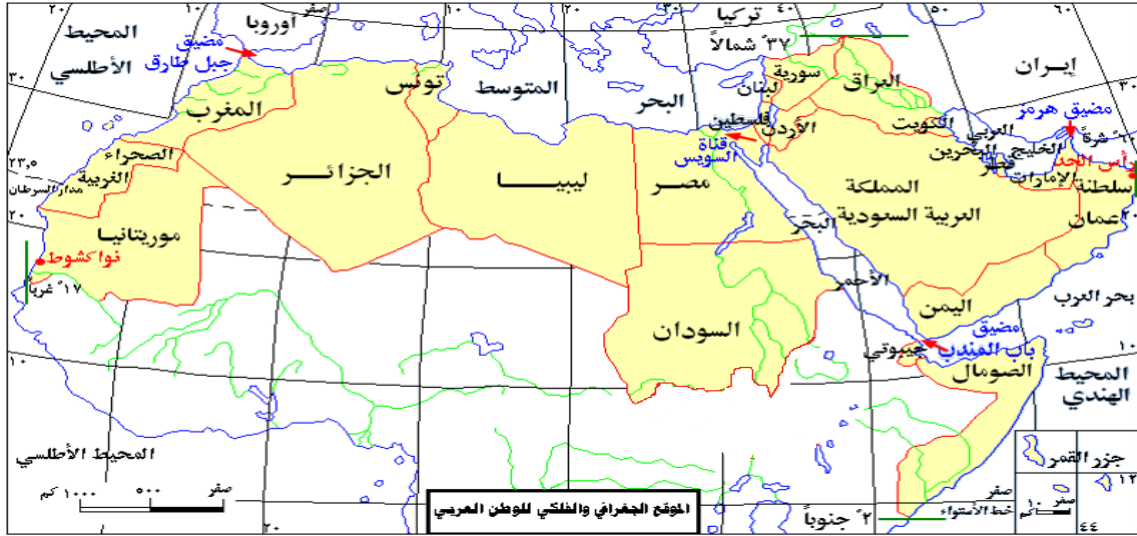
المواد على تلغرام

المزيد من الملفات بحسب الصف الثاني الثانوي والمادة جغرافيا في الفصل الأول

شرح درس أهم الموارد المعدنية في الوطن العربي مقرر أجا 210

1

.. خريطة الوطن العربي ..



- 1- يمر خط غرينتش في دولة: (الجزائر)
- 2- يمتد الوطن العربي حتى 60° شرقاً و 17° غرباً
- 3- يشمل امتداد الوطن العربي 77 درجة طول، بما يعادل 5 مناطق زمنية
- 4- يشمل امتداد الوطن العربي 39 درجة عرض ويقع ما بين 37° شمالاً و 2° جنوباً
- 5- يمر مدار السرطان في وسط الوطن العربي
- 6- يمر خط الاستواء في دولة (الصومال)
- 7- أهم الأنهار في الوطن العربي هي: النيل و دجلة و الفرات و جوبا
- 8- أهم المسطحات المائية في الوطن العربي:
 - الخليج العربي
 - البحر الأحمر
 - البحر المتوسط
 - المحيط الهندي
 - المحيط الأطلسي
- 9- أهم المضائق في الوطن العربي: مضيق هرمز - باب المندب - جبل طارق - صقلية
- 10- من أهم الممرات الاستراتيجية في الوطن العربي قناة السويس
- 11- يمتد الوطن العربي على قارتي: آسيا وأفريقيا
- 12- تفوق مساحة الوطن العربي مساحة قارتي: أوروبا وأوقيانيا
- 13- يتصل الوطن العربي برا بالسودان عبر أراضي أرتيريا
- 14- عددي أسماء الدول العربية:

| | | | |
|------------|----------|-----------|-------------|
| - البحرين | - اليمن | - مصر | - موريتانيا |
| - السعودية | - العراق | - السودان | - جيبوتي |
| - الإمارات | - الأردن | - ليبيا | - الصومال |
| - الكويت | - سوريا | - الجزائر | - جزر القمر |
| - عمان | - لبنان | - تونس | |
| - قطر | - فلسطين | - المغرب | |

أولاً: ضعي دائرة حول الإجابة الصحيحة فيما يأتي:

1. الدولة العربية التي يمر فيها خط الطول غرينتش هي:
 - أ. الجزائر
 - ب. مصر
 - ج. المغرب
 - د. تونس
2. كم منطقة زمنية يعادل حجم الوطن العربي:
 - أ. 3 مناطق زمنية
 - ب. 4 مناطق زمنية
 - ج. 5 مناطق زمنية
 - د. 6 مناطق زمنية
3. المدار الذي يمر في وسط الأرض العربية تقريباً هو:
 - أ. الجدي
 - ب. السرطان
 - ج. خط الاستواء
 - د. الدائرة القطبية
4. يمر خط الاستواء في أقصى جنوب الأرض العربية في دولة:
 - أ. الصومال
 - ب. جيبوتي
 - ج. اليمن
 - د. موريتانيا
5. تبلغ مساحة الوطن العربي:
 - أ. 14 مليون كم
 - ب. 16 مليون كم
 - ج. 18 مليون كم
 - د. 20 مليون كم
6. يمتد الوطن العربي في قارتي:
 - أ. آسيا و أوروبا
 - ب. أفريقيا و أمريكا
 - ج. آسيا و إفريقيا
 - د. أمريكا و استراليا
7. تفوق مساحة الوطن العربي مساحة كل من قارتي:
 - أ. أوروبا و أمريكا
 - ب. أوروبا و أوقيانيا
 - ج. أمريكا و آسيا
 - د. أفريقيا و أوقيانيا
8. ترتبط جيبوتي والصومال بالوطن العربي براً عبر أراضي:
 - أ. اثيوبيا
 - ب. الحبشة
 - ج. كينيا
 - د. إريتريا
9. قناة السويس مسطح مائي يربط بين البحرين:
 - أ. الخليج وبحر العرب
 - ب. بحر العرب والأحمر
 - ج. الخليج العربي والمتوسط
 - د. المتوسط والأحمر
10. البحر الذي يفصل الوطن العربي عن قارة أوروبا هو:
 - أ. الأحمر
 - ب. بحر العرب
 - ج. المتوسط
 - د. الكاريبي

ثانياً: أجبني عما يأتي

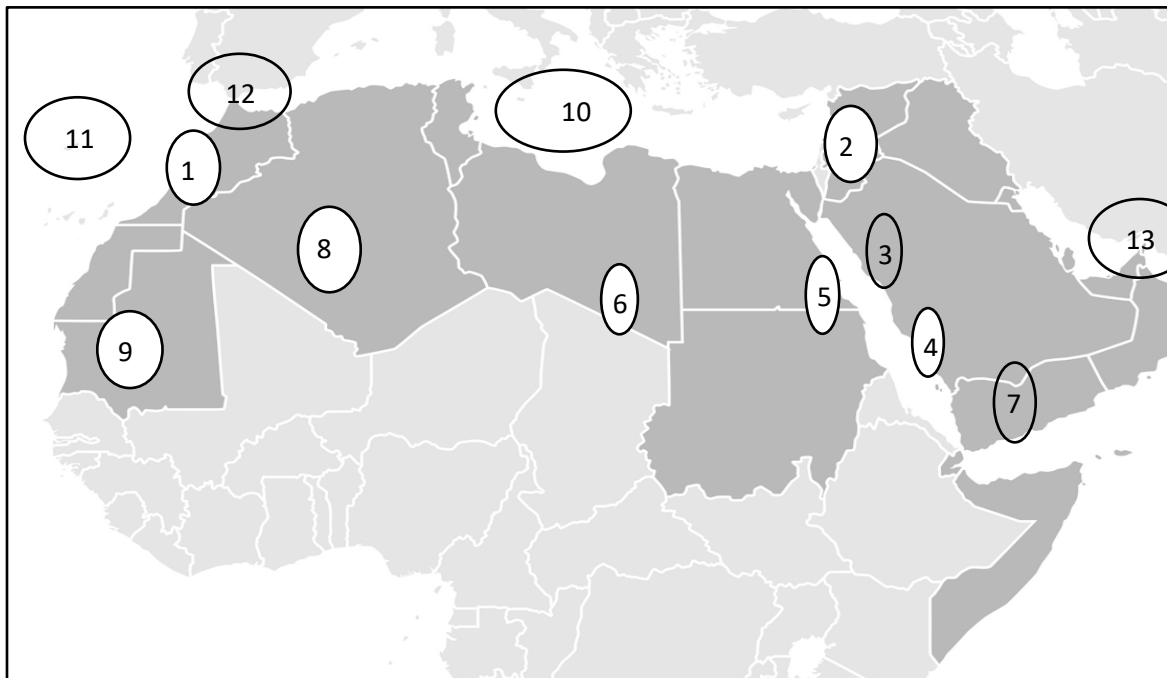
1. عددي نتائج الموقع الفلكي للوطن العربي
 - أ. التنوع المناخي والبيئي
 - ب. التنوع والتكامل بين الأراضي العربية المنتجة
2. ما أهمية قناة السويس
 - تصل بين البحرين المتوسط والأحمر ولا يتعدى طولها 191 كلم.
 - حلقة وصل بين مناطق عالمية مختلفة أهمها دول أوروبا الصناعية ودول الشرق الأقصى الغنية بالمواد الأولية التي تشكل أسواق تصريف للصناعات الأوروبية.
 - قصرت قناة السويس الطريق التي تربط الدول الأوروبية بمنطقة المحيط الهندي عبر رأس الرجاء الصالح حوالي 40%.
3. علي الوطن العربي منطقة عبور
 - يشكل بسبب موقعه وتداخل البر والبحر فيه منطقة عبور سهلة وسريعة وقليلة التكاليف
 - تمر به أهم شبكات الطرق الاقتصادية والعسكرية مثل شبكات نقل النفط (أنابيب النقل والناقلات)
 - عقدة أساسية في شبكات الطيران العالمية، بسبب اتساع الرقعة العربية وصفاء أجوائها ، فتعبر الطائرات أجواءه توفيراً للوقت والمال والتزود بالوقود والصيانة.
4. علي الوطن العربي مجال تجاذب دولي
 - بسبب موقعه الجغرافي للسيطرة على أهم طرق المواصلات العالمية
 - اكتشاف النفط فيه
 - الأرض العربية قريبة من الاتحاد السوفيتي وتحكم في الممرات الاستراتيجية التي تربط الدولة العظمى بالمياه الدافئة
5. علي: التنوع المناخي والبيئي للوطن العربي
 - خضوع معظم الأراضي العربية للظروف المناخية السائدة في العروض المدارية وشبه المدارية وهي المسؤولة عن تكون الصحاري
 - اقتصار معظم تأثيرات المنطقة المعتدلة على الأراضي المحاذية للبحر المتوسط، واقتصار معظم التأثيرات المدارية على المناطق الجنوبية كالصومال والسودان وموريتانيا.

ثالثاً: ضعي المفاهيم التالية حسب مايناسبها من عبارات في الجدول التالي:

العمق الاقليمي – الحدود البرية – الحدود البحرية – المحيط الاطلسي

| المفاهيم | العبارات |
|----------------|--|
| الحدود البحرية | يتجاوز طولها 20 كم وتتميز بكونها طبيعية وواضحة |
| الحدود البرية | منها ماهو طبيعي كسلاسل الجبال ومنها ماهو سياسي جاء رسمه حصيلة المصالح والتوازنات الدولية |
| العمق الاقليمي | اتساع الأراضي بما يسمح للتراجع عند صد هجوم الأعداء |
| المحيط الأطلسي | مسطح مائي يحد الوطن العربي من جهة الغرب |

أولاً: اكتب في الجدول التالي مدلولات الأرقام المثبتة على خريطة الوطن العربي.



| الرقم | اسم الجبال | نوعها |
|-------|----------------------|----------|
| 1 | جبال أطلس | إلتوائية |
| 2 | جبال بلاد الشام | إلتوائية |
| 3 | الحجاز | إنكسارية |
| 4 | عسير | إنكسارية |
| 5 | مرتفعات البحر الأحمر | إنكسارية |
| 6 | تبيستي | بركانية |

| الرقم | مدلول الرقم على الخريطة |
|-------|-------------------------|
| 7 | اليمن |
| 8 | الجزائر |
| 9 | موريتانيا |
| 10 | البحر المتوسط |
| 11 | المحيط الأطلسي |
| 12 | مضيق جبل طارق |
| 13 | مضيق هرمز |

ثانياً: أجبني عما يأتي:

1. وضح مميزات الجبال العربية

- تنتظم في سلاسل تخترقها أودية عميقة
- تشتمل على ممرات سهلة العبور

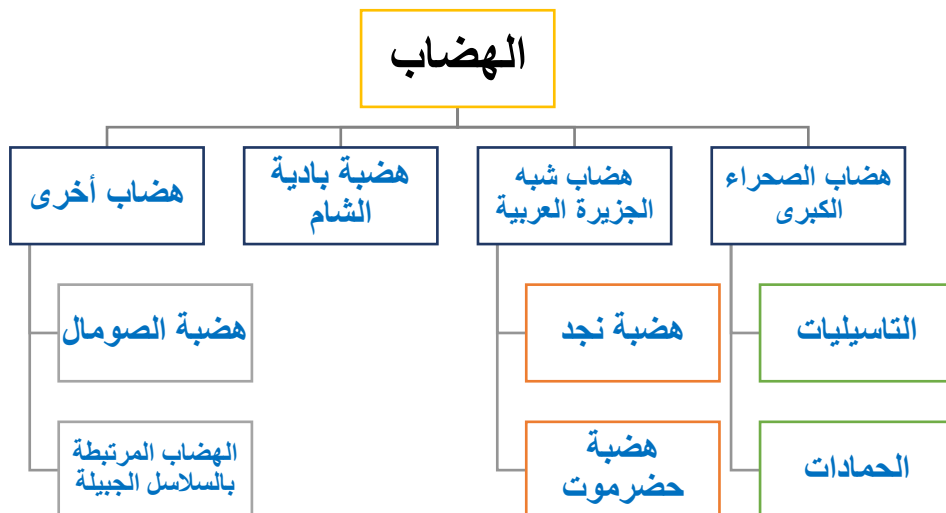
- ودة الاعبور، بحيث يصعب نسبياً اجتيازها والتنقل فيها
- تخترقها بوابات تعبرها اليوم أكثر طرق المواصلات كثافة

2. ما الفرق بين:

| الجبال البركانية | الجبال لانكسارية | الجبال الالوتوائية |
|---|--|---|
| <ul style="list-style-type: none"> - تكوّنت من الماغما المتصلبة في البراكين القديمة. - أهمها وأعلاها جبال تبيستي على حدود الصحراء العربية في أفريقيا. | <ul style="list-style-type: none"> - ناتجة عن ارتفاع الركيزة وتكسرها. - تكوّنت إثر انخساف الأرض في موقع البحر الأحمر وارتفاع حافتي الانخساف الشرقية والغربية. - تشكّل حافتي البحر الأحمر مثل الحجاز وعسير ومرتفعات البحر الأحمر | <ul style="list-style-type: none"> - حديثة التكوين جيولوجياً. - تتعرّض من وقت لآخر للزلازل. - نجمت عن التواء أطراف طبقات الصخور التي غطت مساحة كبيرة من الركيزة العربية. - معظم الجبال المشرفة على البحر المتوسط. - أهمها جبال الأطلس في المغرب العربي وجبال لبنان وسوريا في بلاد الشام. |

اعداد: أ.إيمان علوي الشرخات

1. عرفي الهضاب مبنية بمميزات الهضاب العربية:
هي منبسطة فسيحة تتميز حافاتها بقوة الإنحدار وتخترقها أودية عميقة ذات قيعان واسعة.
مميزاتها: طبيعتها الصحراوية – يغطي غلب سطحها الحصى والحجارة ، فلا تصلح للزراعة والرعي إلا نادراً.
2. صنفى الهضاب



| الحمادات | التاسيليات | العبارات |
|----------|------------|--|
| ✓ | | هضاب ذات سطوح حجرية أو كلسية أو جبسية |
| | ✓ | هي الهضاب المحيطة بكتلة جبال الأحجار ترتفع الى 2000 م |
| ✓ | | ترجع الى الزمنين الثاني والثالث و احيانا الرابع مثل الجلف الكبير في مصر وتندوف وتنغريت |
| | ✓ | يتكون سطحها من الصخور الرملية العائدة للزمن الجيولوجي الاول |
| حضرموت | نجد | |
| | ✓ | تحتوي على بعض الواحات كسدير والقصيم وحنيفة والافلاج |
| ✓ | | ترتفع الى 2000 متر ويفصلها عن هضبة نجد منخفض الربع الخالي |
| | ✓ | تقع في وسط شبه الجزيرة العربية ويتراوح ارتفاعها بين 500 و 900 م |
| ✓ | | تمتد في أقصى جنوب شبه الجزيرة العربية |

مالفرق بين :

| السهول الساحلية | السهول الفيضية |
|--|---|
| <ul style="list-style-type: none"> - تمتد على طول السواحل العربية التي تتميز بالضيق والتقطع وقلة التدرجات - بعضها زراعي مثل سواحل بلاد الشام والمغرب العربي، وبعضها صحراوي قاحل مثل أجزاء من سواحل مصر وليبيا وسواحل الخليج العربي | <ul style="list-style-type: none"> - تكونت من ترسبات الطمي الذي تحمله الأنهار ومن فتات الصخور والتراب المنجرفة - أكثرها اتساعا هي الموجودة حول نهر النيل في مصر والسودان و حول نهري دجلة والفرات في سوريا والعراق، وحول أودية الأنهار الدائمة في بلاد الشام (العاصي اللباني في الأردن) وفي المغرب العربي (مجردة، الشليف، أم الربيع) ، وفي الصومال (شبيلي وجوبا) وموريتانيا(نهر السنغال) - أغلب هذه السهول أراض زراعية خصبة |

عرفي المنخفضات: عملت الرياح على نحت طبقاتها وتجريفها فأصبح ارتفاعها دون مستوى سطح البحر ، وهي اليوم سبخات مالحة المياه ومنخفضات واسعة تزداد مياهها وتقل وفقا لنظام الأمطار

أهم المنخفضات في الوطن العربي وأكثرها عمقا: غور الأردن الذي يسجل 392 دون سطح البحر وهو صالح للزراعة على مدار السنة

1. اختر الاجابة الصحيحة:
 1- من العوامل المؤثرة في مناخ الوطن العربي
 أ- أثر التربة ب- أثر السهول ج- أثر القارية
 2- تسيطر خلايا الضغط المرتفع على منطقة الخليج العربي وشبه الجزيرة العربية والصحراء الكبرى في فصل
 أ- الصيف ب- الشتاء ج- الربيع
 3- تتعرض المسطحات المائية في الوطن العربي لتبخر شديد نتيجة:
 أ- ارتفاع الحرارة ب- ارتفاع الرطوبة ج- ارتفاع المتساقطات
 4- الرياح التي تهب على شمال افريقيا يطلق عليها:
 أ- الكوس ب- الشهيلي ج- الطوز
 5- تؤدي المسطحات المائية في الوطن العربي إلى:
 أ- الزيادة في الرطوبة ب- النقص في الرطوبة ج- ارتفاع معدلات الحرارة
 6- تسيطر خلايا الضغط المرتفع في فصل الصيف على المناطق:
 أ- المتوسطية ب- المدارية ج- الجنوبية
 7- جميع ما يأتي من خصائص نظام الأمطار في الوطن العربي ماعدا:
 أ- فصلية المطار ب- الهطول الكثيف ج- ثبات كمية الأمطار في كل عام

2. وضح العوامل المؤثرة في مناخ الوطن العربي:

- الحركة العامة للهواء فوق المنطقة المدارية
- أثر المسطحات المائية
- أثر القارية
- أثر التضاريس

3. وضح التأثيرات المناخية الناتجة عن الحركة العامة للهواء فوق المنطقة المدارية

- سلسلة من خلايا الضغط المرتفع الدائمة في المناطق المدارية
- سلسلة من الصحاري الحارة في المنطقة المدارية الناتجة عن جفاف الهواء وارتفاع حرارته

4. اكمل:

في فصل الشتاء تسيطر خلايا الضغط المرتفع على منطقة الخليج العربي وشبه الجزيرة العربية والصحراء الكبرى

وضغط منخفض في المناطق المتوسطية فتصل رياح غربية ماطرة

في فصل الصيف يسيطر الضغط المرتفع على المناطق المتوسطية وتهب رياح موسمية ماطرة

اكتب اسماء الدول التي تهب عليها الرياح التالية:

الخماسين: مصر وسوريا ولبنان الطوز: العراق

الشهيلي: شمال افريقيا

5. وضح اثر كل من التأثيرات التالية على مناخ الوطن العربي:

| | |
|----------------------------|---|
| أثر المسطحات المائية | - تؤدي المسطحات المائية إلى زيادة الرطوبة - يتكون الضباب فوق سفوح الجبال وتتساقط الأمطار - تقلص الفروقات الحرارية الفصلية واليومية اذ أن اختزان مياه البحر للحرارة يخفض درجات الحرارة العالية ويرفع درجات الحرارة المتدنية |
| أثر القارية | - يؤدي اتساع رقعة الوطن العربي وارتفاع السلاسل الجبلية على اطرافه إلى جعل مناطق الداخلية بعيدة عن تأثير المسطحات المائية - يزيد المدة الحرارية السنوي واليومي كلما اتجهنا نحو الداخل |
| أثر التضاريس | - تنخفض درجات الحرارة في المناطق الجبلية 6 درجات مئوية كلما ارتفعنا 1000 متر - تسبب الجبال تصاعد الهواء الرطب فيبرد و يتكاثف ويسقط أمطارا تسمى الأمطار التضاريسية - وعندما تعبر الرياح قمم الجبال في منطقة ظل المطر تصبح الرياح أقل رطوبة و ترتفع حرارتها |

6. وضح خصائص نظام الأمطار في الوطن العربي

- تفاوت كمية الأمطار بين سنة وأخرى
- فصلية الأمطار: تتركز في فصل الصيف في جنوب الوطن العربي و في فصل الشتاء في شماله
- الهطول الكثيف

7. علل تعرض المسطحات المائية في المنطقة العربية للتبخر الشديد:

- أ- ارتفاع الحرارة
- ب - الإشعاس القوي
- ج- النقص في الرطوبة

8. عرف الجفاف:

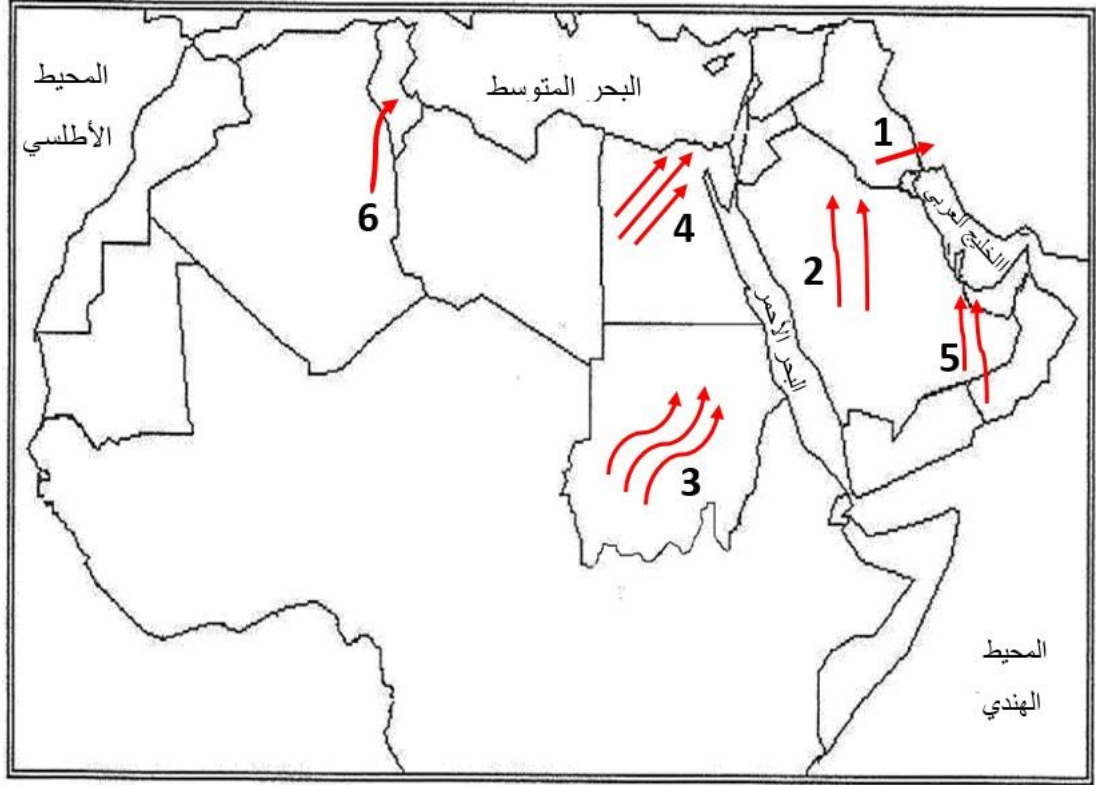
حالة تعبر عنها معادلة تتضمن في طرفها الأول كميات الأمطار المتساقطة وفي طرفها الثاني التبخر والنتح وتذبذب الأمطار

9. وضح انعكاسات الجفاف:

- أ. نقص متفاوت الحدة في كميات المياه الهائلة والجارية أو المخزونة في التربة
- ب. عجز كميات المياه عن تلبية حاجات الانسان والنبات والحيوان

أولاً: خريطة الرياح ص 21 حفظ

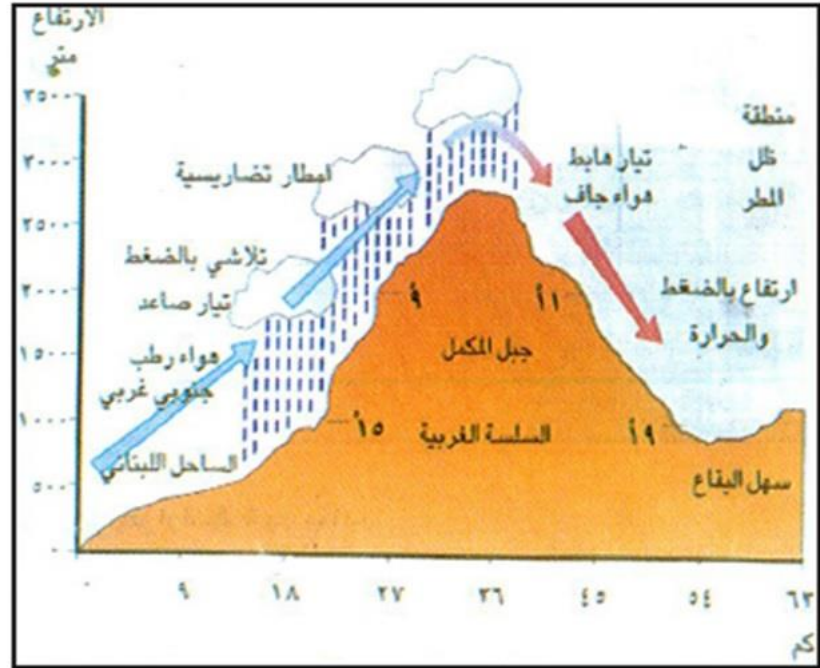
حدد أسماء الرياح التي تهب على الوطن العربي



| الرياح | الرقم |
|-------------------|-------|
| الطوز في العراق | 1 |
| السموم | 2 |
| الهبوب في السودان | 3 |
| الخماسين في مصر | 4 |
| الكوس | 5 |
| الشهيلي | 6 |

ثانياً: مستند 4 ص 21 – منطثة ظل المطر

أمامك مقطع نظري لجبل المكمل في لبنان، تأمل المستند ثم أجب عن الأسئلة التي تليه



أكمل:

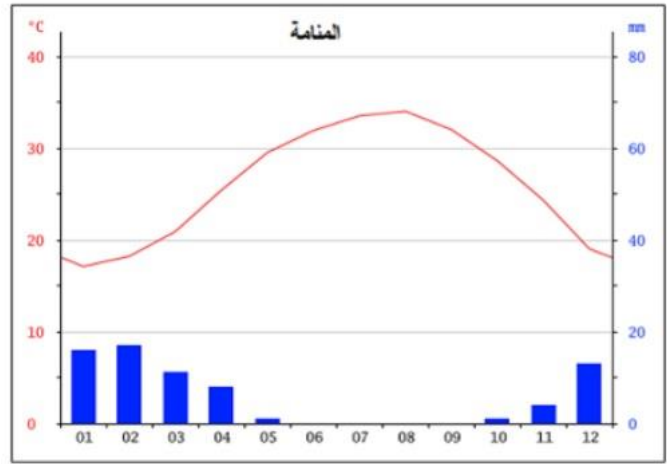
تنخفض درجات الحرارة كلما ارتفعنا 1000 متر عن مستوى سطح البحر بمعدل 6 درجات مئوية
الأمطار التي تسقط على السفوح المواجهة للبحر تسمى الأمطار التضاريسية
عندما تعبر الرياح قمم الجبال تصبح أقل رطوبة و ترتفع حرارتها في منطقة تسمى ظل المطر

وضح أثر النضاريس في مناخ الوطن العربي

- تنخفض درجات الحرارة في المناطق الجبلية 6 درجات مئوية كلما ارتفعنا 1000 متر
- تسبب الجبال تصاعد الهواء الرطب فيبرد و يتكاثف ويسقط أمطاراً تسمى الأمطار التضاريسية
- وعندما تعبر الرياح قمم الجبال في منطقة ظل المطر تصبح الرياح أقل رطوبة و ترتفع حرارتها

ثالثاً: مستند 10 ص 25 – الحرارة والأمطار في الوطن العربي

| الشهر | يناير | فبراير | مارس | أبريل | مايو | يونيو | يوليو | أغسطس | سبتمبر | أكتوبر | نوفمبر | ديسمبر |
|--------------------------|-------|--------|------|-------|------|-------|-------|-------|--------|--------|--------|--------|
| الأمطار بالملتر | 16 | 17 | 11 | 8 | 1 | 0 | 0 | 0 | 0 | 1 | 4 | 13 |
| الحرارة بالدرجات المئوية | 17.1 | 18.2 | 20.9 | 25.4 | 29.5 | 31.9 | 33.5 | 34 | 32 | 28.6 | 24.3 | 19 |



1- توزّع درجات الحرارة خلال أشهر السنة، والفصل أو الفصول الحرارية.

- تكون الحرارة مرتفعة من شهر ابريل إلى شهر أكتوبر (تفوق 25°)، وتكون معتدلة من شهر نوفمبر إلى شهر مارس (بين 17° و 24°).
- تتميّز المناخة بفصلين حراريين: فصل حار وطويل وهو فصل الصيف، وفصل معتدل وقصير وهو فصل الشتاء.

2- احسب المدى الحراري السنوي.

$$34^{\circ} - 17,1^{\circ} = 16,9^{\circ}$$

3- مجموع كمية الأمطار، وتوزّعها خلال أشهر السنة، والذروة المطرية وأدنى كمية للأمطار.

- مجموع كمية الأمطار في المناخة خلال السنة 71 ملم.
- تنزل الأمطار بين شهر أكتوبر وشهر مايو بكميات قليلة.
- تنزل أعلى كمية (الذروة المطرية) في شهر فبراير، وأقل كمية في شهري أكتوبر ومايو.

4- العلاقة بين الحرارة والأمطار، والشهر أو الفصل الجاف.

- نلاحظ من خلال الرسم أن منحنى الحرارة يعلو مستطيلات الأمطار طيلة أشهر السنة، وهذا يعني أن الجفاف يسود طيلة السنة في المناخة، وبالتالي غياب شهر أو فصل رطب.

5- نوع المناخ الذي تنتمي إليه المدينة.

- المناخ الذي تنتمي إليه المناخة هو المناخ الصحراوي الجاف.

اختر الاجابة الصحيحة:

- 1- المصدر الرئيسي للمياه المخصصة للإنتاج الزراعي في الوطن العربي هو مياه:
 - أ. الأمطار
 - ب. الأنهار
 - ج. الينابيع
- 2- من الدول العربية الأولى في استعمال مياه الصرف هي:
 - أ. السودان
 - ب. المغرب
 - ج. مصر
- 3- تعتبر دول الخليج وليبيا أكثر الدول العربية اعتماداً على تحلية مياه البحر (صح أم خطأ)
 - أ. صح
 - ب. خطأ
- 4- توجد المياه الجوفية العميقة في طبقات محدودة الإتساع والعمق في الأودية والسهول الفيضية (صح أم خطأ)
 - أ. صح
 - ب. خطأ
- 5- أي من الدول التالية تقع فوق خط الفقر المائي
 - أ. العراق
 - ب. اليمن
 - ج. تونس
- 6- أي من الدول التاية تقع تحت خط الفقر المائي
 - أ. سوريا
 - ب. عمان
 - ج. الجزائر
- 7- يعتبر من أفقر الأقاليم من حيث المياه الجوفية العليا والسطحية هو:
 - أ. المغرب العربي
 - ب. شبه الجزيرة العربية
 - ج. المشرق العربي

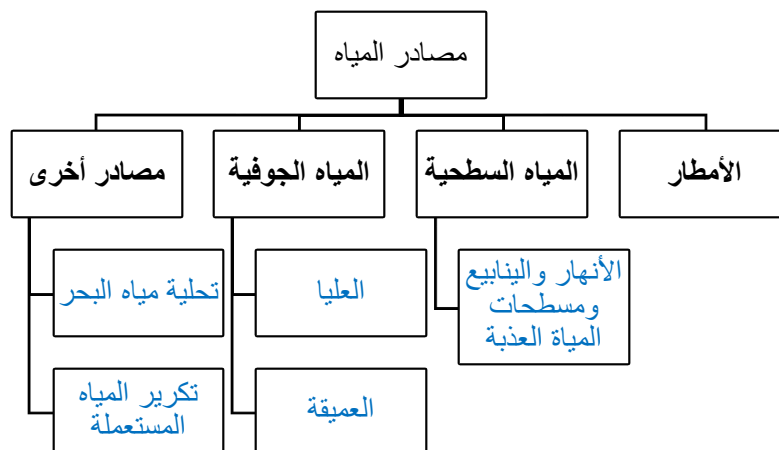
وضح أسباب تزايد الحاجة (الطلب) على المياه في الوطن العربي:

- 1- تأثير النمو السكاني الكبير وخاصة النمو الحضري
- 2- التوسع في الأنشطة الزراعية والصناعية والسياحية

علل: تتطلب الثروة المائية في الوطن العربي اهتماماً خاصاً:

لأنها من الموارد المحدودة بسبب الظروف المناخية السائدة

وضح مصادر المياه في الوطن العربي:



أكمل ما يأتي:

المصدر الرئيسي للمياه المخصصة للإنتاج الزراعي هي الأمطار ...
 الأكثر استخداماً لسهولة الحصول عليها الا ان قسماً كبيراً منها يذهب في البحر أو يتبخر هي المياه السطحية
 من الدول الأولى في تكرير استعمال مياه الصرف الصحي هي ... مصر ...

| المياه الجوفية العميقة | المياه الجوفية العليا |
|--|--|
| <ul style="list-style-type: none"> - توجد في طبقات واسعة وسميكة جدًا وعميقة. - يعد مشروع النهر الصناعي العظيم في ليبيا من أكبر المحاولات التي تنفذ لاستخدام هذا النوع من المياه. | <ul style="list-style-type: none"> - توجد في طبقات محدودة الاتساع في الأودية والسهول الفيضية. - تقدر كمياتها بحوالي 42 مليار م³. - تكثف الاستثمار لهذه المياه لسهولة الحصول عليها. |

وضح مفهوم الميزان المائي:

يتضمن من جهة اجمالي الطلب على المياه ومن جهة أخرى المياه المستخدمة ويعتبر عاجزا بالنسبة لمعظم الدول العربية

حدد أسماء الدول العربية الواقعة فوق خط الفقر المائي:

- 1- العراق
- 2- سوريا
- 3- موريتانيا
- 4- السودان
- 5- سلطنة عمان

وضح مشاكل استغلال المصادر المائية في الوطن العربي:

- 1- الإسراف في استخدام المياه عند ري المزروعات بسبب طريقة الري السيحي (الراح)
- 2- استنزاف بعض الخزانات الجوفية القريبة من السطح بسبب الافراط في الضخ مما أدى إلى تملح الآبار وتلوثها
- 3- تزايد ملوحة بعض الأنهار كدجلة
- 4- تلوث مياه بعض الآبار بسبب المواد المستعملة في الزراعة و تحويل مياه الصرف الصحي
- 5- النقص في المختصين والفنيين المدربين في مجال حفر الآبار وادارتها

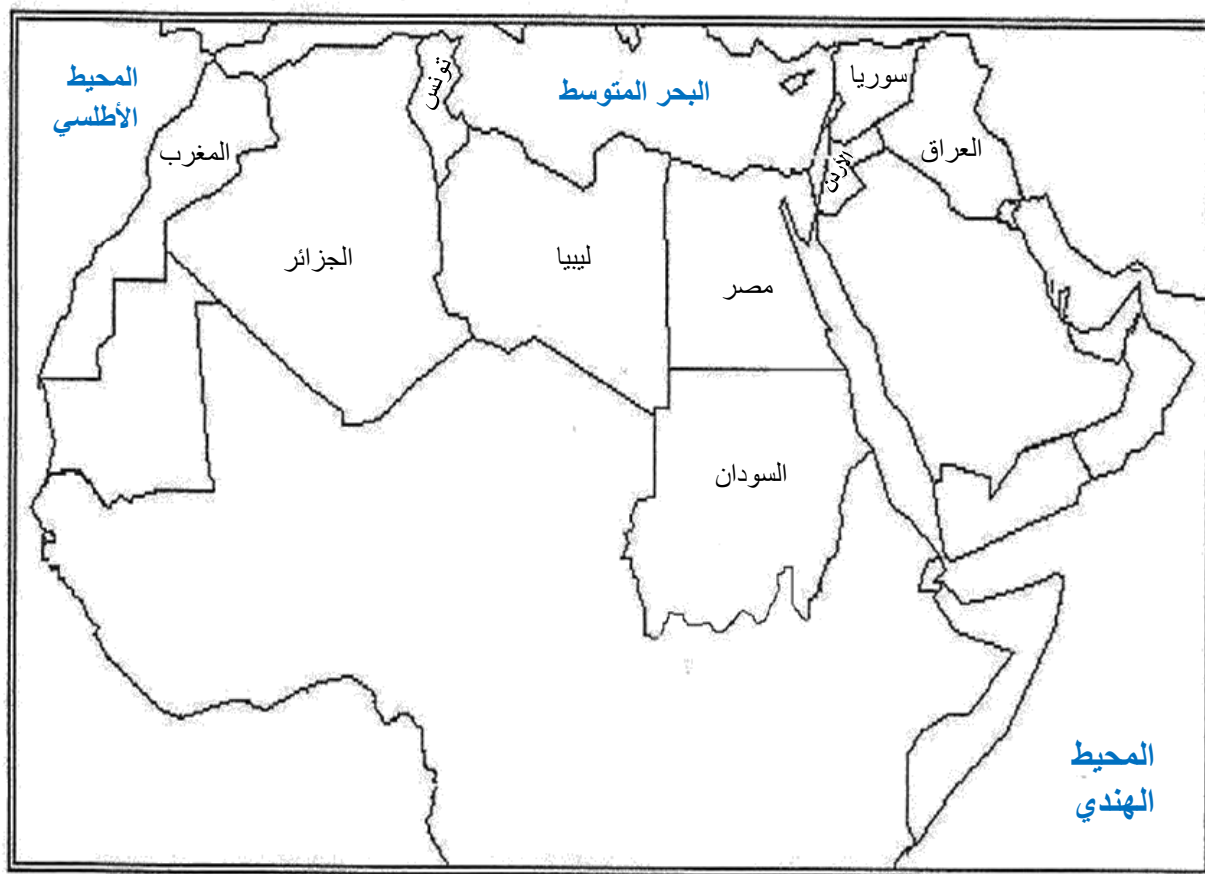
علل اهتمام معظم الدول العربية منذ الخمسينات بالمشاريع المتعلقة باستصلاح الثروة المائية واستثمارها

- 1- الحد من الفيضانات
- 2- تجفيف الأراضي واستصلاحها
- 3- تخزين المياه السطحية
- 4- تنظيم ري دائم و ثابت
- 5- تأمين مياه الشرب
- 6- توليد الطاقة الكهربائية
- 7- تغذية خزانات المياه الجوفية

عدد أهم المشاريع المائية في الوطن العربي:

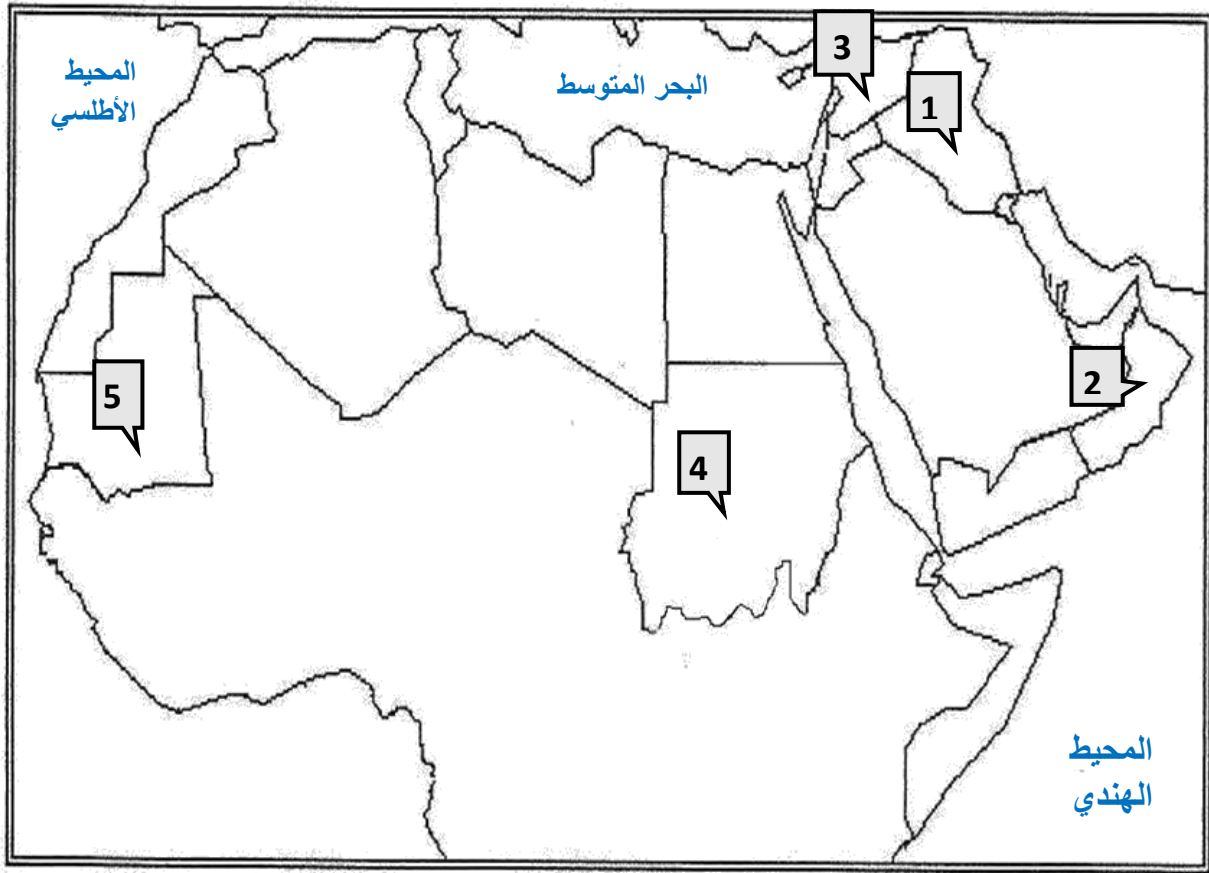
| الاهلال الخصيب | | | المغرب العربي | | | | وادي النيل | |
|----------------|---------------|----------------|---------------|----------|----------------|----------------------|-------------------|-------------|
| سوريا | الأردن | العراق | الجزائر | تونس | المغرب | ليبيا | السودان | مصر |
| مشروع الفرات | سد الملك طلال | بحيرة الحبانية | سد عنابة | سد مجردة | سد علال الفاسي | النهر الصناعي العظيم | خزان جبل الأولياء | السد العالي |

اكتب اسماء المشاريع المائية حسب كل دولة:



| الرقم | الدولة |
|---------|----------------------|
| العراق | بحيرة الحباتية |
| سوريا | مشروع الفرات |
| الأردن | سد الملك طلال |
| مصر | السد العالي |
| السودان | خزان جبل الأولياء |
| ليبيا | النهر الصناعي العظيم |
| تونس | سد مجردة |
| الجزائر | سد عناية |
| المغرب | سد علال الفاسي |

حدد على خريطة الوطن العربي الدول التي تقع فوق خط الفقر المائي:



| الدولة | الرقم |
|------------|-------|
| العراق | 1 |
| سلطنة عمان | 2 |
| سوريا | 3 |
| السودان | 4 |
| موريتانيا | 5 |

اختر الاجابة الصحيحة:

1. المرتبة التي يحتلها الوطن العربي من حيث عدد السكان في العالم:
أ. الأولى
ب. الثانية
ج. الثالثة
2. يضم اقليم وادي النيل كل من:
أ. مصر والسودان
ب. جيبوتي والصومال
ج. جيبوتي والسودان
3. الدولة العربية التي تقع ضمن اقليم المشرق العربي أو الهلال الخصيب هي:
أ. ليبيا
ب. العراق
ج. الكويت
4. تعتبر دول المغرب العربي وسوريا من الدول ذات نسبة تحضر:
أ. المرتفعة
ب. المتوسطة
ج. المنخفضة
5. يعود النمو السكاني السريع في الوطن العربي إلى:
أ. تدني الوفيات
ب. ارتفاع الولادات
ج. زيادة الهجرة
6. من أسباب بقاء معدل الولادات مرتفعاً في الدول العربي:
أ. انخفاض نسبة الأمية
ب. انتشار الزواج المبكر
ج. ارتفاع نسبة النساء العاملات

صح أم خطأ

- تعتبر الكثافة السكانية في الوطن العربي مرتفعة بسبب الامتداد الكبير للصحراء (خطأ)
- تعتبر أحواض الأنهار والأودية كالنيل و دجلة والفرات من أهم البؤر السكانية في الوطن العربي (صح)
- تستقطب الدول العربية النفطية اليد العاملة للمساهمة في إرساء البنية التحتية المدنية والزراعية والصناعية (صح)
- تعتبر لبنان وتونس والمغرب من فئة الدول ذات النمو السكاني المرتفع (خطأ)

وضح الأثر الاقتصادي لحجم السكان في الوطن العربي:

يشكل الثقل السكاني في الوطن العربي عامل قوة اقتصادية فهو مخزن لليد العاملة وسوق استهلاكية مهمة، لكن انخفاض مستوى التأهيل المهني وضعف الدخل في معظم الدول العربية يجعلان من كثافة السكان عبئاً ثقيلاً على الدولة، فيصبح من واجبها مضاعفة الاستثمارات لتأمين فرص العمل ورفع مستوى المعيشة، أما عالمياً فإنه يشكل سوق استهلاكية ضخمة تتنافس عليه دول الغرب الصناعي ودول جنوب شرق آسيا.

علل: يشكل الثقل السكاني في الوطن العربي عامل قوة اقتصادية:

- مخزن لليد العاملة
- سوق استهلاكية

علل: انخفاض نسبة الكثافة السكانية العامة في الوطن العربي

- الامتداد الكبير للصحراء القاحلة التي بقيت خالية من السكان ، فالأراضي الصالحة للزراعة لا تمثل سوى 8%

وضح البؤر السكانية التي نشأت في الوطن العربي بسبب توفر المياه والتربة الصالحة للزراعة

- أحواض الأنهار والأودية كالنيل ودجلة والفرات
- المناطق الساحلية مثل سواحل المتوسط والمحيط الأطلسي
- بعض المناطق الجبلية في الجزائر والمغرب ولبنان

وضح الأقاليم الجغرافية السكانية الخمسة الكبرى التي ينقسم إليها الوطن العربي

| الأقاليم | الدول |
|---------------------------|---|
| إقليم الهلال الخصيب | لبنان – فلسطين – الأردن – سوريا – العراق |
| إقليم شبه الجزيرة العربية | دول مجلس التعاون واليمن |
| إقليم وادي النيل | مصر والسودان |
| إقليم المغرب العربي | المغرب – الجزائر – تونس – ليبيا – موريتانيا |
| إقليم القرن الأفريقي | جيبوتي – الصومال |

صنف الدول العربية الى 3 مجموعات وفقا لنسبة السكان الحضر فيها

| الدول | الفئات |
|------------------------------|--------------------------|
| الدول النفطية والأردن ولبنان | دول ذات نسبة تحضر مرتفعة |
| دول المغرب العربي وسوريا | دول ذات نسبة تحضر متوسطة |
| السودان والصومال و اليمن | دول ذات نسبة تحضر منخفضة |

علل: سرعة النمو السكاني في الوطن العربي

- تدني الوفيات
- بقاء معدل الولادات مرتفعا
- زيادة الهجرة الوافدة

علل: تدني الوفيات بصفة مستمرة في الوطن العربي

- تحسن الأوضاع الصحية
- ارتفاع مستوى معيشة السكان

علل: بقاء معدل الولادات مرتفعا في الدول العربية:

- ارتفاع نسبة الأمية
- انخفاض نسبة النساء العاملات
- انتشار الزواج المبكر لدى الاناث
- فشل سياسات تنظيم الانجاب

علل: زيادة الهجرة الوافدة للوطن العربي

للمساهمة في ارساء البنية التحتية المدنية والزراعية والصناعية

صنف الدول العربية الى 3 فئات وفقاً لمعدلات النمو السكاني

| سنوات التضاعف | الدول | الفئات |
|---------------|--|--------------------------------------|
| 35 سنة | السعودية – العراق – جيبوتي – الصومال – ليبيا – موريتانيا | دول ذات نمو سكاني مرتفع (يتجاوز 2%) |
| 50 سنة | الجزائر – السودان – مصر – الامارات – قطر - البحرين | دول ذات نمو سكاني متوسط (1.4 – 2%) |
| 100 سنة | لبنان – تونس - المغرب | دول ذات نمو سكاني منخفض (0.7 – 1.4%) |

علل النزوح الريفي ونمو المدن:

- بسبب تردي الأوضاع الاقتصادية والاجتماعية في الارياف
- توفر فرص عمل افضل في المدن

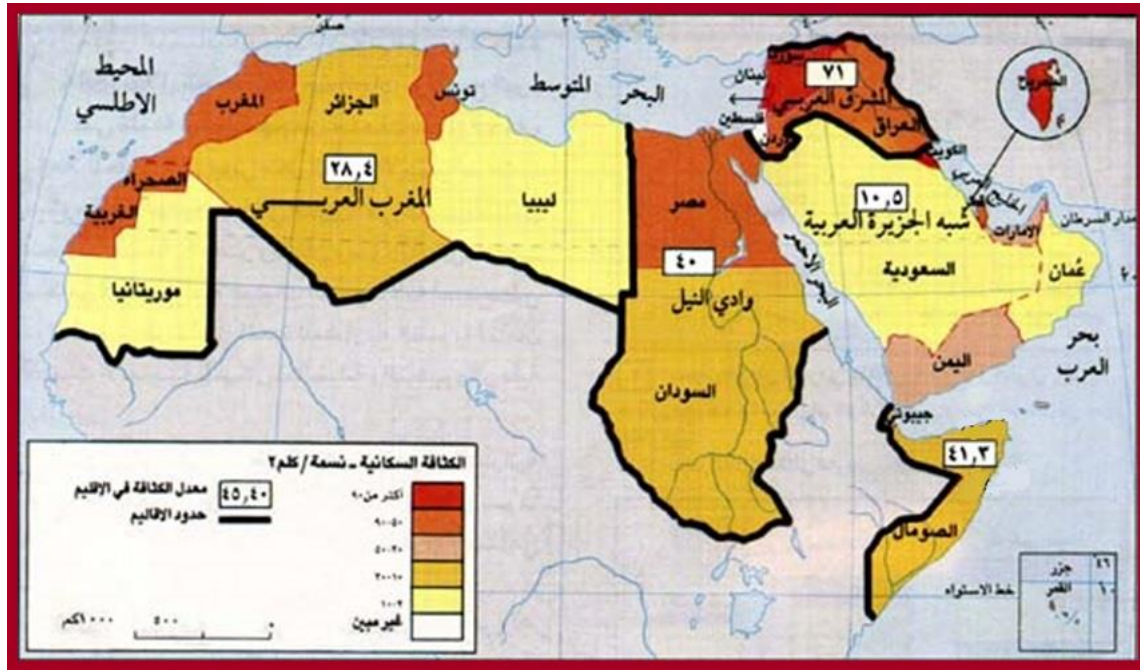
علل: التوجه نحو الدول العربية النفطية

تستقطب الدول النفطية العمال والكوادر من دول شرق وجنوب شرق آسيا بسبب ارتفاع عائدات النفط

وضح تيارات هجرة السكان بين الدول العربية وبين الخارج

- أ- الهجرة نحو الدول العربية النفطية
- ب- الهجرة إلى خارج الوطن العربي

وضح الأقاليم السكانية الكبرى في الوطن العربي:



| الأقليم | الدول | |
|---------|--------------------------------|---|
| ١ | المشرق العربي (الهلال الخصيب) | لبنان وفلسطين والأردن وسوريا والعراق |
| ٢ | شبه الجزيرة العربية | دول مجلس التعاون الخليجي (البحرين - السعودية - الكويت - قطر - الإمارات - عمان) واليمن |
| ٣ | وادي النيل | مصر والسودان |
| ٤ | المغرب العربي | المغرب والجزائر وتونس وليبيا وموريتانيا |
| ٥ | القرن الأفريقي | جيبوتي والصومال |

اختر الاجابة الصحيحة:

- عدد السنوات التي يتوقع أن يحياها طفل في حالة استمرار عوامل الوفاة السائدة وقت ولادته على ما هي عليه طوال حياته هو

ج. معدل الولادات

ب. وفيات الرضع

أ. العمر المتوقع عند الولادة

- جميع ما يأتي من مؤشرات الوضع الاجتماعي ماعدا

ج. المرأة

ب. الرعاية الصحية

أ. التعليم

- من سلبيات قطاع الرعاية الصحية في الوطن العربي

ج. ضخامة عدد الأطباء

ب. تفاوت الرعاية الصحية بين الدول العربية

أ. انخفاض عدد السكان

- من الدول التي يرتفع فيها مؤشر حالة الغذاء:

ج. الأردن والسعودية

ب. سوريا وموريتانيا

أ. اليمن والسودان

- تحسب حصة الفرد من الناتج المحلي الإجمالي بقسمة الناتج المحلي الإجمالي على عدد السكان

ب. خطأ

أ. صح

حدد مؤشرات التنمية البشرية:

| المؤشرات | تشمل على: |
|--------------------|---|
| مؤشرات الوضع الصحي | 1. العمر المتوقع عند الولادة 2. وفيات الرضع 3. الرعاية الصحية 4. حالة الغذاء |
| الوضع الاجتماعي | 1. التعليم 2. أوضاع المرأة |
| الوضع الاقتصادي | 1. تفاوت المداخل بين الدول العربية 2. خدمات المياه والطاقة |

وضح العمر المتوقع عن الولادة:

- العمر المتوقع عند الولادة هو: عدد السنوات التي يتوقع أن يحياها طفل منذ الولادة في حالة استمرار عوامل الوفاة السائدة وقت ولادته على ما هي عليه طوال حياته
- حقق الوطن العربي تحسنا حيث تجاوز معدل الاعمار 65 سنة اواخر التسعينات بعد أن كان 50 سنة في الخمسينات
- تشهد الدول العربية تفاوتاً: ففي الكويت والبحرين يقارب معدل النمو المتوقع معدل الدول المتقدمة (76سنة)
- بينما يبقى متخففاً في: الصومال والسودان وجيبوتي وموريتانيا واليمن
- في كل الدول العربية يفوق معدل العمر المتوقع لدى الاناث نظيره لدى الذكور

ماهي التطورات التي حققها الوطن العربي في مجال الرعاية الصحية؟

- 1- الدول العربية تتابع برامج منظمة الصحة العالمية للوقاية والتلقيح
- 2- الدول النفطية تطبق برامج خاصة تعنى بالمسنين والحوامل والأطفال والمعاقين
- 3- مكافحة عدد من الأمراض والأوبئة فانهسرت الملاريا والبلهارسيا

ماهي السلبيات التي مازالت قائمة في مجال الرعاية الصحية في الوطن العربي:

1. تفاوت الرعاية الصحية بين الدول العربية وداخل كل دولة حيث ترتفع في المدن وتنخفض في الأرياف
2. ضخامة عدد السكان في الوطن العربي الذين لا تشملهم الرعاية الصحية

وضح مؤشر حالة الغذاء في الوطن العربي:

يعتبر متوسط انتاج الفرد من الغذاء في الوطن العربي منخفضا جدا بالمقارنة مع الدول المتقدمة
الدول التي يسجل فيها مؤشر انتاج الغذاء تزايدا: الأردن والسعودية وتونس
الدول التي تسجل تناقصا في مؤشر الغذاء: موريتانيا والصومال وجيبوتي

اذكري معوقات التعليم في الوطن العربي

1. نقص في نسبة الإناث الملتحقات بالتعليم
2. عدم وجود مدارس بأعداد كافية في بعض الدول الكبيرة سكانيا
3. ارتفاع معدلات الرسوب والتسرب
4. ارتفاع نسبة الأمية في الوطن العربي

وضحي أوضاع المرأة في الوطن العربي:

لعبت المرأة دورا منتجا وأساسيا في الحياة الاقتصادية والاجتماعية، فقد دخلت ميادين العلم والعمل
معظم التقدم على صعيد الصحة والتغذية في العائلة بالنسبة للرضع والأطفال يرجع إلى تعلم المرأة والتدبير المنزلي

وضح مؤشر حصة الفرد من الناتج المحلي الاجمالي:

تشكل حصة الفرد من الناتج المحلي الإجمالي مؤشرا اقتصاديا للثروة والفقر في بلد معين ونحصل عليه بقسمة الناتج المحلي الإجمالي على عدد السكان

يرتفع في بعض الدول النفطية

وينخفض في السودان واليمن و موريتانيا

وضح المشاكل التي تعاني منها الدول العربية الزراعية ذات المداخل المتدنية:

- الجفاف
- الحروب
- جهل المزارعين
- النقص في الرساميل الزراعية

صف تطور نصيب الفرد من خدمات المياه والطاقة في الوطن العربي:

- مايزال مؤشر الحصول على المياه الصالحة للشرب دون المستوى المطلوب بشكل عام،
- بينما تصل النسبة إلى 100% في مملكة البحرين وتزيد على 95% في السعودية وليبيا والأردن،
- إلا أنها تنخفض عن 50% في كل من اليمن (46%) والصومال (35%) والسودان (21%).

ماهي المرتبة التي حققتها البحرين في مجال التنمية البشرية للأمم المتحدة للعام 2011 على المستويين العربي والاسلامي والعالمي؟

- حققت مملكة البحرين المرتبة (الثالثة) عربيا واسلاميا
- والمرتبة (الاربعين) عالميا

اختر الاجابة الصحيحة:

- جميع ماياتي من التغيرات التي حدثت في بنية الاقتصاد العربي ماعدا:
 - أ. ارتفاع حصة الصناعة الاستخراجية ب. ارتفاع مساهمة قطاع الزراعة ج. بقاء مساهمة قطاع الخدمات في 43%
 - حدد الدول التي يعتمد اقتصادها على النفط من بين الدول التالية: (يمكن اختيار أكثر من اجابة صحيحة)
 - أ. ليبيا ب. العراق ج. تونس د. الجزائر هـ. المغرب
 - حدد الدول ذات الاقتصادات غير النفطية من بين الدول التالية: (يمكن اختيار أكثر من اجابة صحيحة)
 - أ. الصومال ب. الكويت ج. سوريا د. مصر هـ. العراق
 - الاقتصاد المعيشي الاكتفائي الذي يهدف إلى تلبية الحاجات الداخلية هو:
 - أ. نمط الانتاج التقليدي ب. نمط الانتاج الحديث د. نمط احادي الانتاج
 - من خصائص نمط الانتاج الحديث:
 - أ. مداخيله منخفضة ب. يعتمد على اقتصاد تبادلي ج. يعتمد على الطاقة العضلية

1. القطاعات الأساسية للاقتصاد:

- الزراعة - الصناعة - التجارة والخدمات

2. وضح التغيرات في بنية الاقتصاد العربي

- ارتفاع حصة الصناعة الاستخراجية
- تراجع مساهمة قطاع الزراعة
- بقاء مساهمة قطاع الخدمات في حدود 43%

3. صنفى الاقتصادات النفطية وغير النفطية

| العبارات | الاقتصادات النفطية | الاقتصادات غير النفطية |
|---|--------------------|------------------------|
| 1 تشمل الدول العربية التي لا تعتمد على النفط مثل: زراعي: الصومال ، نصف مصنع: مصر وتونس وسوريا، الخدمات: لبنان | | √ |
| 2 نمو الصناعات التحويلية مع بقائها عاجزة عن تلبية حاجات السوق المحلية | | √ |
| 3 سيطرة قطاع الصناعات الاستخراجية | √ | |
| 4 تشمل دول مجلس التعاون الخليجي وليبيا والعراق والجزائر | √ | |
| 5 تراجع حصة القطاع الزراعي من الناتج المحلي الاجمالي | | √ |
| 6 سيطرة قطاع التجارة و الخدمات | | √ |
| 7 تراجع نمو القطاع الزراعي بسبب ضعف الاستثمارات المخصصة للزراعة | √ | |
| 8 استقرار نمو الصناعات التحويلية لان الدولة هي الممول الأساس للمشاريع الصناعية | √ | |

4. عدي خصائص الاقتصاد العربي:

1. اقتصاد ثنائي
2. اقتصاد يتأرجح بين القطاع العام والخاص
3. الدولة منشط اقتصادي
4. اقتصاد مندمج بالاقتصاد الدولي
5. اقتصاد قائم على تصدير الخامات

مالفرق بين نمط الانتاج التقليدي و نمط الانتاج الحديث.

| | |
|----------------------|---|
| نمط الانتاج التقليدي | - يعتمد على الاقتصاد المعيشي الاكتفائي الذي يهدف الى تلبية الحاجات الداخلية -مبادلاته مع الخارج محدودة -يعتمد على الطاقة العضلية اساسا وان دخنته بعض الادوات البسيطة - ينتشر في ارياف السودان والصومال واليمن وموريتانيا - مداخيله منخفضة - تتطلب عملية تحديثه رساميل مهمة و ناهيلا لليد العاملة |
| نمط الانتاج الحديث | -يعتمد على اقتصاد تبادلي يلبي حاجات السوق الداخلية والخارجية - مثل قطاع استخراج النفط والفوسفات والحديد وزراعة القطن وتربية الدواجن - ترتبط بالأوضاع الاقتصادية الدولية من حي كمية الانتاج واسعاره |

6. وضح أسباب تدني انتاجية القطاع العام:

- بطء الإدارة في اتخاذ القرارات
- هدر الموارد
- غياب نظام الحوافز
- التنافر بين أنماط السلع وأذواق المستهلكين

عرفي: التأمين: أن المؤسسات أصبحت ملكا للدولة

وضحي هدف التأمين:

- تكوين رأسمال وطني
 - ايجاد فرص عمل
 - تنمية الزراعة والصناعة
- عرفي الخصخصة: إعادة بعض المؤسسات إلى القطاع الخاص

ضعي المصطلحات امام مايناسبها من عبارات في الجدول:

الناتج المحلي الاجمالي - الخصخصة - التأمين

| المصطلحات | العبارات | |
|------------------------|--|---|
| الناتج المحلي الاجمالي | مجموع دخل القطاعات الأساسية وهي الزراعة والصناعة والخدمات والتجارة | 1 |
| التأمين | أي أن المؤسسات أصبحت ملكاً للدولة بهدف تكوين رأسمال وطني و ايجاد فرص عمل | 2 |
| الخصخصة | إعادة بعض المؤسسات إلى القطاع الخاص | 3 |

وضحي خصائص الاقتصاد العربي:

| المميزات | خصائص الاقتصاد العربي |
|--|---------------------------------------|
| <p>1. نمط الإنتاج التقليدي:</p> <ul style="list-style-type: none"> يعتمد على الاقتصاد المعيشي الاكتفائي الذي يهدف إلى تلبية الحاجات الداخلية. ينتشر هذا النوع في الصومال واليمن وأرياف السودان وموريتانيا. مبادلاته مع الخارج محدودة. يعتمد على الطاقة العضلية وقد دخلته بعض الأدوات الحديثة. مداخيله منخفضة. تتطلب عملية تحديثه رساميل وتأهيل اليد العاملة. <p>2. نمط الإنتاج الحديث:</p> <ul style="list-style-type: none"> يعتمد على اقتصاد تبادلي يلبي حاجات السوق الداخلية والخارجية. يقوم على قطاع استخراج النفط والفسفات والحديد وزراعة القطن وتربية الدواجن. جميعها ترتبط بالأوضاع الاقتصادية الدولية من حيث كمية الإنتاج وأسعاره. | اقتصاد ثنائي |
| <p>1. دول حافظت على القطاع الخاص وأخرى أممت بعضه:</p> <ul style="list-style-type: none"> دول انتهجت النظام الاقتصادي الحر كلبان والأردن والمغرب ودول مجلس التعاون واليمن حيث يتولى القطاع العام الخدمات الأساسية مثل الماء والكهرباء وسكك الحديد والتعليم والصحة وغيرها، فيما يتولى القطاع الخاص مجالات التجارة والمال والصناعة والزراعة وبعض الخدمات. دول انتهجت النظام الاقتصادي الموجه كمصر وسوريا والعراق والجزائر وتونس فقد تم تأمين المرافق وبعض المؤسسات الصناعية والزراعية الكبرى والتجارة الخارجية. <p>2. الخصخصة وتعزيز القطاع الخاص:</p> <ul style="list-style-type: none"> برزت في مصر فكرة الخصخصة أي إعادة بعض المؤسسات إلى القطاع الخاص الذي أثبت قدرته على النمو والازدهار في بعض المجالات كالتجارة الداخلية والمال والصناعة الاستهلاكية، ولحققت بمصر دول مثل سوريا والعراق والسودان والجزائر واليمن. | اقتصاد يتأرجح بين القطاع العام والخاص |

| | |
|---|--------------------------------------|
| <ul style="list-style-type: none"> • تأتي مداخل الدول العربية من الصناعة الاستخراجية باستثناء المغرب وتونس ولبنان. • تعتبر الدولة في البلدان العربية أهم قوة اقتصادية وأهم منشط للأعمال والمبادرات الاقتصادية. • تعظم دور الدولة الاقتصادي في الدول العربية النفطية نتيجة لتنامي مداخلها بعد ارتفاع أسعار النفط. | الدولة منشط اقتصادي |
| <ul style="list-style-type: none"> • تمد الدول العربية المصانع الأوروبية والأمريكية واليابانية بالمواد الزراعية كالقطن وعشبة الحلفاء والمواد المنجمية كالفسفات والحديد ومصادر الطاقة كالنفط. • تستورد الدول العربية كميات من مواد التجهيز والسلع الاستهلاكية والمواد الغذائية. | اقتصاد مندمج بالاقتصاد الدولي |
| <ul style="list-style-type: none"> • تحتل الصناعة الاستخراجية مكانة أساسية في الاقتصادات العربية لأنها تؤمن الصادرات الأساسية كالنفط والغاز والحديد والفسفات، وهذه الصادرات هي المصدر الأساسي للعملاء الصعبة. • يوفر تصدير الخامات مداخل للدولة، ومن هذه المداخل تمويل الدولة للاستثمارات الأساسية في القطاع الزراعي والصناعة التحويلية والخدمات. | اقتصاد قائم على تصدير الخامات |

1. علي: يعد القطاع الزراعي في الوطن العربي أحد أهم القطاعات الاقتصادية:

- بفضل مساهمته في الناتج المحلي الاجمالي
- توفر فرص عمل لحوالي ثلث القوى العاملة
- كونه المصدر الرئيسي للدخل لأغلب السكان في العديد من الدول العربية

2. عددي العوامل المؤثرة في الزراعة

| العوامل الطبيعية | العوامل البشرية | العوامل الاقتصادية |
|--|--|---|
| -الأرض واستخداماتها -المياه والمناخ | -اليد العاملة الزراعية -استخدام التكنولوجيا | -السياسات الرسمية -الأسواق -الاستثمارات في القطاع الزراعي -نمو الزراعات الحديثة ضعف البنية الأساسية للزراعة |

3. كيف تتوزع الأراضي القابلة للزراعة في الوطن العربي؟

| أنواع الزراعات | الخصائص | الدول |
|-----------------|---|---|
| الزراعة المطرية | - تعتمد على الأساليب والتقنيات التقليدية الضعيفة - فقيرة نسبياً وغير قادرة على جذب الاستثمارات | السودان-المغرب العربي- سورية |
| الأراضي المروية | تساهم بالجزء الأكبر من الانتاج الزراعي | مصر- العراق- السودان – السعودية –المغرب وسورية |
| المراعي | فقيرة بسبب الجفاف وتعرية التربة وملوحتها والرعي الجائر | السودان – الصومال – السعودية |
| الغابات | | السودان – الصومال – المغرب |

4. ماهي الآثار الناتجة عن استعمال طرق ري غير مناسبة وتردي نظم صرف المياه؟

1. تملح التربة 2. تجذب الاراضي 3. التصحر

5. علي: يشكل المناخ بختلاف عناصره أبرز العوامل المؤثرة في الانتاج الزراعي:

- يتحكم بالبيئات الطبيعية و بكميات المياه المتوفرة و بأنواع المزروعات

6. الدول التي ترتفع فيها اليد العاملة الزراعية أكثر من 30%: السودان – الصومال – عمان – المغرب – موريتانيا - اليمن

الدول التي تنخفض فيها اليد العاملة الزراعية أقل من 30%: ليبيا – الامارات – الاردن – البحرين - قطر

7. علي: استخدام التكنولوجيا في معظم ميادين النشاط الزراعي مايزال محدوداً في الوطن العربي:

- انخفاض معدل استعمال الآلات الزراعية الحديثة كالجرات والحاصدات
- عدم توافر الأصناف النباتية والحيوانية المحسنة
- انخفاض معدلات الأسمدة المستعملة وتوسع مضر في استعمال المبيدات
- ضعف مجالات البحث العلمي واعداد الفنيين وقلة التدريب

8. وضح الطرق التي سعت اليها الدول العربية الى تنمية الزراعة: (السياسات الرسمية):

- بناء السدود
- استصلاح الأراضي
- شق الطرق الزراعية ومساعدة المزارعين
- اقامة المدارس والمعاهد ومراكز الابحاث الزراعية

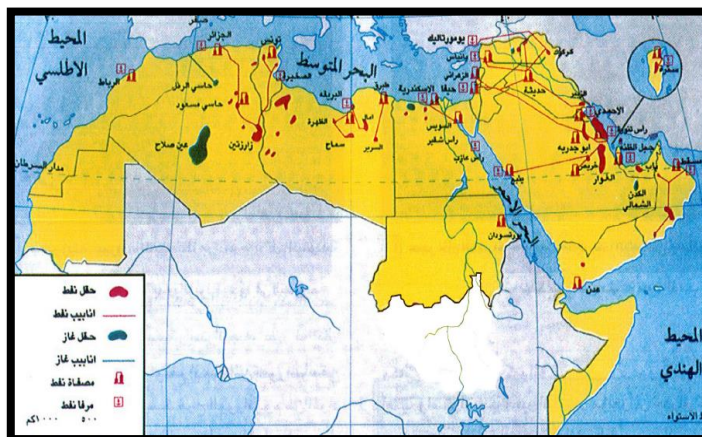
9. مالفروق :

| | |
|--------------------------------------|---|
| نمط الانتاج الزراعي التقليدي المعيشي | - يعتمد على الطاقة البشرية والحيوانية في العمل - هذا النمط في تراجع مستمر |
| النمط الحديث أحادي الانتاج | - يستعمل الآلات الزراعية الحديثة - يستعمل الأصناف والبذور المؤصلة والأسمدة والمبيدات - يهتم بإنتاج المحاصيل المخصصة للأسواق |

10. علي: ضعف البنية الأساسية للزراعة في الوطن العربي

- النقص في منشآت التخزين والتبريد ووسائل النقل والتوزيع
- ضعف التأهيل في مراكز الأبحاث والمختبرات
- ارتفاع تكاليف المنشآت الزراعية

حقول النفط والغاز الطبيعي في الوطن العربي



1. وضح خصائص النفط العربي:

- الجودة وانخفاض تكاليف انتاجه وتسويقه - ضخامة حقوله
- ارتفاع انتاجية الآبار فيها لقربها من سطح الارض وضغط الغاز الشديد فيها
- قرب حقول النفط من موانئ التصدير
- موقع الوطن العربي الواسطي والقريب من اهم الاسواق الاستهلاكية العالمية

2. اكمل:

- تتوزع حقول النفط على..... 13 دولة عربية
- تمتلك السعودية وحدها نحو 40% من الاحتياطي العربي (ربع الاحتياطي العالمي)
- تحتل السعودية المركز الأول في انتاج النفط بين الدول العربية

3. وضح أهمية أنابيب نقل النفط:

- تنقل الغاز أو النفط بأسعار مخفضة وعلى مسافات طويلة
- تخفف من كلفة الانتاج
- عائدات مرورها تدعم ميزان المدفوعات لبعض الدول

4. عدد أسماء الدول العربية التي تستفيد من مرور أنابيب النفط على أراضيها لبنان – سوريا – الاردن – تركيا – تونس

5. ضع الأنابيب التالية أمام مايناسبها من عبارات في الجدول:

خط الجزائر وايطاليا - الخط العراقي عبر تركيا (كوكوك يومورتاليك) - الغوار وينبع

| الانابيب | العبارات | |
|---|---|--|
| الخط العراقي عبر تركيا (كوكوك يومورتاليك) | انثنى في ظروف الحرب | |
| الغوار وينبع | يصلان مناطق الانتاج في الشرق بميناء البحر الاحمر في الغرب | |
| خط الجزائر وايطاليا | يصب مباشرة في مناطق الاستهلاك | |

وضح الاستهلاك والتصدير في السوق النفطية:

| التصدير | الاستهلاك |
|---|---|
| <p>2. التصدير:</p> <ul style="list-style-type: none"> تشكل الصادرات النفطية العربية حوالي 38,3% من إجمالي الصادرات النفطية في العالم. يستورد الاتحاد الأوروبي القسم الأكبر من النفط العربي، تليه اليابان ثم الولايات المتحدة الأمريكية. تشكل صادرات الغاز الطبيعي العربي حوالي 12,2%. | <p>1. الاستهلاك:</p> <ul style="list-style-type: none"> تؤمن الدول العربية الطاقة من النفط بنسبة 55,8% ومن الغاز بنسبة 40,4%، ومن القوى الكهرومائية بنسبة 3,8%. تبلغ كمية استهلاك الوطن العربي من النفط 18% فقط من الإنتاج والباقي يصدر إلى الخارج |

6. وضح السلسلة النفطية:

- المسح والتنقيب - الانتاج - النقل - التكرير - توزيع المنتجات النهائية

7. يتألف الكارتل الدولي من ... 7 شركات كبرى ... من جنسيات متعددة

8 متى تأسست منظمة البلدان المصدرة للنفط؟ وماهي الدول التي تتكون منها:

تأسست عام 1960 من 3 دول عربية وهي (السعودية، الكويت، العراق) ومعها فنزويلا و ايران، ثم انضمت 9 دول أخرى عربية أجنبية وهي: قطر وليبيا والجزائر والامارات ونيجيريا و اندونيسيا والغالون والاكوادور.

9. ماهي أهداف منظمة الأوبك؟

- وقف تخفيض الاسعار الذي كانت الشركات تطبقه على حساب أرباح الدول المنتجة
- حصول الدول المنتجة على ملكية الشركات العاملة على أراضيها

10. ماهي التغيرات التي حدثت لصالح منظمة الأوبك:

- تزايد الطلب على النفط، وقد عمدت الشركات المستقلة المنافسة للكارتل إلى تقديم عروض تعطي للدول المنتجة نسبه أكبر من الأرباح.

تأسيس منظمة البلدان العربية المصدرة للنفط أوبك، التي كانت أكثر حزمًا وإصرارًا في مطالبتها بحقوق الدول المنتجة.

- اندلاع الحرب العربية الإسرائيلية فاستعمل العرب النفط كسلاح ضد الدول المؤيدة لإسرائيل.

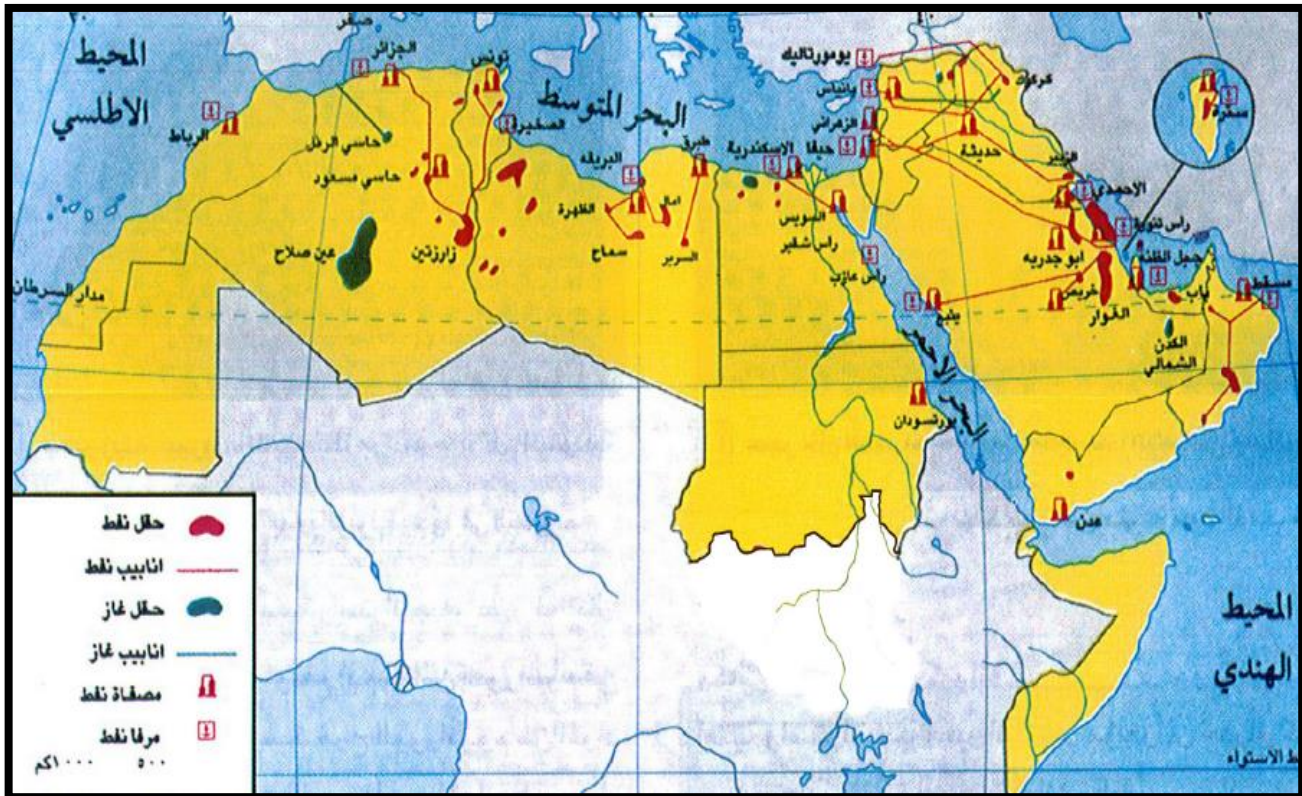
صنف العبارات التالية:

| العبارات | الصدمة البترولية الأولى | الصدمة البترولية الثانية | الصدمة البترولية الثالثة |
|--|-------------------------|--------------------------|--------------------------|
| حدثت عام 1973 بعد حرب أكتوبر | ✓ | | |
| حدثت عام 1990 | | | ✓ |
| حدثت عام 1979م | | ✓ | |
| بسبب تغير نظام الحكم في ايران | | ✓ | |
| بسبب احتلال العراق للكويت | | | ✓ |
| جنت البلدان العربية عائدات مالية كبيرة استثمرتها في انشاء البنى التحتية وتطوير القطاعات الاقتصادية | ✓ | | |

11. مالفرفق ببن:

| الصدمة البترولية الثالثة 1990 | الصدمة البترولية الثانية 1979 | الصدمة البترولية الأولى 1973 |
|---|---|---|
| <ul style="list-style-type: none"> توافقت هذه الصدمة مع احتلال العراق للكويت والحرب التي أعقبتها. اهتزت السوق النفطية وارتفعت الأسعار إلى معدلات كبيرة. لكن الدول المنتجة والمستهلكة تعاونت مع بعضها للحد من التطورات السلبية في السوق النفطية. شهد العالم انتعاشة اقتصادية مما أدى إلى ارتفاع أسعار النفط عام 1988م. تراجعت أسعار النفط مع بداية الأزمة الاقتصادية العالمية عام 2008م. | <ul style="list-style-type: none"> توافقت هذه الصدمة مع تغير نظام الحكم في إيران. فاهتزت السوق النفطية، وأدركت البلدان الصناعية أهمية النفط وتقلبات أسواقه، مما جعلها تتبع سياسة نفطية جديدة تتلخص في الأمور الآتية: <ul style="list-style-type: none"> ترشيد استهلاك النفط وإيجاد مصادر بديلة كاستخدام الفحم الحجري كمصدر للطاقة لبعض الصناعات واستعمال الطاقة النووية لتوليد الكهرباء. تخزين كميات كبيرة من النفط للجوء إليها وقت اضطراب السوق. تعزير سوق النفط الحرة الموجودة في روتردام في هولندا <p>نتائج هذه السياسة:</p> <ol style="list-style-type: none"> 1. تدنت أسعار النفط بقوة بين عامي 1982م و1985م وخضعت السوق النفطية لمبدأ العرض والطلب. 2. حافظت الدول المنتجة للنفط على الإنتاج المرتفع؛ وذلك بسبب حاجتها إلى عوائد مالية مرتفعة لاستكمال مشاريعها الإنمائية. 3. انحسار نفوذ منظمة الأوبك بسبب التنافس فيما بينها. 4. ساعدت الحرب العراقية – الإيرانية على ترسيخ النتائج السلبية المعروفة بالصدمة النفطية المضادة. | <ul style="list-style-type: none"> - عرفت الفترة التي تلت حرب أكتوبر بالصدمة البترولية الأولى: <ul style="list-style-type: none"> - اهتزت السوق النفطية. - ارتفعت أسعار النفط. - أخذت منظمة البلدان المصدرة للنفط تتحكم في الأسعار واستثمرت البلدان العربية عائدات مالية كبيرة في: <ul style="list-style-type: none"> إنشاء البنى التحتية. وتطوير القطاعات الاقتصادية |

تأمل الخريطة ثم أجب عن التالي:



عدد أسماء الدول العربية التي تستفيد من مرور أنابيب النفط على أراضيها؟

لبنان – سوريا – الأردن – تركيا – تونس

ما عدد الدول العربية التي تتوزع فيها حقول النفط؟

13 دولة عربية

صنف العبارات التالية:

| العبارات | الصدمة البترولية الأولى | الصدمة البترولية الثانية | الصدمة البترولية الثالثة |
|--|-------------------------|--------------------------|--------------------------|
| حدثت عام 1973 بعد حرب أكتوبر | ✓ | | |
| حدثت عام 1990 | | | ✓ |
| حدثت عام 1979م | | ✓ | |
| بسبب تغير نظام الحكم في ايران | | ✓ | |
| بسبب احتلال العراق للكويت | | | ✓ |
| جنت البلدان العربية عائدات مالية كبيرة استثمرتها في انشاء البنى التحتية وتطوير القطاعات الاقتصادية | ✓ | | |

1. وضح العوامل المساعدة لنمو الخدمات
 - توجه حكومات الدول العربية في مرحلة الاستقلال الى استكمال بناء مؤسسات الدولة
 - تحسن مستوى المعيشة
 - تشجيع بعض الدول العربية للخدمات الجاذبة للمستهلكين مثل السياحة والخدمات المصرفية والصحة والتعليم
2. عللي شهدت السياحة في الوطن العربي نموا متفاوتا بين الاقطار:
 - بسبب تفاوت العوامل الطبيعية (المناخ، السواحل)
 - والتاريخية (الأثار والمتاحف)

3. عللي: عرفت الدول العربية المتوسطة مثل مصر والمغرب وسوريا ولبنان نهضة سياحية كبيرة:
 - بسبب اعتدال مناخها
 - جمال مناظرها الطبيعية ومعالمها الأثرية
4. مالفرق بين:

| | |
|---------------------|--|
| السياحة الجماهيرية | تركز على جذب اكبر عدد من السياح وخاصة من الشباب بالتخفيض في الأسعار |
| السياحة الرأس مالية | تركز على الأثرياء ورجال الأعمال في البلدان النفطية فقد نمت سياحة الأعمال وتعتبر البحرين من ابرز الدول النفطية التي اهتمت بهذا النوع من السياحة |

5. عللي: أصبحت الإدارة عينا على الدولة
 - تضخم عدد الموظفين الإداريين
 - ضعف انتاجيتهم
 - كثرة النفقات
6. عللي: يعتبر القطاع المصرفي اليوم من اهم قطاعات الخدمات في الوطن العربي (عللي: نمو وتوسع قطاع الخدمات):
 - ارتفاع المداخل النفطية
 - تنامي حركة الاستيراد والتصدير

7. اذكر انواع المصارف وخدمات التأمين:
 - البنوك الوطنية – المصارف التجارية لحفظ الودائع المالية والتسليف – المصارف المتخصصة للتسليف في القطاعات الانتاجية (زراعة، صناعة، اسكان) – خدمات التأمين على الحياة وحوادث العمل والسرقة و....

8. وضح بنية التجارة الخارجية العربية (مالفرق بين الصادرات والواردات العربية)

| الصادرات | الواردات |
|---|--|
| تغلب عليها الوقود المعدني تليها السلع المصنعة ثم المواد الكيميائية والمواد الغذائية والمواد الخام وبعض السلع الأخرى | الألات ومعدات النقل والسلع الصناعية والمواد الغذائية والمنتجات الكيماوية والمواد الخام والوقود المعدني |

9. وضح حقائق الموازنة والربح في الميزان التجاري
 - مجموعة الدول النفطية: التي تعرف فائضاً في موازينها التجارية
 - مجموعة الدول غير النفطية: التي تعرف عجزاً في موازينها التجارية
 - اختلاف ضخامة الفائض او العجز من دولة الى دولة في كل مجموعة
 - سد جزء من العجز الحاصل في الموازين التجارية للدول غير النفطية عن طريق المساعدات التي تقدمها الدول النفطية

10. سم الدول الغربية التي يرتبط بها الوطن العربي تجارياً

- a. الاتحاد الأوروبي
- b. الولايات المتحدة الأمريكية
- c. اليابان

تستوعب هذه البلدان اكثر من نصف قيمة الصادرات وتوفر نحو ثلثي الواردات العربية
الاتحاد الأوروبي يعتبر الطرف التجاري الرئيسي، اذ يحتكر ربع الصادرات وقرابة نصف الواردات العربية

11. عللي: ضعف المبادلات بين الدول العربية:
 - لأنها تقتصر على عدد محدود من السلع كالنفط
 - تقتصر المبادلات التجارية لكل دولة عربية على الدول المجاورة بالأساس