

تم تحميل هذا الملف من موقع المناهج البحرينية



كراسة الأنشطة مقرر أجا 102

موقع المناهج ← المناهج البحرينية ← الصف الأول الثانوي ← المواد الاجتماعية ← الفصل الثاني ← مذكرات وبنوك ← الملف

تاريخ إضافة الملف على موقع المناهج: 14:00:02 2025-02-13

ملفات اكتب للمعلم اكتب للطالب الاختبارات الكترونية | اختبارات | حلول | عروض بوربوينت | أوراق عمل
منهج انجليزي | ملخصات وتقارير | مذكرات وبنوك | الامتحان النهائي للمدرس

المزيد من مادة
المواد
الاجتماعية:

التواصل الاجتماعي بحسب الصف الأول الثانوي



صفحة المناهج
البحرينية على
فيسبوك

الرياضيات

اللغة الانجليزية

اللغة العربية

التربية الاسلامية

المواد على تلغرام

المزيد من الملفات بحسب الصف الأول الثانوي والمادة المواد الاجتماعية في الفصل الثاني

كراسة الأنشطة و التدريبات لمقرر الجغرافيا الاقتصادية أجا 102

1

كراسة الأنشطة مقرر أجا 102

2

نموذج إجابة أسئلة امتحان نهاية الفصل الأول مقرر أجا 102 الجغرافيا الاقتصادية

3

نموذج إجابة أسئلة امتحان نهاية الفصل الأول مقرر أجا 102 الجغرافيا الاقتصادية

4

تجميع الأسئلة الامتحانية السابقة

5

مملكة البحرين
وزارة التربية والتعليم
مدرسة الهداية الخليفية الثانوية للبنين
قسم الاجتماعيات والعلوم الإنسانية

كراسة الأنشطة والتدريبات
مقرر الجغرافيا الاقتصادية
رمز مقرر: أجا ١٠٢
المستوى الأول الثانوي
الفصل الثاني من العام الدراسي ٢٠٢٤/٢٠٢٥ م



بطاقة تعريفية للطالب

اسم الطالب/.....

الشعبة/.....

الرقم الأكاديمي/.....

تحت اشراف
الأستاذ/ محمد عبد الواحد عبد اللطيف

مملكة البحرين
وزارة التربية والتعليم
مدرسة الهداية الخليفية الثانوية للبنين
قسم الاجتماعيات والعلوم الإنسانية

الاتفاقية الصفية بين المعلم والطلاب
مقرر الجغرافيا الاقتصادية
رمز المقرر أجا ١٠٢

واجباتي	حقوق
❖ الالتزام بالأنظمة واللوائح.	✓ الحصول على المادة العلمية أو المعرفة المرتبطة بالمقرر في بيئة مناسبة.
❖ الالتزام بالأدب والاحترام تجاه معلمي وزملائي.	✓ سؤال المعلم ومناقشته المناقشة العلمية اللائقة في الوقت المناسب.
❖ الالتزام بوقت الحصة وعدم التأخير إلا بعذر مقبول.	✓ حق المساواة مع زملاء دون تمييز على خلفية التحصيل العلمي أو الانتماء العائلي.
❖ عدم الحديث الجانبي ورفع اليد عند طلب المشاركة.	✓ حق الطالب أن يحظى بالاحترام وصيانة كرامته.
❖ عدم الأكل والشرب ومضغ العلكة في الصف.	✓ أن تكون أسئلة الاختبارات ضمن المقرر الدراسي ومحتوياته.
❖ عدم جلب الهاتف أو الألعاب الإلكترونية والورقية.	
❖ الحرص على نظافة الصف.	
❖ التعاون مع الطلاب والفاعلية في الأنشطة الجماعية.	

أداة التقييم الذاتي لملف أعمال الطالب

تاريخ التقييم	توافر الأداء		مؤشرات الأداء
	لا	نعم	
			١) أحافظ على ترتيب ملفي.
			٢) ألتزم بوضع الأوراق في أبوابها المناسبة.
			٣) أستطيع أن ألاحظ نموي التحصيلي في إتقان الكفايات المطلوبة.
			٤) التزام الدقة في إنجازي للأنشطة المطلوبة.
			٥) أثري ملفي بمبادرات ذاتية.
			٦) أحب أن يرى الآخرون ملف الإنجاز الخاص به.

توقيع الطالب:



المحتوى العلمي المطلوب في مقررات المواد الاجتماعية للفصل الثاني من العام الدراسي 2025/2024م

المسار: توحيد المسارات / الديني

المادة/ اسم المقرر ورمزه: المواد الاجتماعية-أجا 102

الصف: المستوى الأول

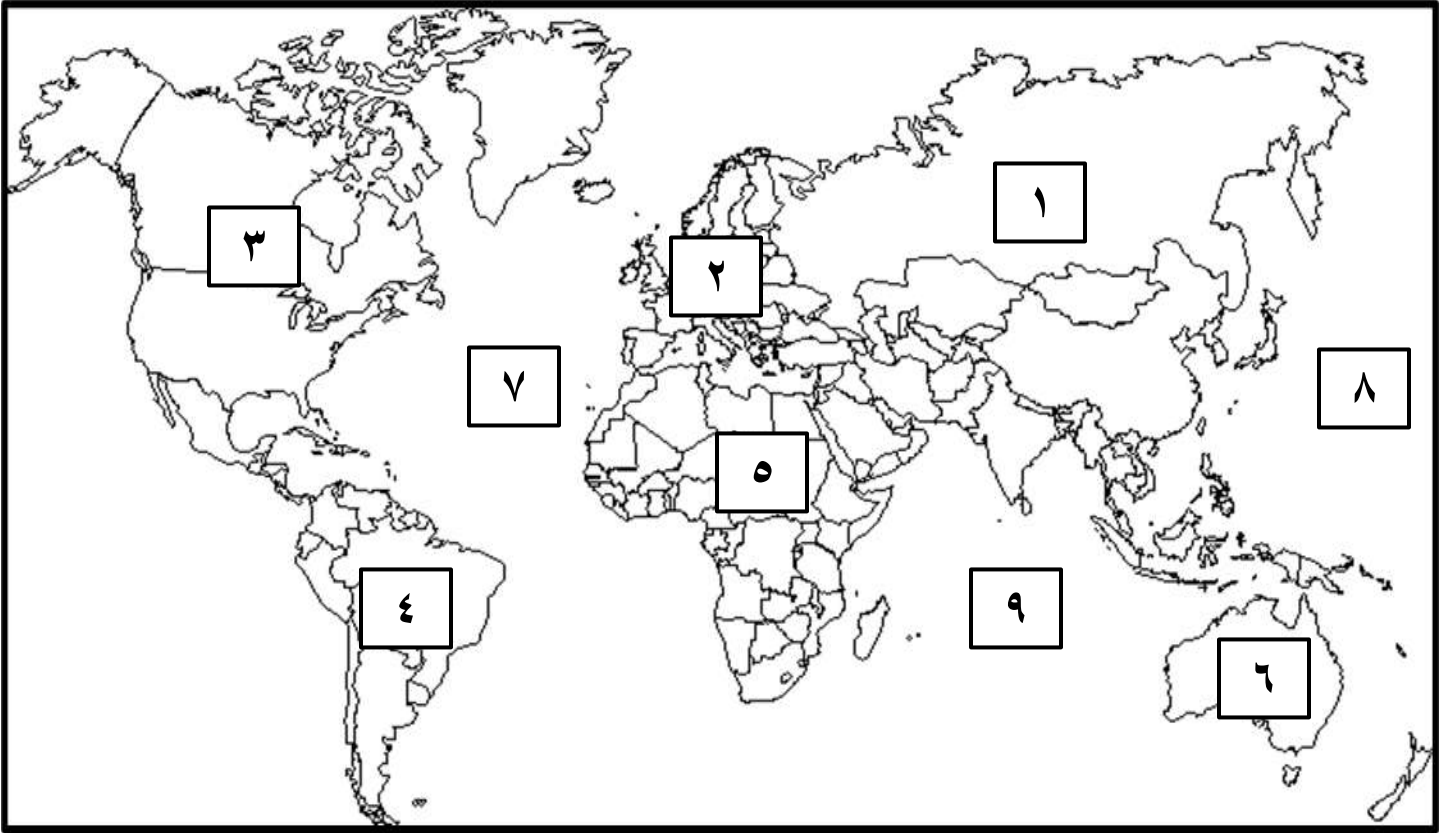
اسم الكتاب: الجغرافيا الاقتصادية

الملاحظات	الأسبوع	الصفحة (من - إلى)	عنوان الدرس ورقمه	الفصل
	1	12-9	الدرس الأول: الاقتصاد العام.	
	3+2	22-18	الدرس: الثالث: الزراعة - الأنماط الزراعية في العالم.	
	4+3	30-27	الدرس الخامس: الصناعة - التوطن الصناعي.	
	6+5	55-50	الدرس العاشر: المجال العالمي.	
	7+6	58-56	الدرس الحادي عشر: الولايات المتحدة الأمريكية (1) الخدمات والمبادلات التجارية.	
	8+7	64-59	الدرس الثاني عشر: الولايات المتحدة الأمريكية (2) الصناعة والزراعة.	
	10+9	67-65	الدرس الثالث عشر: الاتحاد الأوروبي (1) مراحل البناء.	
	11	74-68	الدرس الرابع عشر: الاتحاد الأوروبي (2) القوة الإنتاجية.	
	12	78-75	الدرس الخامس عشر: نموذج التنمية في الدول حديثة التصنيع.	
	14+13	87-79	الدرس السادس عشر: البرازيل - دولة حديثة التصنيع في أمريكا الجنوبية.	

*الخطة الدراسية تراعي الؤقنات الثقوبية وعلى الجهة المعنية تحديدها وفق الضوابط المعمول بها

وزارة التربية والتعليم - الفصل الدراسي الثاني 2025/2024م

❖ ضع في الجدول التالي مدلولات الأرقام المثبتة على خريطة العالم الصماء



الرقم	مدلول الرقم على الخريطة	العبرة
١		قارات
٢		
٣		
٤		
٥		
٦		مسطحات مائية
٧		
٨		
٩		

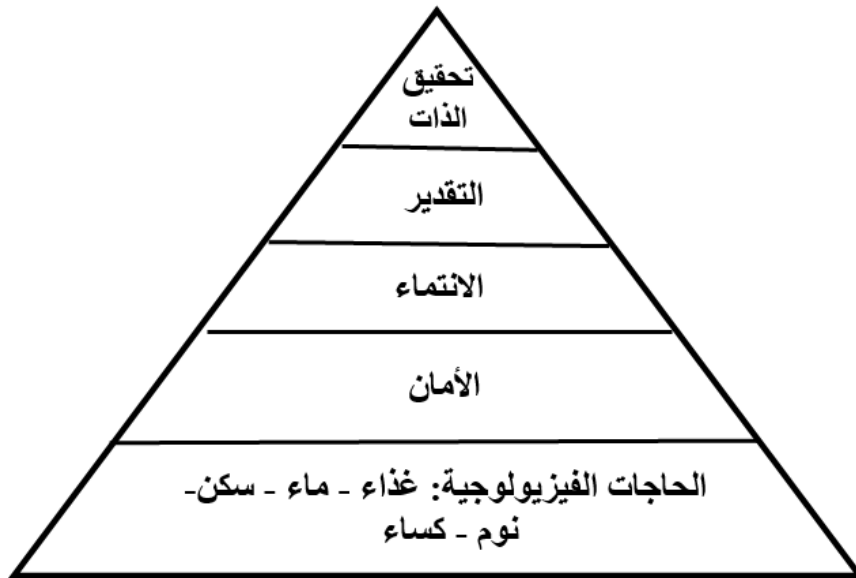
أولاً: الحاجات أساس الاقتصاد

س: صنف كل حاجة من الحاجات التالية بوضعها في مكانها الصحيح على حسب تصنيف ماسلو:

(الغذاء - العطور - الأمن - الحماية - الترفيه - الانتماء - السكن - الكساء - التجديد والاكتشاف)

ب - حاجات ثانوية غير مشتركة		أ - حاجات أساسية مشتركة	
٢- حاجات ثانوية معنوية	١- حاجات ثانوية مادية	٢- حاجات أساسية معنوية	١- حاجات أساسية مادية
.....
.....
.....
.....

س: اقرأ المستند الذي أمامك ثم أجب عن الأسئلة التالية:



هرم ماسلو

١- ما هي الحاجات المادية حسب تصنيف ماسلو:

- •
- •
- •
- •
- •

٢- ما هي الحاجات المعنوية حسب تصنيف ماسلو:

- •
- •
- •
- •
- •

٣- برأيك أيهما يجب تحقيقه أولاً الحاجات المادية أو المعنوية، ولماذا؟

- •
- •

س: ضع كل مفهوم من المفاهيم التالية في مكانه الصحيح:

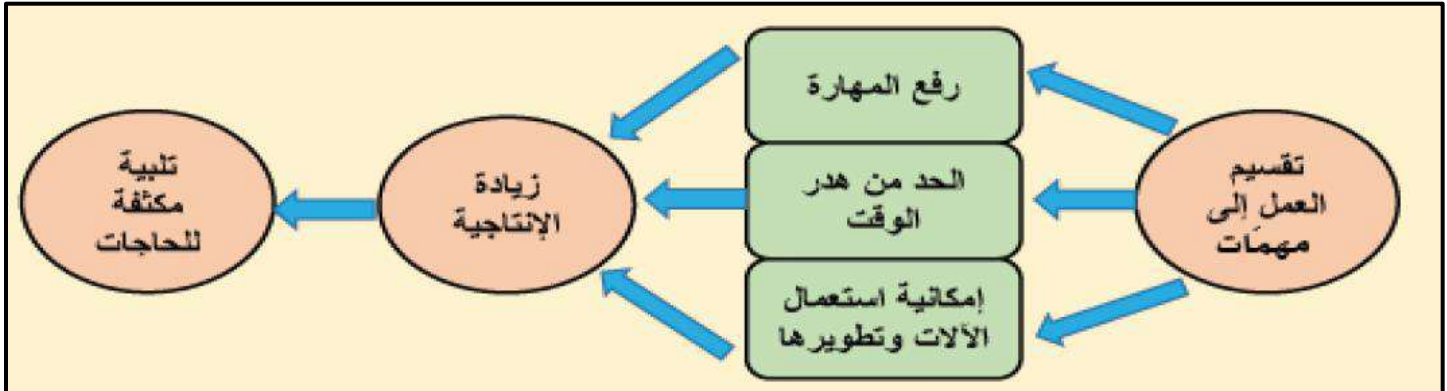
(آلية السوق - الاقتصاد - الحاجة - الدعاية - البورصة - المقايضة)

المفاهيم	العبرة
	(١) استبدال سلعة بسلعة أخرى دون أن يكون للنقد دور فيها
	(٢) مجمل الأنشطة التي يقوم بها الانسان والتي تسهم في تلبية حاجاته البشرية كالزراعة والصناعة
	(٣) شعور الفرد بالحرمان يدفعه الى القيام بما يساعده على القضاء على هذا الشعور
	(٤) سوق لبيع رؤوس الأموال وشرائها.
	(٥) يسمى تحرك الأسعار وفق حركة العرض والطلب.
	(٦) نشاط إعلامي الهدف منه التأثير في سلوكيات الآخرين.

❖ آلية السوق: يتأثر ثمن الحاجات بأوضاع السوق:

- ✓ ترتفع أسعار السلع والخدمات إذا كانت الكميات المعروضة **أقل** من الطلب عليها..
- ✓ تنخفض أسعار السلع والخدمات إذا كانت الكميات المعروضة **أكبر** من الطلب عليها.

س: اقرأ المستند الذي أمامك ثم أجب عن الأسئلة التي تليه انطلاقاً منه ومما درست.



س١: ما الغرض من تقسيم العمل إلى مهمات في المؤسسات الاقتصادية الحديثة؟

-
-
-

س٢: ماذا ينتج عن زيادة الإنتاجية؟

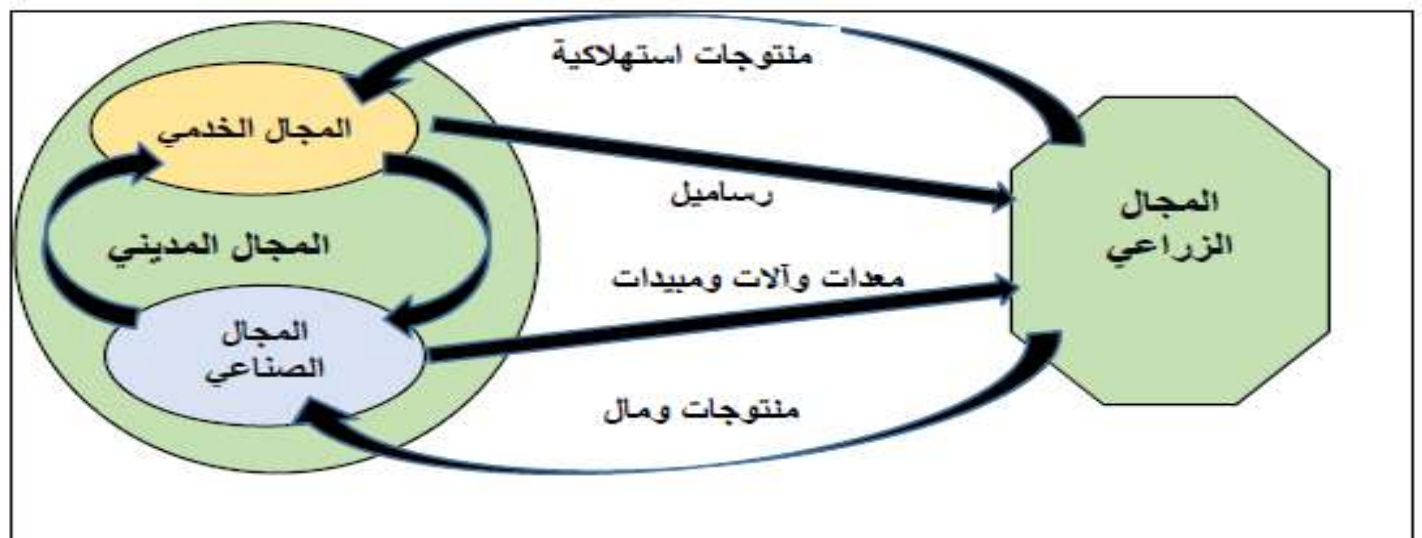
-

ثانيا: الاقتصاد والمجال الجغرافي:

س: اكتب الرقم من عمود (أ) بما يناسبها في عمود (ب)

(أ)	الرقم	(ب)
١- الزراعة		تشمل على التجارة والموصلات والمال والإدارة
٢- الصناعة		تشمل الإنتاج النباتي والحيواني والصيد
٣- التجارة		تشمل على الصناعة الاستخراجية والتحويلية والحرفية

س: من خلال المستند أجب عن الأسئلة التالية:



س: استنتج المجال الجغرافي.

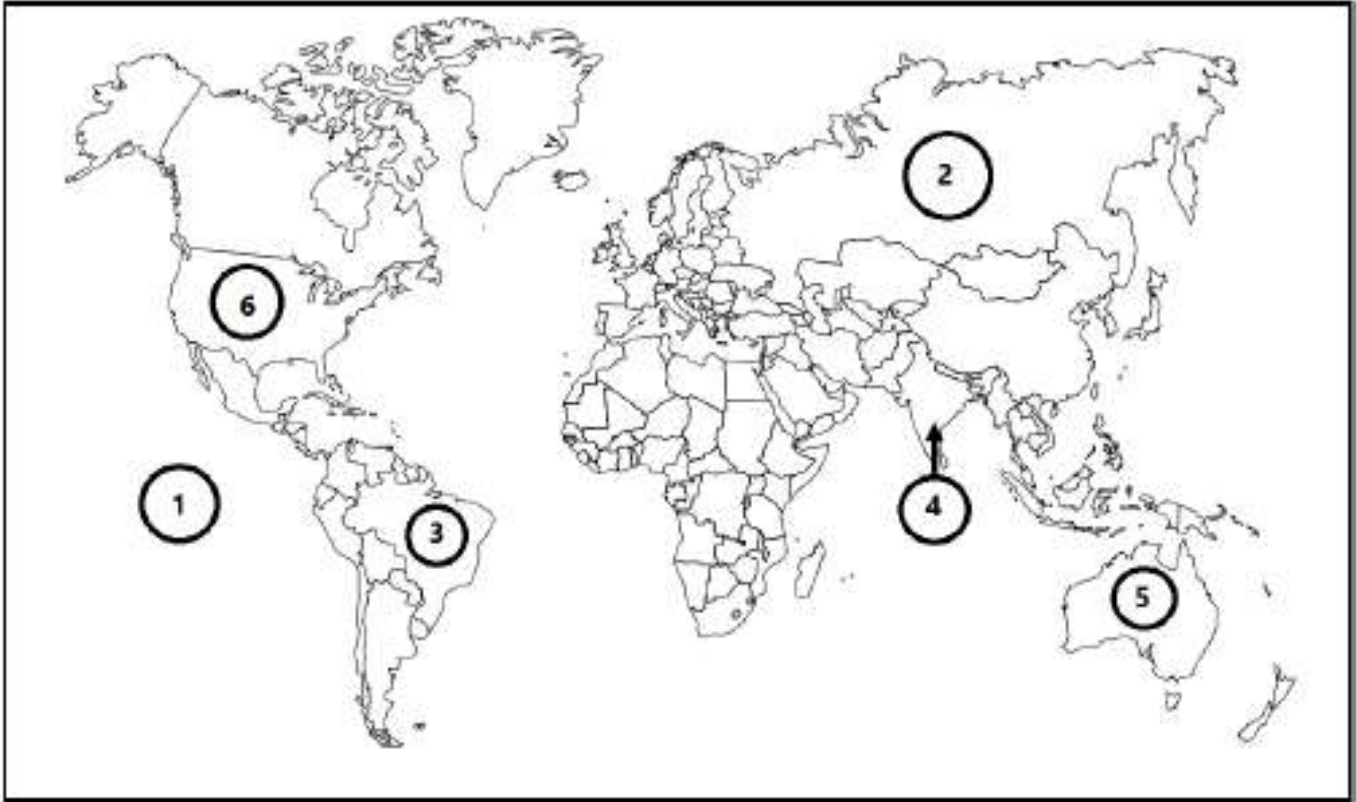
س: ماهي المجالات التي يتضمنها المجال المدني

س: أكمل الجدول التالي:

	ما الذي يقدمه المجال الزراعي إلى المجال الخدمي؟
	ما لذي يقدمه المجال الصناعي إلى المجال الزراعي؟
	ما الذي يقدمه المجال الخدمي إلى المجال الزراعي؟

س: كيف تترابط المجالات الجغرافية؟

❖ أكمل الجدول التالي بكتابة مدلول الأرقام المثبتة على خريطة العالم.



العبارة	الرقم	مدلول الرقم على الخريطة
مسطح مائي	1
دولة تسود بهل تربية الماشية الكثيفة	2
دولة حديثة التصنيع	3
دولة ذات مؤشر تنمية متوسط	4
دولة تسود بها زراعة القمح والحبوب	5
دولة متقدمة	6

3 - الأنماط الزراعية في العالم

تتنوع الزراعات في العالم بتنوع المعطيات الطبيعية والبشرية



أولاً: الزراعات التقليدية: هي الزراعات التي مارسها الإنسان منذ القدم.

١- الزراعات الواسعة: تعتمد على توسيع المساحة المزروعة لزيادة الإنتاج

أ- الرعي الواسع	مناطق انتشارها: المناطق شبه الجافة والصحراوية	تراجع بسبب: توطين البدو في أفريقيا وآسيا.
ب- الزراعة المتنقلة	مناطق انتشارها:	تستخدم النار: لتسميد واستصلاح التربة.

٢- الزراعات الكثيفة: هي الزراعات التي تمارس في المناطق كثيفة السكان.

أ- الزراعة المروية	مناطق انتشارها:	مثال: وادي النيل - الفرات - الهندوس تنتشر بسبب الكثافة السكانية العالية وخصوبة التربة شهدت الزراعة المروية تحديث بسبب: شق قنوات الري وبناء السدود. استخدام الضخ الآلي وتوصيل الكهرباء. تجمع بين الحاجات المحلية وحاجات السوق الدولية.
ب- زراعة الواحات	مناطق انتشارها:	من الدول التي تنتشر بها الواحات السعودية وليبيا. يم تفسر: تراجع زراعة الواحات حالياً في العالم. ١- انجذاب ٢- تحول ٣- شح
ج- زراعة الأرز	مناطق انتشارها: آسيا الموسمية	يم تفسر: انتشار زراعة الأرز في آسيا الموسمية ١- الحرارة ٢- المياه ٣- التربة ٤- كثرة



زراعة الأرز

❑ اقرأ الصورة التالية ثم أجب عن الأسئلة التالية:

س: أين تنتشر هذه الزراعة؟

❖

س: أذكر الظروف الملائمة لزراعة الأرز.

❖

❖

❖

❖

ثانيا: الزراعات الحديثة:

زراعات موجهة ومنظمة ومتخصصة لتلبية حاجات السوق العالمية والمحلية وتشمل:

١- الزراعات المتخصصة:

أ- تربية الماشية الكثيفة:	ب- تربية الماشية الواسعة	ج- زراعة القمح والحبوب
<p>❑ مناطق انتشارها:</p> <ul style="list-style-type: none"> ▪ غرب أوروبا وشمالها. ▪ منطقة البحيرات الكبرى. ▪ استراليا والأرجنتين. <p>❑ الهدف منها:</p> <ul style="list-style-type: none"> ▪ تخصص في تربية الأبقار والأغنام. ▪ تنتج الحليب ومشتقاته. 	<p>❑ مناطق انتشارها:</p> <ul style="list-style-type: none"> ✓ تنتشر في أغلب بلدان العالم. <p>❑ الهدف منها:</p> <ul style="list-style-type: none"> ✓ تهتم بالمراعي وطاقاتها الغذائية. ✓ تهتم باللحوم والصوف نوعا وكما. 	<p>❑ مناطق انتشارها</p> <ul style="list-style-type: none"> ✓ الولايات المتحدة الأمريكية ✓ روسيا وأستراليا وأوروبا <p>❑ من خصائصها:</p> <ul style="list-style-type: none"> ✓ الاستعمال الكثيف للآلات. ✓ الانتاج الضخم والمردود المرتفع. ✓ تصدير جزء كبير من الإنتاج. <p>❑ يعتبر المزارع الأمريكي رجل اعمال.</p> <ul style="list-style-type: none"> ▪ يمارس الزراعة في جزء من السنة. ▪ يتمتع بمهارات عدة منها: ✓ الإدارة. ✓ المعرفة بالتربة والهندسة الزراعية. ✓ مراقبة الأسواق وبورصة الأسعار. ✓ بيع الإنتاج في الوقت المناسب.

٢- الزراعات المتنوعة:

أ- الزراعة العلمية متعددة الإنتاج	ب- الزراعات الرأسمالية في العالم النامي
<p>❑ مناطق انتشارها:</p> <ul style="list-style-type: none"> ▪ وسط أوروبا وغربها والمناطق المتوسطة. ▪ تجمع بين تربية الماشية وزراعة الحبوب. ▪ تتميز بصغر مساحات الأراضي المزروعة. <p>❑ الهدف منها:</p> <ul style="list-style-type: none"> ▪ تجنب فائض الإنتاج وهبوط الأسعار. ▪ الحفاظ على خصوبة التربة. ▪ تلبية حاجات السوق. 	<p>❑ مناطق انتشارها:</p> <ul style="list-style-type: none"> ▪ المناطق الاستوائية والمدارية بالدول النامية. ▪ على السواحل بالقرب من الموانئ والموصلات. ▪ إنتاجها مخصص للتصدير. ▪ تزرع الأناناس والكاكاو والبن والقطن والمطاط الطبيعي. <p>❑ خصائصها:</p> <ul style="list-style-type: none"> ▪ تمول من قبل مؤسسات زراعية كبرى. ▪ تشغيل العمال المحليين الذين يتقاضون أجورا متدنية. ▪ توسعها على حساب الزراعات المعيشية. ▪ استعمالها الممكنة بكثافة.

٣- استثمار موارد الغابات:

تغطي الغابات حوالي ٣٠٪ من مساحة اليابسة.

☒ تقسم الغابات المنتجة للأخشاب إلى قسمين:

- ❖ الغابات المخروطية المنتجة للأخشاب اللينة، وتنتشر في العروض العليا كشمال روسيا وكندا.
- ❖ الغابات المنتجة للأخشاب الصلبة، وتنتشر في المناطق المدارية وشبه المدارية.

☒ بم تفسر: لا يستثمر الإنسان أكثر من ٥٠٪ من الغابات وذلك بسبب:

- ❖ طول
- ❖ كثرة
- ❖ كثافة
- ❖ بعد الغابات عن موانئ التصدير مما يرفع تكاليف النقل.

☒ ضع دائرة حول الإجابة الصحيحة مما يأتي:

١- زراعة تنتشر في مناطق السافانا والغابات الاستوائية، وتستخدم النار كوسيلة للزراعة هي.

- (a) الزراعة المتنقلة. (b) الزراعة المروية. (c) زراعة الواحات. (d) الزراعة الحديثة.

٢- زراعة تنتشر في المناطق الجافة ك وادي النيل وسهل الفرات وسهل الهندوس. هي.

- (a) الزراعة المتنقلة. (b) الزراعة المروية. (c) زراعة الواحات. (d) زراعة الأرز.

٣- تصنف تربية الماشية الواسعة ضمن الزراعات.

- (a) المتخصصة. (b) التقليدية (c) المتنوعة. (d) الرأسمالية.

٤- الزراعة التي تنتشر في آسيا الموسمية، هي.

- (a) الفول السوداني. (b) زراعة الأرز. (c) زراعة القهوة. (d) زراعة الأفوكادو.

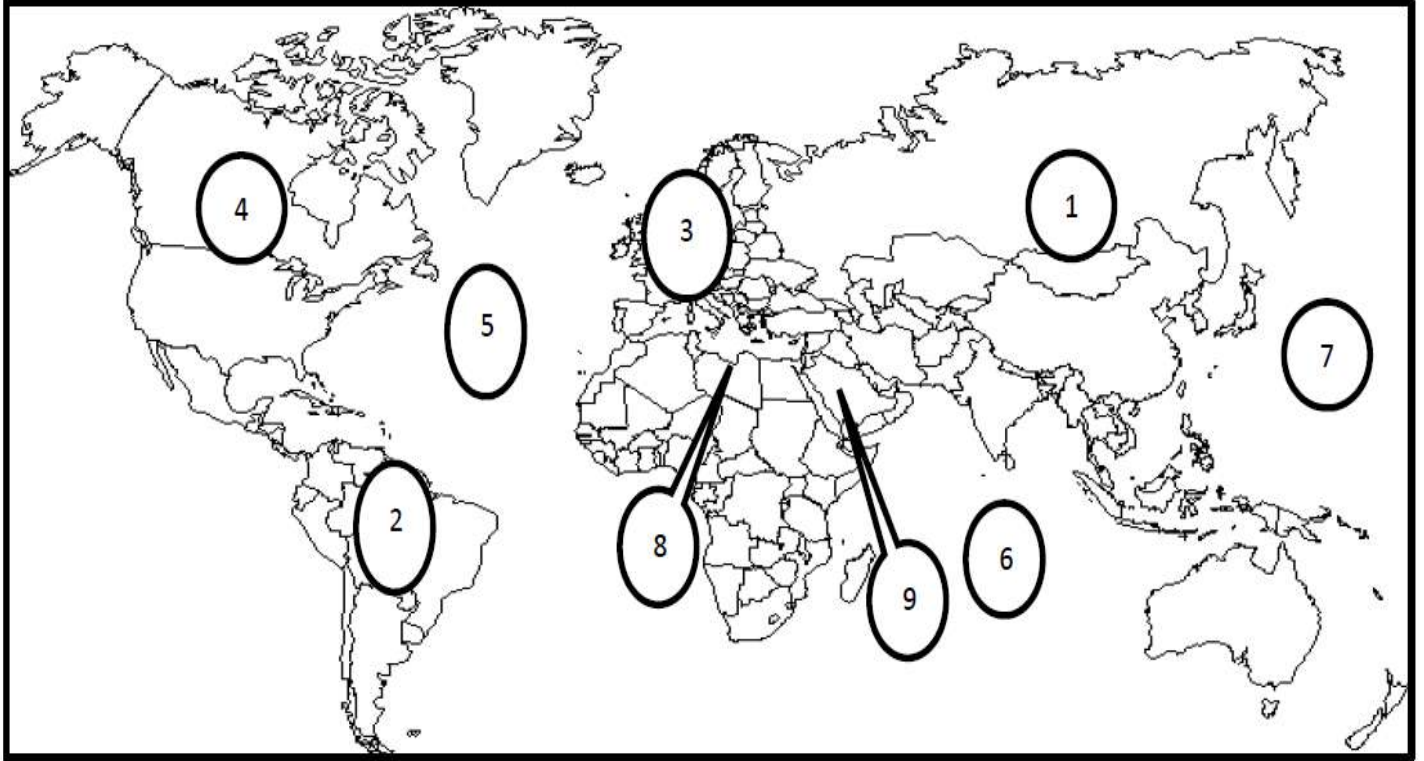
٥- تغطي الغابات من اليابس، حوالي.

- (a) ١٠٪. (b) ٢٠٪. (c) ٣٠٪. (d) ٤٠٪.

٦- من الدول التي تنتشر فيها زراعة الواحات.

- (a) إسبانيا والبرتغال. (b) إنجلترا وفرنسا. (c) كندا والمكسيك. (d) ليبيا والسعودية.

❖ أكمل الجدول التالي بكتابة مدلول الأرقام المثبتة على خريطة العالم.



العنصر	الرقم	مدلول الرقم
قارات.	١
	٢
	٣
	٤
مسطحات مائية.	٥
	٦
	٧
دول تنتشر بها زراعة الواحات.	٨
	٩

س ١: بم تفسر: تسعى المؤسسات الصناعية إلى اختيار أفضل المواقع لتوطين مصانعها.

(١) التخفيف من تكاليف الإنتاج. (٢) الاستفادة من الخدمات العامة.

أولاً: عوامل التوطين الصناعي**س ٢: عدد عوامل التوطين الصناعي. (مهمة جدا)**

- ١- العوامل ٢- طرق المواصلات ووسائل النقل. ٣- المناطق
٤- المناطق ٥- دور ٦- تأثير المناخ والمحيط العلمي والثقافي.

١- العوامل الطبيعية:**س ٣: اذكر تأثير العوامل الطبيعية في التوطين الصناعي.**

- تنشأ المصانع بالقرب من المناجم بسبب: ١-
٢- ارتفاع تكاليف النقل.
- ❖ أثناء الثورة الصناعية الأولى نشأت أولى المناطق الصناعية في الأحواض الغنية بالفحم الحجري وبالقرب من مناجم الحديد.
- ❖ مثال حوض الرور في
- ❖ أثناء الثورة الصناعية الثانية أخذت صناعة التعدين تفتش عن مصادر الطاقة الكهربائية الرخيصة لتستقر إلى جانبها.

٢- طرق المواصلات ووسائل النقل

- ❖ تتوطن الصناعات الخفيفة والالكترونية والمعلوماتية قرب كما في
- ❖ تتوطن الصناعات التي تستعمل مواد أولية بالقرب من

٣- المناطق الصناعية الشاطئية**س ٤: بم تفسر: تجتذب الشواطئ المؤسسات الصناعية.**

- توفر المياه اللازمة
- إمكانية الاستيراد والتصدير

٤- المناطق المدنية**س ٥: بم تفسر: تجتذب المدن بعض الصناعات؟**

- توفر اليد
▪ مركز للرساميل و
- عقدة
▪ سوق

٥- دور تدخل الدولة**س ٦: بين دور الدولة في التوطين الصناعي.**

- (١) وضع السياسات الصناعية والقانونية. (٢) تأهيل
(٣) منح القروض بفوائد ميسرة. (٤) الإعفاء
(٥) إعادة تنشيط المناطق الصناعية القديمة. (٦) سن

- التغذية الراجعة:

٦- تأثير المناخ والمحيط العلمي والثقافي

س٧: يم تفسر: تتوطن الصناعات ذات التكنولوجيا العالية في المناطق الجميلة ذات المشاهد الخلابة.

- لأنها توفر تجهيزات الاستقبال كالفنادق والنقل والاتصال
- توفر مؤسسات البحث كالمختبرات الجامعية ومراكز البحث.
- مثل السليكون فالي بسان فرانسيسكو. وصوفيا أنتيبوليس بجنوب فرنسا وبعض البلدان النامية.

س٨: يم تفسر: تسعى الصناعات المتطورة للتوطن حول المدن الكبرى والعواصم.

- لأنها تحتضن مؤسسات التعليم العالي واختبارات البحث ومراكز اتخاذ القرار السياسي.

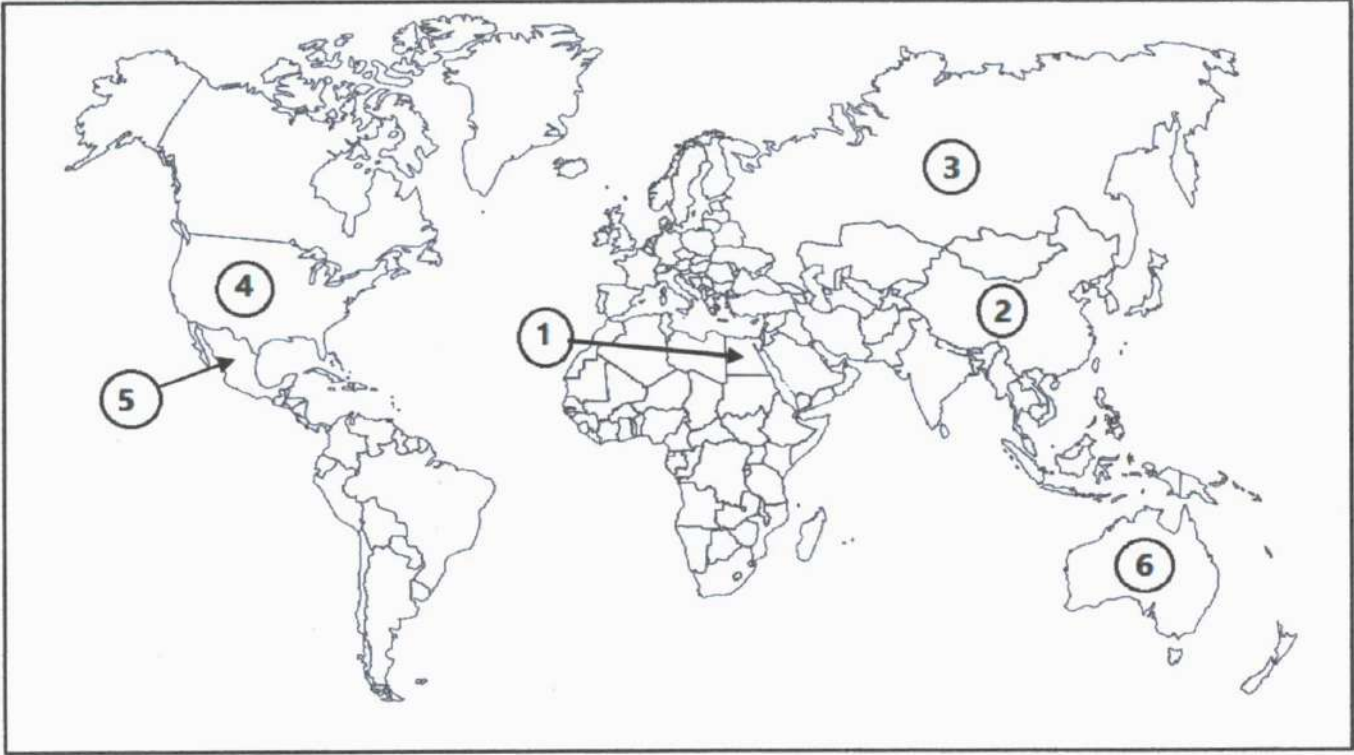
ثانيا: تفاوت المجالات الصناعية

٢- المجالات الصناعية في الدول النامية	١- المجالات الصناعية في البلدان المتقدمة
س١٠: حدد أسباب ببطء التصنيع في البلدان النامية. مهم جدا	شهدت المجالات الصناعية بالدول المتقدمة تحولات منذ الثورة الصناعية الاولى والثانية وهي:
١- النقص في	س٩: بين تراجع الصناعات القديمة في وسط المدن المتقدمة.
٢- الضعف	١)
٣- عدم تأهيل	٢)
٤- ضعف القدرة	٣)
• اهتمت الدول النامية بالصناعات	بروز مجالات صناعية بالقرب من المواصلات والمرافق البحرية.
• ظهرت ثنائية في المجال الصناعي تتمثل في:	• ظهور أقطاب تكنولوجية:
• تدعيم المدن الساحلية بالتجهيزات المشغلة للأيدي العاملة.	هي عبارة عن مناطق تتركز بها الجامعات. ومراكز البحث ومصانع ذات التكنولوجيا العالية.
• إهمال المناطق الداخلية ونزوح الأيدي العاملة.	❖ مثل منطقة السليكون فالي بسان فرانسيسكو.

❖ ضع دائرة حول رمز الإجابة الصحيحة من بين البدائل التالية:

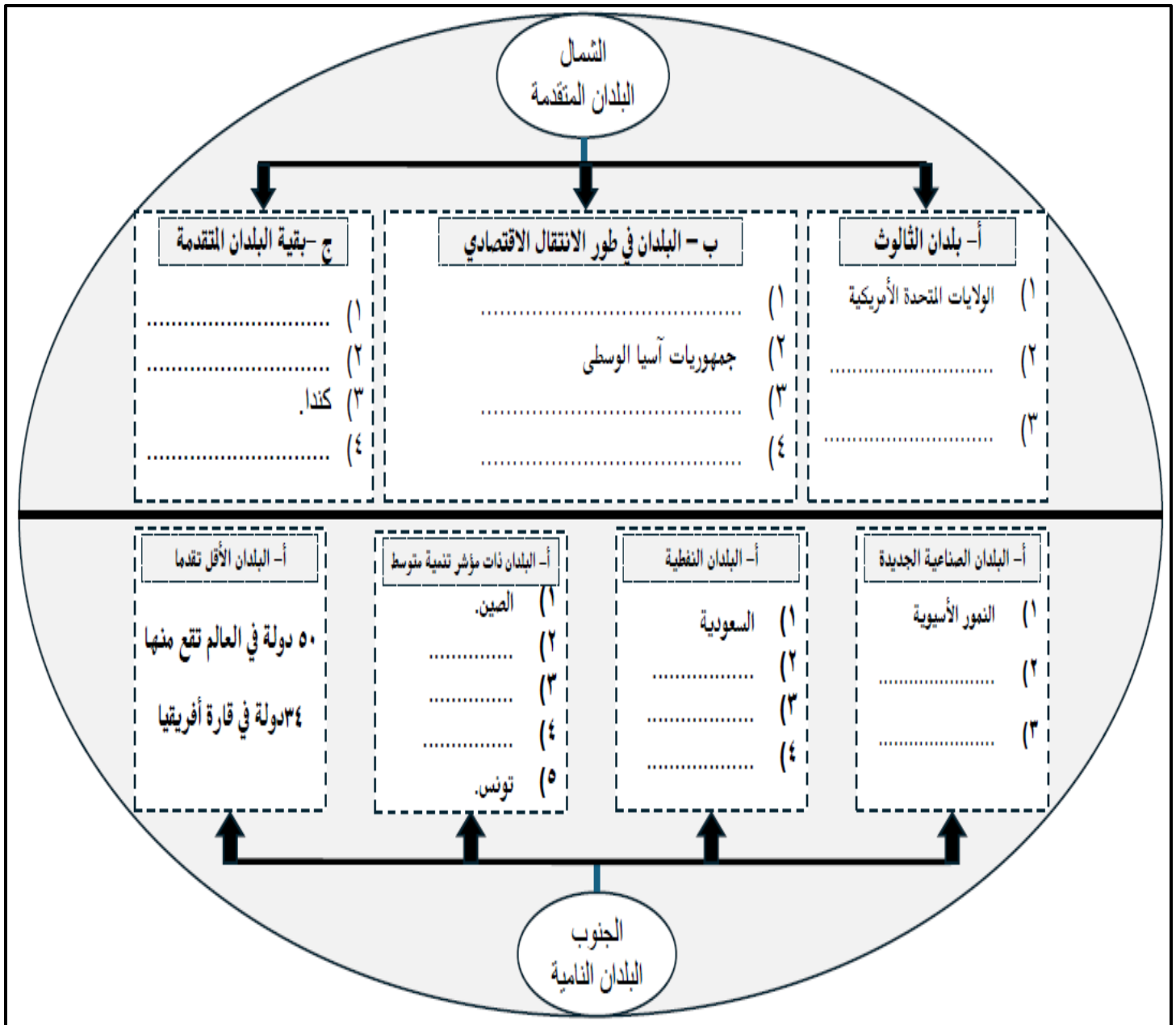
- ١- تتوطن الصناعات الخفيفة العالية التقنية مثل السليكون فالي بسان فرانسيسكو بالولايات المتحدة، في.
 - المناطق المدنية.
 - المناطق الشاطئية.
 - المناطق الخلابة.
 - (d) كل ما ذكر صحيح.
- ٢- كتراجع الصناعات القديمة بوسط المدن في البلدان المتقدمة، بسبب.
 - قدم تقنياتها.
 - ازدحام المدن.
 - تلوث المدن.
 - (d) كل ما ذكر صحيح.
- ٣- المناطق التي تتركز فيها الجامعات ومراكز البحوث والمصانع ذات التكنولوجيا العالية، تسمى.
 - أقطاب تكنولوجية.
 - مناطق مدنيه.
 - بوار صناعي.
 - (d) كل ما ذكر صحيح.

❖ أكمل الجدول التالي بكتابة مدلول الأرقام المثبتة على خريطة العالم.



العبارة	الرقم	مدلول الرقم على الخريطة
دولة ذات مؤشر تنمية متوسط	1
دولة تسود بها زراعة القمح	2
دولة تسود بها تربية الماشية الكثيفة	3
دولة من دول الشمال	4
دولة من البلدان الصناعية الجديدة	5
دولة ذات مستوى مرتفع للتنمية البشرية	6

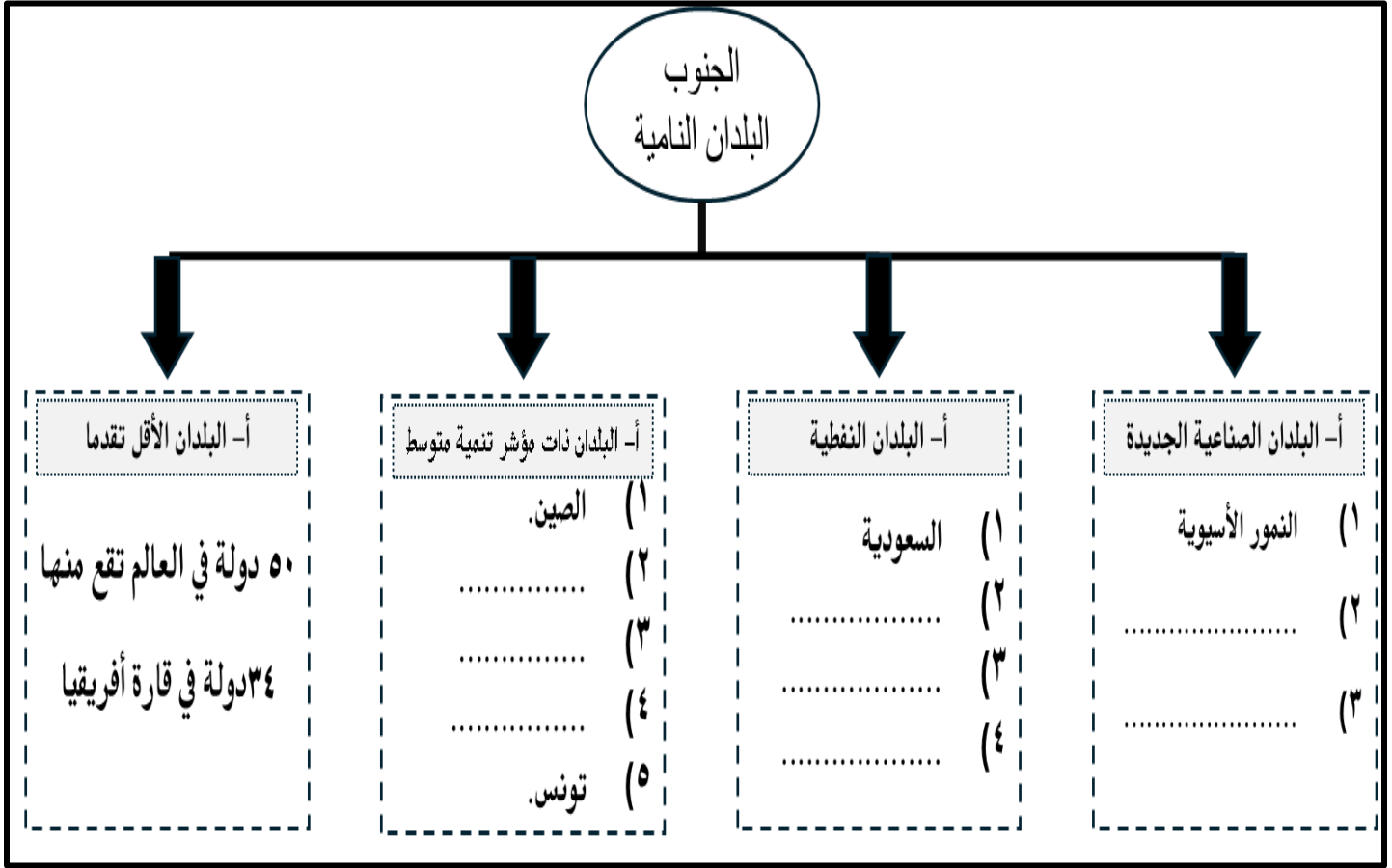
نشاط تعليمي: وضع تركيبة المجال العالمي (البنية الثنائية للمجال العالمي) في المخطط الآتي.



يم تفسر: يمتلك الثالث كل مؤهلات القوة للسيطرة على الاقتصاد العالمي.. (مهمة جدا)

- (١) استثنائه بأكثر عدد من
- (٢) احتكاره
- (٣) نفوذ عملاته
- (٤) نفوذه الجغرافي في
- (٥) النسبة الأكبر من براءات الاختراع والتكنولوجيا
- (٦) عضوية بلدانه
- (٧) الوزن الأكبر
- (٨) النسبة الأكبر في البحث والتطوير

أولاً: نشاط تعليمي: أكمل بناء المخطط التالي الذي يبين أصناف الدول النامية.



ثانياً: صنف مستويات البلدان النامية حسب مميزاتهما في الجدول الآتي:

البلدان الأقل تقدماً	البلدان النامية ذات مؤشر تنمية متوسط	البلدان النفطية	البلدان الصناعية الجديدة	مميزاتهما
				- عائدات نفطية كبيرة - مؤشر تنمية مرتفع
				- حصيلة تنمية ضعيف - هشاشة اقتصاداتها
				- قاعدة صناعية متنوعة
				- ضعف مساهماتها في التجارة الدولية
				- ارتفاع دخل مواطنيها - النفط أساس اقتصادها
				- تحقيق مستوى تنمية بشرية متوسط
				- تحقيقها نمواً اقتصادياً مرتفعاً ومتواصلاً
				- تحسن كبير في الناتج المحلي الخام للفرد فيها
				- ارتفاع نسبة تداينها - رداءة البنية التحتية فيها
				تسلفها عالية الإنتاج (انتقلت إلى الصناعات التكنولوجية العالية)

ثالثا: أكمل عوامل ترابط مكونات المجال العالمي.

<ul style="list-style-type: none"> - تحديد أسعار المواد الأساسية من قبل البورص - سيطرة دول الشمال على التجارة العالمية 	①	عوامل ترابط المجال العالمي
<ul style="list-style-type: none"> - توزيع السلع الاستهلاكية في الأسواق العالمية - تحول الرساميل من بلد لآخر ما أدى إلى عولمة 	②	
<ul style="list-style-type: none"> - ربطت دول القارة الواحدة بعضها ببعض - سهلت تواصل المؤسسات بإدارتها المنتشرة في العالم 	③	

رابعا: ضع دائرة حول رمز الإجابة الصحيحة من بين البدائل التالية:

١- تمثل مركز المجال العالمي وتتحكم في اقتصاده

(a) البلدان النامية. (b) البلدان النفطية (c) البلدان المتقدمة. (d) النمر الآسيوية

٢- يطلق على الاتحاد الأوروبي والولايات المتحدة الأمريكية واليابان اسم

(a) الثالث (b) النمر الآسيوية (c) حديثة التصنيع (d) البلدان النفطية

٣- تخضع أسعار المواد الأساسية المتبادلة كالقمح والقطن لبورصة عالمية مركزها المدن الكبرى مثل

(a) شيكاغو (b) لندن (c) باريس (d) كل ما ذكر صحيح

٤- تصنف ضمن البلدان الصناعية الجديدة (دول حديثة التصنيع)

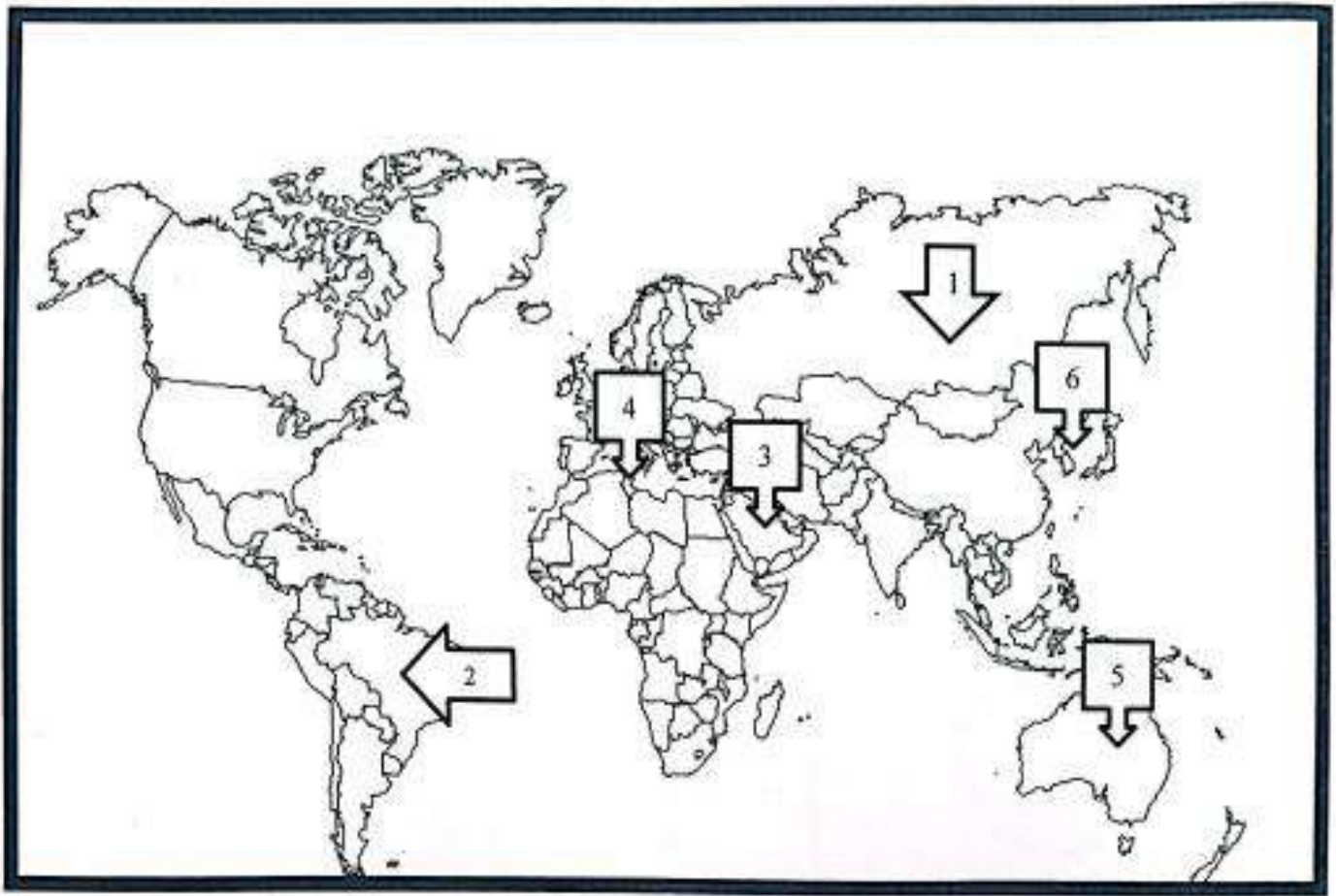
(a) النمر الآسيوية (b) البرازيل (c) المكسيك. (d) كل ما ذكر صحيح.

٥- المنظمة التي تجمع البلدان المصدرة للنفط وتحقق صادراتها ٤٠% من صادرات النفط العالمي هي

(a) الثالث (b) الأوبك (c) الاتحاد الأوروبي (d) النمر الآسيوية

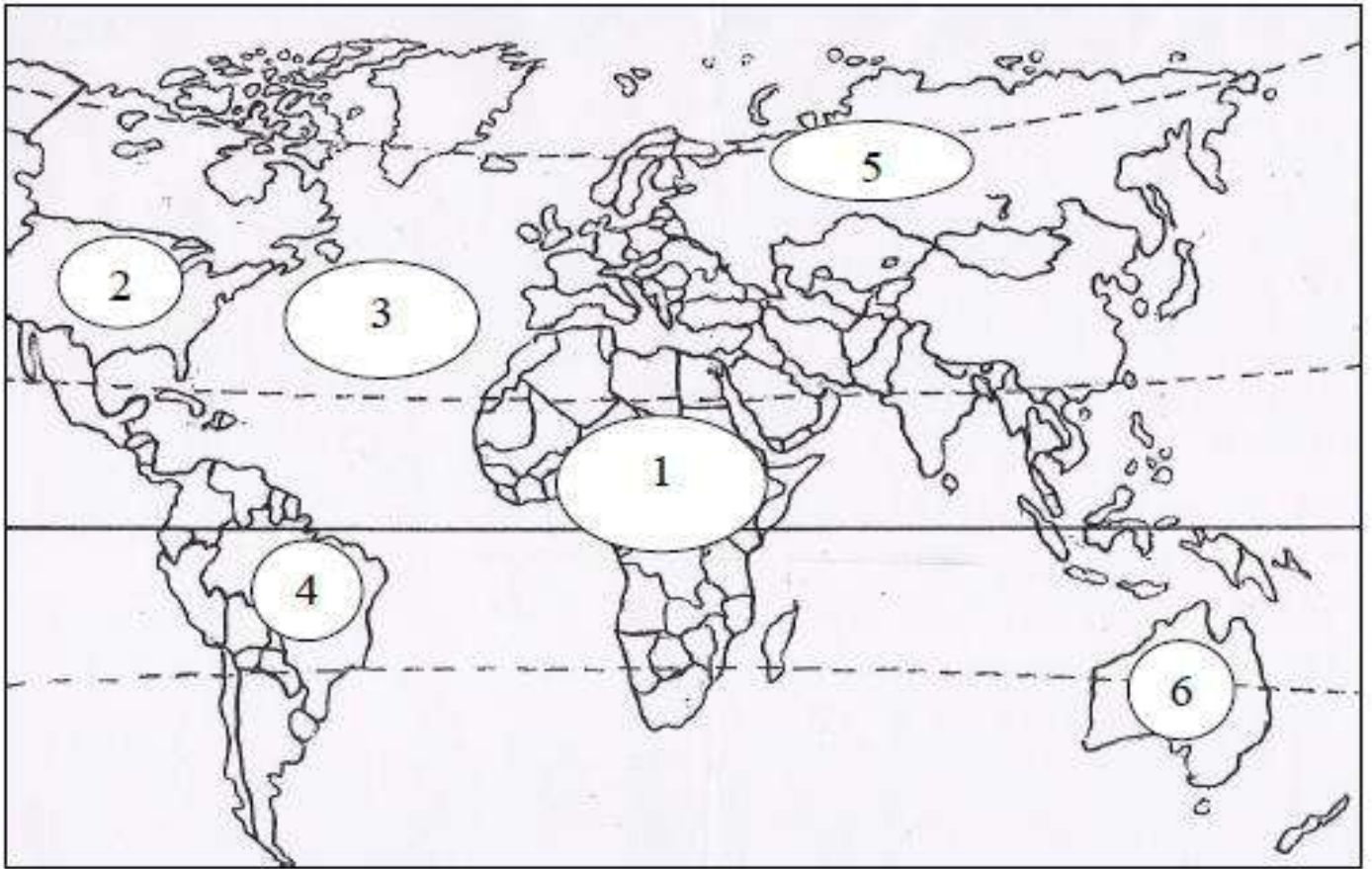


❖ أكمل الجدول التالي بكتابة مدلول الأرقام المثبتة على خريطة العالم.



العبارة	الرقم	مدلول الرقم على الخريطة
البلدان المتقدمة في طور الانتقال الاقتصادي.	1	
البلدان الصناعية الجديدة.	2	
البلدان النفطية (بلدان منتجة ومصدرة للمحروقات).	3	
البلدان النامية ذات مؤشر تنمية متوسط.	4	
بلدان تنتشر فيها تربية الماشية الكثيفة.	5	
بلدان حديثة التصنيع.	6	

❖ أكمل الجدول التالي بكتابة مدلول الأرقام المثبتة على خريطة العالم.



العبارة	الرقم	مدلول الرقم على الخريطة
قارة	1
بلد من بلدان الثالوث	2
مسطحات مائية	3
دولة حديثة التصنيع	4
دولة تسود بها زراعة القمح والحبوب	5
دولة متقدمة	6

نشاط تقويمي: أجب عن الأسئلة الآتية:

س١: ما هي أبرز مظاهر قوة قطاع الخدمات في الولايات المتحدة الأمريكية.



١- مساهمته

٢- ارتفاع نسبة

٣- ارتفاع حصة

س٢: بين أسباب قوة قطاع الخدمات في الولايات المتحدة الأمريكية.

١- ارتفاع

٣- الثورة

٢- ارتفاع

٤- ظهور

س٣: مستعينا بالكتاب المدرسي أكتب ثلاث خدمات مقدمة لكل فئة من الفئات الآتية.

الخدمات الموجهة للأفراد

- ١-
- ٢-
- ٣-

الخدمات الموجهة للمؤسسات

- ١-
- ٢-
- ٣-

الخدمات الموجهة للأفراد والمؤسسات

- ١-
- ٢-
- ٣-

س٤: ما أهم صادرات الأمريكية؟ وما أهم وارداتها؟

صادرات الولايات المتحدة الأمريكية

- ١-
- ٢-
- ٣-

واردات الولايات المتحدة الأمريكية

- ١-
- ٢-
- ٣-

س٥: بم تفسر: فقدت الولايات المتحدة الأمريكية سيطرتها على السوق العالمية في بعض المنتجات الصناعية والزراعية.

س٦: بم تفسر: تتسم الواردات الأمريكية بضخامتها.

١- القدرة

٢- عجز

س٦: حدد أبرز الشركات الشركاء التجاريين للولايات المتحدة الأمريكية بالترتيب. من خلال السم البياني ص٥٨ بالكتاب المدرسي.

١	٢	٣	٤	٥	٦	٧
---	---	---	---	---	---	---

❖ ضع دائرة حول رمز الإجابة الصحيحة من بين البدائل التالية:

١- المرحلة التي شهدت بروز قطاعات اقتصادية جديدة على حساب الزراعة والصناعة في الدول المتقدمة هي مرحلة:

(a) الاقتصاد ما بعد الزراعي (b) الاقتصاد ما بعد الصناعي (c) الاقتصاد ما بعد المديني (d) كل ما ذكر صحيح

٢- القطاع الذي يستحوذ على أعلى نسبة في تشغيل الأيدي العاملة في الولايات المتحدة الأمريكية.

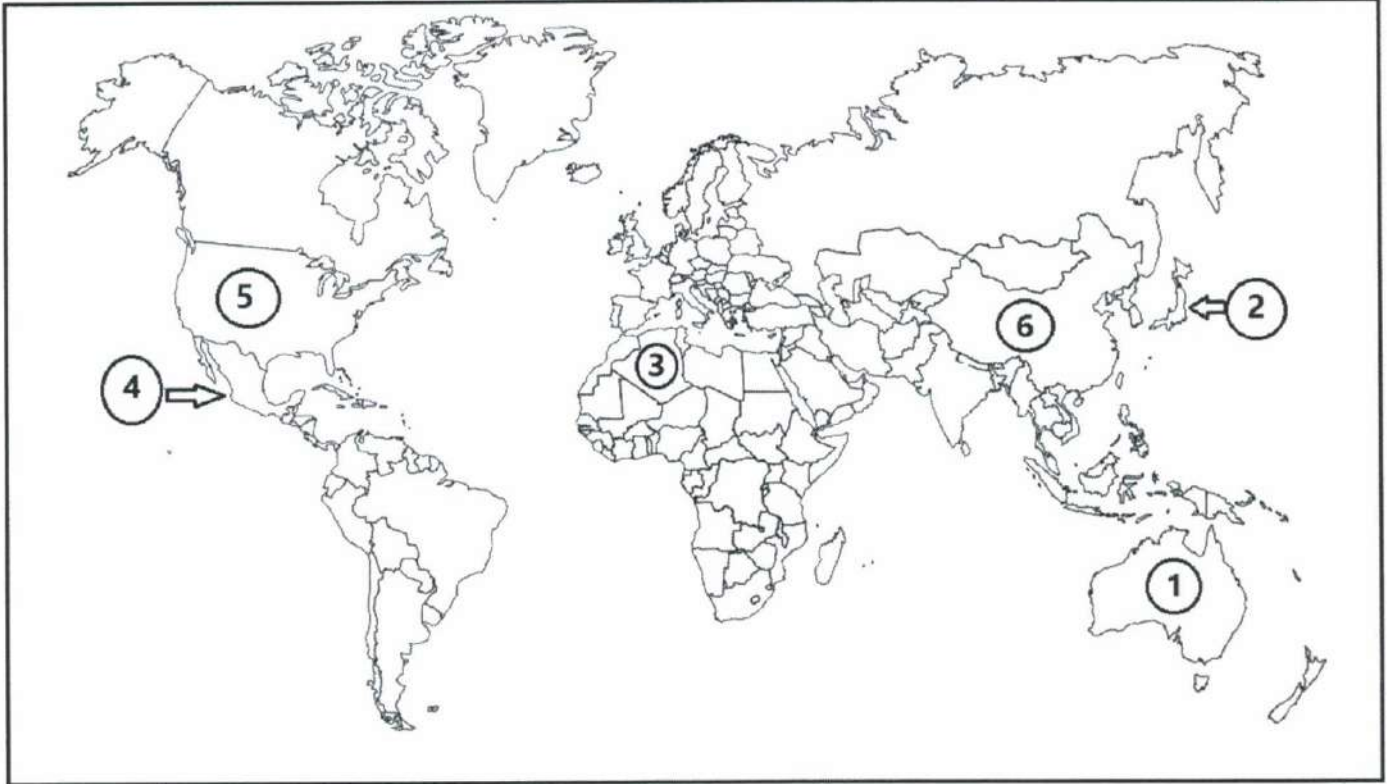
(a) قطاع الزراعة (b) قطاع الصناعة (c) قطاع الخدمات (d) قطاعي الزراعة والصناعة

٣- تواجه الولايات المتحدة الأمريكية منافسة حادة في بعض المنتجات الزراعية والصناعية من قبل:

(a) اليابان (b) الاتحاد الأوروبي (c) كوريا الجنوبية والبرازيل (d) كل ما ذكر صحيح

التغذية الراجعة:

❖ أكمل الجدول التالي بكتابة مدلول الأرقام المثبتة على خريطة العالم



العبارة	الرقم	مدلول الرقم على الخريطة
دول تسود بها زراعة الحبوب	1
بلد من بلدان الثالوث	2
دولة نفطية	3
دولة حديثة التصنيع	4
دولة مصدرة لبراءات الاختراع	5
دولة ذات مؤشر تنمية متوسط	6

أولاً: مظاهر القوة الصناعية:

١- مظاهر قوة الصناعة الأمريكية

- ✓ الولايات المتحدة الأمريكية أول قوة صناعية في العالم:
- ✓ توفر ٢٤ % من الإنتاج الصناعي التحويلي في العالم.
- ✓ تحتل المراتب الأولى عالمياً في إنتاج بعض السلع الصناعية.
- ✓ المرتبة الثالثة للفولاذ والمرتبة الأولى للسيارات والمطاط الاصطناعي والنفط المكرر).
- ✓ مساهمة كبيرة في الإنتاج العالمي: ١٧ % من الإنتاج العالمي للسيارات و ١٩ % للمطاط الاصطناعي...

١- ضخامة الإنتاج

صناعات الجيل الثالث	صناعات الجيل الثاني	صناعة الجيل الأول	
١- الصناعات الجو فضائية	١- الصناعات الكيماوية	١- صناعة الفولاذ	
<ul style="list-style-type: none"> ▪ القوة الصناعية الأمريكية. ▪ مشغلة للكفاءات. 	<ul style="list-style-type: none"> ▪ ثان صناعات مشغلة لليد العاملة. ▪ تتميز بشدة تنوع إنتاجها. ▪ مثال: شركة دي بون دي نامور. 	<ul style="list-style-type: none"> ▪ أهم الصناعات التعدينية. ▪ تتراجع بسبب المنافسة الأجنبية ▪ تنافسها اليابان. 	
٢- صناعة المعلوماتية	٢- صناعة السيارات	٢- صناعة النسيج	٢- تنوع الإنتاج
<ul style="list-style-type: none"> ▪ تتركز في كاليفورنيا ▪ في مدينة سياتل ▪ مقر مايكروسوفت ▪ تتنافس من اليابان 	<ul style="list-style-type: none"> ▪ تتركز في منطقة البحيرات الكبرى ▪ خاصة في مدينة ديترويت ▪ مثال: شركة جنرال موتورز 	<ul style="list-style-type: none"> ▪ تتراجع لمنافسة المكسيك والصين. ▪ انتقلت من الشمال الشرقي نحو الجنوب. ▪ بسبب رخص اليد العاملة. 	
		٣- صناعة المواد الغذائية	
		<ul style="list-style-type: none"> ▪ حافظت على مكانة متميزة. ▪ ارتقت إلى مصاف الشركات العالمية. 	

٣- المجال الصناعي بالولايات المتحدة الأمريكية

تتمثل هذه التحولات في تراجع وزن إقليم الشمال الشرقي.

٢- بروز أقاليم صناعية جديدة نشيطة (حزام الشمس).

إقليم حزام الشمس	إقليم الشمال الشرقي (الحزام الصناعي)
<ul style="list-style-type: none"> ▪ يتكون من كاليفورنيا والجنوب وتكساس وواجهة المحيط الهادي. ▪ استفاد من: ١- أزمة الشمال الشرقي. ٢- اليد العاملة الرخيصة للمهاجرين المكسيكيين. ٣- وفرة مصادر الطاقة بتكساس. ٤- انفتاح كاليفورنيا على واجهة المحيط الهادي. ▪ نما وزنه إذ أصبح يساهم ب ٤٧ % من الإنتاج الصناعي. 	<ul style="list-style-type: none"> ▪ أول إقليم صناعي في الولايات المتحدة الأمريكية. ▪ تركز به صناعة الفولاذ والنسيج والسيارات. ▪ شهد أزمة بسبب تقادم صناعاته والمنافسة الأجنبية. ▪ تجاوز أزمته بفضل إعادة الهيكلة والانفتاح على الرأس مال الأجنبي. ▪ تراجع نصيبه الصناعي من ٥٥ % في بداية السبعينات إلى ٤٢ % حالياً.

٢- مظاهر القوة الزراعية:

أ- إنتاج زراعي ضخم:	<ul style="list-style-type: none"> ارتفاع الإنتاج وضخامته. تضاعف إنتاج الحبوب والصويا والذرة. تضاعف إنتاج اللحوم البيضاء والحمراء.
ب- تنوع الإنتاج:	<ul style="list-style-type: none"> إنتاج نباتي يجمع بين منتجات طبيعية وأخرى معالجة جينيا. حيواني متنوع. إنتاج زراعي منشط للصناعة والخدمات.

ج- مجال زراعي متحول:

(١) الأزمات التقليدية القديمة.	(٢) مظاهر تحول المجال الزراعي.	(٣) أسباب التحولات الزراعية.
<ul style="list-style-type: none"> يتناسب مع المناخ والتضاريس: حزام الألبان بالشمال. حزام القمح والذرة والصويا بالسهول الكبرى. حزام القطن بالجنوب مناخ مداري. تربية الماشية بالغرب. المحاصيل المدارية بجزر هواي. 	<ul style="list-style-type: none"> تحول القطن إلى زراعة إنتاج اللحوم البيضاء. نمو الزراعة المتخصصة مثل الخضر. توسع زراعة القطن في الغرب. توسع الزراعات المروية بكاليفورنيا. انتشار مناطق تسمين البقر بالسهول الكبرى. 	<ul style="list-style-type: none"> الأزمات الاقتصادية. الأضرار البيئية. التوسع المشهود في الري. البحث العلمي مكن من تطوير المحاصيل.

ثانيا: دعائم القوة الصناعية والزراعية:

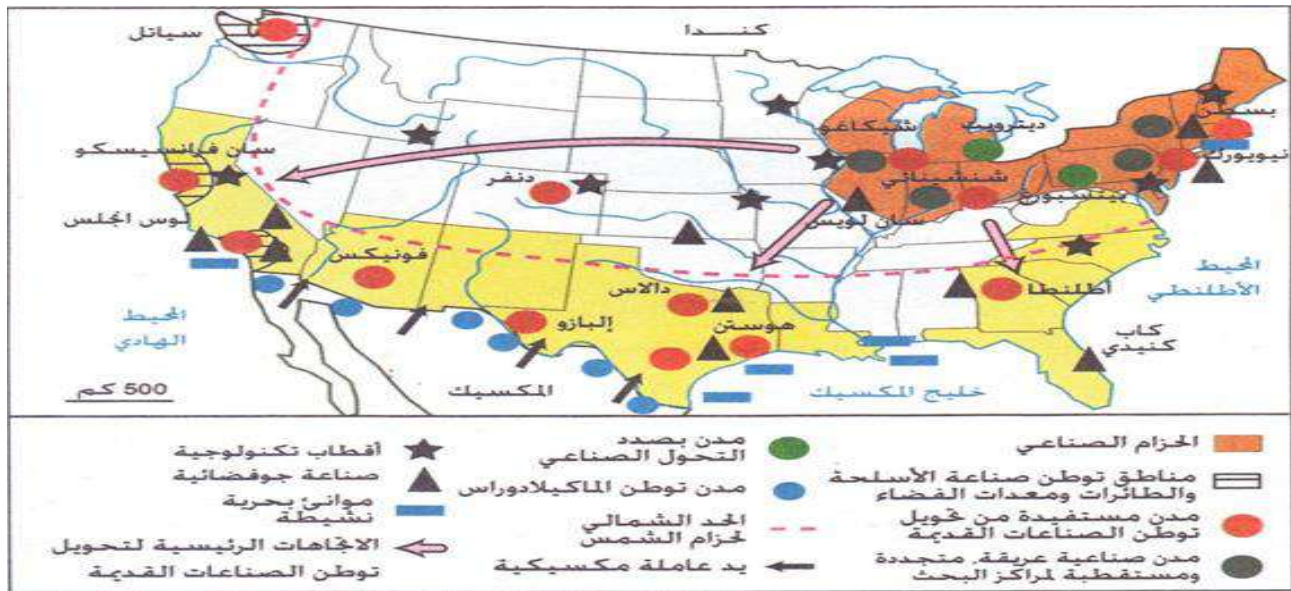
١- مجال طبيعي شاسع متنوع وثرى:

أ- تضاريس شاسعة ومفيدة	ب- مناخات متنوعة ومفيدة	ج- ثروة منجمية وطاقية وهامة، ولكن غير كافية
<ul style="list-style-type: none"> مجال شاسع يمتد على طول: ٤٥٠٠ كلم من الشرق إلى الغرب ٢٠٠٠ كلم من الشمال إلى الجنوب. السهول خصبة تمتد على ٣,٧ مليون كلم ٢. السواحل تمتد على ٣ واجهات بحرية وتوفر: ✓ ثروة سمكية هائلة. ✓ الانفتاح على البحار والمحيطات. ✓ تكثيف التبادل التجاري مع العالم. 	<ul style="list-style-type: none"> مناخات متنوعة أغلبها رطبة. شبكة أنهار مثل نهر المسيسيبي وروافده. ثروة غابية تنتج الخشب بأنواعه المختلفة. 	<ul style="list-style-type: none"> توجد في جبال روكي في الغرب. ثروة منجمية متنوعة وهائلة. تحتل الولايات المتحدة المراتب العالمية الأولى.

٢- الدعائم البشرية والتنظيمية:

المواصفات البشرية الداعمة للاقتصاد	الدعائم تنظيمية الداعمة للاقتصاد
<ul style="list-style-type: none"> وزن بشري هام: ٢٩٧ مليون نسمة عام ٢٠٠٥. هجرة انتقائية: انتقاء أصحاب الكفاءات الأكثر فائدة للاقتصاد. التشجيع بمبادئ الحرية والديمقراطية والمساواة في الحقوق والواجبات. روح المبادرة الفردية الخلاقة والابتكار والابداع. وفرة الكفاءات والمبدعين وتحضر مرتفع. هجرة داخلية من الشرق نحو الجنوب والغرب وحركية سكانية. ارتفاع دخل الفرد الذي يسمح بتوفر سوق استهلاكية داخلية كبيرة. 	<ul style="list-style-type: none"> وجود شبكة مدينيه كثيفة خاصة بالشمال الشرقي. المدن الكبرى تنظم المجال الأمريكي وتشجع عليه وتتحكم فيه. شبكة نقل واتصال كثيفة ومتطورة ومتنوعة تربط بين المدن. شبكة نقل برية، ونهرية، وبحرية، وجوية. جامعات ومراكز بحث وتطوير تكنولوجي تمثل ركائز للابتكار والتجديد. شركات متعددة الجنسيات (٢٣٨ شركة من بين ٥٠٠ شركة الأولى في العالم). دولة فيدرالية تدعم الاقتصاد بأشكال مختلفة.

❖ خريطة الولايات المتحدة الأمريكية توضح المجال الصناعي.



أولاً: صنف الصناعات الأمريكية التالية على حسب الجيل:

صناعة المعلوماتية	صناعة السيارات	صناعة النسيج	الصناعة الجو فضائية	صناعة الفولاذ	الصناعات الكيماوية
الجيل الثالث		الجيل الثاني		الجيل الأول	
.....	١ -	١ -	١ -
.....	٢ -	٢ -	٢ -

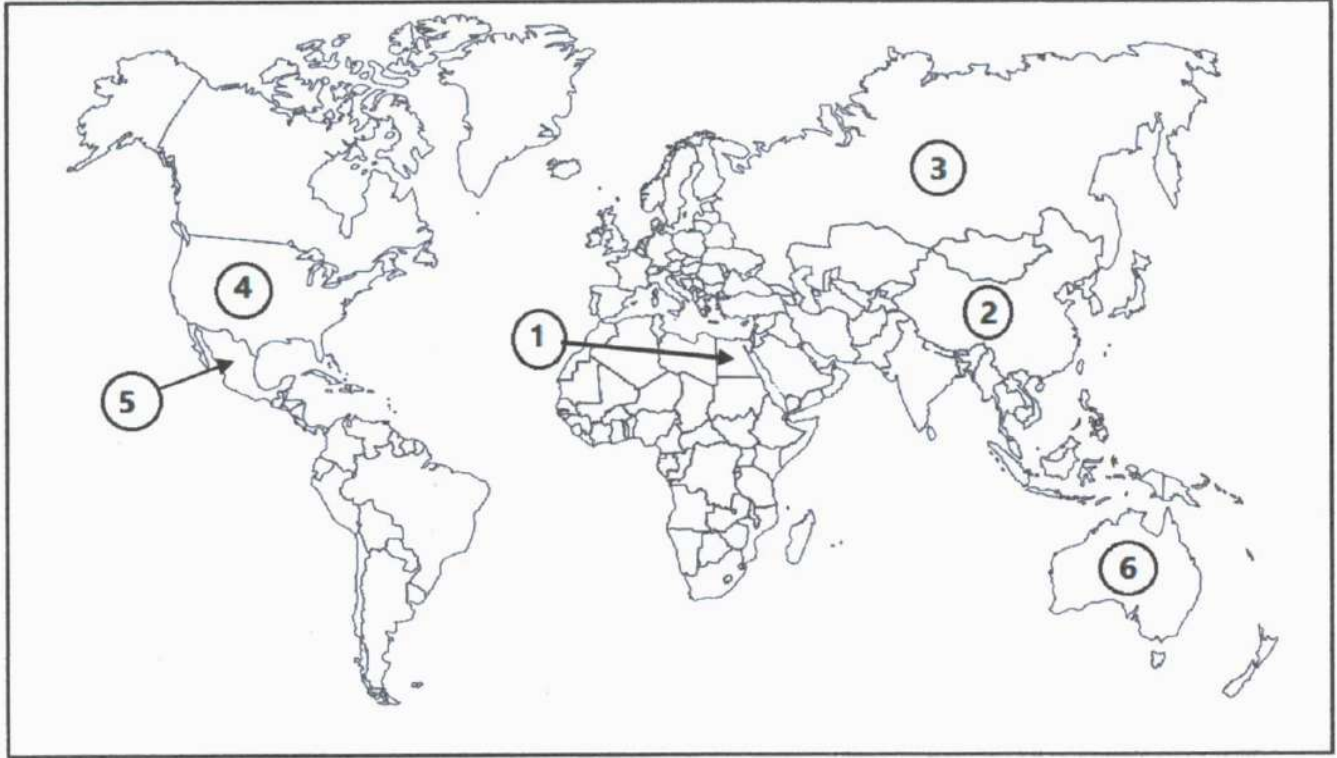
ثانياً يفسر: يعد المجال الطبيعي دعامة من دعائم القوة الإنتاجية الأمريكية.

- ١ -
- ٢ -
- ٣ -

ثالثاً: صنف العبارات الواردة في الجدول بوضع علامة صح في المكان المناسب حسب دعائم القوة الصناعية والزراعية الأمريكية.

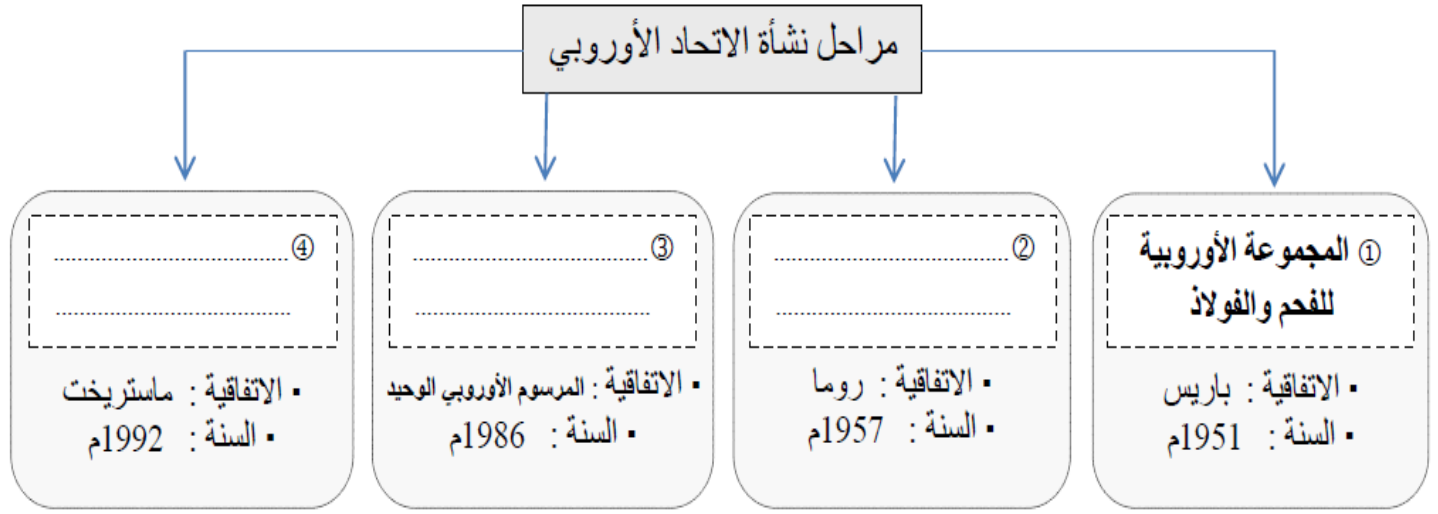
الرقم	العبرة	الدعائم البشرية	الدعائم التنظيمية
١	وفرة الكفاءات والمبدعين وتحضر مرتفع.		
٢	جامعات ومراكز بحث وتطوير تكنولوجي تمثل ركائز للابتكار والتجديد.		
٣	هجرة انتقائية: انتقاء أصحاب الكفاءات الأكثر فائدة للاقتصاد.		
٤	دولة فيدرالية تدعم الاقتصاد بأشكال مختلفة.		
٥	التشبع بمبادئ الحرية والديمقراطية والمساواة.		
٦	شبكة نقل واتصال كثيفة ومتطورة ومتنوعة تربط بين المدن.		

❖ أكمل الجدول التالي بكتابة مدلول الأرقام المثبتة على خريطة العالم



الرقم	العبارة	مدلول الرقم على الخريطة
1	دولة ذات مؤشر تنمية متوسط
2	دولة تسود بها زراعة القمح
3	دولة تسود بها تربية الماشية الكثيفة
4	دولة من دول الشمال
5	دولة من البلدان الصناعية الجديدة
6	دولة ذات مستوى مرتفع للتنمية البشرية

أولا: أكمل بناء المخطط التالي الذي يبين مراحل نشأة الاتحاد الأوروبي.

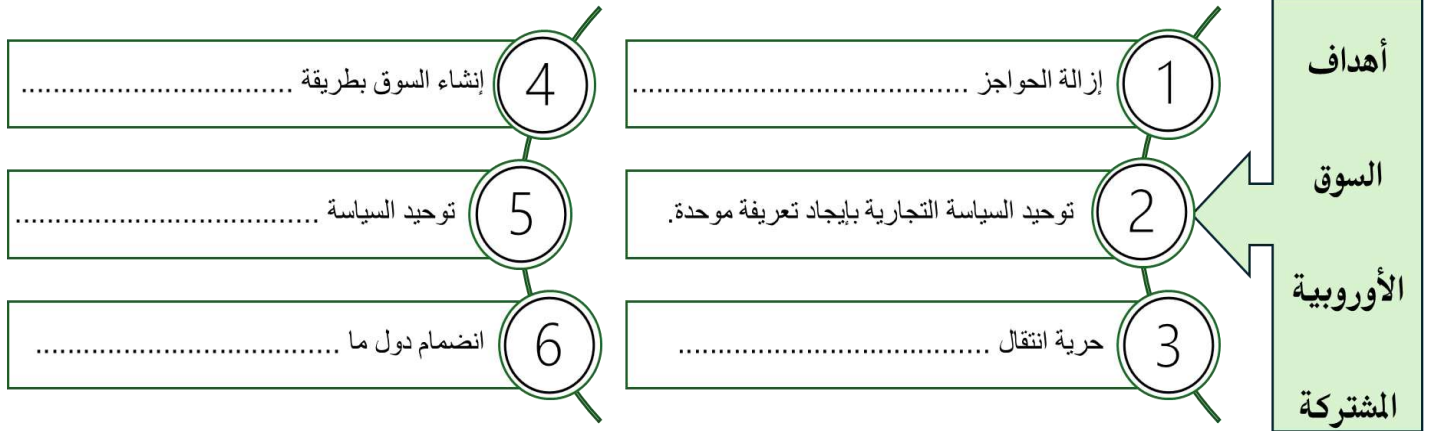


دول المجموعة الأوروبية للفحم والفلاد (اتفاقية باريس ١٩٥١م).

..... (١) (٢) (٣) (٤) (٥) (٦)
-----------	-----------	-----------	-----------	-----------	-----------



ثانيا: ما أهداف السوق الأوروبية المشتركة؟



ثالثا: اذكر الهدف من المؤسسات التي أنشئت لدعم السوق الأوروبية المشتركة.

الصفحة الأوروبية للتوجيه والضمان الزراعي	المجلس الاقتصادي والاجتماعي	الصفحة الاجتماعي الأوروبي	المصرف الأوروبي للاستثمار
الهدف منه	الهدف منه	الهدف منه	الهدف منه
.....
.....
.....

رابعا: صنف بنود اتفاقي ماستريخت ١٩٩٢م. (من الجانب الاقتصادي والجانب السياسي)

الجانب السياسي	الجانب الاقتصادي	البنود
		١- إتباع سياسية خارجية مشتركة
		٢- تطبيق ساسة نقدية موحدة
		٣- السعي إلى تطبيق سياسة دفاع موحدة
		٤- اتحان الإيكو عملة مشتركة
		٥- توسيع صلاحيات البرلمان الأوروبي
		٦- التقريب بين اقتصاديات الدول الأعضاء
		٧- تغيير مسمى السوق الأوروبية المشتركة إلى الاتحاد الأوروبي

خامسا: بم تفسر: تحول الأوروبيين إلى اليورو بدلا من الإيكو في يناير ١٩٩٩ م

❖ بسبب عدم صمود الإيكو أمام منافسة العملات الأخرى وخاصة الدولار.

سادسا: ما النتائج المترتبة على استكمال بناء الاتحاد الأوروبي؟

(١)

(٢)

(٣)

(٤)

سابعا: ضع دائرة حول رمز الإجابة الصحيحة من بين البدائل التالية:

١- اصطدمت فكرة الوحدة الأوروبية من البداية ب.

(a) الحواجز الجمركية. (b) الخصائص الوطنية. (c) المنافسة اليابانية. (d) المنافسة الأمريكية.

٢- نشأة السوق الأوروبية المشتركة عبر اتفاقية.

(a) ماستريخت ١٩٩٢ م. (b) المرسوم الأوروبي ١٩٨٦ م. (c) روما ١٩٥٧ م. (d) باريس ١٩٥١ م.

٣- تحولت السوق الأوروبية من مشتركة إلى سوق موحدة بعد اتفاقية.

(a) ماستريخت ١٩٩٢ م. (b) المرسوم الأوروبي ١٩٨٦ م. (c) روما ١٩٥٧ م. (d) باريس ١٩٥١ م.

٤- تحقق الاتحاد الاقتصادي والنقدي ونشأت الاتحاد الأوروبي عبر اتفاقية.

(a) ماستريخت ١٩٩٢ م. (b) المرسوم الأوروبي ١٩٨٦ م. (c) روما ١٩٥٧ م. (d) باريس ١٩٥١ م.

٥- مع توقيع اتفاقية ماستريخت، اعتمد الاتحاد الأوروبي عام ١٩٩٢ م عملة.

(a) اليورو. (b) الإيكو. (c) الجنيه الإسترليني. (d) الدولار.

٦- تحولت دول الاتحاد الأوروبي عام ١٩٩٩ م إلى عملة.

(a) اليورو. (b) الإيكو. (c) الجنيه الإسترليني. (d) الدولار.

٧- الدولة التي قررت الخروج من الاتحاد الأوروبي، هي.

(a) إيطاليا. (b) فرنسا. (c) بريطانيا. (d) هولندا.

٨- يعد الاتحاد الأوروبي عالميا القوة التجارية.

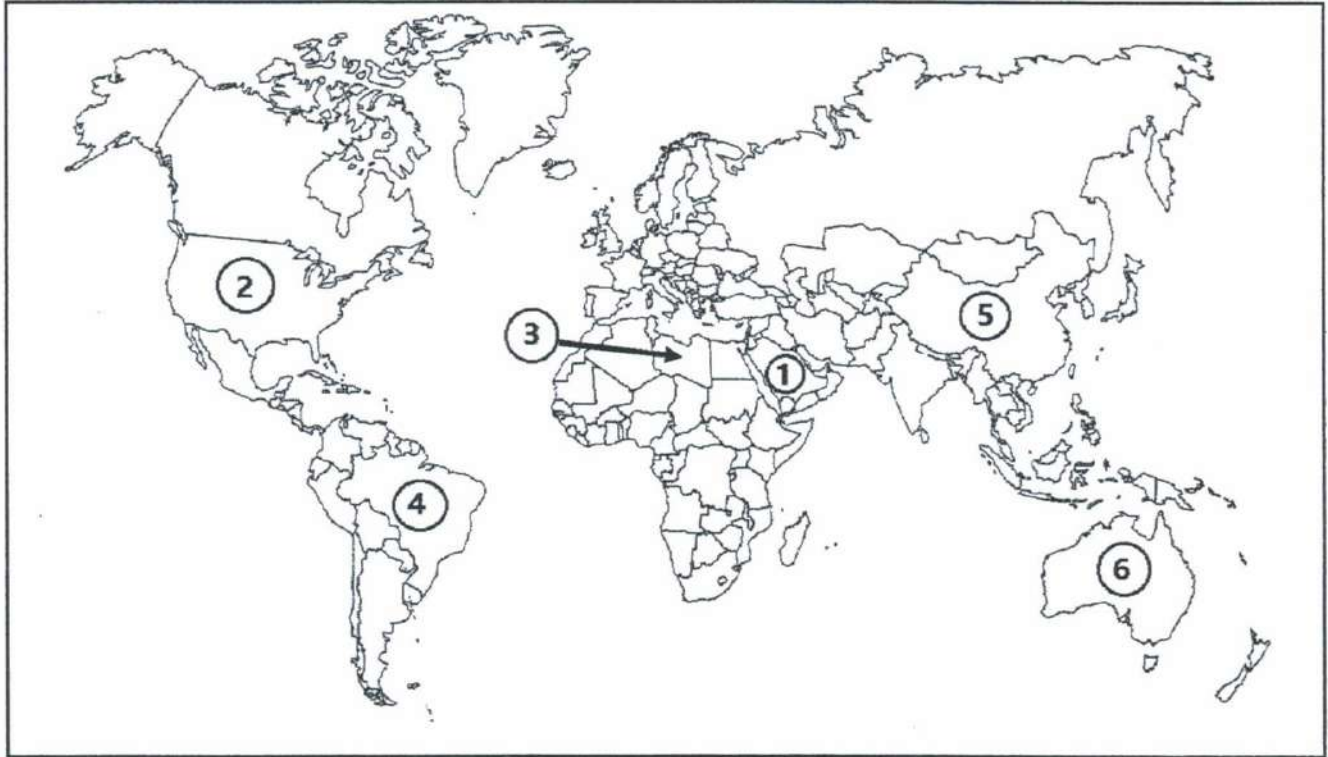
(a) الأولى. (b) الثانية. (c) الثالثة. (d) الرابعة.

❖ أكمل الجدول التالي بكتابة مدلول الأرقام المثبتة على خريطة العالم



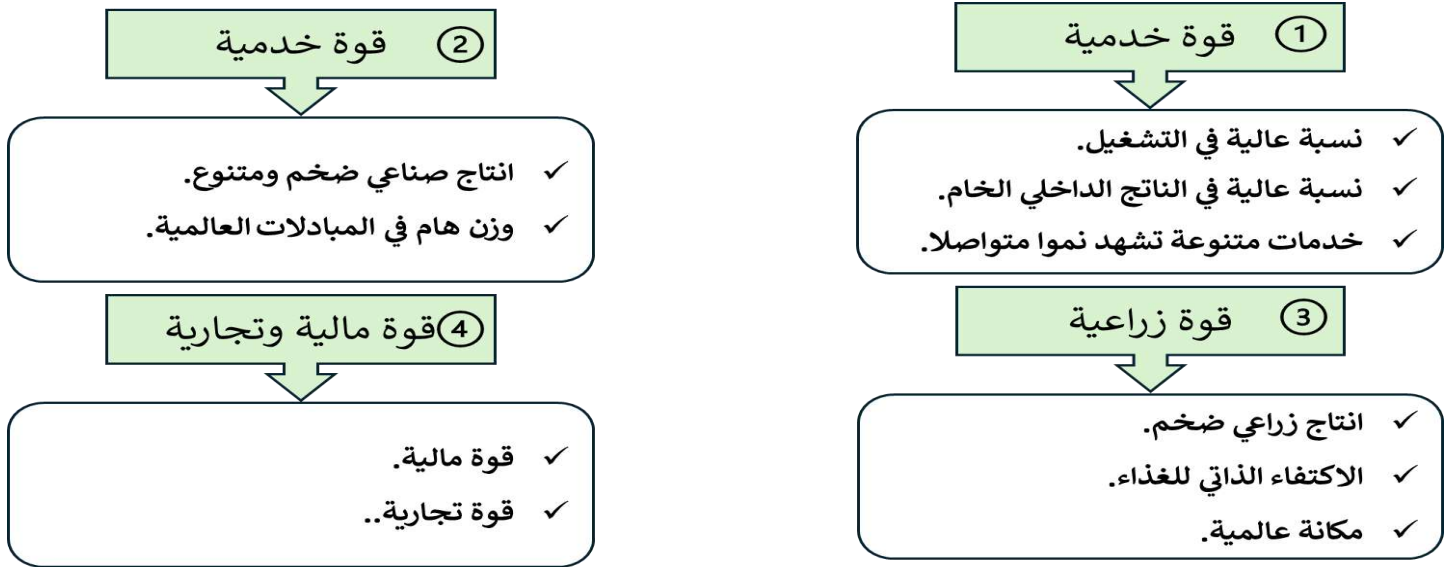
العبارة	الرقم	مدلول الرقم على الخريطة
دولة تنتشر فيها الزراعة المروية.	1	
بلدان نامية ذات مؤشر تنمية متوسط.	2	
	3	
دولة ضمن المجموعة الأوروبية للقمح والفلوات.	4	
مسطحات مائية.	5	
	6	

❖ أكمل الجدول التالي بكتابة مدلول الأرقام المثبتة على خريطة العالم



العبارة	الرقم	مدلول الرقم على الخريطة
دولة نفطية	1
دولة صناعية كبرى	2
دولة تنتشر بها زراعة الواحات	3
دولة حديثة التصنيع	4
دولة ذات مؤشر تنمية متوسط	5
دولة تسود بها تربية الماشية الكثيفة	6

أولاً: مظاهر القوة الإنتاجية:



س: بم تفسر: تنوع قطاع الخدمات في الاتحاد الأوروبي. مهمة جدا

س: تتميز الأنشطة الخدمية بالتنوع والنمو المتواصل في الاتحاد الأوروبي. مهمة جدا

☒ الحاجات المتزايدة للأفراد والمجتمعات والمؤسسات.

☒ الترابط بين القطاعات الاقتصادية.

☒ عولمة الاقتصاد.

☒ الإقبال العالمي على الاستهلاك.

س: أذكر أنواع الصناعات في الاتحاد الأوروبي.

* *	* الأجهزة	* التجهيزات الكهربائية	* الجو فضائية.
☒	☒	☒	☒
☒	☒	☒	☒
☒	☒	☒	☒

س: بم تفسر يعد الاتحاد الأوروبي قوة زراعية عالمية كبرى.

١- إنتاج زراعي ضخم	٢- الاكتفاء الذاتي	٣- مكانة عالية
<ul style="list-style-type: none"> • ضخامة الإنتاج النباتي والحيواني. • يوفر قرابة ٣٢٠ مليار يورو. • إنتاج مرتفع من الحليب واللحوم 	<ul style="list-style-type: none"> ✓ تغطية الحاجات الغذائية للسكان. ✓ الاكتفاء الذاتي بنسبة ١٠٠٪. ✓ توفير كافة المنتجات الغذائية الأساسية 	<ul style="list-style-type: none"> • المصدر الثاني للمنتجات الزراعية. • بلغت قيمتها ٦٠ مليار يورو. • تحقيق أمانة الغذائي.

س: لماذا يعتبر الاتحاد الأوروبي قطبا ماليا عالميا؟

➢ لأنه يمتلك جهاز مصرفي قوي ممثل في بنوك وبورصات عالمية نشطة (لندن - باريس - فرانكفورت)

➢ عملة اوروبية موحده ومن مظاهر القوة المالية:

✓ الهيمنة على ادفاق الاستثمار المباشر الاجنبي.

✓ حصة عالية من عائدات السياحة.

✓ المانح الاول للمساعدات العامة في العالم.

ملحوظة مهمة: تظهر القو التجارية للاتحاد الأوروبي من خلال:

١- ارتفاع حصته من المبادلات العالمية

٢- أهمية المنتجات الصناعية في المبادلات التجارية.

ثانيا: دعائم القوة الإنتاجية: س: **وضح دعائم الاتحاد الأوروبي.**

✓ توظيف موارد استثمار داخلية وخارجية مهمة. ✓ ترابط القطاعات الاقتصادية وتكامل المؤسسات ✓ أهمية البحث العلمي والتجديد التكنولوجي	✓ ٢- هياكل اقتصادية عريقة ومتجددة	✓ تراجع النمو الديموغرافي ✓ يد عاملة ذات مؤهلات متنوعة	✓ ١- ثروة بشرية مساعدة على اكتساب القوة
✓ شبكات نقل تساعد على الاندماج الاقتصادي الأوروبي ✓ تحضر كثيف يساهم في التحكم في المجال	✓ ٤- تحكم واضح في المجال	✓ مزايا الموقع. ✓ التضاريس غير معيقة للاقتصاد. ✓ مناخات ملائمة للنشاط الزراعي.	✓ ٣- الاستفادة من مزايا المجال والتحكم به

أسئلة مهمة على الدرس

س: ماهي موارد الاستثمار الداخلية والخارجية التي تستند إليها القوة الأوروبية؟

- ✱ الادخار ٢٠٪ من الناتج المحلي الخام.
- ✱ الاستثمار التي توظفها الصناديق الأوروبية
- ✱ الاستثمارات التي توظفها المؤسسات المالية في عملية إعادة التوطين.
- ✱ الاستثمارات الأجنبية المباشرة تبلغ نحو ٣٣٪.

س: اذكر بعض برامج البحث والتطوير المشتركة بين دول الاتحاد الأوروبي؟

- ١- **أوربكا عام ١٩٨٥م** مبادرة فرنسية المانية لتعزيز القدرة التنافسية للصناعات الأوروبية.
- ٢- **مبادرة الابتكار ٢٠١٠م** للاستثمار بهدف بناء اقتصاد أوروبي قوي يقوم على المعرفة والابتكار.

س: كيف تتكامل المؤسسات في الاتحاد الأوروبي؟

- ١- شركات عبر قطرية توفر أكثر من ٤٠٪ من القيمة المضافة الصناعية.
- ٢- مؤسسات صغيرة ومتوسطة تشغل أكثر من ٦٥٪ من اليد العاملة الصناعية.

س: كيف تساعد شبكات النقل والاتصال على الاندماج في الاتحاد الأوروبي؟

- ١- الطرقات والخطوط الحديدية تساهم في نقل المسافرين والبضائع.
- ٢- النقل البحري والنهري نقل البضائع.
- ٣- النقل الجوي من خلال شبكة من المطارات الهامة لندن - باريس - فرانكفورت.

س: كيف تساهم الحواضر في التحكم في المجال الأوروبي؟

- ١- حضران عالميتان لندن وباريس نفوذ عالمي.
- ٢- حواضر أوروبية يتنامى نفوذها العالمي مثل أمستردام وبروكسل.
- ٣- حواضر وطنية ذات نفوذ أوروبي مثل فرانكفورت وهانوفر.
- ٤- حواضر وطنية تساهم في تنظيم المجالات الوطنية مثل لاهاي.

الميناء البوليسي: تجمع حضري متعدد الحواضر والمدن، يعد ملايين السكان، أغلبهم حضر، ويمتد في شكل شريط متصل على مئات الكيلومترات، تهيكله شبكة نقل كثيفة ومتنوعة.

اقرأ المستند التالي، ثم أجب عن الأسئلة التي تليه.مبادرة الابتكار 2010م:

هي المبادرة الثاني التي تلت المبادرة الأولى 2000م، وهي مبادرة أطلقه البنك الأوروبي للاستثمار والصندوق الأوروبي للاستثمار بهدف بناء اقتصاد أوروبي يركز على المعرفة والابتكار، وتستهدف هذه المبادرة القطاعات الخمسة الآتية:

- البحث والتطوير التكنولوجي.
- تنمية المؤسسات الصغرى والمتوسطة.
- شبكات التكنولوجيا العالية.
- تكوين الرأسمال البشري وتأهيله.
- نشر الابتكار.

1. من أطلق مبادرة الابتكار 2010م.

..... •

2. ما الهدف من وراء مبادرة الابتكار 2010م.

..... •

3. أذكر القطاعات المستهدفة من قبل المبادرة:

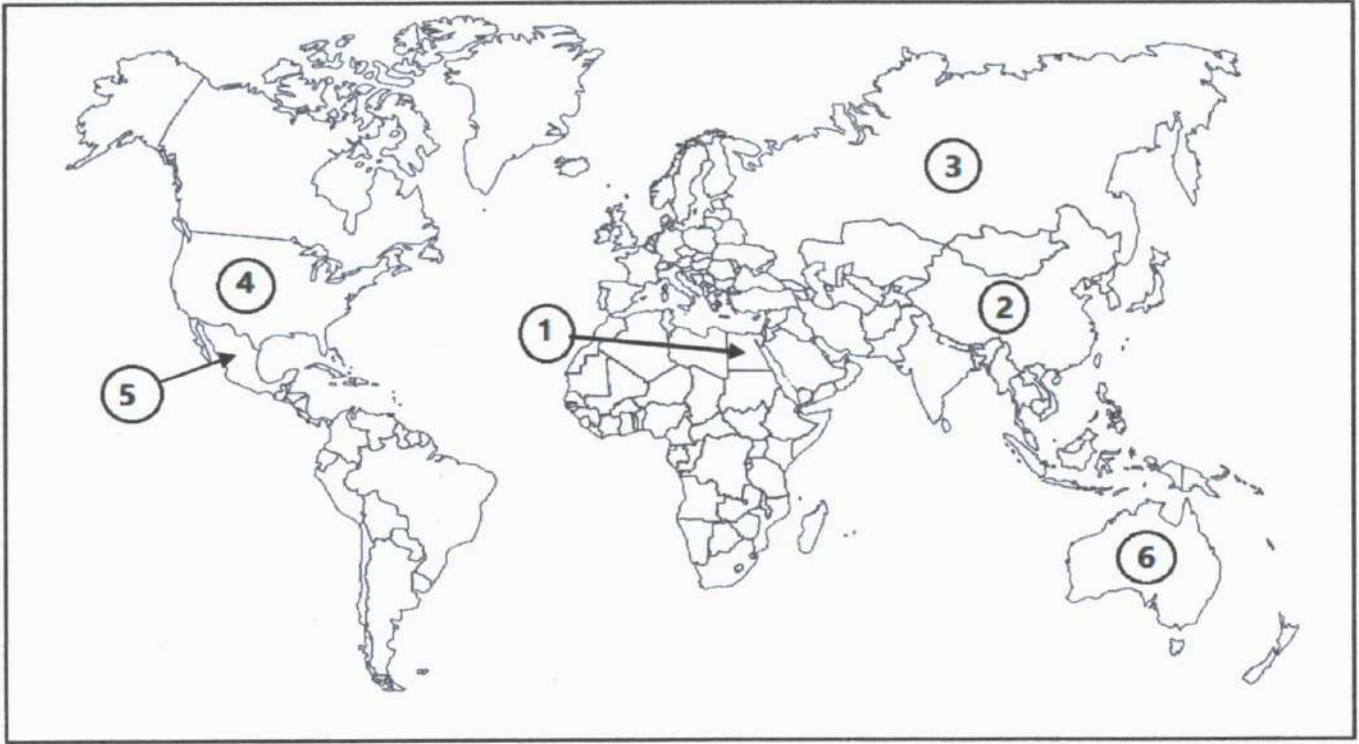
..... •

..... •

..... •

..... •

❖ أكمل الجدول التالي بكتابة مدلول الأرقام المثبتة على خريطة العالم



الرقم	العبارة	مدلول الرقم على الخريطة
1	دولة ذات مؤشر تنمية متوسط
2	دولة تسود بها زراعة القمح
3	دولة تسود بها تربية الماشية الكثيفة
4	دولة من دول الشمال
5	دولة من البلدان الصناعية الجديدة
6	دولة ذات مستوى مرتفع للتنمية البشرية

نموذج التنمية في الدول الحديثة التصنيع

- ❖ المقياس الذي اعتمده البنك الدولي في تصنيفه الدول السائرة على طريق التصنيع هو:
- ✓ أن تكون قيمة الصادرات الصناعية فيها تزيد عن نسبة (٣٠٪) من مجموع صادراتها من السلع والخدمات.

❖ الدول الحديثة التصنيع مثال:

- دول في قارة آسيا: و..... و..... و.....
- دول في قارة أفريقيا:
- دول في قارة أمريكا اللاتينية: المكسيك، والبرازيل.
- ❖ ارتبطت النهضة الصناعية في هذه الدول بالرساميل الخارجية وبالشركات المتعددة الجنسية.

أولاً: المميزات العامة للدول الحديثة التصنيع.

س: ما هي المميزات العامة للدول الحديثة التصنيع؟

<ul style="list-style-type: none"> ✓ تحديد اولويات التصنيع. ✓ مراقبة الاستثمارات الاجنبية. ✓ حماية السوق الداخلية. ✓ مراقبة النظام المصرفي. 	<p>٤- الدور</p> <p>.....</p>	<ul style="list-style-type: none"> ▪ تراجع النمو الديموغرافي. ▪ وفرة اليد العاملة. ▪ ارتفاع المستوى التعليمي والتأهيلي. 	<p>١- مزايا</p> <p>.....</p>
<ul style="list-style-type: none"> • السوق الداخلي ضيق لتدني الاجور. • يقوم النمو على التصدير المكثف. • تصدير السلع الاستهلاكية والثقيلة 	<p>٥- التصدير المكثف</p>	<ul style="list-style-type: none"> • توفير ضمانات وامتيازات مغرية. • توظيف ادفاق استثمارات متنامية. • توافق السياسة مع التقسيم العمل الدولي 	<p>٢- جلب</p> <p>.....</p>
		<ul style="list-style-type: none"> ✓ اكتساب التكنولوجيا الحديثة ✓ استيراد التكنولوجيا من الدول المتقدمة. ✓ يتم عن طريق الشركات عبر القطرية 	<p>٣- الاهتمام بالبحث العلمي والتطوير التكنولوجي</p>

ثانياً: مرحلتا التنمية في الدول الحديثة التصنيع

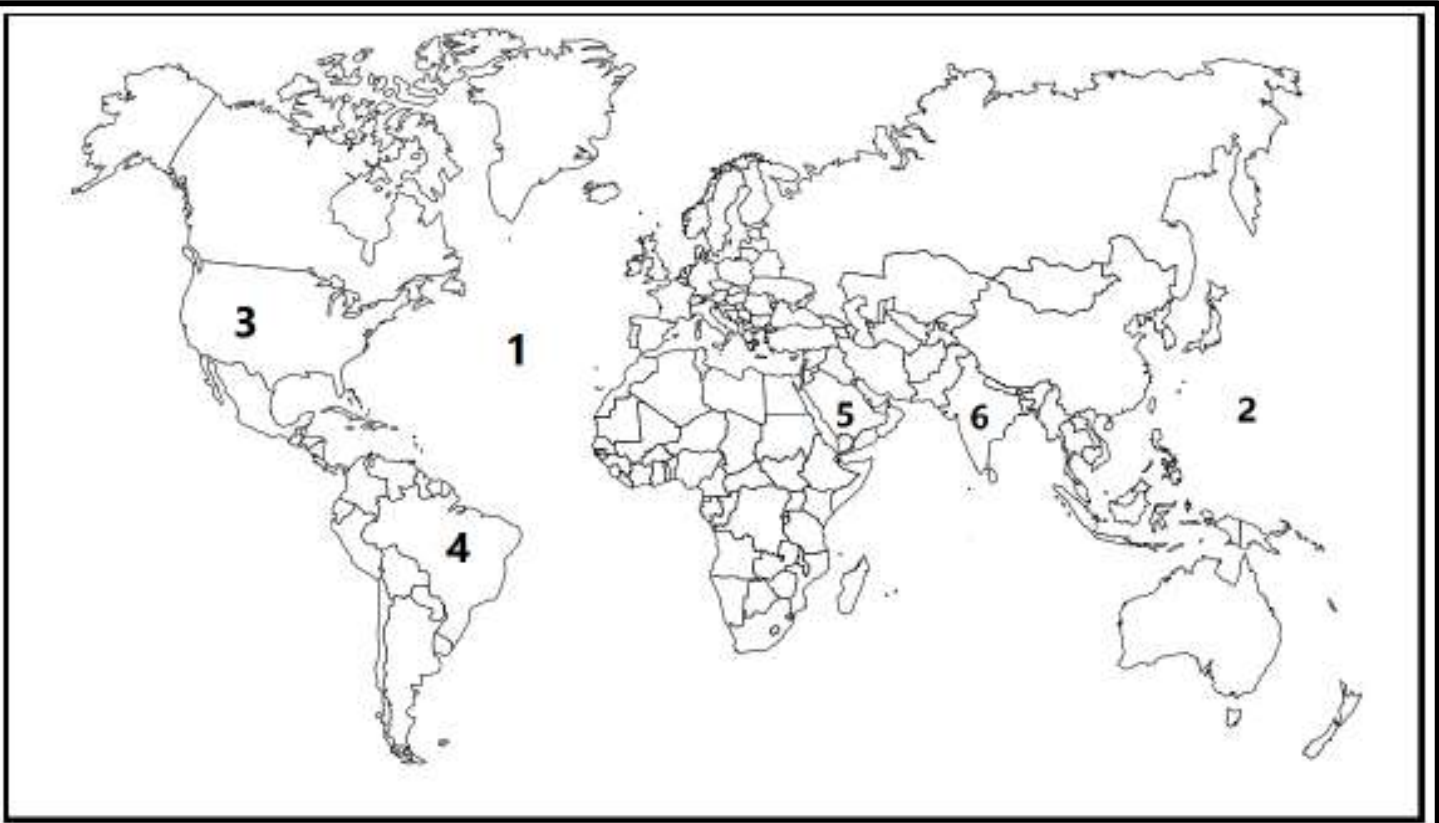
س: قارن بين خصائص مرحلتا التنمية في البلدان الحديثة التصنيع؟

<p>مرحلة إرساء اقتصاديات وطنية</p>	<p>مرحلة التصنيع المنفتح</p>
<ol style="list-style-type: none"> ١- انشاء مؤسسات وطنية كبري اعتمدت على الاستثمار الوطني. ٢- تطوير الصناعات الثقيلة والتحويلية. ٣- التحول من الصناعات البسيطة الي الصناعات التكنولوجية. ٤- عدم تهميش الزراعة وتحديث اساليب العمل الزراعي. ٥- عولمة الإنتاج الصناعي. 	<ol style="list-style-type: none"> ١- تصنيع معوض للاستيراد مثال النسيج الأحذية. ٢- تصنيع موجه للتصدير الخارجي. ٣- تطوير التصنيع بالاستثمارات الأجنبية. ٤- الدخول في الصناعات عالية التكنولوجيا والصناعات الثقيلة.

ثالثاً: الصعوبات التي تواجه الدول حديثة التصنيع.

<p>*الصعوبات.....</p>	<p>*الصعوبات.....</p>
<ul style="list-style-type: none"> ✓ التبعية التجارية أدت إلى عجز الموازين التجارية وتفاقم الدين الخارجي. ✓ اشتداد المنافسة في الاسواق الخارجية من قبل البلدان الصناعية. 	<ul style="list-style-type: none"> ❖ التفاوت الاجتماعي بين الفئات المختلفة. ❖ تراكم المشاكل البيئية مثل التلوث الهوائي والمائي

❖ أكمل الجدول التالي بكتابة مدلول الأرقام المثبتة على خريطة العالم



مدلول الرقم على الخريطة	الرقم	العبرة
.....	1	مسطحات مائية
.....	2	
.....	3	دولة من بلدان الثالوث
.....	4	دولة حديثة التصنيع
.....	5	دولة تسود بها زراعة الواحات
.....	6	دولة ذات مؤشر تنمية متوسط

❖ معلومات مهمة عن البرازيل:

- القارة: أمريكا الجنوبية.
- العاصمة: برازيليا.
- المساحة: ٨,٥ مليون كم مربع.
- عدد السكان: ٢٠٢ مليون نسمة.
- تنقسم الأقاليم إلى ٢٦ ولاية.
- تحتل المرتبة الخامسة عالميا من حيث المساحة وعدد السكان.
- تشارك مع جميع دول القارة باستثناء شيلي والإكوادور.

+ لا: مظاهر القفزة الاقتصادية البرازيلية:

قوة صناعية بارزة ضمن العالم النامي	البرازيل قوة زراعية	تجارة خارجية نشطة
<ul style="list-style-type: none"> التركيز على الصناعات الثقيلة أهمها الصناعة التعدينية. ظهرت شركات تهيمن عليها الدولة وخاصة الفولاذ تتركز هذه الصناعات في منطقة مينا س جيراس. 	<ul style="list-style-type: none"> نمت منذ عهد الاستعمار البرتغالي ملكيات كبيرة تسمى اللاتيفنديا. تنوع إنتاجها مثل القهوة الأولى عالميا. 	<ul style="list-style-type: none"> استفادت من الصناعة والزراعة لتدعم تجارتها: اتباع سياسة الانفتاح الاقتصادي حيث: خفض الجمارك تطوير الخدمات الموجهة للمؤسسات.
<ul style="list-style-type: none"> صناعات الجيل الثاني الصناعات الكيماوية والسيارات. تأسيس أكبر شركة سيارات في البرازيل أوتو لاتينا. استقطاب الشركات العالمية. البرازيل عاشر منتج عالمي للسيارات 	<ul style="list-style-type: none"> هي زراعات عائلية مثل الأرز والقمح ترتبط بالصناعات الغذائية لقراء البرازيل تشغل اليد العاملة الزراعية. ملكيات صغيرة تسمى الميكرو فنديا. تنتشر في الشمال الشرقي للبرازيل. ضعف الدخل وركود الإنتاج. غير قادرة على تلبية حاجيات السكان. 	<ul style="list-style-type: none"> ترتكز التجارة البرازيلية على الصادرات. تضاعفت الصادرات حوالي ١٢ مرة لتصبح ١١٨ مليار تضم صادرات البرازيل: المنتجات الصناعية بنسبة ٥٣٪. المنتجات الزراعية بنسبة ٣٢٪. تخلصت البرازيل من عجز الميزان التجاري. تحقق فائضا قدر ب ٤٤,٧ مليار دولار عام ٢٠٠٥ م. تتعامل تجاريا مع التالوث وكذلك الأرجنتين والصين.
<ul style="list-style-type: none"> بفضل الاستثمارات الأجنبية تقسم هذه الصناعات إلى: الصناعات النووية: تملك محطتين نوويتين. صناعة الطائرات: رابع منتج في العالم وتملك شركة إيرباص. صناعة الأسلحة: منتج هام للأسلحة الثقيلة والخفيفة. 	<ul style="list-style-type: none"> ١- أهمية الزراعات التصديرية ٢- الزراعات المعاشية 	<ul style="list-style-type: none"> البرازيل تعاني من بعض الصعوبات مثل: بقاء تجارتها في تبعية تجاه أسواق الدول المتقدمة.

ثانيا: دعائم القفزة الاقتصادية البرازيلية

<ul style="list-style-type: none"> ١- أهمية النشاطين: عدد ضخم من السكان أكثر من ٢٠٢ مليون نسمة. يعد عدد السكان طاقة استهلاكية كبيرة. انخفاض الدخل السنوي للفرد (٨٥٠٠ دولار). تملك البرازيل رصيدا ضخما من النشاطين تقدر نسبتهم بحوالي ٥٦٪. استقطاب الاستثمارات الأجنبية لأن اليد العاملة زهيدة الثمن. 	<ul style="list-style-type: none"> ١- نموذج تنموي قائم على الإمكانيات الوطنية: تحقيق التنمية بالاعتماد على الإمكانيات الذاتية. الاستثمار نحو السوق الوطنية لتلبية حاجات البلاد. عدم التعويل على الموارد المالية الأجنبية. تبنت الدولة نموذج التصنيع بدل الاستيراد. 	<ul style="list-style-type: none"> ١- تعاقب نماذج التنمية
<ul style="list-style-type: none"> ب- دور الهجرة الداخلية والخارجية: استفادت البرازيل منذ القرن السادس عشر من تدفق أعداد كبيرة من المهاجرين. ساهم المهاجرون في تعمير البلاد وتركيز أنشطة زراعية جديدة. وفرت هجرة العبيد يد عاملة ضرورية لمزارع القهوة وقصب السكر والقطن. ساهمت هذه الحركة في تطوير المناطق الأقل حظا في البرازيل. 	<ul style="list-style-type: none"> ٢- رصيد بشري كبير 	<ul style="list-style-type: none"> ٢- نموذج تنموي قائم على النهوض بالصادرات: امتد هذا النموذج من عام ١٩٦٤م إلى نهاية ثمانينات التوجه نحو التصنيع الموجه للتصدير. ارتبط بالأسواق الخارجية. الانفتاح على رأس المال الخاص المحلي والاجنبي.
	<ul style="list-style-type: none"> ٣- الانفتاح الاقتصادي: تخلي الدولة عن المشاركة في الإنتاج تحرير المبادلات وتوثيق العلاقات مع الخارج. تطبيق برنامج الإصلاح الهيكلي. إزالة الحواجز الجمركية. خصخصة المؤسسات العمومية. 	

<ul style="list-style-type: none"> ١- أهمية الثروات الطبيعية: مساحة شاسعة تفوق ٨,٥ مليون كم^٢. أراض زراعية واسعة تقدر بـ ٤٨٠ مليون هكتار. تعدد الأقاليم المناخية فتتنوع المنتجات الزراعية. توفر شبكة نهريّة كثيفة تتركز حول نهر الأمازون. وفرة الثروات المنجمية مثل الحديد واليوكسيت. تزايد إنتاج الطاقة والطاقة النووية. وفرة المياه العذبة الصالحة للزراعة. 	<ul style="list-style-type: none"> ٤- الاستثمارات الأجنبية والاقتراض الخارجي 	<ul style="list-style-type: none"> ٣- الثروات الطبيعية والتحكم في المجال
<ul style="list-style-type: none"> اهتمت الشركات متعددة الجنسيات بالاستثمار في البرازيل للأسباب الآتية: (مهمة جدا) رخص اليد العاملة وتوفرها. الاستقرار السياسي. التسهيلات المقدمة من الدولة للاستثمار. وفرة الموارد الطبيعية. 	<ul style="list-style-type: none"> توسيع المجال المعمور وربط الأقاليم بعضها ببعض. إنجاز شبكات النقل المتنوعة. أنشأت البرازيل عاصمة جديدة سميت برازيليا. لتخفيف الضغط على المناطق الساحلية. 	
<ul style="list-style-type: none"> التجهت أغلب الاستثمارات نحو قطاعي الزراعة والصناعة. سيطرت الشركات متعددة الجنسيات على أراضي واسعة. لجأت الدولة البرازيلية إلى جانب الاستثمار الأجنبي إلى الاقتراض لتمويل التنمية. 		

ثالثاً: مشكلات التنمية في البرازيل

✓ الملكية الإثنية تستحوذ على ٤٥٪ من مجموع الأراضي.	✓ استحوذ ١٠٪ من مجموع المزارعين على ٨٠٪ من الملكيات الزراعية.	١- سوء توزيع الأراضي (الملكيات) في الأرياف
✓ الملكيات الصغيرة تعاني من ضعف الدخل والتهemis.	✓ تحتكر الملكيات العشرون الأكبر أكبر من مزارع صغار المنتجين.	
✓ احتداد النزاعات على الأراضي بين كبار وصغار المزارعين.		
أ- تركز الفقر والبؤس في السكن العشوائي:	ب- تركز الثروة والبنخ في الأحياء الراقية:	٢- تركز الفقر والبؤس داخل المدن
✓ النزوح الريفي الناجم عن الأوضاع المتأزمة في الريف.	✚ تضم المدن الكبرى أحياء مركزية غنية.	
✓ بروز أحياء فقيرة في المدن البرازيلية تسمى الفافيلا .	✚ تتميز بكثافة الأبنية وناطحات السحاب.	
✓ الفافيلا أحياء عشوائية نمت في أراضي غير ملائمة للسكن.	✚ تأوي مقرات المؤسسات الكبرى الاجتماعية والخدمية الراقية.	
✓ الفافيلا تعتمد على أنشطة خدمية غير قانونية.	✚ تحيط بها أحياء فخمة تخصص للفئات المرفهة.	
أ- البرازيل المركزية في الجنوب الشرقي والجنوب:	ب- البرازيل الطرفية في الشمال الشرقي:	٣- تباينات إقليمية حادة
✓ يعد أكثر المجالات تقدماً ٥٧٪ من السكان	✚ أقل الأقاليم البرازيلية تقدماً أكثرها فقراً.	
✓ ٧٥٪ من الناتج الداخلي الخام.	✚ كثافة سكانية عالية ويقل أمل الحياة عند الولادة.	
✓ ٩٠٪ من قيمة الإنتاج الصناعي.	✚ يضم ٢٨٪ من سكان البلاد، وأكثر من نصفهم فقراء.	
✓ يضم ساو باولو أهم مدينة وعاصمته الاقتصادية.	✚ ينحصر التصنيع في بعض المدن مثل سلفادور وريسيف.	
✚ يعزى تقدم هذه المنطقة إلى العوامل الآتية:	✚ يعود تخلف هذا الإقليم للعوامل الآتية:	
✓ انطلاق حركة التصنيع في الإقليم الجنوب الشرقي.	✚ ضعف استفادته من السياسات التنموية.	
✓ استقطاب ساو باولو للاستثمارات الأجنبية.	✚ ارتباط اقتصاده بالزراعة الأحادية لقصب السكر.	
✓ تنوع الأنشطة الزراعية في المنطقة.	✚ خضوعه لهيمنة إقليم الجنوب الشرقي.	
	✚ انتشار الجفاف وتأزم الواقع العقاري.	
ج- البرازيل الرائدة في الشمال والوسط الغربي:		
	✚ يضم مناطق غنية بالموارد الطبيعية.	
	✚ يتميز بتعميره المشتت.	
	✚ يعتمد على زراعة الصويا وتربية الماشية الممتدة.	
✚ العوامل التي ساهمت في تأزم هذه المناطق:		
	✚ غياب المدن القادرة على دفع التنمية.	
	✚ غلبة أمازونيا التي تعتبر أرض بدون سكان.	
	✚ الفوارق الكبيرة بين الأقاليم الثلاثة.	

أسئلة مهمة جدا على درس البرازيل دولة حديثة التصنيع في أمريكا الجنوبية

١- بم تفسر: اهتمام الشركات متعددة الجنسيات بالاستثمار في البرازيل.

- (١)
- (٢)
- (٣)

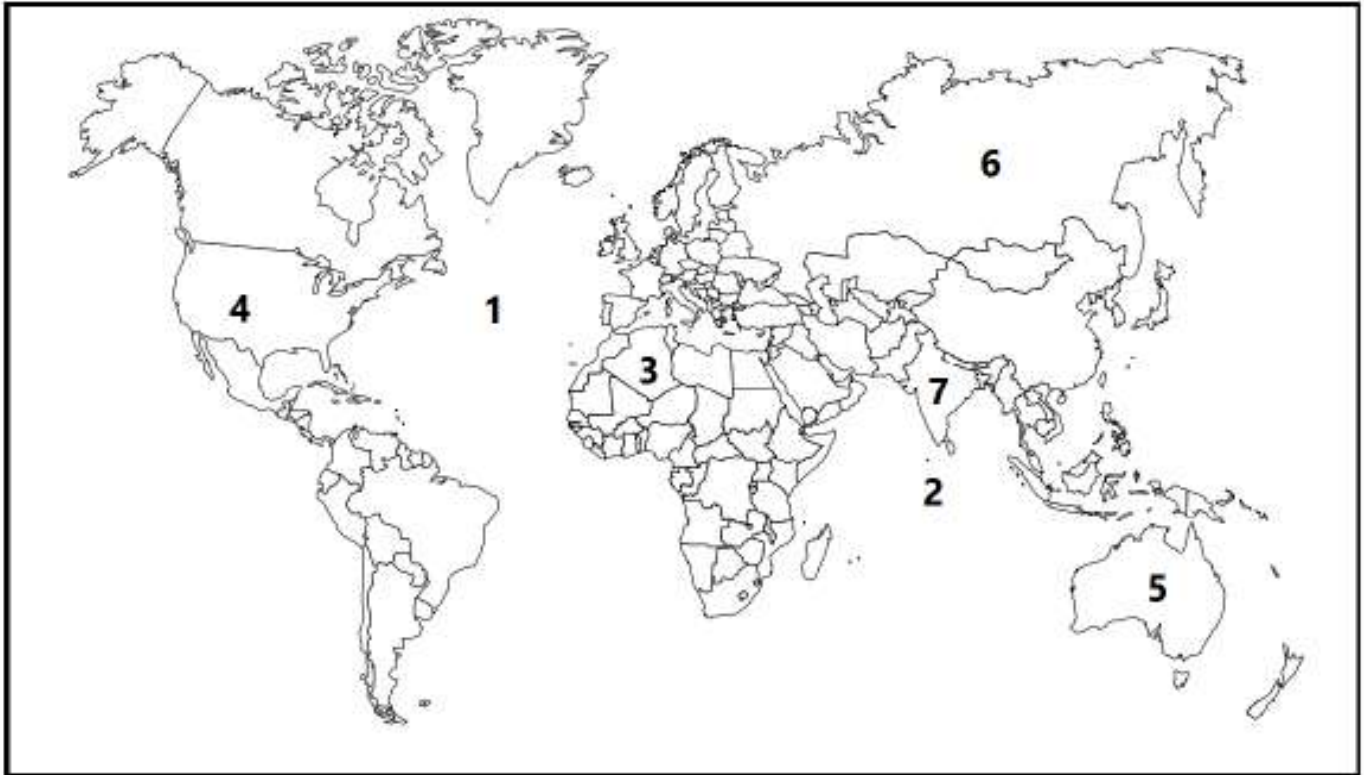
٢- وضح مميزات الثروة الطبيعية في البرازيل.

- (١)
- (٢)
- (٣)

٣- أذكر مشكلات التنمية في البرازيل

- (١)
- (٢)
- (٣)

❖ أكمل الجدول التالي بكتابة مدلول الأرقام المثبتة على خريطة العالم



العبارة	الرقم	مدلول الرقم على الخريطة
مسطحات مائية	1
	2
دولة عربية نفطية	3
دولة متقدمة	4
دولة تسود بها تربية الماشية الكثيفة	5
دولة تسود بها زراعة القمح	6
دولة ذات مؤشر تنمية متوسط	7

❖ أكمل الجدول التالي بكتابة مدلول الأرقام المثبتة على خريطة العالم



العبارة	الرقم	مدلول الرقم على الخريطة
بلدان الثالث (البلدان المتقدمة)	١	
	٢	
البلدان النفطية	٣	
	٤	
مسطحات مائية	٥	
	٦	
	٧	

مملكة البحرين

وزارة التربية والتعليم

قسم الامتحانات الداخلية

امتحان نهاية الفصل الدراسي الثاني للتعليم الثانوي للعام الدراسي 2024/2023 م

اسم المقرر: الجغرافيا الاقتصادية

المسار: توحيد مسارات/ الديني

رمز المقرر: أجا 102

الزمن: ساعة ونصف

السؤال الأول:

أولاً: ضع دائرة حول رمز الإجابة الصحيحة من بين البدائل التالية:

1. حاجة تصنف من الحاجات الأساسية المعنوية:

أ. الغذاء

ب. الأمن

ج. السكن

د. الكساء

2. زراعة تنتشر في مناطق السافانا والغابات الاستوائية وتستخدم النار كوسيلة للزراعة هي:

أ. الزراعة المتنقلة

ب. الزراعة المروية

ج. زراعة الواحات

د. الزراعة الحديثة

3. تعد صناعة النسيج في الولايات المتحدة الأمريكية من صناعات الجيل:

أ. الأول

ب. الثاني

ج. الثالث

د. الرابع

4. يطلق مسمى بلدان الثالوث على الولايات المتحدة الأمريكية والاتحاد الأوروبي و:

أ. الصين

ب. بريطانيا

ج. البرازيل

د. اليابان

5. تحقق الاتحاد الاقتصادي والنقدي الأوروبي عام 1992م إثر عقد اتفاقية:

أ. باريس

ب. روما

ج. ماستريخت

د. جافتا

6. جميعها من الصناعات التكنولوجية العالية في البرازيل ما عدا:

أ. الصناعات النووية

ب. صناعة الأسلحة

ج. صناعة الطائرات

د. الصناعات التعدينية



زراعة الأرز

ثانيًا: أقرأ الصورة التالية ثم أجب عن الأسئلة الآتية:

1. أين تنتشر هذه الزراعة:

..... •

2. أذكر الظروف الملائمة لزراعة الأرز:

..... •

..... •

السؤال الثاني:

أولًا: علل ما يأتي

1. يعتبر النمو الصناعي في الدول النامية بطيء.

..... •

..... •

..... •

2. اهتمام الشركات المتعددة الجنسيات بالاستثمار في البرازيل.

..... •

..... •

3. فقدت الولايات المتحدة الأمريكية سيطرتها على السوق العالمية في بعض المنتجات الزراعية والصناعية المصدرة.

..... •

ثانياً: أقرأ المستند المجاور ثم أجب عن الأسئلة الآتية:

1. ما هي القطاعات التي سجلت تراجع في نسبة السكان النشيطين بين عامي 2003م و2011م.

توزع السكان النشيطين بين القطاعات الاقتصادية في الولايات المتحدة الأمريكية		
سنة 2011م	سنة 2003م	القطاع
1.2%	2.6%	الزراعة
19.2%	23%	الصناعة
79.6%	74.4%	الخدمات

2. قارن بين نسب توزع السكان النشيطين في قطاع

الخدمات بين عامي 2003م و2011م، ماذا تستنتج.

السؤال الثالث:

وضح ما يأتي:

1. مظاهر القوة الخدمية للاتحاد الأوروبي.

-
-

2. دور الدولة في التوطين الصناعي.

-
-
-

3. المميزات العامة للدول الحديثة التصنيع.

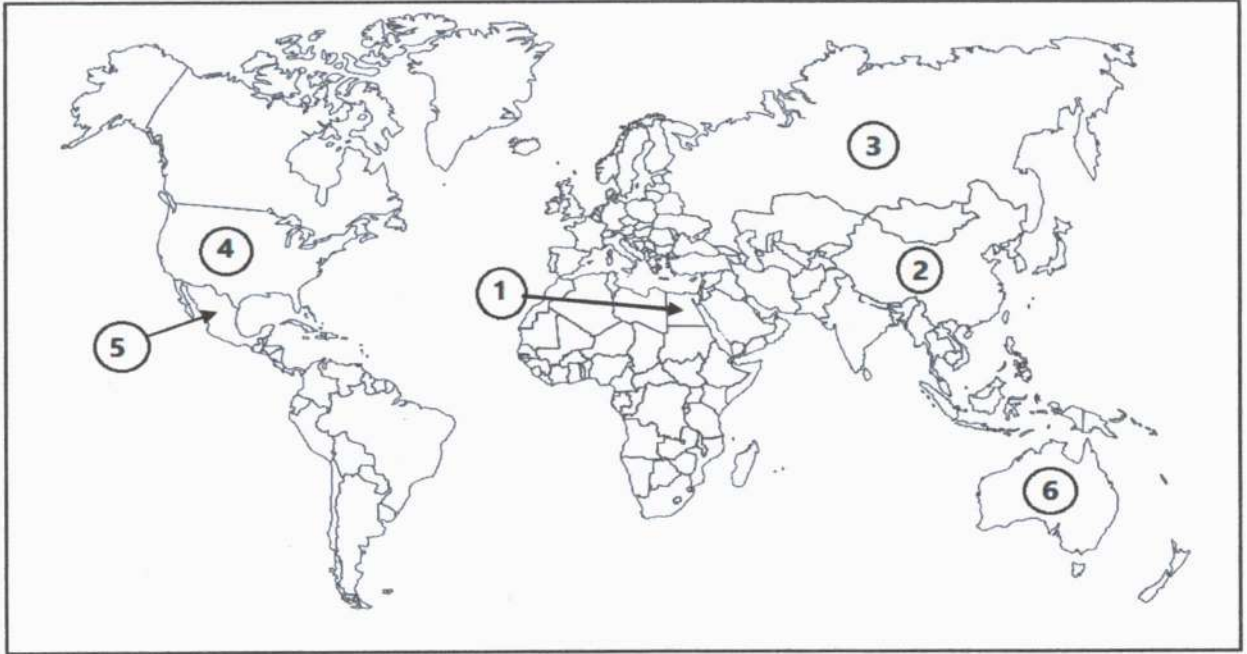
-
-
-

السؤال الرابع:

أولاً: صنف العبارات الواردة في الجدول إلى دعائم البشرية ودعائم التنظيمية للولايات المتحدة الأمريكية بوضع علامة (✓) في الخانة المناسبة:

العبارات	الدعائم البشرية	الدعائم التنظيمية
وجود شبكة مدنيية كثيفة خاصة بالشمال الشرقي.		
الجامعات الأمريكية ومراكز البحث والتطوير التي تمثل ركائز أساسية للابتكار والتجديد التكنولوجي.		
الوزن البشري مما يمكن من يد عاملة وفيرة.		
وفرة الكفاءات والمبدعين في المجتمع الأمريكي.		
شبكة نقل واتصال كثيفة ومتنوعة وهي الأولى في العالم		
ارتفاع دخل الفرد الذي يسمح بتوفر سوق استهلاكية داخلية هامة.		

ثانياً: ضع في الجدول التالي مدلولات الأرقام المثبتة على خريطة العالم الصماء:



العبارة	الرقم	مدلول الرقم على الخريطة
دولة ذات مؤشر تنمية متوسط	1
دولة تسود بها زراعة القمح	2
دولة تسود بها تربية الماشية الكثيفة	3
دولة من دول الشمال	4
دولة من البلدان الصناعية الجديدة	5
دولة ذات مستوى مرتفع للتنمية البشرية	6

انتهت الأسئلة

مملكة البحرين
وزارة التربية والتعليم
قسم الامتحانات الداخلية

امتحان الدور الثاني للتعليم الثانوي للعام الدراسي 2023/2024 م

المسار: توحيد مسارات/ الديني

اسم المقرر: الجغرافيا الاقتصادية

الزمن: ساعة ونصف

رمز المقرر: أجا 102

السؤال الأول:

أولاً: ضع دائرة حول رمز الإجابة الصحيحة من بين البدائل التالية:

1. تعتبر من صناعات الجيل الثالث في الولايات المتحدة الأمريكية هي:

- أ-صناعة السيارات
ب-صناعة الفولاذ
ج-صناعة المعلوماتية
د-الصناعات الغذائية

2. حاجة تصنف ضمن الحاجات الأساسية المادية:

- أ-الترفيه
ب-السكن
ج-العطور
د-التقدير

3. تتمثل قوة الاتحاد الأوروبي زراعية عالمية في:

- أ-ضخامة الإنتاج الزراعي
ب-اليد العاملة الرخيصة
ج-تراجع الاكتفاء الذاتي
د-ارتفاع الواردات الزراعية

4. تصنف تربية الماشية الواسعة ضمن الزراعات:

- أ-المتخصصة
ب-التقليدية
ج-الرأسمالية
د-المتنوعة

5. العملة الموحدة التي أصدرها الاتحاد الأوروبي عام 1999م لضمان نفوذه النقدي في العالم هي:

- أ-الأيكو
ب-اليورو
ج-الدولار
د-الفرنك

6. الزراعة التي تنتشر في آسيا الموسمية هي:

- أ-زراعة زراعة الكاكاو
ب-زراعة القهوة
ج-زراعة الفول السوداني
د-زراعة الأرز

ثانياً: ضع المصطلحات الآتية أمام ما يناسبها من العبارات في الجدول التالي:

(إقليم الشمال الشرقي / إقليم حزام الشمس / زراعة الواحات / الزراعة المتنقلة)

المصطلح	العبارات
	تنتشر في مناطق السافانا والغابات الاستوائية وتستخدم النار لحرق الأشجار والأعشاب ليستعمل رمادها كسماد.
	أول إقليم صناعي في الولايات المتحدة الأمريكية وتتركز به صناعة النسيج والفولاذ والسيارات.
	تنتشر داخل الصحاري على شكل جزر خضراء وتتوسع كلما توافرت المياه، وتجمع بين زراعة الأشجار المثمرة والخضر.
	يتكون من مناطق طرفية تشمل كاليفورنيا وولاية تكساس وكامل واجهة المحيط الهادي.

السؤال الثاني:

علل ما يأتي:

1. النمو الصناعي في البلدان النامية بطيء.

-
-
-

2. للقطاع الخدمي أهمية كبيرة في الاقتصاد الأوروبي.

-
-

3. اهتمام الشركات متعددة الجنسيات بالاستثمار في البرازيل.

-
-
-

السؤال الثالث:

وضح ما يأتي:

1. مزايا رأس المال البشري في الدول حديثة التصنيع.

- •
- •

2. عوامل قوة قطاع الخدمات في الولايات المتحدة الأمريكية.

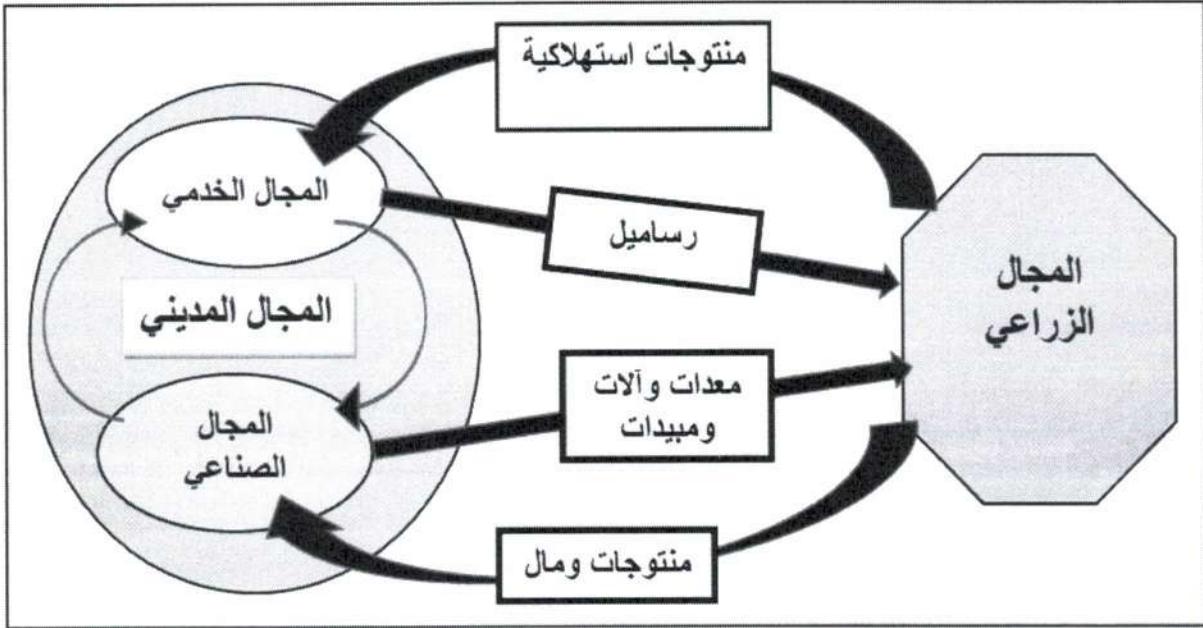
- •
- •
- •

3. دور الدول في التوطين الصناعي.

- •
- •
- •

السؤال الرابع:

أولاً-اقرأ المستند التالي، ثم أجب عن الأسئلة التي تليه انطلاقاً منه:



1. عدد المجالات الجغرافية.

-
-

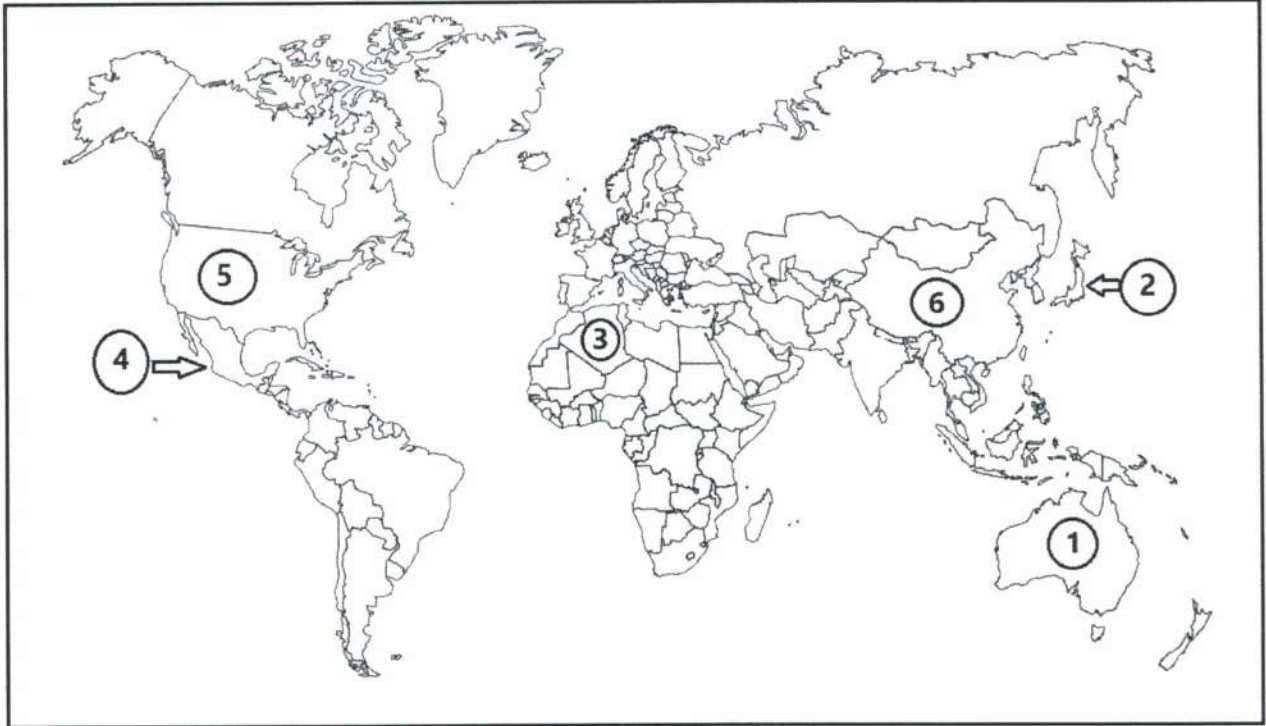
2. أذكر العناصر التي يؤمنها المجال الصناعي إلى المجال الزراعي.

-

3. ماذا يؤمن المجال الزراعي للمجال الخدمي، وعلى ماذا يحصل في المقابل.

-

ثانياً- ضع في الجدول التالي مدلولات الأرقام المثبتة على خريطة العالم الصماء.



العبارة	الرقم	مدلول الرقم على الخريطة
دول تسود بها زراعة الحبوب	1
بلد من بلدان الثالوث	2
دولة نفطية	3
دولة حديثة التصنيع	4
دولة مصدرة لبراءات الاختراع	5
دولة ذات مؤشر تنمية متوسط	6

انتهت الأسئلة

مملكة البحرين
وزارة التربية والتعليم
قسم الامتحانات الداخلية

امتحان نهاية الفصل الدراسي الأول للتعليم الثانوي للعام الدراسي 2025/2024م

المسار: المكفوفين
الزمن: ساعة ونصف

اسم المقرر: الجغرافيا الاقتصادية
رمز المقرر: أجا 102

السؤال الأول:

أولاً: ضع دائرة حول رمز الإجابة الصحيحة من بين البدائل التالية:

1. تُعدّ الحاجات المادية - كالحاجة للغذاء والسكن والكساء - من الحاجات:
 - أ- الأساسية المشتركة
 - ب- الأساسية الغير مشتركة
 - ج- الثانوية المشتركة
 - د- الثانوية الغير مشتركة
2. يُصنّف الاتحاد الأوروبي ضمن:
 - أ- البلدان في طور الانتقال الاقتصادي
 - ب- بلدان الثالوث
 - ج- بقية البلدان المتقدمة
 - د- البلدان الصناعية الجديدة
3. تتوطن الصناعات ذات التكنولوجيا العالية بالقرب من:
 - أ- المطارات
 - ب- الأنهار
 - ج- مصادر الطاقة الكهربائية الرخيصة
 - د- المناطق الجميلة ذات المشاهد الخلابة
4. جميعها من صناعات الجيل الأول الأمريكية ما عدا:
 - أ- صناعة الفولاذ
 - ب- صناعة السيارات
 - ج- صناعة النسيج
 - د- الصناعات الغذائية
5. تحقّق الاتحاد الاقتصادي والنقدي الأوروبي بعد اتفاقية:
 - أ- باريس
 - ب- روما
 - ج- ماستريخت
 - د- ماسلو
6. صنّف البنك الدولي مجموعة من الدول النامية في خانة الدول السائرة في طريق التصنيع، وهي التي تتعدى قيمة الصادرات الصناعية فيها نسبة 30% من مجموع صادراتها، وتسمى الدول:
 - أ- حديثة التصنيع
 - ب- النمرور الآسيوية
 - ج- النقطية
 - د- الصناعية الجديدة
7. جميعها من مميزات الثروات الطبيعية في البرازيل ما عدا:
 - أ- المساحة الشاسعة
 - ب- وفرة الثروات المنجمية
 - ج- تعدد الأقاليم المناخية
 - د- ندرة المياه العذبة

ثانياً: ضع علامة (✓) أمام العبارة الصحيحة، وعلامة (X) أمام العبارة الخاطئة:

1. () من أبرز صناعات الجيل الثاني في البرازيل الصناعات الكيماوية.
2. () أصدر الاتحاد الأوروبي عملة موحدة تحت اسم الايكو عام 1999م لضمان نفوذه النقدي في العالم.
3. () من أسباب بطء النمو الصناعي في الدول النامية القدرة الشرائية العالية للسكان.
4. () مرت التنمية في الدول حديثة التصنيع بمرحلتين: الأولى مرحلة التصنيع المنفتح، والثانية مرحلة إرساء اقتصادات وطنية.
5. () تنتشر زراعة الواحات على شكل جزر خضراء في مناطق غرب أوروبا.
6. () تُعدُّ الولايات المتحدة الأمريكية ثاني مصدِّر في العالم للمواد المصنعة والزراعية والخدمات المالية وبراءات الاختراع في العالم.
7. () تتربط المجالات الجغرافية على أنواعها بواسطة شبكات النقل والاتصالات.

السؤال الثاني:

وضح ما يأتي:

أ. عوامل قوة قطاع الخدمات في الولايات المتحدة الأمريكية.

-
-

ب. دعائم قوة الاتحاد الأوروبي.

-
-

ج. المميزات العامة للدول حديثة التصنيع.

-
-

د. أهداف السوق الأوروبية المشتركة.

-
-

السؤال الثالث:

علل ما يأتي:

أ. لا يستثمر الإنسان أكثر من 50% من الغايات رغم تزايد الطلب على الأخشاب.

-
-

ب. تجتذب المناطق المدنية الصناعات.

-
-

ج. يمتلك الثالوث كل مؤهلات القوة للسيطرة على الاقتصاد العالمي.

-
-

د. اهتمام الشركات المتعددة الجنسيات بالاستثمار في البرازيل.

-
-

السؤال الرابع:

أولاً: صنف المصطلحات الآتية وفق العبارات المناسبة لها في الجدول التالي:

الزراعات الحديثة - المجال الجغرافي - البلدان الأقل تقدماً - الثولثة - الزراعة المتقلة - آلية السوق		
الرقم	العبارات	المصطلحات
1	تنتشر في مناطق السافانا والغابات الاستوائية، تُستخدم فيها النار لاستصلاح الأرض، حيث تُحرق الأشجار والأعشاب ليستعمل رمادها كسماد.	
2	تحرك أسعار السلع والخدمات وفقاً للعرض والطلب.	
3	حيز من الأرض نظمه الإنسان بهدف إنتاج سلعة أو خدمة معينة.	
4	نزعة تنامي قطاع الخدمات (القطاع الثالث) في التشغيل والناتج الوطني الخام.	
5	زراعة موجهة ومنظمة ومخصصة لتلبية حاجات السوق المحلية والعالمية، وتعتمد على الآلة في جميع مراحل الإنتاج.	
6	تنتمي إلى بلدان الجنوب، وتتميز بحصيلة تنمية ضعيفة، وبهشاشة اقتصاداتها، وارتفاع نسبة تداينها، ورداءة البنى التحتية فيها، كالبلدان الأفريقية.	

ثانيًا: صنف العبارات -دعائم الاقتصاد في الولايات المتحدة الأمريكية- وفق ما يناسبها بوضع علامة (✓) في العمود المناسب من الجدول الآتي:

الرقم	العبارات	دعائم بشرية	دعائم تنظيمية
1	هجرة انتقائية واختيار أصحاب الكفاءات الأكثر فائدة للاقتصاد الأمريكي.		
2	الدولة الفيدرالية التي تدعم الاقتصاد بأشكال مختلفة كتمويل البحث العلمي وفتح الأسواق في الخارج.		
3	الشركات عبر القطرية (المتعددة الجنسيات) التي تحتل الصدارة من حيث العدد في العالم.		
4	التشبع بمبادئ الحرية والديموقراطية والمساواة في الحقوق والواجبات.		
5	تمثل الجامعات الأمريكية ومراكز البحث والتطوير ركائز أساسية للابتكار التكنولوجي.		
6	الهجرة الداخلية وكثافة حركة السكان المجالية تماشيًا مع التحولات الاقتصادية.		
7	تنوع أصول المجتمع المهاجرة وأعراقه المختلفة.		
8	وجود شبكة مدنية كثيفة تتعدد بها المدن الكبرى مثل نيويورك ولوس انجلوس وشيكاغو.		

انتهت الأسئلة

مملكة البحرين

وزارة التربية والتعليم

قسم الامتحانات الداخلية

امتحان نهاية الفصل الدراسي الأول للتعليم الثانوي للعام الدراسي 2025/2024م

المسار: توحيد مسارات

الزمن: ساعة ونصف

اسم المقرر: الجغرافيا الاقتصادية

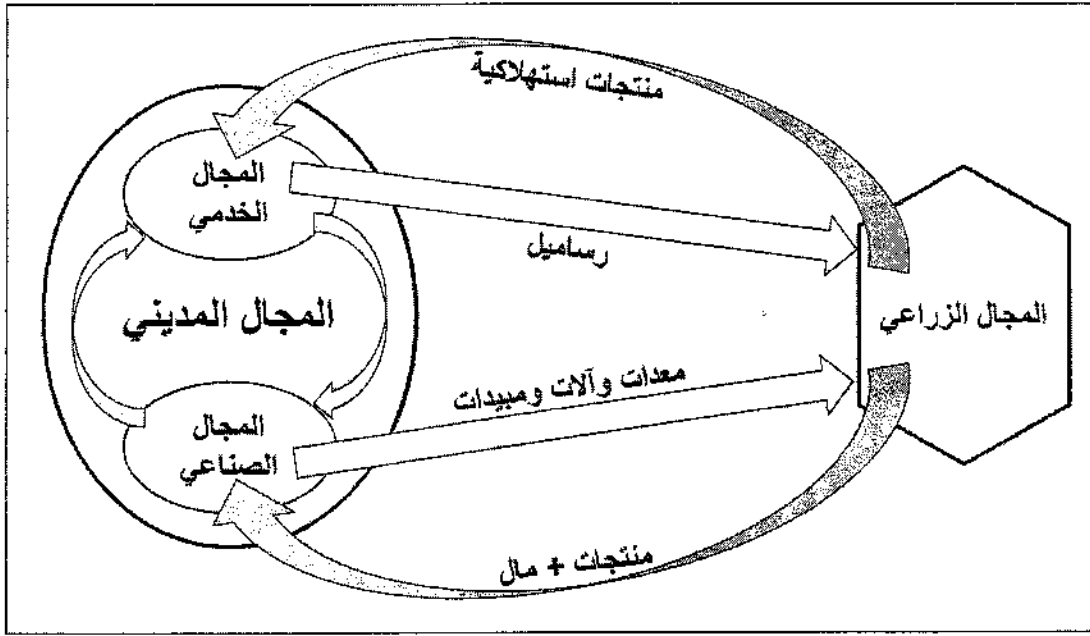
رمز المقرر: أجا 102

السؤال الأول:

أولاً: ضع دائرة حول رمز الإجابة الصحيحة من بين البدائل التالية:

1. تُعدّ الحاجات المادية - كالحاجة للغذاء والسكن والكساء - من الحاجات:
 - أ- الأساسية المشتركة
 - ب- الأساسية الغير مشتركة
 - ج- الثانوية المشتركة
 - د- الثانوية الغير مشتركة
2. يُصنّف الاتحاد الأوروبي ضمن:
 - أ- البلدان في طور الانتقال الاقتصادي
 - ب- بلدان الثالوث
 - ج- بقية البلدان المتقدمة
 - د- البلدان الصناعية الجديدة
3. تتوطن الصناعات ذات التكنولوجيا العالية بالقرب من:
 - أ- المطارات
 - ب- الأنهار
 - ج- مصادر الطاقة الكهربائية الرخيصة
 - د- المناطق الجميلة ذات المشاهد الخلابة
4. جميعها من صناعات الجيل الأول الأمريكية ما عدا:
 - أ- صناعة الفولاذ
 - ب- صناعة السيارات
 - ج- صناعة النسيج
 - د- الصناعات الغذائية
5. تُحقّق الاتحاد الاقتصادي والنقدي الأوروبي بعد اتفاقية:
 - أ- باريس
 - ب- روما
 - ج- ماستريخت
 - د- ماسلو
6. صنّف البنك الدولي مجموعة من الدول النامية في خانة الدول السائرة في طريق التصنيع، وهي التي تتعدى قيمة الصادرات الصناعية فيها نسبة 30% من مجموع صادراتها، وتسمى الدول:
 - أ- حديثة التصنيع
 - ب- النمرور الآسيوية
 - ج- النفطية
 - د- الصناعية الجديدة
7. جميعها من مميزات الثروات الطبيعية في البرازيل ما عدا:
 - أ- المساحة الشاسعة
 - ب- وفرة الثروات المنجمية
 - ج- تعدد الأقاليم المناخية
 - د- ندرة المياه العذبة

ثانيًا: اقرأ المستند الآتي حول ترابط المجال المدني والزراعي، وأجب عن الأسئلة التي تليه:



1. استنتج مفهوم المجال الجغرافي.

.....

.....

2. ما هي المجالات التي يتضمنها المجال المدني؟

-
-

3. أكمل الجدول التالي:

	ما الذي يقدمه المجال الزراعي إلى المجال الخدمي؟
	ما الذي يقدمه المجال الصناعي إلى المجال الزراعي؟
	ما الذي يقدمه المجال الخدمي إلى المجال الزراعي؟

السؤال الثاني:**وضّح ما يأتي:**

أ. عوامل قوة قطاع الخدمات في الولايات المتحدة الأمريكية.

-
-

ب. دعائم قوة الاتحاد الأوروبي.

-
-

ج. المميزات العامة للدول حديثة التصنيع.

-
-

د. أهداف السوق الأوروبية المشتركة.

-
-

السؤال الثالث:**علل ما يأتي:**

أ. لا يستثمر الإنسان أكثر من 50% من الغابات رغم تزايد الطلب على الأخشاب.

-
-

ب. تجتذب المناطق المدينية الصناعات.

-
-

ج. يمتلك الثالوث كل مؤهلات القوة للسيطرة على الاقتصاد العالمي.

-
-

د. اهتمام الشركات المتعددة الجنسيات بالاستثمار في البرازيل.

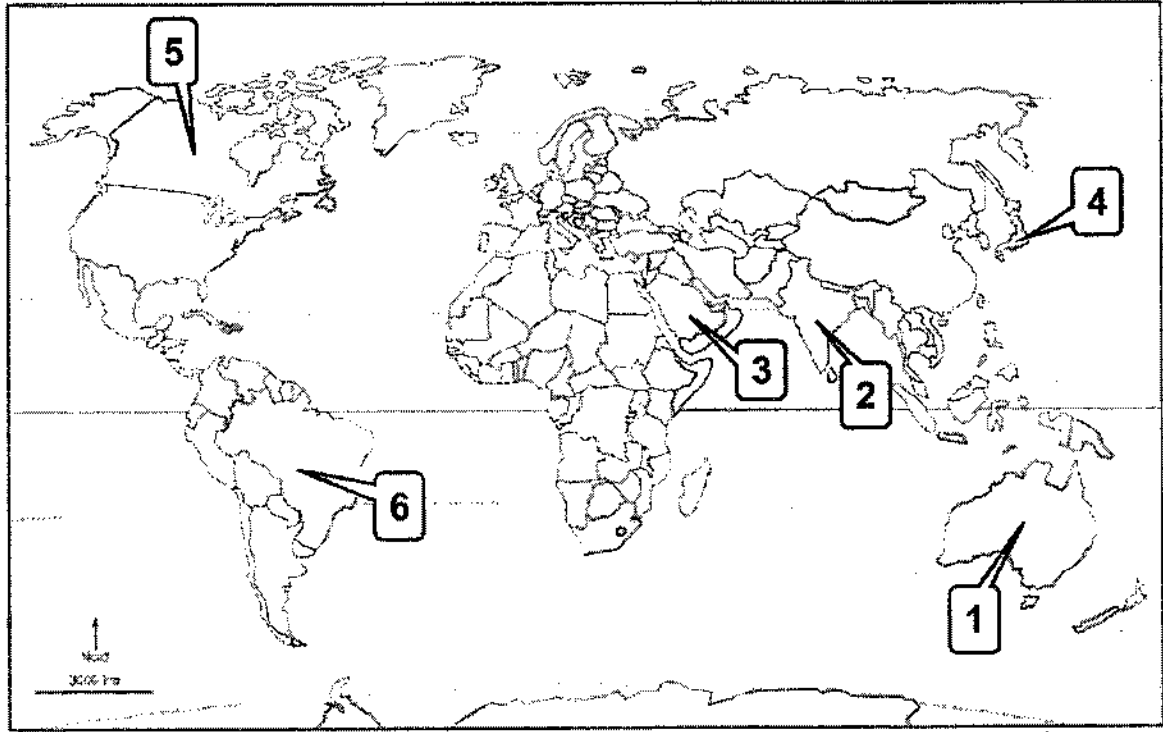
-
-

السؤال الرابع:

أولاً: صنف العبارات -دعائم الاقتصاد في الولايات المتحدة الأمريكية- وفق ما يناسبها بوضع علامة (✓) في العمود المناسب من الجدول الآتي:

الرقم	العبارات	دعائم بشرية	دعائم تنظيمية
1	هجرة انتقائية واختيار أصحاب الكفاءات الأكثر فائدة للاقتصاد الأمريكي.		
2	الدولة الفيدرالية التي تدعم الاقتصاد بأشكال مختلفة كتمويل البحث العلمي وفتح الأسواق في الخارج.		
3	الشركات عبر القطرية (المتعددة الجنسيات) التي تحتل الصدارة من حيث العدد في العالم.		
4	التشجيع بمبادئ الحرية والديموقراطية والمساواة في الحقوق والواجبات.		
5	تمثل الجامعات الأمريكية ومراكز البحث والتطوير ركيزة أساسية للابتكار التكنولوجي.		
6	الهجرة الداخلية وكثافة حركة السكان المجالية تماشيًا مع التحولات الاقتصادية.		
7	تنوع أصول المجتمع المهاجرة وأعرافه المختلفة.		
8	وجود شبكة مدنية كثيفة تتعدد بها المدن الكبرى مثل نيويورك ولوس انجلوس وشيكاغو.		

ثانياً: املأ الجدول التالي بدلالات الأرقام المثبتة على خريطة العالم الصماء:



الرقم	العبارة	مدلول الرقم على الخريطة
1	من البلدان التي تشتهر بزراعة القمح والحبوب	
2	من البلدان ذات مؤشر تنمية متوسط	
3	من البلدان العربية النفطية	
4	من بلدان الثالوث	
5	من البلدان المنتجة للأخشاب اللينة من الغابات المخروطية	
6	من البلدان حديثة التصنيع في أمريكا الجنوبية	

انتهت الأسئلة