


تم تحميل هذا الملف من موقع المناهج البحرينية



الملف حل درس الولايات المتحدة

[موقع المناهج](#) ⇌ [الصف الأول الثانوي](#) ⇌ [المواد الاجتماعية](#) ⇌ [الفصل الأول](#)

روابط مواقع التواصل الاجتماعي بحسب الصف الأول الثانوي



روابط مواد الصف الأول الثانوي على تلغرام

| | | | |
|---------------------------|----------------------------------|-------------------------------|-----------------------------------|
| الرياضيات | اللغة الانجليزية | اللغة العربية | التربية الاسلامية |
|---------------------------|----------------------------------|-------------------------------|-----------------------------------|

المزيد من الملفات بحسب الصف الأول الثانوي والمادة الاجتماعية في الفصل الأول

| | |
|--|---|
| نموذج إجابة امتحان منتصف مقرر احـا 102 | 1 |
| نموذج إجابة امتحان الدور الثاني مقرر احـا 102 | 2 |
| تدريب الكتروني في الدرس الاول الكشوف الجغرافية | 3 |
| مذكرة وملخص مقرر احـا 102 | 4 |

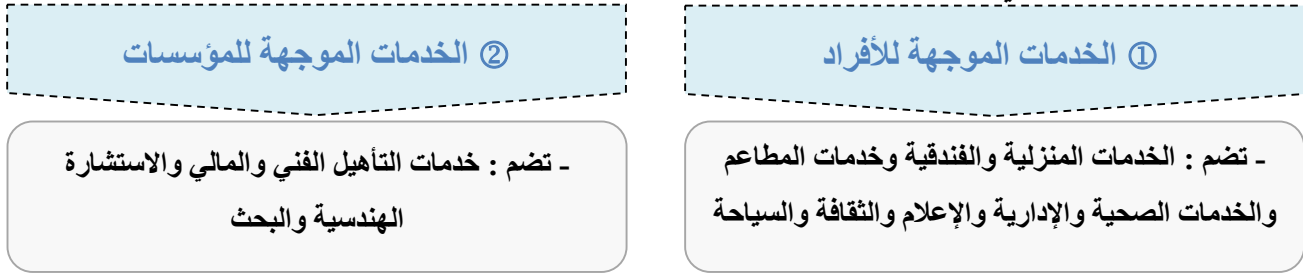
1- ما مظاهر قوة قطاع الخدمات في الولايات المتحدة الأمريكية ؟



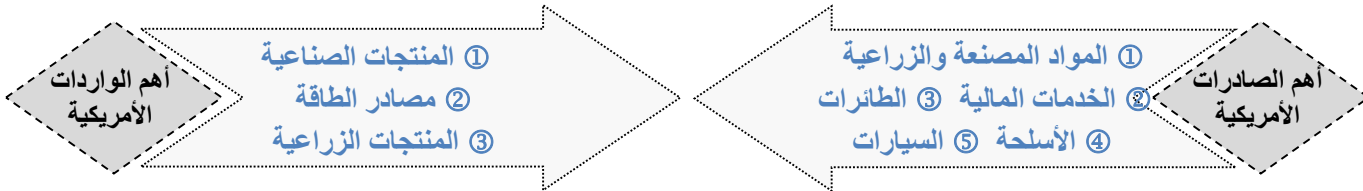
2- عدد عوامل قوة قطاع الخدمات في الولايات المتحدة الأمريكية.



3- اكتب أصناف الخدمات في الولايات المتحدة الأمريكية.



4- اذكر أهم الصادرات والواردات الأمريكية.



5- علل : ♦ ضخامة الواردات الأمريكية .



6- حدد أبرز الشركاء التجاريون للولايات المتحدة الأمريكية (بالترتيب).

| | | | |
|-----------|-----------|--------------------|-----------------------|
| ① كندا | ② المكسيك | ③ الاتحاد الأوروبي | ④ بلدان أمريكا الوسطى |
| ⑤ اليابان | ⑥ الصين | ⑦ اشرق الأوسط | ⑧ بلدان أفريقيا |

- 1- المرحلة التي شهدت بروز قطاعات اقتصادية جديدة على حساب الزراعة والصناعة في الدول المتقدمة هي مرحلة :
أ- الاقتصاد ما بعد الزراعي (ب- الاقتصاد ما بعد الصناعي ج- الاقتصاد ما بعد المدني د- كل ما ذكر صحيح)
- 2- القطاع الذي يستحوذ على أعلى نسبة في تشغيل الأيدي العاملة في الولايات المتحدة الأمريكية :
أ- قطاع الزراعة ب- قطاع الصناعة (ج- قطاع الخدمات د- قطاعي الزراعة والصناعة)
- 3- القطاع الذي يستحوذ على أعلى نسبة في الناتج المحلي في الولايات المتحدة الأمريكية :
أ- قطاع الزراعة ب- قطاع الصناعة (ج- قطاع الخدمات د- قطاعي الزراعة والصناعة)
- 4- الإقليم الأمريكي الذي يسيطر على الخدمات القيادية بالولايات المتحدة ونسبة 33% هو الإقليم :
أ- الشمالي الغربي ب- الجنوبي الشرقي (ج- الشمالي الشرقي د- الجنوبي الغربي)
- 5- تواجه الولايات المتحدة الأمريكية منافسة حادة في بعض المنتجات الزراعية والصناعية من قبل :
أ- اليابان ب- الاتحاد الأوروبي ج- كوريا الجنوبية والبرازيل (د- كل ما ذكر صحيح)
- 6- تحتل الصادرات الأمريكية من مواد مصنعة و زراعية وخدمات مالية وبراءات اختراع عالميا :
أ- المرتبة الأولى (ب- المرتبة الثانية ج- المرتبة الثالثة د- المرتبة الرابعة)
- 7- نظرا لتفوق قيمة الواردات على قيمة الصادرات فإن الميزان التجاري الأمريكي يسجل :
أ- ربحا (فائضا) ب- تعادلا (ج- عجزا (خسارة) د- كل ما ذكر غير صحيح)
- 8- من خلال المستندات المذكورة في الجدول حدد ما يأتي :

| مستند رقم 1 ص 56 | | مستند رقم 2 ص 56 | | مستند رقم 3 ص 56 | |
|---|-------------------|--|-------------------|---|---------------|
| نسبة اليد العاملة الأمريكية في قطاع الخدمات عام 2011م | 79.6 | نسبة إسهام قطاع الخدمات في الناتج المحلي الأمريكي عام 2011 | 78.6 | حصة الخدمات الأمريكية في المبادلات الخدمية العالمية | 18.30 |
| مستند رقم 5 ص 56 | | مستند رقم 6 ص 58 | | | |
| قيمة صادرات السلع الأمريكية 2005 | 890 مليار دولار | قيمة واردات السلع الأمريكية عام 2005 | 1677 مليار دولار | الدول الأكثر تبادلا مع الولايات المتحدة | كندا والمكسيك |
| قيمة صادرات الخدمات الأمريكية عام 2005 | 353.5 مليار دولار | قيمة واردات الخدمات الأمريكية عام 2005 | 288,5 مليار دولار | الدول الأقل تبادلا مع الولايات الأمريكية | إفريقيا |