

المراجعة النهائية علوم



تم تحميل هذا الملف من موقع المناهج البحرينية

موقع المناهج ⇨ المناهج البحرينية ⇨ الصف الأول ⇨ علوم ⇨ الفصل الثاني ⇨ ملفات متنوعة ⇨ الملف

تاريخ إضافة الملف على موقع المناهج: 2025-05-06 13:30:45

ملفات اكتب للمعلم اكتب للطالب ا اختبارات الكترونية ا اختبارات ا حلول ا عروض بوربوينت ا أوراق عمل
منهج انجليزي ا ملخصات وتقارير ا مذكرات وبنوك ا الامتحان النهائي للمدرس

المزيد من مادة
علوم:

التواصل الاجتماعي بحسب الصف الأول



صفحة المناهج
البحرينية على
فيسبوك

الرياضيات

اللغة الانجليزية

اللغة العربية

التربية الاسلامية

المواد على تلغرام

المزيد من الملفات بحسب الصف الأول والمادة علوم في الفصل الثاني

نشاط حالات المادة

1

كراسة عالم العلوم

2

نشاط تدريبي المخاليط

3

نشاط تدريبي المادة تتغير

4

كراسة العلوم

5

الدرس الثامن / الدفع والسحب


الفصل الحادي عشر / الحركة

مادة العلوم – الصف الأول الابتدائي

السؤال الثاني : صوبي ما تحته خط فيما يلي :-


التصويب	العبارة
.....	إذا <u>سحب</u> الشئ فأنني أبعده عني .
.....	ركل الكرة مثال على قوة <u>السحب</u> .
.....	عندما أترك البيضة فهي تسقط بسبب <u>الاحتكاك</u> .
.....	الاحتكاك <u>يسرع</u> حركة الزلاجة.

السؤال الأول : اكتب نوع القوة المؤثرة تحت كل صورة :
 (قوة الدفع – قوة السحب – قوة الجاذبية الأرضية – قوة الاحتكاك)



.....

.....




.....

.....

عالمتي الرائعة ، ما سبب طيران رائد الفضاء على
 سطح القمر؟

.....



الدرس الأول / الموقع والحركة.

مادة العلوم – الصف الأول الابتدائي

الفصل الحادي عشر / الحركة

السؤال الثاني : صلي التعريف بالمصطلح المناسب له:-

الحركة	مكان وجود الشيء بالنسبة لشيء آخر
الموقع	تغير موقع الشيء
الصاروخ	أسرع من الطائرة
السيارة	كلمة نستخدمها لوصف موقع الأشياء
يمين	يمكن أن تتحرك على طريق متعرج



عالمتي الرائعة ، اجمعي لنا صور أجسام تتحرك
 بسرعة وأجسام تتحرك ببطء والصقيها لنا
 بدفتر النشاط بشكل مرتب .

السؤال الأول : أكمل العبارات التالية بما يناسبها :-



١- يبين لنا إذا كان الشيء بعيداً أو قريباً عنا.

٢- من الكلمات التي استخدمها لوصف موقع الأشياء.

٣- تتحرك الطائرة في خط

٤- الطائرة أسرع من

٥- بعض الأجسام تتحرك بسرعة