

تم تحميل هذا الملف من موقع المناهج البحرينية



* للحصول على أوراق عمل لجميع الصفوف وجميع المواد اضغط هنا

<https://almanahj.com/bh>

* للحصول على أوراق عمل لجميع مواد الصف الأول اضغط هنا

<https://almanahj.com/bh/1>

* للحصول على جميع أوراق الصف الأول في مادة رياضيات وجميع الفصول, اضغط هنا

<https://almanahj.com/bh/1math>

* للحصول على أوراق عمل لجميع مواد الصف الأول في مادة رياضيات الخاصة بـ الفصل الثاني اضغط هنا

<https://almanahj.com/bh/1math2>

* لتحميل كتب جميع المواد في جميع الفصول للـ الصف الأول اضغط هنا

<https://almanahj.com/bh/grade1>

[almanahjbhbot/me.t//:https](https://t.me/almanahjbhbot)

للتحدث إلى بوت على تلغرام: اضغط هنا

الفصل السادس : طُرُقُ الجَمْعِ

الجَمْعُ بِأَيِّ تَرْتِيبٍ

١-٦

اَكْتُبِ العَدَدَيْنِ المُضَافَيْنِ، وَاسْتَغْمِلْ ○ ● لِأَجْدِ نَاتِجَ الجَمْعِ:



$$8 = 5 + 3$$

$$8 = 3 + 5$$



$$6 = 2 + 4$$

$$6 = 4 + 2$$



$$5 = 2 + 3$$

$$5 = 3 + 2$$



$$4 = 3 + 1$$

$$4 = 1 + 3$$

$$\begin{array}{r} 5 \\ 1 + \\ \hline 6 \end{array}$$

$$\begin{array}{r} 1 \\ 5 + \\ \hline 6 \end{array}$$

٦

$$\begin{array}{r} 6 \\ 2 + \\ \hline 8 \end{array}$$

$$\begin{array}{r} 2 \\ 6 + \\ \hline 8 \end{array}$$

٥


٧ في الكيس ٣ جزرات. إذا وضع أبي ٤ جزرات أخرى، فما عدد الجزرات في الكيس الآن؟

$$\begin{array}{r} 4 \\ 3 + \\ \hline 7 \end{array}$$

$$\begin{array}{r} 3 \\ 4 + \\ \hline 7 \end{array}$$

٧ جزرات

٢-٦ الجَمْعُ بِالْعَدِّ التَّصَاعُدِيِّ

أَسْتَغْمِلُ ، وَأَبْدَأُ بِالْعَدِّ الْأَكْبَرِ، ثُمَّ أَعُدُّ تَصَاعُدِيًّا لِأَجْدَ نَاتِجِ الْجَمْعِ:

$$\dots 6 \dots = 2 + 4 \quad (2)$$

$$\dots 7 \dots = 2 + 5 \quad (4)$$

$$\dots 5 \dots = 4 + 1 \quad (6)$$

$$\dots 8 \dots = 5 + 3 \quad (8)$$

$$\dots 9 \dots = 3 + 6 \quad (1)$$

$$\dots 11 \dots = 8 + 3 \quad (3)$$

$$\dots 10 \dots = 7 + 3 \quad (5)$$

$$\dots 3 \dots = 1 + 2 \quad (7)$$

$$\begin{array}{r} 1 \\ 0 \\ \hline + \end{array}$$

$$6$$

$$\begin{array}{r} 2 \\ 2 \\ \hline + \end{array}$$

$$4$$

$$\begin{array}{r} 2 \\ 7 \\ \hline + \end{array}$$

$$6$$

$$\begin{array}{r} 2 \\ 2 \\ \hline + \end{array}$$

$$11$$

$$\begin{array}{r} 2 \\ 4 \\ \hline + \end{array}$$

$$7$$

$$\begin{array}{r} 2 \\ 2 \\ \hline + \end{array}$$

$$6$$

أَعِدُّ تَصَاعُديًّا لِأَجَدِ نَاتِجِ الْجَمْعِ، ثُمَّ أَكْتُبِ الْجُمْلَةَ الْعَدَدِيَّةَ:

١٥ اصْطَفَ ٦ تُلَّابٍ فِي صَفٍّ، ثُمَّ ١٦ يَلْعَبُ ٩ تُلَّابٍ كُرَّةَ السَّلَّةِ. انْضَمَّ إِلَيْهِمْ

اصْطَفَ ٣ آخَرُونَ. مَا عَدَدُ التُّلَّابِ طَالِبَانِ آخَرَانِ. فَمَا عَدَدُ التُّلَّابِ الَّذِينَ

فِي الصَّفِّ الْآنَ؟

يَلْعَبُونَ كُرَّةَ السَّلَّةِ الْآنَ؟

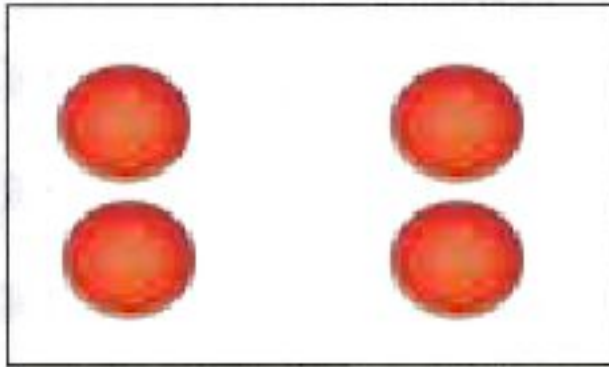
$$6 + 3 = 9 \text{ تُلَّابٍ}$$

$$9 + 2 = 11 \text{ طَالِبًا}$$

أَحُلْ الْمَسْأَلَةَ : أَمَثُلُهَا ٣-٦


أَمَثُلُ الْمَسَائِلَ لِأَحْلَها :

أرسم قطع العد هنا




١ عِنْدَ أَحْمَدَ ٣ كُتُبٌ. إِذَا اشْتَرَى كِتَابًا
إِضَافِيًّا. فَكَمْ كِتَابًا أَصْبَحَ لَدَيْهِ؟

4 كُتُبٌ



٢ مَعَ سَامِيَّةَ ٤ أَقْلَامٍ حُمْرَاءَ، وَ ٥ أَقْلَامٍ
زُرْقَاءَ. كَمْ قَلَمًا مَعَهَا؟

9 أَقْلَامٍ



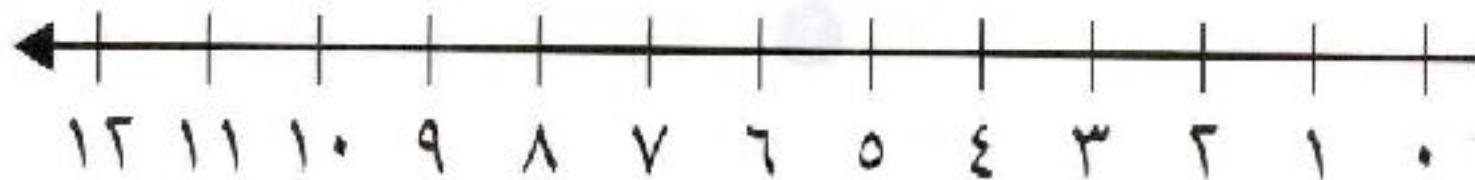
٣ عِنْدَ هَيْفَاءَ ٤ رِبْطَاتِ شَعْرِ كَبِيرَةٍ، وَ ٣
رِبْطَاتِ صَغِيرَةٍ. كَمْ رِبْطَةً شَعْرٌ لَدَيْهَا؟

7 رِبْطَاتِ

الْجَمْعُ بِاسْتِعْمَالِ خَطِّ الْأَعْدَادِ

٤ - ٦

أَسْتَغْمِلُ خَطَّ الْأَعْدَادِ لِأَجِدَ نَاتِجَ الْجَمْعِ:



$$7 = 1 + 6$$

$$9 = 1 + 8$$

$$11 = 2 + 9 \text{ ①}$$

$$6 = 2 + 4$$

$$6 = 1 + 5$$

$$9 = 2 + 7 \text{ ②}$$

$$8 = 2 + 6$$

$$7 = 2 + 5$$

$$8 = 1 + 7 \text{ ③}$$

$$\begin{array}{r} 3 \\ 1 + \\ \hline \end{array}$$

4

$$\begin{array}{r} 8 \\ 3 + \\ \hline \end{array}$$

11

$$\begin{array}{r} 4 \\ 1 + \\ \hline \end{array}$$

5

$$\begin{array}{r} 3 \\ 3 + \\ \hline \end{array}$$

6

$$\begin{array}{r} 2 \\ 2 + \\ \hline \end{array}$$

4

$$\begin{array}{r} 4 \\ 3 + \\ \hline \end{array}$$

7

$$\begin{array}{r} 3 \\ 2 + \\ \hline \end{array}$$

5

$$\begin{array}{r} 3 \\ 7 + \\ \hline \end{array}$$

10

$$\begin{array}{r} 9 \\ 1 + \\ \hline \end{array}$$

10

$$\begin{array}{r} 3 \\ 6 + \\ \hline \end{array}$$

9

$$\begin{array}{r} 8 \\ 2 + \\ \hline \end{array}$$

10

$$\begin{array}{r} 9 \\ 3 + \\ \hline \end{array}$$

12

٤

٥

٦ يَلْعَبُ ٣ أَطْفَالٍ. إِذَا انْضَمَّ إِلَيْهِمْ

٧

فِي الْحَظِيرَةِ ٥ خِرَافٍ. إِذَا انْضَمَّ إِلَيْهَا

٣ خِرَافٍ أُخْرَى، فَمَا عَدَدُ الْخِرَافِ فِي

طِفْلَانِ، فَمَا عَدَدُ الْأَطْفَالِ الَّذِينَ

يَلْعَبُونَ الْآنَ؟

الْحَظِيرَةِ؟

٨ خِرَافٍ


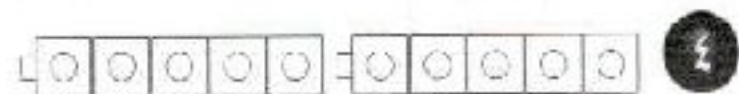
٥ أَطْفَالٍ

اَكْتُبْ جُمْلَةً الْجَمْعِ:



$$2 = 1 + 1$$

$$12 = 6 + 6$$



$$10 = 5 + 5$$

$$8 = 4 + 4$$

$$6 = 3 + 3$$

$$8 = 4 + 4$$

$$4 = 2 + 2$$

$$\begin{array}{r} 6 \\ 6 + \\ \hline \end{array}$$

12

$$\begin{array}{r} 7 \\ 3 + \\ \hline \end{array}$$

10

$$\begin{array}{r} 5 \\ 5 + \\ \hline \end{array}$$

10

$$\begin{array}{r} 8 \\ 2 + \\ \hline \end{array}$$

10

$$\begin{array}{r} 1 \\ 1 + \\ \hline \end{array}$$


2

$$\begin{array}{r} 3 \\ 9 + \\ \hline \end{array}$$

12

١٤ مع مُحَمَّدٍ ٣ كُرَاتٍ أَعْطَاهُ صَدِيقُهُ ٣ كُرَاتٍ أُخْرَى. كَمْ كُرَّةً مَعَهُ؟

..... 6 كُرَاتٍ

أَجِدْ نَاتِجَ الْجَمْعِ مُسْتَعْمِلًا :

$$7 = 4 + 3 \quad (2)$$

$$9 = 5 + 4 \quad (4)$$

$$5 = 3 + 2 \quad (6)$$

$$3 = 2 + 1 \quad (8)$$

$$\begin{array}{r} 7 \\ 6 \\ \hline 13 \\ 0 \\ 6 \\ \hline 11 \end{array} \quad \begin{array}{l} (10) \\ (13) \end{array}$$

$$6 = 3 + 3 \quad (1)$$

$$8 = 4 + 4 \quad (3)$$

$$4 = 2 + 2 \quad (5)$$

$$2 = 1 + 1 \quad (7)$$

$$\begin{array}{r} 6 \\ 6 \\ \hline 12 \\ 0 \\ 0 \\ \hline 10 \end{array} \quad \begin{array}{l} (9) \\ (11) \end{array}$$

أُسْتَعْمَلُ حَقِيقَةَ جَمْعِ الْعَدَدِ إِلَى نَفْسِهِ لِأَحُلَّ الْمَسْأَلَةَ:

- ١٣ مَعَ هُدَى وَرْدَةٍ وَاحِدَةٍ، وَمَعَ أُخْتِهَا فَاطِمَةَ وَرَدَّتَانِ. كَمْ وَرْدَةً مَعَ الْأُخْتَيْنِ؟
- ١٤ شَاهِدَ مُحَمَّدٌ ٤ أَحْصِيَّةً، ثُمَّ شَاهَدَ ٥ أَحْصِيَّةً أُخْرَى. كَمْ حِصَانًا شَاهَدَهُ مُحَمَّدٌ؟

حَقِيقَةُ الْجَمْعِ الَّتِي تُسَاعِدُنِي هِيَ:

$$3 = 1 + 2$$

$$3 = 2 + 1 \text{ وَرْدَاتٍ}$$


حَقِيقَةُ الْجَمْعِ الَّتِي تُسَاعِدُنِي هِيَ:

$$9 = 4 + 5$$

$$9 = 5 + 4 \text{ أَحْصِيَّةً}$$

الطَّرْحُ بِالْعَدِّ التَّنَازُلِيِّ

٧-١

أَطْرَحُ بِالْعَدِّ التَّنَازُلِيِّ مُسْتَعْمِلًا :

١ ٦، ٧

$$6 \dots = 7 - 1$$

٢ ٩، ٨، ٧، ٦

$$6 \dots = 9 - 3$$

٣ ٤، ٣، ٢، ١

$$1 \dots = 4 - 3$$

٤ ٦، ٥، ٤، ٣

$$4 \dots = 6 - 2$$

$$7 = 1 - 8 \quad 6$$

$$7 = 3 - 11 \quad 5$$

$$5 = 3 - 8 \quad 8$$

$$4 = 5 - 9 \quad 7$$

$$7 = 3 - 10 \quad 10$$

$$9 = 5 - 11 \quad 9$$

$$8 = 1 - 9 \quad 15$$

$$4 = 3 - 7 \quad 11$$

اُكْتُبُ الْجُمْلَةَ الْعَدَدِيَّةَ، وَأَعِدُّ تَنَازُلِيًّا لِأَحُلَّ، وَأَسْتَغْمِلُ :

١٣ في وعاءٍ العَصِيرِ ٩ أَكْوَابٍ. إِذَا شَرِبَ ١٤ لَدَى حُسَيْنٍ ٦ أَقْلَامٍ. إِذَا أَهْدَى صَدِيقَهُ

٣ فَكَمْ كُوبًا بَقِيَ؟ قَلَمَيْنِ، فَكَمْ قَلَمًا بَقِيَ مَعَهُ؟

$$9 - 3 = 6 \text{ أَكْوَابٍ} \quad 6 - 2 = 4 \text{ أَقْلَامٍ}$$

٢-٧ أَلْهَلْ الْمَسْأَلَة : أَكْتُبْ جُمْلَةً عَدَدِيَّةً

أَكْتُبْ جُمْلَةً عَدَدِيَّةً لِأَلْهَلْ الْمَسْأَلَة :

١ يَقُودُ وَالِدِي سَيَّارَتَهُ مُتَّجِهَاً إِلَى مَنَاطِقَةٍ تَبْعُدُ ١٠ كِيلُومِترَاتٍ. إِذَا قَطَعَ مَسَافَةً ٦ كِيلُومِترَاتٍ فَقَطً، فَكَمْ كِيلُومِترًا بَقِيَ؟

$$10 - 6 = 4 \text{ كِيلُومِترَاتٍ}$$

٢ عِنْدَ عُمَرِ ١٠ صُورٍ. إِذَا لَوَّنَ صُورَتَيْنِ مِنْهَا، فَكَمْ صُورَةً بَقِيَتْ؟

$$10 - 2 = 8 \text{ صُورٍ}$$

٣ عِنْدَ دُنْيَا ٦ حَقَائِبَ. إِذَا أَهْدَتْ أُخْتَهَا حَقِيبَتَيْنِ مِنْهَا، فَكَمْ حَقِيبَةً بَقِيَ لَدَيْهَا؟

$$6 - 2 = 4 \text{ حَقَائِبَ}$$


٤ صَنَعَتْ وَالِدَةُ هُدَى ١٢ شَطِيرَةً. إِذَا قَلَّمَتْ فِي الْفُطُورِ ٦ مِنْهَا، وَفِي الْعِشَاءِ ٦ أُخْرَى. فَكَمْ شَطِيرَةً بَقِيَ لَدَيْهَا؟

$$12 - 6 - 6 = 0 \text{ شَطِيرَةً}$$

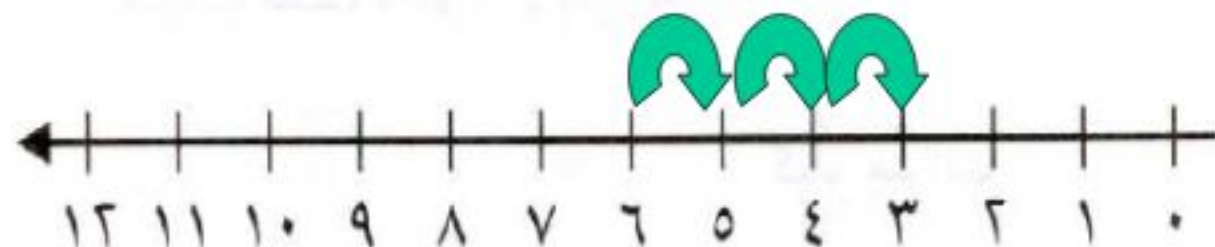
الطَّرْحُ بِاسْتِعْمَالِ خَطِّ الأَعْدَادِ

٣-٧

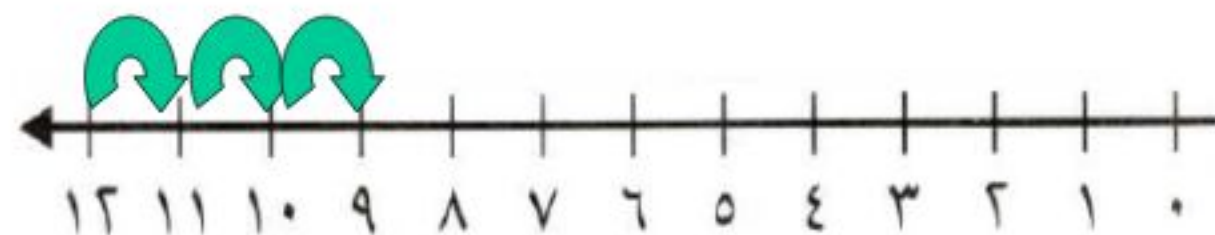
أَطْرَحْ، ثُمَّ أَكْتُبْ نَاتِجَ الطَّرْحِ، مُسْتَعْمِلًا خَطَّ الأَعْدَادِ:



.....8..... = 10 - 2



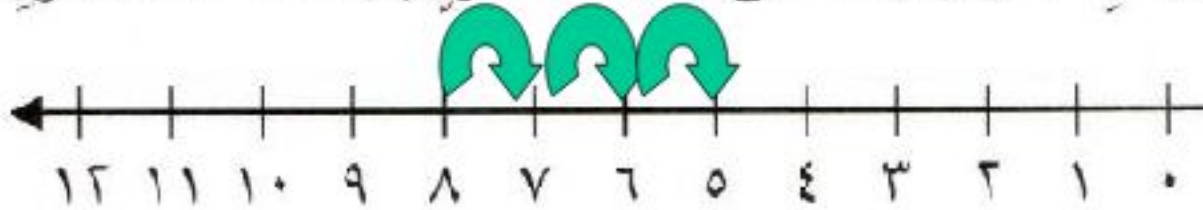
.....3..... = 6 - 3



.....9..... = 12 - 3

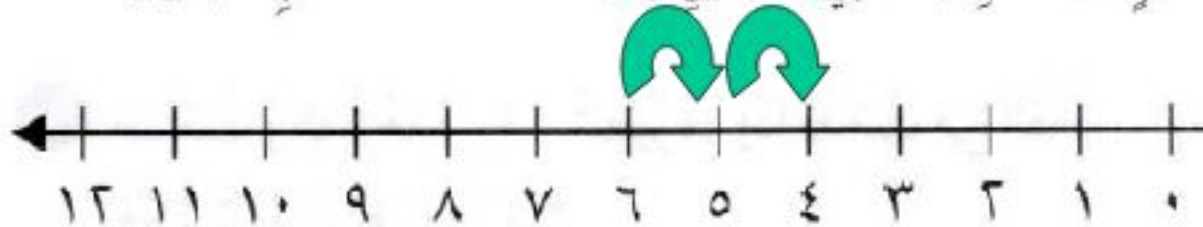
أَحْلُ مُسْتَعْمِلًا خَطَّ الأَعْدَادِ:

٤ لَوْنَ أَنْسٍ ٨ صُورٍ مِنْ كِتَابِ الأَلْوَانِ. إِذَا أُعْطِيَ زُمْلَاءُهُ ٣ صُورٍ مِنْهَا، فَمَا عَدَدُ الصُّورِ الْبَاقِيَةِ لَدَيْهِ؟



$$8 - 3 = 5 \text{ صُورٍ}$$

٥ فِي الثَّلَاجَةِ ٦ عُلَبٍ عَصِيرٍ. إِذَا شَرِبَ عَلِيٌّ عُلْبَتَيْنِ مِنْهَا، فَمَا عَدَدُ العُلَبِ الْبَاقِيَةِ؟



$$6 - 2 = 4 \text{ عُلَبٍ}$$

٧-٤ اسْتِقْصَاءُ حَلِّ الْمَسْأَلَةِ

أَخْتَارُ خُطَّةً، ثُمَّ أَحُلُّ الْمَسْأَلَةَ:

خُطَّطُ حَلَّ الْمَسْأَلَةِ:

- أَرَسُمُ صُورَةَ
- أَكْتُبُ جُمْلَةً عَدَدِيَّةً
- أُخَمِّنُ ثُمَّ أَتَحَقَّقُ

١ عَلَى الشَّجَرَةِ ٦ طُيُورٍ. إِذَا طَارَ مِنْهَا ٣ طُيُورٍ، فَكَمْ طَائِرًا بَقِيَ؟

3..... طُيُورٍ

٢ أَعَدَّتْ هَيْفَاءُ ١٥ بَطَاقَةً دَعْوَةً لِتُوزَّعَ عَلَى صَدِيقَاتِهَا. إِذَا بَقِيَتْ مَعَهَا بَطَاقَةٌ وَاحِدَةً، فَكَمْ بَطَاقَةً وَزَّعَتْ؟

14..... بَطَاقَةً

٣ يَحْتَاجُ جَمَالَ إِلَى ١٠ أَقْلَامٍ. إِذَا كَانَ مَعَهُ الْآنَ ٦ أَقْلَامٍ، فَكَمْ قَلَمًا يَحْتَاجُ إِلَيْهَا؟

4 أَقْلَامٍ

٤ اشْتَرَتْ هِنْدُ ١٥ قِطْعَةً حُلْوَى. إِذَا أَعْطَتْ أُخْتَهَا ١٠ قِطْعٍ. فَكَمْ قِطْعَةً بَقِيَتْ مَعَهَا؟

5 قِطْعَةً

٥-٧ الطَّرْحُ بِاسْتِعْمَالِ حَقَائِقِ جَمْعِ الْعَدَدِ إِلَى نَفْسِهِ

أَجْمَعُ الْعَدَدَ إِلَى نَفْسِهِ، ثُمَّ أَجِدُ نَاتِجَ الطَّرْحِ:

$$14 = 7 + 7 \text{ (٣)}$$

$$7 = 7 - 14$$

$$4 = 2 + 2 \text{ (٦)}$$

$$2 = 2 - 4$$

$$10 = 5 + 5 \text{ (٢)}$$

$$5 = 5 - 10$$

$$16 = 8 + 8 \text{ (٥)}$$


$$8 = 8 - 16$$

$$18 = 9 + 9 \text{ (١)}$$

$$9 = 9 - 18$$

$$8 = 4 + 4 \text{ (٤)}$$

$$4 = 4 - 8$$




٨

أرسمُ النِّقَاطَ

$$6 = 3 + 3$$

$$3 = 6 - 3$$



٧

أرسمُ النِّقَاطَ

$$12 = 6 + 6$$

$$6 = 12 - 6$$

اكتبُ جُمْلَةً عَدَدِيَّةً مُسْتَعْمِلًا حَقَائِقَ جَمْعِ العَدَدِ إِلَى نَفْسِهِ:

٩ عِنْدَ أَحْمَدَ ٤ حَمَامَاتٍ.

إِذَا أُعْطِيَ صَدِيقُهُ حَمَامَتَيْنِ.

فَكَمْ حَمَامَةً بَقِيَتْ عِنْدَهُ؟

$$4 = 2 + 2$$

حَمَامَةٌ

العلاقة بين الجمع والطرح

٦-٧

أجمع ثم اكتب جملة الطرح المترابطين بها:

$$11 = 4 + 7 \quad (٢)$$

$$4 = 11 - 7$$

$$7 = 11 - 4$$

$$9 = 3 + 6 \quad (٤)$$

$$3 = 9 - 6$$

$$6 = 9 - 3$$

$$8 = 3 + 5 \quad (١)$$

$$3 = 8 - 5$$

$$5 = 8 - 3$$

$$12 = 4 + 8 \quad (٣)$$

$$4 = 12 - 8$$

$$8 = 12 - 4$$

$$10 = 4 + 6 \quad \textcircled{6}$$

$$4 = 6 - 10$$

$$6 = 4 - 10$$

$$11 = 3 + 8 \quad \textcircled{5}$$

$$3 = 8 - 11$$

$$8 = 3 - 11$$

أَحْلُ مُسْتَعْمِلًا حَقَائِقَ الْجَمْعِ الْمُتَرَابِطَةِ:

٨ حَصَلَ رَائِدٌ عَلَى ٦ دَرَجَاتٍ فِي
الْاِخْتِبَارِ الْأَوَّلِ، وَفِي الْاِخْتِبَارِ الثَّانِي
حَصَلَ عَلَى ١٢ دَرَجَةً. كَمْ دَرَجَةً
حَصَلَ عَلَيْهَا فِي الْاِخْتِبَارِ الثَّانِي أَكْثَرَ
مِنَ الْاِخْتِبَارِ الْأَوَّلِ؟

$$12 - 6 = 6 \text{ دَرَجَاتٍ}$$

$$12 = 6 + 6$$

٧ فَازَ فَرِيقُ الْمَدْرَسَةِ فِي هَذَا الشَّهْرِ فِي
٧ مُبَارَيَاتٍ، وَفِي الشَّهْرِ الْمَاضِي فَازَ
فَرِيقُ الْمَدْرَسَةِ فِي ٤ مُبَارَيَاتٍ. كَمْ
مُبَارَاةً فَازَ فِيهَا الْفَرِيقُ هَذَا الشَّهْرَ أَكْثَرَ
مِنَ الشَّهْرِ الْمَاضِي؟

$$7 - 4 = 3 \text{ مُبَارَيَاتٍ}$$

$$7 = 4 + 3$$

الحَقَائِقُ الْمُتَرَابِطَةُ

٧-٧

اَكْتُبِ الأَعْدَادَ المُنَاسِبَةَ:

$$11 = 9 + 2$$

$$9 = 2 - 11$$

$$7 = 3 + 4$$

$$3 = 4 - 7$$

$$11 = 2 + 9 \quad ①$$

$$2 = 9 - 11$$

$$7 = 4 + 3 \quad ②$$

$$4 = 3 - 7$$

اَكْتُبُ الْجُمْلَةَ الْعَدَدِيَّةَ:

④ الأعداد ٥ و ٧ و ١٢ تكون الحقائق

الآتية:

$$12 = 7 + 5$$

$$12 = 5 + 7$$

$$5 = 7 - 12$$

$$7 = 5 - 12$$

③ الأعداد ٢ و ٤ و ٦ تكون الحقائق

الآتية:

$$6 = 4 + 2$$

$$6 = 2 + 4$$

$$2 = 4 - 6$$

$$4 = 2 - 6$$

الْعَدُّ بِالْعَشَرَاتِ

١-٩

أَعُدُّ بِالْعَشَرَاتِ ، ثُمَّ أَكْتُبُ الْعَدَدَ:

٢

○	○	○	○	○	○	○	○	○	○
○	○	○	○	○	○	○	○	○	○
○	○	○	○	○	○	○	○	○	○
○	○	○	○	○	○	○	○	○	○
○	○	○	○	○	○	○	○	○	○
○	○	○	○	○	○	○	○	○	○
○	○	○	○	○	○	○	○	○	○
○	○	○	○	○	○	○	○	○	○
○	○	○	○	○	○	○	○	○	○
○	○	○	○	○	○	○	○	○	○

١

○	○	○	○	○	○	○	○	○	○
○	○	○	○	○	○	○	○	○	○
○	○	○	○	○	○	○	○	○	○
○	○	○	○	○	○	○	○	○	○
○	○	○	○	○	○	○	○	○	○
○	○	○	○	○	○	○	○	○	○
○	○	○	○	○	○	○	○	○	○
○	○	○	○	○	○	○	○	○	○
○	○	○	○	○	○	○	○	○	○
○	○	○	○	○	○	○	○	○	○

90 9 عَشْرَاتٍ =
تِسْعِينَ

80 8 عَشْرَاتٍ =
ثَمَانِينَ

أَكْتُبُ الْعَدَدَ.

٣ ٥ عَشْرَاتٍ = 50
خَمْسِينَ

٤ ٦ عَشْرَاتٍ = 60
سِتِّينَ

٥ ٤ عَشْرَاتٍ = 40
أَرْبَعِينَ

٦ ٣ عَشْرَاتٍ = 30
ثَلَاثِينَ

أَحُلُّ:

٧ بَدَأَ زَيْدٌ بِالْعَدَدِ ٢٠، وَأَخَذَ يَعُدُّ بِالْعَشْرَاتِ وَيَكْتُبُ مَا يَعُدُّهُ، فَكَتَبَ ٤ أَعْدَادٍ.
مَا آخِرُ عَدَدٍ كَتَبَهُ زَيْدٌ؟
50
خَمْسِينَ

اَكْتُبِ الْعَدَدَ:

١ ١٦ آحَادًا = ٦ آحَادَ وَ ١ عَشْرَات = ١٦

٢ ٢٢ آحَادًا = ٢ آحَادَ وَ ٢ عَشْرَات = ٢٢

٣ ٣٣ آحَادًا = ٣ آحَادَ وَ ٣ عَشْرَات = ٣٣

٤ ٤١ آحَادًا = ١ آحَادَ وَ ٤ عَشْرَات = ٤١

٥ ٣٠ آحَادًا = ٠ آحَادَ وَ ٣ عَشْرَات = ٣٠

٦ ٥٨ آحَادًا = ٨ آحَادَ وَ ٥ عَشْرَات = ٥٨

أَحُلُّ الْمَسْأَلَتَيْنِ التَّالِيَتَيْنِ:

٧ وَضَعْتُ سَارَةَ ٣٠ قَلَمًا فِي عُبَّةٍ، وَوَضَعْتُ قَلَمَيْنِ فِي عُبَّةٍ أُخْرَى. كَمْ قَلَمًا وَضَعْتُ فِي الْعُبَّتَيْنِ؟

32 أَحَادًا = 2 أَحَادٍ وَ 3 عَشْرَاتٍ .

٨ مَا الْعَدَدُ الَّذِي فِيهِ ٦ عَشْرَاتٍ وَ ٤ أَحَادٍ؟ 64

أَحْلُ الْمَسَائِلِ التَّالِيَةِ بِالتَّخْمِينِ ثُمَّ التَّحْقِيقُ:

١ في المَدْرَسَةِ ٥ فِرْقٍ لِلسَّبَاحَةِ. إِذَا كَانَ فِي كُلِّ فِرْقَةٍ ٤ طُلَّابٍ، فَكَمْ طَالِبًا فِي الْفِرْقِ الْخُمْسَةِ؟

طَالِبًا 20

٢ فِي الصُّنْدُوقِ ٤ رُزْمٍ مِنَ الْكُتُبِ فِي كُلِّ مِنْهَا ٧ كُتُبٍ؟ مَا عَدَدُ الْكُتُبِ فِي الصُّنْدُوقِ؟

كِتَابًا 28

٣ في الصف ٢٢ طالبًا. إذا انقسموا بالتساوي إلى فريقين في حصّة التربية البدنية،

فَمَا عَدَدُ الطُّلَابِ فِي كُلِّ فَرِيقٍ ؟

.....11 طالبًا

٤ وَضَعَ مُوَظَّفُ الْبَرِيدِ ٤٠ رِسَالَةً فِي ٥ صَنَادِيقَ. إِذَا وَضَعَ الْعَدَدَ نَفْسَهُ فِي كُلِّ

صُنْدُوقٍ، فَكَمْ رِسَالَةً وَضَعَ فِي الصُّنْدُوقِ ؟



.....8 رَسَائِلَ

اَكْتُبْ عَدَدَ الْاَحَادِ وَالْعَشَرَاتِ، ثُمَّ اَقْرَأْ الْعَدَدَ وَاَكْتُبْهُ:

9..... اَحَادٍ 4..... عَشَرَاتٍ

اَقُولُ: تِسْعَةٌ وَاَرْبَعِينَ

اَكْتُبْ: 49...


عَشَرَاتٌ	اَحَادٌ
	

١

3..... اَحَادٍ 3..... عَشَرَاتٍ

اَقُولُ: ثَلَاثَةٌ وَثَلَاثِينَ

اَكْتُبْ: 33...

عَشَرَاتٌ	اَحَادٌ
	



٢

٣

7 أَحَادٍ 1 عَشْرَاتٍ

أَقُولُ : سَبْعَةَ عَشَرَ

أَكْتُبُ : 17

عَشْرَاتٌ	أَحَادٌ
	

أَحْلُ الْمَسْأَلَةَ التَّالِيَةَ:

٤ مَعَ عَبْدِ اللَّهِ ١٣ نَجْمَةٌ لَأَصِقَّةٌ. أَعْطَاهُ صَدِيقُهُ سَالِمٌ ١٠ نَجْمَاتٍ أُخْرَى. كَمْ نَجْمَةٌ

صَارَتْ مَعَ عَبْدِ اللَّهِ ؟

23 نَجْمَةٌ لَأَصِقَّةٌ



اَكْتُبْ عَدَدَ الْاَحَادِ وَالْعَشَرَاتِ، ثُمَّ اَكْتُبْ الْعَدَدَ وَاَقْرَأْهُ:

١

7 اَحَادٍ 7 عَشَرَاتٍ

اَكْتُبْ: 77

اَقُولُ: سَبْعَةٌ وَسَبْعِينَ



اَحَادٌ	عَشَرَاتٌ
	

٢

3 اَحَادٍ 8 عَشَرَاتٍ

اَكْتُبْ: 83

اَقُولُ: ثَلَاثَةٌ وَثَمَانِينَ



اَحَادٌ	عَشَرَاتٌ
	

٣

5 آحادٍ 6 عَشْرَاتٍ

أَكْتُبُ: 65

أَقُولُ: خَمْسَةٌ وَخَمْسِينَ



عَشْرَاتُ	آحَادُ
	

٤

8 آحادٍ 2 عَشْرَاتٍ

أَكْتُبُ: 28

أَقُولُ: ثَمَانِيَّةٌ وَعِشْرِينَ

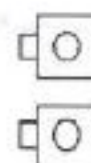
عَشْرَاتُ	آحَادُ
	

أَعُدُّ العَشْرَاتِ وَأَقْدِرُ العَدَدَ. ثُمَّ أَعُدُّ لِأَجَدِ العَدَدَ الحَقِيقِيَّ:

١

التَّقديرُ: 60


العَدَدُ الحَقِيقِيُّ: 62



٢

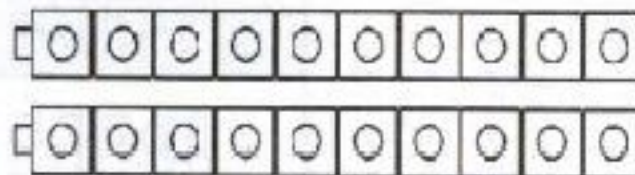
التَّقديرُ: 50

العَدَدُ الحَقِيقِيُّ: 59



٣

التقدير: 20



العَدَدُ الْحَقِيقِيُّ: 27

أَحْلُ الْمَسْأَلَةَ التَّالِيَةَ:

٤

مَعَ خَالِدٍ ١٠ كُرَاتٍ زُجَاجِيَّةٍ، وَمَعَ يَاسِرٍ ٩ كُرَاتٍ زُجَاجِيَّةٍ.

أَقْدِرْ عَدَدَ الْكُرَاتِ الزُّجَاجِيَّةِ مَعَهُمَا 30

أَكْتُبْ الْعَدَدَ الْحَقِيقِيَّ: 29

أَسْتَغْمِلُ لَوْحَةَ الْمِئَةِ لِأَكْتُبَ الْأَعْدَادَ بِالتَّرْتِيبِ:

١٠	٩	٨	٧	٦	٥	٤	٣	٢	١
٢٠	١٩	١٨	١٧	١٦	١٥	١٤	١٣	١٢	١١
٣٠	٢٩	٢٨	٢٧	٢٦	٢٥	٢٤	٢٣	٢٢	٢١
٤٠	٣٩	٣٨	٣٧	٣٦	٣٥	٣٤	٣٣	٣٢	٣١
٥٠	٤٩	٤٨	٤٧	٤٦	٤٥	٤٤	٤٣	٤٢	٤١
٦٠	٥٩	٥٨	٥٧	٥٦	٥٥	٥٤	٥٣	٥٢	٥١
٧٠	٦٩	٦٨	٦٧	٦٦	٦٥	٦٤	٦٣	٦٢	٦١
٨٠	٧٩	٧٨	٧٧	٧٦	٧٥	٧٤	٧٣	٧٢	٧١
٩٠	٨٩	٨٨	٨٧	٨٦	٨٥	٨٤	٨٣	٨٢	٨١
١٠٠	٩٩	٩٨	٩٧	٩٦	٩٥	٩٤	٩٣	٩٢	٩١

١ أَكْتُبُ الْأَعْدَادَ مِنْ ١ إِلَى ١٨: ١ ٢ ٣ ٤ ٥ ٦ ٧ ٨ ٩ ١٠

١١ ١٢ ١٣ ١٤ ١٥ ١٦ ١٧ ١٨

اَكْتُبِ الأَعْدَادَ بِالتَّرْتِيبِ:

٢ ٥، ٧، ٤ 4 5 7 ٣ ٤٠، ٥٠، ٦٠ 60 50 40

اَسْتَغْمِلْ لَوْحَةَ الْمِئَةِ لِأَحْلِ الْمَسْأَلَةَ:


٤ مَعَ مِئَتِي ٧ تَمَرَاتٍ. إِذَا أَكَلْتُ مِنْهَا ٤ تَمَرَاتٍ ، فَكَمْ تَمْرَةً بَقِيَتْ مَعَهَا؟
أَعِدُّ تَنَازُلًا عَلَى لَوْحَةِ الْمِئَةِ لِأَحْلِ الْمَسْأَلَةَ. 3

3 4 5 6 7

الْعَدُّ الْقَفْزِيُّ؛ اثْنَيْنَاتِ وَخُمْسَاتِ وَعَشْرَاتِ

٨-٩

أَعُدُّ بِالْقَفْزِ مُسْتَعْمِلًا خَطَّ الْأَعْدَادِ:



16 14 12 10 8 6, 4 ١

45 40 35 30 25 20 15, 10 ٢



٣

بَيْضَاتٍ 8 ، 6 ، 4 ، 2



٥

بَالُونَاتٍ 25 ، 20 ، 15 ، 10 ، 5

أَعُدُّ بِالْقَفْزِ لِأَجِيبَ عَنِ السُّؤَالَيْنِ الْآتِيَيْنِ:

٦ مَعَ كُلِّ مَنْ يَاسِرُ وَعَلِيٍّ وَسَلْمَانَ ٥ رِيَّالَاتٍ. مَا مَجْمُوعُ مَا مَعَهُمْ مِنَ الرِّيَّالَاتِ؟

رِيَّالًا 15

٥ لَدَى عَبْدِ الْمَلِكِ ٤ بَاقَاتٍ فِي كُلِّ مِنْهَا وَرْدَتَانِ. كَمْ وَرْدَةٍ لَدَيْهِ؟

وَرْدَاتٍ 8

أَضَعُ دَائِرَةً حَوْلَ (أَكْبَرُ مِنْ أَوْ أَصْغَرُ مِنْ أَوْ يُسَاوِي) ثُمَّ أَكْتُبُ (< أَوْ > أَوْ =) فِي ٠ :

٢٥ > ٢٢ ٢

٢٥ أَكْبَرُ مِنْ ٢٢

٢٥ أَصْغَرُ مِنْ ٢٢

٢٥ يُسَاوِي ٢٢

٢٩ > ١٤ ١

٢٩ أَكْبَرُ مِنْ ١٤

٢٩ أَصْغَرُ مِنْ ١٤

٢٩ يُسَاوِي ١٤

٤٤ < ٧٢ ٤

٤٤ أَكْبَرُ مِنْ ٧٢

٤٤ أَصْغَرُ مِنْ ٧٢

٤٤ يُسَاوِي ٧٢

١٥ = ١٥ ٣

١٥ أَكْبَرُ مِنْ ١٥

١٥ أَصْغَرُ مِنْ ١٥

١٥ يُسَاوِي ١٥

اَكْتُبْ (< أو > أو =) :

$$٢٥ < ٧٧ \text{ ٦}$$

$$٣٨ > ٣٦ \text{ ٥}$$

$$٦٣ > ٣٦ \text{ ٨}$$


$$٤٥ = ٥٤ \text{ ٧}$$

أَحْلُ الْمَسْأَلَتَيْنِ التَّالِيَتَيْنِ :

٩ مَعَ مُحَمَّدٍ مَجْمُوعَةٌ مِنَ الْأُورَاقِ عَدَدُهَا أَكْبَرُ مِنْ ١١ وَأَصْغَرُ مِنْ ١٤ . مَا عَدَدُ الْأُورَاقِ الَّتِي يُمَكِّنُ أَنْ تَكُونَ مَعَ مُحَمَّدٍ ؟ 12 13

١٠ مَعَ فَاطِمَةَ وَسَلْوَى عَدَدٌ مِنَ الْخَرَزَاتِ يَتَكَوَّنُ مِنْ ٣ أَحَادٍ وَ ٢ عَشْرَاتٍ . قَالَتْ فَاطِمَةُ : إِنَّ عَدَدَ الْخَرَزَاتِ أَكْبَرُ مِنْ ١٩ ، بَيْنَمَا قَالَتْ سَلْوَى : إِنَّ عَدَدَ الْخَرَزَاتِ أَصْغَرُ مِنْ ٢٢ . أَيُّهُمَا قَوْلُهَا صَحِيحٌ ؟ فاطمة

اَكْتُبِ الْعَدَدَ الَّذِي يَسْبِقُ مُبَاشَرَةً:



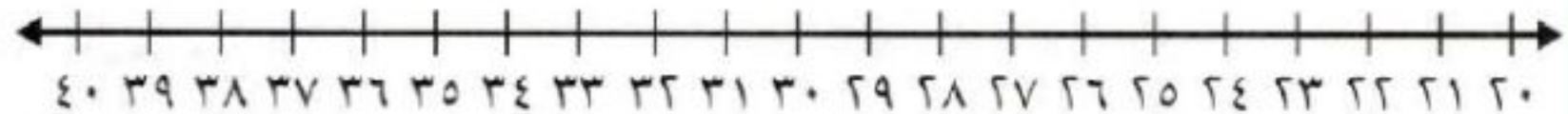
١٥ ، **14** ٢

١٨ ، **17** ١

١٩ ، **18** ٤

١١ ، **10** ٣

اَكْتُبِ الْعَدَدَ الَّذِي يَلِي مُبَاشَرَةً:



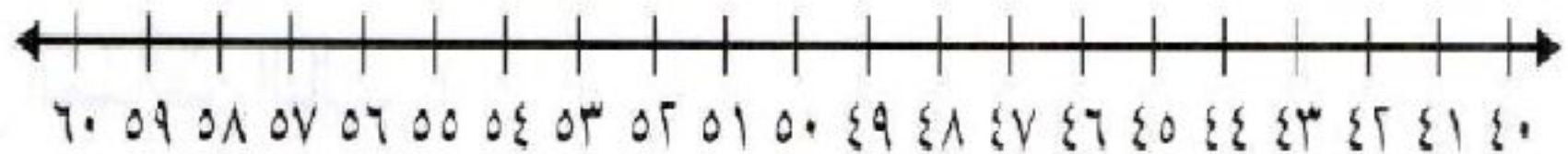
37 ، ٣٦ ٦

33 ، ٣٢ ٥

30 ، ٢٩ ٨

25 ، ٢٤ ٧

اَكْتُبِ الْعَدَدَ الْوَاقِعَ بَيْنَ الْعَدَدَيْنِ:



60 ، **59** ، 58 ⑩

51 ، **50** ، 49 ⑫

57 ، **56** ، 55 ⑭

59 ، **58** ، 57 ⑮

47 ، **46** ، 45 ⑨

54 ، **53** ، 52 ⑪

43 ، **42** ، 41 ⑬

42 ، **41** ، 40 ⑮

أَضَعُ ○ حَوْلَ الْكَلِمَةِ الصَّحِيحَةَ (زَوْجِيَّ، فَرْدِيَّ):

٣ ①

زَوْجِيَّ فَرْدِيَّ

٢٥ ②

زَوْجِيَّ فَرْدِيَّ

١٦ ③

زَوْجِيَّ فَرْدِيَّ

١٥ ④

فَرْدِيَّ زَوْجِيَّ

١٨ ⑤

زَوْجِيَّ فَرْدِيَّ

١٠ ⑥

زَوْجِيَّ فَرْدِيَّ

أَحْلُ الْمَسْأَلَتَيْنِ التَّالِيَتَيْنِ :

٧ عَدَّ حَمْزَةُ بِالْعَشْرَاتِ: ١٠، ٢٠، ٣٠، ٤٠، ٥٠. ثُمَّ قَالَ: إِنَّ جَمِيعَ هَذِهِ الْأَعْدَادِ

زَوْجِيَّةٌ. هَلْ مَا قَالَهُ حَمْزَةُ صَحِيحٌ؟ **نعم**

٨ كَتَبْتُ سَنَاءُ الْأَعْدَادِ: ٨، ٧، ٥، ١. أَكْتُبُ الْأَعْدَادَ الْفَرْدِيَّةَ مِنْهَا. **1 5 7**

أَحِيطُ الْكَلِمَةُ الْمُنَاسِبَةُ (أَطْوَلُ مِنْ أَوْ أَقْصَرُ مِنْ) لِأَقَارِنَ بَيْنَ الْأَطْوَالِ:




١



النَّمْلَةُ (أَطْوَلُ مِنْ ، أَقْصَرُ مِنْ) الدُّودَةُ .




٢



قَلَمُ التَّخْطِيطِ (أَطْوَلُ مِنْ ، أَقْصَرُ مِنْ) قَلَمُ الرَّصَاصِ .

٣



السُّوَارُ (أَطْوَلُ مِنْ ، أَقْصَرُ مِنْ) مَاسِكِ الشَّعْرِ.

٤

أَكْتُبُ الْكَلِمَةَ الْمُنَاسِبَةَ (أَطْوَلُ مِنْ ، أَقْصَرُ مِنْ) لِإِقَارِنَ بَيْنَ الْأَطْوَالِ:




قَلَمُ التَّلْوِينِ **اطول من** مِشْبَكِ الْوَرَقِ.




مِشْبَكُ الْوَرَقِ **اقصر من** الدَّبَّاسَةِ.



الدَّبَّاسَةُ **اقصر من** قَلَمِ التَّلْوِينِ.

أَسْتَغْمِلُ  لِأَقِيسَ :




١

حَوَالِي 10 مُكَعَّبَاتٍ



٢

حَوَالِي 6 مُكَعَّبَاتٍ



٣

حَوَالِي 13 مُكَعَّبَاتٍ

أَحْلُ:

٤ أَيُّ الْأَشْيَاءِ فِي الصَّفْحَةِ أَطْوَلُ؟ **القلم الرصاص**

٥ أَيُّ الْأَشْيَاءِ فِي الصَّفْحَةِ أَقْصَرُ؟ **الممحاة**

٦ أِبْحَثْ فِي مَنْزِلِي عَنْ أَشْيَاءٍ (اَكْتُبْهَا أَوْ ارْسُمْهَا):



طُولُهَا ٥ مُكَعَّبَاتٍ:



طُولُهَا ١٠ مُكَعَّبَاتٍ:



طُولُهَا أَكْثَرُ مِنْ

كَمْ  يَبْلُغُ طَوْلُ كُلِّ مِمَّا يَأْتِي (أَحْمَنُ ثُمَّ أَقْيَسُ لَا تَحَقِّقْ مِنْ إجابتي):



١

أَحْمَنُ: حَوَالِي 8 مُكْعَبَاتِ
أَقْيَسُ: حَوَالِي 7 مُكْعَبَاتِ



٢

أَحْمَنُ: حَوَالِي 19 مُكْعَبَاتِ
أَقْيَسُ: حَوَالِي 19 مُكْعَبَاتِ



٣

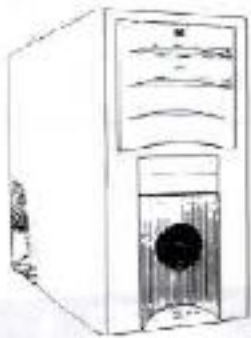
أَحْمَنُ: حَوَالِي 6 مُكْعَبَاتِ
أَقْيَسُ: حَوَالِي 6 مُكْعَبَاتِ

أُقَارِنُ، أَضَعُ ○ حَوْلَ الإِجَابَةِ الصَّحِيحَةِ:

١ أَيُّهُمَا أَثْقَلُ:

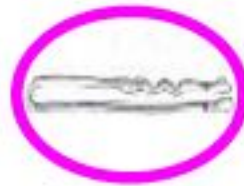


٢ أَيُّهُمَا أَخَفُّ:



أَيُّهَا الْأَخْفُ:

٣

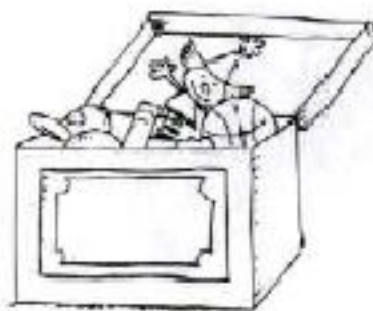


أَيُّهَا الْأَثْقَلُ:

٤



أَضْعُ ○ حَوْلَ الْأَقْلِّ سَعَةً:



١

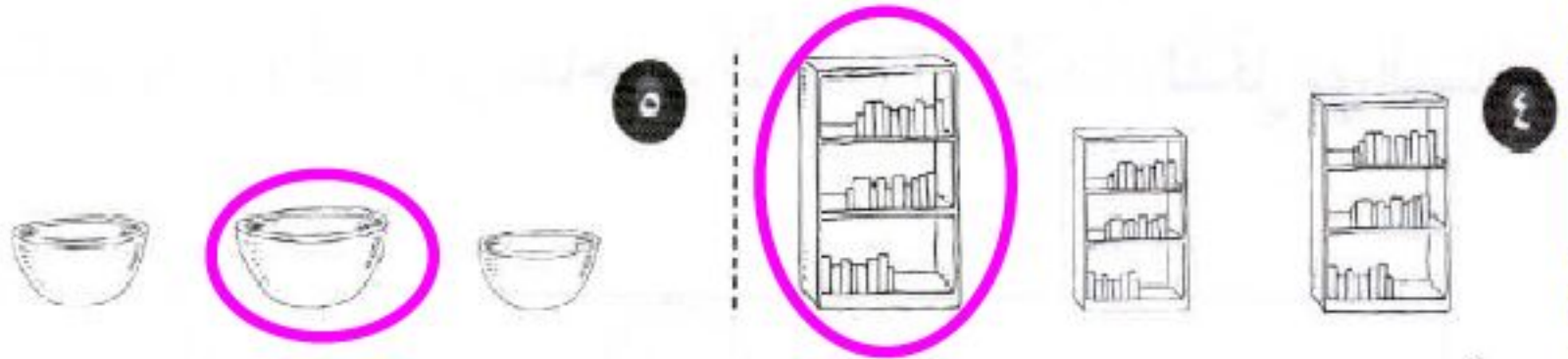


٢



٣

أَضْعُ ○ حَوْلَ الْأَكْثَرِ سَعَةً:



أَحُلُّ:

٦ قال صالح : فِي مَنْزِلِنَا حَقِيبَةٌ سَفَرٍ كَبِيرَةٌ وَ حَقِيبَةٌ يَدَوِيَّةٌ . أَيُّهُمَا تَسَعُ أَغْرَاضًا أَكْثَرَ؟

حَقِيبَةُ السَّفَرِ الْكَبِيرَةُ تَسَعُ أَغْرَاضًا أَكْثَرَ

٧ اشْتَرَى عَلِيٌّ عُلْبَةً عَصِيرٍ صَغِيرَةٍ ، وَ اشْتَرَى خَلِيلٌ قَارُورَةَ عَصِيرٍ كَبِيرَةٍ . أَيُّهُمَا عِنْدَهُ

كَمِيَّةٌ عَصِيرٍ أَكْثَرُ؟ خَلِيلٌ لَدِيَّةٍ عَصِيرٍ أَكْثَرَ

أَضَعُ ○ حَوْلَ الشَّيْءِ الَّذِي يُغَطِّي مِسَاحَةً أَكْبَرَ :



١



٢

أَضَعُ ○ حَوْلَ الْكَلِمَةِ الصَّحِيحَةِ (أَكْبَرُ مِنْ ، أَصْغَرُ مِنْ)



تُغَطِّي مِسَاحَةً الْمِسَاحَةِ الَّتِي تُغَطِّيهَا



٣

أَرْتَبُ الْأَشْكَالَ حَسَبَ مَا تُغَطِّيهِ مِنْ مِسَاحَاتٍ، أَكْتُبُ ١، ٢، ٣ مُبْتَدِئًا بِالشَّكْلِ ذِي الْمِسَاحَةِ الْأَصْغَرِ:

		
1	3	2

		
2	1	3