

تم تحميل هذا الملف من موقع المناهج البحرينية



## أجزاء التبات

موقع المناهج ← المناهج البحرينية ← الصف الأول ← علوم ← الفصل الأول ← ملفات متنوعة ← الملف

تاريخ إضافة الملف على موقع المناهج: 2024-10-25 18:56:10

ملفات اكتب للمعلم اكتب للطالب | اختبارات الكترونية | اختبارات | حلول | عروض بوربوينت | أوراق عمل  
منهج انجليزي | ملخصات وتقارير | مذكرات وبنوك | الامتحان النهائي للمدرس

المزيد من مادة  
علوم:

## التواصل الاجتماعي بحسب الصف الأول



صفحة المناهج  
البحرينية على  
فيسبوك

الرياضيات

اللغة الانجليزية

اللغة العربية

التربية الاسلامية

المواد على تلغرام

## المزيد من الملفات بحسب الصف الأول والمادة علوم في الفصل الأول

التطبيق الأول في مادة العلوم

1

النباتات مخلوقات حية 11

2

التطبيق الأول علوم

3



مذكرة مراجعة في مادة العلوم

4

نشاط تدريبي المخلوقات الحية

5

جذور



ساق

أوراق



زهرة



ثمرة




1- أرسم ○ حول ما يحتاج إليه النبات كي يعيش.

3



2- ألون المخلوقات الحية باللون الأخضر والأشياء غير الحية باللون الأصفر.

5





4- أصل بين جزء النبات وأسمه:

5

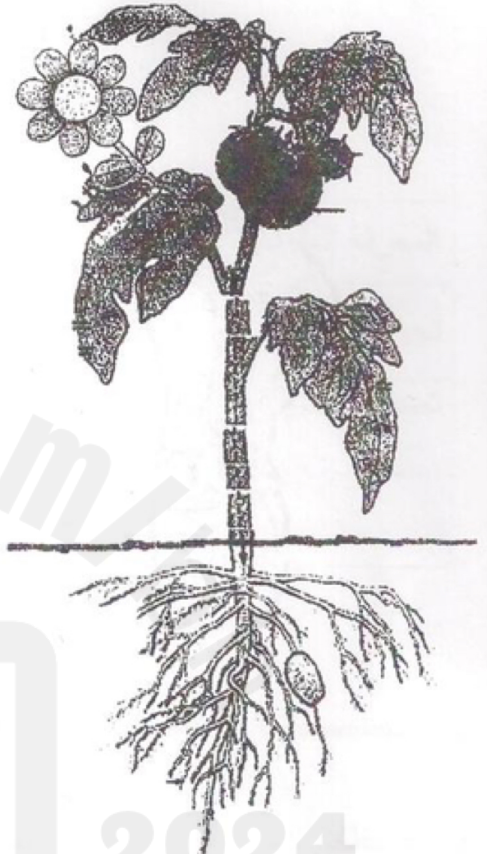
ساق ✕

جذور ○

أوراق ○

زهرة ✕


ثمرة ✕




5- أرسـم ○ حول النبات الذي سينمو وعلامة ✕ على النبات الذي سيموت من خلال التجربة التالية:

5

بدون ماء

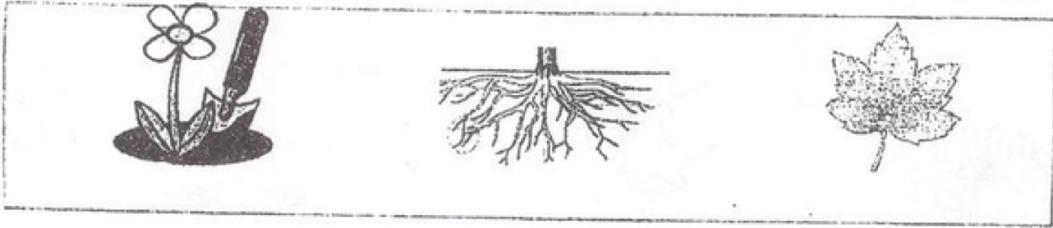


مع ماء



3- أرسـم   حول الإجابة الصحيحة.

1- الجزء الذي يثبت النبات في التربة هو :




2- يصنع النبات غذائه في :



3- من الثمار التي نأكلها:



4- الجزء الذي يحمل الأوراق هو:



5- من الجذور التي نأكلها من النباتات :

