

## درس عد النقود والقطع النقدية



### تم تحميل هذا الملف من موقع المناهج البحرينية

موقع المناهج ⇨ المناهج البحرينية ⇨ الصف الأول ⇨ رياضيات ⇨ الفصل الثاني ⇨ ملفات متنوعة ⇨ الملف

تاريخ إضافة الملف على موقع المناهج: 19:05:57 2025-05-07

ملفات اكتب للمعلم اكتب للطالب ا اختبارات الكترونية ا اختبارات ا حلول ا عروض بوربوينت ا أوراق عمل  
منهج انجليزي ا ملخصات وتقارير ا مذكرات وبنوك ا الامتحان النهائي للمدرس

المزيد من مادة  
رياضيات:

### التواصل الاجتماعي بحسب الصف الأول



صفحة المناهج  
البحرينية على  
فيسبوك

الرياضيات

اللغة الانجليزية

اللغة العربية

التربية الاسلامية

المواد على تلغرام

### المزيد من الملفات بحسب الصف الأول والمادة رياضيات في الفصل الثاني

درس النقود	1
مراجعة الكسور	2
مراجعة الكسور	3
حل كراسة الرياضيات مسائل الطرح والجمع	4
كتاب دليل المعلم في مادة الرياضيات	5

٢٠٢٤/...../.....

1- أكتب قيمة القطع النقدية ثم أضع دائرة على الأكبر قيمة، وأرسم خطًا تحت الأصغر: ★



..... فلس

..... فلسًا

..... فلس

..... فلسًا

2- أعد القطع النقدية ثم أكتب المجموع: ★★



..... فلسًا

.....



..... فلسًا

.....



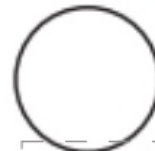


..... فلسًا

.....

التفكير الناقد وحل الد

3- دفع صالح قطعة نقدية من فئة الـ ٥ فلسًا، و ثلاث قطع من فئة الـ ١٠ فلس،

ليشتري عصير البرتقال، كم سعر العصير؟ أرسم القطع النقدية وأعد. ★★



..... فلسًا

.....

.....

.....

.....

٢٠٢٤/...../.....

## الفصل 14: عد النقود

1 - ☆ ضع دائرة على القطع النقدية اللازمة لشراء الآيس كريم:



٩٥ فلسًا



2 - ☆☆ أرسم القطع النقدية اللازمة لشراء ما أريد:

٤٥ فلسًا



٧ فلسًا



3- مع أحمد ٣ قطع نقدية من فئة ١٠ فلس وقطعة من فئة ٢٥ فلس، ومع خالد قطعة نقدية من فئة ٢٥ فلس، وقطعة أخرى من فئة ٥ فلس، كم مجموع القطع النقدية لدى محمد وخالد؟  
أرسم وأعد.

.....فلسًا

٢٠٢٤/...../.....



1 - ★ أستعمل النقود لأمثل المبلغ نفسه بطريقة أخرى:

أمثل ٦٥ فلسًا

الطريقة 1	الطريقة 2

2 - ★★ أستعمل النقود وأمثل المبلغ بطريقتين مختلفتين:

أمثل ٨٥ فلسًا

الطريقة 1	الطريقة 2
2024	2025



3 - مع يعقوب ٤ فلسًا ومع يوسف ٤ فلسًا أيضًا ولكن القطع النقدية مختلفة مثلي

مبلغ يعقوب ومبلغ يوسف بطرق مختلفة؟ أمثل ..... فلسًا

الطريقة 1 يعقوب	الطريقة 2 يوسف



٢٠٢٤/...../.....

## الفصل 14: عد النقود

1- هل يكفي ما أملكه لشراء السلعة:



هل يكفي للشراء؟	أعد النقود وأكتب المجموع	أنظر إلى الثمن
نعم لا	 المبلغ ..... فلسًا	6. فلسًا 
نعم لا	 المبلغ ..... فلسًا	95 فلسًا 

مجموع المبلغ ..... فلسًا



2- مع أسيل



هل يكفي المبلغ لشراء المقص؟ .....

9. فلسًا



أرادت شراء

3- مع فاطمة القطع النقدية: ٢٥ فلسًا ، ١٠ فلس، ٥ فلس، هل يكفي مالديها لشراء قلم سعره ٥ فلسًا؟ أرسم القطع النقدية ثم أكتب المجموع



هل يكفي للشراء؟

أرسم القطع النقدية هنا

مجموع المبلغ ..... فلسًا