

## نشاط قياس الزمن



### تم تحميل هذا الملف من موقع مناهج مملكة البحرين

موقع المناهج ← مناهج مملكة البحرين ← الصف الأول ← رياضيات ← الفصل الثاني ← ملفات متنوعة ← الملف

تاريخ إضافة الملف على موقع المناهج: 2025-07-24 18:31:15

ملفات اكتب للمعلم اكتب للطالب ا اختبارات الكترونية ا اختبارات ا حلول ا عروض بوربوينت ا أوراق عمل  
منهج انجليزي ا ملخصات وتقارير ا مذكرات وبنوك ا الامتحان النهائي للمدرس

المزيد من مادة  
رياضيات:

### التواصل الاجتماعي بحسب الصف الأول



صفحة مناهج مملكة  
البحرين على  
فيسبوك

الرياضيات

اللغة الانجليزية

اللغة العربية

التربية الاسلامية

المواد على تلغرام

### المزيد من الملفات بحسب الصف الأول والمادة رياضيات في الفصل الثاني

نشاط الكسور	1
درس عد النقود والقطع النقدية	2
درس النقود	3
مراجعة الكسور	4
مراجعة الكسور	5




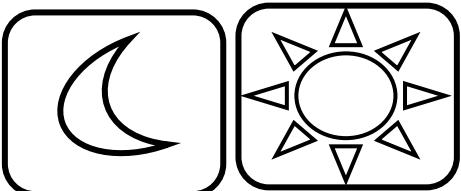


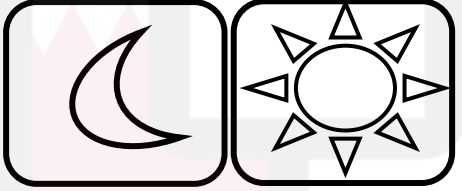
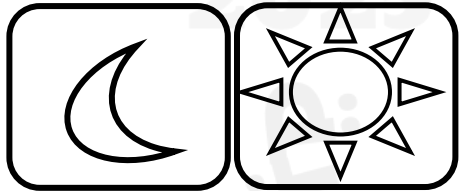
# قياسُ الزَّمنِ



الدرس الأول: الصباح والمساء.

١



لون صورة الشمس او القمر حسب الوقت الذي تدل عليه تلك الصورة.





أصل الصورة المناسبة حسب لوقت (صباحاً او مساءً)

٢



يرسم صورة شيء يدل على الصباح أو المساء.

٣





ضع دائرة على صورة شيء الذي يدل على صباحاً أو المساء.



المساء


صباحاً

المساء

صباحاً

المساء

صباحاً



المساء

صباحاً

المساء

صباحاً

المساء

صباحاً



أصل الصورة المناسبة حسب لوقت (صباحاً او مساءً)



صباحاً









المساء



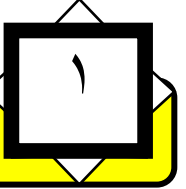


ينظر إلى الصورة، ثم يرسم دائرة حول الوقت الذي  
تدل عليه تلك الصورة.

٦







## الدرس الثاني: أيام الأسبوع.

ينظر الطالب إلى الصورة ويستعمل جدول النشاطات المعطي ويرسم دائرة حول اليوم الذي يتم فيه ذلك.



الجمعة

الخميس

الأربعاء

الثلاثاء

الاثنين


الأحد

السبت

الاثنين

الأحد


السبت



الثلاثاء

الاثنين


الأحد



الاثنين

الأحد


السبت



الجمعة

الخميس

الأربعاء





٢

ضع علامة x على الكلمات التي تدل أيام الأسبوع: -

 الخميس	 واحد	 الثلاثاء	 الأحد
 السبت	 الأربعاء	 يناير	 الاثنين



٣

ضع ارقام متسلسل حسب ترتيب أيام الأسبوع: -

 الخميس	 السبت	 الأربعاء	 الاثنين
 الثلاثاء	 الجمعة	 الأحد	

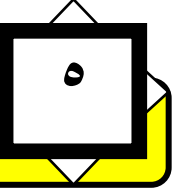


ضع ارقام متسلسل حسب ترتيب أيام الأسبوع: -







غدا	اليوم	أمس
	الأحد	السبت
غدا	اليوم	أمس
	الخميس	الأربعاء
غدا	اليوم	أمس
	الأربعاء	الثلاثاء
غدا	اليوم	أمس
	الثلاثاء	الاثنين





# صل صورة النشاط بالكلمة المناسبة حسب الجدول


						
الجمعة	الخميس	الأربعاء	الثلاثاء	الاثنين	الأحد	السبت


- السبت
- الأحد
- الثلاثاء
- الأربعاء
- الاثنين
- الجمعة
- الخميس





يناير						
السبت	الأحد	الاثنين	الثلاثاء	الأربعاء	الخميس	الجمعة
					١	٢
٣	٤	٥	٦	٧	٨	٩
١٠	١١	١٢	١٣	١٤	١٥	١٦
١٧	١٨	١٩	٢٠	٢١	٢٢	٢٣
٢٤	٢٥	٢٦	٢٧	٢٨	٢٩	٢٨
٣١						



يضع الطالب علامة x على اسم الشهر.

ويضع علامة  $\triangle$  حول أوله.

ويضع علامة  $\bigcirc$  حول اليوم ٢٢

يلون بالأحمر الأيام ٢، ٩، ١٦.

ويلون أول يوم ٣١ بالأزرق.



ديسمبر						
السبت	الأحد	الاثنين	الثلاثاء	الأربعاء	الخميس	الجمعة
		١	٢	٣	٤	٥
٦	٧	٨	٩	١٠	١١	١٢
١٤	١٥	١٦	١٧	١٨	١٩	٢٠
٢١	٢٢	٢٣	٢٤	٢٥	٢٦	٢٧
٢٨	٢٩	٣٠				

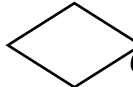


١- ضع دائرة حول الشهر المعطى، ومربع حول كلمة الأحد.


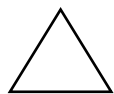
٢- لون المربع الذي يشير إلى اليوم ستة عشر من شهر ديسمبر. (بالون الاحمر)

٣- يضع شكل المثلث على نهاية الشهر.

٤- ما هو التاريخ الموجود في يوم الأربعاء بهذا الشكل



٥- ما هو التاريخ الموجود في يوم الثلاثاء بهذا الشكل







## الدرس الثالث: التقويم

٣



### فبراير

السبت الأحد الإثنين الثلاثاء الأربعاء الخميس الجمعة

٦	٥	٤	٣	٢	١	
١٣	١٢	١١	١٠	٩	٨	٧
٢٠	١٩	١٨	١٧	١٦	١٥	١٤
٢٧	٢٦	٢٥	٢٤	٢٣	٢٢	٢١
						٢٨



ما هو التاريخ الموجود في يوم الثلاثاء بهذا الشكل



ما هو التاريخ الموجود في يوم الجمعة بهذا الشكل

ما هو التاريخ الموجود في آخر يوم من الشهر

ما هو التاريخ الموجود أول يوم من الشهر


ضع دائر على التاريخ آخر يوم من الشهر يوم الأربعاء

يوم ذهاب عائلة أحمد الى الحديقة الحيوانات.



# الدرس الثالث: التقويم

٤



ديسمبر						
السبت	الأحد	الاثنين	الثلاثاء	الأربعاء	الخميس	الجمعة
			١	٢	٣	٤
٥	٦	٧	٨	٩	١٠	١١
١٢	١٣	١٤	١٥	١٦	١٧	١٨
١٩	٢٠	٢١	٢٢	٢٣	٢٤	٢٥
٢٦	٢٧	٢٨	٢٩	٣٠	٣١	



يضع الطالب على التاريخ المطلوب حسب الشكل المرسوم .

عطلة العيد الوطني وعيد جلوس عاهل البلاد		من الإثنين ١٦ ديسمبر ٢٠١٩م إلى الثلاثاء ١٧ ديسمبر ٢٠١٩م
الامتحانات النهائية للفصل الدراسي الأول لمراكز التعليم المستمر ( التعليم الأساسي المعادل )		من الخميس ١٩ ديسمبر ٢٠١٩م
الامتحانات النظرية لنهاية الفصل الدراسي الأول لطلبة المرحلة الثانوية والتعليم الثانوي الموازي (المسانني)		من الإثنين ٢٣ ديسمبر ٢٠١٩م
الامتحانات النهائية للفصل الدراسي الأول للمرحلة الإعدادية		من الخميس ٢٦ ديسمبر ٢٠١٩م
الامتحانات النهائية للفصل الدراسي الأول للحلقة الثانية من التعليم الأساسي		من الإثنين ٣٠ ديسمبر ٢٠١٩م





# الدرس الرابع: الساعة



اكتب العدد الذي يشير إلى وقت حدوث النشاط.



الساعة



أذهب إلى فراشي الساعة



الساعة



يبدأ دوام المدرسة



الساعة



أعود إلى البيت



الساعة



أذهب إلى لعب بالكرة



الساعة



أتناول العشاء



## الدرس الرابع: الساعة

٣

اكتب العدد الذي يتفق مع الوقت الذي تظهره الساعة، ثم ضع دائرة حول الكلمة المناسبة (صباحاً أو مساءً) بشرح إجابته.

صباحاً

مساءً

الساعة



صباحاً

مساءً

الساعة



صباحاً

مساءً

الساعة



صباحاً

مساءً

الساعة



صباحاً

مساءً

الساعة

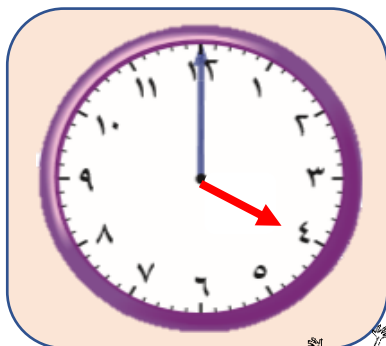





## الدرس الرابع: الساعة

٤

اكتب وقت النشاط الذي تشير إليه الساعة.



الساعة



الساعة



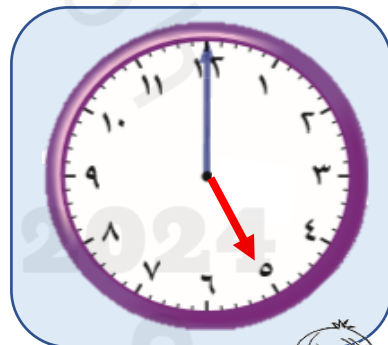
الساعة



الساعة




الساعة



الساعة



الساعة



الساعة



الساعة







## الدرس الرابع: الساعة

٥

ارسم عقرب الساعة حسب الوقت المكتوب.



الساعة: ٣



الساعة: ٥



الساعة: ٨



الساعة: ٤



الساعة: ١٢



الساعة: ١٠



الساعة: ٦



الساعة: ٢



الساعة: ١



## الدرس الرابع: الساعة

١

اكتب ارقام الساعة صحيح في الساعة التالية: -

