

## مراجعة الكسور



### تم تحميل هذا الملف من موقع المناهج البحرينية

موقع المناهج ⇨ المناهج البحرينية ⇨ الصف الأول ⇨ رياضيات ⇨ الفصل الثاني ⇨ ملفات متنوعة ⇨ الملف

تاريخ إضافة الملف على موقع المناهج: 2025-05-06 13:34:43

ملفات اكتب للمعلم اكتب للطالب ا اختبارات الكترونية ا اختبارات ا حلول ا عروض بوربوينت ا أوراق عمل  
منهج انجليزي ا ملخصات وتقارير ا مذكرات وبنوك ا الامتحان النهائي ا للمدرس

المزيد من مادة  
رياضيات:

### التواصل الاجتماعي بحسب الصف الأول



صفحة المناهج  
البحرينية على  
فيسبوك

الرياضيات

اللغة الانجليزية

اللغة العربية

التربية الاسلامية

المواد على تلغرام

### المزيد من الملفات بحسب الصف الأول والمادة رياضيات في الفصل الثاني

حل كراسة الرياضيات مسائل الطرح والجمع

1

كتاب دليل المعلم في مادة الرياضيات

2

كراسة خوارزمي الوادي أنشطة في مادة الرياضيات

3

كراسة أرقام جميلة

4

المذكرة الشاملة في اللغة العربية والرياضيات والعلوم والتربية الإسلامية

5

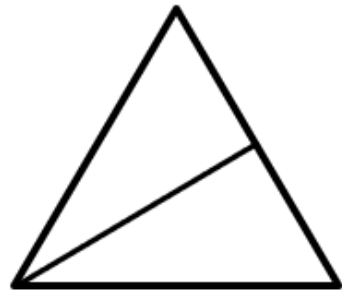
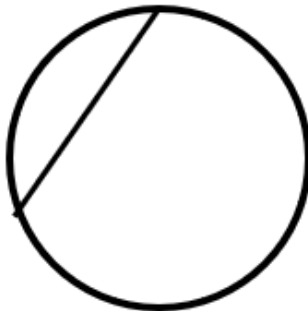



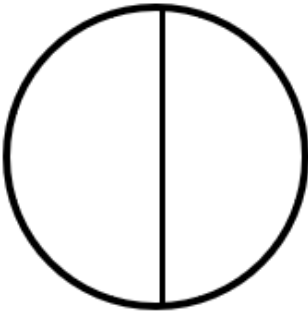


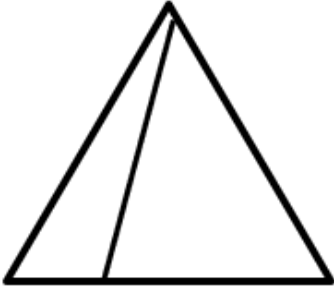
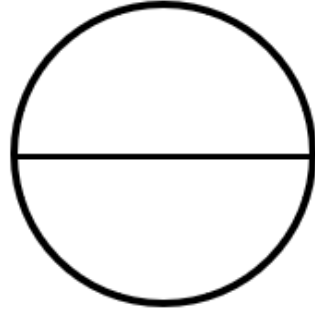
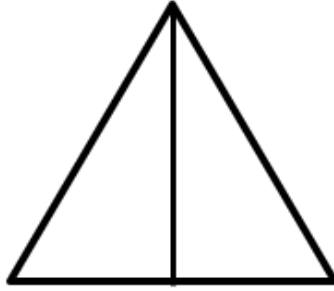
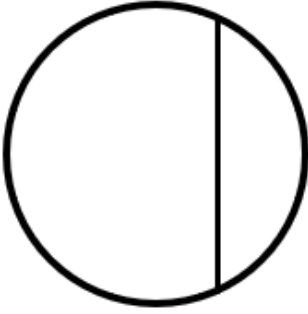
الاسم: .....  
الصف: .....  
التاريخ: ٢٠ / /



مملكة البحرين  
وزارة التربية والتعليم  
مدرسة باربار الابتدائية للبنين

الكفاية: يحدد الطالب الاشكال المتطابقة.

لون عزيزي الطالب فقط الاشكال المتطابقة فيما يلي:



مدير المدرسة: سيد علي باقر

اعداد الأستاذ: منير محمد سليمان

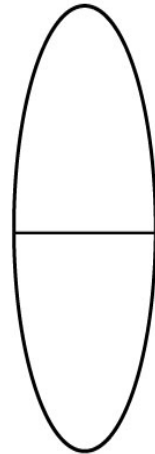

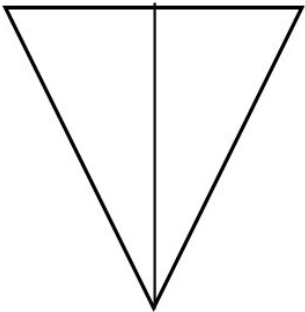
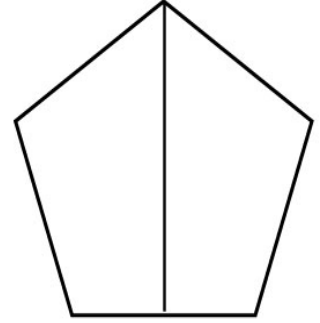

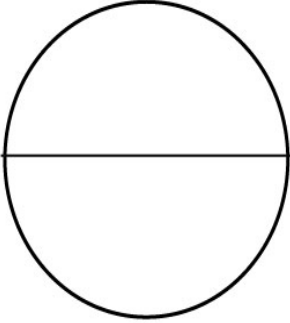
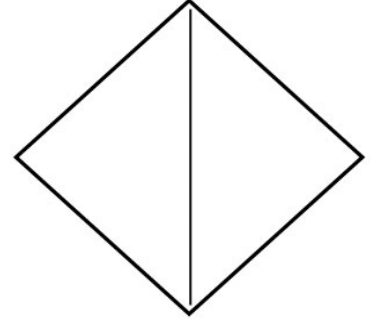

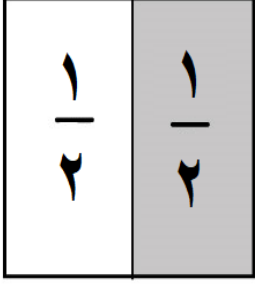
الاسم: .....  
الصف: .....  
التاريخ: ٢٠ / /

## نشاط تدريبي

مملكة البحرين  
وزارة التربية والتعليم  
مدرسة باربار الابتدائية للبنين

الكفاية: يتعرف الطالب الى النصف

عزيزي الطالب: لون نصف كل شكل من هذه الاشكال ثم اكتب الكسر الذي يعبر عن الجزء الذي تم تلوينه:




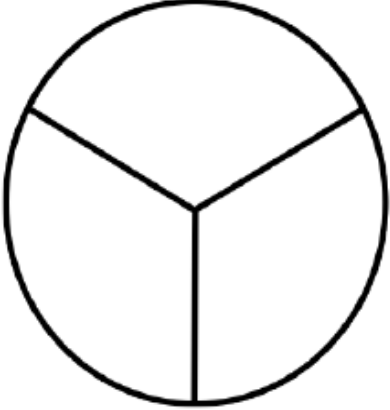
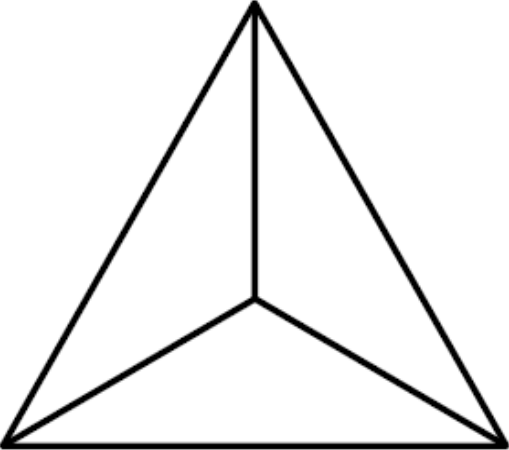
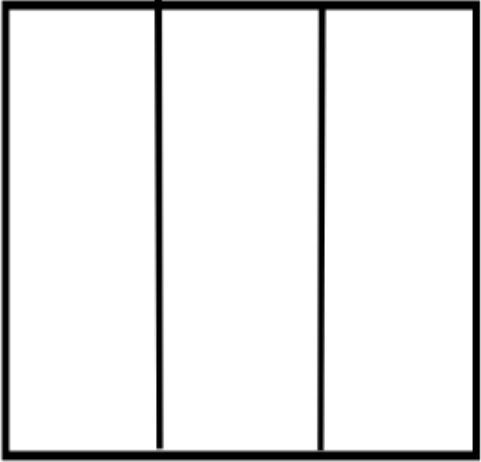


الاسم: .....  
الصف: .....  
التاريخ: ٢٠ / /

## نشاط تدريبي

مملكة البحرين  
وزارة التربية والتعليم  
مدرسة باربار الابتدائية للبنين

الكفاية: يتعرف الطالب الى الثلث

السؤال الأول: لون ثلث الاشكال التالية ثم اكتب اسفلها او بجانبها ثلث  $\frac{1}{3}$  :


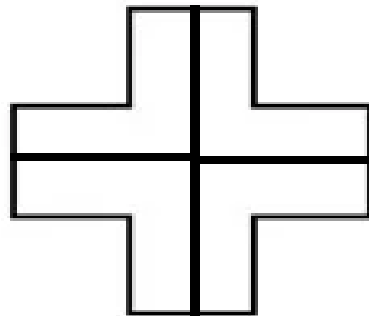
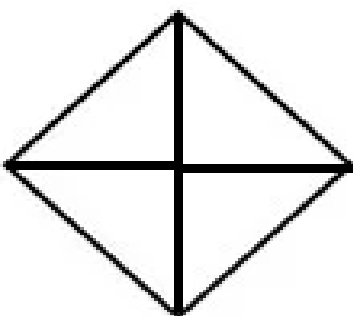
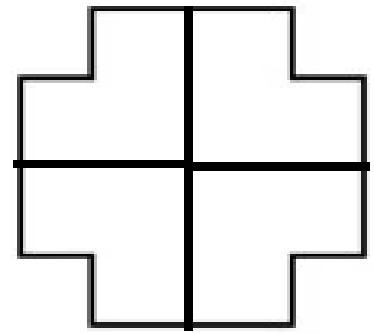
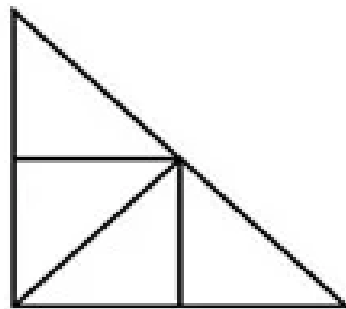
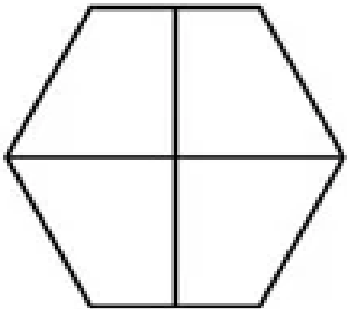
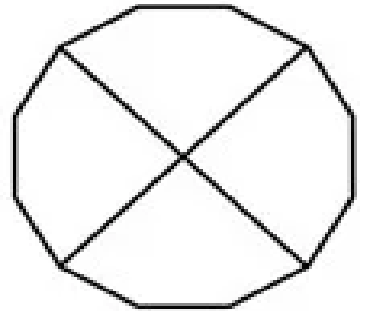
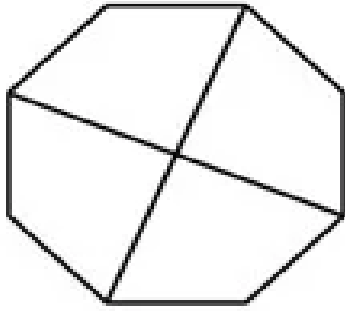
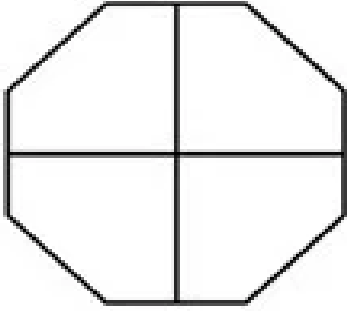
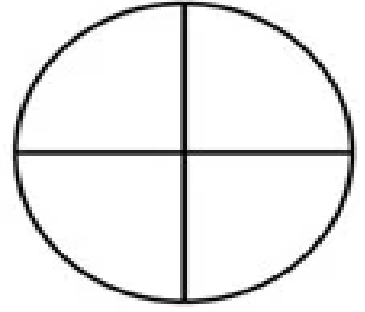

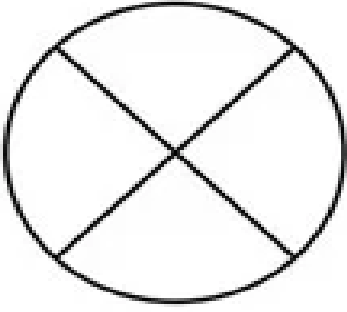
الاسم: .....  
الصف: .....  
التاريخ: ٢٠ / /



مملكة البحرين  
وزارة التربية والتعليم  
مدرسة باربار الابتدائية للبنين

الكفاية: يتعرف الطالب الى الربع

عزيزي الطالب: لون ربع الاشكال التالية فيما يلي ثم اكتب بجانبها  $\frac{1}{4}$  :



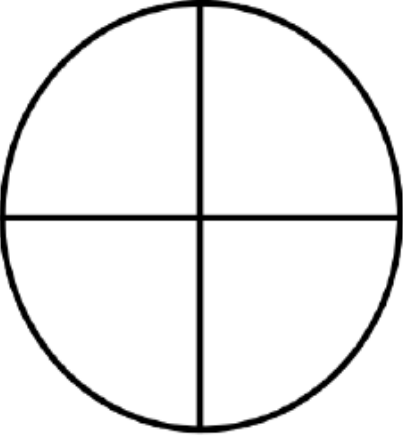

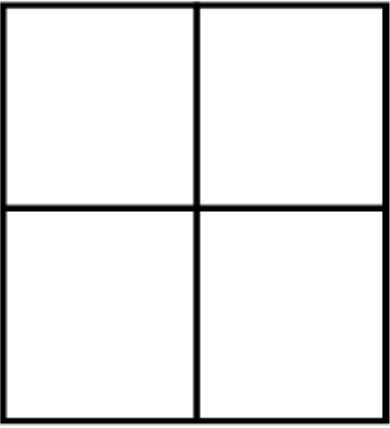
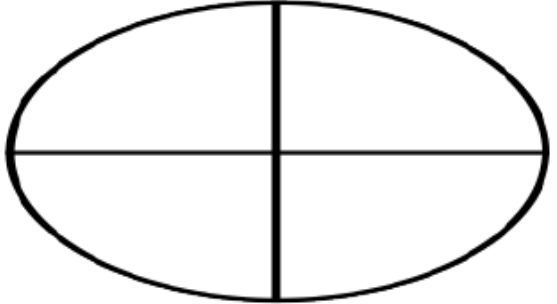
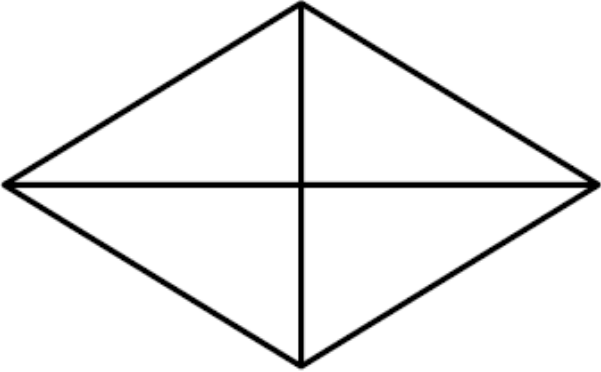
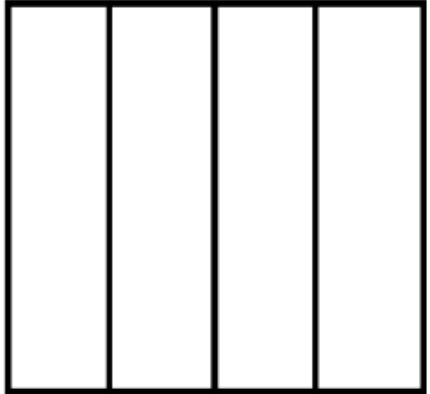
الاسم: .....  
الصف: .....  
التاريخ: ٢٠ / /

## نشاط تدريبي

مملكة البحرين  
وزارة التربية والتعليم  
مدرسة باربار الابتدائية للبنين

الكفاية: يتعرف الطالب الى الربع

السؤال الأول: لون ثلث الاشكال التالية ثم اكتب اسفلها او بجانبها ربع  $\frac{1}{4}$ :

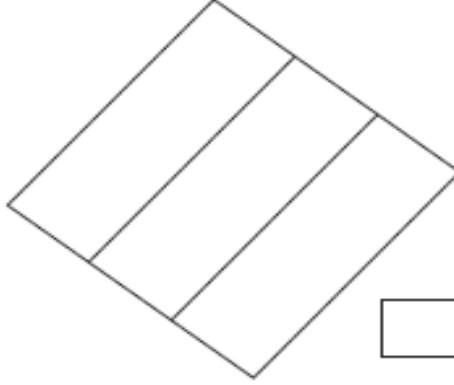
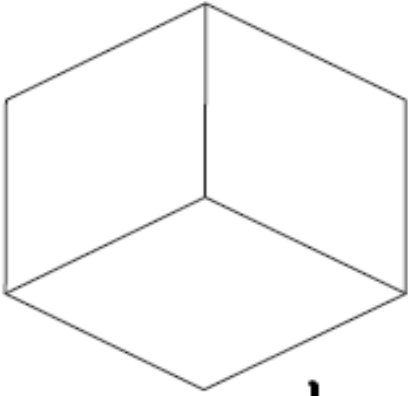
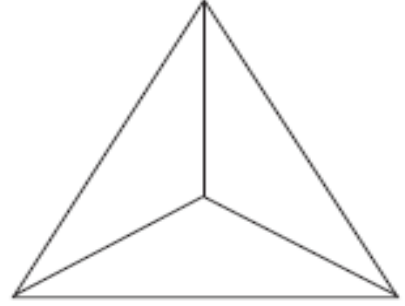
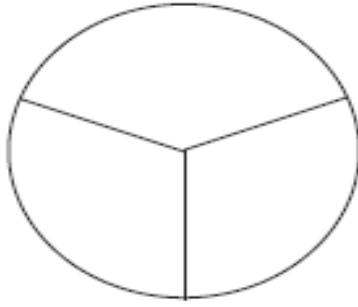
الاسم: .....  
الصف: .....  
التاريخ: ٢٠ / /

## نشاط تدريبي

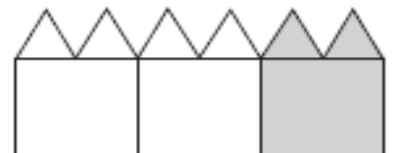
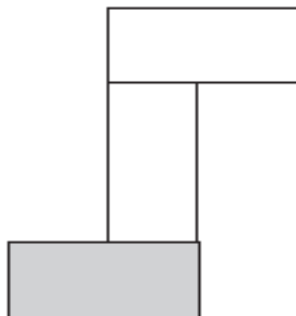
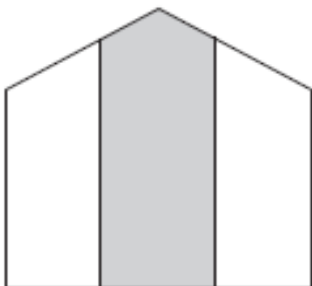
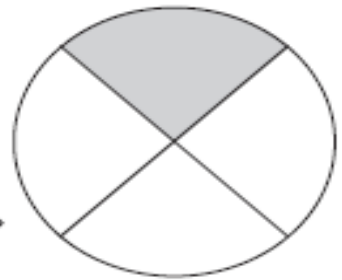
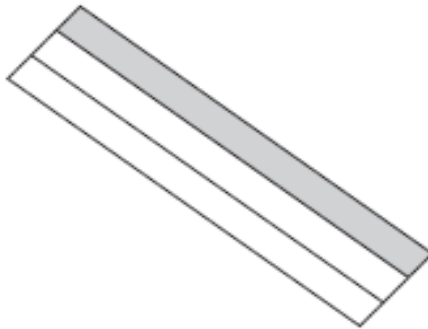
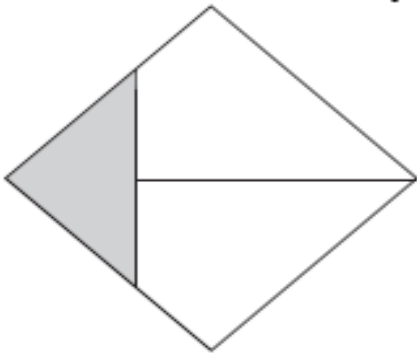
مملكة البحرين  
وزارة التربية والتعليم  
مدرسة باربار الابتدائية للبنين

الكفاية: يتعرف الطالب الى الثلث

السؤال الأول: لون ثلث الاشكال التالية ثم اكتب اسفلها ثلث:



السؤال الثاني: ضع دائرة حول الشكل الملون  $\frac{1}{3}$  فقط

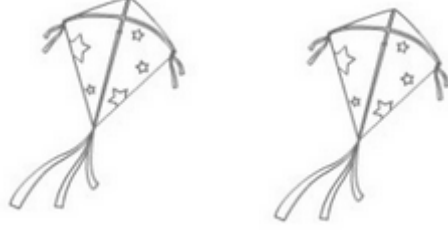


الاسم: .....  
الصف: .....  
التاريخ: ٢٠ / /

## نشاط تدريبي

مملكة البحرين  
وزارة التربية والتعليم  
مدرسة باربار الابتدائية للبنين


### عزيزي الطالب لون العدد المطلوب




الون ١ من ٢




الون ٢ من ٤



الون ٣ من ٦



الون ٤ من ٨



الون ٥ من ١٠






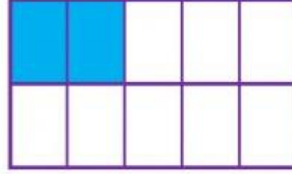
الاسم: .....  
الصف: .....  
التاريخ: ٢٠ / /

## نشاط تدريبي

مملكة البحرين  
وزارة التربية والتعليم  
مدرسة باربار الابتدائية للبنين

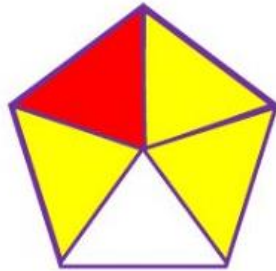
الكفاية: كتابة الكسور بوصفها أجزاء من الكل

اكتب الكسر الذي يمثل الجزء الملون:


$$\frac{\square}{\square}$$

$$\frac{\square}{\square}$$

$$\frac{\square}{\square}$$

$$\frac{\square}{\square}$$

$$\frac{\square}{\square}$$

$$\frac{\square}{\square}$$

اكتب الكسر الذي يمثل الجزء الملون بالأصفر:

$$\frac{\square}{\square}$$

$$\frac{\square}{\square}$$


جزء من فطيرة البيتزا يحتوي على الجبن فقط... ما الكسر الذي يمثل الخلايا التي تحوي نحلا؟  
اكتب الكسر الذي يدل على هذا الجزء.

$$\frac{\square}{\square}$$

$$\frac{\square}{\square}$$
