

مراجعة الكسور



تم تحميل هذا الملف من موقع المناهج البحرينية

موقع المناهج ⇨ المناهج البحرينية ⇨ الصف الأول ⇨ رياضيات ⇨ الفصل الثاني ⇨ ملفات متنوعة ⇨ الملف

تاريخ إضافة الملف على موقع المناهج: 2025-05-06 13:40:05

ملفات اكتب للمعلم اكتب للطالب ا اختبارات الكترونية ا اختبارات ا حلول ا عروض بوربوينت ا أوراق عمل
منهج انجليزي ا ملخصات وتقارير ا مذكرات وبنوك ا الامتحان النهائي للمدرس

المزيد من مادة
رياضيات:

التواصل الاجتماعي بحسب الصف الأول



صفحة المناهج
البحرينية على
فيسبوك

الرياضيات

اللغة الانجليزية

اللغة العربية

التربية الاسلامية

المواد على تلغرام

المزيد من الملفات بحسب الصف الأول والمادة رياضيات في الفصل الثاني

مراجعة الكسور

1

حل كراسة الرياضيات مسائل الطرح والجمع

2

كتاب دليل المعلم في مادة الرياضيات

3

كراسة خوارزمي الوادي أنشطة في مادة الرياضيات

4

كراسة أرقام جميلة


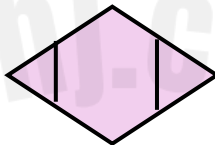
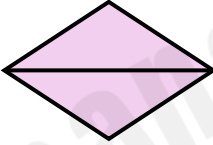
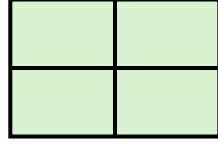

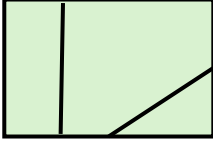
5

الاسم: _____ التاريخ: ٢٠٢٤-٤-٢

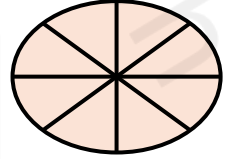
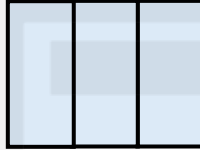
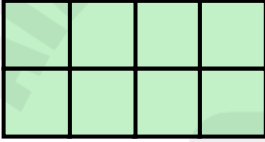
١ - ١ : درس الأجزاء المتطابقة



أضع ○ حول الشكل الذي أجزاؤه متطابقة:



أكتب عدد الأجزاء المتطابقة في الأشكال التالية:

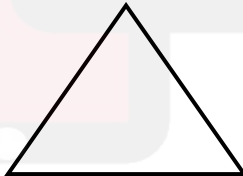


..... أجزاء متطابقة

..... أجزاء متطابقة

..... أجزاء متطابقة

أرسم خطاً أو خطوطاً لأقسم الأشكال إلى أجزاء متطابقة:



٣ جزآن متطابقان

٤ أجزاء متطابقة

٤ أجزاء متطابقة

(أتحدى لأصل): اقتصمت لولوة هذا البسكويت مع صديقاتها.




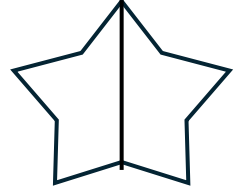
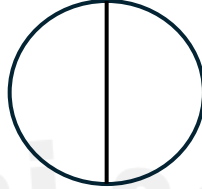
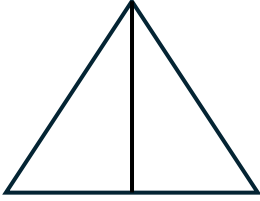
كم صديقة ستأكل من البسكويت؟ صديقات



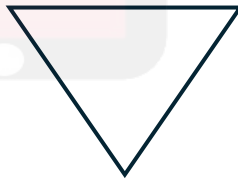

الاسم: _____ التاريخ: ٢٠٢٤-٤-٧

١٦ - ٣ : درس النصف ($\frac{1}{2}$)

❖ ألون نصف الشكل وأكتب الكسر:



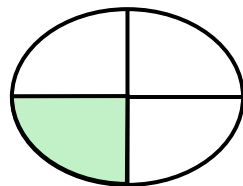


❖ أرسم خطاً، لأقسم الشكل للنصف، ثم ألون نصف الشكل:



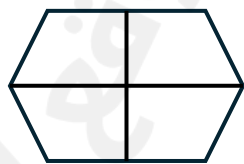
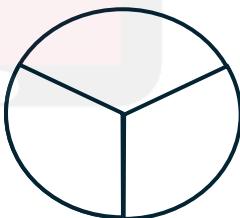





الاسم: _____ التاريخ: ٢٠٢٤-٤-١٦

١٦ - ٤ : درس الثلث ($\frac{1}{3}$) و الربع ($\frac{1}{4}$)

❖ أكتب الكسر:



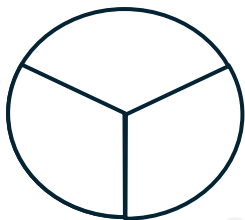
❖ ألون جزءاً واحداً من الأجزاء المتطابقة، وأكتب الكسر الذي يمثلته :



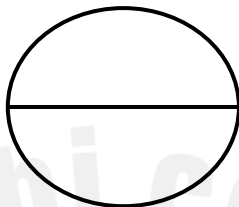
الاسم: _____ التاريخ: ١٦-٤-٢٠٢٤

مراجعة النصف ($\frac{1}{2}$) والثالث ($\frac{1}{3}$) والربع ($\frac{1}{4}$)

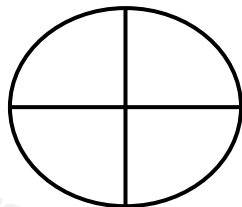
❖ ألون جزءاً واحداً من الأجزاء المتطابقة، وأحيط الكسر الذي يمثله :



$\frac{1}{4}$ $\frac{1}{3}$ $\frac{1}{2}$



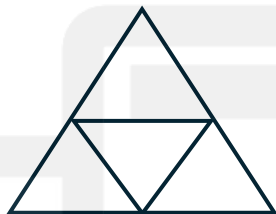
$\frac{1}{4}$ $\frac{1}{3}$ $\frac{1}{2}$




$\frac{1}{4}$ $\frac{1}{3}$ $\frac{1}{2}$




$\frac{1}{4}$ $\frac{1}{3}$ $\frac{1}{2}$



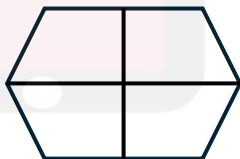
$\frac{1}{4}$ $\frac{1}{3}$ $\frac{1}{2}$



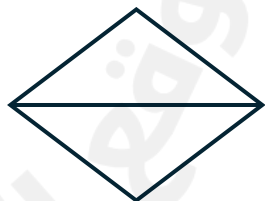
$\frac{1}{4}$ $\frac{1}{3}$ $\frac{1}{2}$



$\frac{1}{4}$ $\frac{1}{3}$ $\frac{1}{2}$



$\frac{1}{4}$ $\frac{1}{3}$ $\frac{1}{2}$

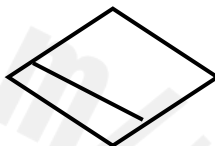
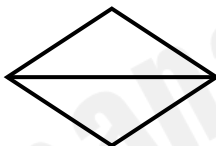

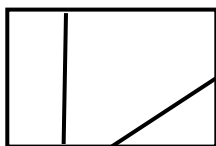


$\frac{1}{4}$ $\frac{1}{3}$ $\frac{1}{2}$

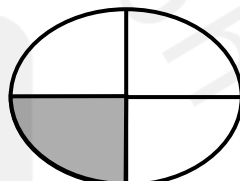

الاسم: _____ التاريخ: ٢٤-٤-٢٠٢٤

مراجعة وحدة الكسور


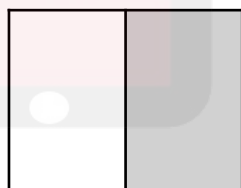
❖ أضع  حول الشكل الذي أجزاؤه متطابقة:



❖ أكتب الكسر:



❖ أحيط الكسر الذي يمثل الشكل:



$\frac{1}{2}$ $\frac{1}{3}$ $\frac{1}{4}$

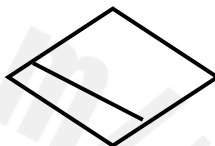
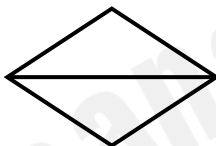

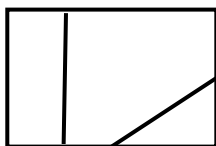
$\frac{1}{2}$ $\frac{1}{3}$ $\frac{1}{4}$

$\frac{1}{2}$ $\frac{1}{3}$ $\frac{1}{4}$

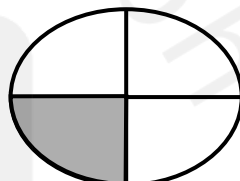

الاسم: _____ التاريخ: ٢٤-٤-٢٠٢٤

مراجعة وحدة الكسور


❖ أضع  حول الشكل الذي أجزاؤه متطابقة:



❖ أكتب الكسر:



❖ أحيط الكسر الذي يمثل الشكل:



$\frac{1}{2}$ $\frac{1}{3}$ $\frac{1}{4}$

$\frac{1}{2}$ $\frac{1}{3}$ $\frac{1}{4}$

$\frac{1}{2}$ $\frac{1}{3}$ $\frac{1}{4}$