

الأشكال الهندسية المجسمات



تم تحميل هذا الملف من موقع مناهج مملكة البحرين

موقع المناهج ← مناهج مملكة البحرين ← الصف الأول ← رياضيات ← الفصل الثاني ← ملفات متنوعة ← الملف

تاريخ إضافة الملف على موقع المناهج: 2025-07-24 17:51:04

ملفات اكتب للمعلم اكتب للطالب ا اختبارات الكترونية ا اختبارات ا حلول ا عروض بوربوينت ا أوراق عمل
منهج انجليزي ا ملخصات وتقارير ا مذكرات وبنوك ا الامتحان النهائي للمدرس

المزيد من مادة
رياضيات:

التواصل الاجتماعي بحسب الصف الأول



صفحة مناهج مملكة
البحرين على
فيسبوك

الرياضيات

اللغة الانجليزية

اللغة العربية

التربية الاسلامية

المواد على تلغرام

المزيد من الملفات بحسب الصف الأول والمادة رياضيات في الفصل الثاني

الأعداد حتى عشرين

1

نشاط الكسور

2

درس عد النقود والقطع النقدية

3

درس النقود


4

مراجعة الكسور


5



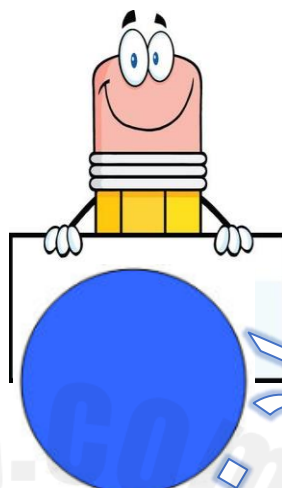
الفصل السابع: الأشكال الهندسية المجسمات.




شكل المستطيل



شكل المثلث

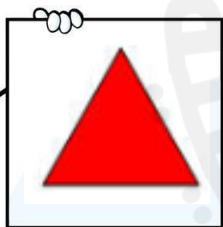


شكل الدائرة





شكل المربع

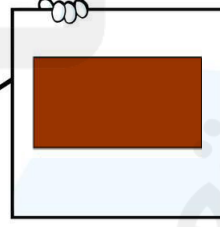
أصل صورة الشكل بكلمة المناسبة فيم يأتي: -





شكل المستطيل



شكل المثلث



شكل الدائرة

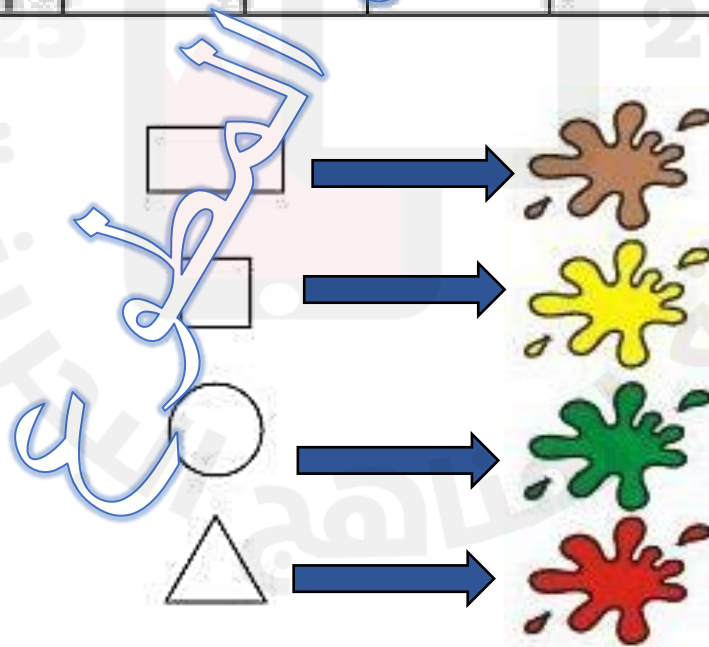
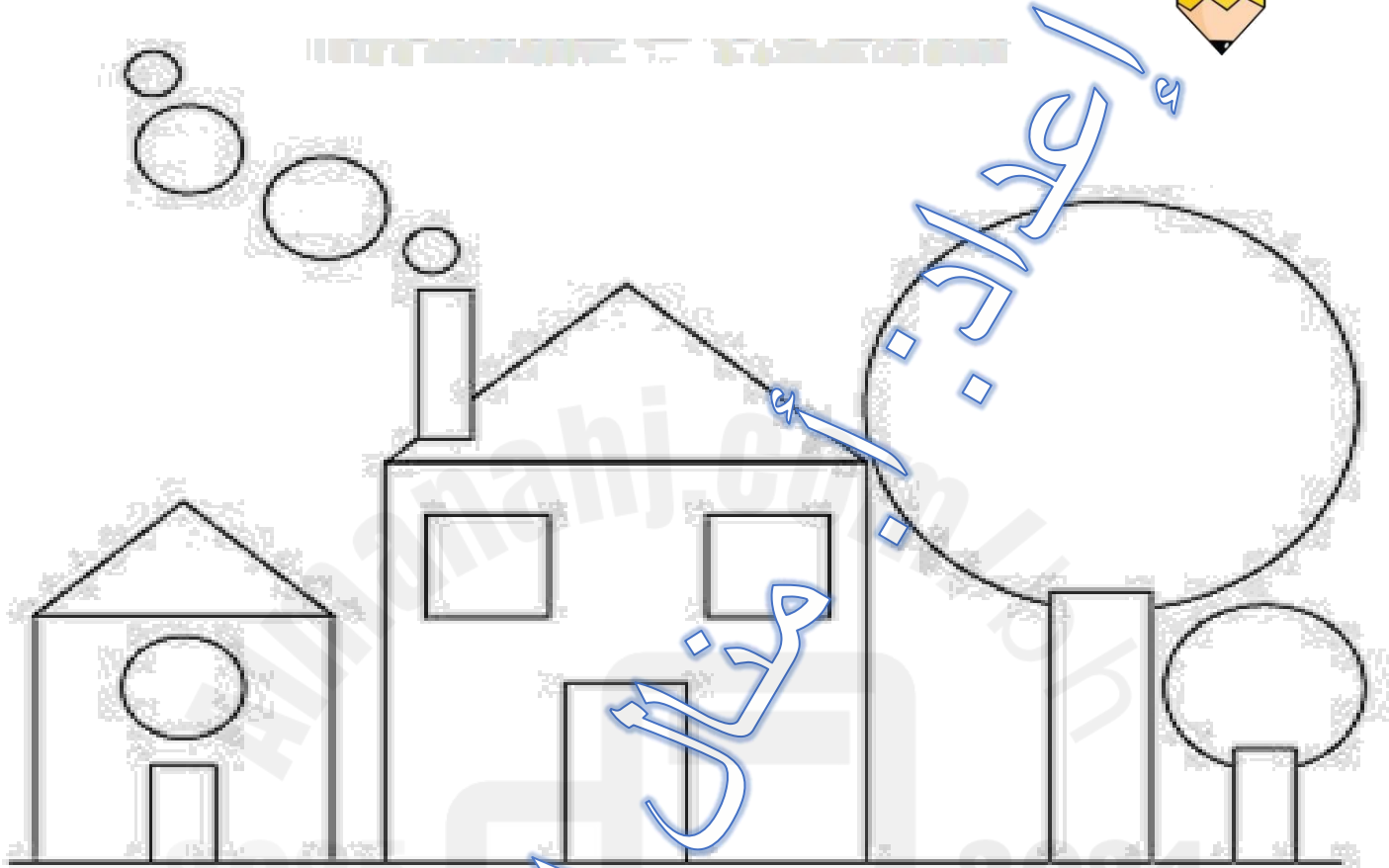


شكل المربع


STOP



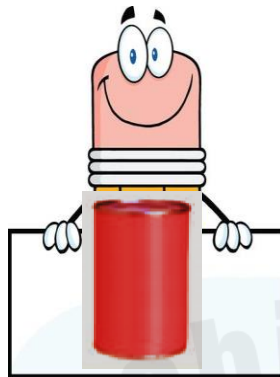
لون حسب المطلوب: -



الفصل السابع: الأشكال الهندسية المجسمات.



مَخْرُوطٌ



أُسْطُوَانَةٌ





كُرَّةٌ



مُكَعَّبٌ

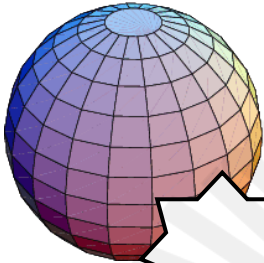


(ضع علامة على مجسم المكعب)





(ضع علامة على مجسم الكرة)



(ضع دائرة باللون الأحمر على مجسم المكعب،
وباللون الأزرق على مجسم الكرة)





(ضع علامة على مجسم الاسطوانة)



(ضع علامة على جسم المخروط)






(ضع دائرة باللون الأحمر على مجسم الأسطوانة،
وباللون الأزرق على مجسم المخروط)



(ارسم او اكتب اسم شكل المجسم المطلوب)



الكرة

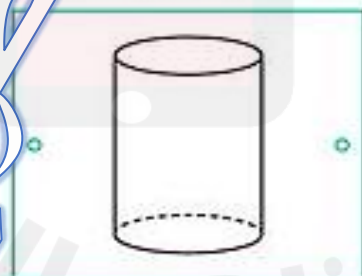
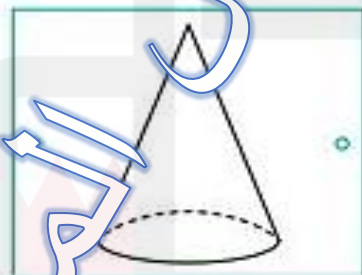
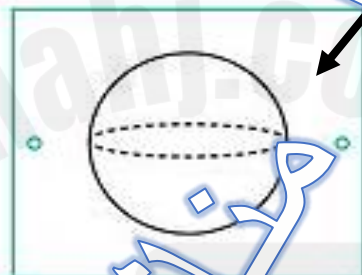
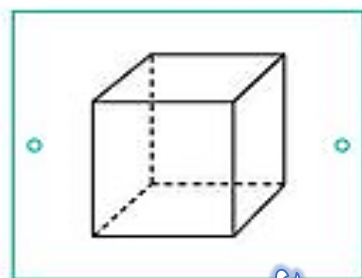

المخروط

STOP






(صل الشكل المجسم بما يناسبه فيما يأتي: -)

STOP




مخارج الحظوة

يضع دائرة حول الشيء الذي لا يشبه المجسم المعطى.




تصنيف المجسمات: يتدرج، يتراص، ينزلق.



يتراص



ينزلق




يتدرج



حل القطعة

تصنيف المجسمات: صل بين الصور والحركة (يتدحرج،
يتراص، ينزلق).



الخطوط
المنحنية

تصنيف المجسمات: يتدرج، يتراص، ينزلق.



مُسْتَطِيلٌ



مُثَلَّثٌ



دَائِرَةٌ





مُرَبَّعٌ



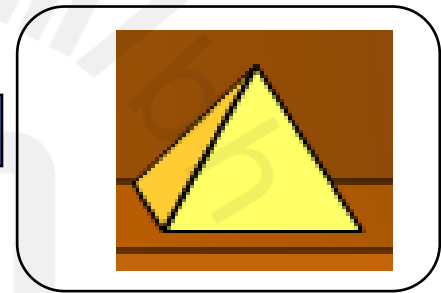
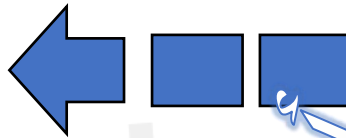

دَائِرَةٌ

ضع دائرة حول الشكل المحتوي الذي يظهر على الجسم

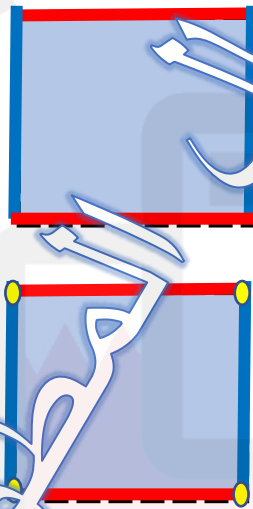

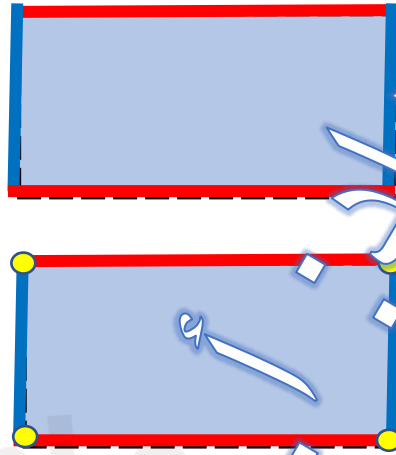
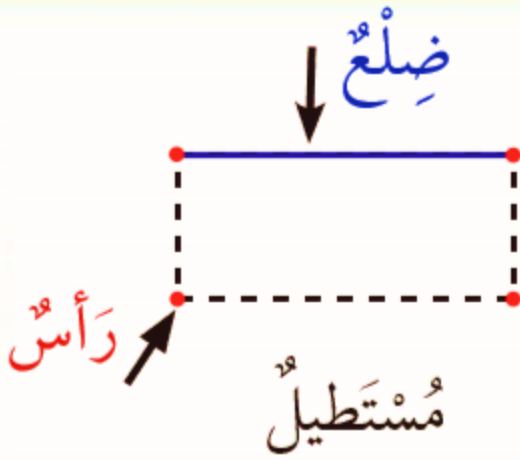





ارسم الشكل المستوي الذي يظهر على المجسم المجاور



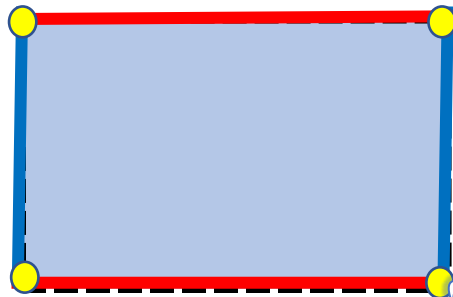

المربع والمستطيل



أكمل شكل المربع والمستطيل فيما يأتي -



أكتب عدد الرؤوس وأضلاع في المربع والمستطيل فيما يأتي: -



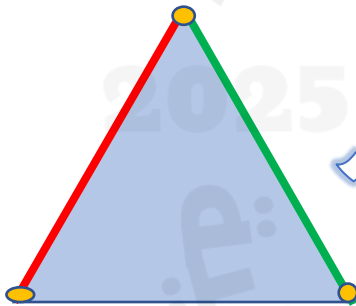


عدد الرؤوس
عدد أضلاع



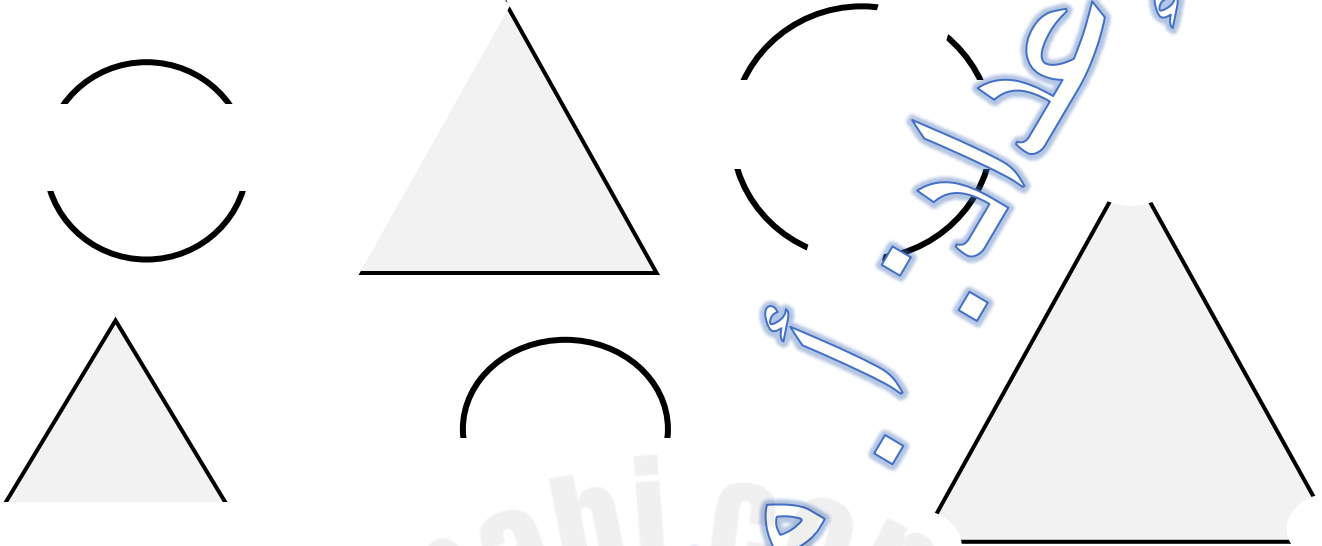
عدد الرؤوس
عدد أضلاع

الدائرة والمثلث.



دائرة

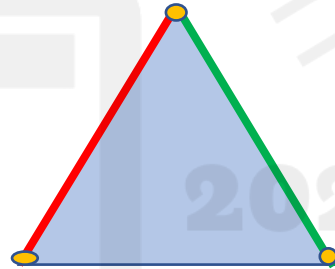
أكمل شكل المثلث والدائرة فيما يأتي: -



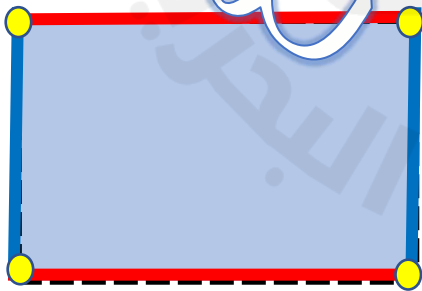
أكتب عدد الرؤوس وأضلاع في المثلث والدائرة فيما يأتي: -




عدد الرؤوس
عدد أضلاع



عدد الرؤوس
عدد أضلاع

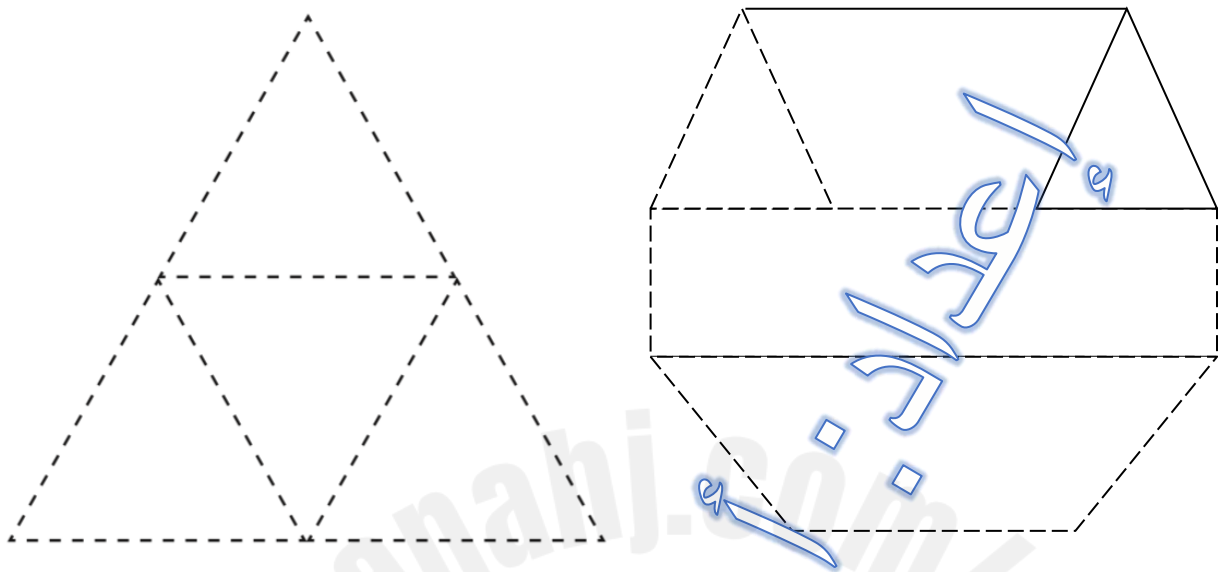


عدد الرؤوس
عدد أضلاع



عدد الرؤوس
عدد أضلاع




يستعمل قصاصات أ ورق ملونة في تلصيق على الاشكال.





الأجزاء المتساوية: ضع علامة على الصورة التي اجزائها المتساوية.




ارسم خطأ يقسم الشكل إلى جزأين متساويين.



لون نصف متساو في الشكل.




ضع علامة على الجواب الصحيح فيما يأتي: -



مَخْرُوطٌ

مُكَعَّبٌ




مَخْرُوطٌ

أُسْطُوَانَةٌ



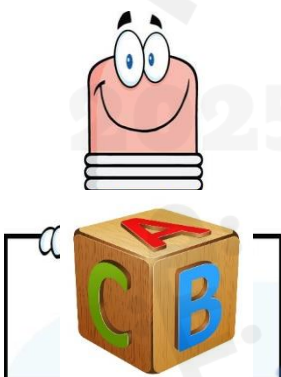
كُرَّةٌ

أُسْطُوَانَةٌ




مُكَعَّبٌ

كُرَّةٌ




شكل الجسم

شكل المستوي




يتراص

يتدحرج



ينزلق

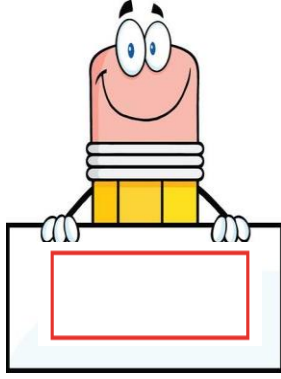
يتراص



يتدحرج

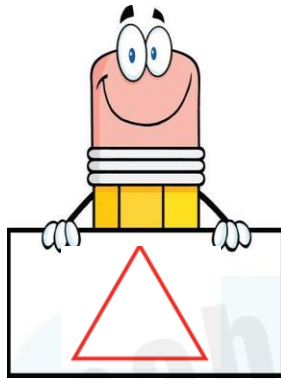
ينزلق

ضع علامة على الجواب الصحيح فيما يأتي: -




مستطيل

مربع




مثلث

مربع




مستطيل

دائرة



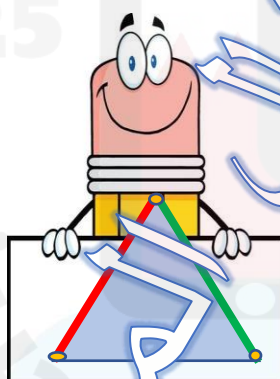
مربع

مثلث




عدد الرؤوس ٣

عدد الرؤوس ٤



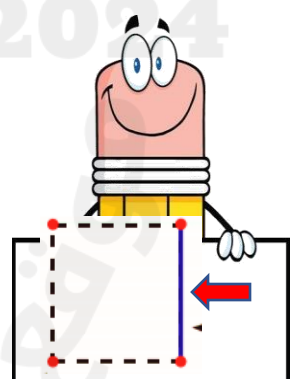
عدد الاضلاع ٣

عدد الاضلاع ٤



رأس

ضلع



رأس

ضلع