

تم تحميل هذا الملف من موقع المناهج البحرينية



اختبار الرياضيات الأول

موقع المناهج ← المناهج البحرينية ← الصف الأول ← رياضيات ← الفصل الأول ← اختبارات ← الملف

تاريخ إضافة الملف على موقع المناهج: 2024-10-21 16:29:03

ملفات اكتب للمعلم اكتب للطالب | اختبارات الكترونية | اختبارات | حلول | عروض بوربوينت | أوراق عمل
منهج انجليزي | ملخصات وتقارير | مذكرات وبنوك | الامتحان النهائي للمدرس

المزيد من مادة
رياضيات:

التواصل الاجتماعي بحسب الصف الأول



صفحة المناهج
البحرينية على
فيسبوك

الرياضيات

اللغة الانجليزية

اللغة العربية

التربية الاسلامية

المواد على تلغرام

المزيد من الملفات بحسب الصف الأول والمادة رياضيات في الفصل الأول

شرح درس المقارنة والتصنيف

1

مذكرة رياضيات

2

لوحة المئة للصف الأول الابتدائي

3

كراسة أنا وأرقامى الجميلة

4

تدريبات للأطفال بمساعدة ولي الأمر

5



الكفاية التعليمية: يتعرف المبادئ الأساسية للأنماط (التصنيف، التشابه، الاختلاف، الترتيب والموقع)

٦

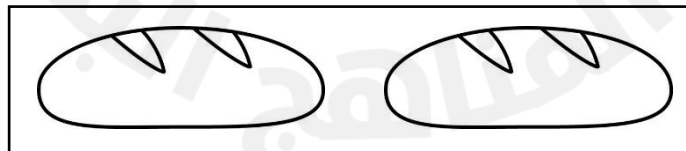


كل إجابة درجة واحدة

السؤال الأول: -

(أ) حوِّط الأشكال التي تماثل تمامًا ما بداخل الإطار:



(ب) لون المجموعة التي عناصرها أقل:




الكفاية التعليمية: يقرأ الأعداد ضمن ٢٠ ويكتبها

٦

كل إجابة درجة واحدة

السؤال الثاني: اكتب الأعداد التي تملئ عليك:







٨

كل إجابة درجة واحدة

السؤال الثالث: -

(أ) عد الأشكال، ثم اكتب العدد في



(ب) ارسم دوائر ○ بحسب العدد المكتوب:

