

شكراً لتحميلك هذا الملف من موقع المناهج الإماراتية



اختبار قصير أول الدروس الثلاث الأولى من الوحدة التاسعة

موقع المناهج ← المناهج الإماراتية ← الصف الثامن ← رياضيات ← الفصل الثالث ← الملف

التواصل الاجتماعي بحسب الصف الثامن



روابط مواد الصف الثامن على تلغرام

[الرياضيات](#)

[اللغة الانجليزية](#)

[اللغة العربية](#)

[التربية الاسلامية](#)

المزيد من الملفات بحسب الصف الثامن والمادة رياضيات في الفصل الثالث

[أسئلة الامتحان النهائي الورقي ريفيل](#)

1

[القوانين الهامة منهج ريفيل مع تدريبات](#)

2

[أسئلة الامتحان النهائي الالكتروني ريفيل](#)

3

[حل أسئلة الامتحان النهائي الورقي بريدج](#)

4

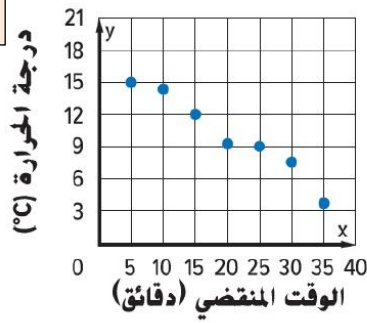
[أسئلة الامتحان النهائي الالكتروني ريفيل](#)

5

1

التفسير الخاطئ لمخطط الانتشار المجاور

- a) الارتباط موجب
b) الارتباط سالب
c) الارتباط خطي
d) ليس هناك تجمعات

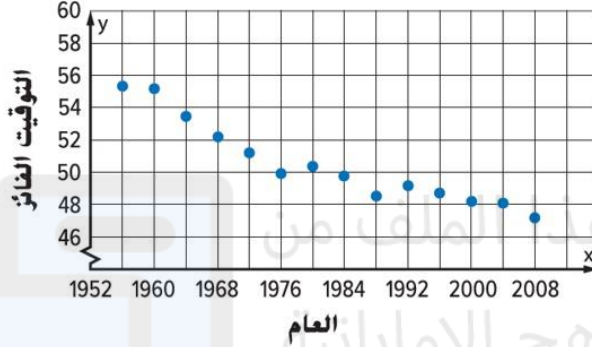


اسم الطالب: -----

2

التفسير الخاطئ لمخطط الانتشار المجاور

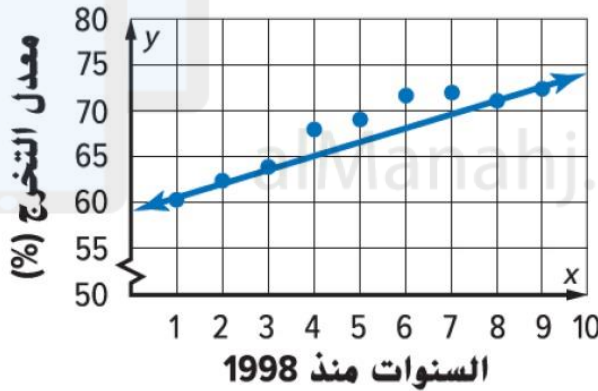
- a) الارتباط خطي سالب
b) ليس هناك أي تجمعات
c) التوقيت الفائز في 2016 سيكون حوالي 67.5
d) التوقيت الفائز في 2024 سيكون حوالي 46.5



3

معادلة المستقيم الأفضل تمثيلاً المرسوم هي

- a) $y = \frac{2}{7}x + 59$
b) $y = \frac{3}{2}x + 59$
c) $y = -\frac{3}{2}x + 59$
d) $y = \frac{3}{2}x + 75$

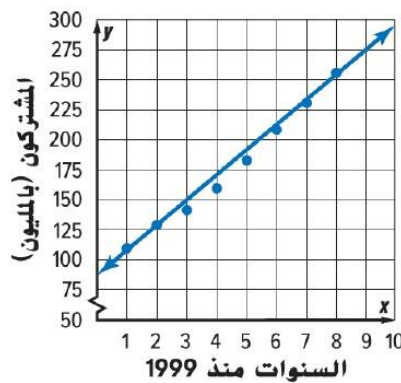


4

استخدم المستقيم الأفضل تمثيلاً الذي معادلته $y = 20.83x + 87.5$

لتخمين عدد المشتركين في خدمة الهاتف الخليوي في عام 2019

- a) 420.83 مليون مشترك
b) 504.1 مليون مشترك
c) 523.6 مليون مشترك
d) 457.24 مليون مشترك



5

يوجد 150 طلاب في معسكر صيفي و 71 منهم اشتركوا في نشاط السباحة. وكان هناك إجمالي 62 طالب اشتركوا في نشاط التجديف في قارب الكانو و 28 منهم اشتركوا كذلك في نشاط السباحة. ما هو العدد في المربع الأصفر؟

- a) 43
b) 88
c) 34
d) 45

	اشتركوا في التجديف	لم يشتركوا في التجديف	الإجمالي
اشتركوا في السباحة			
لم يشتركوا في السباحة			
الإجمالي			

6

ما عدد الأشخاص الذين يمتلكون هاتفًا خلويًا ولكنهم لا يمتلكون مشغل MP3؟

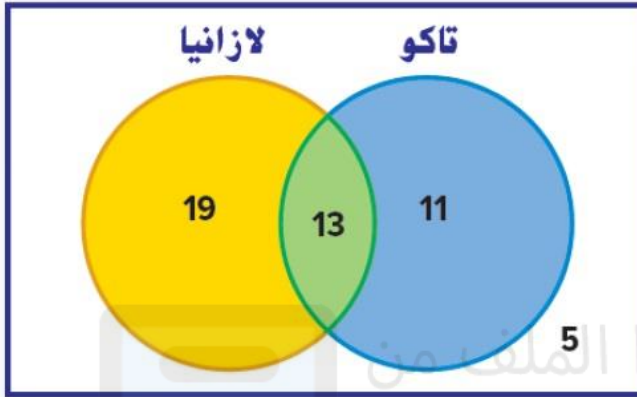
	لا يمتلكون مشغل MP3	يمتلكون مشغل MP3	الإجمالي
يمتلكون هاتفًا خلويًا	57		78
لا يمتلكون هاتفًا خلويًا	13	9	
الإجمالي			

- a) 21
b) 57

- c) 9
d) 13

7

عدد الأعضاء الذين لن يأكلوا التاكو = - - - -



a) 5

c) 19

b) 13

d) 24

8

الجملة الخاطئة في وصف البيانات فيما يلي:

	لا يمتلكون مشغل MP3	يمتلكون مشغل MP3	الإجمالي
يمتلكون هاتفًا خلويًا	21	57	78
لا يمتلكون هاتفًا خلويًا	9	13	22
الإجمالي	30	70	100

(a) أغلب الطلاب الذين يملكون هاتفًا خلويًا يمتلكون أيضًا مشغل MP3.

(b) أكثر من نصف الطلاب الذين لا يملكون هاتفًا خلويًا لا يمتلكون مشغل MP3.

(c) معظم الطلاب الذين يملكون مشغل MP3 يمتلكون أيضًا م هاتفًا خلويًا.

(d) أغلب الطلاب الذين لا يمتلكون مشغل MP3 يملكون هاتفًا خلويًا.



9

الوسط = - - - - -

كمية الأمطار الشهرية (مم)

66	72	70	74	64
65	60	62	66	67
68	17	70	72	73

a) 64.4

b) 70

c) 72.2

d) 68

10

الوسيط = - - - - -

كمية الأمطار الشهرية (مم)

66	72	70	74	64
65	60	62	66	67
68	17	70	72	73

a) 67

b) 70

c) 72

d) 68