

تم تحميل هذا الملف من موقع المناهج الإماراتية



* للحصول على أوراق عمل لجميع الصفوف وجميع المواد اضغط هنا

<https://almanahj.com/ae>

* للحصول على أوراق عمل لجميع مواد الصف الثامن اضغط هنا

<https://almanahj.com/ae/8>

* للحصول على جميع أوراق الصف الثامن في مادة اجتماعيات وجميع الفصول, اضغط هنا

<https://almanahj.com/ae/8>

* للحصول على أوراق عمل لجميع مواد الصف الثامن في مادة اجتماعيات الخاصة بـ اضغط هنا

<https://almanahj.com/ae/8>

* لتحميل كتب جميع المواد في جميع الفصول للـ الصف الثامن اضغط هنا

<https://almanahj.com/ae/grade8>

للتحدث إلى بوت المناهج على تلغرام: اضغط هنا

https://t.me/almanahj_bot

منطقة الظفرة



مدرسة النخبة


100 سؤال

مراجعة في مادة الاجتماعيات
الصف الثامن

الفصل الدراسي الثالث 3





اعداد أ / أيمن أحمد زقزوق





مراجعة الفصل الدراسي الثالث للصف الثامن في مادة الاجتماعيات اعداد - أيمن زقزوق	ID
<p>الموقع الجغرافي والظروف المناخية لدولة الامارات جعلها تتصف ب</p> <p>A. غنية في النباتات</p> <p>B. فقيرة في النباتات</p> <p>C. متنوعة في النباتات</p>	<p>1</p> 
<p>من أشجار البيئة الساحلية في الامارات</p> <p>A. شجرة السمر</p> <p>B. شجرة الشوع</p> <p>C. شجرة المانجروف</p>	<p>2</p> 
<p>ينمو نبات القرم في</p> <p>A. الحد الفاصل بين البحر واليابسة</p> <p>B. قمم الجبال</p> <p>C. الوديان والسهول المنخفضة</p>	<p>3</p> 
<p>نبات يعتبر نظام بيئي متكامل وقادر علي مقاومة الظروف الصعبة</p> <p>A. نبات عكرش</p> <p>B. نبات نجم</p> <p>C. نبات المانجروف</p>	<p>4</p> 

مراجعة الفصل الدراسي الثالث للصف الثامن في مادة الاجتماعيات اعداد - أيمن زقزوق	ID
<p style="text-align: center;">أشجار القرم في الامارات تسمى بالقرم</p> <p>A. الاحمر</p> <p>B. الاسود</p> <p>C. الرمادي</p>	<p>5</p> 
<p style="text-align: center;">من الفوائد الاقتصادية لنبات القرم</p> <p>A. علف للماشية</p> <p>B. صناعة الادوية</p> <p>C. غذاء للانسان</p>	<p>6</p> 
<p style="text-align: center;">تتم زراعة نبات القرم بطريقتين</p> <p>A. طريقة البذور وطريقة الشتل</p> <p>B. طريقة الغرس وطريقة الشتل</p> <p>C. طريقة الصوب وطريقة التطعيم</p>	<p>7</p> 
<p style="text-align: center;">من مميزات شجرة القرم</p> <p>A. الخضرة الدائمة</p> <p>B. تساقط الأوراق مع شدة الحرارة</p> <p>C. تنمو في المرتفعات الجبلية</p>	<p>8</p> 


ID	مراجعة الفصل الدراسي الثالث للصف الثامن في مادة الاجتماعيات اعداد - أيمن زقزوق
9	<p>من الفوائد البيئية لشجرة القرم</p> <p>A. حاضنة للأسماك والروبيان</p> <p>B. وقف زحف الرمال</p> <p>C. توفير الظل</p>
10	<p>نبات معمر سيقانه متفرعة بغزارة وأوراقه بيضويه الشكل</p> <p>A. نبات الهرم</p> <p>B. نبات نجم</p> <p>C. نبات عكرش</p>
11	<p>نبات سيقانه كثيفة ويوجد في السبخات ويتحمل الملوحة</p> <p>A. نبات القرم</p> <p>B. نبات نجم</p> <p>C. نبات الشيح</p>
12	<p>نبات ينمو في الأرض الملحية وغذاء للإنسان</p> <p>A. نبات عكرش</p> <p>B. نبات نجم</p> <p>C. نبات الحميض</p>

ID	مراجعة الفصل الدراسي الثالث للصف الثامن في مادة الاجتماعيات اعداد - أيمن زقزوق
13	<p>تنمو النباتات الجبلية في مناطق</p> <p>A. ليوا والسلع</p> <p>B. ابوظبي ودلما</p> <p>C. دبا وشعم</p>
14	<p>من فوائد النباتات الجبلية</p> <p>A. صناعة الادوية</p> <p>B. صناعة الزيوت الغذائية</p> <p>C. صناعة السكر</p>
15	<p>اصدر أمرا بمنع قطع شجرة السمر عند التوسع العمراني</p> <p>A. الشيخ زايد رحمه الله</p> <p>B. الشيخ خليفة</p> <p>C. الشيخ محمد بن زايد</p>
16	<p>الشجرة التي لها مكانة كبيرة في نفوس أهل الامارات</p> <p>A. شجرة الأراك</p> <p>B. شجرة المانجروف</p> <p>C. شجرة السمر</p>

مراجعة الفصل الدراسي الثالث للصف الثامن في مادة الاجتماعيات اعداد - أيمن زقزوق	ID
<p>تسمي شجرة السمر بشجرة</p> <p>A. الرضوان</p> <p>B. الرحمة</p> <p>C. الفتح</p>	<p>17</p> 
<p>الشجرة التي بايع تحتها سيدنا محمد صلى الله عليه وسلم الصحابة في صلح الحديبية هي شجرة</p> <p>A. السمر</p> <p>B. الغاف</p> <p>C. السدر</p>	<p>18</p> 
<p>من مميزات شجرة السمر</p> <p>A. تحد من زحف الرمال وسرعة الرياح</p> <p>B. مجتمع أحيائي متكامل</p> <p>C. تقاوم الملوحة</p>	<p>19</p> 
<p>شجرة أوصي باستخدامها في التجميل لقدرتها علي تحمل البيئة القاسية</p> <p>A. شجرة الشوع</p> <p>B. شجرة الغاف</p> <p>C. شجرة الاراك</p>	<p>20</p> 

مراجعة الفصل الدراسي الثالث للصف الثامن في مادة الاجتماعيات اعداد - أيمن زقزوق	ID
<p>نبات استخدم في صناعة اسقف المنازل وعلاج الجروح</p> <p>A. نبات عكرش</p> <p>B. نبات نجم</p> <p>C. نبات السبج</p>	<p>21</p> 
<p>من الإجراءات التي اتخذتها الامارات للحفاظ علي بيئة النباتات الطبيعية</p> <p>A. تنظيم أسبوع التشجير</p> <p>B. استخدام الاسمدة</p> <p>C. التوسع في الصيد</p>	<p>22</p> 
<p>تقع قارة أمريكا اللاتينية في نصف الكرة</p> <p>A. الشمالي</p> <p>B. الشرقي</p> <p>C. الغربي</p>	<p>23</p> 
<p>عدد دوائر العرض في قارة أمريكا اللاتينية</p> <p>A. 77 دائرة عرضية</p> <p>B. 88 دائرة عرضية</p> <p>C. 99 دائرة عرضية</p>	<p>24</p> 

مراجعة الفصل الدراسي الثالث للصف الثامن في مادة الاجتماعيات اعداد - أيمن زقزوق	ID
<p>دائرة العرض الرئيسية المارة في جنوب قارة أمريكا الجنوبية</p> <p>A. مدار السرطان</p> <p>B. مدار الجدي</p> <p>C. خط الاستواء</p>	<p>25</p> 
<p>تطل قارة أمريكا الجنوبية من الغرب على</p> <p>A. المحيط الأطلنطي</p> <p>B. البحر الكاريبي</p> <p>C. المحيط الهادي</p>	<p>26</p> 
<p>يقع المناخ الاستوائي في قارة أمريكا اللاتينية في</p> <p>A. حوض الامازون</p> <p>B. هضبة بتاجونيا</p> <p>C. شمال المكسيك</p>	<p>27</p> 
<p>تسمى السلسلة الجبلية الواقعة في غرب قارة أمريكا اللاتينية</p> <p>A. جبال الروكي</p> <p>B. جبال الانديز</p> <p>C. جبال الألب</p>	<p>28</p> 

مراجعة الفصل الدراسي الثالث للصف الثامن في مادة الاجتماعيات اعداد - أيمن زقزوق	ID
<p>يتنوع المناخ في قارة أمريكا اللاتينية بسبب</p> <p>A. اتساع المساحة</p> <p>B. ضيق المساحة</p> <p>C. ضيق اليابس في جنوب القارة</p>	<p>29</p> 
<p>ينتشر الإقليم شبه الصحراوي في</p> <p>A. هضبة جيانا</p> <p>B. هضبة بتاجونيا</p> <p>C. هضبة المكسيك</p>	<p>30</p> 
<p>يوجد إقليم البحر المتوسط في قارة أمريكا اللاتينية في</p> <p>A. شمال الأرجنتين</p> <p>B. وسط شيلي</p> <p>C. جنوب البرازيل</p>	<p>31</p> 
<p>الرياح التي تلعب دورا كبيرا في مناخ قارة أمريكا اللاتينية</p> <p>A. الرياح التجارية</p> <p>B. الرياح الموسمية</p> <p>C. الرياح الغربية العكسية</p>	<p>32</p> 

ID	مراجعة الفصل الدراسي الثالث للصف الثامن في مادة الاجتماعيات اعداد - أيمن زقزوق
33	<p>من الأنهار التي تجري في قارة أمريكا اللاتينية</p> <p>A. نهر باراجواي</p> <p>B. نهر المسيسيبي</p> <p>C. نهر السند</p>
34	<p>النهر الذي يفصل بين الولايات المتحدة والمكسيك نهر</p> <p>A. الامازون</p> <p>B. ريوجراندي</p> <p>C. المسيسيبي</p>
35	<p>السهول الغربية اقل اتساعا من السهول الشرقية في قارة أمريكا اللاتينية بسبب</p> <p>A. غزارة الامطار</p> <p>B. التيارات البحرية</p> <p>C. وجود الجبال</p>
36	<p>الدولتان اللتان احتلتا قارة أمريكا اللاتينية هما</p> <p>A. أسبانيا والبرتغال</p> <p>B. إنجلترا وفرنسا</p> <p>C. ألمانيا وإيطاليا</p>


ID	مراجعة الفصل الدراسي الثالث للصف الثامن في مادة الاجتماعيات اعداد - أيمن زقزوق
37	<p>معظم سكان قارة أمريكا اللاتينية يتحدثوا اللغتين</p> <p>A. الإنجليزية والفرنسية</p> <p>B. الألمانية والروسية</p> <p>C. الإسبانية والبرتغالية</p>
38	<p>يمثل سكان قارة أمريكا اللاتينية نحو</p> <p>A. 6 % من سكان العالم</p> <p>B. 7 % من سكان العالم</p> <p>C. 8 % من سكان العالم</p>
39	<p>هاجروا الي قارة أمريكا اللاتينية واستعمروها</p> <p>A. الزنوج</p> <p>B. الهنود الحمر</p> <p>C. البيض</p>
40	<p>من العوامل المؤثرة في مناخ قارة أمريكا اللاتينية</p> <p>A. النشاط السكاني</p> <p>B. التيارات البحرية</p> <p>C. اتساع مساحة المراعي</p>





مراجعة الفصل الدراسي الثالث للصف الثامن في مادة الاجتماعيات اعداد - أيمن زقزوق	ID
<p>تتصف السهول الساحلية في قارة أمريكا اللاتينية بأنها</p> <p>A. قليلة التعاريج</p> <p>B. كثيرة التعارية</p> <p>C. كثرة الخلجان والافوار</p>	<p>41</p> 
<p>تتصف المرتفعات في قارة أمريكا اللاتينية بأنها</p> <p>A. تصل بين الدول</p> <p>B. معتدلة المناخ</p> <p>C. خالية من النشاط الاقتصادي</p>	<p>42</p> 
<p>الغابات المنتشرة في البرازيل من نوع الغابات</p> <p>A. الاستوائية</p> <p>B. المعتدلة</p> <p>C. الباردة</p>	<p>43</p> 
<p>الحشائش المدارية في قارة أمريكا اللاتينية تتمثل في حشائش</p> <p>A. الاستبس</p> <p>B. التندرا</p> <p>C. الانوس</p>	<p>44</p> 

ID	مراجعة الفصل الدراسي الثالث للصف الثامن في مادة الاجتماعيات اعداد - أيمن زقزوق
45	<p>من شجيرات البحر المتوسط في قارة أمريكا اللاتينية أشجار</p> <p>A. الأبنوس</p> <p>B. الماهوجني</p> <p>C. البلوط</p>
46	<p>من أسباب تواضع استغلال المعادن في قارة أمريكا اللاتينية</p> <p>A. كثرة المسوح الجيولوجية</p> <p>B. توافر رؤوس الأموال</p> <p>C. نهب معظم الثروات من قبل الدول الاستعمارية</p>
47	<p>ينتج خام البوكسيت من</p> <p>A. المكسيك</p> <p>B. كوبا</p> <p>C. سورينام</p>
48	<p>يمثل انتاج المساقط المائية في قارة أمريكا اللاتينية نحو</p> <p>A. 5 % من الإنتاج العالمي</p> <p>B. نحو 6 % من الإنتاج العالمي</p> <p>C. نحو 7 % من الإنتاج العالمي</p>





مراجعة الفصل الدراسي الثالث للصف الثامن في مادة الاجتماعيات اعداد - أيمن زقزوق	ID
<p style="text-align: center;">الطاقة الكهربائية هي الطاقة المولدة من</p> <p>A. الفحم والنفط</p> <p>B. الرياح</p> <p>C. الماء</p>	<p>49</p> 
<p style="text-align: center;">تنتج الطاقة النووية في قارة أمريكا اللاتينية من</p> <p>A. تشيلي</p> <p>B. السلفادور</p> <p>C. الأرجنتين</p>	<p>50</p> 
<p style="text-align: center;">يعمل بالزراعة في قارة أمريكا اللاتينية نحو</p> <p>A. 30 % من الأيدي العاملة</p> <p>B. 40 % من الأيدي العاملة</p> <p>C. 50 % من الأيدي العاملة</p>	<p>51</p> 
<p style="text-align: center;">من المحاصيل النقدية في قارة أمريكا اللاتينية</p> <p>A. القمح</p> <p>B. البن</p> <p>C. الحمضيات</p>	<p>52</p> 

ID	مراجعة الفصل الدراسي الثالث للصف الثامن في مادة الاجتماعيات اعداد - أيمن زقزوق
53	<p>من الصفات التي تتصف بها الثروة الحيوانية في قارة أمريكا اللاتينية</p> <p>A. عدم استخدام التقنيات العلمية الحديثة</p> <p>B. ضخامة الانتاج</p> <p>C. تشكل أهمية كبرى لمعظم دول القارة</p>
54	<p>يبلغ نسبة العاملين في قطاع الصناعة في قارة أمريكا اللاتينية نحو</p> <p>A. 23 % من اجمالي القوى العاملة</p> <p>B. 24 % من اجمالي القوى العاملة</p> <p>C. 25 % من اجمالي القوى العاملة</p>
55	<p>من مميزات النشاط الصناعي في قارة أمريكا اللاتينية</p> <p>A. وفرة الأيدي العاملة الرخيصة</p> <p>B. قلة مصادر الطاقة</p> <p>C. قلة الاستثمار في مجال الصناعة</p>
56	<p>من الصناعات الاستخراجية في قارة أمريكا اللاتينية</p> <p>A. انتاج الكهرباء</p> <p>B. الحديد والصلب</p> <p>C. النفط والغاز</p>





مراجعة الفصل الدراسي الثالث للصف الثامن في مادة الاجتماعيات اعداد - أيمن زقزوق	ID
<p>أكبر دول أمريكا اللاتينية من حيث المساحة وعدد السكان</p> <p>A. البرازيل</p> <p>B. الأرجنتين</p> <p>C. المكسيك</p>	<p>57</p> 
<p>الهدف من تعزيز العلاقات الإماراتية البرازيلية</p> <p>A. ضمان رعاية المواطنين في الخارج</p> <p>B. ضمان تدفق الاستثمارات البرازيلية</p> <p>C. ضمان استمرارية استيراد الدجاج من البرازيل</p>	<p>58</p> 
<p>الهدف من مشروع الامارات للمريخ</p> <p>A. استثمار حقيقي لأجيالنا في المستقبل</p> <p>B. التوسع والاستيطان</p> <p>C. إقامة مشروعات تنموية</p>	<p>59</p> 
<p>من الاتفاقيات الموقعة بين الامارات والبرازيل</p> <p>A. اتفاقية التعاون الرياضي</p> <p>B. اتفاقية التعاون العسكري</p> <p>C. اتفاقية التعاون في المجالات الاجتماعية</p>	<p>60</p> 

مراجعة الفصل الدراسي الثالث للصف الثامن في مادة الاجتماعيات اعداد - أيمن زقزوق	ID
<p>القناة التي تصل بين البحر الكاريبي والمحيط الهادي هي قناة</p> <p>A. السويس</p> <p>B. استاكويوس</p> <p>C. بنما</p>	<p>61</p> 
<p>دائرة العرض الرئيسية التي تمر في دولة الامارات</p> <p>A. مدار السرطان</p> <p>B. خط الاستواء</p> <p>C. مدار الجدي</p>	<p>62</p> 
<p>الدولة هي</p> <p>A. مساحة من الأرض تسمح بالانتاج الغذائي</p> <p>B. مساحة من الأرض بها موانع طبيعية</p> <p>C. مجموعة من الأفراد تعيش على مساحة محددة وتخضع لسلطة حاکمة</p>	<p>63</p> 
<p>من مقومات قيام الدولة</p> <p>A. الجبال</p> <p>B. الانهار</p> <p>C. السلطة السياسية</p>	<p>64</p> 

مراجعة الفصل الدراسي الثالث للصف الثامن في مادة الاجتماعيات اعداد - أيمن زقزوق	ID
<p data-bbox="842 210 1262 255">من أوجه الاختلافات بين الدول</p> <p data-bbox="533 277 1251 322">A. الموقع والمساحة</p> <p data-bbox="533 389 1251 434">B. نوع الغذاء</p> <p data-bbox="525 501 1251 546">C. حب السفر والرحلات</p>	<p data-bbox="1299 210 1339 244">65</p> 
<p data-bbox="826 658 1262 703">من العوامل الطبيعية لقيام الدول</p> <p data-bbox="525 725 1251 770">A. الموارد الاقتصادية</p> <p data-bbox="533 837 1251 882">B. السكان</p> <p data-bbox="525 949 1251 994">C. الموقع الجغرافي</p>	<p data-bbox="1299 658 1339 692">66</p> 
<p data-bbox="922 1050 1262 1095">الدولة البسيطة تتمثل في</p> <p data-bbox="533 1128 1251 1173">A. استراليا</p> <p data-bbox="533 1240 1251 1285">B. الولايات المتحدة</p> <p data-bbox="525 1352 1251 1397">C. الجزائر</p>	<p data-bbox="1299 1050 1339 1084">67</p> 
<p data-bbox="979 1442 1262 1487">الحدود السياسية هي</p> <p data-bbox="469 1520 1227 1565">A. خطوط ترسم على الخرائط لتحديد المناخ والنبات</p> <p data-bbox="365 1677 1227 1722">B. خطوط ترسم على الخرائط لتحديد طبيعة النشاط السكاني</p> <p data-bbox="413 1834 1227 1879">C. خطوط ترسم على الخرائط لتحديد نطاق سيادة الدولة</p>	<p data-bbox="1299 1442 1339 1476">68</p> 

مراجعة الفصل الدراسي الثالث للصف الثامن في مادة الاجتماعيات اعداد - أيمن زقزوق	ID
<p style="text-align: right;">من وظائف الحدود السياسية</p> <p>A. التواصل بين الشعوب</p> <p>B. إقامة مناطق سياحية</p> <p>C. حماية الدولة من الأمراض والأوبئة</p>	<p>69</p> 
<p style="text-align: right;">من الحدود التي تساير الظواهر الطبيعية</p> <p>A. الحدود بين الامارات والسعودية</p> <p>B. الحدود التي تستند للتكوين اللغوي</p> <p>C. الحدود التي تستند للجبال بين الدول الاسكندنافية</p>	<p>70</p> 
<p style="text-align: right;">المياه الإقليمية هي</p> <p>A. التي تحاذي سواحل الدولة</p> <p>B. التي تبعد عن سواحل الدولة داخل البحار</p> <p>C. التي تسير فيها السفن بحرية دون اذن مسبق</p>	<p>71</p> 
<p style="text-align: right;">عرض المياه الإقليمية</p> <p>A. 3 م فأكثر</p> <p>B. 3 كم فأكثر</p> <p>C. 3ميل بحري فأكثر</p>	<p>72</p> 

مراجعة الفصل الدراسي الثالث للصف الثامن في مادة الاجتماعيات اعداد - أيمن زقزوق	ID
<p>الدولة المفتوحة</p> <p>A. التي لا تطل على شواطئ البحار والمحيطات</p> <p>B. التي توجد بها جبال وأنهار</p> <p>C. الدولة التي تطل على شواطئ البحار والمحيطات</p>	<p>73</p> 
<p>صنف دولة الامارات حسب التالي</p> <p>A. دولة الامارات دولة حبيسة</p> <p>B. دولة الامارات دولة برية</p> <p>C. دولة الامارات دولة بحرية</p>	<p>74</p> 
<p>من خصائص الدولة المركبة من النوع الثاني</p> <p>A. اتحاد بين دولتين بالقوة العسكرية</p> <p>B. اتحاد بين دولتين لتأمين المصالح المشتركة</p> <p>C. اتحاد بين دولتين بسبب الاختلاف اللغوي</p>	<p>75</p> 
<p>الهرطقة هي</p> <p>A. المنطق والأدلة العقلية المسلم بها</p> <p>B. البدع أو الخروج على تعاليم الكنيسة</p> <p>C. الاعتدال وعدم المغالاة في الفكر</p>	<p>76</p> 

مراجعة الفصل الدراسي الثالث للصف الثامن في مادة الاجتماعيات اعداد - أيمن زقزوق	ID
<p>تعني كلمة النهضة الأوروبية</p> <p>A. التنمية الاقتصادية</p> <p>B. الحفاظ على الدين والتراث</p> <p>C. البعث أو الاحياء</p>	<p>77</p> 
<p>عصر النهضة</p> <p>A. فترة العصور الأولى بعد ميلاد السيد المسيح</p> <p>B. فترة الانتقال من العصر الحجري لعصر استخدام البرونز</p> <p>C. المرحلة مابين العصور الوسطى والعصور الحديثة</p>	<p>78</p> 
<p>أول دولة أوروبية ظهرت فيها النهضة هي</p> <p>A. إنجلترا</p> <p>B. فرنسا</p> <p>C. إيطاليا</p>	<p>79</p> 
<p>ظهرت النهضة الأوروبية في منتصف القرن</p> <p>A. 13</p> <p>B. 14</p> <p>C. 15</p>	<p>80</p> 

مراجعة الفصل الدراسي الثالث للصف الثامن في مادة الاجتماعيات اعداد - أيمن زقزوق	ID
<p style="text-align: right;">أسباب قيام النهضة الأوروبية</p> <p>A. قوة سلطة الكنيسة</p> <p>B. اكتشاف طريق رأس الرجاء الصالح</p> <p>C. ظهور المدن في مواجهة الاقطاع</p>	<p>81</p> 
<p style="text-align: right;">الانسانيون هم</p> <p>A. الذين اهتموا بالعلوم المجردة والبحث العلمي</p> <p>B. الذين اهتموا بدراسة حياة الانسان في كافة المجالات</p> <p>C. الذين حاولوا البعد عن الدراسات الإنسانية</p>	<p>82</p> 
<p style="text-align: right;">فتحت القسطنطينية على يد السلطان</p> <p>A. محمد الفاتح</p> <p>B. سليمان القانوني</p> <p>C. مراد الثاني</p>	<p>83</p> 
<p style="text-align: right;">نتج عن فتح القسطنطينية</p> <p>A. توافد العلماء عليها</p> <p>B. هجرة العلماء منها</p> <p>C. انتشار اللغة العربية</p>	<p>84</p> 

ID	مراجعة الفصل الدراسي الثالث للصف الثامن في مادة الاجتماعيات اعداد - أيمن زقزوق
85	<p>من عوامل قيام النهضة الإيطالية</p> <p>A. وجود البابوية في روما</p> <p>B. انتشار القوانين والانظمة</p> <p>C. اتساع مساحة الأراضي الزراعية</p>
86	<p>نشأت المدن في أوروبا نتيجة</p> <p>A. ازدهار القوانين</p> <p>B. زيادة السكان</p> <p>C. نمو التجارة والصناعة</p>
87	<p>من الاختراعات التي ظهرت مع بداية عصر النهضة</p> <p>A. البارود</p> <p>B. الحاسوب</p> <p>C. آلة الاحتراق الداخلي</p>
88	<p>تطل قارة أوروبا من الغرب على</p> <p>A. البحر المتوسط</p> <p>B. المحيط الأطلنطي</p> <p>C. البحر الأسود</p>

ID	مراجعة الفصل الدراسي الثالث للصف الثامن في مادة الاجتماعيات اعداد - أيمن زقزوق
89	<p>تقترب قارة أوروبا من قارة افريقيا عند مضيق</p> <p>A. باب المندب</p> <p>B. ماجلان</p> <p>C. جبل طارق</p>
90	<p>تعني كلمة أوروبا</p> <p>A. شروق الشمس</p> <p>B. غروب الشمس</p> <p>C. منتصف النهار</p>
91	<p>الف كتاب الكوميديا الالهية</p> <p>A. دانتي اليجيرى</p> <p>B. جون كالفن</p> <p>C. ليوناردو دافينشي</p>
92	<p>الف كتاب مدح الجنون ونشر النسخة الاغريقية من الانجيل</p> <p>A. مايكل أنجلو</p> <p>B. مكيافيلي</p> <p>C. أرسموس الروتردامي</p>

مراجعة الفصل الدراسي الثالث للصف الثامن في مادة الاجتماعيات اعداد - أيمن زقزوق	ID
<p style="text-align: right;">قام برسم لوحة العشاء الأخير</p> <p>A. أرسموس الروترdami</p> <p>B. مكيا فيلي</p> <p>C. ليوناردو دافينشي</p>	<p>93</p> 
<p style="text-align: right;">قام بإنجاز لوحة من الجص في كنيسة القديس بول</p> <p>A. ميكافيلي</p> <p>B. مايكل أنجلو</p> <p>C. دانتي أليجيري</p>	<p>94</p> 
<p style="text-align: right;">ألف كتاب الأمير</p> <p>A. مايكل أنجلو</p> <p>B. دانتي</p> <p>C. ميكافيلي</p>	<p>95</p> 
<p style="text-align: right;">من رواد المجال الديني</p> <p>A. دانتي</p> <p>B. مايكل أنجلو</p> <p>C. جون كالفن</p>	<p>96</p> 

مراجعة الفصل الدراسي الثالث للصف الثامن في مادة الاجتماعيات اعداد - أيمن زقزوق	ID
<p>الف كتاب تأسيس الديانة المسيحية</p> <p>A. كوبرنيكوس</p> <p>B. جون كالفن</p> <p>C. مكيافيلي</p>	<p>97</p> 
<p>من رواد المجال العلمي</p> <p>A. كوبرنيكوس</p> <p>B. جون كالفن</p> <p>C. ليوناردو دافنشي</p>	<p>98</p> 
<p>عالم بولندي خالف آراء بطليموس بأن الأرض ساكنة</p> <div style="display: flex; justify-content: space-around; align-items: center;"> <div style="text-align: center;"> <p>C</p>  </div> <div style="text-align: center;"> <p>B</p>  </div> <div style="text-align: center;"> <p>A</p>  </div> </div>	<p>99</p> 
<p>الصورة التالية تعبر عن</p> <div style="display: flex; align-items: center;">  <div style="margin-left: 20px;"> <p>A. متحف اللوفر أبوظبي</p> <p>B. مكتبة الاسكندرية</p> <p>C. مسجد الشيخ زايد</p> </div> </div>	<p>100</p> 