

تم تحميل هذا الملف من موقع المناهج الإماراتية



موقع
المناهج الإماراتية

www.alManahj.com/ae

* للحصول على أوراق عمل لجميع الصفوف وجميع المواد اضغط هنا

<https://almanahj.com/ae>

* للحصول على أوراق عمل لجميع مواد الصف الثامن اضغط هنا

<https://almanahj.com/ae/8>

* للحصول على جميع أوراق الصف الثامن في مادة اجتماعيات ولجميع الفصول, اضغط هنا

<https://almanahj.com/ae/8social>

* للحصول على أوراق عمل لجميع مواد الصف الثامن في مادة اجتماعيات الخاصة بـ الفصل الأول اضغط هنا

<https://almanahj.com/ae/8social1>

* لتحميل كتب جميع المواد في جميع الفصول للـ الصف الثامن اضغط هنا

<https://almanahj.com/ae/grade8>

للحصول على جميع روابط الصفوف على تلغرام وفيسبوك من قنوات وصفحات: اضغط هنا

https://t.me/UAElinks_bot

أسئلة مراجعة الصف الثامن- الفصل الأول

- ضع إشارة (√) أمام الإجابة الصحيحة و (x) أما الإجابة الخطأ .
- 1-من انجازات الدولة في مجال الأمن الوطني إنشاء هيئة الأمن الإلكتروني . ()
 - 2- المحددات الثلاث لمؤشر التنمية البشرية الصحة و التعليم و مستوى العيش . ()
 - 3-من مظاهر الوحدة الوطنية البنية الثقافية . ()
 - 4-الجزر الإماراتية الثلاث المحتلة هي طناب الكبرى و طناب الصغرى و أبو موسى. ()
 - 5-من الناحية الاقتصادية يتوفر في الجزر الإماراتية المحتلة كميات كبيرة من أكسيد الحديد الأحمر و نبط خام . ()
 - 6-يقصد بالقوة الصلبة ب القوة العسكرية و الحروب الشاملة . ()
 - 7-الثقافة المصدر الأول لقوة الدول الناعمة هي ثقافتها و موروثها الحضاري و فنونها . ()
 - 8-تشكل مجلس القوة الناعمة في الإمارات في أبريل عام 2017م . ()
 - 9-معالي محمد بن عبدالله القرقاوي وزير شؤون مجلس الوزراء و المستقبل هو رئيس مجلس القوة الناعمة . ()
 - 10-علم السكان علم حديث و ليس له أي جذور قديمة . ()
 - 11-عدد الإناث في الإمارات يفوق عدد الذكور . ()
 - 12-عدد سكان الإمارات وصل في عام 2016 قرابة 10.000.000 ()
 - 13- كبار السن هي الفئة العمرية بين 60 سنة و أكثر . ()
 - 14-التربة الرسوبية تعتبر من الترب الطاردة للسكان . ()
 - 15-يتركز ما يقارب 70% من سكان الإمارات على السواحل . ()
 - 16-النفط يعتبر مصجر الطاقة التي أدري إلى ظهوره إلى الثورة الصناعية . ()
 - 17-المسكن التقليدي هو ما يسمى ببيوت العريش و الخيام . ()
 - 18- برج خليفة هو أطول برج في العالم الذي يقع في دبي . ()
 - 19-تقع مدن كلباء و خورفكان على الساحل الغربي المطل على بحر عمان . ()
 - 20-منطقة الطويين تعتبر من مناطق المرتفعات الجبلية في الإمارات . ()

عرف المصطلحات من خلال دراستك و فهمك .

1-الأمن الوطني :

.....

2-التنمية البشرية:

.....

3-الخدمة الوطنية :

.....

4-القوة الناعمة :

.....

5-هيئة الأمم المتحدة :

.....

6-التعلم الذكي :

.....

7-التعلم الذكي :

.....

8-النظام الاقتصادي :

.....

9-صندوق الزكاة :

.....

10-النمو العمراني :

.....

اقرأ ثم أجب .

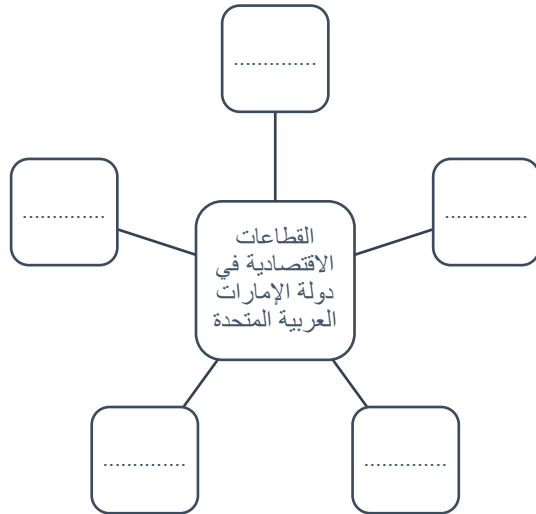
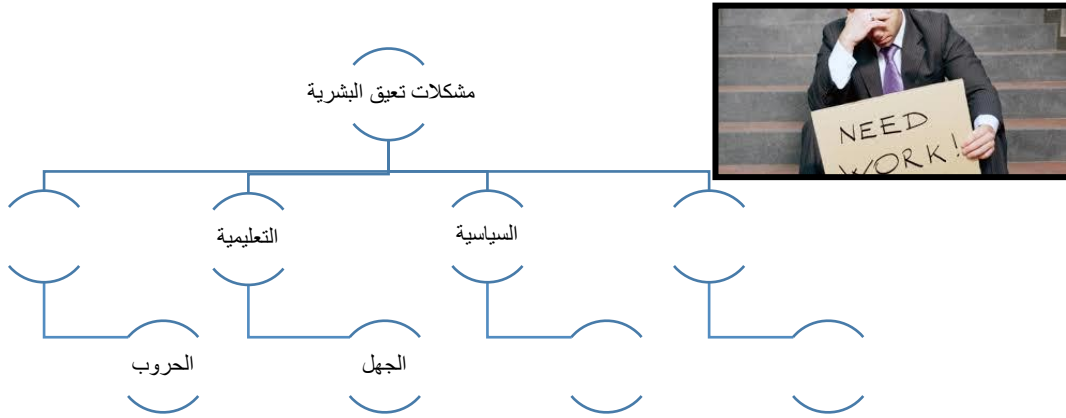
من أهداف الخدمة الوطنية

1-تعزيز الولاء و الانتماء و حب الوطن .

2-تحصين الشباب ضد التيارات و المعتقدات الفكرية و الدينية الهدامة .

.....	أكتب هدفاً ثالثاً
.....	أحدد الهدف الأكثر أهمية برأي
.....	لماذا تعتبره الأهم ؟

اقرأ المخططات الذهنية التالية و استكمل الناقص فيها مستنداً بالصور المدعمة :



سجل أكبر عدد ممكن من القيم التي تحملها الصورة من وجهة نظرك :



.....

.....

.....

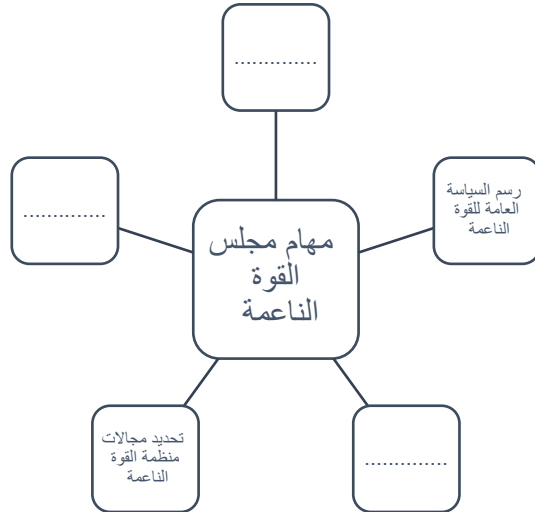
.....

.....

.....

كون مخططاً ذهنياً للأجهزة الأمنية في دولة الإمارات :

.....



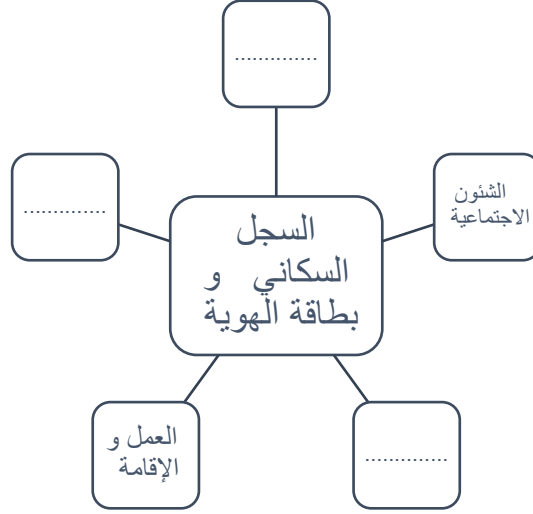
رتب على خريطة العالم قارات العالم من حيث عدد السكان من الأكثر رقم 1 إلى الأقل سكاناً رقم 6 :



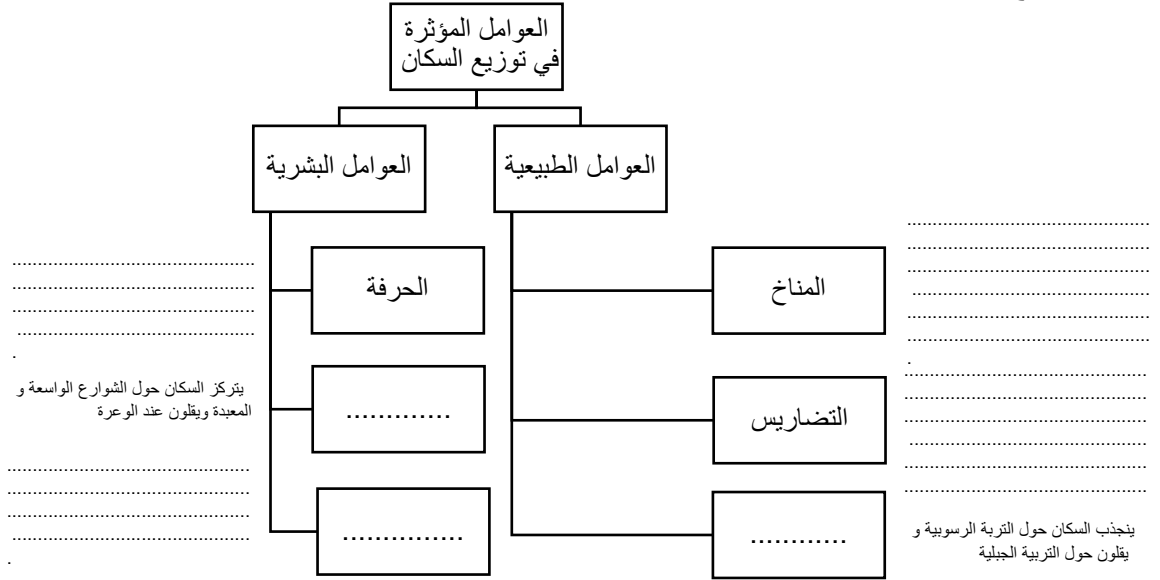
حدد على خريطة الإمارات مناطق الاستقرار السكاني في دولة الإمارات العربية المتحدة .



من خلال دراستك و تعرفك على بطاقة الهوية ، وضح الجهات التي تم ربطها ببطاقة الهوية :



أكمل ما يناسب الفراغات في المخطط الذهني التالي عن العوامل المؤثرة في توزيع السكان و وضح إن لزم كيف تؤثر بالشرح :



عبر في خريطة العالم الفرق بين الهجرة الداخلية و الهجرة الخارجية

