

## اختبار علوم الوحدة العاشرة الجيولوجيا والتأريخ غير محلول



### تم تحميل هذا الملف من موقع المناهج الإماراتية

موقع المناهج ← المناهج الإماراتية ← الصف الثامن ← علوم ← الفصل الثالث ← ملفات متنوعة ← الملف

تاريخ إضافة الملف على موقع المناهج: 22:09:19 2026-04-28

ملفات اكتب للمعلم اكتب للطالب | اختبارات الكترونية | اختبارات | حلول | عروض بوربوينت | أوراق عمل  
منهج انجليزي | ملخصات وتقارير | مذكرات وبنوك | الامتحان النهائي للمدرس

المزيد من مادة  
علوم:

### التواصل الاجتماعي بحسب الصف الثامن



صفحة المناهج  
الإماراتية على  
فيسبوك

الرياضيات

اللغة الانجليزية

اللغة العربية

التربية الاسلامية

المواد على تلغرام

### المزيد من الملفات بحسب الصف الثامن والمادة علوم في الفصل الثالث

اختبار علوم الوحدة العاشرة الجيولوجيا والتأريخ غير محلول

1

ملزمة جميع دروس ووحدات الفصل الثالث منهج انسباير

2

ملزمة جميع دروس ووحدات الفصل الثالث منهج بريدج

3

أسئلة الامتحان النهائي القسم الالكتروني منهج بريدج

4

أسئلة الامتحان النهائي القسم الورقي منهج بريدج

5



وزارة التربية والتعليم  
MINISTRY OF EDUCATION

# اختبار العلوم الصف الثامن الوحدة الحادية عشرة الفصل الثالث 2025-2026

احجز مكانك واستعد للامتحان بثقة كاملة

احصل على الشرح الكامل للصف من خلال:

التواصل والحجز عبر الـ Whatsapp  
اضغط على الرقم: 0566410429

للتواصل والحجز



للانتقال إلى المواقع  
اضغط هنا

شرح الدروس



انضم للقناة



NOLOGIA

## يمكنكم الحصول على

شرح دروس  
الفصل كاملاً

ب 99  
درهم فقط

ملزمة محلولة  
بالكامل

اختبارات مع الحل

إن الاشتراك شامل لكامل الفصل الدراسي

لا تتردد في التواصل  
معنا قم بمسح ال QR



احصل على الشرح الكامل للصف من خلال:  
التواصل والحجز عبر ال-Whatsapp  
اضغط على الرقم: 0566991363

للتواصل اضغط الرقم:  
0566410429

**NOLOGIA**

اضغط على الاسم لتحصل على مزيد من  
الملفات في تلغرام: **NOLOGIA**

## اختبار الوحدة الحادية عشرة

الأسئلة الموضوعية - MCQ



لا تتردد في التواصل  
معنا قم بمسح ال QR

احصل على الشرح الكامل للصف من خلال:

التواصل والحجز عبر الـ Whatsapp

اضغط على الرقم: 0566410429



**NOLOGIA**

للتواصل اضغط الرقم: 0566410429

احصل على الشرح كاملاً بـ 99 درهم فقط

السؤال 1:

على أي أساس اختار الجيولوجيون الحدود الزمنية في المقياس الجيولوجي؟

- |   |
|---|
| A. بناءً على ما لاحظوه في الطبقات الصخرية والأحافير المختلفة. |
| B. بناءً على التغيرات في درجات الحرارة فقط.                   |
| C. بناءً على حركة القارات الحالية.                            |
| D. بناءً على عمق المحيطات.                                    |

السؤال 2:

ماذا يمثل "الانقراض الجماعي" في السجل الأحفوري؟

- |   |
|---|
| A. تطور مفاجئ لأنواع جديدة من الديناصورات.                        |
| B. تجمد المحيطات بالكامل.   |
| C. فترات تموت فيها أعداد كبيرة من الكائنات الحية خلال فترة قصيرة. |
| D. هجرة الكائنات من قارة إلى أخرى.                                |

السؤال 3:

ما هي النسبة التي يمثلها عصر "ما قبل الكامبري" من تاريخ الأرض؟

- |        |
|--------|
| A. 10% |
| B. 50% |
| C. 90% |
| D. 25% |

السؤال 4:

ما هي الميزة التطورية التي ساعدت "الزواحف" على التكاثر بعيداً عن الماء في نهاية حقبة الحياة القديمة؟

A. جلودها السميكة فقط.
B. بيضها الذي يتمتع بقشور صلبة جلدية تحميها من الجفاف.
C. القدرة على الطيران.
D. عيشها في مستنقعات الفحم.

السؤال 5:

أي من الكائنات التالية ظهرت لأول مرة خلال "الانفجار الكامبري"؟

A. البكتيريا وحيدة الخلية.
B. الإنسان العاقل.
C. المفصليات ثلاثية الفصوص
D. الثدييات الكبيرة.

السؤال 6:

ما المقصود بـ "البحر الداخلي" الذي تشكل في بداية حقبة الحياة القديمة؟

A. بحيرة صغيرة وسط الغابات.
B. مسطح مائي تشكل عندما غمرت مياه المحيط القارات.
C. خندق عميق في قاع المحيط.
D. نهر جليدي متحرك.

السؤال 7:

ما هو السبب المفترض لانقراض الديناصورات في نهاية حقبة الحياة الوسطى؟

A. تجمد الأرض المفاجئ.
B. اصطدام حجر نيزكي ضخم بالأرض أدى لحجب ضوء الشمس.
C. جفاف المحيطات تماماً.
D. ظهور الإنسان واصطيادها.

السؤال 8:

خلال "العصر الجليدي البليستوسيني"، كم بلغت نسبة المساحة التي غطاها الجليد من سطح الأرض؟

A. 10%
B. 30%
C. 75%
D. 100%

السؤال 9:

يستخدم العلماء مبدأ "الوتيرة الواحدة" لمقارنة الأحافير القديمة بالكائنات الحية الحالية بهدف:

A. معرفة وزن الكائنات القديمة.
B. دراسة البيئات القديمة التي عاشت فيها.
C. تحديد سرعة تحلل الصخور.
D. قياس كمية الكربون في الغلاف الجوي.

السؤال 10:

يمثل أحفور التريلوبيت كائناً حياً كان يعيش خلال العصر الكامبري. بما يتميز هذا الكائن الحي عن الكائنات الحية التي عاشت في وقت سابق من الزمان؟



A. كان يعيش على اليابسة.

B. كانت لديه أجزاء صلبة.

C. كان من الزواحف.

D. كان متعدد الخلايا.

السؤال 11:

علام تستند التقسيمات العديدة في المقياس الزمني الجيولوجي؟

A. التغيرات في السجل الأحفوري كل مليار

عام.

B. التغيرات المفاجئة في السجل الأحفوري.

C. التغيرات في السجل الأحفوري كل مليون

عام.

D. التغيرات التدريجية في السجل الأحفوري.

السؤال 12:


ما الأمر غير الواقعي في صورة هذا الطابع البريد؟

A. لم تكن الديناصورات كبيرة بهذا الحجم.

B. لم يعيش البشر مع الديناصورات.

C. لم تكن لدى الديناصورات رقاب طويلة.

D. لم يستخدم البشر الأدوات الحجرية.



السؤال 13:

ما العدة التي دام فيها العصر الكامبري تقريباً؟



- A. 0.5 مليار عام
- B. 4.0 مليارات عام
- C. 3.5 مليارات عام
- D. 4.25 مليارات عام

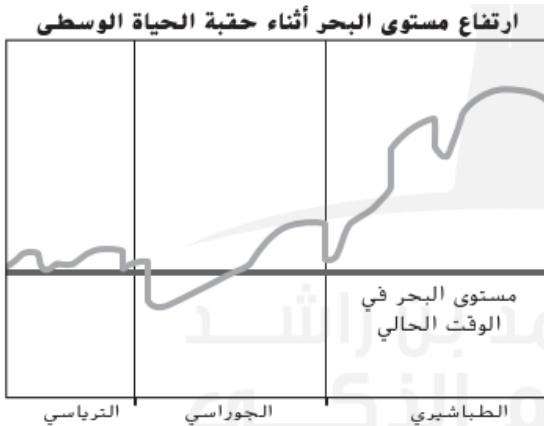
السؤال 14:

ما أصغر وحدة في الزمن الجيولوجي؟

A. العهد
B. الدهر
C. الحقبة
D. العصر

السؤال 15:

استناداً إلى الرسم التخطيطي، متى غطت البحار الداخلية أكثر قارات الأرض؟

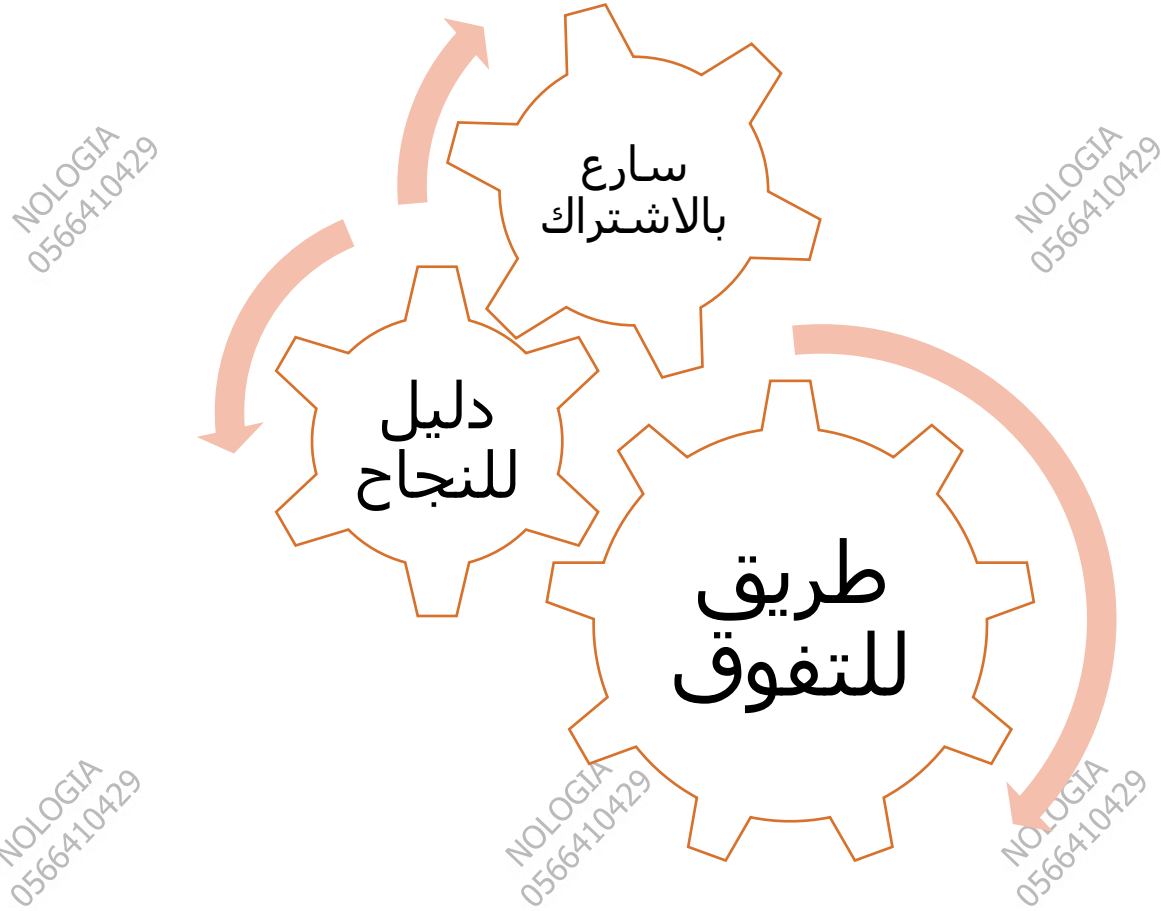


- A. بداية العصر الجوراسي
- B. نهاية العصر الطباشيري
- C. منتصف العصر الترياسي
- D. بداية العصر الطباشيري

للتواصل اضغط الرقم:  
**0566410429**

**NOLOGIA**

اضغط على الاسم لتحصل على مزيد من  
الملفات في تلغرام: **NOLOGIA**



للحجز التواصل عبر الـ Whatsapp من خلال الضغط على الرقم:

**0566410429**

مع أطيب التمنيات بالنجاح والتوفيق ...

النهاية ...

للتواصل اضغط الرقم: **0566410429**

احصل على الشرح كاملاً بـ 99 درهم فقط