

منهج ريفيل اختبار الوحدة العاشرة الإحصاء والتمثيلات البيانية غير محلول



تم تحميل هذا الملف من موقع المناهج الإماراتية

موقع المناهج ← المناهج الإماراتية ← الصف الثامن ← علوم ← الفصل الثالث ← ملفات متنوعة ← الملف

تاريخ إضافة الملف على موقع المناهج: 2026-04-28 16:28:17

ملفات اكتب للمعلم اكتب للطالب | اختبارات الكترونية | اختبارات | حلول | عروض بوربوينت | أوراق عمل
منهج انجليزي | ملخصات وتقارير | مذكرات وبنوك | الامتحان النهائي للمدرس

المزيد من مادة
علوم:

التواصل الاجتماعي بحسب الصف الثامن



صفحة المناهج
الإماراتية على
فيسبوك

الرياضيات

اللغة الانجليزية

اللغة العربية

التربية الاسلامية

المواد على تلغرام

المزيد من الملفات بحسب الصف الثامن والمادة علوم في الفصل الثالث

ملزمة جميع دروس ووحدات الفصل الثالث منهج انسابير

1

ملزمة جميع دروس ووحدات الفصل الثالث منهج بريدج

2

أسئلة الامتحان النهائي القسم الالكتروني منهج بريدج

3

أسئلة الامتحان النهائي القسم الورقي منهج بريدج

4

أسئلة الامتحان النهائي القسم الورقي منهج انسابير بدون الحل

5



وزارة التربية والتعليم
MINISTRY OF EDUCATION

اختبار العلوم الصف الثامن الوحدة العاشرة الفصل الثالث 2025-2026

احجز مكانك واستعد للامتحان بثقة كاملة

احصل على الشرح الكامل للصف من خلال:

التواصل والحجز عبر الـ Whatsapp
اضغط على الرقم: 0566410429

للتواصل والحجز



للانتقال إلى المواقع
اضغط هنا

شرح الدروس



انضم للقناة



NOLOGIA

يمكنكم الحصول على

شرح دروس
الفصل كاملاً

ب 99
درهم فقط

ملزمة محلولة
بالكامل

اختبارات مع الحل

إن الاشتراك شامل لكامل الفصل الدراسي

لا تتردد في التواصل
معنا قم بمسح ال QR



احصل على الشرح الكامل للصف من خلال:
التواصل والحجز عبر ال-Whatsapp
اضغط على الرقم: 0566991363

للتواصل اضغط الرقم:
0566410429

NOLOGIA

اضغط على الاسم لتحصل على مزيد من
الملفات في تلغرام: **NOLOGIA**

اختبار الوحدة العشرة

الأسئلة الموضوعية - MCQ



لا تتردد في التواصل
معنا قم بمسح ال QR

احصل على الشرح الكامل للصف من خلال:

التواصل والحجز عبر ال-Whatsapp

اضغط على الرقم: 0566410429



NOLOGIA

للتواصل اضغط الرقم: 0566410429

احصل على الشرح كاملاً بـ 99 درهم فقط

السؤال 1:

أي من الظروف التالية تزيد من احتمالية تحول الكائن الحي إلى أحفورة بعد موته؟

- | |
|--------------------------------------------------|
| A. أن يدفن بسرعة تحت طبقات من الرمل أو الطين. |
| B. أن يتكون جسمه بالكامل من أجزاء ناعمة كالتفاح. |
| C. أن يترك في الهواء الطلق لفترة طويلة. |
| D. أن يكون عمر الكائن الحي أقل من 100 عام. |

السؤال 2:

تسمى الأحافير التي كانت تعيش لفترات زمنية قصيرة وبوفرة في أماكن كثيرة على الأرض بـ:

- | |
|----------------------|
| A. الأحافير الدقيقة. |
| B. البقايا الأصلية. |
| C. الأحافير المرشدة. |
| D. النظائر المشعة. |

السؤال 3:

ما هو المبدأ الذي ينص على أن في تتابع طبقات الصخور، تكون الطبقة في الأسفل هي الأقدم والطبقة في الأعلى هي الأحدث؟

- | |
|--------------------------|
| A. الأفقية الأصلية. |
| B. الاستمرارية الجانبية. |
| C. التراكب. |
| D. المضاهاة. |

السؤال 4:

تسمى العملية التي يتم فيها استبدال أنسجة الكائنات الميتة بالمعادن الموجودة في المياه الجوفية بـ:

A. التكرين
B. الاستبدال المعدني.
C. الانحلال الإشعاعي.
D. الحفظ بالأصل.

السؤال 5:

فجوة في السجل الصخري أو السجل الزمني لطبقات الصخور تنتج عن التآكل أو انقطاع الترسيب تسمى:

A. المضاهاة.
B. الترابط.
C. سطح عدم التوافق.
D. النظائر.

السؤال 6:

ما هي العملية التي يتحول من خلالها عنصر غير مستقر إلى عنصر آخر مستقر بشكل طبيعي؟

A. التراكم الصخري.
B. الانحلال الإشعاعي.
C. المضاهاة الجيولوجية.
D. الأفقية الأصلية.

السؤال 7:

"عمر النصف" هو الوقت المطلوب لـ:

A. تحلل ربع المادة المشعة فقط.
B. تحلل نصف عدد ذرات النظائر الأصلية إلى نظائر تابعة.
C. تكون طبقة صخرية جديدة فوق القديمة.
D. تحول الأجزاء الناعمة في الكائن إلى فحم.

السؤال 8:

أي نظير مشع يُستخدم بشكل فعال لتحديد عمر بقايا الكائنات الحية التي ماتت قبل 50,000 عام؟

A. الكربون-14.
B. اليورانيوم-238.
C. النيتروجين-14.
D. الزيركون.

السؤال 9:

يستخدم العلماء مبدأ "الوتيرة الواحدة" لمقارنة الأحافير القديمة بالكائنات الحية الحالية بهدف:

A. معرفة وزن الكائنات القديمة.
B. دراسة البيئات القديمة التي عاشت فيها.
C. تحديد سرعة تحلل الصخور.
D. قياس كمية الكربون في الغلاف الجوي.

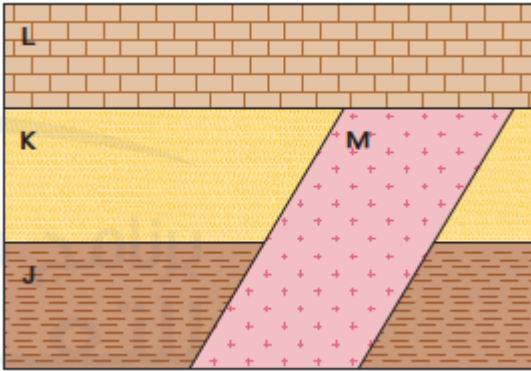
السؤال 10:

أي جزء من الديناصور هو الأقل ترجيحاً في أن يتحول إلى أحفورة؟

A. العظم
B. المخ
C. القرن
D. أحد الأسنان

السؤال 11:

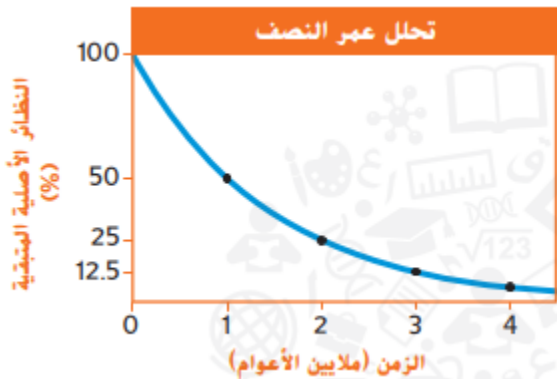
في الرسم، ما ترتيب الطبقات الصخرية من الأقدم إلى الأحدث؟



J, K, L, M .A
J, K, M, L .B
L, K, J, M .C
M, J, K, L .D

السؤال 12:

ما عمر النصف في الرسم؟



A. مليوناً عام
B. مليون عام
C. 3 ملايين عام
D. 4 ملايين عام

السؤال 13:

ما الذي يفسر معظم التراكيب الجيولوجية للأرض بأنها ناتجة عن فترات قصيرة من الزلازل والبراكين
وصدمات النيازك؟

A. التطور
B. الكارثية
C. الكارثة
D. الوتيرة الواحدة

السؤال 14:

في الرسم التخطيطي، ما الطبقة الصخرية التي تكون عادة هي الأحدث؟



A. 4
B. 3
C. 2
D. 1

السؤال 15:

ما الكائن القديم المتأحفر الذي يمثله الرسم التخطيطي؟

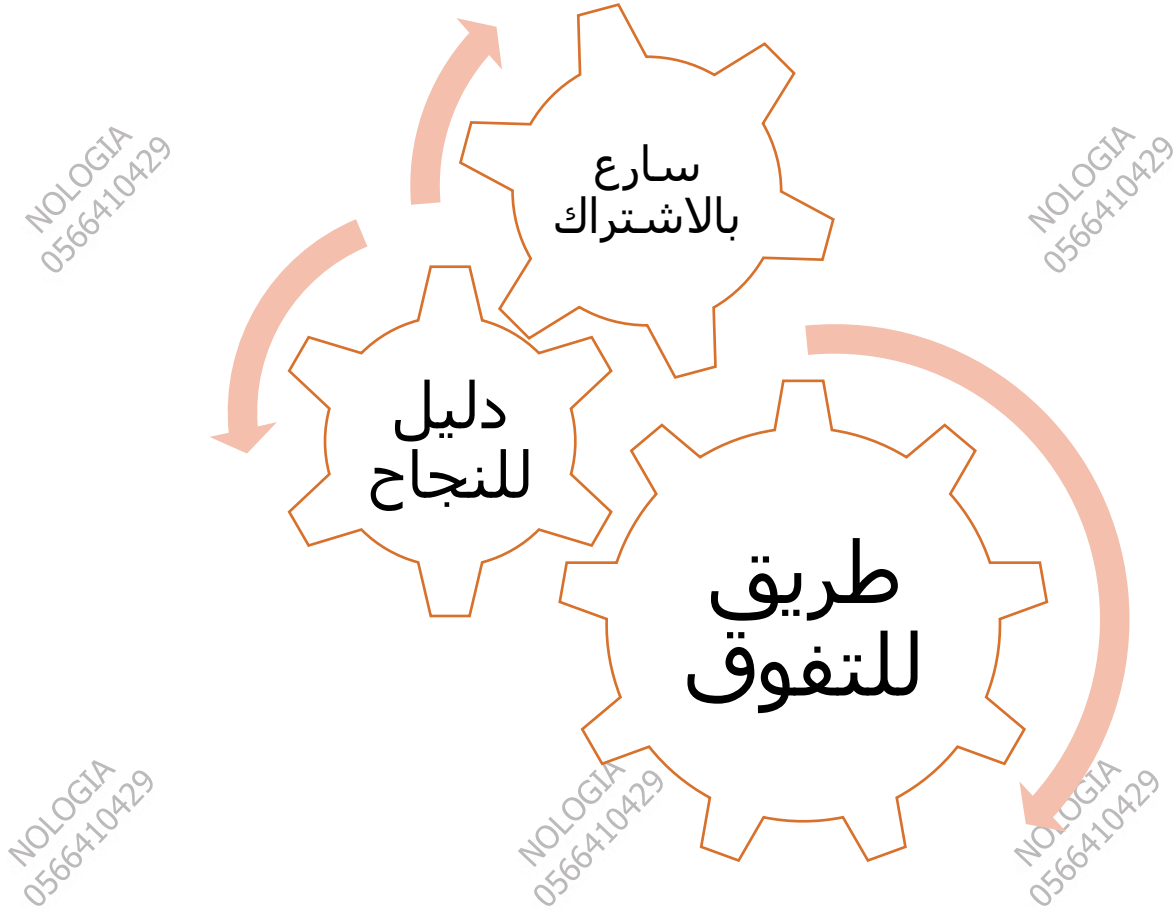


A. بطلينوس
B. كائن مفصلي ثلاثي الفصوص
C. مستودون
D. ماموث

للتواصل اضغط الرقم:
0566410429

NOLOGIA

اضغط على الاسم لتحصل على مزيد من
الملفات في تلغرام: **NOLOGIA**



للحجز التواصل عبر الـ Whatsapp من خلال الضغط على الرقم:

0566410429

مع أطيب التمنيات بالنجاح والتوفيق ...

النهاية ...

للتواصل اضغط الرقم: **0566410429**

احصل على الشرح كاملاً بـ 99 درهم فقط