

## أنشطة تدريبية وفق الهيكل الوزاري



### تم تحميل هذا الملف من موقع المناهج الإماراتية

موقع المناهج ← المناهج الإماراتية ← الصف السابع ← اجتماعيات ← الفصل الأول ← ملفات متنوعة ← الملف

تاريخ إضافة الملف على موقع المناهج: 18:39:06 2025-12-03

ملفات اكتب للمعلم اكتب للطالب ا اختبارات الكترونية ا اختبارات ا حلول ا عروض بوربوينت ا أوراق عمل  
منهج انجليزي ا ملخصات وتقارير ا مذكرات وبنوك ا الامتحان النهائي ا للمدرس

المزيد من مادة  
اجتماعيات:

إعداد: موزة المزروعي

### التواصل الاجتماعي بحسب الصف السابع



صفحة المناهج  
الإماراتية على  
فيسبوك

الرياضيات

اللغة الانجليزية

اللغة العربية

التربية الاسلامية

المواد على تلغرام

### المزيد من الملفات بحسب الصف السابع والمادة اجتماعيات في الفصل الأول

مراجعة تدريبية وفق الهيكل الوزاري الجديد متبوعة بالإجابات

1

ملزمة مراجعة وفق الهيكل الوزاري الجديد متبوعة بالحل

2

ملزمة مراجعة مهارات وفق الهيكل الوزاري الجديد

3

أسئلة مراجعة مهارات وفق الهيكل الوزاري الجديد

4

نموذج اختبار تجريبي وفق الهيكل الوزاري الجديد

5

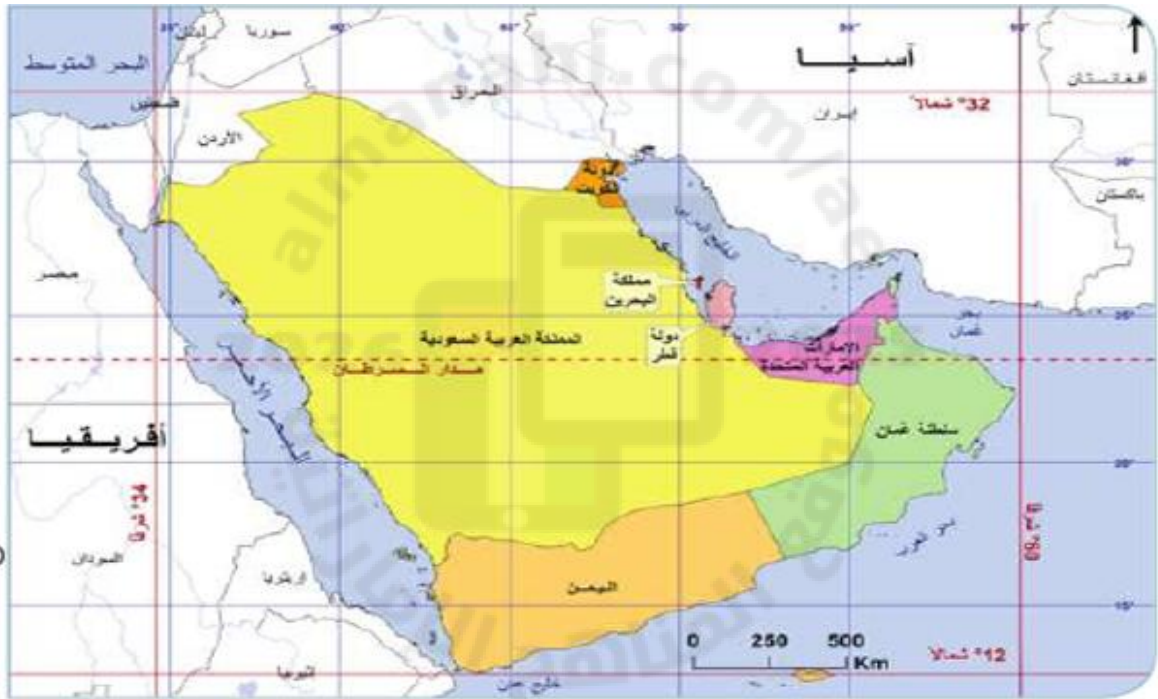


## أنشطة دراسات اجتماعية الفصل الدراسي الأول 2025\2026م



الاسم :- .....

1- أولا : مهارة قراءة الخريطة أمامك خريطة شبه الجزيرة العربية من خلالها أجب عن ما يلي :-



خريطة شبه الجزيرة العربية السياسية

1- تقع دولة الإمارات العربية المتحدة في قارة :-

أفريقيا ☐ أوروبا ☐ آسيا ☐ أمريكا الشمالية ☐

2- يبلغ عدد دول شبه الجزيرة العربية :-

6 دول ☐ 7 دول ☐ 8 دول ☐ 9 دول ☐

3- دائرة العرض الرئيسية التي تقطع دولة الإمارات العربية المتحدة :-

○ خط الاستواء

○ مدار السرطان

○ مدار الجدي

4- تطل دولة الإمارات على مسطحين مائيين هما :-

○ الخليج العربي وبحر عمان

○ الخليج العربي والبحر الأحمر

○ بحر عمان وبحر العرب

5- احسبي عدد دوائر العرض التي تقطع شبه الجزيرة العربية التي تمتد بين دائرتي عرض 12 شمالا و32 شمالا .

○ 44 دائرة عرض

○ 10 دوائر عرض

○ 20 دائرة عرض

## اقرأ النص وأجب عن ما يليه :-

تم تداول النقود الأجنبية لفترة قصيرة في شبه الجزيرة العربية ، ثم فرضت **الروبية الهندية** بحكم العلاقات التجارية بينهم ، استمرت **الروبية الهندية** في التداول في منطقة الإمارات حتى عام 1959 م، وتم تداول الروبية الهندية العربية إلى أن وقعت إمارة دبي وقطر عام 1966 م **اتفاقية العملة الموحدة لهما**، صدر بموجبها الريال القطري، وفي العام نفسه انضمت إمارة أبوظبي إلى **الدينار البحريني**، وعند قيام اتحاد دولة الامارات العربية المتحدة عام 1971 ظهرت العملة الموحدة 1973 م عرفت باسم **الدرهم** ، وانطلاقاً من مبادرات الحكومة **لعام الابتكار 2015** اهتمت دولة الامارات بفئة اصحاب الهمم **بإصدار أول عملة ورقية** تقرأ **بلغه بر ايل** .

### اختر الإجابة المناسبة فيما يأتي :-

1-ما العملة النقدية التي تم تداولها في دولة الإمارات العربية المتحدة بين عامي 1959 م و 1966 م؟

الدينار البحريني



الدينار الموحّد



الروبية الهندية العربية



الدرهم الإماراتي



2-اهتمت دولة الإمارات العربية المتحدة بفئة (أصحاب الهمم) بإصدار أول عملة ورقية تقرأ **بلغه**:

برايد



برايم



روائج



برايل



3- استنتج من الفقرة السابقة ، السبب وراء التداول بالروبية الهندية في منطقة الإمارات حتى عام 1959م.

بسبب حاجة دول المنطقة لتلك العملة.

☐

بسبب العلاقات التجارية مع دول المنطقة.

☐

بسبب القوة الاقتصادية لعملة الروبية الهندية.

☐

بسبب عدم وجود عملات اقتصادية أخرى.

☐

4- ما الإمارة التي انضمت إلى الدينار البحريني عام 1966م؟

دبي

☐

عجمان

☐

أبوظبي

☐

الشارقة

☐

5- صدر الدرهم الإماراتي الموحد في عام:

1950م

☐

1988م

☐

1973م

☐

1966م

☐



استكملي المطلوب فيما يلي :-

أثرت مجموعة من العوامل الطبيعية والبشرية في اختلاف توزيع السكان في دولة شبه الجزيرة العربية من دولة إلى أخرى

## صنف على حسب المعطى في الجدول التالي :

التضاريس

الحروب

الحرفة

المناخ

النقل والمواصلات

العوامل البشرية	العوامل الطبيعية
..... ..... .....	<div>التربة</div> ..... ..... .....

افْرَأْتُمُ اخْتِرَ الإِجَابَةَ الصَّحِيحَةَ.

"يَسُودُ فِي هَذَا الإِقْلِيمِ نَوْعٌ مِنَ الْغَابَاتِ تَنْسُمُ بِقَلَّةٍ كَثَافَتِهَا مِثْلُ أَشْجَارِ السَّنِطِ وَالسَّمْرِ."

نَوْعُ الإِقْلِيمِ الْمُشَارِ إِلَيْهِ مُسَبِّقًا هُوَ :



( القطبي - الصحراوي - الموسمي - المداري )

أقرأ ثُمَّ اختر الإجابة الصَّحيحة.

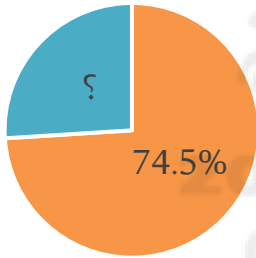
"تُقَسَّم الصَّنَاعَةُ إلى:

الصَّنَاعَاتِ الاستِخراجِيَّة: هي استخراجُ المعادنِ والنَّفْطِ والغازِ الطَّبيعيِّ مِنْ باطنِ الأرضِ.  
الصَّنَاعَاتِ التَّحوِيلِيَّة: هي تحويلُ الموادِّ الخامِ إلى مُنتجاتٍ مُفيدةٍ للاستهلاكِ."

أيُّ مِنْ هَذِهِ الصَّنَاعَاتِ الآتِيَةِ يُعَدُّ مِثَالًا على الصَّنَاعَاتِ الاستِخراجِيَّةِ ؟

( الادوية - المواد الغذائية - الذهب - المنسوجات )

التركيب العمري لسكان دول شبه الجزيرة العربية



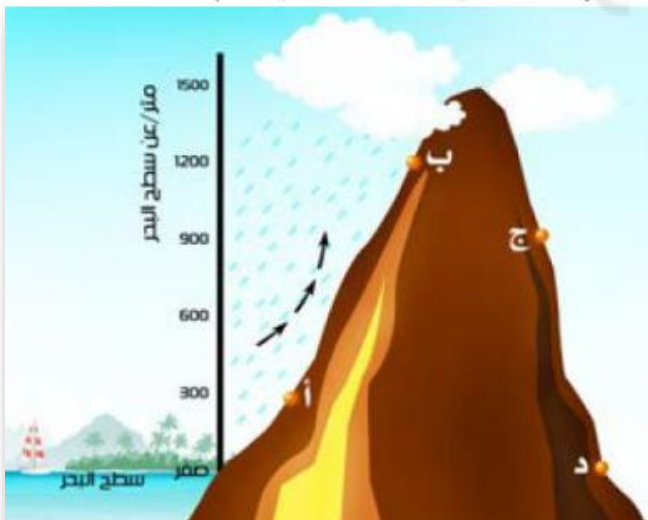
■ شباب ■ صغار وكبار السن

أقرأ الشكل التالي ثم أجيب :

إذا كان تصنيف الفئة العمرية ( الشباب )  
74.5% فكم نسبة فئة صغار وكبار السن ؟

نسبة صغار وكبار السن في دول شبه الجزيرة العربية هي .....

أمعن النَّظْرَ في الشَّكْلِ الآتِي، ثُمَّ اختر الإجابة الصَّحيحة.



☐ الأمطارُ عندَ النُّقْطةِ (أ) أكثرُ مِنَ النُّقْطةِ (د).

☐ الأمطارُ مُتساويةٌ عندَ النُّقْطةِ (أ) و (د).

☐ الأمطارُ مُتساويةٌ عندَ النُّقْطةِ (أ) و (ج).

☐ الأمطارُ عندَ النُّقْطةِ (أ) أقلُّ مِنْ النُّقْطةِ (د).



# مهارة قراءة النص



"إنَّ يومَ الشهيدِ مناسبةٌ وطنيةٌ تُخلدُ فيها أسماءُ الشهداءِ التي ستبقى في ذاكرةِ الوطنِ مُنذُ يومِ 30 نوفمبر 1971م محفورةً في الذاكرة، وهو موعدٌ سنويٌّ نَسْتذكِّرُ فيه تَضحياتِ الشهداءِ الجسامِ التي قدَّموها فداءً للوطنِ والأُمَّةِ العربيَّةِ، لتُجددَ فينا العزمَ، ولتبقى دماءُ هؤلاء الأبطالِ حافزًا لكلِّ أبناءِ الإماراتِ بأنَّ يبدلوا الغاليَ والنَّفيسَ دفاعًا عنِ الحقِّ والخيرِ والعدلِ.

جاء اختيارُ "يومِ الشهيدِ" في دولةِ الإماراتِ العربيَّةِ المتَّحدةِ لِيُتزامنَ معَ تاريخِ استشهادِ أوَّلِ جنديٍّ إماراتيٍّ، وهو سالم سهيل بن خميس الذي استشهدَ في 30 نوفمبر عام 1971م، في جزيرة طنب الكبرى ذودًا عن علمِ الوطنِ، فسجَّلَ التاريخُ اسمه بأحرفٍ من نورٍ كأوَّلِ شهيدٍ إماراتيٍّ."



## اختر الإجابة الصحيحة من بين البدائل التالية :

1- يوم وطني تعبر فيه دولة الإمارات العربية المتحدة عن تقديرها لتضحيات شهدائها الذين ضحوا بأرواحهم دفاعاً عن الوطن يعد مفهوم :

اليوم الوطني



يوم العلم



يوم العسكري



يوم الشهيد



2- من هو أول شهيد في دولة الإمارات

والذي استشهد في جزيرة طنب الكبرى ؟

سالم سهيل خميس



سالم خميس سهيل



سهيل سالم خميس



سهيل سلمان سالم





أَمَعِنِ النَّظَرَ فِي الشَّكْلِ الْآتِي، ثُمَّ اخْتَرِ الْإِجَابَةَ الصَّحِيحَةَ.



## تفاصيل إعلان رئيس الدولة 2023 «عام الاستدامة» في الإمارات



صاحب السمو الشيخ  
محمد بن زايد آل نهيان  
رئيس الدولة «حفظه الله»

أعلن: 2023 «عام الاستدامة»  
في دولة الإمارات

بشعار «اليوم للغد»

### يشرف على مبادرات «عام الاستدامة»:

سمو الشيخة مريم بنت محمد  
بن زايد آل نهيان

سمو الشيخ منصور بن زايد آل نهيان  
نائب رئيس مجلس الوزراء وزير ديوان  
الرئاسة

### يهدف إلى:

- تشجيع المشاركة المجتمعية في تحقيق استدامة التنمية
- نشر الوعي حول قضايا الاستدامة البيئية
- تسليط الضوء على تراث الإمارات الغني بمجال الممارسات المستدامة
- دعم الاستراتيجيات الوطنية بهذا المجال نحو بناء مستقبل أكثر رخاءً وازدهاراً
- إبراز جهود الدولة في تعزيز العمل الجماعي الدولي لمعالجة تحديات الاستدامة

00971566400384 / Forsan\_UAE / forsane.uae

### 1- صاحب فكرة عام الاستدامة هو الشيخ :-

- الشيخ محمد بن راشد
- الشيخ سعود بن صقر القاسمي
- الشيخ محمد بن زايد
- الشيخ حمدان بن محمد بن راشد



من خلال الشكل السابق اختر الإجابة الصحيحة فيما يأتي :-

2- شعار عام الاستدامة لهذا العام هو :-

- ☐ اليوم أجمل
- ☐ اليوم جميل
- ☐ اليوم للغد
- ☐ اليوم هو المستقبل

3- من أهداف عام الاستدامة :-

- ☐ زيادة التلوث البيئي
- ☐ نشر الوعي حول قضايا الاستدامة البيئية
- ☐ الشهرة العالمية
- ☐ المشاركة في مؤتمر cop28



معلمة المادة : موزة المزروعي