

أوراق عمل درس Rrea Surface مساحة السطح منهج ريفيل بدون الحل



تم تحميل هذا الملف من موقع المناهج الإماراتية

موقع المناهج ← المناهج الإماراتية ← الصف السابع ← رياضيات ← الفصل الثالث ← ملفات متنوعة ← الملف

تاريخ إضافة الملف على موقع المناهج: 09:17:02 2025-05-07

ملفات اكتب للمعلم اكتب للطالب | اختبارات الكترونية | اختبارات | حلول | عروض بوربوينت | أوراق عمل منهج انجليزي | ملخصات وتقارير | مذكرات وبنوك | الامتحان النهائي | للمدرس

المزيد من مادة رياضيات:

التواصل الاجتماعي بحسب الصف السابع



صفحة المناهج
الإماراتية على
فيسبوك

الرياضيات

اللغة الانجليزية

اللغة العربية

التربية الاسلامية

المواد على تلغرام

المزيد من الملفات بحسب الصف السابع والمادة رياضيات في الفصل الثالث

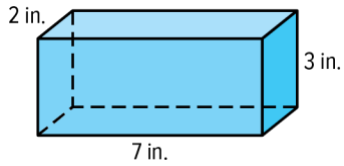
أوراق عمل تدريبات الوحدة 9 الحجم ومساحة السطح	1
أوراق عمل درس Volume الحجم منهج ريفيل	2
حل أوراق عمل Figures Composite of Area مساحة الأشكال المركبة منهج ريفيل	3
أوراق عمل Figures Composite of Area مساحة الأشكال المركبة منهج ريفيل	4
ورقة عمل الاحتمال النظري والتجريبي لأصحاب الهمم	5

Extra Practice Surface Area

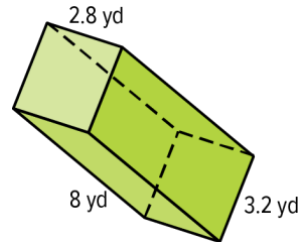
Find the surface area of each prism. Round to the nearest tenth if necessary.

(Example 1)

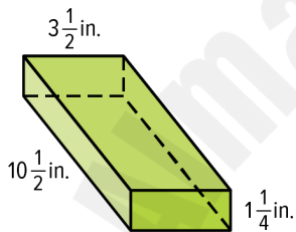
1.



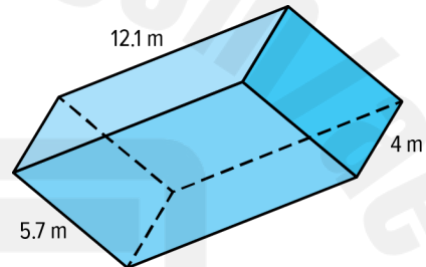
2.



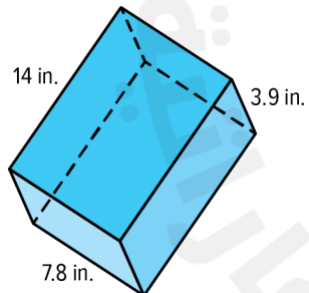
3.



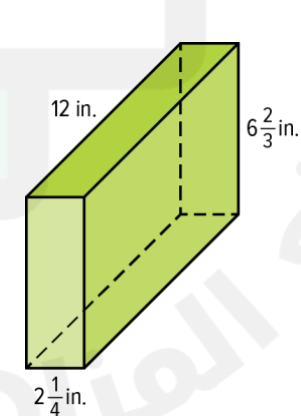
4.



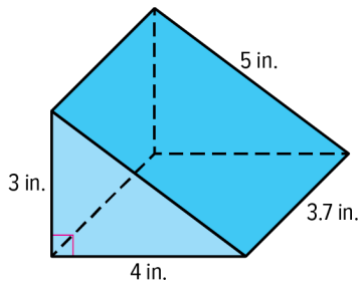
5.



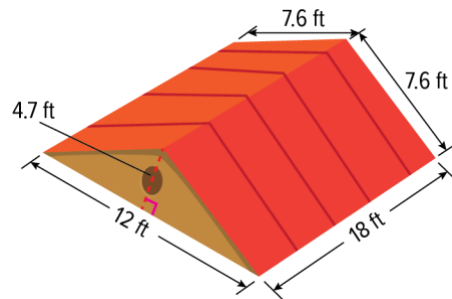
6.



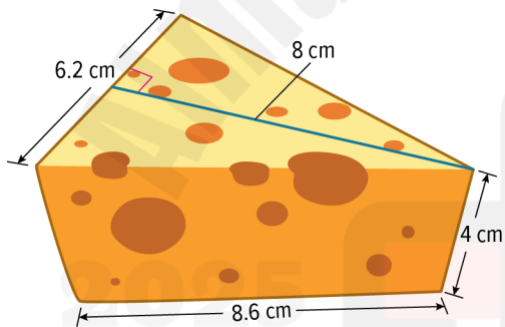
7. How much paint does Lucia need to cover the entire surface of this block with paint?
(Example 2)



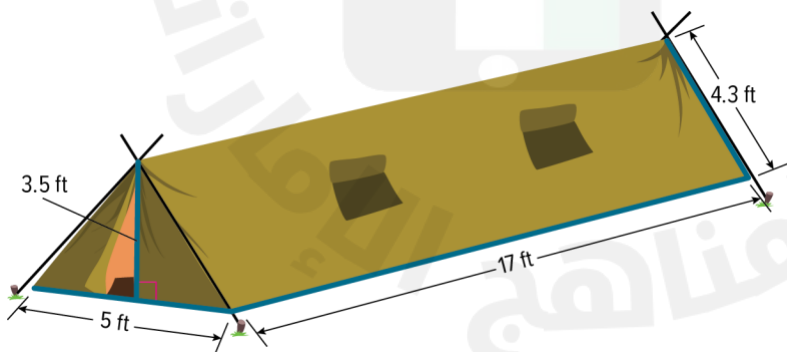
8. A builder measures all five sides of the roof shown. How much plywood is needed to construct the entire surface area of the roof?
(Example 2)



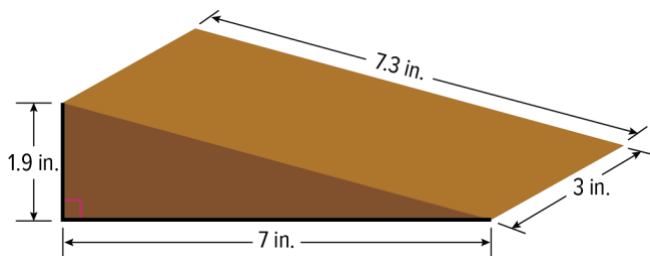
9. How much cheese wax is needed to completely cover the chunk of cheese shown? (Example 2)



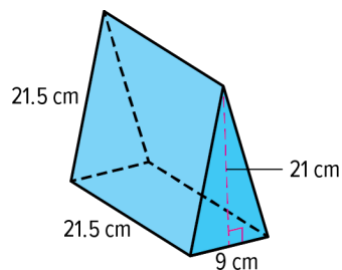
10. How much fabric is needed to make the tent shown? (Example 2)



11. Yvonne wants to paint an old doorstep. What is the surface area that she needs to paint? (Example 2)

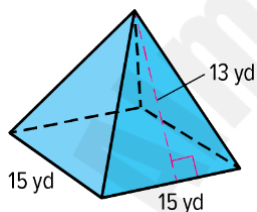


12. How much giftwrap is needed to completely cover the optical glass shown? (Example 2)

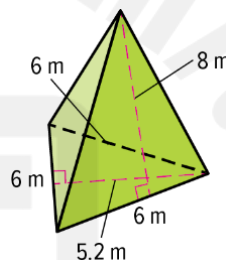


Find the surface area of each pyramid. Round to the nearest tenth if necessary. (Example 3)

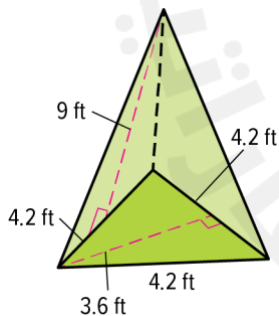
13.



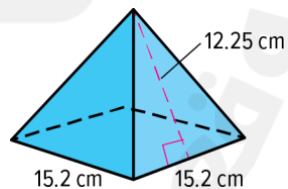
14.



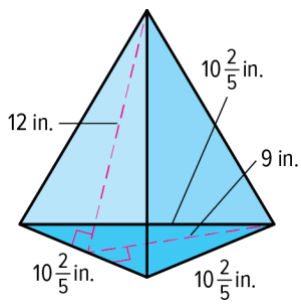
15.



16.



17.



18.

