

حل أوراق عمل درس Area Surface مساحة السطح منهج ريفيل



تم تحميل هذا الملف من موقع المناهج الإماراتية

موقع المناهج ← المناهج الإماراتية ← الصف السابع ← رياضيات ← الفصل الثالث ← ملفات متنوعة ← الملف

تاريخ إضافة الملف على موقع المناهج: 09:35:41 2025-05-07

ملفات اكتب للمعلم اكتب للطالب | اختبارات الكترونية | اختبارات | حلول | عروض بوربوينت | أوراق عمل منهج انجليزي | ملخصات وتقارير | مذكرات وبنوك | الامتحان النهائي | للمدرس

المزيد من مادة رياضيات:

التواصل الاجتماعي بحسب الصف السابع



صفحة المناهج الإماراتية على فيسبوك

الرياضيات

اللغة الانجليزية

اللغة العربية

التربية الاسلامية

المواد على تلغرام

المزيد من الملفات بحسب الصف السابع والمادة رياضيات في الفصل الثالث

أوراق عمل درس Area Surface مساحة السطح منهج ريفيل بدون الحل	1
أوراق عمل تدريبات الوحدة 9 الحجم ومساحة السطح	2
أوراق عمل درس Volume الحجم منهج ريفيل	3
حل أوراق عمل Figures Composite of Area مساحة الأشكال المركبة منهج ريفيل	4
أوراق عمل Figures Composite of Area مساحة الأشكال المركبة منهج ريفيل	5

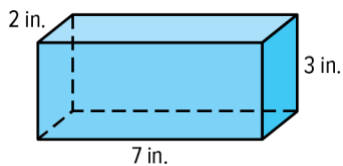
Extra Practice

Surface Area

Find the surface area of each prism. Round to the nearest tenth if necessary.

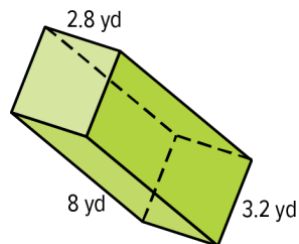
(Example 1)

1.



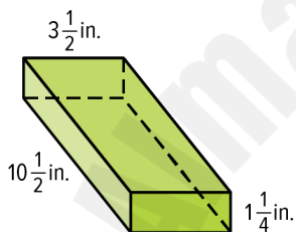
82 in²

2.



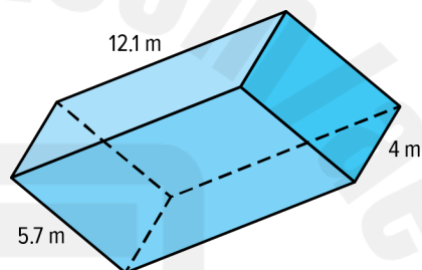
113.9 yd²

3.



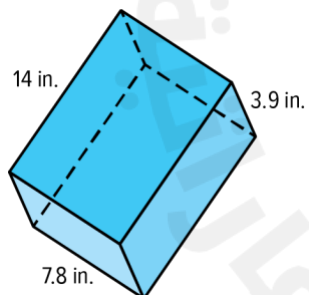
$108\frac{1}{2}$ in²

4.



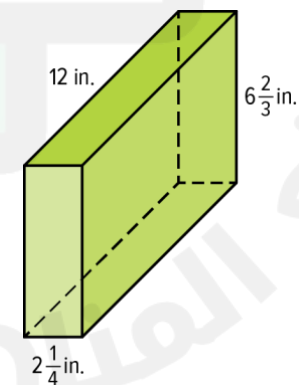
280.3 m²

5.



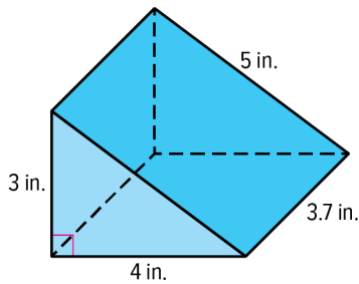
388.4 in²

6.



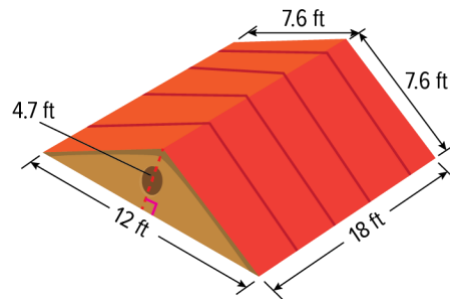
244 in²

7. How much paint does Lucia need to cover the entire surface of this block with paint?
(Example 2)



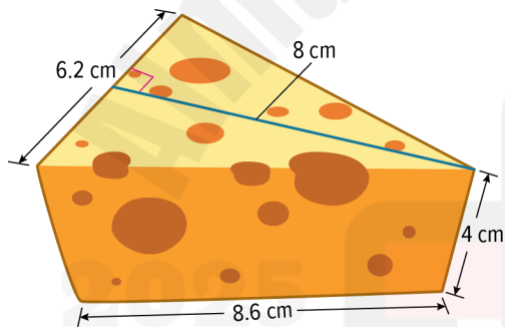
56.4 in²

8. A builder measures all five sides of the roof shown. How much plywood is needed to construct the entire surface area of the roof?
(Example 2)



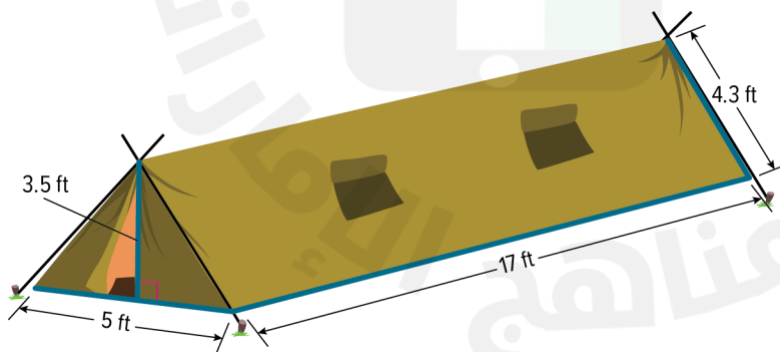
546 ft²

9. How much cheese wax is needed to completely cover the chunk of cheese shown? (Example 2)



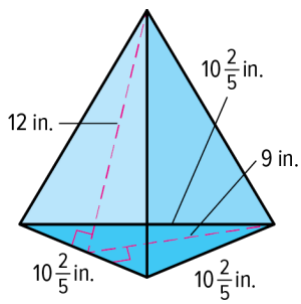
143.2 cm²

10. How much fabric is needed to make the tent shown? (Example 2)



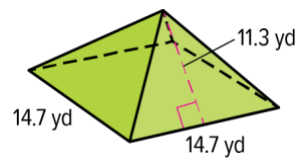
248.7 ft²

17.



234 in²

18.



548.3 yd²