

## مراجعة على شاكلة الاختبار النهائي وفق الهيكل الوزاري



### تم تحميل هذا الملف من موقع المناهج الإماراتية

موقع المناهج ← المناهج الإماراتية ← الصف السادس ← اجتماعيات ← الفصل الثالث ← ملفات متنوعة ← الملف

تاريخ إضافة الملف على موقع المناهج: 16:02:29 2025-06-17

ملفات اكتب للمعلم اكتب للطالب | اختبارات الكترونية | اختبارات | حلول | عروض بوربوينت | أوراق عمل  
منهج انجليزي | ملخصات وتقارير | مذكرات وبنوك | الامتحان النهائي | للمدرس

المزيد من مادة  
اجتماعيات:

إعداد: مريم محمد الشحي

### التواصل الاجتماعي بحسب الصف السادس



صفحة المناهج  
الإماراتية على  
فيسبوك

الرياضيات

اللغة الانجليزية

اللغة العربية

التربية الاسلامية

المواد على تلغرام

### المزيد من الملفات بحسب الصف السادس والمادة اجتماعيات في الفصل الثالث

مراجعة هيكل الامتحان النهائي الاجتماعيات لجميع المستويات مع الإجابات

1

حل ومناقشة أسئلة وفق الهيكل الوزاري

2

حل نموذج تدريبي للاختبار النهائي وفق الهيكل الوزاري

3

نموذج تدريبي للاختبار النهائي وفق الهيكل الوزاري

4

مراجعة نهائية وفق الهيكل الوزاري مع أسئلة اختبارات سابقة

5

# مراجعة لمادة الدراسات الاجتماعية الصف السادس - نهاية الفصل الدراسي الثالث

حل و مناقشة أسئلة الهيكل 2025-2026 م


المعلمة: مريم محمد الشحي

# نصائح ليوم الإمتحان




- الإستعانة بالله عز وجل.
- احتفظ بهدوئك وخذ نفساً عميقاً.
- اقرأ الامتحان كاملاً قبل البدء بالإجابة.
- نظم وقت الإجابة.
- انتقل إلى السؤال التالي إذا تعثرت في إجابة سؤال ما.
- اقرأ الأسئلة بعناية وتأكد من حل كل سؤال.
- تأكد من جميع الإجابات قبل التسليم.

مع تمنياتنا لكم بالتوفيق والنجاح



# هيكل الصف السادس:




2025/2026	العام الدراسي
1	Term
	الفصل
الدراسات الاجتماعية	Subject
	المادة
6	Grade
	الصف
العام	Stream
	المسار
28	Number of MCQ عدد الأسئلة الموضوعية
4	Marks of MCQ درجة الأسئلة الموضوعية
8	Number of FRQ عدد الأسئلة المقالية
8	Marks per FRQ الدرجات للأسئلة المقالية
الأسئلة الموضوعية	
100	Maximum Overall Grade الدرجة القصوى الممكنة
120 دقيقة	Exam Duration - مدة الامتحان
SwiftAccess	Mode of Implementation
Allowed	Calculator
مسموحة	الحاسبة

المرجع في كتاب الطالب		Learning Outcome/Performance Criteria**		Question*
نوع النص	الوحدة/ الموضوع	تائج التعلم / Learning Outcomes**		السؤال*
معلوماتي	الأقاليم المناخية والنباتية لقارة إفريقيا	يتعرف الخصائص الجغرافية البشرية، الفيزيائية، الطبيعية والبشرية، لقارات العالم القديم، آسيا، إفريقيا		1
مقروء - معلوماتي	العلاقات الإماراتية - المصرية نموذج يحتذى به	يمارس مهارات القراءة الجيدة ذات العلاقة بالدراسات الاجتماعية		3
Questions might appear in a different order in the actual exam, or on the exam.				*
قد تظهر الأسئلة بترتيب مختلف في الامتحان الفعلي.				*
As it appears in the textbook, LMI, and (Main BP).				**
كما وردت في كتاب الطالب LMI والوحدة الثانية.				**

Question*		Learning Outcome/Performance Criteria**		المرجع في كتاب الطالب	
السؤال*		تائج التعلم	معايير الأداء**	نوع النص	الوحدة/الموضوع
2	2	يوضح التقدير العالي للباني المؤسس في مجال البيئة	الصحراء في فكر الشيخ زايد - رحمه الله -	مقروء	
4	4	يشدد دور وتأثير الشخصيات المهمة و أفكارها ومعتقداتها في قيام الحضارات القديمة	عقيدة اليونان القديمة	مقروء	
5	5	يحلل الخصائص الطبيعية الأماكن مختلفة من سطح الأرض ومدى تأثيرها على حياة السكان فيها، مصر، كوريا الجنوبية، الصين، الهند، اليابان	العلاقات الثنائية الإماراتية - اليابانية	مقروء - معلوماتي	

المعلمة: مريم محمد الشحي



# المهارات الأساسية

تعد الدراسات الاجتماعية من المواد التعليمية التي تهدف إلى تطوير فهم شامل للمجتمع والبيئة، وتتطلب إتقان مجموعة من المهارات الأساسية التي تعزز تعلم الطلاب وتفكيرهم النقدي. من أبرز هذه المهارات:

قراءة النصوص وتحليلها  
تفسير الأشكال المعلوماتية  
فهم الخريطة وتحليلها  
فهم الجداول وتحليلها

# المهارات الأساسية

- معرفة الجهات الأصلية والفرعية  
(شمال، شرق، جنوب، غرب)  
(شمال شرقي، شمال غربي، جنوب شرقي، جنوب غربي)
- الحقيقة وهي معلومة ثابتة لا يختلف عليها أي شيء وتعد ثابتة صحيحة  
وتكون مرتبطة بتاريخ  
(قيام اتحاد دولة الامارات العربية المتحدة 1971م)
- القيم  
( الانتماء، القوة، التعاون، القيادة)

# قارة أفريقيا.. معلوماتي

معلوماتي	الأقاليم المناخية والنباتية لقارة أفريقيا	يتعرف الخصائص الجغرافية، الطبيعية والبشرية، لقارات العالم القديم، آسيا، إفريقيا	1
----------	--	---	---

اقرأ الشكل المعلوماتي التالي ثم أجب عن الأسئلة :



## أفريقيا.. ملتقى قارات العالم



1- قناة تربط قارة أفريقيا بقارة آسيا؟

أ) السويس

ب) جبل طارق

ج) نيجيري

د) البحر المتوسط

اقرأ الشكل المعلوماتي التالي ثم أجب عن الأسئلة :



## أفريقيا.. ملتقى قارات العالم



2- كم تبلغ مساحة قارة أفريقيا؟

أ) 1.2 مليون كم مربع

ب) 30 مليون كم مربع

ج) 12 مليون كم مربع

د) 2 مليون كم مربع

اقرأ الشكل المعلوماتي التالي ثم أجب عن الأسئلة :



## أفريقيا.. ملتقى قارات العالم




3- مرت بها العديد من الحضارات من أبرزها؟

أ) الحضارة الصينية

ب) حضارة السند

ج) حضارة بلاد الرافدين

د) الحضارة الرومانية



اقرأ الشكل المعلوماتي التالي ثم أجب عن الأسئلة :

## أفريقيا.. ملتقى قارات العالم



4- تعتبر قارة أفريقيا ..... قارات العالم مساحة؟

أ) أول

ب) رابع

ج) ثاني

د) عاشر

اقرأ الشكل المعلوماتي التالي ثم أجب عن الأسئلة :



## أفريقيا.. ملتقى قارات العالم



5- أكبر منتج أفريقي للنفط في القارة هي؟

أ) السودان

ب) نيجيريا

ج) غانا

د) كينيا

## اقرأ النص التالي ثم أجب عن الأسئلة:



تُعد قارة أفريقيا ثاني أكبر قارات العالم من حيث المساحة وعدد السكان، وتقع بين المحيط الأطلسي غربًا والمحيط الهندي شرقًا. يمر بها خط الاستواء، مما يجعل مناخها متنوعًا بين الاستوائي في الوسط والصحراوي في الشمال والجنوب. تتنوع مظاهر السطح في أفريقيا، حيث توجد الصحاري مثل الصحراء الكبرى، والجبال مثل جبال أطلس، والأنهار مثل نهر النيل الذي يُعد أطول نهر في العالم. كما توجد غابات استوائية كثيفة في المناطق القريبة من خط الاستواء. سكان قارة أفريقيا ينتمون إلى أعراق وثقافات متعددة، ويتحدثون لغات متنوعة. وتُعد الزراعة من أهم الأنشطة الاقتصادية، إلى جانب الرعي والتعدين والسياحة في بعض الدول.

6- ما هو النهر الذي يُعد أطول نهر في العالم ويوجد في قارة أفريقيا؟

(د) نهر السين

(ج) نهر النيل

(ب) دجلة والفرات

(أ) نهر الأمازون

## اقرأ النص التالي ثم أجب عن الأسئلة:

تُعد قارة أفريقيا ثاني أكبر قارات العالم من حيث المساحة وعدد السكان، وتقع بين المحيط الأطلسي غربًا والمحيط الهندي شرقًا. يمر بها خط الاستواء، مما يجعل مناخها متنوعًا بين الاستوائي في الوسط والصحراوي في الشمال والجنوب. تتنوع مظاهر السطح في أفريقيا، حيث توجد الصحاري مثل الصحراء الكبرى، والجبال مثل جبال أطلس، والأنهار مثل نهر النيل الذي يُعد أطول نهر في العالم. كما توجد غابات استوائية كثيفة في المناطق القريبة من خط الاستواء. سكان قارة أفريقيا ينتمون إلى أعراق وثقافات متعددة، ويتحدثون لغات متنوعة. وتُعد الزراعة من أهم الأنشطة الاقتصادية، إلى جانب الرعي والتعدين والسياحة في بعض الدول.

7- أي من المحيطات يحد قارة أفريقيا من الشرق؟

أ) المحيط الهندي      ب) المحيط الأطلسي      ج) البحر الأحمر      د) البحر المتوسط

## اقرأ النص التالي ثم أجب عن الأسئلة:

تُعد قارة أفريقيا ثاني أكبر قارات العالم من حيث المساحة وعدد السكان، وتقع بين المحيط الأطلسي غربًا والمحيط الهندي شرقًا. يمر بها خط الاستواء، مما يجعل مناخها متنوعًا بين الاستوائي في الوسط والصحراوي في الشمال والجنوب. تتنوع مظاهر السطح في أفريقيا، حيث توجد الصحاري مثل الصحراء الكبرى، والجبال مثل جبال أطلس، والأنهار مثل نهر النيل الذي يُعد أطول نهر في العالم. كما توجد غابات استوائية كثيفة في المناطق القريبة من خط الاستواء. سكان قارة أفريقيا ينتمون إلى أعراق وثقافات متعددة، ويتحدثون لغات متنوعة. وتُعد الزراعة من أهم الأنشطة الاقتصادية، إلى جانب الرعي والتعدين والسياحة في بعض الدول.

8- أي من المرتفعات التالية توجد في قارة أفريقيا؟

- (أ) جبال الأنديز (ب) جبال أطلس (ج) جبال عسير (د) جبال الألب

# الصحراء في فكر زايد رحمه الله .. مقروء

مقروء	الصحراء في فكر الشيخ زايد - رحمه الله -	يوضح التقدير العالمي للباني المؤسس في مجال البيئة 2024	2
-------	--	---	---

## اقرأ النص التالي ثم أجب عن الأسئلة:

الشيخ زايد بن سلطان آل نهيان هو مؤسس دولة الإمارات العربية المتحدة وأول رئيس لها. وُلد في مدينة أبوظبي عام 1918، وتولى حكم إمارة أبوظبي في عام 1966، ثم أصبح رئيسًا للدولة عند تأسيس الاتحاد في عام 1971.

كان الشيخ زايد قائدًا يتمتع برؤية مستقبلية. اهتم ببناء الإنسان وتطوير التعليم والصحة في الدولة. ومن هواياته المفضلة الصيد بالصقور وركوب الخيل، وكان يحب الترحال في الصحراء ويهتم بالتراث الإماراتي. لم يكن اهتمام الشيخ زايد مقتصرًا على تنمية الإنسان فقط، بل كان أيضًا من أبرز القادة المهتمين بالبيئة، حيث أطلق مشاريع لزراعة الأشجار وإنشاء المحميات الطبيعية، وساهم في تحويل الصحراء إلى أراضٍ خضراء. نال الشيخ زايد عدة جوائز عالمية في مجال البيئة، منها "جائزة الأمم المتحدة للبيئة" عام 2005 بعد وفاته، تقديرًا لجهوده البيئية. توفي الشيخ زايد في 2 نوفمبر 2004، لكن ذكره لا تزال حيّة في قلوب أبناء الإمارات والعالم.

1- متى تولى الشيخ زايد حكم إمارة أبوظبي؟

(د) 1918م

(ج) 1966م

(ب) 2005م

(أ) 1971م

## اقرأ النص التالي ثم أجب عن الأسئلة:

الشيخ زايد بن سلطان آل نهيان هو مؤسس دولة الإمارات العربية المتحدة وأول رئيس لها. وُلد في مدينة أبوظبي عام 1918، وتولى حكم إمارة أبوظبي في عام 1966، ثم أصبح رئيسًا للدولة عند تأسيس الاتحاد في عام 1971.

كان الشيخ زايد قائدًا يتمتع برؤية مستقبلية. اهتم ببناء الإنسان وتطوير التعليم والصحة في الدولة. ومن هواياته المفضلة الصيد بالصقور وركوب الخيل، وكان يحب الترحال في الصحراء ويهتم بالتراث الإماراتي. لم يكن اهتمام الشيخ زايد مقتصرًا على تنمية الإنسان فقط، بل كان أيضًا من أبرز القادة المهتمين بالبيئة، حيث أطلق مشاريع لزراعة الأشجار وإنشاء المحميات الطبيعية، وساهم في تحويل الصحراء إلى أراضٍ خضراء. نال الشيخ زايد عدة جوائز عالمية في مجال البيئة، منها "جائزة الأمم المتحدة للبيئة" عام 2005 بعد وفاته، تقديرًا لجهوده البيئية. توفي الشيخ زايد في 2 نوفمبر 2004، لكن ذكره لا تزال حيّة في قلوب أبناء الإمارات والعالم.

2- ما هو المجال الذي حصل فيه الشيخ زايد على تقدير عالمي؟

- (أ) البيئة (ب) الفن (ج) التعليم (د) الرياضة

## اقرأ النص التالي ثم أجب عن الأسئلة:

الشيخ زايد بن سلطان آل نهيان هو مؤسس دولة الإمارات العربية المتحدة وأول رئيس لها. وُلد في مدينة أبوظبي عام 1918، وتولى حكم إمارة أبوظبي في عام 1966، ثم أصبح رئيسًا للدولة عند تأسيس الاتحاد في عام 1971.

كان الشيخ زايد قائدًا يتمتع برؤية مستقبلية. اهتم ببناء الإنسان وتطوير التعليم والصحة في الدولة. ومن هواياته المفضلة الصيد بالصقور وركوب الخيل، وكان يحب الترحال في الصحراء ويهتم بالتراث الإماراتي. لم يكن اهتمام الشيخ زايد مقتصرًا على تنمية الإنسان فقط، بل كان أيضًا من أبرز القادة المهتمين بالبيئة، حيث أطلق مشاريع لزراعة الأشجار وإنشاء المحميات الطبيعية، وساهم في تحويل الصحراء إلى أراضٍ خضراء. نال الشيخ زايد عدة جوائز عالمية في مجال البيئة، منها "جائزة الأمم المتحدة للبيئة" عام 2005 بعد وفاته، تقديرًا لجهوده البيئية. توفي الشيخ زايد في 2 نوفمبر 2004، لكن ذكره لا تزال حيّة في قلوب أبناء الإمارات والعالم.


3- ما هي إحدى هوايات الشيخ زايد؟

(د) الصيد بالصقور

(ج) الرسم

(ب) السباحة

(أ) التزلج



## نمو قياسي في طلبات المشاركة بجائزة زايد للاستدامة

78% نمو في طلبات المشاركة مقارنة بعام 2017

© www.al-ain.com  
2018-2019



1202 طلب في فئات  
الغذاء والمياه  
والصحة

603 طلبات مشاركة  
في فئة الطاقة

295 طلب مشاركة  
في فئة المدارس  
الثانوية العالمية

الجائزة تنسجم مع الأجندة  
الوطنية لدولة الإمارات  
والتنمية المستدامة للأمم  
المتحدة



السعودية حققت أكبر زيادة  
في أعداد الطلبات



© www.al-ain.com  
2018-2019

اقرأ الشكل المعلوماتي التالي ثم أجب عن الأسئلة :

4- كم بلغ عدد طلبات المشاركة في فئة الطاقة؟

أ) 295

ب) 1202

ج) 603

د) 207



## نمو قياسي في طلبات المشاركة بجائزة زايد للاستدامة

78% نمو في طلبات المشاركة مقارنة بعام 2017

www.al-ain.com  
© 2018-2019



1202 طلب في فئات  
الغذاء والمياه  
والصحة

603 طلبات مشاركة  
في فئة الطاقة

295 طلب مشاركة  
في فئة المدارس  
الثانوية العالمية

الجائزة تنسجم مع الأجندة  
الوطنية لدولة الإمارات  
والتنمية المستدامة للأمم  
المتحدة



السعودية حققت أكبر زيادة  
في أعداد الطلبات



www.al-ain.com  
© 2018-2019

اقرأ الشكل المعلوماتي التالي ثم أجب عن الأسئلة :

5- ماهي الدولة التي حققت أكبر زيادة في أعداد الطلبات؟

(أ) البحرين

(ب) السعودية

(ج) الكويت

(د) عمان

# العلاقات الإماراتية – المصرية .. مقروء – معلوماتي

مقروء - معلوماتي	العلاقات الإماراتية – المصرية نموذج يحتذى به	يمارس مهارات القراءة الحرة ذات العلاقة بالدراسات الاجتماعية	3
------------------	---	--	---

## اقرأ النص التالي ثم أجب عن الأسئلة التالية:

تجمع دولة الإمارات العربية المتحدة وجمهورية مصر العربية علاقات قوية وأخوية، تقوم على الاحترام المتبادل والتعاون المشترك. وتُعد هذه العلاقة من أقدم وأهم العلاقات في العالم العربي. دولة الإمارات تقع في منطقة الخليج العربي، وعاصمتها أبوظبي. أما مصر فتقع في شمال قارة أفريقيا، وعاصمتها القاهرة، وهي من أقدم الحضارات في العالم.

بدأت العلاقات الرسمية بين البلدين عام 1971، بعد قيام الاتحاد في دولة الإمارات. وقد دعم الشيخ زايد بن سلطان آل نهيان - رحمه الله - مصر في العديد من المواقف، مما عزز أواصر المحبة بين الشعبين. تشمل العلاقات بين الإمارات ومصر مجالات عديدة، مثل التعليم، والاقتصاد، والثقافة، والسياحة، والدفاع. ويتبادل قادة البلدين الزيارات الرسمية لتعزيز العلاقات الاستراتيجية بينهما.

1- في أي عام بدأت العلاقات الرسمية بين الإمارات ومصر؟

(د) 1971م

(ج) 1972م

(ب) 2011م

(أ) 1992م

## اقرأ النص التالي ثم أجب عن الأسئلة التالية:

تجمع دولة الإمارات العربية المتحدة وجمهورية مصر العربية علاقات قوية وأخوية، تقوم على الاحترام المتبادل والتعاون المشترك. وتُعد هذه العلاقة من أقدم وأهم العلاقات في العالم العربي. دولة الإمارات تقع في منطقة الخليج العربي، وعاصمتها أبوظبي. أما مصر فتقع في شمال قارة أفريقيا، وعاصمتها القاهرة، وهي من أقدم الحضارات في العالم.

بدأت العلاقات الرسمية بين البلدين عام 1971، بعد قيام الاتحاد في دولة الإمارات. وقد دعم الشيخ زايد بن سلطان آل نهيان - رحمه الله - مصر في العديد من المواقف، مما عزز أواصر المحبة بين الشعبين. تشمل العلاقات بين الإمارات ومصر مجالات عديدة، مثل التعليم، والاقتصاد، والثقافة، والسياحة، والدفاع. ويتبادل قادة البلدين الزيارات الرسمية لتقوية العلاقات الاستراتيجية بينهما.

2- ما عاصمة جمهورية مصر العربية؟

(د) طرابلس

(ج) القاهرة

(ب) الاسكندرية

(أ) أبوظبي

## اقرأ النص التالي ثم أجب عن الأسئلة التالية:

تجمع دولة الإمارات العربية المتحدة وجمهورية مصر العربية علاقات قوية وأخوية، تقوم على الاحترام المتبادل والتعاون المشترك. وتُعد هذه العلاقة من أقدم وأهم العلاقات في العالم العربي. دولة الإمارات تقع في منطقة الخليج العربي، وعاصمتها أبوظبي. أما مصر فتقع في شمال قارة أفريقيا، وعاصمتها القاهرة، وهي من أقدم الحضارات في العالم.

بدأت العلاقات الرسمية بين البلدين عام 1971، بعد قيام الاتحاد في دولة الإمارات. وقد دعم الشيخ زايد بن سلطان آل نهيان - رحمه الله - مصر في العديد من المواقف، مما عزز أواصر المحبة بين الشعبين. تشمل العلاقات بين الإمارات ومصر مجالات عديدة، مثل التعليم، والاقتصاد، والثقافة، والسياحة، والدفاع. ويتبادل قادة البلدين الزيارات الرسمية لتقوية العلاقات الاستراتيجية بينهما.

3- أين تقع دولة الإمارات العربية المتحدة؟

أ) الخليج العربي      ب) شرق آسيا      ج) شمال أفريقيا      د) شمال أوروبا

# الإمارات ومصر.. علاقات تجارية حافلة بالأرقام



اقرأ الشكل المعلوماتي التالي ثم أجب عن الأسئلة :

4- كم عدد الشركات الإماراتية التي تعمل في مصر؟

أ) 247.6

ب) 744

ج) 13.2

د) 1250

# الإمارات ومصر.. علاقات تجارية حافلة بالأرقام



اقرأ الشكل المعلوماتي التالي ثم أجب عن الأسئلة :

5- كم بلغت نسبة نمو التبادل التجاري عام 2021؟  
أ) 27%

ب) 3635%

ج) 50%

د) 2779%

تأمل الخريطة ثم أجب عن الأسئلة :



6- تشترك مصر بحدودها من جهة الشمال الشرقي مع؟

أ) ليبيا

ب) السودان

ج) فلسطين

د) أثيوبيا

تأمل الخريطة ثم أجب عن الأسئلة :



7- تشترك مصر بحدودها من جهة الجنوب مع؟

أ) ليبيا

ب) السودان

ج) فلسطين

د) أثيوبيا

# عبقريّة اليونان القديمة.. مقروء

مقروء	عبقريّة اليونان القديمة	يفسر دور وتأثير الشخصيات المهمة وأفكارها ومعتقداتها في قيام الحضارات القديمة	4
-------	-------------------------	--	---

## اقرأ النص التالي ثم أجب عن الأسئلة:

تميزت الحضارة الإغريقية بتقدم ملحوظ في مجالات الطب والفنون والسياسة، وكان للشخصيات البارزة تأثير عميق على تطور هذه المجالات. في مجال الطب يعد أبقرات شخصية محورية حيث وضع أسس الطب الحديث من خلال منهجه القائم على الملاحظة العقلانية. كما ينسب إليه قسم (أبقرات الشهير). أما في عالم الفنون فقد أبدع الإغريق في النحت والعمارة والمسرح، ترك فنانون ونحاتون مثل فيدياس بصمات لا تنسى في فن النحت تجسدت في تماثيل ضخمة مثل: تمثال زيوس في أولمبيا. كما ازدهر المسرح مع كتاب مثل سوفوكليس وبيوربيدس الذين قدموا روائع التراجيديات التي استكشفت أعماق النفس البشرية والقضايا الاجتماعية. تعد أثينا عاصمة اليونان والقائد بريكليس هو الذي قادها في عصرها الذهبي.

1- في أي مجال أبدع الفنان فيدياس؟

(د) الموسيقى

(ج) العمارة

(ب) المسرح

(أ) النحت

## اقرأ النص التالي ثم أجب عن الأسئلة:

تميزت الحضارة الإغريقية بتقدم ملحوظ في مجالات الطب والفنون والسياسة، وكان للشخصيات البارزة تأثير عميق على تطور هذه المجالات. في مجال الطب يعد أبقرات شخصية محورية حيث وضع أسس الطب الحديث من خلال منهجه القائم على الملاحظة العقلانية. كما ينسب إليه قسم (أبقرات الشهير). أما في عالم الفنون فقد أبدع الإغريق في النحت والعمارة والمسرح، ترك فنانون ونحاتون مثل فيدياس بصمات لا تنسى في فن النحت تجسدت في تماثيل ضخمة مثل: تمثال زيوس في أولمبيا. كما ازدهر المسرح مع كتاب مثل سوفوكليس وبيوربيدس الذين قدموا روائع التراجيديات التي استكشفت أعماق النفس البشرية والقضايا الاجتماعية. تعد أثينا عاصمة اليونان والقائد بريكلليس هو الذي قادها في عصرها الذهبي.

2- من هو الطبيب الإغريقي الذي وضع أسس الطب الحديث؟

- (أ) بريكلليس (ب) أبقرات (ج) أرسطو (د) فيدياس

## اقرأ النص التالي ثم أجب عن الأسئلة:

تميزت الحضارة الإغريقية بتقدم ملحوظ في مجالات الطب والفنون والسياسة، وكان للشخصيات البارزة تأثير عميق على تطور هذه المجالات. في مجال الطب يعد أبقرات شخصية محورية حيث وضع أسس الطب الحديث من خلال منهجه القائم على الملاحظة العقلانية. كما ينسب إليه قسم (أبقرات الشهير). أما في عالم الفنون فقد أبدع الإغريق في النحت والعمارة والمسرح، ترك فنانون ونحاتون مثل فيدياس بصمات لا تنسى في فن النحت تجسدت في تماثيل ضخمة مثل: تمثال زيوس في أولمبيا. كما ازدهر المسرح مع كتاب مثل سوفوكليس وبيوربيدس الذين قدموا روائع التراجيديات التي استكشفت أعماق النفس البشرية والقضايا الاجتماعية. تعد أثينا عاصمة اليونان والقائد بريكليس هو الذي قادها في عصرها الذهبي.

3- ما هي عاصمة اليونان؟

- (أ) طوكيو (ب) قبرص (ج) البندقية (د) أثينا

## اقرأ النص التالي ثم أجب عن الأسئلة:

تميزت الحضارة الإغريقية بتقدم ملحوظ في مجالات الطب والفنون والسياسة، وكان للشخصيات البارزة تأثير عميق على تطور هذه المجالات. في مجال الطب يعد أبقرات شخصية محورية حيث وضع أسس الطب الحديث من خلال منهجه القائم على الملاحظة العقلانية. كما ينسب إليه قسم (أبقرات الشهير). أما في عالم الفنون فقد أبدع الإغريق في النحت والعمارة والمسرح، ترك فنانون ونحاتون مثل فيدياس بصمات لا تنسى في فن النحت تجسدت في تماثيل ضخمة مثل: تمثال زيوس في أولمبيا. كما ازدهر المسرح مع كتاب مثل سوفوكليس وبيوربيدس الذين قدموا روائع التراجيديات التي استكشفت أعماق النفس البشرية والقضايا الاجتماعية. تعد أثينا عاصمة اليونان والقائد بريكليس هو الذي قادها في عصرها الذهبي.

4- من هو القائد الذي أوصل اليونان إلى عصرها الذهبي؟

- (أ) فيليب (ب) بريكليس (ج) سولون (د) هيرودت



# جوجيتسو الإمارات

## في أرقام

74  
ألفاً

عدد ممارسي  
الجوجيتسو  
حالياً بمختلف  
مدارس الإمارات

تأسيس نادي أبوظبي  
للقتال لتعليم الفنون  
القتالية والجوجيتسو

1997

تنظيم بطولة  
الجوجيتسو الأولى  
في الإمارات

1999

دخلت رياضة  
الجوجيتسو إلى  
المدارس

2003

تأسيس اتحاد  
الإمارات  
للجوجيتسو

2012



شهر إبريل

تقام بطولة أبوظبي العالمية  
لمحترفي الجوجيتسو بشكل سنوي

اقرأ الشكل المعلوماتي التالي ثم أجب عن الأسئلة :


5- في أي شهر تقام بطولة أبوظبي العالمية للجوجيتسو؟

أ) فبراير

ب) إبريل

ج) يوليو

د) يناير



# جوجيتسو الإمارات

## في أرقام



اقرأ الشكل المعلوماتي التالي ثم أجب عن الأسئلة :

6- في أي عام تم تأسيس نادي أبوظبي للتعليم الفنون القتالية و الجيجيتسو؟

أ) 1997م

ب) 2012م

ج) 2003م

د) 1999م

# العلاقات الثنائية الإماراتية - اليابانية .. مقروء - معلوماتي

مقروء - معلوماتي	العلاقات الثنائية الإماراتية - اليابانية	يحلل الخصائص الطبيعية لأماكن مختلفة من سطح الأرض ومدى تأثيرها على حياة السكان فيها ، مصر ، كوريا الجنوبية ، الصين ، الهند ، اليابان	5
------------------	--	---	---

## اقرأ النص التالي ثم أجب عن الأسئلة:



تربط دولة الإمارات العربية المتحدة واليابان علاقات قوية تقوم على التعاون في مجالات الاقتصاد والطاقة والتعليم والتكنولوجيا. وتعد اليابان من أهم الشركاء التجاريين لدولة الإمارات، حيث تصدر الإمارات النفط لليابان، وتستورد منها السيارات والإلكترونيات. تقع اليابان في شرق قارة آسيا، وهي دولة جزرية تتكون من أكثر من 6,800 جزيرة، أكبرها "هونشو". وتتميز اليابان بطبيعتها الجبلية وكثرة البراكين والزلازل، لأنها تقع في منطقة "الحزام الناري".

وتعد عاصمتها طوكيو العاصمة السياسية للبلاد، تتميز اليابان بطبيعة جبلية، إذ تغطي الجبال حوالي 80% من مساحتها وأشهرها جبل فوجي الذي يعد رمزا وطنيا وسياحيا للبلاد. كما تشهد اليابان أربعة فصول واضحة، وتشتهر في فصل الربيع بتفتح أزهار الساكورا (أزهار الكرز) التي تجذب السياح من جميع أنحاء العالم.

1- في أي قارة تقع اليابان؟

(د) أمريكا

(ج) آسيا

(ب) أفريقيا

(أ) أوروبا

## اقرأ النص التالي ثم أجب عن الأسئلة:



تربط دولة الإمارات العربية المتحدة واليابان علاقات قوية تقوم على التعاون في مجالات الاقتصاد والطاقة والتعليم والتكنولوجيا. وتعد اليابان من أهم الشركاء التجاريين لدولة الإمارات، حيث تصدر الإمارات النفط لليابان، وتستورد منها السيارات والإلكترونيات.

تقع اليابان في شرق قارة آسيا، وهي دولة جزرية تتكون من أكثر من 6,800 جزيرة، أكبرها "هونشو". وتتميز اليابان بطبيعتها الجبلية وكثرة البراكين والزلازل، لأنها تقع في منطقة "الحزام الناري".

وتعد عاصمتها طوكيو العاصمة السياسية للبلاد، تتميز اليابان بطبيعة جبلية، إذ تغطي الجبال حوالي 80% من مساحتها وأشهرها جبل فوجي الذي يعد رمزا وطنيا وسياحيا للبلاد. كما تشهد اليابان أربعة فصول واضحة، وتشتهر في فصل الربيع بتفتح أزهار الساكورا (أزهار الكرز) التي تجذب السياح من جميع أنحاء العالم.

2- ما هو سبب تعرض اليابان للزلازل؟

أ) لأنها بلد جبلي      ب) لأنها تقع على حزام النار      ج) كثرة الأمطار      د) قربها من خط الاستواء

## اقرأ النص التالي ثم أجب عن الأسئلة:



تربط دولة الإمارات العربية المتحدة واليابان علاقات قوية تقوم على التعاون في مجالات الاقتصاد والطاقة والتعليم والتكنولوجيا. وتعد اليابان من أهم الشركاء التجاريين لدولة الإمارات، حيث تصدر الإمارات النفط لليابان، وتستورد منها السيارات والإلكترونيات. تقع اليابان في شرق قارة آسيا، وهي دولة جزرية تتكون من أكثر من 6,800 جزيرة، أكبرها "هونشو". وتتميز اليابان بطبيعتها الجبلية وكثرة البراكين والزلازل، لأنها تقع في منطقة "الحزام الناري".

وتعد عاصمتها طوكيو العاصمة السياسية للبلاد، تتميز اليابان بطبيعة جبلية، إذ تغطي الجبال حوالي 80% من مساحتها وأشهرها جبل فوجي الذي يعد رمزا وطنيا وسياحيا للبلاد. كما تشهد اليابان أربعة فصول واضحة، وتشتهر في فصل الربيع بتفتح أزهار الساكورا (أزهار الكرز) التي تجذب السياح من جميع أنحاء العالم.

3- من أشهر الجبال في اليابان؟

(د) ساكورا

(ج) فوجي

(ب) الألب

(أ) هالاسان

## اقرأ النص التالي ثم أجب عن الأسئلة:



تربط دولة الإمارات العربية المتحدة واليابان علاقات قوية تقوم على التعاون في مجالات الاقتصاد والطاقة والتعليم والتكنولوجيا. وتعد اليابان من أهم الشركاء التجاريين لدولة الإمارات، حيث تصدر الإمارات النفط لليابان، وتستورد منها السيارات والإلكترونيات. تقع اليابان في شرق قارة آسيا، وهي دولة جزرية تتكون من أكثر من 6,800 جزيرة، أكبرها "هونشو". وتتميز اليابان بطبيعتها الجبلية وكثرة البراكين والزلازل، لأنها تقع في منطقة "الحزام الناري".

وتعد عاصمتها طوكيو العاصمة السياسية للبلاد، تتميز اليابان بطبيعة جبلية، إذ تغطي الجبال حوالي 80% من مساحتها وأشهرها جبل فوجي الذي يعد رمزا وطنيا وسياحيا للبلاد. كما تشهد اليابان أربعة فصول واضحة، وتشتهر في فصل الربيع بتفتح أزهار الساكورا (أزهار الكرز) التي تجذب السياح من جميع أنحاء العالم.

4- من صادرات الامارات لليابان؟

- أ) السيارات      ب) النفط      ج) أجهزة الكترونية      د) عطور

## اقرأ النص التالي ثم أجب عن الأسئلة:




تربط دولة الإمارات العربية المتحدة واليابان علاقات قوية تقوم على التعاون في مجالات الاقتصاد والطاقة والتعليم والتكنولوجيا. وتعد اليابان من أهم الشركاء التجاريين لدولة الإمارات، حيث تصدر الإمارات النفط لليابان، وتستورد منها السيارات والإلكترونيات. تقع اليابان في شرق قارة آسيا، وهي دولة جزرية تتكون من أكثر من 6,800 جزيرة، أكبرها "هونشو". وتتميز اليابان بطبيعتها الجبلية وكثرة البراكين والزلازل، لأنها تقع في منطقة "الحزام الناري".

وتعد عاصمتها طوكيو العاصمة السياسية للبلاد، تتميز اليابان بطبيعة جبلية، إذ تغطي الجبال حوالي 80% من مساحتها وأشهرها جبل فوجي الذي يعد رمزا وطنيا وسياحيا للبلاد. كما تشهد اليابان أربعة فصول واضحة، وتشتهر في فصل الربيع بتفتح أزهار الساكورا (أزهار الكرز) التي تجذب السياح من جميع أنحاء العالم.

5- تكون من أكثر من 6800 جزيرة يطلق عليه مصطلح؟

- (أ) أرخبيل (ب) جزر رئيسية (ج) أشباه الجزر (د) حزام النار



# الإمارات واليابان

قمم وزارات تعزز الشراكة  
الاستراتيجية

## الحدث

زيارة رئيس وزراء  
اليابان للإمارات

أول قمة ثنائية تجمع الشيخ  
محمد بن زايد آل نهيان وفوميو كيشيدا

## 3 قمم دولية سابقة

نوفمبر 2023 قمة مجموعة  
العشرين بإندونيسيا

يونيو 2022 وأبريل 2023 "منتدى  
الاقتصادات الرئيسية الخاص  
بالطاقة وتغير المناخ"

مباحثات هاتفية سبتمبر / مارس 2022

## زيارات متبادلة

2007 و 2014  
الشيخ محمد بن زايد آل نهيان  
إلى اليابان

1990  
الشيخ زايد بن سلطان آل نهيان  
يزور اليابان

2018 و 2020  
الراحل شينزو آبي  
يزور الإمارات

1995  
الإمبراطور الياباني ناروهيتو  
(ولي العهد حينها)

اقرأ الشكل المعلوماتي التالي ثم أجب عن الأسئلة :

6- أي تم عقد قمة مجموعة العشرين؟

أ) اليابان

ب) الامارات

ج) أندونيسيا

د) الصين



# الإمارات واليابان

قمم وزيارات تعزز الشراكة الاستراتيجية

## الحدث

زيارة رئيس وزراء اليابان للإمارات

أول قمة ثنائية تجمع الشيخ محمد بن زايد آل نهيان وفوميو كيشيدا

## 3 قمم دولية سابقة

نوفمبر 2023 قمة مجموعة العشرين بإندونيسيا

يونيو 2022 وأبريل 2023 "منتدى الاقتصادات الرئيسية الخاص بالطاقة وتغير المناخ"

مباحثات هاتفية سبتمبر / مارس 2022

## زيارات متبادلة

2007 و 2014  
الشيخ محمد بن زايد آل نهيان إلى اليابان

1990  
الشيخ زايد بن سلطان آل نهيان يزور اليابان

2018 و 2020  
الراحل شينزو آبي يزور الإمارات

1995  
الإمبراطور الياباني ناروهيتو (ولي العهد حينها)

اقرأ الشكل المعلوماتي التالي ثم أجب عن الأسئلة :

7- زار الشيخ زايد آل نهيان رحمه الله اليابان عام؟

أ) 1990م

ب) 1971م

ج) 1995م

د) 1992م

في الختام أدعو الله أن يوفقكم ويجعل النجاح حليفكم

المعلمة: مريم محمد الشحي

شكرا لكم  
**THANK YOU**

المعلمة: مريم محمد الشحي