

## ورقة عمل حساب مساحة المنشور ثلاثي القاعدة



### تم تحميل هذا الملف من موقع المناهج الإماراتية

موقع المناهج ← المناهج الإماراتية ← الصف السادس ← رياضيات ← الفصل الثالث ← ملفات متنوعة ← الملف

تاريخ إضافة الملف على موقع المناهج: 2025-05-05 13:00:24

ملفات اكتب للمعلم اكتب للطالب | اختبارات الكترونية | اختبارات | حلول | عروض بوربوينت | أوراق عمل  
منهج انجليزي | ملخصات وتقارير | مذكرات وبنوك | الامتحان النهائي | للمدرس

المزيد من مادة  
رياضيات:

### التواصل الاجتماعي بحسب الصف السادس



صفحة المناهج  
الإماراتية على  
فيسبوك

الرياضيات

اللغة الانجليزية

اللغة العربية

التربية الاسلامية

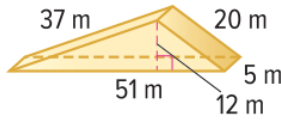
المواد على تلغرام

### المزيد من الملفات بحسب الصف السادس والمادة رياضيات في الفصل الثالث

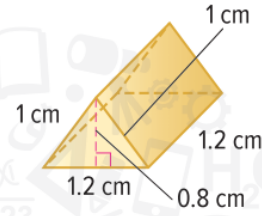
حل مراجعة الوحدة الثامنة Area المساحة منهج ريفيل	1
مراجعة الوحدة الثامنة Area المساحة منهج ريفيل	2
حل تمارين الدرس الخامس المضلع على المستوى الإحداثي من الوحدة التاسعة الهندسة	3
حل تمارين الدرس الرابع تغيرات الأبعاد من الوحدة التاسعة الهندسة	4
حل تمارين الدرس الثالث مساحة شبه المنحرف من الوحدة التاسعة الهندسة	5

أوجد مساحة سطح كل منشور ثلاثي. (المثالان 1-2)

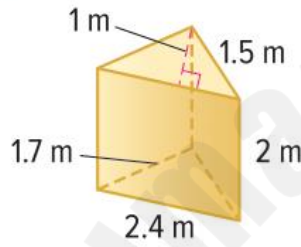
1.



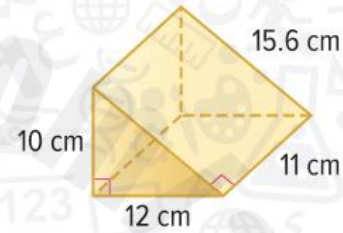
2.



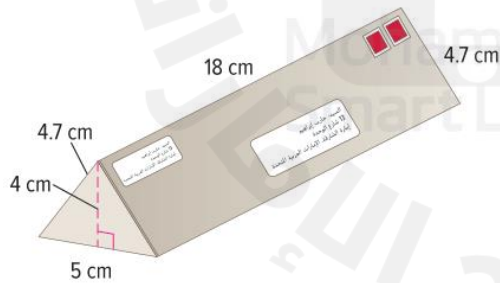
3



4.



7. مخروط بريدي للإعلانات على شكل منشور ثلاثي على النحو الموضح. احسب مساحة سطح المخروط البريدي. (المثال 3)



6. صندوق هدايا مزخرف على شكل منشور ثلاثي كما هو موضح. فما مساحة سطح هذا الصندوق؟ (المثال 3)

