

## مراجعة عامة وفق الهيكل الوزاري من برنامج الدعم الأكاديمي الافتراضي



### تم تحميل هذا الملف من موقع المناهج الإماراتية

موقع المناهج ← المناهج الإماراتية ← الصف السادس ← اجتماعيات ← الفصل الثالث ← ملفات متنوعة ← الملف

تاريخ إضافة الملف على موقع المناهج: 17:33:06 2025-06-17

ملفات اكتب للمعلم اكتب للطالب ا اختبارات الكترونية ا اختبارات ا حلول ا عروض بوربوينت ا أوراق عمل  
منهج انجليزي ا ملخصات وتقارير ا مذكرات وبنوك ا الامتحان النهائي للمدرس

المزيد من مادة  
اجتماعيات:

إعداد: نهى عبد العظيم

### التواصل الاجتماعي بحسب الصف السادس



صفحة المناهج  
الإماراتية على  
فيسبوك

الرياضيات

اللغة الانجليزية

اللغة العربية

التربية الاسلامية

المواد على تلغرام

### المزيد من الملفات بحسب الصف السادس والمادة اجتماعيات في الفصل الثالث

أنشطة تدريبية لتنمية مهارات وفق الهيكل الوزاري

1

مذكرة مراجعة امتحانية وفق الهيكل الوزاري متبوعة بالإجابات

2

مراجعة على شاكلة الاختبار النهائي وفق الهيكل الوزاري

3

مراجعة هيكل الامتحان النهائي الاجتماعيات لجميع المستويات مع الإجابات

4

حل ومناقشة أسئلة وفق الهيكل الوزاري

5



وزارة التربية والتعليم  
MINISTRY OF EDUCATION

وزارة التربية والتعليم

نطاق الظفرة

مدرسة غياثي المشتركة

# برنامج الدعم الأكاديمي الافتراضي الفصل الثالث 2025-2024

التاريخ 28/6/2025

الصف السادس

اليوم : الأربعاء

المادة الدراسات الاجتماعية

مديرة المدرسة أ/ موزة سعيد المنصوري

المعلمة : نهى عبد العظيم

## إرشادات عامة لاختبار مادة الدراسات الاجتماعية

- ❖ امتحان الدراسات الاجتماعية اختبار يقيس مهارات الطالب في ( قراءة وفهم النصوص واستخلاص الحقائق والمفاهيم والقيم الوطنية من النص – قراءة وتحليل الأشكال والرسومات والخرائط واستخلاص الحقائق منها )
- ❖ اختبار الدراسات الاجتماعية لا يحتوي أي أسئلة من الكتاب المدرسي تعتمد على حفظ معلومات الدروس بل أسئلة مهارية على الدروس والاجابات تكون من النصوص او الخرائط أو الأشكال
- ❖ عدم التسرع بالإجابة على الأسئلة والهدوء واخذ الوقت الكافي للإجابة على الأسئلة بشكل صحيح

## مهارات الدراسات الاجتماعية

- استخراج الفكرة الرئيسية من النص.
- مهارة القراءة والاستنتاج.
- مهارة استخراج القيم السلوكية الإيجابية وقيم المواطنة مثل(الرحمة ، التسامح ، حب الخير ، الانتماء ، الولاء )
- مهارة استخراج المفاهيم والمصطلحات مثل ( المواطنة ، الثورة المعلوماتية ، الخريطة )
- مهارات الخريطة ومنها :
  - تحديد عناصر الخريطة : عنوان الخريطة ، مفتاح الخريطة ، رموز الخريطة ، مقياس الرسم ، مابين الجهات ، إطار الخريطة ، النظام الشبكي خطوط الطول ودوائر العرض.
  - تحديد الجهات الأصلية والفرعية على الخريطة ( شمال ، جنوب ، شرق ، غرب ، شمال غربي ، شمال شرقي ، جنوب شرقي ، شمال غربي )
  - خط الطول الرئيسي (خط جرينتش)
  - خط العرض الرئيسي ( خط الاستواء )
  - مهارة قراءة مفتاح الخريطة والتميز بين الرموز ( الخطية والنقطية والرقمية والرسوم المبسطة )

استعيني بالله قبل البدء في الاختبار

افهمي السؤال جيدا ثم اجيبي

خذي وقتك في الاجابة ولا تستعجلي

استغلي باقي الوقت في المراجعة

**أهم المهارات  
التي يركز عليها  
اختبار الدراسات  
الاجتماعية :**



# مهارات اساسية

## مدرسة غياثي المشتركة

كيف تستطيع التفريق بين  
الحقيقة والمفاهيم والتعاميم

التعاميم

تعريف التعميمات :  
عبارة تربط بين  
مفهومين أو أكثر من  
المفاهيم .  
مثل : ينتسب الناس  
إلى مجموعة بشرية  
متعددة .

المفاهيم

تعريف المفاهيم :  
مجموعة من الأشياء أو  
الرموز والأحداث الخاصة  
التي تم تجمعها على أساس  
من الصفات أو الخصائص  
المشتركة والتي تصنف في  
فئة محددة حسب معيار  
محدد . مثل الكسوف

الحقيقة

هي جملة يعتقد بأنها  
صحيحة .  
أمثلة :  
1. الأرض تدور حول  
الشمس .  
2. مساحة الامارات  
83600 كم مربع .

## المهارات المطلوبة

مهارة القراءة السليمة للنص  
مهارة قراءة وتحليل الصور  
مهارة التحليل والاستنتاج  
مهارة الربط واستخلاص الحقائق  
مهارة اصدار الأحكام

2024

موقع المناهج

## 1- من القيم الإيجابية الواردة في الشكل:

السياحة	التعاون	التعایش	التسامح
---------	---------	---------	---------

## 2- كم يبلغ نسبة الفرق في السياح اليابانيين بين عامي 2021-2022:

22 زائر ياباني	30 زائر ياباني	56 زائر ياباني	26 زائر ياباني
----------------	----------------	----------------	----------------

## 3- من أبرز قطاعات التعاون بين الإمارات واليابان:

قطاع النقل والصناعة	قطاع البناء	قطاع الأمن	قطاع الغاز
---------------------	-------------	------------	------------

## 4- كم يبلغ حجم الاستثمارات اليابانية في الإمارات:

14 مليار دولار	16 مليار دولار	18 مليار دولار	20 مليار دولار
----------------	----------------	----------------	----------------

## 5- كم تبلغ نسبة حصة الإمارات من استثمارات الشرق الأوسط باليابان:

14%	50%	54%	60%
-----	-----	-----	-----

# الإمارات واليابان

ثمار اقتصادية ناشجة لنصف قرن من التعاون

الاستثمارات اليابانية  
في الإمارات

340  
شركة يابانية

تعمل في دولة  
الإمارات

60%

حصة الإمارات من  
استثمارات الشرق الأوسط  
باليابان

التجارة

54.1

مليار دولار

حجم التبادل التجاري  
في 2022

الاستثمار

14

مليار دولار

الاستثمارات اليابانية  
في الإمارات



عبر الناقلات  
الإماراتية شهريا

90  
رحلة طيران

30 ألف زائر ياباني للإمارات

2021

56 ألف زائر ياباني للإمارات

2022

السائح

## أبرز قطاعات التعاون

التكنولوجيا | الطاقة المتجددة | النقل | الرعاية الصحية | البنية التحتية والصناعة

المصدر: بيانات رسمية



اقرأ النص، وأجبني عن ما يلي من أسئلة:

1-صنفت الإمارات من حيث الشراكة مع اليابان في المرتبة:

المرتبة العاشرة	المرتبة التاسعة	المرتبة الثامنة	المرتبة السابعة
-----------------	-----------------	-----------------	-----------------

2-تبلغ الفروق الرقمية في الاستثمارات بين اليابان والإمارات حوالي:

2.1مليار دولار	30 مليار دولار	1.9 مليار دولار	4 مليار دولار
----------------	----------------	-----------------	---------------

3-أهم الصادرات الإماراتية إلى اليابان:

الغاز	النحاس	السيارات	النفط
-------	--------	----------	-------

4-كم يبلغ إجمالي عدد الشركات اليابانية التي تعمل في الإمارات:

350 شركة	250 شركة	340 شركة	240 شركة
----------	----------	----------	----------

5-أي من العبارات التالية يمكن استثنائها من وصف الشراكة الإماراتية اليابانية :

تستورد الإمارات النفط من اليابان	هناك العديد من الشركات اليابانية في الإمارات	حجم التبادل التجاري بين الدولتين 30.5 مليار	خمسون عام من العلاقات التجارية
----------------------------------	--	---	--------------------------------

## التبادل التجاري بين الإمارات واليابان

خمسون عاماً من الإنجاز

23%

من إجمالي متطلبات اليابان النفطية توفرها الإمارات

26

مليار دولار  
صادرات إماراتية

6.5

مليار دولار  
صادرات يابانية

30.5

مليار دولار  
تبادل تجاري في 2021

340

شركة يابانية  
تعمل بالإمارات

4

مليارات دولار  
إجمالي الاستثمارات اليابانية المباشرة في الإمارات 2021

2.1

مليار دولار  
الاستثمارات الإماراتية في اليابان نهاية العام الماضي



## أهم الأنشطة الاقتصادية التي تمارس في الصحراء

الرعي



هو نشاط تقليدي قديم يقوم به سكان البيئة الصحراوية، حيث ينتقلون فيها من مكان لآخر بحثاً عن الماء والعشب، ومن أهم الحيوانات (الإبل - الماعز - الأغنام).

1

الزراعة



على الرغم من شدة الحرارة وقلة المياه، إلا أن ذلك لم يمنع من ممارسة النشاط الزراعي في الصحراء وخاصة في مناطق الواحات، مثل: (واحة العين - واحة ليوا)، ومن أهم المحاصيل الزراعية في دولة الإمارات العربية المتحدة (الخضروات - الفواكه - النخيل).

2

استخراج المعادن والموارد الطبيعية



تعد الصحراء الإماراتية غنية بالثروات والمعادن الطبيعية ومصادر الطاقة، مثل: (النفط - الغاز الطبيعي - الطاقة الشمسية - الملح الصخري - المعادن).

3

السياحة

تنشط السياحة في صحراء دولة الإمارات العربية المتحدة في فصل الشتاء الذي يشهد انخفاضاً في درجات الحرارة، لتكون الصحراء الوجهة السياحية الأولى للمواطنين والمقيمين والزائرين من خارج الدولة بشكل خاص، حيث تقام فعاليات وأنشطة ترفيهية منها:

4

## 1- أهم تفسري نشاط السياحة في صحراء دولة الإمارات العربية المتحدة في فصل الشتاء:

لأن الصحراء هي الوجهة الأولى للزائرين فقط	لأن بها عدد محدود من الفعاليات والأنشطة	لأن درجات الحرارة منخفضة في فصل الشتاء	لأن الواحات هي الوجهة الأولى للمقيمين والقادمين من الخارج
---	---	--	---

## 2- النشاط الاقتصادي الذي قام في صحراء الإمارات بالرغم من شدة الحرارة وقلة المياه وقام في مناطق الواحات:

الرعي	الزراعة	استخراج المعادن	السياحة
-------	---------	-----------------	---------

## 3- من أهم مصادر الطاقة المتجددة في دولة الإمارات العربية المتحدة:

الطاقة الشمسية	النفط	الغاز الطبيعي	النجم
----------------	-------	---------------	-------

## 4- نشاط صحراوي يعتمد على التنقل من مكان لآخر بحثاً عن الماء والعشب:

الزراعة	الرعي	السياحة	استخراج المعادن
---------	-------	---------	-----------------

## 5- من الواحات التي قامت فيها الزراعة في دولة الإمارات العربية المتحدة:

واحة الظفرة وحنا	واحة العين والذيد	واحة العين وليوا	واحة غياثي ومدينة زايد
------------------	-------------------	------------------	------------------------



## 1- العنوان الأنسب للخريطة:

الخريطة الطبيعية	الخريطة السياسية	خريطة المياه	خريطة النباتات
لأفريقيا	لأفريقيا	الإقليمية لأفريقيا	الطبيعية في إفريقيا

## 2- المسطح المائي الذي يجاور أفريقيا من جهة الغرب:

البحر المتوسط	المحيط الأطلسي	المحيط الهادي	المحيط الهندي
---------------	----------------	---------------	---------------

## 3- من الجزر التي تتبع القارة الأفريقية:

السودان	جنوب أفريقيا	هاواي	مدغشقر
---------	--------------	-------	--------

## 4- الدولة العربية الأفريقية التي تطل على البحر المتوسط والبحر الأحمر:

مصر	كينيا	النيجر	تونس
-----	-------	--------	------

## 5- دائرة العرض الرئيسية التي تقطع أفريقيا:

خط الاستواء	الدائرة القطبية	الدائرة المعتدلة	خط التاريخ الدولي
-------------	-----------------	------------------	-------------------



1- الدولة التي تجاور مصر من جهة الغرب:

الصومال	ليبيا	كينيا
---------	-------	-------

2- المسطح المائي الذي يجاور مصر من الشمال:

البحر المتوسط	البحر الأحمر	بحر العرب
---------------	--------------	-----------

3- القناة المائية التي حفرها المصريون، وتصل البحر المتوسط بالبحر الأحمر:

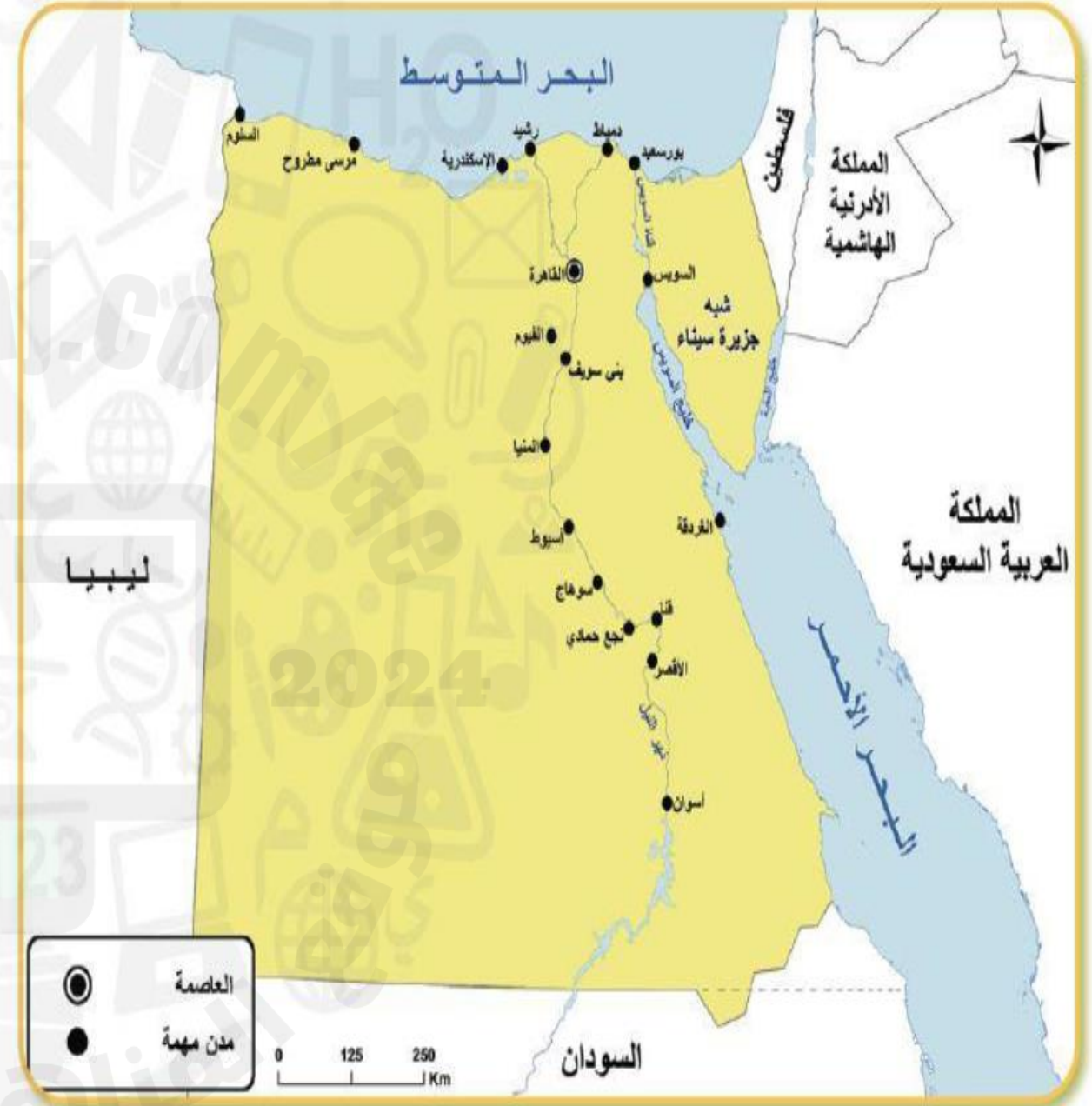
قناة بنما	قناة النيل	قناة السويس
-----------	------------	-------------

4- تشترك جمهورية مصر العربية بحدودها الجنوبية مع:

السودان	الصومال	جيبوتي
---------	---------	--------

5- ما اسم الجزء الواقع في القارة الآسيوية من أرض جمهورية مصر العربية:

القاهرة	أسوان	شبه جزيرة سيناء
---------	-------	-----------------





ولد الشيخ زايد بن سلطان آل نهيان - رحمه الله - في قصر الحصن في أبوظبي عام 1918م وسمي باسم جده زايد بن خليفة المعروف بزايد الأول، أظهر شغفا متزايدا بكل ما يمت بصلة العربي الأصل مثل: الصيد بالصقور . تجلّى اهتمام المغفور له بأذن الله الشيخ زايد بن سلطان آل نهيان - رحمه الله - في قضايا حماية البيئة و تنميتها , من خلال تحديه للطبيعة الصحراوية في دولة الامارات, و تحويلها الى جنة خضراء يانعة، ومن المبادرات البيئية الرائدة في الدولة انشاء مركز الشيخ زايد لعلوم الصحراء بهدف المحافظه على التراث البيئي الثري و فهم طبيعة الصحراء و إدراك قيمتها لما لها من أهمية في القدم و الحاضر و المستقبل. قديما من أجل توفير المياه الجوفية و في الحاضر للنباتات الطبيعية المستخدمة في الطب و في المستقبل من أجل توسيع العمراني , الوالد المؤسس كونه عاش و ترعرع في بيئته صحراوية ظهرت فيه الخصال الحميدة فأثرت فيه من خلال اكتساب قيم وجدانية منها : العقلانية في احكامه - الالباء و الاصاله العربية .من اهم الأنشطة الاقتصادية في الصحراء الرعي و الزراعة على الرغم من شدة الحرارة الا ان ذلك لم يمنع ممارسة هذا النشاط و خاصه مناطق الواحات مثل واحة العين و من أهم المحاصيل الزراعية : الفواكه و الخضروات .

في عام 1996م منح الشيخ زايد بن سلطان آل نهيان - رحمه الله - وسام المحافظة على البيئة تقديرا و عرفانا لاسهاماته الكبيرة لحماية البيئة .

توفي الشيخ زايد بن سلطان آل نهيان في عام 2004م، و له الفضل في توطين البدو الرحل و توفير المعيشة الثابتة و المستدامة للجميع و جعل الاعتماد على زراعة الأرض و الاستفادة منها كما قامت المدن في الصحراء بتوجيهاته مثل: بدع زايد.

1- من الخصال الحميدة التي اكتسبها الشيخ زايد رحمه الله من الصحراء :

التقاعس عن العمل	العقلانية في أحكامه	التفرقة	حماية البيئة
------------------	---------------------	---------	--------------

2- تمثل اهتمام الشيخ زايد في قضايا البيئة وتنميتها في :

توطين البدو	تحويل الصحراء إلى جنة خضراء يانعة	التوسع العمراني في الصحراء	التراث البيئي الثري
-------------	-----------------------------------	----------------------------	---------------------

3- تعد البيئة الصحراوية من أهم مصادر الدخل القومي في الدولة لتنوع مواردها الطبيعية فما أهمية الصحراء قديما:

النباتات الطبيعية المستخدمة في الطب	التوسع العمراني	توفير المياه الجوفية	السياحة
-------------------------------------	-----------------	----------------------	---------

4- من المدن التي قامت في صحراء الإمارات :

دبا	ليوا	بدع زايد	خورفكان
-----	------	----------	---------

5- من أجل إدراك أهمية الصحراء والمحافظة على التراث البيئي وفهم طبيعة الصحراء تم إنشاء مركز:

الشيخ زايد لعلوم الصحراء	محمد بن راشد للفضاء	الصحاري الرملية	الشيخ زايد للصيد بالصقور
--------------------------	---------------------	-----------------	--------------------------



ثانياً: اقرأ معلومات الشكل الآتي ثم أجب:



1- تم إقرار اتفاقية التجارة الحرة في قارة أفريقيا من قبل أغلب الدول في عام:

2018م

2019م

2009م

2016م

2- بلغ عدد سكان القارة الأفريقية نحو:

2.1 مليار نسمة

12 مليار نسمة

1.2 مليار نسمة

2 مليار نسمة

3- من أبرز أهداف اتفاقية التجارة الحرة في قارة أفريقيا:

إلغاء الرسوم الجمركية

فرض ضرائب جديدة

زيادة الرسوم الجمركية

إنشاء المولات

4- بلغت نسبة حصة التجارة للدول الأفريقية عام 2016م:

81%

8.1%

1.8%

18%

5- لم يتم المصادقة المبدئية على اتفاقية التجارة الحرة في قارة أفريقيا من قبل بعض الدول، منها:

ساحل العاج

إريتريا

مصر

جنوب أفريقيا

## أولاً: اقرأ النص الآتي ثم أجب:

تمكن الشيخ زايد بن سلطان آل نهيان -رحمه الله- من تحويل الكثبان الرملية إلى تلال خضراء، فكانت إنجازات عملاقة يشهد لها التاريخ، بجعل التنمية المستدامة واقعاً، فقد حرص منذ توليه مقاليد الحكم في إمارة أبوظبي 1966م على الاهتمام بالقضايا البيئية، حتى استطاعت دولة الإمارات التغلب على الطبيعة القاسية للصحراء ودرجات الحرارة العالية لتحول أجزاء منها إلى مناطق زراعية منتجة. وانطلاقاً من مقولته الشهيرة «أعطوني زراعة.. أضمن لكم الحضارة»، نجح في تحديده لمواجهة التصحر، حيث بلغت مساحة المزارع عام 1997م حوالي 879234 دونماً موزعة على حوالي 22930 مزرعة. فتوجهات الوالد المؤسس دفعت الباحثين إلى إجراء تجارب عديدة لزراعة مختلف الأنواع من الفاكهة والخضراوات باستخدام أحدث التقنيات لزيادة وتحسين الإنتاج، حيث تحققت نتائج باهرة عن طريق إيجاد مراكز بحوث زراعية حكومية في العين والذيد والجمراية وكلباء، واهتمت هذه المراكز بمكننة تلقيح النخيل واختبار أكثر من 30 نوعاً من الشعير والقمح.

### 1- من الأفكار الفرعية للنص:

جهود الدولة في التقليل من الاحتباس الحراري  
توجهات الوالد المؤسس لتحسين وزيادة الإنتاج الزراعي  
إنجازات القائد المؤسس في مجال الزراعة  
توزيع الشتلات الزراعية على المواطنين

2- تولى الشيخ زايد بن سلطان آل نهيان -رحمه الله- عام 1966م، حكم:  
دولة الإمارات  
مدينة مصدر  
إمارة أبوظبي  
إمارة دبي

3- في عهد الشيخ زايد بن سلطان آل نهيان تم إنشاء مركز بحث زراعي حكومي في مدينة:  
الفضيرة  
ليوا  
رأس الخيمة  
كلباء

4- من القيم السلوكية الإيجابية الواردة في النص:  
الامتياز  
الإخاء  
الرعاية  
الحضارة

5- اهتمت مراكز البحوث الزراعية الحكومية في دولة الإمارات ب:  
مكننة تلقيح النخيل  
توظيف المواطنين  
تشجير الطرق  
إنتاج الأسمدة



## السؤال الثالث: استعن بالخريطة والمعلومات الواردة عليها ثم اجب عن الأسئلة التالية :



1- يفصل بين قارة أفريقيا وقارة أوروبا مسطح مائي هو :

- A. المحيط الهادي
- B. البحر الأحمر
- C. البحر المتوسط
- D. المحيط الأطلسي

2- اسم خط الطول الرئيسي الذي يمر في قارة أفريقيا :

- A. خط الاستواء
- B. مدار السرطان
- C. مدار الجدي
- D. خط غرينتش

3- اين تقع معظم الدول العربية الأفريقية بالنسبة لقارة أفريقيا في جهة ؟

- A. الشرق
- B. الغرب
- C. الشمال
- D. الجنوب

4- ما هي الدولة الأفريقية الحبيسة ؟

- A. الكاميرون
- B. موزمبيق
- C. نيجيريا
- D. تشاد

5- ما هي الدولة العربية التي لها سواحل مطلة على البحر المتوسط والبحر الأحمر ؟

- A. جمهورية اليمن
- B. جمهورية مصر العربية
- C. جمهورية السودان
- D. المملكة العربية السعودية



السؤال الرابع: اقرأ النص الآتي ثم اجب عن الأسئلة التي تلي :

أنتوني راندل: (كان المغفور له بإذن الله تعالى الشيخ زايد بن سلطان آل نهيان - رحمه الله - الروح المحركة لمشروع الزراعة في المنطقة ، وقد اعتاد أن يقوم بجولاته دون سابق إخبار ؛ ليف بنفسه على ما يحرز من تقدم. كان يجلس على الأرض وهو ينظر إلى الطماطم، وهي تخرج من الرمال، ويواصل تأملاته بشأن إمكانية (تخصير)

أبو ظبي. ويساورني شعور بأن الزراعة الكثيفة في كل من العين وليوا، ومشروعات التشجير، كانت قد نبعت أصلاً من حديقتنا الخلفية بمنطقة الجاهلي. وعلمت أنه كان من مهام

قوة ساحل عمان الحفاظ على خزانات المياه مملوءة، وكانت أسراب الجراد في عام 1961م إحدى المشاكل الكثيرة التي وجهناها، ولقد علمت أن مدينة العين قد واجهت مشكلة مماثلة في عام 2008م).



1- اهتم الشيخ زايد بن سلطان آل نهيان - رحمه الله - بمشروع ساهم في دخل المواطنين ؟

- A. التجارة
- B. الصناعة
- C. الزراعة
- D. السباحة

2- ما العلاقة بين النص والصورة ؟

- A. القوة والشجاعة
- B. وفرة المياه
- C. حب الزراعة
- D. الصبر على المحن

3- ما نوع الزراعة في كل من مدينة العين ومحاضر ليوا؟

- A. الزراعة الكثيفة
- B. الزراعة المختلطة
- C. الزراعة الواسعة
- D. الزراعة البعلية المروية

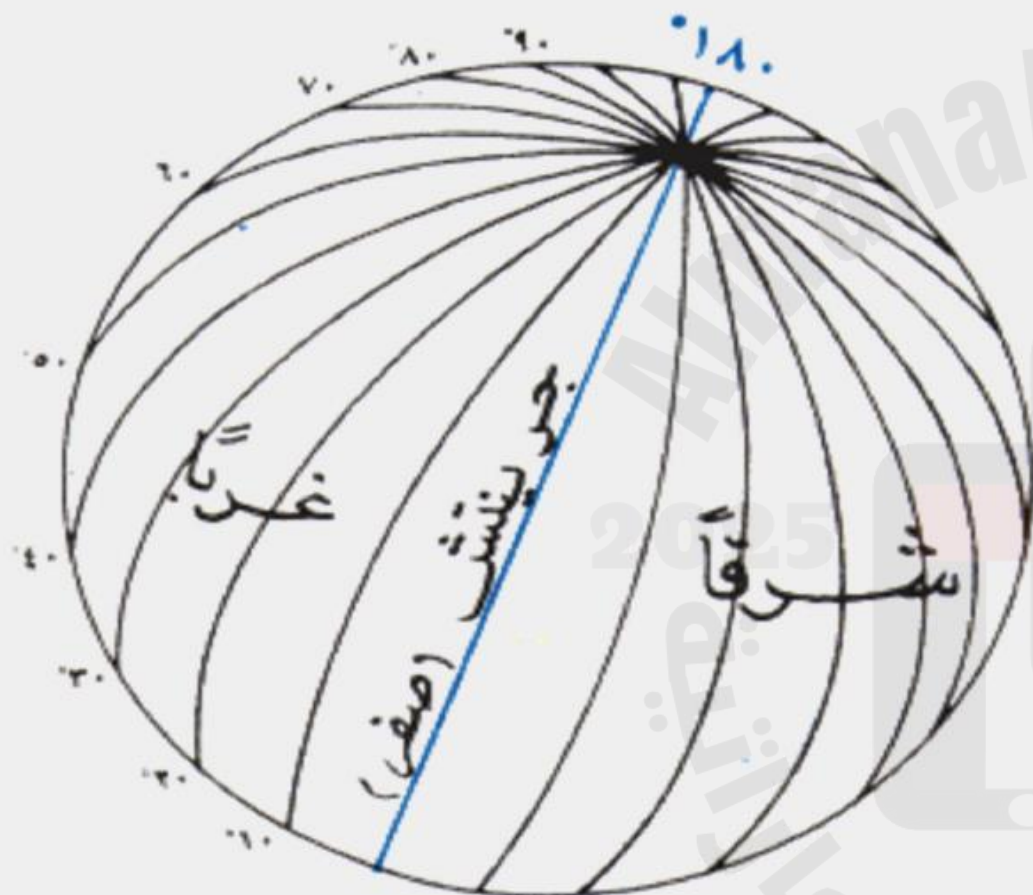
4- استنتج نوع التربة الأكثر انتشاراً في دولة الإمارات العربية المتحدة ؟

- A. التربة البركانية
- B. التربة الرملية
- C. التربة الفيضية
- D. التربة الطينية الرملية

5 - ما المشكلة التي عانت منها منطقة العين في عام 2008م ؟

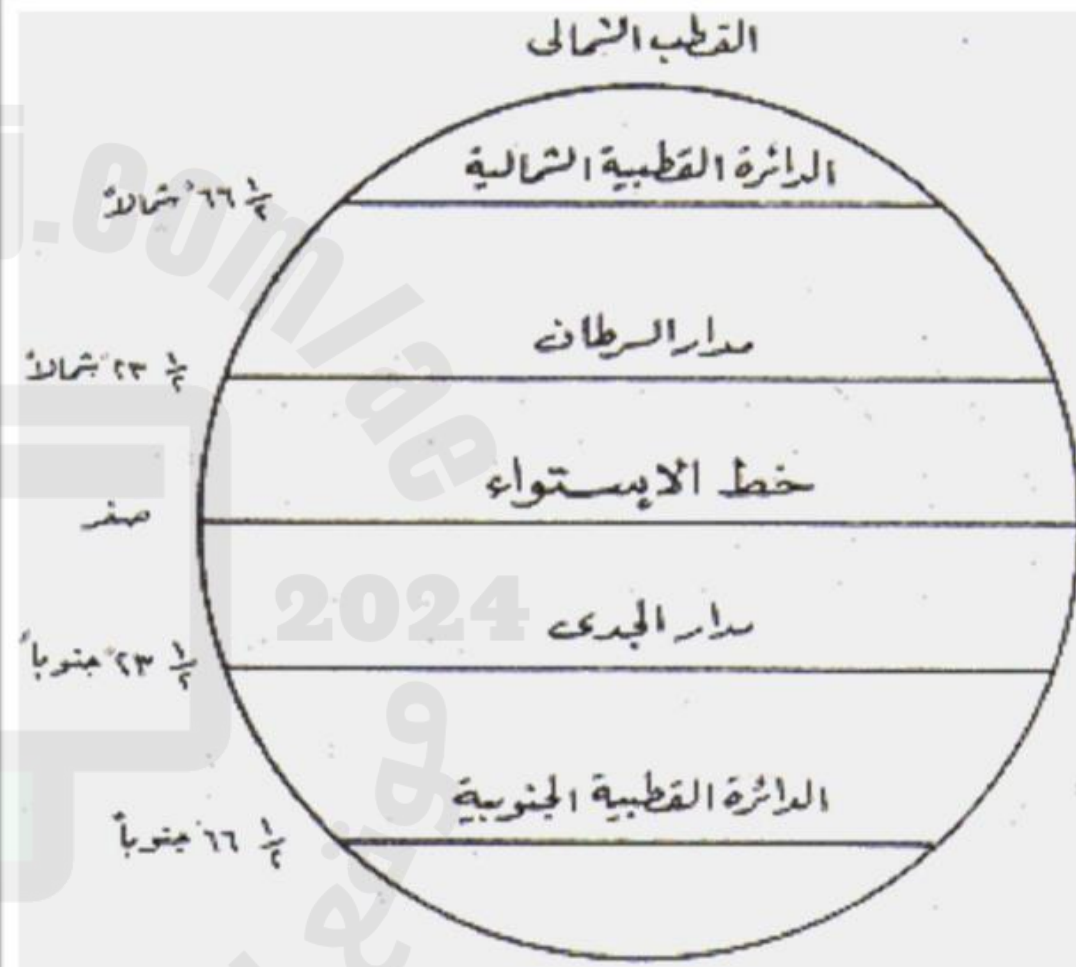
- A. نقص المياه الجوفية .
- B. أسراب الجراد .
- C. نمو الطماطم .
- D. مشروعات التشجير

## خطوط الطول

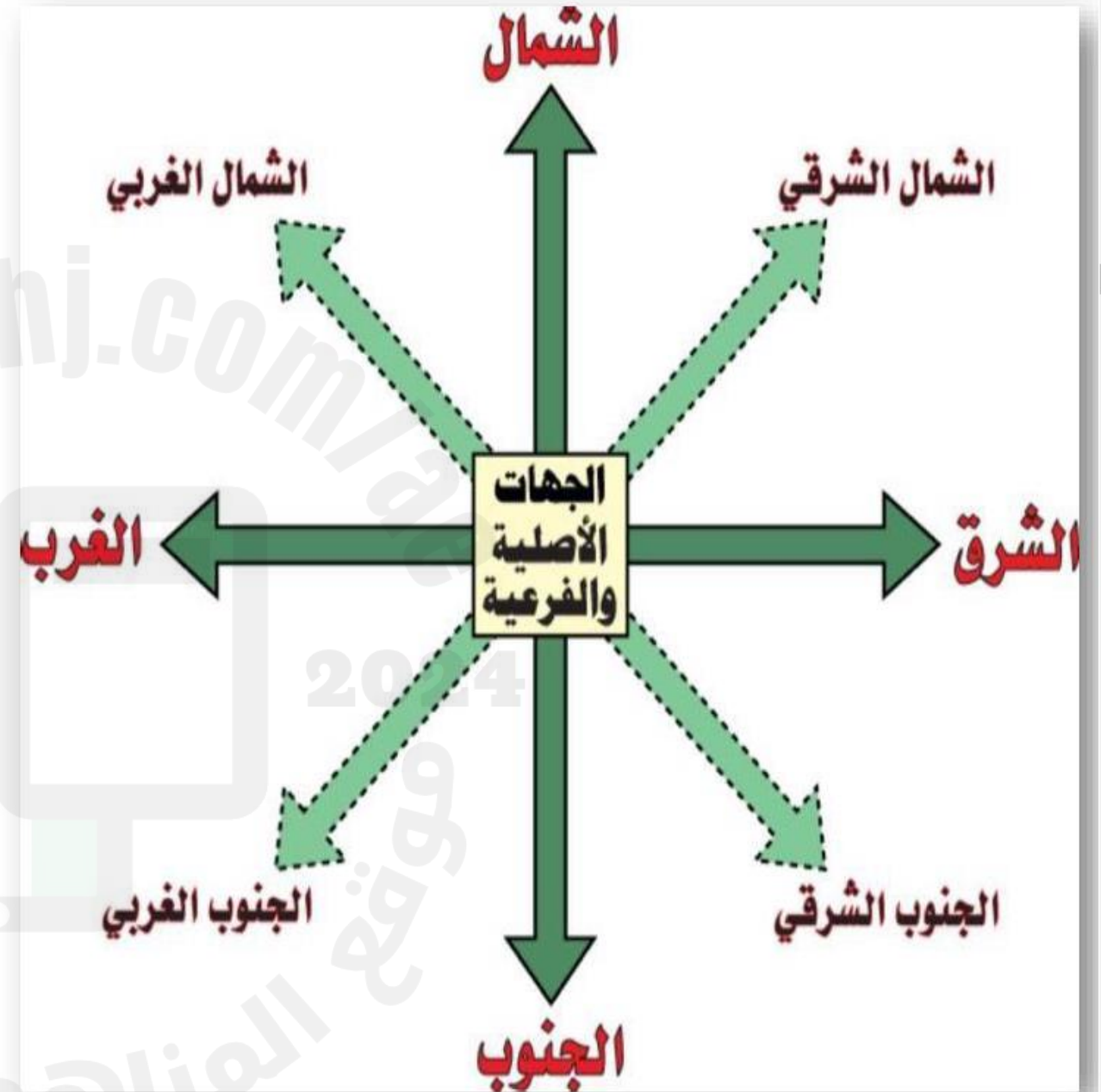


خطوط الطول

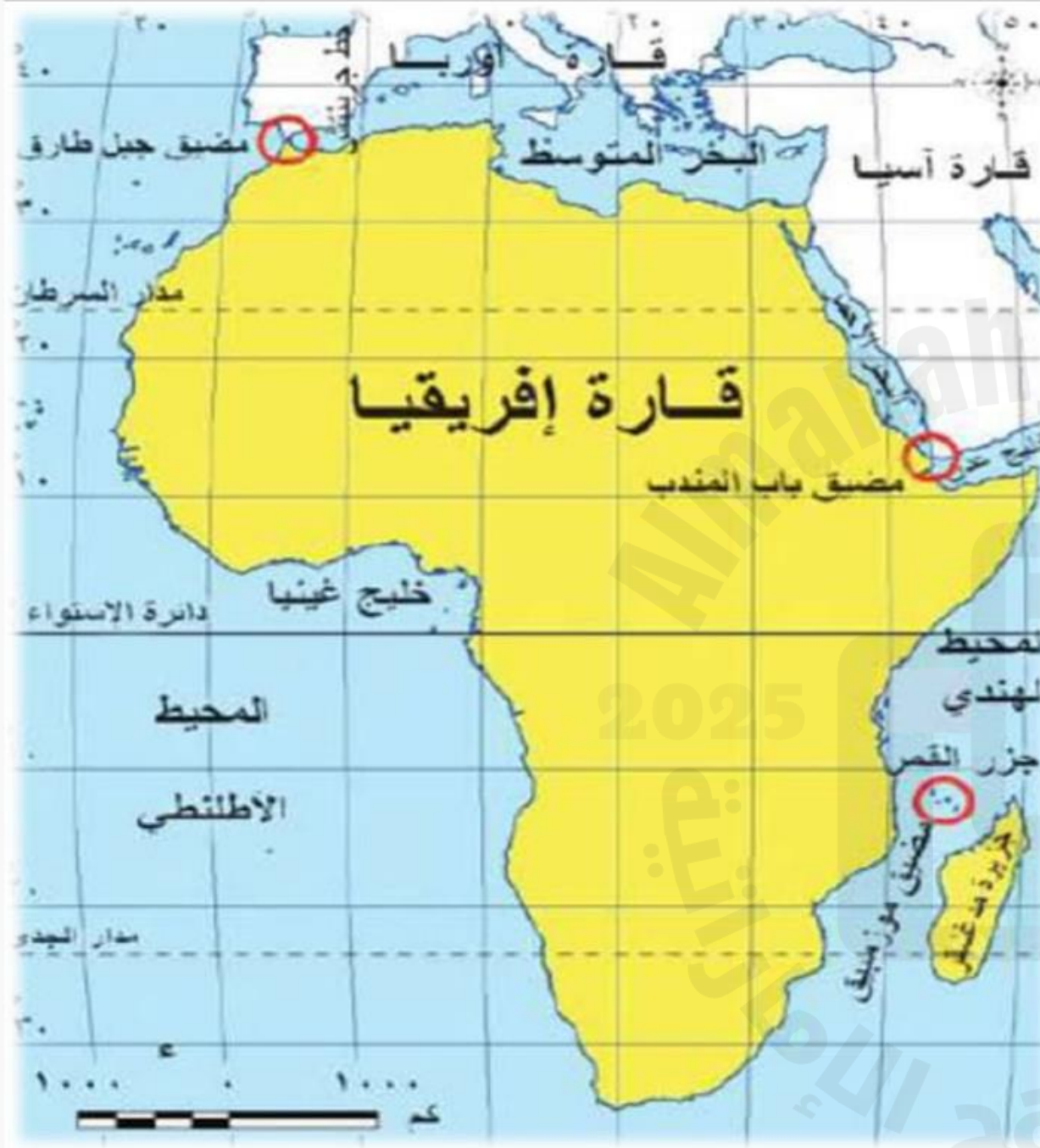
## دوائر العرض



دوائر العرض







1\_ ما هو اسم القارة التي تظهر في الخريطة

- إفريقيا
- أمريكا الشمالية
- آسيا
- أستراليا

2\_ مسطح مائي يحد قارة إفريقيا من الشمال

- المحيط الهادي
- نهر الأمازون
- المحيط الهندي
- البحر المتوسط

3\_ مسطح مائي يحد قارة إفريقيا من الغرب

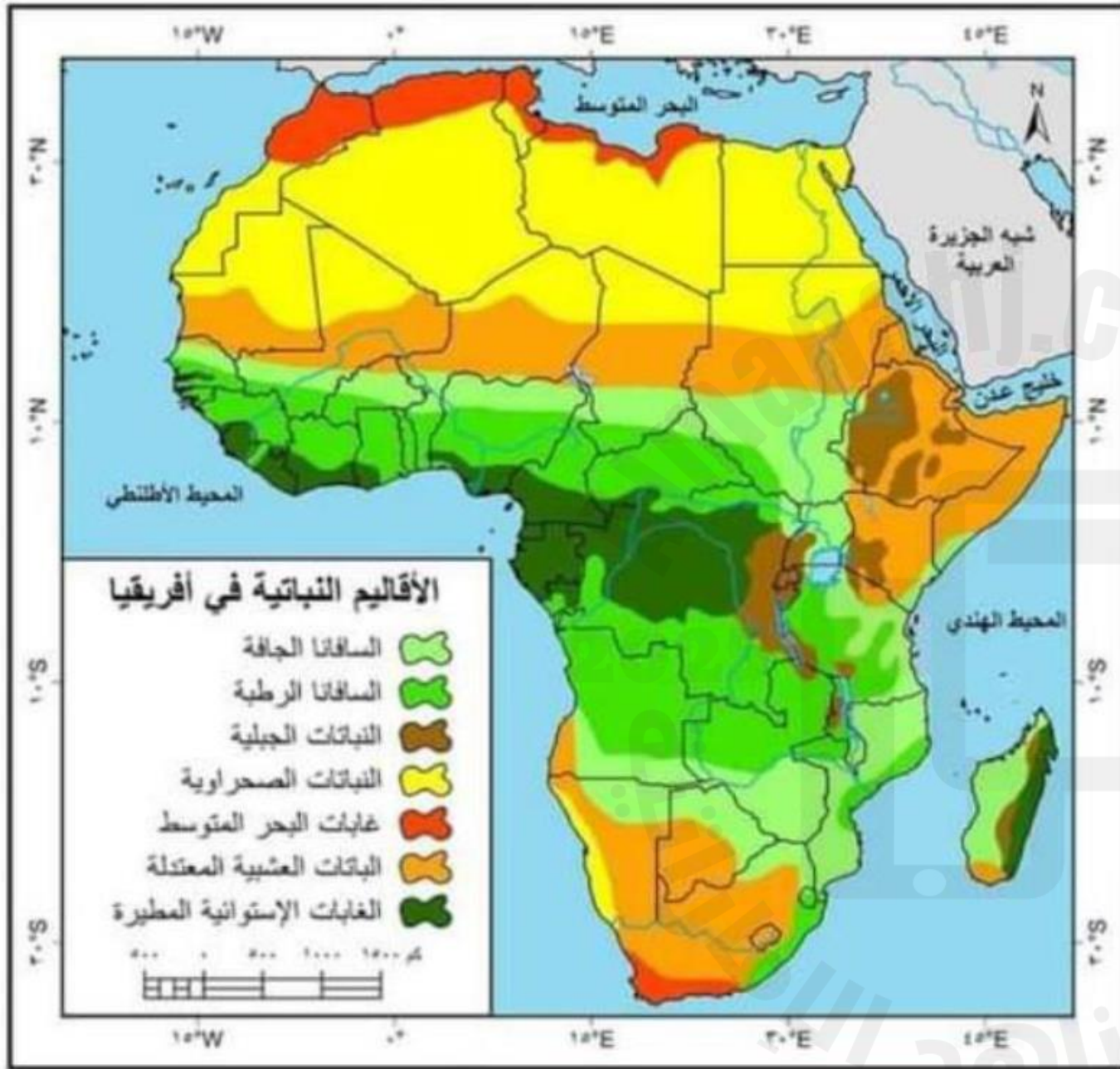
- المحيط المتجمد الشمالي
- المحيط الأطلنطي
- البحر الأحمر
- المحيط الهندي

4\_ ما هي دائرة العرض الرئيسية التي تنصف قارة أفريقيا

- خط جرينتش
- مدار الجدي
- دائرة الاستواء
- الدائرة القطبية الجنوبية

5\_ مضيق يفصل بين جزيرة مدغشقر وقارة إفريقيا

- مضيق باب المندب
- مضيق موزمبيق
- مضيق جبل طارق
- قناة السويس



1\_ ما هو عنوان الخريطة التي توجد أمامك

- الإقليم المناخية
- خرائط تاريخية
- الأقاليم النباتية
- خرائط صناعية

2\_ أي من الأقاليم النباتية التالية يقع جنوب منطقة الصحراء الكبرى مباشرة

- النباتات الصحراوية
- الغابات الاستوائية المطيرة
- السافانا الجافة
- النباتات الجبلية

3\_ ما هو اللون الذي يمثل الغابات الاستوائية المطيرة في الخريطة غالبًا

- الأخضر الداكن
- الأصفر
- الأحمر
- الأزرق

4\_ أين تكثر غابات البحر المتوسط في أفريقيا

- شرق
- غرب
- شمال
- جنوب

5\_ ما هو اللون الذي يمثل النباتات الصحراوية في الخريطة غالبًا

- البني الداكن
- البرتقالي
- الأصفر
- الأزرق





## 1\_ ما هو عنوان الخريطة التي توجد أمامك

- الأقاليم النباتية
- خرائط تاريخية
- خرائط بشرية
- إفريقيا الطبيعية

## 2\_ ما هو اللون الذي يمثل المناطق ذات الارتفاع الشاهق في الخريطة غالبًا

- الأخضر
- البني الداكن
- الأبيض
- الأصفر

## 3\_ ما هي أكبر صحراء في أفريقيا

- نهر السنغال
- صحراء كالا هاري
- الصحراء الكبرى
- صحراء ليبيا

## 4\_ أين تقع جبال الأطلس بشكل عام في أفريقيا

- الجنوب
- الشمال الغربي
- الشرق
- الجنوب الشرقي

## 5\_ ما هو اسم النهر الطويل الذي يتدفق شمالًا في شمال شرق أفريقيا ويصب في البحر الأبيض المتوسط

- نهر النيجر
- المحيط الأطلسي
- نهر الكونغو
- نهر النيل





## 1\_ ما هو عنوان الخريطة التي توجد أمامك

- الأقاليم النباتية
- خرائط تاريخية
- خرائط بشرية
- الأقاليم المناخية

## 2\_ ما هو اللون الذي يمثل المناخ الصحراوي في الخريطة

- اللون الأزرق
- اللون الأصفر
- اللون الأخضر
- اللون البني لداكن

## 3\_ ما هو المناخ الموجود في أقصى شمال القارة

- مناخ البحر المتوسط
- المناخ المعتدل
- المناخ المداري شبه الجاف
- المحيط الهادي

## 4\_ ما هو نوع المناخ الموجود حول خط الاستواء

- المناخ القطبي
- المناخ المداري
- المناخ الجبلي
- المناخ الاستوائي

## 5\_ أي من الجزر التالية تقع في منطقة ذات مناخ مداري رطب أو شبه جاف بشكل كبير

- اليابان
- مدغشقر
- كريت
- صقلية



## 1\_ ولد الشيخ زايد - رحمه الله - في قصر الحصن عام

- 1996
- 1971
- 1945
- 1918

## 2\_ والده الشيخ سلطان بن زايد - رحمه الله - كان حاكما لإمارة

- دبي
- أبو ظبي
- الشارقة
- رأس الخيمة

## 3\_ من أهم الرياضات التراثية التي مارسها الباني المؤسس

- الصيد بالصقور
- إتقان الرماية
- ركوب الهجن والخيول
- جميع ما سبق

## 4\_ تشكلت شخصية الشيخ زايد - رحمه الله - في فجر شبابه عندما كان في مدينة

- العين
- خورفكان
- الذيد
- أم القيوين

## 5\_ كان الشيخ زايد - رحمه الله - الابن الأصغر من بين

- خمسة أشقاء
- شقيقين
- أربعة أشقاء
- ثلاثة أشقاء

ولدَ الشَّيْخُ زَايِدُ بْنُ سُلْطَانِ آلِ نَهْيَانَ فِي قَصْرِ الْحِصْنِ بِمَدِينَةِ أَبُو ظَبْيٍ عَامَ 1918م. وَالِدُهُ الشَّيْخُ سُلْطَانُ بْنُ زَايِدٍ كَانَ حَاكِمًا لِإِمَارَةِ أَبُو ظَبْيٍ. وَكَانَ الشَّيْخُ زَايِدُ الْإِبْنُ الْأَصْغَرُ مِنْ بَيْنِ أَرْبَعَةِ أَشْقَاءَ، وَسُمِّيَ بِاسْمِ جَدِّهِ زَايِدِ بْنِ خَلِيفَةَ الْمَعْرُوفِ بِـ "زَايِدِ الْأَوَّلِ" الَّذِي حَكَمَ الْإِمَارَةَ مِنْ 1855م - 1909م. أَظْهَرَ شَغْفًا مُتَزَايِدًا بِكُلِّ مَا يَمُتُّ بِصِلَةٍ إِلَى الْعَرَبِيِّ الْأَصِيلِ، كَالصَّيْدِ بِالصَّقُورِ، وَرُكُوبِ الْهَجَنِ الْعَرَبِيِّ الْأَصِيلِ وَالْخَيْلِ، وَإِتْقَانِ الرَّمَايَةِ. وَتَشَكَّلَتْ شَخْصِيَّتُهُ فِي فَجْرِ شَبَابِهِ عِنْدَمَا كَانَ فِي مَدِينَةِ الْعَيْنِ، وَاسْتَمَدَّ الْكَثِيرَ مِنْ صَفَائِهَا وَرَحَابَتِهَا. وَاكْتَسَبَ صِفَاتِ الزَّعَامَةِ وَالْقِيَادَةِ السِّيَاسِيَّةِ الَّتِي اتَّسَمَتْ بِهَا شَخْصِيَّتُهُ الْفَذَّةُ.



**1\_ حصل الشيخ زايد - رحمه الله - على شهادة الباندا الذهبية من الصندوق العالمي للحفاظ على الطبيعة عام**

- 1993 م
- 1997 م
- 2001 م
- 1996 م

**2\_ منح الشيخ زايد - رحمه الله - وشاح رجل الإنماء والتنمية من**

- جامعة الدول العربية
- مركز الشرق للبحوث والدراسات
- الرئيس الباكستاني
- منظمة اليونسكو

**3\_ منح الشيخ زايد - رحمه الله - وسام المحافظة على البيئة عام**

- 1998 م
- 1999 م
- 2011 م
- 1996 م

**منح الشيخ زايد - رحمه الله - جائزة كان الكبرى للمياه عام**

- 1971 م
- 2001 م
- 2010 م
- 2003 م

**5\_ اختير الشيخ زايد - رحمه الله - الشخصية الإنمائية لعام**

- 1992 م
- 2002 م
- 1995 م
- 1976 م

**عام 1995م**

اختير الشيخ زايد - رحمه الله - الشخصية الإنمائية لعام 1995م، على مستوى العالم، وفق الاستطلاع الذي أجراه (مركز الشرق للبحوث والدراسات الإعلامية) في جدو، بمشاركة أكثر من نصف مليون عربي.

**عام 1993م**

منح الشيخ زايد بن سلطان آل نهيان - رحمه الله - وشاح رجل الإنماء والتنمية من جامعة الدول العربية، تقديرًا لجهوده في مكافحة التصحر في دولة الإمارات العربية المتحدة.

**عام 2001م**

منحت (منظمة شبكة البحر الأبيض المتوسط) التابعة لـ (رئاسة اليونسكو للموارد المائية والتطوير المستدام والسلام)، جائزة كان الكبرى للمياه، للشيخ زايد بن سلطان آل نهيان - رحمه الله.

**عام 1998م**

منحت (هيئة رجل العام الفرنسي) الشيخ زايد بن سلطان آل نهيان - رحمه الله - لقب أبرز شخصية عالمية، لجهوده في مكافحة التصحر والاهتمام بالبيئة والمشاريع الإنمائية.

**عام 1996م**

منح الشيخ زايد - رحمه الله - وسام المحافظة على البيئة، من الرئيس الباكستاني آنذاك «فاروق ليجاري»، تقديرًا وعرفانًا لإسهاماته الخالدة والكبيرة لحماية البيئة والطبيعة في دولة الإمارات العربية المتحدة.

**عام 1997م**

حصل الشيخ زايد بن سلطان آل نهيان - رحمه الله - على شهادة الباندا الذهبية، من (الصندوق العالمي للحفاظ على الطبيعة)، نتيجة العطاءات غير المحدودة والتوجهات المستمرة في مجال البيئة.







♦ ارتبط الشَّيْخُ زَايِدُ بْنُ سُلْطَانَ آلِ نَهْيَانَ - رَحِمَهُ اللَّهُ - بكلِّ شَبْرٍ من أَرْضِ بِلَادِهِ، حَيْثُ كَانَ يَنْدَفِعُ إِلَى أَحْضَانِ الصَّحَرَاءِ مُتَأَمِّلًا وَدَارِسًا لِلْبَيْئَةِ.

♦ الْبَيْئَةُ هِيَ الْمُنْطَلَقُ الْأَسَاسِيُّ لِلشَّيْخِ زَايِدٍ - رَحِمَهُ اللَّهُ، عَاشَ فِيهَا، وَأَخَذَ مِنْهَا كُلَّ الْخِصَالِ الْحَمِيدَةِ وَقِسْوَةِ الْحَيَاةِ، فَأَثَرَتْ فِيهِ مِنْ خِلَالِ اكْتِسَابِ قِيَمٍ وَجْدَانِيَّةٍ مِنْهَا:

### 1. العقلانية في أحكامه:

توصفُ شخصيَّةُ الشَّيْخِ زَايِدٍ - رَحِمَهُ اللَّهُ - بِصِفَةِ الْعَقْلَانِيَّةِ مِنْ خِلَالِ الْأَحْكَامِ الَّتِي صَدَرَتْ عَنْهُ مُتَمَثِّلَةً فِي أَقْوَالِهِ وَأَفْعَالِهِ، إِضَافَةً إِلَى فَهْمِهِ الْعَمِيقِ وَالْوَاضِحِ لِلْأَحْدَاثِ وَالْمُجْرِيَّاتِ مِنْ حَوْلِهِ.

#### 1. الإِبَاءُ:

يَعْنِي التَّرَفُّعُ عَمَّا يَمَسُّ كَرَامَةَ الْإِنْسَانِ وَالتَّعَالِي، فَقَدْ كَانَ الشَّيْخُ زَايِدٌ - رَحِمَهُ اللَّهُ - يَسْعَى إِلَى عَزَّةِ شَعْبِهِ وَسَعَادَتِهِمْ وَتَوْفِيرِ حَيَاةٍ تَلِيْقُ بِكَرَامَتِهِمْ.

#### 2. الْبُطُولَةُ:

مَفْهُومُ الْبُطُولَةِ لَيْسَ مَحْصُورًا فِي الْقِتَالِ، بَلْ إِنَّ أَعْلَى أَنْوَاعِ الْبُطُولَةِ هُوَ التَّحْلِي بِالصَّبْرِ وَالْجَلْدِ، فَلَا تَكْتَمِلُ الصُّورَةُ إِلَّا مِنْ خِلَالِ قِرَاءَةِ الْمَاضِي وَدِرَاسَةِ الْحَاضِرِ وَرُؤْيَا الْمُسْتَقْبَلِ، وَهَذَا مَا أَعْطَى شَخْصِيَّةَ الشَّيْخِ زَايِدٍ - رَحِمَهُ اللَّهُ - صِفَةَ الْبُطُولَةِ الْحَقِيقِيَّةِ.

#### 3. الْكِرَمُ:

لَقَدْ كَانَتْ صِفَةُ الْكِرَمِ هِيَ الصِّفَةُ الْأَكْثَرُ بَرُورًا وَخُضُورًا فِي شَخْصِيَّةِ الشَّيْخِ زَايِدٍ - رَحِمَهُ اللَّهُ، وَالَّتِي رَافَقَتْهُ طِيلَةَ حَيَاتِهِ. وَلَعَلَّ مَا قَالَهُ الْمُثَمِّلُ السِّيَاسِيُّ الْبَرِيْطَانِيُّ «بُوسْتِيد» هُوَ خَيْرَ شَهَادَةٍ عَنْ هَذِهِ الصِّفَةِ: «لَقَدْ دَهَشْتُ كَثِيرًا مِنَ الْجُمُوعِ الَّتِي كَانَتْ تَحْتَشِدُ حَوْلَهُ فِي وَاحَةِ الْبَرِيْمِي وَتُحِيْطُهُ بِاحْتِرَامٍ وَاهْتِمَامٍ، وَكَانَ لَطِيفَ الْكَلَامِ دَائِمًا مَعَ الْجَمِيعِ، وَكَانَ سَخِيًّا جَدًّا بِمَالِهِ».

## 1\_ كانت المنطلق الأساسي للشيخ زايد - رحمه الله -

- المحيط
- النهر
- البحر
- البيئة

## 2\_ تعبر عن الأحكام التي صدرت عنه متمثلة في أقواله وأفعاله

- البطولة
- العقلانية في أحكامه
- الكرم
- الإباء

## 3\_ يعني الترفع عما يمس كرامة الإنسان

- البطولة
- العقلانية في أحكامه
- الكرم
- الإباء

## 4\_ تعني التحلي بالصبر والجلد وقراءة الماضي

### ودراسة الحاضر ورؤية المستقبل

- البطولة
- العقلانية في أحكامه
- الكرم
- الإباء

## 5\_ تعبر عن السخاء بالمال وهي الصفة الأكثر بروزا في شخصية الشيخ زايد - رحمه الله - ورافقته طيلة حياته

- البطولة
- العقلانية في أحكامه
- الكرم
- الإباء



## 1\_ كانت المنطلق الأساسي للشيخ زايد - رحمه الله -

- الصحراء
- التعدين
- التجارة
- الصناعة

## 2\_ اذكر أهم الألقاب التي حصل عليها الباني المؤسس

- فارس الصحراء
- رجل العصر
- رجل البيئة
- جميع ما سبق

## 3\_ عمل الشيخ زايد - رحمه الله - على حل مشكلة زحف الرمال من خلال توجيهاته

- بفرش طبقة من الطين فوقها
- الاهتمام بالسياحة
- الاهتمام بالتعدين
- الاهتمام بالفضاء

## 4\_ وضح أثر اهتمام الشيخ زايد - رحمه الله - بالبدو

- توفير المعيشة الثابتة
- قام بتوطين البدو
- الاعتماد على زراعة الأرض
- جميع ما سبق

## 5\_ من أهم المدن التي أنشأها الشيخ زايد - رحمه الله -

- مدينة العين
- مدينة حنا
- مدينة غياثي
- مدينة كلباء

انطلق اهتمام الشيخ زايد بن سلطان آل نهيان - طيب الله ثراه - بالبيئة والصحراء وضرورة الحفاظ عليها وتنميتها، إدراكاً من أهمية تحقيق التوازن بين التنمية والبيئة، والحفاظ على حق الأجيال المتعاقبة في التمتع بالحياة في بيئة نظيفة وصحية آمنة.

تنبّه الشيخ زايد بن سلطان آل نهيان - رحمه الله - إلى أهمية الحفاظ على البيئة منذ شبابه، فعمل ما يمكن أن يُسمّى بالمعجزة، ولُقّب بـ«فارس الصحراء»، و«صانع معجزة الخُصرة فيها»، و«رجل العصر»، و«رجل البيئة».



زايد وزحف الرمال:

عمل الشيخ زايد - رحمه الله - على حل مشكلة زحف الرمال، بأن أعطى توجيهاته بتسطيح الكثبان والتلال التي تَهت منها الرمال، وفرش طبقة من الطين فوقها، وتقسيمها إلى مساحات ورّعت على المواطنين لزراعتها بعد إقامة الأحزمة الخضراء من الأشجار لكي تعمل كمصدات للرياح ولتثبيت التربة.

زايد والعمران وتوطين البدو:

للشيخ زايد - رحمه الله - الفضل الكبير في توطين البدو الرّحل، وتوفير المعيشة الثابتة والمستدامة لهم، وجعل الاعتماد على زراعة الأرض والعيش منها. كما قامت المدن في الصحراء بتوجيهاته وإشرافه، مثل: (مدينة زايد - غياثي).



## 1\_ متى بدأت العلاقات الدبلوماسية بين الإمارات و مصر

- 1978
- 1971
- 1996
- 1918

## 2\_ كيف وصف الشيخ زايد مصر

- قلب الأمة العربية
- مركز القارة
- دولة صغيرة
- مدينة سياحية

## 3\_ ما نوع العلاقة بين الإمارات ومصر

- عادية
- تجارية فقط
- تنافسية
- شراكة استراتيجية شاملة

## 4\_ ما الذي يساعد في تقوية أمن واستقرار المنطقة

- التنسيق المشترك بين الإمارات ومصر
- تجاهل المشكلات
- العزلة
- التنقل العشوائي

## 5\_ ماذا تُظهر العلاقة بين الإمارات ومصر

- العزلة والانعزال
- التضامن والوحدة
- التنافس العربي
- ضعف التعاون

العلاقات الإماراتية المصرية: شراكة استراتيجية تُلهم العالم العربي تُمثل العلاقات بين دولة الإمارات العربية المتحدة وجمهورية مصر العربية واحدة من أقوى وأعمق العلاقات في العالم العربي، وهي نموذج يُحتذى به في الوحدة، والاحترام، والعمل المشترك. لم تكن هذه العلاقة مجرد تعاون دبلوماسي، بل تحولت إلى شراكة استراتيجية شاملة تشمل مختلف المجالات .

تعود جذور هذه العلاقة إلى الدعم الكبير الذي قدمته مصر للإمارات منذ تأسيسها عام ١٩٧١م وردّ الشيخ زايد بن سلطان آل نهيان - رحمه الله - الجميل بمواقف تاريخية عبّر فيها عن حبه الكبير لمصر، معتبراً أن "مصر هي قلب الأمة العربية ودعمها واجب على الجميع .". استمرت هذه العلاقة في النمو عبر السنوات، حيث يعمل البلدان اليوم معاً في مشروعات ضخمة في مجالات الاستثمار، والطاقة، والتعليم، والبنية التحتية. كما يُنسّق الجانبان مواقفهما في القضايا الإقليمية والدولية، بما يخدم أمن واستقرار المنطقة العربية وتُعد العلاقة بين الإمارات ومصر نموذجاً ناجحاً للوحدة والتضامن العربي، إذ أثبتت أن العمل المشترك والثقة المتبادلة يمكن أن يصنعا مستقبلاً مشرقاً للأمة.



# الإمارات ومصر..

## علاقات تجارية حافلة بالأرقام

التبادل  
التجاري  
غير  
النفطي

27.79  
مليار درهم

50  
عاماً

مصر والإمارات  
قلب واحد

744  
مليون درهم

247.6

مليار درهم  
حجم التبادل التجاري  
بين البلدين في آخر  
22 عاماً

بنسبة نمو 3635 %  
(2021)

حجم التبادل أول 6 أشهر 2022

14.1

مليار درهم

13.2

مليار درهم 2021

بنمو 6.4 %

(المصدر: وام)

4  
مليارات  
درهم

استثمارات  
مصر في  
الإمارات

55  
مليار  
درهم

استثمارات  
الإمارات في  
مصر

1250 شركة إماراتية تعمل في مصر

1\_ ما هو حجم التبادل التجاري غير النفطي بين الإمارات ومصر في عام 2022

- 14.1 مليار درهم

- 27.79 مليار درهم

- 13.2 مليار درهم

- 247.6 مليار درهم

2\_ ما هي نسبة النمو في حجم التبادل التجاري بين

البلدين في عام 2021

- 22 %

- 6.4 %

- 744 مليار درهم

- 3635 %

3\_ كم عدد الشركات الإماراتية التي تعمل في مصر

- 477 شركة

- 50 شركة

- 3535 شركة

- 1250 شركة

4\_ ما هو الموضوع الرئيسي للعلاقة بين الإمارات ومصر

- علاقات سياحية

- علاقات عسكرية

- علاقات تجارية

- علاقات زراعية

5\_ كم تبلغ قيمة استثمارات الإمارات في مصر

- 4 مليار درهم

- 74.8 مليار درهم

- 90 مليار درهم

- 55 مليار درهم

# أبرز اتفاقيات وبروتوكولات التعاون

وقعت الإمارات ومصر العديد من اتفاقيات التعاون، في مختلف المجالات والقطاعات، وذلك تأكيداً وانعكاساً للعلاقات الاستراتيجية الراسخة بين البلدين، والتي أرساها المغفور له الشيخ زايد بن سلطان آل نهيان، طيب الله ثراه، ومن بين تلك الاتفاقيات:

7

ديسمبر 1993: اتفاق إنشاء مجلس الأعمال المصري الإماراتي المشترك

10

فبراير 1973: اتفاقية للتعاون العلمي والتقني في الميادين الزراعية

21

يوليو 2008: مذكرة تفاهم بشأن المشاورات السياسية بين البلدين

19

يوليو 1988: اتفاق تبادل تجاري وتعاون اقتصادي وتقني، وتشجيع وحماية الاستثمارات



16

أكتوبر 2013: اتفاقية دعم البرنامج التنموي المصري (تقدم بموجبها الإمارات 4.9 مليارات دولار لتنفيذ عدد من المشاريع التنموية في مصر)

29

سبتمبر 1988: اتفاق إنشاء اللجنة العليا المشتركة للتنسيق بين البلدين

فبراير 2017: تشكيل آلية تشاور سياسي ثنائية (تتعدد كل ستة أشهر)

البكان

غرافيك: حسام الحوراني

1\_ في أي عام تم توقيع اتفاقية التعاون العلمي والتقني بين الإمارات ومصر

1998 -

1973 -

2013 -

2017 -

2\_ ما هو رقم الاتفاقية التي تتعلق بإنشاء مجلس الأعمال المصري الإماراتي المشترك

7 -

16 -

19 -

21 -

3\_ في أي شهر من عام 1988 تم توقيع اتفاق تجاري واقتصادي وتقني وتشجيع وحماية الاستثمارات

- فبراير

- سبتمبر

- أكتوبر

- يوليو

4\_ كم بلغت قيمة الدعم الموجه للبرنامج التنموي المصري في اتفاقية 2013

- 4.9 مليارات دولار

- 5.9 مليارات دولار

- 76 مليارات دولار

- 2.4 مليارات دولار

5\_ في أي عام تم تشكيل آلية تيار شبابي ثنائية

2018 -

2017 -

2015 -

2022 -



## 1\_ من هو الطبيب الإغريقي الشهير المعروف بأسس الطب الحديث

- أفلاطون
- أبقراط
- بريكليس
- أرسطو

## 2\_ ما هو القسم الشهير الذي يُنسب إلى أبقراط

- قسم الرياضيات
- قسم الشعر
- قسم أبقراط
- قسم المسرح

## 3\_ في أي مجال أبدع النحات فيدياس

- النحت
- الموسيقى
- الطب
- الصيدلية

## 4\_ ما المدينة التي كانت مركزاً للتطور الديمقراطي في اليونان

- أولمبيا
- طروادة
- إسبرطة
- أثينا

## 5\_ من هو الزعيم الذي قاد أثينا في عصرها الذهبي

- بريكليس
- هيرودوت
- يوريبيدس
- سولون

تميزت الحضارة الإغريقية بتقدم ملحوظ في مجالات الطب والفنون والسياسة، وكان للشخصيات البارزة تأثير عميق على تطور هذه المجالات. في مجال الطب، يُعد أبقراط شخصية محورية، حيث وضع أسس الطب الحديث من خلال منهجه القائم على الملاحظة العقلانية وأخلاقيات المهنة، كما يُنسب إليه "قسم أبقراط" الشهير. أما في عالم الفنون، فقد أبدع الإغريق في النحت والعمارة والمسرح. ترك فنانون ونحاتون مثل فيدياس بصمات لا تُنسى في فن النحت، تجسدت في تماثيل ضخمة مثل تمثال زيوس في أولمبيا. كما ازدهر المسرح مع كتاب مثل سوفوكليس و يوريبيدس الذين قدموا روائع التراجيديا التي استكشفت أعماق النفس البشرية والقضايا الاجتماعية والسياسية. وفي ميدان السياسة، كانت أثينا مركزاً للتطور الديمقراطي. ساهم مشرعون مثل سولون في وضع أسس الحكم الشعبي من خلال إصلاحاته. كما قاد زعماء مثل بريكليس أثينا إلى عصرها الذهبي، حيث تعززت المؤسسات الديمقراطية وازدهرت الفنون والعلوم. لقد كان لأفكار وإسهامات هؤلاء الأفراد تأثير دائم على الحضارة الإغريقية، تاركين إرثاً غنياً استمر تأثيره عبر العصور.



# الإمارات واليابان

قمم وزارات تعزز الشراكة الاستراتيجية

## الحدث

أول قمة ثنائية تجمع الشيخ محمد بن زايد آل نهيان وفوميو كيشيدا

زيارة رئيس وزراء اليابان للإمارات



## 3 قمم دولية سابقة

يونيو 2022 وأبريل 2023 "منتدى الاقتصادات الرئيسية الخاص بالطاقة وتغير المناخ"

نوفمبر 2023 قمة مجموعة العشرين بإندونيسيا

مباحثات هاتفية سبتمبر/ مارس 2022

## زيارات متبادلة

2007 و 2014  
الشيخ محمد بن زايد آل نهيان إلى اليابان

1990  
الشيخ زايد بن سلطان آل نهيان يزور اليابان

2018 و 2020  
الراحل شينزو آبي يزور الإمارات

1995  
الإمبراطور الياباني ناروهيتو (ولي العهد حينها)

## 1\_ زار الشيخ زايد - رحمه الله - اليابان عام

- 1992 م
- 1990 م
- 1999 م
- 1991 م

## 2\_ زار صاحب السمو رئيس الدولة الشيخ محمد بن زايد آل نهيان - حفظه الله ورعاه - دولة اليابان عام

- 1990 م
- 1993 م
- 2014 م
- 2018 م

## 3\_ تم عقد قمة مجموعة العشرين بإندونيسيا عام 2023م في شهر

- ديسمبر
- نوفمبر
- يناير
- مايو

## 4\_ إجراء مباحثات هاتفية سبتمبر-مارس عام

- 2021 م
- 2022 م
- 2023 م
- 2024 م

## 5\_ زار رئيس وزراء اليابان الراحل شينزو آبي الإمارات عام

- 1971 م
- 1996 م
- 2013 م
- 2018 م

## العلاقات بين الإمارات واليابان

### معدل النمو

58% في 2022

### التبادل التجاري

54.4 مليار دولار

### الإمارات سابع أكبر

شريك تجاري لليابان

### التجارة غير النفطية

14.8 مليار دولار

### 400 شركة يابانية

تعمل في الإمارات

### 4,700 ياباني

يعيشون في الإمارات



### 1\_ بلغ عدد اليابانيين الذين يعيشون في الإمارات

5000 -  
3750 -  
4700 -  
2845 -

### 2\_ الإمارات ..... أكبر شريك تجاري لليابان

خامس -  
سابع -  
سادس -  
رابع -

### 3\_ بلغ حجم التجارة غير النفطية بين البلدين....مليار دولار

54.4 -  
47.0 -  
14.8 -  
38.4 -

### 4\_ بلغ معدل النمو بين الدولتين في عام ٢٠٢٢ م

47 % -  
58 % -  
23 % -  
61 % -

### 5\_ بلغ حجم التبادل التجاري بين الدولتين ..... مليار دولار

54.4 -  
49.8 -  
16.7 -  
33.9 -



## 1\_ اين تقع دولة اليابان بالنسبة لقارة آسيا

- شرق
- غرب
- شمال
- جنوب

## 2\_ كم عدد الجزر التي تُكوّن اليابان تقريبًا

- أكثر من 3000 جزيرة
- 50 جزيرة
- 100 جزيرة
- 80 جزيرة

## 3\_ ما هي أكبر جزيرة في اليابان

- هوكايدو
- شيكوكو
- هونشو
- كيوشو

## 4\_ ما هو اسم الجبل الشهير الذي يُعد رمزًا لليابان

- جبل إفرست
- جبل فوجي
- جبل طارق
- جبل كليمنجارو

## 5\_ ما هو سبب تعرّض اليابان للزلازل

- لأنها بلد جبلي
- قربها من خط الاستواء
- كثرة الأمطار
- لأنها تقع على حزام النار

تُعد اليابان من الدول الفريدة جغرافيًا، حيث تقع في شرق آسيا وتتكون من أرخبيل مكوّن من أكثر من ٣٠٠٠ جزيرة، أكبرها هي: هونشو، هوكايدو، كيوشو، و شيكوكو هذا التكوين البحري يمنح اليابان سواحل طويلة، ما يجعلها دولة غنية بالموارد البحرية وتعد عاصمتها طوكيو العاصمة السياسية للبلاد، تتميز اليابان بطبيعة جبلية، إذ تغطي الجبال حوالي ٨٠% من مساحتها، وأشهرها جبل فوجي الذي يُعد رمزًا وطنيًا وسياحيًا للبلاد. كما تقع اليابان على حزام النار في المحيط الهادئ، مما يجعلها عرضة للزلازل والبراكين، لكنها استفادت من هذه الظاهرة في إنتاج الطاقة الحرارية وتتنوع اليابان من حيث المناخ، فهو معتدل في معظم المناطق، بينما يكون باردًا شمالًا واستوائيًا في بعض الجزر الجنوبية. كما تشهد اليابان أربعة فصول واضحة، وتشتهر في فصل الربيع بتفتح أزهار الساكورا (أزهار الكرز)، التي تجذب السياح من جميع أنحاء العالم وتنعكس هذه الخصائص الطبيعية على نمط حياة السكان، حيث يتم استغلال السواحل في الصيد، والجبال في السياحة، والمناخ في الزراعة الموسمية، مما يجعل اليابان مثالًا للتعايش الذكي مع الطبيعة.

## 1\_ ما المدينة الإغريقية التي اشتهرت بالنظام العسكري الصارم

- أثينا
- إسبرطة
- طروادة
- أولمبيا

## 2\_ من هو القائد الذي يُنسب إليه وضع النظام العسكري في إسبرطة

- الإسكندر الأكبر
- أبقرات
- ليكورغوس
- سولون

## 3\_ ماذا أظهر الإسكندر الأكبر في قيادته العسكرية

- عبقرية عسكرية
- مهارات الفن
- حب السلام
- خبرة في الزراعة

## 4\_ متى بدأت الألعاب الأولمبية في أولمبيا

- 500 ميلادي
- 400 ميلادي
- 776 قبل الميلاد
- 150 قبل الميلاد

## 5\_ لماذا كانت الألعاب الأولمبية مهمة للإغريق؟

- للربح المالي فقط
- للتسلية فقط
- لعرض الأسلحة
- لأنها احتفال بالروح الرياضية والوحدة بين المدن

كانت القوة العسكرية والألعاب الأولمبية ركنين أساسيين في الحضارة الإغريقية، وقد تركت شخصيات بارزة بصمات عميقة في تطورهما. في المجال العسكري، لم تكن الجيوش الإغريقية مجرد قوة قتالية، بل تجسداً لقيم الولاء والانضباط. برز قادة استراتيجيون مثل ميلتيادس الذي قاد الأثينيين للفوز الحاسم في معركة ماراثون ضد الفرس، مُظهراً أهمية التكتيك والتصميم. وفي إسبرطة، كان ليكورغوس شخصية أسطورية يُنسب إليه وضع النظام العسكري الصارم الذي جعل من الجنود الإسبرطيين قوة لا يُستهان بها، وقد تجسدت شجاعتهم في تضحية ليونيداس وجنوده في ثيرموبيلاي لاحقاً. أظهر الإسكندر الأكبر عبقرية عسكرية فائقة، قاد بها جيوشاً متعددة الجنسيات لغزو إمبراطورية واسعة، ناشراً بذلك الثقافة الهيلينية وتأثير التنظيم العسكري الإغريقي. أما الألعاب الأولمبية، التي بدأت في أولمبيا تكريماً للإله زيوس عام 776 قبل الميلاد، فكانت أكثر من مجرد منافسات رياضية؛ كانت احتفالاً بالجسد البشري والقيم الروحية والوحدة بين المدن الإغريقية المتناحرة أحياناً. لم تُسجل أسماء العديد من الرياضيين الأوائل، لكن القصص والأساطير حول قوتهم وسرعتهم كانت جزءاً من الفلكلور الإغريقي. توقفت الحروب مؤقتاً خلال فترة الألعاب، مما يدل على أهميتها الرمزية. تطورت الألعاب لتشمل أنواعاً مختلفة من المسابقات، مثل الجري، والمصارعة، ورمي القرص والرمح، وقيادة العربات. كان الفوز في الأولمبياد شرفاً عظيماً للفائز ولمدينته، وغالباً ما كان يُكرم الفائزون بتمائيل وقصائد لقد كان لكل من التنظيم العسكري والروح الرياضية، اللذين تجسدا في الجيش والألعاب الأولمبية على التوالي دور حاسم في تشكيل الهوية الإغريقية.