

منهج ريفيل اختبار الوحدة العاشرة الحجم ومساحة السطح



تم تحميل هذا الملف من موقع المناهج الإماراتية

موقع المناهج ← المناهج الإماراتية ← الصف السادس ← رياضيات ← الفصل الثالث ← ملفات متنوعة ← الملف

تاريخ إضافة الملف على موقع المناهج: 2026-04-28 15:10:52

ملفات اكتب للمعلم اكتب للطالب | الاختبارات الالكترونية | اختبارات | حلول | عروض بوربوينت | أوراق عمل
منهج انجليزي | ملخصات وتقارير | مذكرات وبنوك | الامتحان النهائي للمدرس

المزيد من مادة
رياضيات:

إعداد: Aghesd

التواصل الاجتماعي بحسب الصف السادس



صفحة المناهج
الإماراتية على
فيسبوك

الرياضيات

اللغة الانجليزية

اللغة العربية

التربية الاسلامية

المواد على تلغرام

المزيد من الملفات بحسب الصف السادس والمادة رياضيات في الفصل الثالث

حل تدريبات الدرس السابع حل المتباينات ذات الخطوة الواحدة من الوحدة الثامنة الدوال والمتباينات

1

حل تدريبات الدرس السادس كتابة المتباينات وتمثيلها بيانياً من الوحدة الثامنة الدوال والمتباينات

2

حل تدريبات الدرس الخامس المتباينات من الوحدة الثامنة الدوال والمتباينات

3

حل تدريبات الدرس الرابع التمثيلات المتعددة للدوال من الوحدة الثامنة الدوال والمتباينات

4

حل تدريبات الدرس الثالث الدوال والمعادلات من الوحدة الثامنة الدوال والمتباينات

5



وزارة التربية والتعليم
MINISTRY OF EDUCATION

اختبار الرياضيات الصف السادس الوحدة العشرة الفصل الثالث لعام 2025 - 2026

احجز مكانك واستعد للامتحان بثقة كاملة


احصل على الشرح الكامل للصف من خلال:

التواصل والحجز عبر الـ Whatsapp
اضغط على الرقم: 0566991363




Mr. Aghead

للتواصل والحجز




للانتقال إلى المواقع
اضغط هنا

شرح الدروس



انضم للقناة



للتواصل اضغط الرقم:
0566991363

Mr. Aghead

يمكنكم الحصول على

شرح دروس
الفصل كاملاً


ب 99
درهم فقط

ملزمة محلولة
بالكامل

اختبارات مع الحل

إن الاشتراك شامل لكامل الفصل الدراسي

لا تتردد في التواصل
معنا قم بمسح ال QR




احصل على الشرح الكامل للصف من خلال:
التواصل والحجز عبر ال-Whatsapp
اضغط على الرقم: 0566991363

Mr. Aghead

للتواصل اضغط الرقم:
0566991363

اختبار الوحدة العشرة

الأسئلة الموضوعية - MCQ



لا تردد في التواصل
معنا قم بمسح ال QR

احصل على الشرح الكامل للصف من خلال:

التواصل والحجز عبر ال-Whatsapp

اضغط على الرقم: 0566991363



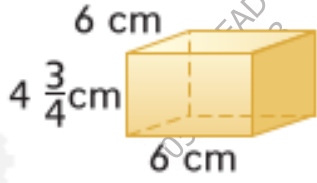
Mr. Aghead

للتواصل اضغط الرقم: 0566991363

احصل على الشرح كاملاً بـ 99 درهم فقط

السؤال 1:

ما هو حجم الشكل التالي:



132.A
171.B
165.C
182.D

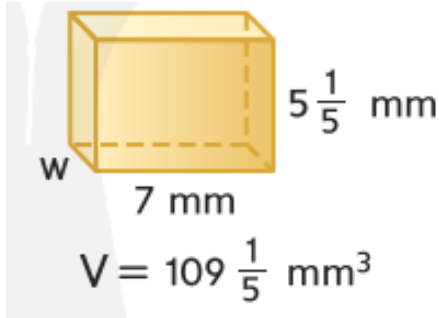
السؤال 2:

صندوق عدة صيد يبلغ طوله 13 سنتيمتراً، وعرضه 6 سنتيمترات، وارتفاعه $2\frac{1}{2}$ سنتيمتر. ما حجم صندوق عدة الصيد؟

195.A
180.B
210.C
178.D

السؤال 3:

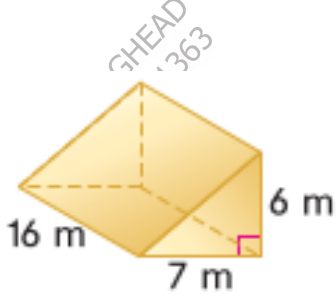
أوجد البعد المفقود في الشكل التالي:



1.A
5.B
3.C
6.D

السؤال 4:

أوجد حجم الشكل:



MR. AGHEAD
0566991363

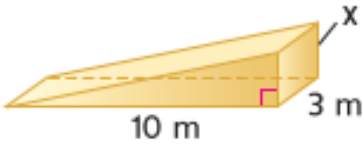
MR. AGHEAD
0566991363

276.A
336.B
421.C
372.D

السؤال 5:

أوجد البعد المفقود:

$x =$ _____



$V = 30 \text{ m}^3$

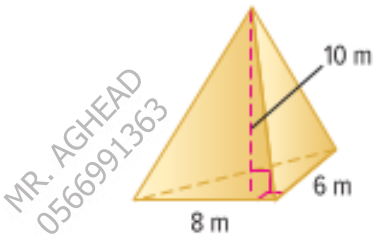
MR. AGHEAD
0566991363

MR. AGHEAD
0566991363

1.A
2.B
3.C
4.D

السؤال 6:

أوجد حجم الهرم:



MR. AGHEAD
0566991363

MR. AGHEAD
0566991363

80 .A
160 .B
240 .C
480 .D

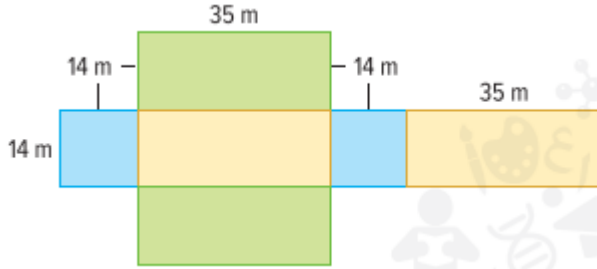
السؤال 7:

الهرم المستطيل القاعدة: الحجم 448 cm^3 ، عرض القاعدة 12 cm ، طول القاعدة 8 cm

8 .A
10 .B
14 .C
18 .D

السؤال 8:

أوجد مساحة سطح المنشور مستطيل القاعدة:



2780 .A
1954 .B
2352 .C
1582 .D

السؤال 9:

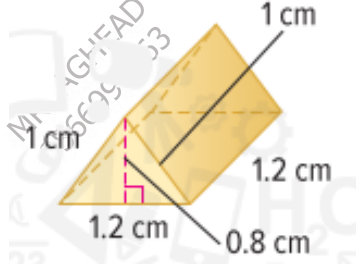
أوجد مساحة سطح المنشور مستطيل القاعدة:



128 .A
256 .B
512 .C
1080 .D

السؤال 10:

أوجد مساحة المنشور الثلاثي:



1.2 .A
2.4 .B
4.8 .C
9.6 .D

السؤال 11:

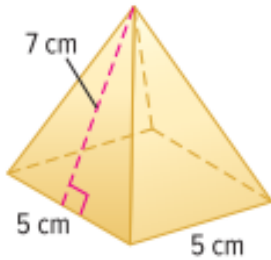
صندوق هدايا مزخرف على شكل منشور ثلاثي كما هو موضح. فما مساحة سطح هذا الصندوق؟



225 .A
25 .B
125 .C
175 .D

السؤال 12:

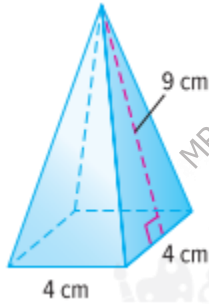
أوجد مساحة السطح الإجمالية للهرم:



80 .A
95 .B
140 .C
160 .D

السؤال 13:

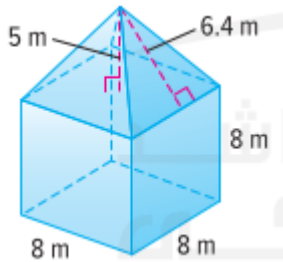
أوجد مساحة سطح الهرم.



44 .A
88 .B
102 .C
142 .D

السؤال 14:

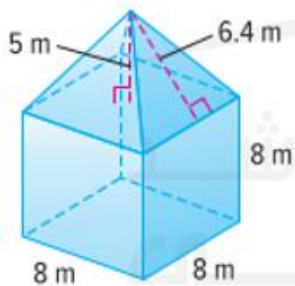
أوجد حجم الشكل المركب:



480.5 .A
561.8 .B
618.7 .C
712.5 .D

السؤال 15:

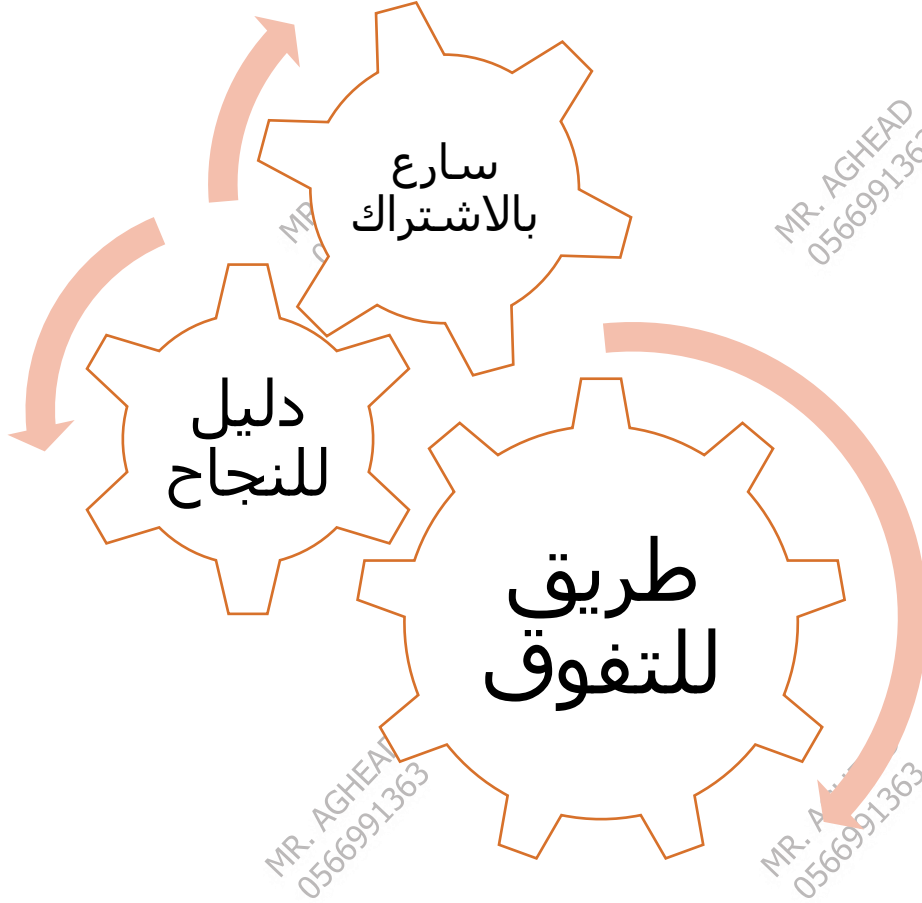
أوجد مساحة سطح الشكل في السؤال السابق:



387.2 .A
422.4 .B
542.6 .C
692.4 .D

Mr. Ahead

للتواصل اضغط الرقم:
0566991363



للحجز التواصل عبر الـ Whatsapp من خلال الضغط على الرقم:

0566991363

مع أطيب التمنيات بالنجاح والتوفيق ...

النهاية ...

للتواصل اضغط الرقم: 0566991363

احصل على الشرح كاملاً بـ 99 درهم فقط