

تجميعية الأسئلة الكتابية وفق الهيكل الوزاري الجديد منهج بريدج



تم تحميل هذا الملف من موقع المناهج الإماراتية

موقع المناهج ← المناهج الإماراتية ← الصف السادس ← علوم ← الفصل الأول ← ملفات متنوعة ← الملف

تاريخ إضافة الملف على موقع المناهج: 14:26:52 2025-11-05

ملفات اكتب للمعلم اكتب للطالب | اختبارات الكترونية | اختبارات | حلول | عروض بوربوينت | أوراق عمل
منهج انجليزي | ملخصات وتقارير | مذكرات وبنوك | الامتحان النهائي | للمدرس

المزيد من مادة
علوم:

إعداد: فاطمة راشدوه

التواصل الاجتماعي بحسب الصف السادس



صفحة المناهج
الإماراتية على
فيسبوك

الرياضيات

اللغة الانجليزية

اللغة العربية

التربية الاسلامية

المواد على تلغرام

المزيد من الملفات بحسب الصف السادس والمادة علوم في الفصل الأول

1 تجميعية الأسئلة الموضوعية (الاختيارية) وفق الهيكل الوزاري الجديد منهج بريدج مع الإجابات

2 مذكرة تلخيص جميع دروس وحدات المقرر

3 نموذج إجابة تجميعية الأسئلة الكتابية وفق الهيكل الوزاري الجديد منهج بريدج

4 أوراق عمل مراجعة شاملة الوحدة الثانية التكنولوجيا وعملية التصميم

5 ملخص الدرس الثاني matter of States من الوحدة الثالثة منهج انسباير



الإمارات العربية المتحدة
وزارة التربية والتعليم

تدريب هيكل امتحان العلوم للف = السادس

نهاية الفصل الأول 2025

المعلمة = فاطمة راشدوه

مكتب العمليات المدرسية - دبي والإمارات الشمالية
فرع 5 الفجيرة/ الشارقة الشرقية
نطاق 8.4
مدرسة الحصن الحلقة الثانية بنين



تدريب هيكل امتحان العلوم للصف = السادس نهاية الفصل الأول 2025

المعلمة = فاطمة راشدوه



الإمارات العربية المتحدة
وزارة التربية والتعليم

الأسئلة المقالية الكتابية

الأسئلة المقالية - FRQ	21	يبيّن أثر التطور التكنولوجي على تغير رغبات وحاجات الناس مع الزمن، يتعرف عملية التصميم الهندسي وإجراءاتها التي يستخدمها المهندسون لتلبية حاجة اجتماعية ، ويختبر آلة بسيطة ويحسنها.	نص الكتاب، الشكل 16، الجدول 3	52، 53، 54، 55، 56، 57
	22	يتعرف تركيب الذرة ، نواة، بروتونات، نيوترونات، إلكترونات	نص الكتاب، الأشكال 12، 13، 15، 16، 17، الجدول 3	99، 100، 101، 102، 103
	23	يتعرف حالات المادة ، وكيف تتحرك جسيمات في كل من المواد الصلبة والسائلة والغازية، ويتعرف خواصها الفيزيائية والكيميائية	نص الكتاب، الأشكال 1، 4، 5، الجدول 2	118، 120، 121، 122، 123
		يقارن بين التغيرات الكيميائية والفيزيائية ويعطي أمثلة عليها	نص الكتاب، الشكل 12، الجدول 3	133، 135، 136، 137
	24	يحسب تركيز محلول ما، ويصف تركيز محلول من حيث النوعية (محلول مركز ومحلول مخفف)	نص الكتاب، الشكل 1، مهارات الرياضيات	152، 153
		يستخدم مقياس درجة الحموضة لتصنيف المحاليل إلى محاليل حمضية وقاعدية ومتعادلة	نص الكتاب، الشكل 8	164، 165، 166

تدريب هيكل امتحان العلوم للصف = السادس نهاية الفصل الأول 2025

المعلمة = فاطمة راشدوه



الإمارات العربية المتحدة
وزارة التربية والتعليم

الأسئلة المقالية الكتابية

رقم السؤال	رقم الصفحة	الشكل (صورة الكتاب)	اسم الوحدة	اسم الدرس
21= كتابي	52 + 53 + 54 + 55 + 56 + 57	نص الكتاب الشكل 16 الجدول 3	الوحدة 2 التكنولوجيا وعملية التصميم	عملية التصميم
22= كتابي	99 + 100 + 101 + 102 + 103	نص الكتاب الأشكال 12،13،15،16،17 الجدول 3	الوحدة 3 المادة والذرات	بنية الذرة
23= كتابي	118 + 120 + 121 + 122 + 123	نص الكتاب الأشكال 1،4،5، الجدول 2	الوحدة 4 المادة : الخواص والتغيرات	المادة وخواصها
	133 + 135 + 136 + 137	نص الكتاب الشكل 12 الجدول 3	الوحدة 4 المادة : الخواص والتغيرات	المادة وتغيراتها
24= كتابي	152 + 153	نص الكتاب الشكل 1 مهارات الرياضيات	الوحدة 5 الذائبية الحمضية والقاعدية	خواص المحاليل
	164 + 165 + 166	نص الكتاب الشكل 8	الوحدة 5 الذائبية الحمضية والقاعدية	المحاليل الحمضية والقاعدية

المصطلحات العلمية لهيكل امتحان العلوم للصف = السادس

نهاية الفصل الأول 2025 المعلمة = فاطمة راشدوه



الإمارات العربية المتحدة
وزارة التربية والتعليم

الشكل 16 يمكن التفكير في عملية التصميم كمخطط دائري.

عملية التصميم

1. تحديد المشكلة أو الحاجة	2. البحث عن حلول وتطويرها
• تحديد مشكلة أو حاجة	• العصف الذهني للحلول الممكنة
• توثيق كل الأسئلة والأبحاث والإجراءات طوال العملية	• البحث في أي حلول قائمة تواجه المشكلة أو الحاجة
3. إنشاء نموذج تجريبي	4. اختبار الحلول وتقييمها
• وضع الحلول الممكنة	• استخدام النماذج لاختبار الحلول
• تقدير المواد والتكاليف والموارد والوقت	• استخدام الرسوم والخططات والجداول لتقييم النتائج
• تحديد أفضل حل ممكن	• تحليل العملية وتقييم نقاط قوة وضعف الحل
• إنشاء نموذج تجريبي	5. مشاركة النتائج وإعادة التصميم
	• مشاركة عملية التصميم والنتائج للآخرين
	• إعادة تصميم الحل وتعديله
	• إنشاء الحل النهائي



2.3 عملية التصميم

- عملية التصميم هي سلسلة من الخطوات المستخدمة لإيجاد حلول لمشكلة محددة.
- يمكن اختبار الحلول ومقارنتها باستخدام أساليب مثل مخطط بيو. يمكن استخدام هذه الأساليب لمقارنة الحلول بناءً على المعايير والقيود.

المصطلحات العلمية لهيكل علوم الصف السادس الفصل الأول 2025

م	المصطلح العلمي	تعريف المصطلح العلمي
1	الكفاءة	القدرة على الوصول للنتيجة المطلوبة بأقل مجهود وإهدار ممكن للموارد.
2	عملية التصميم	هي سلسلة من الخطوات المستخدمة لإيجاد الحلول لمشكلات محددة.
3	بيان المشكلة	هو البيان الذي يحدد المشكلة المطلوب حلها بوضوح.
4	المعايير	هي القواعد التي يتم تقييم المنتج على أساسها.
5	القيود	هي الحدود المفروضة على تصميم المنتج من عوامل خارجية مثل التكلفة أو الكفاءة أو الأثر البيئي أو توفر المواد.
6	العصف الذهني	أسلوب لحل المشكلات يتضمن مشاركة الأفراد بأفكارهم دون الخوف من الانتقاد.
7	مخطط بيو	هو طريقة يتم استخدامها للمقارنة بين الخيارات أو الحلول.



الإمارات العربية المتحدة
وزارة التربية والتعليم

رقم السؤال	رقم الصفحة	الشكل (صورة الكتاب)	اسم الوحدة	اسم الدرس
21= كتابي	52 + 53 + 54 + 55 + 56 + 57	نص الكتاب الشكل 16 الجدول 3	الوحدة 2 التكنولوجيا وعملية التصميم	عملية التصميم

❖ رتب خطوات تصميم المنتجات :

- 1..... نشر النتائج
- 2..... وضع نموذج
- 3..... تحديد المشكلات
- 4..... اختبار الحل وتقييمه
- 5..... جمع البيانات وتطوير الحلول الممكنة

رتب العمليات أو المراحل التالية والتي تبين خطوات حل مشكلة فيضان أحد الأنهار سنوياً: باستخدام الأرقام من 1 الى 7

العمليات أو المراحل (خطوات الحل)	الترتيب الصحيح
الاستقصاء حول مصدر النهر وجغرافيته.	(.....)
بناء نموذج لسد.	(.....)
ابتكار عدة تصميمات للسد.	(.....)
كتابة بيان المشكلة.	(.....)
اختبار النموذج.	(.....)
اختبار التصميم الأفضل من حيث المميزات.	(.....)
إعادة تصميم النموذج	(.....)

تحديد المشكلة

عملية التصميم

نظم المعلومات انسخ المنظم البياني أدناه واملاً الفراغات لإدراج خطوات عملية التصميم.



الإمارات العربية المتحدة
وزارة التربية والتعليم

رقم السؤال	رقم الصفحة	الشكل (صورة الكتاب)	اسم الوحدة	اسم الدرس
21= كتابي	52 + 53 + 54 + 55 + 56 + 57	نص الكتاب الشكل 16 الجدول 3	الوحدة 2 التكنولوجيا وعملية التصميم	عملية التصميم

يرغب المهندسون بتصميم ناقلة قطط، قد تزن ما يصل إلى 5 kg، ويجب أن يكون حجمها مناسباً لوضعها أسفل مقعد الطائرة، كما يجب ألا تزيد تكلفتها عن 75 درهماً، ويستخدم المهندسون لذلك عملية التصميم .

أ- أكمل الخطوات المستخدمة في عملية التصميم بالترتيب الصحيح في الشكل التالي.

ب- ما المعيار الذي وضعه المهندسون عند تصميم ناقلة القطط ؟

ج- ما القيود التي وضعها المهندسون عند تصميم ناقلة القطط ؟

د- إذا تمت صناعة منتج جديد وتم اختباره كما في الشكل 1 إلا أنه فشل بالاختبار لعدم صلابته وتم اقتراح شكل جديد كما في الشكل 2 فماذا يسمى المنتج الجديد في الشكل 1 ؟



2



1

فاطمة راشدوه

فاطمة راشدوه



الإمارات العربية المتحدة
وزارة التربية والتعليم

رقم السؤال	رقم الصفحة	الشكل (صورة الكتاب)	اسم الوحدة	اسم الدرس
21= كتابي	52 + 53 + 54 + 55 + 56 + 57	نص الكتاب الشكل 16 الجدول 3	الوحدة 2 التكنولوجيا وعملية التصميم	عملية التصميم

الجدول 3 مخطط بيومي: معايير المعطف

الإجمالي	طول المعطف	التدفئة	اللون	التكلفة	
+2	-1	+1	+1	+1	معطف 1
0	0	0	0	0	معطف 2
-1	-1	0	+1	-1	معطف 3

❖ استخدم الشكل المجاور للإجابة عن الأسئلة التالية :

1- ما اسم المخطط التالي ؟ مخطط

2- ما الهدف من استخدام المخطط ؟

3- ما هو المعطف الأفضل حسب المخطط ؟

4- ما هو المعطف الأسوأ (لا يفضل استخدامه) حسب المخطط ؟

5- ما أهمية الكفاءة في تصميم المنتج ؟

6- ما أهمية اختبار الحلول ؟




الإمارات العربية المتحدة
وزارة التربية والتعليم

رقم السؤال	رقم الصفحة	الشكل (صورة الكتاب)	اسم الوحدة	اسم الدرس
22 = كتابي	103 + 102 + 101 + 100 + 99	نص الكتاب الأشكال 12، 13، 15، 16، 17 الجدول 3	الوحدة 3 المادة والذرات	بنية الذرة

المصطلحات العلمية لهيكل امتحان العلوم للصف = السادس نهاية الفصل الأول 2025 = المعلمة فاطمة راشدوه

3.2 بنية الذرة

- إن مركز الذرة هو النواة، وتحتوي النواة على بروتونات ونيوترونات. تشغل الإلكترونات الحيز الموجود خارج النواة.
- تحدد هوية الذرة من خلال عددها الذري، والعدد الذري هو عدد البروتونات الموجودة في الذرة.
- لا تتغير هوية الذرة إذا تغير عدد النيوترونات أو الإلكترونات.



المصطلحات العلمية لهيكل علوم الصف السادس الفصل الأول 2025

م	المصطلح العلمي	تعريف المصطلح العلمي
1	النواة	❖ هي منطقة في وسط الذرة تحتوي على معظم كتلتها وتتكون من نوعين من الجسيمات البروتونات والنيوترونات.
2	البروتون	❖ هو جسيم موجب الشحنة موجود في نواة الذرة
3	النيوترون	❖ هو جسيم متعادل الشحنة موجود في نواة الذرة.
4	الإلكترون	❖ هو جسيم سالب الشحنة يشغل حيزاً في الذرة من الخارج.
5	سحابة الإلكترونات	❖ هي منطقة تحيط بنواة الذرة حيث يوجد على الأرجح إلكترون واحد أو أكثر.
6	العدد الذري	❖ عدد البروتونات في نواة ذرة العنصر.
7	النظير	❖ هو واحدة أو اثنين من ذرات عنصر ما. لديها العدد نفسه من البروتونات ولكنها تختلف من حيث عدد النيوترونات.



الإمارات العربية المتحدة
وزارة التربية والتعليم

رقم السؤال	رقم الصفحة	الشكل (صورة الكتاب)	اسم الوحدة	اسم الدرس
22 = كتابي	103 + 102 + 101 + 100 + 99	نص الكتاب الأشكال 12، 13، 15، 16، 17 الجدول 3	الوحدة 3 المادة والذرات	بنية الذرة

❖ استخدم الشكل المجاور للإجابة عن الأسئلة التالية :

1- عدد أنواع الجسيمات الذرية الموجودة بالذرة ؟

1 2 3

2- ماذا يطلق على الجزء الموجود في وسط الذرة ؟

3- ماذا يحيط بالنواة ؟

3- ما عدد البروتونات والإلكترونات الموجودة في الذرة ؟

4- أكمل الجدول التالي :

الجسيم الذري	الموقع	الشحنة	الكتلة amu (وحدة كتلة ذرية = amu)
البروتون			
النيوترون			
الإلكترون			

❖ استخدم الشكل المجاور واكمل الفراغات التالية :


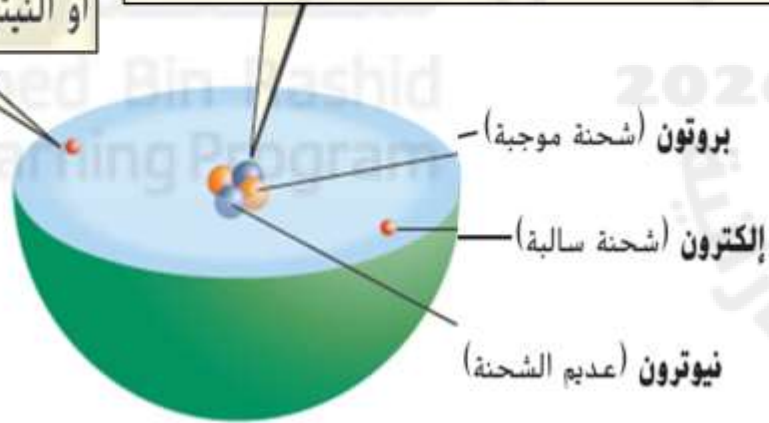
1- تنجذب الإلكترونات القريبة من النواة إليها بشدة وتكون لها طاقة

2- تنجذب الإلكترونات البعيدة عن النواة إليها بصورة أقل وتكون لها طاقة

الشكل 12 لكل الذرات نواة موجبة الشحنة، محاطة بالإلكترون واحد أو أكثر.

تبلغ كتلة الإلكترون حوالي 1/1,800 من كتلة البروتون أو النيوترون فحسب.

كل كتلة الذرة تقريباً موجودة في نواتها. إنّ كتلة البروتون أقل بقليل من كتلة النيوترون



الشكل 13 للإلكترونات التي تقع بعيداً عن النواة طاقة أكبر.

فاطمة راشد



الإمارات العربية المتحدة
وزارة التربية والتعليم

رقم السؤال	رقم الصفحة	الشكل (صورة الكتاب)	اسم الوحدة	اسم الدرس
22 = كتابي	99 + 100 + 101 + 102 + 103	نص الكتاب الأشكال 12، 13، 15، 16، 17 الجدول 3	الوحدة 3 المادة والذرات	بنية الذرة

الشكل 15 إن العدد الذري هو عدد البروتونات الموجودة في كل ذرة من العنصر.

المغنيسيوم
12
Mg
24.31

العدد الذري = 12
بروتون 12
إلكترون 12

الكربون
6
C
12.01

العدد الذري = 6
بروتون 6
إلكترونات 6

الفلور
9
F
19.00

العدد الذري =
عدد الإلكترونات =
عدد النيوترونات =

❖ استخدم الشكل المجاور للإجابة عن الأسئلة التالية :

1- ما وجه الارتباط بين العدد الذري وعدد البروتونات الموجودة في الذرة ؟

2- ما تأثير تغير عدد الجسيمات في الذرة في هويتها ؟

3- تفكير ناقد = حدد هل يمكنك أن تخبر عن هوية عنصر الذرة إذا علمت شحنته وعدد الإلكترونات فيه ؟ فسر اجابتك ؟

4- أكمل البيانات المطلوبة بالشكل التالي :

26

Fe

الحديد

55.845



الإمارات العربية المتحدة
وزارة التربية والتعليم

رقم السؤال	رقم الصفحة	الشكل (صورة الكتاب)	اسم الوحدة	اسم الدرس
22 = كتابي	99 + 100 + 101 + 102 + 103	نص الكتاب الأشكال 12، 13، 15، 16، 17 الجدول 3	الوحدة 3 المادة والذرات	بنية الذرة

❖ استخدم الشكل المجاور وأجب عن السؤال التالي :

1- ما أوجه الاختلاف بين البورون - 10 والبورون - 11 ؟

.....

استخدم الشكل أدناه للإجابة عن السؤال 7.

الإلكترون



البروتون



النيوترون



7. يُبيّن الشكل نماذج لثلاث ذرات مختلفة، ما الذي يمكنك أن تستنتجه حول النماذج الثلاثة المبيّنة في الشكل؟

- A. تُبيّن جميعها أيونات موجبة.
- B. تُبيّن جميعها أيونات سالبة.
- C. تُبيّن جميعها العنصر نفسه.
- C. تُبيّن جميعها النظير نفسه.

استخدم الجدول التالي للإجابة عن السؤالين 9 و 10.

	عدد البروتونات	عدد النيوترونات	عدد الإلكترونات
A	8	8	8
B	8	8	10
C	8	9	8
D	9	10	9

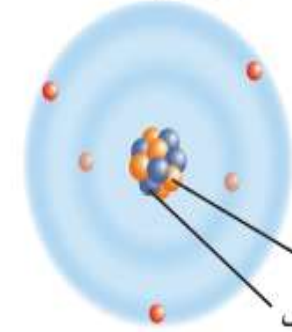
9. يُبيّن الجدول أعداد البروتونات والنيوترونات والإلكترونات في أربع ذرات. أيّ ممّا يلي هي الذرة السالبة الشحنة؟

- A. A
- B. B
- C. C
- D. D

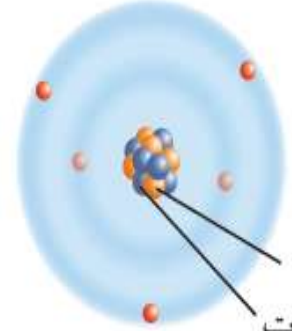
10. أيّ ذرة هي عنصر مختلف عن بقية العناصر؟

- A. A
- B. B
- C. C
- D. D

البورون - 10



البورون - 11



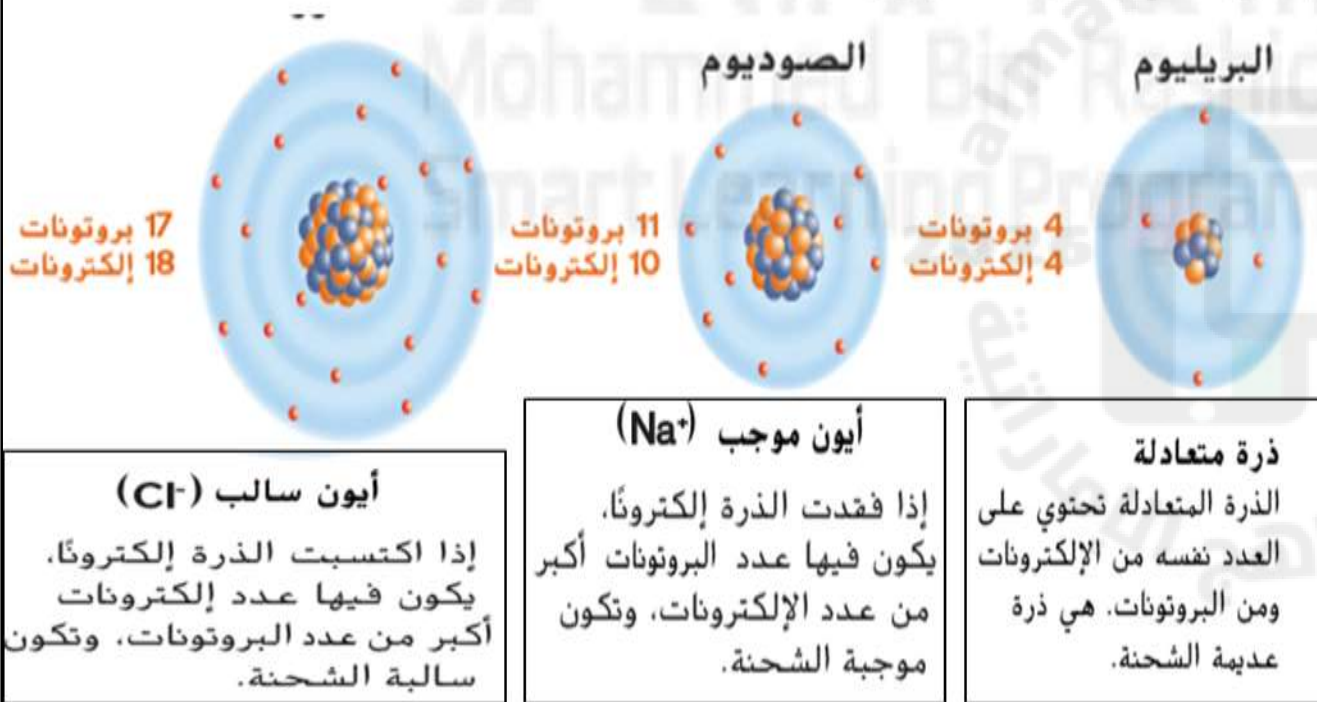
الشكل 16 إنّ البورون 10- والبورون 11- هما نظيران، لهما العدد نفسه من البروتونات ولكنهما مختلفان من حيث عدد النيوترونات.



الإمارات العربية المتحدة
وزارة التربية والتعليم

رقم السؤال	رقم الصفحة	الشكل (صورة الكتاب)	اسم الوحدة	اسم الدرس
22 = كتابي	99 + 100 + 101 + 102 + 103	نص الكتاب الأشكال 12، 13، 15، 16، 17 الجدول 3	الوحدة 3 المادة والذرات	بنية الذرة

الشكل 17 للأيون الموجب عدد إلكترونات أقل من عدد البروتونات، وللأيون السالب عدد إلكترونات أكبر من عدد البروتونات.



❖ استخدم الشكل المجاور وأكمل الفراغات التالية :

1- العدد نفسه + و- متعادل الشحنة وتكون شحنته =

2- (+ أكثر من -) أيون مشحون شحنته =

3- (+ أقل من -) أيون مشحون شحنته =

4- في الذرة المتعادلة يكون عدد البروتونات مساو لعدد الإلكترونات

ماذا سيحدث في حال تغير عدد الإلكترونات

- البروتونات +

- الإلكترونات -

- النيوترونات -



الإمارات العربية المتحدة
وزارة التربية والتعليم

رقم السؤال	رقم الصفحة	الشكل (صورة الكتاب)	اسم الوحدة	اسم الدرس
22 = كتابي	99 + 100 + 101 + 102 + 103	نص الكتاب الأشكال 12، 13، 15، 16، 17 الجدول 3	الوحدة 3 المادة والذرات	بنية الذرة

الجدول 3 التغيرات المحتملة في الذرات		
النتائج	التغير	ذرة متعادلة
عنصر جديد - الليتروجين 7 + بروتونات 7 + نيوترونات 7 + إلكترونات	البروتونات إضافة بروتون واحد	الكربون C 12.01 6 + بروتونات 6 + نيوترونات 6 + إلكترونات
النظير 6 + بروتونات 7 + نيوترونات 6 + إلكترونات	النيوترونات إضافة نيوترون واحد	
أيون سالب 6 + بروتونات 6 + نيوترونات 7 + إلكترونات	الإلكترونات إضافة إلكترون واحد	

ذرة كربون في الألماس على 6 بروتونات. وتحتوي كل ذرة ذهب على 79 بروتونًا. إن أجزاء الذرة تحدد هوية العنصر. وينتج عن الطرائق التي ترتبط بها الذرات الكثير من الأنواع المختلفة للمادة.

الذرة	عدد البروتونات	عدد النيوترونات	عدد الإلكترونات
A	8	8	8
B	8	9	8
C	8	10	10
D	11	12	10

❖ اكمل الجمل التالية :

- التغير في عدد البروتونات تكون النتيجة
- التغير في عدد النيوترونات تكون النتيجة
- التغير في عدد الإلكترونات تكون النتيجة

1- علل سبب اختلاف الذرات ؟

.....

2- علل يصف العلماء الإلكترونات بالسحابة ؟

.....

3- علل سبب اختلاف خاتم الألماس والذهب على الرغم من قد صغوا من نوع واحد من الذرات ؟

.....

.....

❖ استخدم الجدول التالي للإجابة عما يليه :

- أي الذرات بالجدول هي نظائر؟ و..... و.....
- أي من الذرات هي الذرة السالبة الشحنة (أيون سالب) ؟
- أي من الذرات هي الذرة موجبة الشحنة (أيون موجب) ؟



الإمارات العربية المتحدة
وزارة التربية والتعليم

رقم السؤال	رقم الصفحة	الشكل (صورة الكتاب)	اسم الوحدة	اسم الدرس
23= كتابي	118 + 120 + 121 + 122 + 123	نص الكتاب الأشكال 1، 4، 5، الجدول 2	الوحدة 4 المادة : الخواص والتغيرات	المادة وخواصها
رقم السؤال	رقم الصفحة	الشكل (صورة الكتاب)	اسم الوحدة	اسم الدرس
23= كتابي	133 + 135 + 136 + 137	نص الكتاب الشكل 12 الجدول 3	الوحدة 4 المادة : الخواص والتغيرات	المادة وتغيراتها

المصطلحات العلمية لهيكل امتحان العلوم للصف = السادس نهاية الفصل الأول 2025 المعلمة = فاطمة راشدوه

أما الخاصية الكيميائية ، فهي قدرة المادة الكيميائية أو عدم قدرتها على الاندماج مع مادة كيميائية جديدة واحدة أو أكثر أو التحول إليها.
• لا تعتمد بعض خواص المواد على مقدار العينة. ويمكنك تحديد هوية مادة كيميائية عن طريق مقارنة خواص هذه المادة بخواص مواد كيميائية أخرى معروفة.
• إن التغير الفيزيائي هو تغير في حجم المادة أو شكلها أو تكوينها أو حالتها تبقى فيه هويتها كما هي. أما التغير الكيميائي ، فهو تغير في المادة يجعل المواد الفردية التي تتألف منها تتحول إلى مواد فردية ذات خواص كيميائية وفيزيائية مختلفة.
• بنص قانون حفظ الكتلة على أن إجمالي كتلة المادة بظل ثابتاً قبل التفاعل الكيميائي وبعده.

المصطلحات العلمية لهيكل علوم الصف السادس الفصل الأول 2025		
م	المصطلح العلمي	تعريف المصطلح العلمي
1	الكثافة	❖ هي الكتلة لكل وحدة حجم من مادة ما.
2	قابلية الذوبان	❖ هي قدرة ذوبان مادة في مادة أخرى.
3	الخاصية الكيميائية	❖ هي قدرة المادة الكيميائية أو عدم قدرتها على الاتحاد مع مادة أخرى أو أكثر أو التحول إلى مادة جديدة.
4	التغير الكيميائي	❖ هو تغير المادة تتحول خلاله المواد الكيميائية التي تتألف منها المادة.
5	قانون حفظ الكتلة	❖ كتلة المادة تبقى ثابتة قبل التفاعل الكيميائي وبعده.



الإمارات العربية المتحدة
وزارة التربية والتعليم

رقم السؤال	رقم الصفحة	الشكل (صورة الكتاب)	اسم الوحدة	اسم الدرس
23 = كتابي	118 + 120 + 121 + 122 + 123	نص الكتاب الأشكال 1، 4، 5، الجدول 2	الوحدة 4 المادة : الخواص والتغيرات	المادة وخواصها

الشكل 1 نختلف حركة وقوى التجاذب بين الجسيمات الموجودة في المواد الصلبة والسائلة والغازية.

المادة الغازية

- ليس لها شكل
- ليس له حجم محدد
- جسيمات شديدة التباعد
- قوى تجاذب ضعيفة جدًا
- بين الجسيمات
- جسيمات تتحرك بحرية

المادة السائلة

- ليس لها شكل محدد: تأخذ شكل الإناء الذي توضع فيه
- حجم محدد
- جسيمات متقاربة
- قوى تجاذب بين الجسيمات أضعف من تلك الموجودة بين جسيمات المواد الصلبة
- جسيمات تتحرك بحرية بمحاذاة جسيمات مجاورة

المادة الصلبة

- شكل محدد
- حجم محدد
- جسيمات قريبة بعضها من بعض
- قوى تجاذب كبيرة بين الجسيمات
- جسيمات تهتز في كل الاتجاهات

املأ الفراغ بالجدول أدناه، للمقارنة بين النماذج بالعمود الأول لحالات المادة حسب شكلها وحجمها (محددة أو غير محددة) في الجدول التالي:

النموذج	حالة المادة بالنموذج	الشكل	الحجم
	SN:0Y3738871321127588C4227735553324		241219134500

فاطمة راشدوه

فاطمة راشدوه

فاطمة راشدوه

فاطمة راشدوه

فاطمة راشدوه



الإمارات العربية المتحدة
وزارة التربية والتعليم

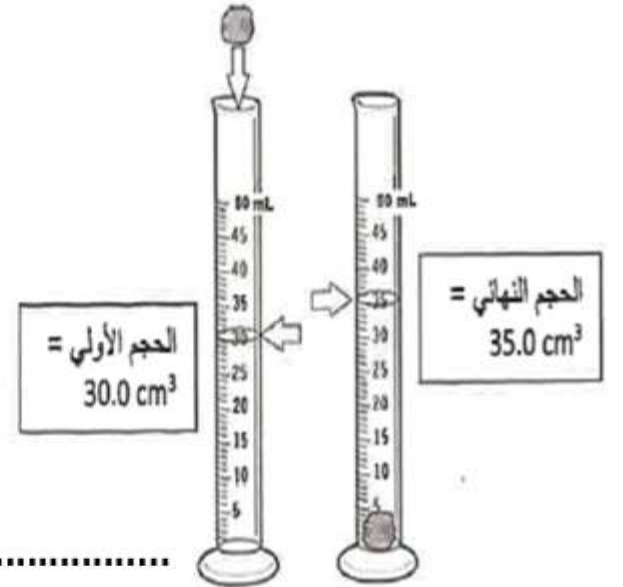
رقم السؤال	رقم الصفحة	الشكل (صورة الكتاب)	اسم الوحدة	اسم الدرس
23 = كتابي	118 + 120 + 121 + 122 + 123	نص الكتاب الأشكال 1، 4، 5، الجدول 2	الوحدة 4 المادة : الخواص والتغيرات	المادة وخواصها

21. استخدم ما تعلمته عن الكثافة لإكمال الجدول المبيّن أدناه. ثم حدد هويّتي الفلزيّن المجهولين.

الفلز	الكتلة (g)	الحجم (cm ³)	الكثافة (g/cm ³)
الحديد	42.5	5.40	
الرصاص	28.8	2.55	
التنجستين	69.5	3.60	
الخارصين	46.4	6.50	
	61.0	5.40	
	46.4	2.40	

ما المادة المكوّنة للجسم الصلب غير المنتظم في الشكل أدناه، إذا علمت أن كتلته تساوي 44.8 g؟

المادة	الكثافة (g/cm ³)
ذهب	19.3
بيريت	5.02
اسفاليريت	4.15
نحاس	8.96



.....

.....

.....



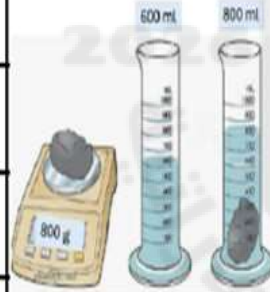
الإمارات العربية المتحدة
وزارة التربية والتعليم

رقم السؤال	رقم الصفحة	الشكل (صورة الكتاب)	اسم الوحدة	اسم الدرس
23 = كتابي	118 + 120 + 121 + 122 + 123	نص الكتاب الأشكال 1، 4، 5، الجدول 2	الوحدة 4 المادة : الخواص والتغيرات	المادة وخواصها

أوجد قياس كثافة جسم فلز

سؤال 9: جسم فلز (كتلته = 800g) ، وضع الفلز في مخبر مدرج يحتوي على (600 ml) من الماء ، فارتفع مستوى الماء في المخبر المدرج إلى (800 ml) ، أحسب كثافة الفلز...

1	كتلة جسم الفلز = 800g القراءة 1 - القراءة 2 = حجم جسم الفلز
2 - = حجم جسم الفلز = حجم جسم الفلز
3	الحجم ÷ الكتلة = كثافة جسم الفلز ÷ = كثافة جسم الفلز = كثافة جسم الفلز



أكمل الفراغات

القطعة B



الكتلة = 28.98 g
الحجم = 1.5 ml

حساب الكثافة

الكثافة

$\frac{\text{الكتلة}}{\text{الحجم}} = \text{الكثافة}$

القطعة A



الكتلة = 57.96 g
الحجم = 3 ml

الخطوة	الكتلة = الكثافة ÷ الحجم	الكتلة ÷ الحجم = الكثافة
الخطوة 1	الكتلة هي 28.98 g ، الحجم هو 1.5 mL	الكتلة هي 57.96 g ، الحجم هو 3 mL
الخطوة 2	عوض عن قيمتي الكتلة والحجم في القانون.	عوض عن قيمتي الكتلة والحجم في القانون.
الخطوة 3	حل المسألة.	حل المسألة.

كثافة القطعة B هي
كثافة القطعة A هي

لا يهم إن كانت قطعة الذهب صغيرة أو كبيرة، فالحجم يزداد بازدياد الكتلة، ولكن الكثافة تبقى كما هي. فالذهب النقي يمتلك دائماً نفس الكثافة وهي g/ml؛ وذلك لأن الكثافة تعتمد على كتلة وحجم العينة. الكثافة هي خاصية فيزيائية تُستخدم في تحديد

رقم السؤال	رقم الصفحة	الشكل (صورة الكتاب)	اسم الوحدة	اسم الدرس
23 = كتابي	118 + 120 + 121 + 122 + 123	نص الكتاب الأشكال 4، 5، 1، الجدول 2	الوحدة 4 المادة : الخواص والتغيرات	المادة وخواصها



الإمارات العربية المتحدة
وزارة التربية والتعليم

الشكل 4 تشمل الخواص الفيزيائية المغناطيسية وقابلية السحب والتوصيل الكهربائي.



المغناطيسية خاصية فيزيائية تسمح
لبعض المواد بجذب فلزات معينة

إن المواد الفلزية، مثل ورق الألمنيوم
المستعمل في المطبخ، تُعد مفيدة كونها
قابلة لللف وللطرق في طبقات رقيقة

بعض الفلزات، كالنحاس، يُستخدم في
الأسلاك الكهربائية نظراً لقدرته الكبيرة
على التوصيل الكهربائي

استخدم الشكل المجاور وأجب عن الأسئلة التالية :

☐ ما نوع المواد التي تنجذب إلى المغناطيس؟

☐ اذكر مثلاً على مادة تُظهر خاصية المغناطيسية؟

☐ لماذا يُستخدم ورق الألمنيوم في المطبخ؟

☐ ما الخاصية الفيزيائية التي تُمكن الألمنيوم من التشكل في طبقات رقيقة؟

☐ اذكر مثلاً على فلز جيد التوصيل للكهرباء؟

☐ كيف يمكنك التمييز بين فلز مغناطيسي وفلز غير مغناطيسي عملياً؟

☐ ما أوجه التشابه والاختلاف بين الألمنيوم والنحاس من حيث الخصائص الفيزيائية؟

☐ قدم وصفاً في الخواص الفيزيائية في المواد الثلاث التالية:



مسامير الحديد



ورق الألمونيوم



أسلاك النحاس

.....
.....

.....
.....

.....
.....



الإمارات العربية المتحدة
وزارة التربية والتعليم

رقم السؤال	رقم الصفحة	الشكل (صورة الكتاب)	اسم الوحدة	اسم الدرس
23 = كتابي	118 + 120 + 121 + 122 + 123	نص الكتاب الأشكال 1، 4، 5، الجدول 2	الوحدة 4 المادة : الخواص والتغيرات	المادة وخواصها

صنف الجمل التالية أيهما قابل للاشتعال وأيهما قابل للصدأ

قابلية مادة كيميائية ما للاحتراق بوجود الأكسجين

قابلية صدأ الحديد بتفاعل الحديد مع الماء والأكسجين.

يتفاعل الخشب مع الأكسجين عند احتراقه ويتحول إلى رماد وثاني أكسيد الكربون وبخار الماء وغازات أخرى.

يتكوّن الصدأ عندما يتفاعل الحديد مع الماء والأكسجين الموجود في الهواء لتكوّن مادة بُنيّة مائلة للحمرة. (الصدأ أيضًا أكسيد الحديد).

قابلية الصدأ

قابلية الاشتعال

.....
.....

.....
.....

.....
.....

.....
.....

الشكل 5 يُمثل كلٌّ من قابلية الاشتعال والصدأ أمثلة على الخواص الكيميائية.



قابلية الصدأ

سريعًا ما نصدأ الأجزاء الفلزية في سيارة قديمة بسبب احتوائها على الحديد. ونعدّ قابلية الصدأ خاصية كيميائية للحديد.

قابلية الاشتعال

في العام 1937 اشتعلت النيران في منطاد هيندنبورج المزود بمحرك فنحطم. لقد كان المنطاد مملوءًا بالهيدروجين، وهو غاز شديد الاشتعال.



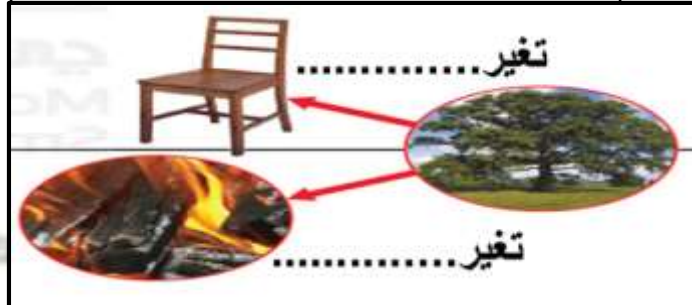
الإمارات العربية المتحدة
وزارة التربية والتعليم

رقم السؤال	رقم الصفحة	الشكل (صورة الكتاب)	اسم الوحدة	اسم الدرس
23 = كتابي	133 + 135 + 136 + 137	نص الكتاب الشكل 12 الجدول 3	الوحدة 4 المادة : الخواص والتغيرات	المادة وتغيراتها

الجدول 3 المقارنة بين التغيرات الفيزيائية والكيميائية		
نوع التغير	الأمثلة	الخواص
تغير فيزيائي	<ul style="list-style-type: none"> الانصهار الغليان تغير الشكل الخلط الذوبان زيادة درجة الحرارة أو انخفاضها 	<ul style="list-style-type: none"> ثبات المادة الكيميائية قبل التغير وبعده. تتغير الخواص الفيزيائية فقط.
تغير كيميائي	<ul style="list-style-type: none"> تغير اللون الاحتراق الصدأ تكوين غاز تكوين راسب فساد الطعام فقدان بريق اللون الفضي هضم الطعام 	<ul style="list-style-type: none"> تختلف المادة الكيميائية بعد التغير. تتغير الخواص الفيزيائية والكيميائية على حد سواء.

أكمل الجدول التالي :

نوع التغير	المثال	الخواص
تغير فيزيائي
تغير كيميائي



حدد نوع التغير (فيزيائي أم كيميائي)

الشكل 12 تتسبب حرائق الغابات في حدوث تغير كيميائي في الأشجار، مما يتسبب في إنتاج مواد جديدة.



يُمثل إنتاج الضوء والحرارة أثناء حرائق الغابات مؤشرات على حدوث تغير كيميائي. بعد الحريق، يصبح تكوّن المواد الكيميائية الجديدة دليلاً على حدوث تغير كيميائي.

❖ فسر ما يلي علمياً = يعد الدخان المنتج أثناء حرائق الغابات مؤشراً على التغير الكيميائي ؟

.....

❖ علل = تعتبر الإذابة تغيراً فيزيائياً ؟

.....

❖ علل يعتبر تغير المادة من حالة إلى أخرى تغيراً فيزيائياً؟

.....



الإمارات العربية المتحدة
وزارة التربية والتعليم

رقم السؤال	رقم الصفحة	الشكل (صورة الكتاب)	اسم الوحدة	اسم الدرس
23 = كتابي	137 + 136 + 135 + 133	نص الكتاب الشكل 12 الجدول 3	الوحدة 4 المادة : الخواص والتغيرات	المادة وتغيراتها

التغير الفيزيائي	التغير الكيميائي	
		التعريف
✓ ✓ ✓ ✓	✓ ✓ ✓ ✓	المؤشرات
✓ ✓ ✓ ✓ ✓ ✓	✓ ✓ ✓ ✓ ✓ ✓	أمثلة

أي مما يلي تغير فيزيائي وأي منها تغير كيميائي تبخر الماء - خبز الكيك - ذوبان الملح - قص الورق - انصهار الشمعة - تعفن الخبز - حرق البخور - الألعاب النارية - احتراق الشمعة	
التغيرات الفيزيائية	التغيرات الكيميائية
• • • • • •	• • • • • •



الإمارات العربية المتحدة
وزارة التربية والتعليم

رقم السؤال	رقم الصفحة	الشكل (صورة الكتاب)	اسم الوحدة	اسم الدرس
24 = كتابي	152 + 153	نص الكتاب الشكل 1 مهارات الرياضيات	الوحدة 5 الذائبية الحمضية والقاعدية	خواص المحاليل
رقم السؤال	رقم الصفحة	الشكل (صورة الكتاب)	اسم الوحدة	اسم الدرس
24 = كتابي	164 + 165 + 166	نص الكتاب الشكل 8	الوحدة 5 الذائبية الحمضية والقاعدية	المحاليل الحمضية والقاعدية

المصطلحات العلمية لهيكل امتحان العلوم للصف = السادس نهاية الفصل الأول 2025 المعلمة = فاطمة راشدوه

5.1 خواص المحاليل

- إن التركيز هو الكمية التي تذوب من المذاب. والذائبية هي الكمية الأقصى من المذاب التي يمكن أن تذوب.
- تؤثر الحرارة والضغط على حد سواء في ذائبية المذابات في المحاليل.



5.2 المحاليل الحمضية والقاعدية

- تحتوي الأحماض على أيونات الهيدروجين التي تتحرر. وتكوّن أيونات الهيدرونيوم في الماء. أما القواعد. فهي المواد التي تكوّن أيونات الهيدروكسيد عند ذوبانها في الماء.
- يتغير تركيز أيون الهيدرونيوم عكسيًا حسب الرقم الهيدروجيني (pH). وهذا يعني أنه عند زيادة تركيز أيون الهيدرونيوم. ينخفض الرقم الهيدروجيني (pH).
- يمكن قياس الرقم الهيدروجيني (pH) باستخدام الكواشف أو مقياس الرقم الهيدروجيني (pH) الرقمي.



المصطلحات العلمية لهيكل علوم الصف السادس الفصل الأول 2025		
م	المصطلح العلمي	تعريف المصطلح العلمي
1	التركيز	❖ هو الكمية الموجودة من مذاب معين في مقدار معين من المحلول.
2	الرقم الهيدروجيني PH	❖ هو مقياس عكسي لتركيز أيونات الهيدرونيوم (H_3O^+) في محلول ما.
3	الكاشف	❖ مركب يتغير لونه عند قيم مختلفة للرقم الهيدروجيني PH عندما يتفاعل مع المحاليل الحمضية أو القاعدية.

رقم السؤال	رقم الصفحة	الشكل (صورة الكتاب)	اسم الوحدة	اسم الدرس
24 = كتابي	152 + 153	نص الكتاب الشكل 1 مهارات الرياضيات	الوحدة 5 الذائبية الحمضية والقاعدية	خواص المحاليل



الإمارات العربية المتحدة
وزارة التربية والتعليم

مهارات الرياضيات

حساب التركيز
إيجاد قيمة التركيز

افترض أنك تريد حساب تركيز الملح في علبة حساء حجمها 0.4 L. تظهر الكتابة على ظهر العلبة أنها تحتوي على 1.6 g من الملح. فكم يكون تركيزه بوحدة g/L؟
بعبارة أخرى، كم تكون كمية الملح الموجودة في 1 L من الحساء؟

1. هذه هي القيم المُعطاة لك،
الكتلة، 1.6 g
الحجم، 0.4 L

2. هذا ما تحتاج إلى إيجاده،
التركيز، C

3. استخدم هذا القانون،
 $C = \frac{m}{V}$

4. عوّض،
 $C = \frac{1.6 \text{ g}}{0.4 \text{ L}} = 4 \text{ g/L}$
عن قيمتي m و V في القانون، ثم قم بالقسمة.

الإجابة، إن التركيز هو 4 g/L. كما قد تتوقع، فإن 0.4 L من الحساء يحتوي على ملح بكمية أقل (1.6 g) من 1 L من الحساء (4 g). مع ذلك، فإن تركيزي كلتا الكميتين من الحساء متساويان 4 g/L.

تدريب

1. ما مقدار تركيز 5 g من السكر في 0.2 L من المحلول؟
2. كم عدد جرامات الملح في 5 L من محلول بتركيز 3 g/L؟
3. لتخضير محلول بتركيز 3 g/L، ما الحجم الكلي للمحلول؟

$$\text{التركيز (C)} = \frac{\text{كتلة المذاب (m)}}{\text{حجم المحلول (V)}}$$

$$\text{التركيز} = \frac{\text{الكتلة}}{\text{الحجم}}$$

$$C = \frac{m}{V}$$

الإجابة =

- 1-
- 2-
- 3-



❖ انظر الى الشكل التالي وأجب عن الأسئلة التالية ؟

- 1- كمية المذاب في الكوب 1
وكمية المذاب في الكوب 2
- 2- نوع المحلول في الكوب 1 محلول
ونوع المحلول في الكوب 2 محلول

3- لماذا لا يعطي المصطلح مخفف وصفاً دقيقاً للتركيز ؟

- 4- إذا ما أضيف المزيد من المذيب إلى محلول ما فما الذي يحدث للتركيز؟
.....
- 5- الكمية الموجودة من مذاب في مقدار معين من المحلول هو



الإمارات العربية المتحدة
وزارة التربية والتعليم

رقم السؤال	رقم الصفحة	الشكل (صورة الكتاب)	اسم الوحدة	اسم الدرس
24 = كتابي	152 + 153	نص الكتاب الشكل 1 مهارات الرياضيات	الوحدة 5 الذائبية الحمضية والقاعدية	خواص المحاليل

ضع علامة ✓ أمام العبارة الصحيحة وعلامة ✗ أمام العبارة الخاطئة:

- (1) (المحلول المتعادل هو المحلول الذي له الرقم الهيدروجيني 6)
- (2) (ينتج عن تفاعل الحمض والفلز ملح وهيدروجين)
- (3) (محاليل الأحماض غير موصلة للتيار الكهربائي)
- (4) (يستخدم هيدروكسيد الكالسيوم لتخفيف حموضة المعدة)
- (5) (المحلول القلوي هو المحلول الذي له الرقم الهيدروجيني أكبر من 7)
- (6) (ترجع قوة الحمض إلى سهولة انفصاله إلى أيونات)
- (7) (كرومات البوتاسيوم من المواد منخفضة الذائبية)
- (8) (يزداد معدل ذوبان المواد الصلبة بانخفاض درجة غليان المذيب)
- (9) (ملح الطعام من أمثلة المركبات التساهمية (الجزيئية))
- (10) (يقيس الرقم الهيدروجيني pH حمضية المحلول أو قاعدية)
- (11) (طعم الأحماض لاذع)
- (12) (يستخدم حمض الكبريت (الكبريتيك) يستخدم في صناعة الأسمدة والبلاستيك)

في الشكل أنناه كوبان يحتوي كل منهما على 0.6 L من الماء، إذا تمت إذابة 12 g من الملح في الكوب رقم 1 و 3.6 g من نوع الملح نفسه في الكوب رقم 2.



أ- ما تركيز الملح في الكوب رقم 1 بوحدة g/L؟

.....
.....

ب- ما تركيز الملح في الكوب رقم 2 بوحدة g/L؟

.....
.....

ج - أي المحلولين (1 أم 2) يُعد محلولًا مخففًا؟

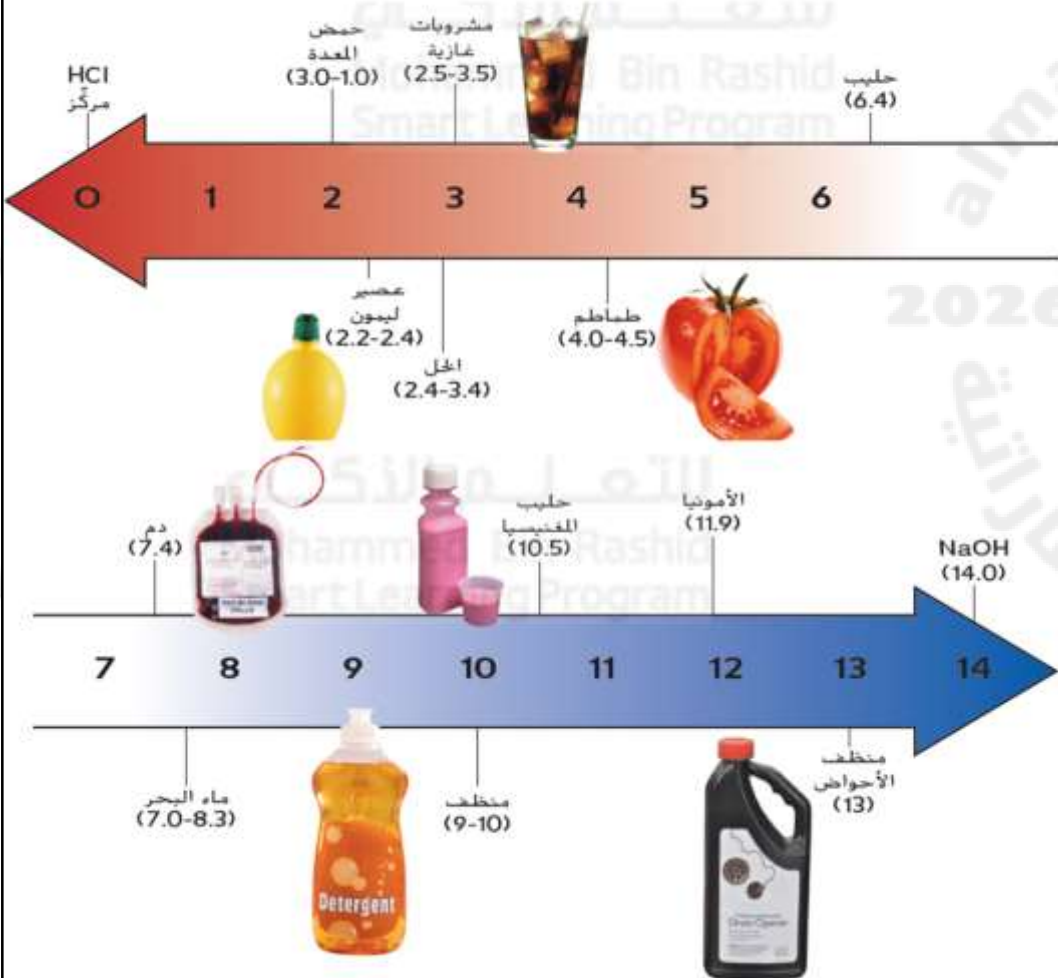
.....



الإمارات العربية المتحدة
وزارة التربية والتعليم

رقم السؤال	رقم الصفحة	الشكل (صورة الكتاب)	اسم الوحدة	اسم الدرس
24 = كتابي	164 + 165 + 166	نص الكتاب الشكل 8	الوحدة 5 الذائبية الحمضية والقاعدية	المحاليل الحمضية والقاعدية

الشكل 8 لاحظ أنه بزيادة تركيز الهيدرونيوم، ينخفض الرقم الهيدروجيني (pH).



انظر للشكل المجاور واستخرج الاجابة

PH	أمثلة على المحاليل	PH	أمثلة على المحاليل
0		7.4	
2		11.9	
4		10.5	
7		14	

أكمل الفراغات التالية

- ☐ يكون أي محلول رقمه الهيدروجيني (pH) أقل من 7
- ☐ يكون أي محلول رقمه الهيدروجيني (pH) أكبر من 7
- ☐ يكون أي محلول رقمه الهيدروجيني (pH) تساوي 7

ج-صنف المواد الآتية حسب نوعها حمض ام قاعدة

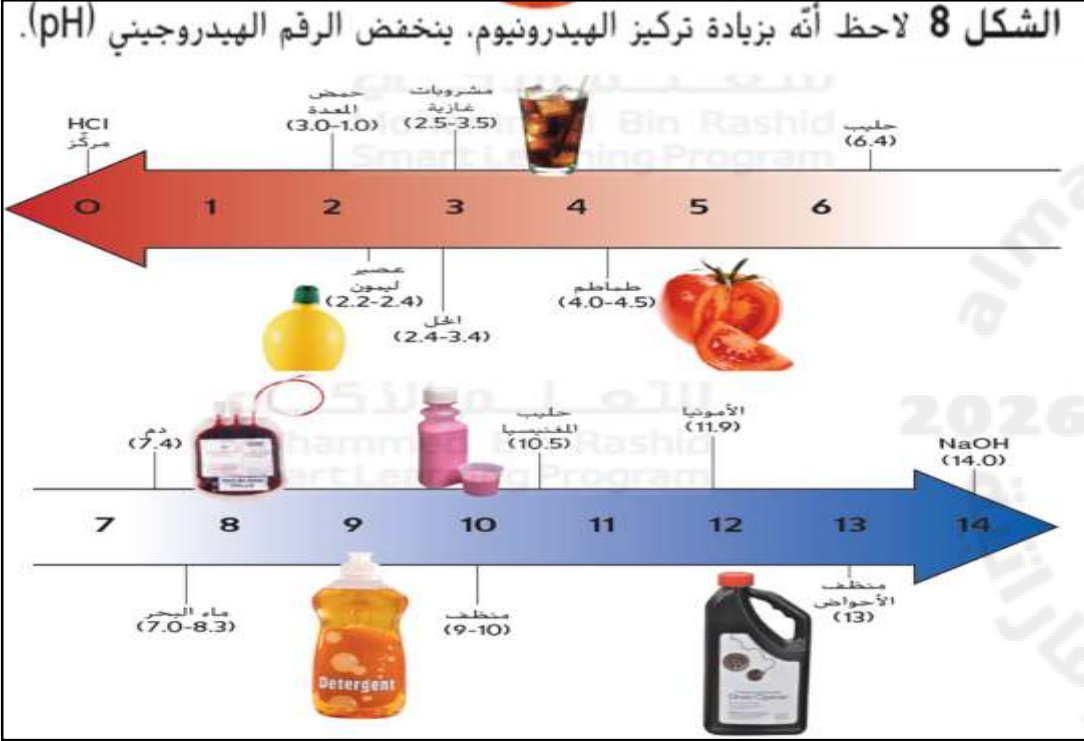
مشروب الغازي - حليب المغنيسيا - الدم - حمض المعدة - الامونيا - حليب - منظف - ماء البحر

القاعدة	الحمض

رقم السؤال	رقم الصفحة	الشكل (صورة الكتاب)	اسم الوحدة	اسم الدرس
24 = كتابي	164 + 165 + 166	نص الكتاب الشكل 8	الوحدة 5 الذائبية الحمضية والقاعدية	المحاليل الحمضية والقاعدية



الإمارات العربية المتحدة
وزارة التربية والتعليم



انظر للشكل المجاور وأجب عن الأسئلة التالية :

1	كم تزيد حمضية محلول رقمه الهيدروجيني (pH) يساوي 1 عنها في محلول رقمه الهيدروجيني (pH) يساوي 4؟
2	كيف يؤثر تركيز أيونات الهيدرونيوم في الرقم الهيدروجيني (pH)؟
3	هل ثمرة الطماطم أكثر حمضية من المنظف أم أقل؟ ما مقدار فرق الحمضية بينهما؟
4	اذكر طريقتين يمكن استخدامهما لقياس الرقم الهيدروجيني (pH) لمحلول ما.

اكتب ثلاثة عوامل تزيد من سرعة ذوبان المادة ؟

طرق قياس الرقم
الهيدروجيني (pH)

قارن انسخ منظم البيانات أدناه واستخدمه لوصف ومقابلة ثلاث طرق لقياس الرقم الهيدروجيني (pH). وفي منظم البيانات، صف الطرق الأكثر والأقل دقة.