


تم تحميل هذا الملف من موقع المناهج الإماراتية



الملف أسئلة الامتحان النهائي الورقي انسابير

[موقع المناهج](#) ← [المناهج الإماراتية](#) ← [الصف الخامس](#) ← [علوم](#) ← [الفصل الثالث](#)

روابط مواقع التواصل الاجتماعي بحسب الصف الخامس



روابط مواد الصف الخامس على تلغرام

[الرياضيات](#)

[اللغة الانجليزية](#)

[اللغة العربية](#)

[التربية الاسلامية](#)

المزيد من الملفات بحسب الصف الخامس والمادة علوم في الفصل الثالث

[أسئلة الامتحان النهائي الالكتروني بريدج](#)

1

[أسئلة الامتحان النهائي الورقي بريدج](#)

2

[حل مراجعة نموذجية وفق الهيكل الوزاري](#)

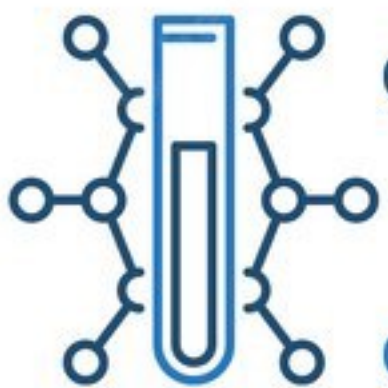
3

[ملخص شامل للمقرر انسابير](#)

4

[تجميع أسئلة مع الحلول وفق الهيكل الوزاري الجديد انسابير](#)

5

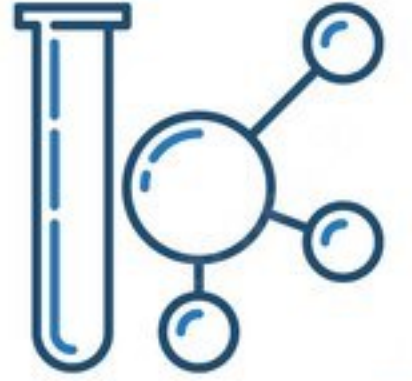


امتحان علوم
انسباير
الجزء الكتابي
الصف الخامس
الفصل الثالث

تم تحميل هذا الملف من

موقع المناهج الإماراتية

alManahj.com/ae



Part 3

تم تحميل هذا الملف من
موقع المناهج الإماراتية

Question

1

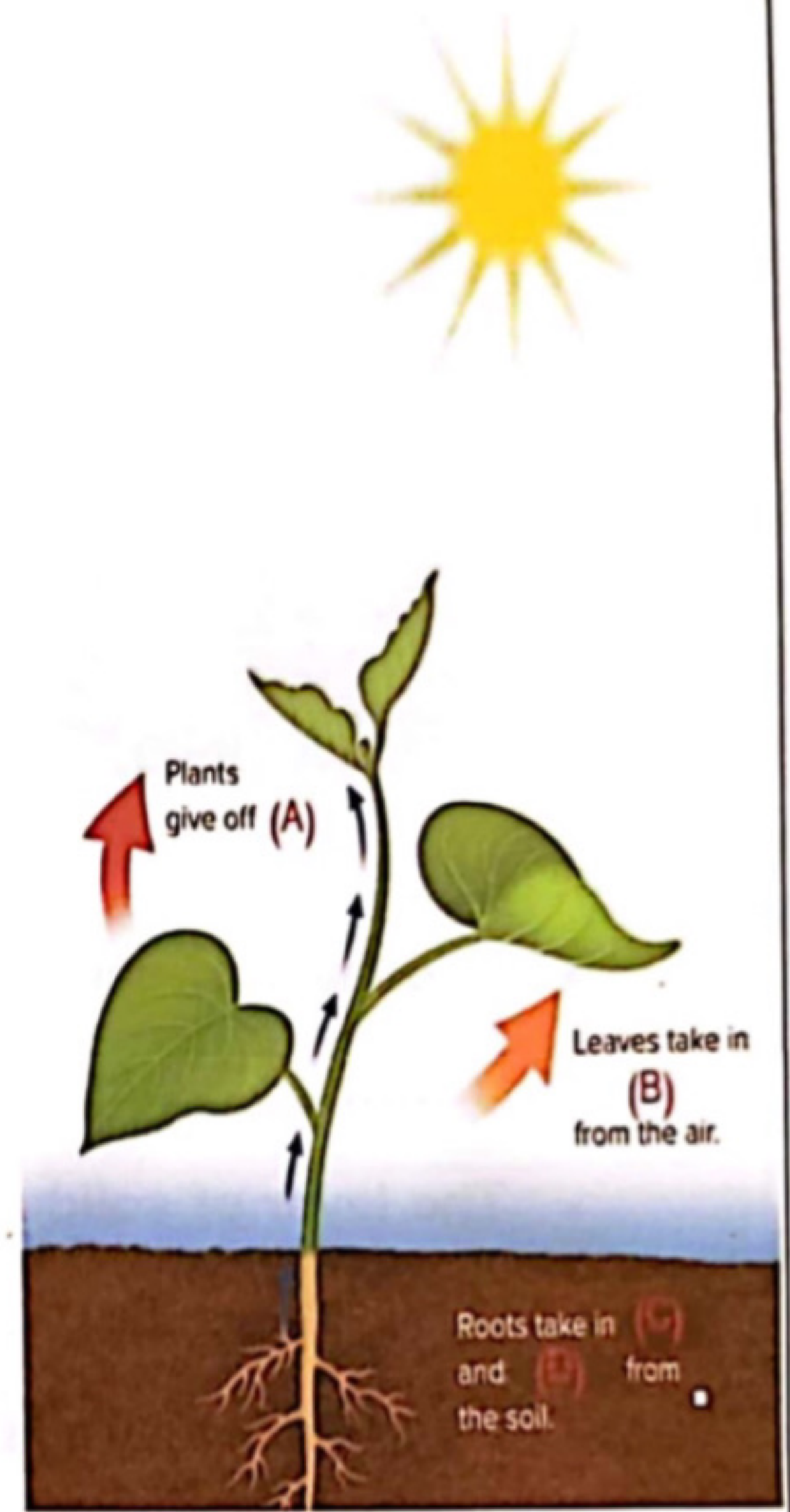
The adjacent figure shows a plant structure.

- Label letters (A), (B), (C) and (D) using the words in table below.

Nutrients – Oxygen – Carbon dioxide – Water

- Letter (A) is
- Letter (B) is
- Letter (C) is
- Letter (D) is

- How do plants replace water after water evaporation from the leaves?
.....



Part 3

Accept any correct scientific answer.

Mark	5 marks
Question	1
1. <ul style="list-style-type: none"> oxygen (1 mark) carbon dioxide (1 mark) water or nutrients (1 mark) nutrients or water (1 mark) 	
2. water is carried from the (bottom or roots) to the leaves (1 mark)	

Question

2

The figure below shows the earth's systems.

تم تحميل هذا الملف من

موقع المناهج الإماراتية

alManahj.com/ae



- The layer of gases surrounding earth is called
.....
- The layer of solid and molten rocks inside earth is called
.....
- The layer of earth's liquid and solid water is called
.....
- The layer of all earth's living things is called
.....

Mark	5 marks
Question	2
• Atmosphere	(1mark)
• Geosphere	(1mark)
• Hydrosphere	(1mark)
• Biosphere	(2marks)

Question

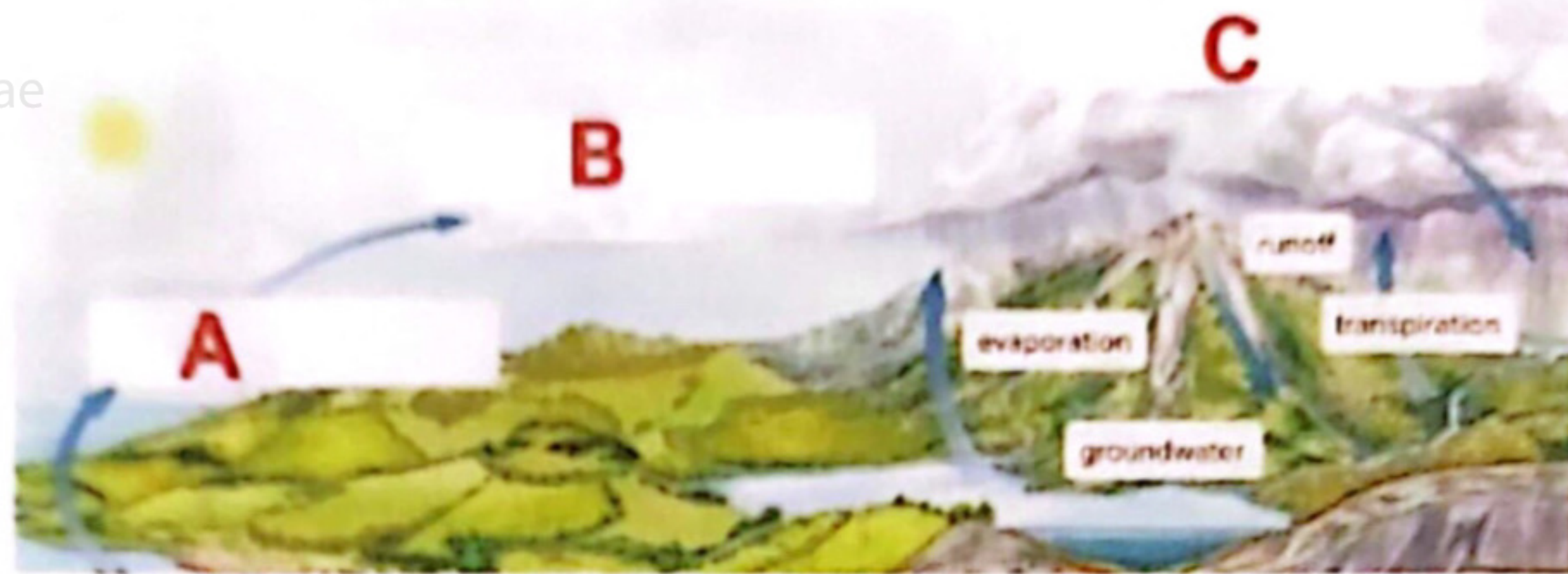
3

Use the figure below to answer the following questions.

تم تحميل هذا الملف من

موقع المناهج الإماراتية

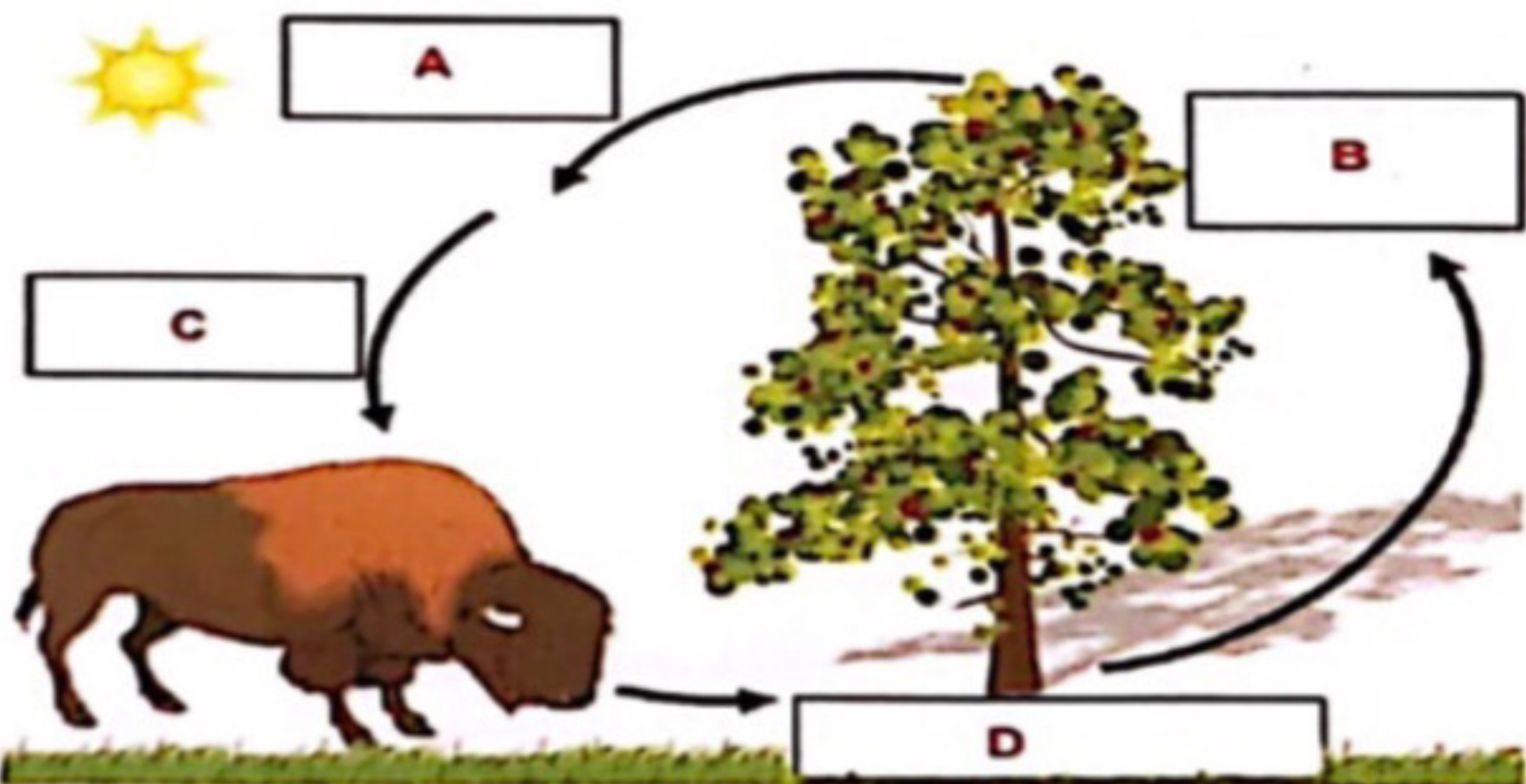
alManahj.com/ae



1. Define the cycle above.....
2. Label letters (A), (B) and (C).
 - Letter (A) is
 - Letter (B) is
 - Letter (C) is

Mark	5 marks
Question	3
1. Water cycle	(2 marks)
2.	
• Evaporation	(1 mark)
• Condensation	(1 mark)
• Precipitation	(1 mark)

Mark	5 marks
Question	4
<p>alManahj.com/ae</p> <ul style="list-style-type: none"> • D (1 mark) • B (1 mark) • A (1 mark) • C (2 marks) 	

Question	4
<p>Use the figure below that shows the Oxygen–Carbon cycle to answer the following questions.</p>	
	
<ul style="list-style-type: none"> • Animals breath out carbon dioxide is represented by the letter • Plants absorb carbon dioxide is represented by the letter • Plants release oxygen is represented by the letter • Animals use oxygen is represented by the letter 	

***** BONUS *****

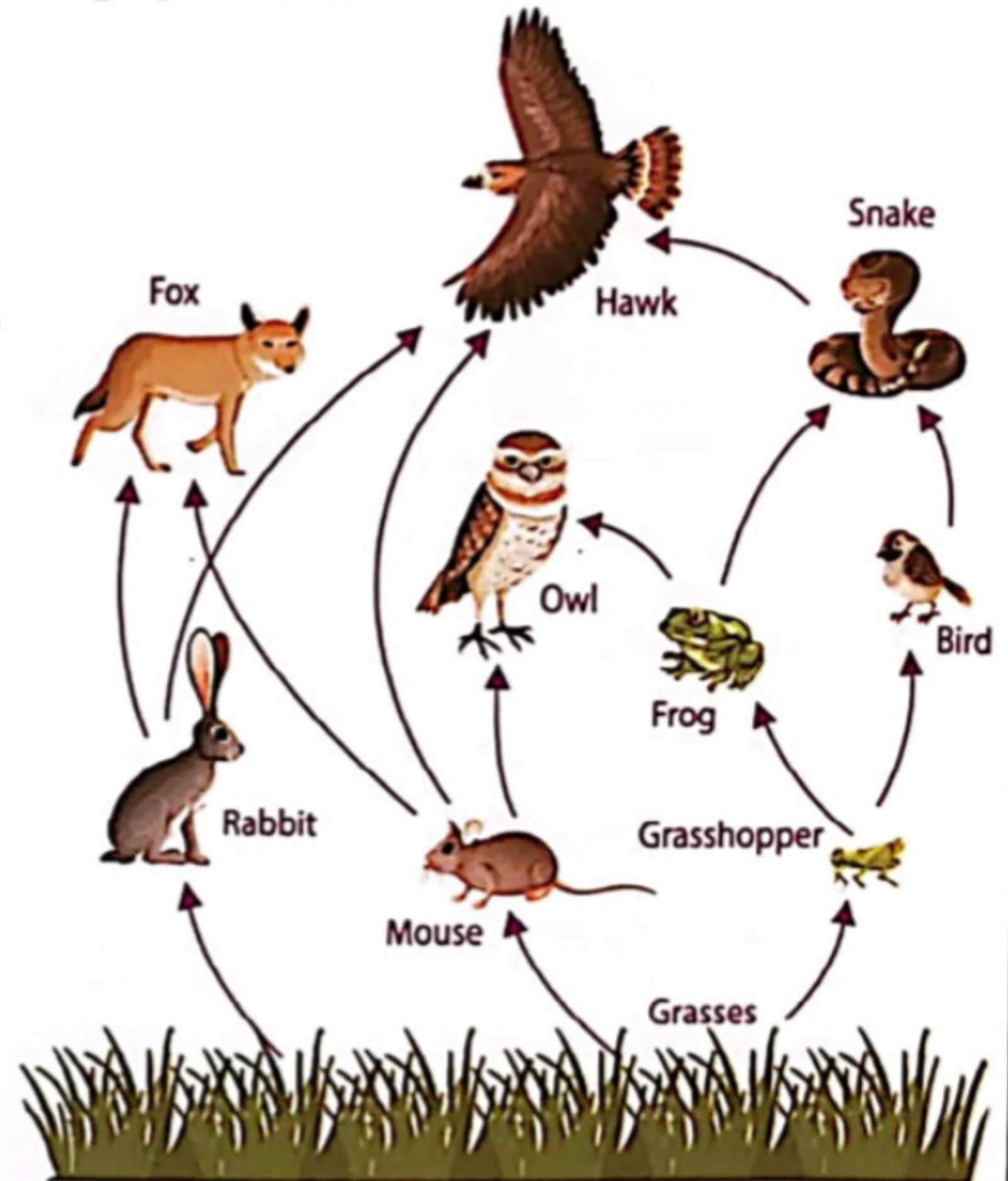
Question

5

Use the adjacent figure to answer the following questions.

alManahj.com/ae

- What does the adjacent figure represent?.....
- Identify a producer.
.....
- What do the arrows represent?
.....
- Identify a carnivore.
.....



***** BONUS *****

Mark

5 marks

Question

5


- Food web (2 marks)
- Grass (1 mark)
- Direction of energy OR Energy flow (1 mark)
- Fox OR Hawk OR Owl OR Snake OR Bird OR Frog (1 mark)

***** BONUS *****

Question

6

The figure below shows plants in greenhouse.



- What is the original source of energy for the plants to grow?

.....

- Why would it be a disadvantage if plants grow too close together?

.....

- What is the importance of the greenhouse?

.....

***** BONUS *****

Mark

5 marks

Question

6

- Sunlight (2 marks)
- Compete for the same resources OR need more space to grow better (1 mark)
- Protect plants from sudden temperature changes, pests, and snow and hail that can damage the plants OR any other correct possible answer (2 marks)