

شكراً لتحميلك هذا الملف من موقع المناهج الإماراتية



حل أسئلة الامتحان النهائي بريدج

[موقع المناهج](#) ⇨ [المناهج الإماراتية](#) ⇨ [الصف الخامس](#) ⇨ [علوم](#) ⇨ [الفصل الثاني](#) ⇨ [الملف](#)

تاريخ نشر الملف على موقع المناهج: 17:07:56 2024-03-16

التواصل الاجتماعي بحسب الصف الخامس



روابط مواد الصف الخامس على تلغرام

[الرياضيات](#)

[اللغة الانجليزية](#)

[اللغة العربية](#)

[التربية الاسلامية](#)

المزيد من الملفات بحسب الصف الخامس والمادة علوم في الفصل الثاني

[حل المراجعة النهائية وفق الهيكل الوزاري](#)

1

[مراجعة عامة وفق الهيكل الوزاري بريدج](#)

2

[أوراق عمل مراجعة متبوعة بالإجابات وفق الهيكل الوزاري
انسباير](#)

3

[حل مراجعة عامة وفق الهيكل الوزاري انسباير المسار العام](#)

4

[مراجعة عامة وفق الهيكل الوزاري انسباير المسار العام](#)

5

Response Review



Student ID/Username:

shs_120522

Full Name:

مصطفى جهاد مصطفى شوله

Group/CRN:

\$PV-2/457-G5-1 (947961)

Delivery Method:

Digital

College:

Grade5

Course Name:

G5.SCI - Science

Area/Branch Name:

AL BASSAER PRIVATE SCH...

Exam:

2023-2022 اية الفصل الثاني...

Activity Type:

Final

Time Spent:

70 mins, 34 secs

Total Marks:

80/80

استنادا إلى الجدول ادناه، اي حرف مما يلي يقابل تعريفا صحيحا للنيوترون؟

مركز الذرة ومكون من بروتونات ونيوترونات.	A
جسيم له شحنة واحدة كهربائية موجبة.	B
جسيم له شحنة واحدة كهربائية سالبة.	C
جسيم دون شحنة كهربائية - متعادل.	D

Learning Outcomes Covered

- SCI.4.4.01.034

a. A

b. B

c. C

d. D

الشكل أدناه يبين مجموعة من العناصر. أي حرف مما يلي يشير إلى عنصر **لا فلزي سائل**؟

 Mercury الزئبق (A)	 Bromine البروم (B)	 Silicon السليكون (C)	 Carbon الكربون (D)
---	---	--	---

Learning Outcomes Covered

- SCI.4.4.01.036

a. A

b. B

c. C

d. D

في الشكل أدناه، ما الذي تتوقع حدوثه إذا سقطت الريشة والكرة من نفس الارتفاع في نفس الوقت؟



Learning Outcomes Covered

- SCI.4.1.03.001

a. ستهبط الريشة على الأرض أولاً

b. ستهبط الكرة على الأرض أولاً

c. سينزل الجسمان على الأرض في آن واحد

d. سينزل الجسمان على الأرض بقوة متساوية

أي من العمليات التالية تُطلق غاز ثاني أكسيد الكربون؟

Learning Outcomes Covered

- SCI.4.4.01.032

a. انصهار الجليد

b. تقليب الملح في الماء

c. احتراق الخشب

d. سقوط الأمطار

الغرض من التقطير هو.....

Learning Outcomes Covered

- o SCI.4.4.01.039

- a. فصل خليط من السوائل
- b. صنع سبيكة
- c. زيادة الذائبية
- d. فصل خليط من المعادن

أي من العناصر التالية يزيد احتمال توصيلها للحرارة والكهرباء؟

Learning Outcomes Covered

- o SCI.4.4.01.032

a.

زوجين

b.

الألمنيوم





c.

الهيليوم

d.

الأكسجين

استنادا إلى الشكل أدناه، أي مما يلي ليس من مؤشرات حدوث التغيرات الكيميائية؟

<p>تغير اللون changes color</p>  <p>(1)</p>	<p>forms a precipitate يتكوّن راسب</p>  <p>(2)</p>	<p>تحويل الماء إلى بخار بالتسخين water turned into steam heating</p>  <p>(3)</p>	<p>تنتقل طاقة releases energy</p>  <p>(4)</p>
--	---	--	--

Learning Outcomes Covered

- SCI.4.4.01.032

a. (1)

b. (2)

c. (3)

d. (4)

يُستخدم مفصل الورك (الفخذ) الصناعي لاستبدال الأوراك المتضررة داخل جسم الإنسان.

أي مما يلي يستخدم لصناعة المفصل المبين في الشكل أدناه؟



Learning Outcomes Covered

- o SCI.4.4.01.036

a. بعض الفلزات

b. اللافلزات

c. أشباه الفلزات

d. المطاط

عندما يقوم متزلج بدفع أو شد متزلج آخر فإنه يشعر بقوة رد فعل مساوية في المقدار ومعاكسة في الاتجاه تؤثر عليه كما هو مبين في الشكل أدناه، أي قانون مما يلي ينطبق على هذا الشكل؟



Learning Outcomes Covered

- SCI.4.1.02.025

a. قانون القصور الذاتي

b. قانون نيوتن الثالث

c. قانون نيوتن الأول

d. قانون الاحتكاك

في الشكل أدناه، يخزن الصوديوم تحت الزيت أو الكيروسين. أي مما يلي التفسير الصحيح لذلك؟



Learning Outcomes Covered

- SCI.4.4.01.036

a.

للحفاظ عليه من التفاعل بسرعة مع أكسجين الهواء

b.

لأنه قابل للسحب والطرق

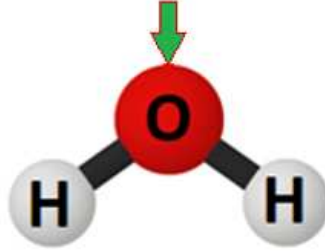
c.

لأن له سطح لامع

d.

لأنه يتفاعل مع الزيت

الشكل أدناه، يوضح تركيب جزئ الماء، أي مما يلي يشير إليه السهم؟



Learning Outcomes Covered

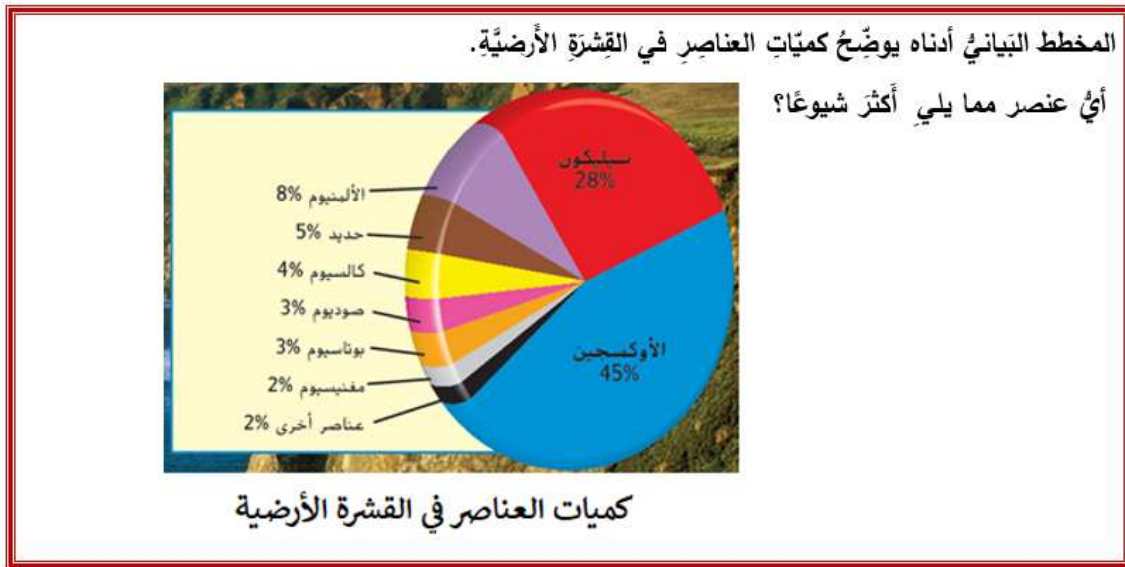
- SCI.4.4.01.032

a. ذرة هيدروجين

b. ذرة أكسجين

c. جزئ هيدروجين

d. جزئ أكسجين



Learning Outcomes Covered

- SCI.4.4.01.032

a. السيليكون

b. المغنيسيوم

c. الألمنيوم

d. الأوكسجين

في الشكل أدناه، كم يزيد عدد البروتونات في ذرة الكبريت عن ذرة النيتروجين؟



نيتروجين
Nitrogen



كبريت
Sulfur

Learning Outcomes Covered

- SCI.4.4.01.036

a. 9

b. 23

c. 7

d. 16

أي مما يلي لا يُعد خاصية لمادة قاعدية؟

Learning Outcomes Covered

- 4.4.02.007.

- a. تتفاعل مع الفلزات لتكون غاز الهيدروجين
- b. صابونية الملمس
- c. تحول ورق تباع الشمس الأحمر إلى اللون الأزرق
- d. طعمها مر



Learning Outcomes Covered

- SCI.4.1.02.024

a. 60 N

b. 40 N

c. 80 N

d. 120 N

الشكل أدناه يبين أنواع مختلفة من المخاليط، ادرسه ثم أجب عن السؤال:

أي من الأحرف التالية تشير إلى **غروي**؟



Snack mix وجبة خفيفة

(A)



mayonnaise مايونيز

(B)



Smoke دخان

(C)



سبيكة الفولاذ

steel alloy

Steel alloy سبيكة فولاذ

(D)

Learning Outcomes Covered

- SCI.4.4.01.039

a. B و A

b. C و A

c. D و B

d. C و B