

## مجموعة نماذج اختبارات وفق الهيكل الوزاري



### تم تحميل هذا الملف من موقع المناهج الإماراتية

موقع المناهج ← المناهج الإماراتية ← الصف الرابع ← اجتماعيات ← الفصل الثاني ← ملفات متنوعة ← الملف

تاريخ إضافة الملف على موقع المناهج: 22:05:20 2025-03-15

ملفات اكتب للمعلم اكتب للطالب | اختبارات الكترونية | اختبارات | حلول | عروض بوربوينت | أوراق عمل  
منهج انجليزي | ملخصات وتقارير | مذكرات وبنوك | الامتحان النهائي | للمدرس

المزيد من مادة  
اجتماعيات:

إعداد: عمر حسن

### التواصل الاجتماعي بحسب الصف الرابع



صفحة المناهج  
الإماراتية على  
فيسبوك

الرياضيات

اللغة الانجليزية

اللغة العربية

التربية الاسلامية

المواد على تلغرام

### المزيد من الملفات بحسب الصف الرابع والمادة اجتماعيات في الفصل الثاني

مراجعة مهارات تدريبية نهائية

1

أوراق عمل مراجعة وفق الهيكل الوزاري

2

مذكرة مراجعة تدريبات الاختبار النهائي

3

حل النموذج التدريبي للاختبار النهائي وفق الهيكل الوزاري

4

النموذج التدريبي للاختبار النهائي وفق الهيكل الوزاري

5

# مدرسة الهير هيكل الاختبارات الصف الرابع



المعلم عمر حسن

إليك بعض النصائح لطلاب الصف الرابع للاستعداد للاختبار الورقي النهائي في مادة الدراسات الاجتماعية:

#### أولاً: التحضير قبل الامتحان

1. مراجعة الدروس بانتظام – لا تؤجل الدراسة لليلة الامتحان، بل خصص وقتاً يومياً للمراجعة.
2. تلخيص المعلومات – استخدم الخرائط الذهنية أو الجداول لتلخيص المعلومات المهمة.
3. حل أسئلة سابقة – تدرب على نماذج امتحانات سابقة لفهم نوعية الأسئلة المتوقعة.
4. التركيز على المصطلحات والمفاهيم – احفظ التعريفات المهمة وتأكد من فهمك لها.
5. فهم الخرائط والجداول – تأكد من معرفة كيفية قراءة الخرائط والجداول، فقد تكون جزءاً من الامتحان.
6. التأكد من حفظ التواريخ والأحداث المهمة – اربطها بأحداث أخرى لتسهيل تذكرها.
7. الدراسة الجماعية – ناقش الدروس مع زملائك لزيادة الفهم والتأكد من استيعاب المعلومات.

#### ثانياً: أثناء الامتحان

1. قراءة الأسئلة بعناية – لا تتسرع في الإجابة، اقرأ السؤال جيداً وافهم المطلوب.
2. الإجابة على الأسئلة السهلة أولاً – ابدأ بالأسئلة التي تعرف إجاباتها لتوفير الوقت والثقة.
3. تنظيم الإجابات – اكتب بخط واضح ومنظم واستخدم كلمات مفتاحية مهمة.
4. التأكد من الإجابات – خصص بعض الوقت لمراجعة إجاباتك قبل تسليم الورقة.
5. إدارة الوقت – لا تضيع وقتاً طويلاً على سؤال واحد، انتقل لما بعده ثم عد إليه لاحقاً.

#### ثالثاً: الاستعداد النفسي والجسدي

1. النوم الجيد – خذ قسطاً كافياً من النوم قبل الامتحان لتكون في أفضل حالتك الذهنية.
2. تناول وجبة متوازنة – تجنب الأطعمة الثقيلة، واختر وجبة خفيفة تساعدك على التركيز.
3. الهدوء والثقة بالنفس – لا تقلق، وثق في قدراتك، وتذكر أنك قادر على النجاح إذا درست جيداً.

## السؤال الأول :

تعتبر مشكلة التلوث واحدة من أكبر التحديات التي تواجه البشرية في العصر الحالي. يتسبب التلوث في تدهور جودة البيئة وتأثيرات سلبية على الصحة العامة والاقتصاد. يتسبب التلوث في إطلاق مواد كيميائية ضارة وغازات سامة في الجو والماء والتربة، مما يؤدي إلى تلوث الهواء والمياه والأراضي. يمثل التلوث في مصادر متنوعة مثل الصناعات، وحرق الوقود الأحفوري، ونفايات البلاستيك، والزراعة غير المستدامة، والتخلص الغير آمن من المخلفات الصلبة والسائلة. يجب على المجتمع الدولي اتخاذ إجراءات جادة للحد من التلوث وتبني سلوكيات بيئية مستدامة للحفاظ على البيئة للأجيال القادمة.

1- ما هي تأثيرات التلوث على الصحة العامة؟

أ -زيادة معدلات الإصابة بالأمراض الجلدية.

ب -زيادة معدلات الحساسية والربو.

ج -تدهور جودة الهواء والمياه.

د -زيادة معدلات الإصابة بأمراض القلب والأوعية الدموية.

2- ما هي أحد أسباب التلوث المذكورة في النص؟

أ -انبعاثات غازات الدفيئة من الصناعات.

ب -استخدام الطاقة الشمسية كمصدر رئيسي للطاقة.

ج -استخدام السيارات الكهربائية بدلاً من السيارات التقليدية.

د -إعادة تدوير النفايات البلاستيكية بشكل فعال.

3- ما هي أحد الحلول المقترحة للتصدي لمشكلة التلوث؟

أ -التخلص من النفايات بطرق غير آمنة.

ب -تطبيق تكنولوجيا الطاقة النظيفة والمتجددة.

ج -زيادة استهلاك الطاقة الأحفورية.

د -الترويج لسلوكيات غير مستدامة في استخدام الموارد الطبيعية.

## السؤال الثاني :

هناك عدة حلول يمكن اعتمادها لمواجهة مشكلة التلوث والحد من تداعياتها على البيئة والصحة العامة. يمكن أن تشمل هذه الحلول تشجيع استخدام التكنولوجيا النظيفة في الصناعات لتقليل الانبعاثات الضارة، وتشجيع استخدام وسائل النقل العامة والسيارات الكهربائية لتقليل الانبعاثات من حركة المرور، وتعزيز ثقافة إعادة التدوير والتخلص الصحيح من النفايات، وتبني ممارسات زراعية مستدامة للحد من استخدام المبيدات الكيميائية والأسمدة الصناعية. بالإضافة إلى ذلك، يمكن تشجيع التشجير وزراعة الأشجار لامتصاص ثاني أكسيد الكربون من الهواء وتحسين جودة الهواء. تبني هذه الحلول يتطلب تعاوناً دولياً وجهوداً مشتركة من الحكومات والشركات والأفراد لتحقيق نتائج فعالة في مكافحة التلوث والمحافظة على البيئة للأجيال القادمة

1- ما هي إحدى الحلول المقترحة لمواجهة مشكلة التلوث في الصناعات؟

أ-زيادة استخدام المبيدات الكيميائية.

ب-تشجيع استخدام التكنولوجيا النظيفة.

ج-زيادة استخدام الطاقة الأحفورية.

د-تشجيع استخدام النقل الفردي بدلاً من وسائل النقل العامة.

2- ما هي إحدى الحلول المقترحة لتقليل انبعاثات السيارات؟

أ-تشجيع استخدام السيارات الكهربائية.

ب-زيادة استخدام السيارات التقليدية بالبنزين.

ج-تشجيع استخدام الديزل كوقود للسيارات.

د-زيادة الانبعاثات من حركة المرور.

3- ما هي إحدى الحلول المقترحة لتحسين جودة الهواء؟

أ-زيادة استخدام المبيدات الكيميائية.

ب-التشجير وزراعة الأشجار.

ج-زيادة استخدام الطاقة الحرارية.

د-رفع مستويات الانبعاثات الصناعية.

## السؤال الثالث :

الازدحام المروري يعتبر أحد أكبر التحديات التي تواجه المدن الكبيرة في جميع أنحاء العالم. يسبب الازدحام المروري تأخيراً في الوصول إلى الأماكن، وزيادة في استهلاك الوقود، وتلوثاً بيئياً، وزيادة في مستويات الإجهاد لدى السائقين. يتسبب الازدحام في فقدان الوقت والمال، ويؤثر على الاقتصاد المحلي والرفاهية العامة للمجتمع. تتسبب أسباب الازدحام في تنوع وتشمل زيادة عدد السيارات على الطرق، ونقص البنية التحتية للنقل العام، وانتشار ظاهرة الاعتماد على السيارة الفردية كوسيلة رئيسية للتنقل. يتطلب حل مشكلة الازدحام التدابير الشاملة التي تشمل تحسين وسائل النقل العام، وتشجيع استخدام وسائل النقل البديلة مثل الدراجات والمشى، وتطوير البنية التحتية للطرق، وتبني استراتيجيات لتقليل عدد السيارات على الطرق.

1- ما هي أحد أسباب الازدحام المروري المذكورة في النص؟

أ -زيادة عدد السائقين المحترفين.

ب -نقص البنية التحتية للنقل العام.

ج -تشجيع استخدام السيارات الكهربائية.

د -تطوير البنية التحتية للطرق.

2- ما هو تأثير الازدحام المروري على البيئة؟

أ -زيادة في الرفاهية العامة للمجتمع.

ب -زيادة في استهلاك الوقود.

ج -تحسين جودة الهواء.

د -تقليل مستويات الإجهاد لدى السائقين.

3- ما هي إحدى الحلول المقترحة لمواجهة مشكلة الازدحام المروري؟

أ -زيادة استخدام السيارات الفردية.

ب -تحسين وسائل النقل العام.

ج -تشجيع استخدام الدراجات والمشى.

د -عدم تطوير البنية التحتية للطرق.



## السؤال الرابع :



ضع دائرة حول رمز الإجابة الصحيحة :

الصورة رقم واحد تشير إلى سبب للتلوث هو ؟

1- بشري 2- طبيعي

الصورة رقم 2 تشير إلى سبب للتلوث هو ؟

2- بشري 2- طبيعي

الصورة رقم 3 تشير إلى سبب للتلوث هو ؟

3- بشري 2- طبيعي

الصورة رقم 4 تشير إلى سبب للتلوث هو ؟

4- بشري 2- طبيعي

الصورة رقم 5 تشير إلى سبب للتلوث هو ؟

5- بشري 2- طبيعي

الصورة رقم 6 تشير إلى سبب للتلوث هو ؟

6- بشري 2- طبيعي

السؤال الخامس : استخلص من الصورة اضرار التلوث ؟



- من أسباب تلف الاعصاب ؟

أ- تلوث الماء .

ب- تلوث التربة .

ج- تلوث الهواء .

2- السبب الرئيس لتلوث التربة ؟

أ- دخان المصانع .

ب- المبيدات

ج- الحرائق .

3- بماذا تصنف التلوث ؟

أ- شر لا بد منه .

ب- يمكن التغلب عليه

ج- صديق للبيئة .



السؤال السادس: استخلص من الصورة أسباب التلوث ؟



السؤال الأول:

ما هي المصادر الرئيسية للتلوث الموضحة في الصورة؟

(أ) حرائق الغابات فقط (ب) المصانع فقط (ج) البراكين فقط (د) جميع ما سبق (حرائق الغابات، المصانع، البراكين)

السؤال الثاني:

ما هي إحدى الكوارث الطبيعية التي تم تصويرها في الصورة؟

(أ) الفيضانات (ب) الزلازل (ج) الأعاصير (د) الجفاف

السؤال الثالث:

ما هو نوع التلوث الذي يظهر في منتصف الصف الثاني من الصورة؟

(أ) تلوث المياه (ب) تلوث التربة (ج) تلوث الهواء (د) التلوث الضوضائي

السؤال الرابع:

ماذا يفعل الرجل في الصورة الموجودة في الصف الثاني، العمود الأول؟

(أ) يزرع الأشجار (ب) يكافح الحرائق (ج) ينظف القمامة (د) يطعم الحيوانات

السؤال الخامس:

ماذا تمثل المباني المتصدعة في الصورة الموجودة في الصف الثاني، العمود الثالث؟

(أ) تأثير التلوث على المباني (ب) تأثير الزلازل على المباني (ج) تأثير الفيضانات على المباني (د) تأثير الأعاصير على المباني

المشهد الأول : تتبع معطيات الجدول التالي ثم تمنع المطلوب حلل ثم أجب ؟

المشكلة	السبب	الحل
المشكلة هي ..... المروري		
		

المشهد الثاني : ما هي اضرار الازدحام تمنع حلل أجب ؟



الدراسات الاجتماعية

المعلم عمر حسن

العام الدراسي 2024-2023

مجلس 6 لطاق 5 مدرسة الهير للبتين

بعد قراءة الشكل التالي الرجاء الإجابة على الأسئلة التالية ؟

#### السؤال الأول:

ما هي المشكلة الرئيسية الموضحة في الجزء العلوي من الصورة؟

- (أ) تلوث الهواء (ب) الازدحام المروري (ج) حوادث السيارات (د) نقص وسائل النقل العام

#### السؤال الثاني:

ما هو السبب المحتمل للمشكلة الموضحة في الجزء العلوي من الصورة؟

- (أ) زيادة عدد السيارات (ب) نقص الطرق (ج) سوء الأحوال الجوية (د) جميع ما سبق

#### السؤال الثالث:

ما هو الحل المحتمل للمشكلة الموضحة في الجزء العلوي من الصورة؟

- (أ) بناء المزيد من الطرق (ب) استخدام وسائل النقل العام (ج) تنظيم حركة المرور (د) جميع ما سبق

#### السؤال الرابع:

ما هي إحدى أضرار الازدحام المروري الموضحة في الجزء السفلي من الصورة؟

- (أ) تلوث الهواء (ب) تأخير الوصول إلى الوجهات (ج) زيادة استهلاك الوقود (د) جميع ما سبق

#### السؤال الخامس:

ما هي إحدى وسائل النقل العام الموضحة في الصورة؟

- (أ) السيارة (ب) الحافلة (ج) الدراجة (د) الطائرة

## السؤال السادس :

زايد الأول: هو الشيخ زايد بن خليفة بن شخبوط بن ذياب بن عيسى آل نهيان، حاكم أبوظبي (1855-1909)، يعرف باسم الشيخ زايد الأول، والشيخ زايد الكبير، من أعظم حكام آل نهيان وأبوظبي والمنطقة، بلغت أبوظبي في عهده أوج تألقها، وبسط سيطرته على كافة أراضي الإمارة، وبلغ نفوذه الى خارج حدود إمارته، وكان له دور كبير في بسط الاستقرار في المنطقة، وتدخل في الصلح بين الإمارات والقبائل المحيطة والقريبة من حدود إماراته، وتعتبر مدة حكمه من أطول فترات الحكم في تاريخ أبوظبي إذ بلغت 54 عاما. اهتمَّ الشيخ زايد أيضاً بالتعليم والقضاء؛ فقد كثر العلماء والمدرسون في وقت حكمه، وقام بمساعدتهم وإكرامهم، كما أعطى القضاة صلاحيات مهمة، ممَّا شكَّل بدايات القضاء في الإمارة. وقد ذكر الشيخ مجرن بن الشيخ محمد الكندي أنَّ الشيخ زايد الأول طلب من الشيخ سلطان بن مجرن أن يرشح له قاضياً عالمًا، ليحكم بين الناس؛ فأرسل له ابنه الشيخ أحمد، وكان آل مجرن في تلك الفترة يسكنون منطقة "اللية" في الشارقة مع مجموعة كبيرة من المرر، فعمل الشيخ أحمد في القضاء، ثمَّ من بعده ابنه الشيخ محمد الكندي. وكانوا يقضون في مجلس الحاكم وفي بيوتهم وفي المسجد؛ إذ لم يكن هناك دوائر للعدل ولا مبانٍ للقضاء كما تشاهدونها اليوم، وقد انتشرت مدارس التعليم الدينية في عصره بسبب وجود شيوخ العلم الذين كانوا يعلمون الناس بما فتح الله عليهم من العلم، حتى جاء المحسن الوجيه خلف بن عبدالله العتيبة؛ فافتح المدرسة الأولى في أبوظبي في أواخر عهد الشيخ زايد الأول وبتشجيع منه. كم نشر الامن والاستقرار وقام ببناء قلعة الجاهلي في أواخر القرن 19.

1- طلق على زايد بن خليفة لقب

- زايد الأول - زايد الثاني - زايد العظيم

2- من أهم جوانب الحياة التي ساعدت على ازدهار الامارة " أبوظبي "

- الامن - الصحة - التجارة

3- ما هو المجال الذي اهتم به الشيخ زايد واثبت من خلاله ان أساس الملك هو العدل

- التعليم - القضاء - الصحة

4- القلعة التي بناها كانت

- قصر الحصن - متحف العين - قلعة الجاهلي

5- كان ظهور المدرس في ابوظبي في عهد الشيخ

- زايد الأول - زايد بن سلطان - زايد بن حمدان



**السؤال السابع \*\*الإمارات العربية المتحدة: مشاريع سياحية متنوعة\*\***

الإمارات العربية المتحدة تعتبر واحدة من أبرز الوجهات السياحية في العالم، حيث تجمع بين الثقافة التقليدية والتطور الحضري الحديث. توفر الإمارات مجموعة متنوعة من المشاريع السياحية التي تجذب الزوار من جميع أنحاء العالم. دعونا نلقي نظرة على بعض هذه المشاريع:

1. **\*\*برج خليفة\*\*** - س: ما هو ارتفاع برج خليفة؟

- (أ) 828 متر

- (ب) 720 متر

- (ج) 555 متر

- (د) 632 متر

2. **\*\*جزيرة الياس\*\*** - س: ما هو عدد الفنادق الفاخرة على جزيرة الياس؟

- (أ) 3

- (ب) 5

- (ج) 7

- (د) 9

4. **\*\*سفاري الصحراء\*\***

- س: ما هي وسيلة النقل الشهيرة المستخدمة في سفاري الصحراء؟

- (أ) السيارة الرباعية الدفع

- (ب) الجمل

- (ج) الدراجات النارية

- (د) الطائرة الهليكوبتر

5. **\*\*جزيرة ياس وورلد\*\***

- س: ما هو عدد المتنزهات الترفيهية الرئيسية في جزيرة ياس وورلد؟

- (أ) 2

- (ب) 3

- (ج) 4

- (د) 5



## 6. \*\*باركس كانال ووك\*\*

س: ما هي الوجهة التجارية الشهيرة في باركس كانال ووك التي توفر تجربة تسوق فريدة؟

- (أ) دبي مول
- (ب) مول الإمارات
- (ج) سيتي ووك
- (د) مركز الغرير



## الفجيرة

## جزيرة سنوبي

تقع مقابل شاطئ العقة وتعد من أهم الوجهات السياحية في الفجيرة نظراً لطبيعتها الرائعة ومعالمها الأخاذة، وقد أطلق عليها اسم "سنوبي" لأن شكلها يشبه الشخصية الكرتونية "سنوبي"، وتجذب هذه الجزيرة عشاق الرياضات البحرية لما توفره من أنشطة مائية وطبيعية متنوعة نابضة بالشويق والمغامرة.

2025

## الفجيرة

## مسجد البدية

يقع هذا المسجد التاريخي بالقرب من تل حجري صغير بين مدينة خورفكان ودبا الفجيرة، ويعتبر أقدم مسجد في الدولة إذ يعود تاريخ بنائه إلى عام 1446، ويضم بئرًا معماري فريد يشمل أربع قباب، وبشكل مقصداً سياحياً للكثير من المقيمين والسائحين الذين يتوافدون عليه للأمل روعة هذا الصرح المهيّب.







UAE

## الحدائق

تتنوع الحدائق في الإمارات، فهناك الحدائق الشاطئية مثل "كورنيش أبوظبي"، و"حديقة المميز" و"حديقة الخور" في دبي، و"واجهة المجاز المائية" في الشارقة وهناك الحدائق الصحراوية مثل "متنزه جبل حفت الصحراوي" في مدينة العين، و"حديقة مشرف" في دبي، وهناك الحدائق المصممة حول فكرة مثل حدائق الألعاب المائية مثل "حديقة مرجان" في أبوظبي و"حدائق الفراشات" وتوجد في دبي والشارقة، و"حديقة دبي جاردن جلو" المصممة حول الأنوار الملونة وهناك حدائق بيئية مثل "حديقة سفاري دبي" التي تضم أنواع متنوعة من الحيوانات في بيئاتها الأصلية.

UAE

## الشواطئ

تتميز شواطئ الإمارات برمالها البيضاء الناعمة ومساحاتها المترامية، وهي مكان للاستجمام والاسترخاء، تنتشر في كافة إمارات الدولة، فهناك شاطئ ياس، وشاطئ السعديات، وشاطئ مساكن شاطئ جميرا "جني بي آر" في دبي، وشاطئ "كايت بيتش" في دبي، وشاطئ نادي دبي للسيدات و"حديقة المميز" في دبي، و"شاطئ الخان" في الشارقة، و"شاطئ الحمراء" في رأس الخيمة، وفي الفجيرة هناك "شاطئ ساندز" و"شاطئ المظلات"، وشاطئ العقة، وكذلك "شاطئ دبي".



2024

الشارقة

## متحف الشارقة للحضارة الإسلامية

تضم معروضاته قطع فنية نادرة، ويجمع لحف إسلامية مثل الإسطرلاب والمخطوطات القديمة والقطع النقدية، والستار المطرز بالذهب لباب الكعبة المشرفة وزخارف الفسيفساء المذهلة داخل القبة المركزية التي تظهر السماء في الليل ودائرة البروج.



أبوظبي

## مسجد الشيخ زايد

أحد أكبر المساجد في العالم ويعتبر تحفة معمارية مبهره ومثالية، يجمع بين مختلف مدارس العمارة، ويمتلك 82 قبة، أمر المغفور له بإذن الله، الشيخ زايد بن سلطان آل نهيان، طيب الله ثراه، ببناء المسجد ليكون رمزاً يحسد رسالة الإسلام المتمثلة في السلام والتسامح والتعايش.





### أبوظبي قصر الوطن

يتميز قصر الوطن في أبوظبي بعماراته المهيبة وتصميمه الأسير، ويُعد جزءاً من مجمع القصر الرئاسي، ومعلماً ثقافياً عربياً يستقطب الزوار لاكتشاف الإرث الحضاري والتقاليد العريقة التي شكلت دولة الإمارات وبلقي الضوء على تاريخها العريق.

### أبوظبي جزيرة ياس

وجهة ترفيهية مميزة للغاية، تضم مضمار سباقات الفورمولا 1 و"عالم وارنر براذرز أبوظبي" وهي حديقة ملاهي تضم شخصيات الرسوم المتحركة الشهيرة، ووجهة للمغامرات الداخلية "كلابم أبوظبي" التي تتيح لزوارها رياضات التسلق والقفز، وملعب الغولف "ياس لينكس أبوظبي" الحائز على جوائز عديدة، ويقع وسط اللال وأشجار القرم.



### أبوظبي 2024 منارة السعديات

يعتبر مركزاً ثقافياً مفعماً بالأنشطة والفعاليات المجتمعية ويشجع الزوار على المشاركة والانطلاق في تجارب استثنائية وابتكار أعمالهم الفنية الخاصة وزيارة المعارض وتبادل الأفكار والاستماع إلى النقاشات.

### أبوظبي متحف اللوفر

أول متحف عالمي في العالم العربي، يجسد الانفتاح على الحضارات العالمية، ويقع المتحف في قلب المنطقة الثقافية على جزيرة السعديات، حيث سيجد عشاق الفن ملاذهم بين الأعمال الفنية ذات الأهمية التاريخية والثقافية والاجتماعية.







### أبوظبي قصر الحصن

أعرق بناء تاريخي قائم في أبوظبي، تحول إلى متحف وطني في العام 2018. ليحكى قصة الماضي العريق، ويرز القصر كأيقونة وطنية تروي تطور المدينة من منطقة عاشت عليها قبائل بني ياس في القرن الثامن عشر إلى واحدة من أجمل المدن العالمية العصرية.

### أبوظبي جزيرة صير بني ياس

حصدت الجزيرة جائزة أفضل وجهة سياحية مستدامة في العالم ضمن جوائز السفر العالمية، وهي عبارة عن محمية طبيعية وتعد موطناً للحياة البرية وتنظم فيها الأنشطة الشفقة، وتنتشر فيها الفنادق والفلل الفاخرة والمواقع التاريخية.



### دبي برج العرب ومدينة جميرا

فندق برج العرب أحد أشهر المعالم السياحية في الإمارات، يتميز بهندسته المعمارية المبدعة وإطلالته البحرية الأسيرة. تم تصنيفه من فئة سبع نجوم بفضل تصاميمه الداخلية الفخمة ومطاعمه الشهيرة. وتضم مدينة جميرا ممرات مائية يمكن التنقل فيها بالقوارب ويحظى سوق مدينة جميرا بشهرة واسعة حيث يضم محلات تراثية تعرض اللآلئ والمعارض الفنية والمتاجر العصرية، كما تنتشر المطاعم الشهيرة.



### دبي وسط دبي "داون تاون"

تضم "برج خليفة" أطول مبنى في العالم، يصل طوله إلى 829.8 متر، ويعتبر تحفة هندسية بين وسط مدينة دبي. كما تضم أطول نافورة راقصة في العالم "نافورة دبي" وتقع في بحيرة البرج مقابل دبي مول، أحد أكبر مراكز التسوق والترفيه في العالم. وتعتبر منطقة وسط دبي من أجمل الوجهات السياحية في مدينة دبي بامتياز.









1	المعلم السياحي رقم 3- 5 يوجد في اماره			
A	دبي	B	ابوظبي	C الشارقة
2	المعلم السياحي رقم 4 يوجد في اماره			
A	الشارقة	B	عجمان	C الفجيرة
3	المعلم السياحي رقم 5 يوجد في اماره			
A	راس الخيمة	B	عجمان	C دبي
4	المعلم السياحي رقم 1 هو			
A	متحف العين	B	متحف المستقبل	C متحف دبي
5	حديقة الزهور موجودة في اماره يحكمها الشيخ ..... منذ 2006			
A	محمد بن راشد	B	محمد بن زايد	C محمد بن سعود

## السؤال الثامن \*\*الموروث الشعبي في الإمارات\*\*

يتميز الموروث الشعبي في الإمارات العربية المتحدة بتنوعه وغناه، حيث يعكس تاريخاً عريقاً وثقافة غنية. يتضمن الموروث الشعبي في الإمارات العديد من العناصر التي تشمل الفنون التقليدية، والحرف اليدوية، والموسيقى التقليدية، والملابس التقليدية، والتراث الشفوي، والمأكولات الشعبية. يُعتبر المحافظة على هذا الموروث وترويجه جزءاً أساسياً من جهود الإمارات للحفاظ على هويتها الثقافية وتعزيزها.

1. \*\*الفنون التقليدية:\*\* س: ما هي تقنية الحياكة التقليدية المعروفة في الإمارات؟

- (أ) الرسم بالرمل - (ب) الخياطة بالكتان - (ج) النسيج بالنخيل - (د) النحت بالخشب

2. \*\*الحرف اليدوية:\*\* س: ما هو الحرف اليدوي الشهير في صناعة السفن التقليدية في الإمارات؟

- (أ) النحت على الخشب - (ب) النسيج بالنخيل

- (ج) الحياكة بالصوف - (د) بناء الروبوتات

3. \*\*الموسيقى التقليدية:\*\* س: ما هي الآلة الموسيقية التقليدية التي تستخدم في العروض الشعبية في الإمارات؟

- (أ) العود - (ب) القانون - (ج) الطبل - (د) الربابة

4. \*\*الملابس التقليدية:\*\* س: ما هو الزي التقليدي الذي يرتديه الرجال في الإمارات؟

- (أ) الكندورة - (ب) الثوب - (ج) الدشداشة - (د) البرنس

5. \*\*التراث الشفوي:\*\* س: ما هي القصص الشعبية التي تُروى في التراث الشفوي الإماراتي؟

- (أ) قصص الأنبياء - (ب) قصص الحيوانات

- (ج) قصص الأساطير البحرية - (د) قصص الأميرات والأمراء

6. \*\*المأكولات الشعبية:\*\* س: ما هو الطبق الشعبي المشهور في الإمارات؟

- (أ) الكبسة

- (ب) المنسف

- (ج) الهريس

- (د) الحراق



السؤال التاسع اقرأ معلومات الشكل ثم أجب عن الأسئلة الواردة:



1- المشاركة في رحلة الهجن 2019 كانت على مستوى:

- دولي محلي خليجي عربي

2- الجهة المنظمة لرحلة الهجن 2019 في دولة الإمارات العربية المتحدة:

- مركز حمدان بن محمد لإحياء التراث
- مركز محمد بن راشد للرياضات التراثية
- مركز طحنون للتراث
- نادي سباق الهجن لحمدان بن زايد

3- تبلغ المسافة المقطوعة لرحلة الهجن في الامارات عام 2019:

أ- 800 كم ب- 300 كم ج- 500 كم د- 400 كم

4- خط سير رحلة الهجن في الإمارات 2019

أ- تبدأ من غياثي وتنتهي في ليوا وسويحان

ب- تبدأ من غياثي وليوا وسويحان وتنتهي في القرية التراثية بالقرية العالمية

ج- تبدأ من سويحان وتنتهي في غياثي

د- تبدأ من ليوا وتنتهي في القرية التراثية بالقرية العالمية

5- تشجع دولة الإمارات العربية المتحدة المهرجانات التراثية المختلفة وذلك :

لزيادة المردود الاقتصادي

ب- لتعزيز الهوية الوطنية

ج- لمواجهة البطالة

د- تشجيع التجارة الخارجية

التاريخ: 16 ديسمبر 2020

•مصدر: دائرة الثقافة والسياحة - أبوظبي



كشفت دائرة الثقافة والسياحة عن إدراج كل من ملف الأفلاج الوطني المقدم باسم دولة الإمارات، وملف سباق الهجن المشترك بين دولة الإمارات وسلطنة عمان في القائمة التمثيلية للتراث الثقافي غير المادي لمنظمة الأمم المتحدة للتربية والعلم والثقافة (اليونسكو)، وذلك خلال الاجتماع الـ 15 للجنة الحكومية الدولية لصون

التراث الثقافي غير المادي لليونسكو، والذي يعقد في مقر اليونسكو بباريس ويأتي إدراج هذين الملفين تنويعاً للجهود التي تبذلها وزارة الثقافة والشباب ودائرة الثقافة والسياحة - أبوظبي للتعريف بالتراث الوطني لدولة الإمارات وتسليط الضوء عليه عالمياً، بوصفه إراثاً إنسانياً غنياً جديراً بالصون والحفظ للأجيال القادمة، والترويج له لدى منظمة اليونسكو الراعي الدولي لتراث الشعوب. أن دولة الإمارات نجحت في تسجيل 11 عنصراً على قائمة التراث الثقافي غير المادي للبشرية التي تعتمدها اليونسكو، من خلال ملفات وطنية ودولية وخليجية وعربية مشتركة، ما يعزز مكانة الدولة عضواً فاعلاً في اتفاقية صون التراث الثقافي غير المادي للبشرية للعام 2003، والتي تهدف إلى زيادة الوعي بالتراث غير المادي وضمان الاعتراف بتقاليد المجتمعات ودرايتها لتعكس تنوعها الثقافي. والأفلاج التي جرى إدراجها في القائمة التمثيلية للتراث الثقافي غير المادي باسم دولة الإمارات، من التقاليد الشفهية والمعارف والمهارات المتعلقة بتشبيد وصون نظام شبكة الري التقليدية في الإمارات، بهدف ضمان التوزيع العادل للمياه، في حين يعد سباق الهجن تراثاً احتفالياً، وممارسة اجتماعية مرتبطة بالإبل، جرى إدراجه باسم دولة الإمارات وسلطنة عُمان الشقيقة.

السؤال العاشر :

1-تشرف منظمة اليونسكو على حماية

التراث - نظم الري الحديثة - الاكلات الشعبية - النظم المعلوماتية

2 - من القيم الأخلاقية التي وردت في النص

الحفاظ على التراث - التنوع البيولوجي - الحفاظ على البيئة - العدالة الاجتماعية - حفظ السلام

3- بما تفسر اهتمام الامارات بالتراث

للحفاظ على التراث للأجيال القادمة - لأنه مصدراً رئيسياً للدخل - للمشاركة في الاحتفالات المحلية - للإعلان عنه في الصحف

4 - من نظم الري القديمة في الامارات المدرجة في قائمة اليونسكو

( - الاودية - الابار - التنقيط - الافلاج )

5- (يساهم حماية التراث في زيادة النشاط السياحي للدول ) تعتبر هذه العبارة


حقيقة - تعميم - مصطلح - رأي

## اختبارات سابقة

أجب عن الأسئلة التالية:

## السؤال الأول:1

اختر الإجابة الصحيحة :



1. ما هو التعداد السكاني؟
- أ) عدد الأشخاص في دولة معينة.
  - ب) عدد المدارس في الدولة.
  - ج) عدد الأشجار في الحديقة.

السؤال الثاني:

صل بين الكلمة والمعنى المناسب لها:6

الكلمة	المعنى
بطاقة الهوية	العيش بسلام مع الآخرين
توزيع السكان	إثبات شخصية المواطن
التعايش السلمي	كيفية انتشار السكان في المكان

السؤال الثالث:6

ضع علامة (✓) أو: (X)

1. التعايش السلمي يعني احترام الآخرين ( ) .
2. جميع السكان يعيشون في نفس المكان دائماً ( ) .
3. بطاقة الهوية تدل على الانتماء للوطن ( ) .

السؤال الرابع:2

لون الصورة الصحيحة التي تمثل سكان الإمارات:



## السؤال الثالث

اختر الإجابة الصحيحة بوضع دائرة حول الخيار الصحيح:

1. ما هو التعداد السكاني؟

- أ) عدد السكان في مكان معين.
- ب) عدد السيارات في الشارع.
- ج) عدد الأشجار في الحديقة.

2. ما هي بطاقة الهوية؟

- أ) بطاقة تثبت أنك مواطن في الدولة.
- ب) بطاقة للدخول إلى المدرسة.
- ج) بطاقة للعب الألعاب.

## السؤال الرابع

صل بين الجملة والصورة المناسبة:

الجملة	الصورة
العيش بسلام مع الآخرين	صورة لبطاقة الهوية.
بطاقة تثبت هوية المواطن	صورة لأطفال يلعبون معاً بسلام.

## السؤال الخامس

ضع علامة (✓) أو: (X)

1. بطاقة الهوية تساعد في التعريف بشخصية المواطن ( ) .
2. التعايش السلمي يعني احترام الآخرين ( ) .
3. جميع السكان يعيشون دائماً في نفس المكان ( ) .

## السؤال السادس

أكمل الجملة بما يناسب:

1. العيش بسلام مع الآخرين يسمى.....
2. عندما نحسب عدد السكان، نسمي ذلك.....

## السؤال السابع

ارسم دائرة حول مكانك المفضل في خريطة بسيطة لدولة الإمارات.



## السؤال الثامن : اختر الإجابة الصحيحة

- يُطلق على عدد الأشخاص الذين يعيشون في منطقة معينة:
  - المناخ
  - السكان
  - الموارد
- من أسباب ارتفاع عدد السكان في المدن:
  - وجود المصانع والوظائف
  - قلة المدارس
  - صعوبة الوصول للخدمات
- من أسباب انخفاض عدد السكان في المناطق الصحراوية:
  - وفرة المياه
  - قلة الموارد والخدمات
  - اعتدال الطقس

## السؤال التاسع: أكمل الفراغات بالكلمات المناسبة

- عدد السكان في منطقة ما يتأثر بعوامل مثل ..... و.....
- المناطق ..... عادةً ما تكون مكتظة بالسكان.
- تزداد الكثافة السكانية عندما تكون الخدمات.....

## السؤال العاشر: صل بين العمود الأول والعمود الثاني

العمود الأول	العمود الثاني
المناطق الجبلية	أ) قليلة السكان
المدن الكبرى	ب) معتدلة الكثافة السكانية
المناطق الزراعية	ج) كثيرة السكان

## السؤال الحادي عشر : جدول البيانات الافتراضية

يمثل الجدول عدد السكان في ثلاث مناطق مختلفة خلال خمس سنوات.

السنة	المنطقة A مدينة ساحلية	المنطقة B منطقة جبلية	المنطقة C منطقة صحراوية
2019	500,000	150,000	50,000
2020	550,000	155,000	52,000
2021	600,000	160,000	55,000
2022	650,000	165,000	58,000
2023	700,000	170,000	60,000

الأسئلة على الرسم البياني:

## قراءة البيانات

- ما هي المنطقة التي شهدت أكبر زيادة في عدد السكان بين عامي 2019 و 2023؟ .....
- كم بلغ عدد السكان في المنطقة B عام 2021؟ .....
- قارن بين عدد السكان في المنطقة A والمنطقة C عام 2023؟ .....

الثاني عشر : الاختيار من متعدد

اقرأ الأسئلة التالية واختر الإجابة الصحيحة:

1. يُقصد بالسكان:
  - (أ) عدد الأشخاص الذين يعيشون في مكان ما.
  - (ج) الحيوانات التي تعيش في الغابات.
  - (ب) التضاريس
  - (د) جميع ما سبق
2. أي من العوامل التالية تؤثر على عدد السكان؟
  - (أ) توزيع الثروة بين السكان.
  - (ج) عدد السكان في العالم.
  - (ب) المدن الكبرى
  - (د) المناطق الصحراوية
3. التوزيع السكاني يعني:
  - (أ) توزيع الثروة بين السكان.
  - (ج) عدد السكان في العالم.
  - (ب) توزيع السكان في المناطق المختلفة.
  - (د) التنوع النباتي في البيئة.
4. من المناطق التي تتميز بكثافة سكانية عالية:
  - (أ) المناطق الصحراوية
  - (ب) المدن الكبرى
  - (ج) الجبال المرتفعة
  - (د) المناطق القطبية

السؤال 13: أكمل الفراغات

1. يتركز السكان في المناطق \_\_\_\_\_ لأنها توفر فرص العمل والخدمات.
2. من العوامل التي تؤثر على التوزيع السكاني \_\_\_\_\_ و\_\_\_\_\_.
3. يختلف التوزيع السكاني بسبب اختلاف \_\_\_\_\_ و\_\_\_\_\_ في الأماكن المختلفة.

السؤال 14: تحليل جدول

أجب عن الأسئلة بناءً على الجدول التالي الذي يوضح توزيع السكان في بعض المناطق:

أي منطقة تضم أكبر عدد من السكان؟  
الإجابة: \_\_\_\_\_

المنطقة	عدد السكان (بالآلاف)
المدن الكبرى	1200
القرى	800
المناطق الجبلية	400
المناطق الصحراوية	200

1. كم يزيد عدد سكان المدن الكبرى عن القرى؟  
الإجابة: \_\_\_\_\_
2. ما هي المنطقة التي تضم أقل عدد من السكان؟  
الإجابة: \_\_\_\_\_
3. اذكر سبباً يجعل عدد السكان في المناطق الصحراوية منخفضاً.  
الإجابة: \_\_\_\_\_

السؤال 15: قراءة البيانات

أجب عن الأسئلة بناءً على البيانات التالية:

البيانات (يظهر توزيع السكان حسب النشاط الاقتصادي):

- الزراعة: 40%      الصناعة: 30%      التجارة: 20%      خدمات: 10%
- 1. ما النشاط الاقتصادي الذي يشارك فيه أكبر عدد من السكان؟  
الإجابة: \_\_\_\_\_
- 2. ما الفرق بين نسبة السكان العاملين في الصناعة والتجارة؟  
الإجابة: \_\_\_\_\_
- 3. كم تبلغ النسبة الإجمالية للسكان العاملين في الزراعة والتجارة معاً؟  
الإجابة: \_\_\_\_\_
- 4. اذكر سبباً يجعل عدد العاملين في الزراعة كبيراً مقارنة بالخدمات.  
الإجابة: \_\_\_\_\_



## السؤال الأول: اختر الإجابة الصحيحة (20 سؤالاً × 1 درجة = 20 درجة)

ملاحظة: الأسئلة تتنوع بين الفهم، التطبيق، والربط بين المعلومات.

تُعتبر الأنشطة الاقتصادية في دولة الإمارات العربية المتحدة محوراً أساسياً لدعم الاقتصاد الوطني وتعزيز مكانتها عالمياً. تتميز الإمارات بتنوع أنشطتها الاقتصادية، حيث تشمل الزراعة التقليدية المعتمدة على المياه الجوفية، وتربية الإبل في المناطق الصحراوية، وصيد الأسماك كأحد أهم الأنشطة البحرية. إلى جانب ذلك، اشتهرت الإمارات قديماً بصناعة اللؤلؤ الذي كان يُعد مصدرًا رئيسياً للدخل قبل اكتشاف النفط. في العصر الحديث، أصبحت السياحة أحد القطاعات الاقتصادية الهامة التي تُساهم في زيادة الإيرادات المالية، كما لعبت التكنولوجيا دوراً محورياً في تنمية مختلف القطاعات الاقتصادية من خلال تعزيز الإنتاجية وكفاءة العمليات. كما تُعد الموانئ الإماراتية مراكز رئيسية للتصدير والاستيراد، مما يدعم التجارة العالمية ويُعزز مكانة الإمارات كمركز لوجستي عالمي.

1. أي من الأنشطة التالية يُعد من الأنشطة الاقتصادية في دولة الإمارات؟  
(أ) زراعة القطن (ب) صيد الأسماك (ج) صناعة السيارات (د) تربية الإبل
  2. ما هو النشاط الاقتصادي الذي اشتهرت به الإمارات قديماً؟  
(أ) استخراج النفط (ب) صناعة اللؤلؤ (ج) الزراعة الحديثة (د) التجارة الإلكترونية
  3. ما هي الزراعة التي تعتمد على المياه الجوفية في الإمارات؟  
(أ) الزراعة العضوية (ب) الزراعة التقليدية (ج) الزراعة المائية (د) الزراعة الصحراوية
  4. من مصادر الدخل القومي في الإمارات:  
(أ) صناعة الطائرات (ب) السياحة (ج) إنتاج الفحم (د) استخراج الذهب
  5. ما هو النشاط الاقتصادي المرتبط بالبحر في الإمارات؟  
(أ) صناعة الأثاث (ب) تجارة النفط (ج) صيد الأسماك (د) تربية الدواجن
  6. تُعد الموانئ الإماراتية من المراكز العالمية في مجال:  
(أ) التجارة والصناعة (ب) التصدير والاستيراد (ج) زراعة النخيل (د) تصنيع الأدوية
  7. من أشهر المحاصيل الزراعية في الإمارات:  
(أ) القمح (ب) الأرز (ج) التمر (د) الذرة
  8. ما هو الدور الذي تلعبه السياحة في الاقتصاد الإماراتي؟  
(أ) تقليل الموارد الطبيعية (ب) زيادة الإيرادات المالية (ج) تقليل فرص العمل (د) تقليل الاستثمار الخارجي
  9. تُعتبر تجارة النفط من الأنشطة الاقتصادية:  
(أ) الصناعية (ب) الزراعية (ج) التقليدية (د) البحرية
  10. كيف أثرت التكنولوجيا على الأنشطة الاقتصادية في الإمارات؟  
(أ) قللت الإنتاج الزراعي (ب) ساعدت في تنمية القطاعات الاقتصادية (ج) ألغت الأنشطة القديمة (د) زادت من استهلاك الموارد الطبيعية
  11. ما هو النشاط الذي يعتمد على استثمار الصحراء في الإمارات؟  
(أ) تربية الأسماك (ب) زراعة النخيل (ج) إنتاج البترول (د) السياحة الصحراوية
  12. أي من التالي ليس من الأنشطة الاقتصادية؟  
(أ) التجارة (ب) الزراعة (ج) الرعي (د) النوم
  13. أهم المعادن التي يتم استخراجها في الإمارات:  
(أ) الذهب (ب) الحديد (ج) الألمنيوم (د) النحاس
  14. كيف ساعدت الموانئ على تنمية التجارة في الإمارات؟  
(أ) زادت من الهجرة (ب) دعمت التجارة العالمية (ج) قللت التبادل التجاري (د) قللت من فرص الاستثمار
  15. البيئة الصحراوية في الإمارات تُستخدم بشكل رئيسي في:  
(أ) زراعة الأرز (ب) زراعة النخيل (ج) صيد الأسماك (د) تربية الإبل
  16. ماذا يُطلق على السفن التي كانت تُستخدم في صيد اللؤلؤ؟  
(أ) الداو (ب) البخت (ج) السفينة البخارية (د) القارب الشراعي
  17. ما هي الجهة التي تهتم بتطوير السياحة في الإمارات؟  
(أ) وزارة التربية والتعليم (ب) وزارة الزراعة (ج) هيئة السياحة والثقافة (د) وزارة الصحة
- السؤال الثاني: اذكر ثلاث أنواع من الأنشطة الاقتصادية؟

المادة: الدراسات الاجتماعية    الدرس: الأنشطة الاقتصادية في بلادي    الدرجة: 20    المدة الزمنية: 40 دقيقة

الاسم : ..... التاريخ : .....

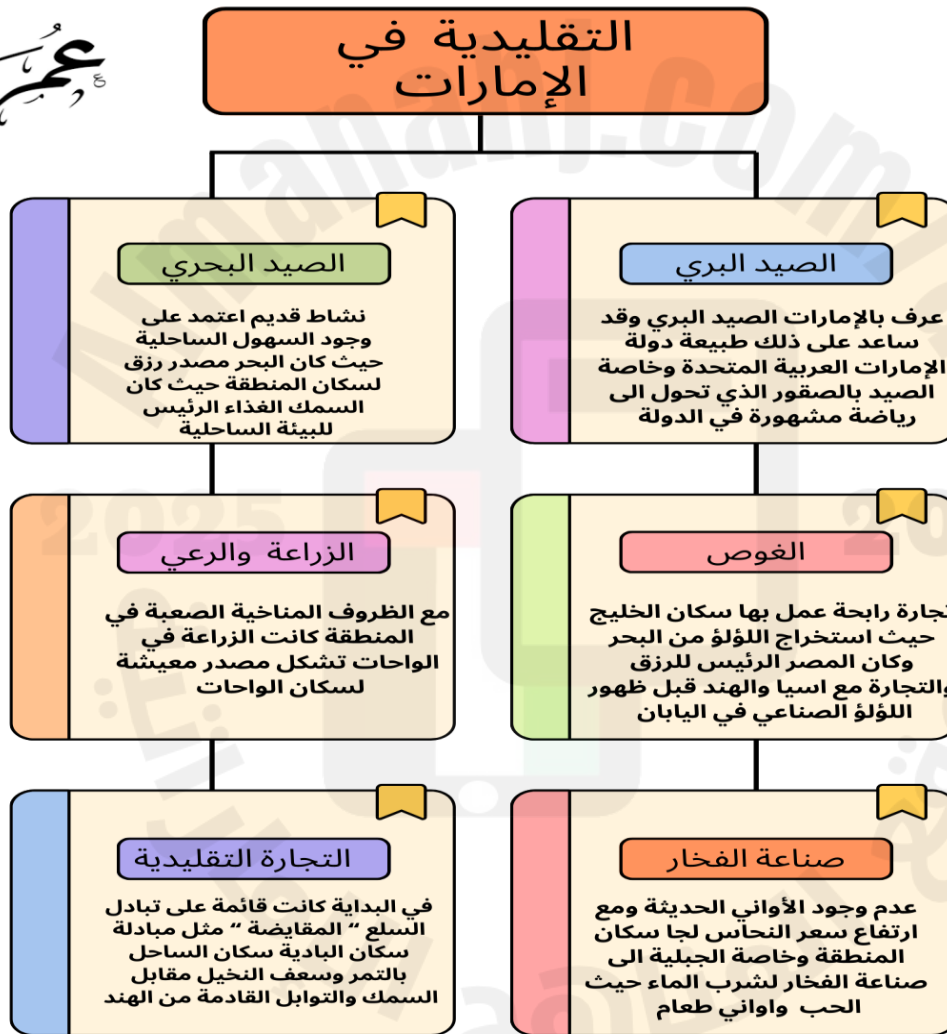
السؤال الأول: اختر الإجابة الصحيحة (20 سؤالاً × 1 درجة = 20 درجة)

## الأنشطة الاقتصادية



عمر حسن

### التقليدية في الإمارات



- 1- ما المصدر الرئيسي للرزق لسكان المناطق الساحلية في الإمارات؟
- أ) الغوص ب) الزراعة ج) الصيد البحري د) التجارة التقليدية
- 2- أي نشاط اقتصادي قديم ساعد على توفير الماء والطعام باستخدام الفخار؟
- أ) الزراعة والرعي ب) صناعة الفخار ج) الغوص د) الصيد البري
- 3- ما النشاط الذي ارتبط باستخراج اللؤلؤ من البحر؟
- أ) الصيد البحري ب) الغوص ج) الزراعة د) الصيد البري
- 4- لماذا كانت الزراعة مصدر معيشة مهم في الإمارات؟
- أ) بسبب السواحل الواسعة ب) بسبب توفر المياه الجوفية ج) بسبب وجود الواحات د) بسبب الصقور
- 5- ما النشاط الذي اشتهرت به الإمارات كرياضة مشهورة؟
- أ) الصيد البري ب) الغوص ج) التجارة التقليدية د) صناعة الفخار
- 6- ما الذي ساعد سكان الإمارات على تبادل السلع مع الهند؟
- أ) الزراعة ب) الصيد البحري ج) التجارة التقليدية د) صناعة الفخار
- 7- ما هو النشاط الاقتصادي الذي يعتمد على وجود السهول الساحلية؟
- أ) الزراعة ب) الغوص ج) الصيد البحري د) صناعة الفخار
- 8- ما الذي يعتبر مصدر الغذاء الرئيسي لسكان السواحل؟
- أ) الحبوب ب) الأسماك ج) التمر د) اللحوم
- 9- ما النشاط الذي يرتبط بالصقور في الإمارات؟
- أ) الزراعة والرعي ب) الصيد البري ج) الغوص د) التجارة التقليدية
- 10- ما العامل الطبيعي الذي ساعد في ممارسة الصيد البري؟
- أ) السهول الساحلية ب) طبيعة الدولة ج) المياه الجوفية د) الواحات
- 11- ما النشاط الذي ارتبط بإنتاج الفخار لسكان المنطقة؟
- أ) الصيد البري ب) الزراعة ج) صناعة الفخار د) الغوص
- 12- لماذا ازدهرت صناعة الفخار في الماضي؟
- أ) لارتفاع سعر الحبوب ج) لتوفر المواد الخام  
• ب) لعدم وجود الأواني الحديثة د) لسهولة التجارة

13- ما النشاط الذي شكل مصدر معيشة في الواحات؟

- أ) الصيد البحري      ب) الزراعة والرعي      ج) الغوص      د) التجارة

14- ما المصدر الذي ساعد في الزراعة في الواحات؟

- أ) الأمطار      ب) المياه الجوفية      ج) البحيرات      د) الآبار

15- ما النشاط الاقتصادي الذي اعتمد على تبادل السلع؟

- أ) الصيد البحري      ب) الغوص      ج) التجارة التقليدية      د) الزراعة

16- ما السلعة التي كانت تُستورد من الهند عبر التجارة التقليدية؟

- أ) الفخار      ب) التمور      ج) التوابل      د) الأرز

17- ما اسم النشاط الذي يرتبط باستخراج اللؤلؤ؟

- أ) الغوص      ب) الصيد البحري      ج) الصيد البري      د) التجارة

18- ما العامل الذي أثر في انخفاض الغوص على اللؤلؤ؟

- أ) ظهور اللؤلؤ الصناعي      ب) ندرة اللؤلؤ  
○ ج) تلوث المياه      د) نقص الغواصين

19- ما النشاط الذي ساعد سكان الخليج على بناء علاقات تجارية مع آسيا؟

- أ) التجارة التقليدية      ب) الصيد البحري      ج) الغوص      د) صناعة الفخار

20 - ما السلع التي تم تبادلها في التجارة التقليدية؟

- أ) الحبوب والتمور  
○ ب) الأسماك والتوابل  
○ ج) الفخار والحيوانات

د) القطن والأرز

## السؤال الأول: فهم النصوص

النص "يعيش في الأرض مليارات من الناس، وهم يتوزعون على جميع القارات. كل منطقة تختلف في عدد السكان وتركيبهم. يزداد عدد السكان بشكل مستمر بسبب الزيادة في عدد المواليد. كما أن التوزيع السكاني يعتمد على العوامل الطبيعية والاقتصادية التي تؤثر في مكان عيش الناس".

1. ما هو المقصود بـ "النمو السكاني"؟

- أ. انخفاض عدد السكان
- ب. زيادة عدد السكان
- ج. التوزيع العادل للسكان
- د. لا شيء مما سبق

2. ماذا يعني "التوزيع السكاني"؟

- أ. عدد السكان في كل مكان
- ب. مكان واحد فقط يعيش فيه كل الناس
- ج. كيف يختلف عدد السكان في مختلف الأماكن
- د. زيادة عدد السكان في المدن فقط

3. ما العوامل التي تؤثر في توزيع السكان؟

- أ. المناخ
- ب. الموارد الاقتصادية
- ج. الخدمات الصحية
- د. جميع ما ذكر

## السؤال الثاني: الجداول والأنشطة الاقتصادية

جدول الأنشطة الاقتصادية:

النشاط الاقتصادي	مثال من العالم العربي	الميزة الاقتصادية
الزراعة	مصر (الزراعة على ضفاف النيل)	توفر الأرض الزراعية
الصناعة	السعودية (النفط والغاز)	وجود الموارد الطبيعية
التجارة	الإمارات (دبي كمركز تجاري)	الموقع الجغرافي الاستراتيجي

1. أي من الأنشطة الاقتصادية يعتمد على

الموارد الطبيعية؟

- أ. الزراعة
- ب. الصناعة
- ج. التجارة
- د. جميع ما ذكر

2. أين يتركز النشاط الصناعي في الدول العربية؟

- أ. في المناطق الساحلية
- ب. في المناطق الريفية
- ج. في المناطق الغنية بالموارد الطبيعية
- د. في المدن الصغيرة

## السؤال الثالث: الرسوم التوضيحية



1. ماذا يعكس الشكل أعلاه؟

أ. الازدحام السكاني

ب. الحياة الريفية

ج. الطبيعة الهادئة

د. التوزيع العادل للسكان

## السؤال الرابع: التراكيب السكانية

"التراكيب السكانية تشير إلى توزيع السكان حسب العمر والجنس. فمثلاً، في بعض البلدان يمكن أن يكون هناك عدد أكبر من الشباب بينما في بلاد أخرى قد يكون هناك عدد أكبر من كبار السن".

1. ما هو المقصود بـ "التراكيب السكانية"؟

أ. توزيع السكان حسب الأماكن فقط

ب. توزيع السكان حسب الأعمار والجنسيات

ج. توزيع السكان حسب النشاطات الاقتصادية

د. توزيع السكان حسب الأراضي الزراعية

## السؤال الخامس: الازدحام السكاني



1. ما هو الازدحام السكاني؟

أ. زيادة في المساحات الخضراء

ب. تكديس الناس في منطقة واحدة بسبب نقص الخدمات

ج. انخفاض في عدد السكان

د. توافر المساحات الواسعة للعيش

2. كيف يمكن تقليل الازدحام السكاني؟

أ. بناء مدن جديدة

ب. توزيع السكان بشكل متساوٍ

ج. تحسين وسائل النقل العامة

د. جميع ما ذكر



## السؤال السادس: التوزيع السكاني

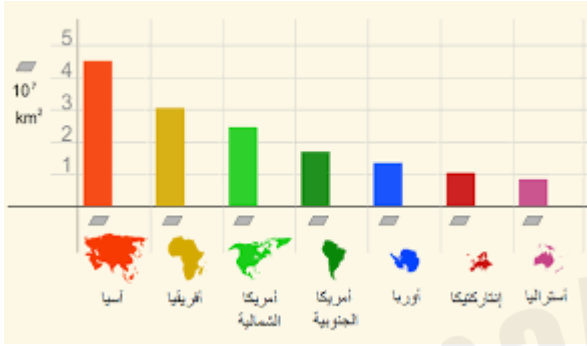
1. أي قارة تحتوي على أكبر عدد من السكان؟

أ. أفريقيا

ب. أوروبا

ج. آسيا

د. أمريكا الشمالية



## السؤال السابع: أمراض من الازدحام ؟

- الأمراض الصدرية - القلق

الانفلونزا



## السؤال الثامن : من خلال الصور حدد سبب الازدحام ؟

- ضيق الطريق

- الحوادث - زيادة عدد السكان

( أخطاء الإنسان )



السؤال التاسع: ضع الرقم ( 1 ) عند الصورة التي تمثل نشاط قديم ورقم ( 2 ) عند الصورة التي تمثل نشاط حديث



السؤال التالي : بعد قراءة الفقرة اجب عن أسئلة الاختيار من متعدد ؟

سواء كان توفير التجارة الإلكترونية بين الشركات بعضها وبعض. أو بين الشركات والمستهلكين أو كليهما، فإنها تحتاج إلى منصة إلكترونية قوية ومرنة وقابلة للتوسع: لتلبي احتياجات العملاء اليوم وفي المستقبل، وأن تكون قابلة للتطوير والتوسع بسرعة لتقديم تجربة استثنائية للعملاء في جميع أنحاء العالم كل يوم على مدار السنة، وبالرغم من ميزات التجارة الإلكترونية، كالمرونة وانخفاض التكلفة والسبولة وسرعة التوصيل، إلا أن لها عيوب عدة، كسبولة تحايل بعض الشركات على المتسوقين من حيث جودة ومواصفات المنتج وعدم الالتزام بمواعيد التسليم. لذا يُعد كسب ثقة العملاء من أهم شروط نجاح شركات التسوق الإلكتروني.

1. ما المتطلب الأساسي لنجاح التجارة الإلكترونية بين الشركات والمستهلكين؟

- (أ) منصة إلكترونية قوية وقابلة للتوسع
- (ب) أسعار منخفضة بشكل دائم
- (ج) الاعتماد على التسويق التقليدي
- (د) تجنب توسيع نطاق العمل

2. من بين مزايا التجارة الإلكترونية المذكورة في الفقرة:

- (أ) ارتفاع التكلفة وصعوبة التوصيل
- (ب) المرونة وسرعة التوصيل
- (ج) قلة الخيارات المتاحة للعملاء
- (د) الاعتماد الكامل على المتاجر التقليدية

3. ما أحد عيوب التجارة الإلكترونية وفقاً للفقرة؟

- (أ) عدم توفر المنتجات على مدار الساعة
- (ب) ارتفاع أسعار المنتجات دائماً
- (ج) احتمالية تحايل بعض الشركات على العملاء
- (د) عدم إمكانية الدفع الإلكتروني

4. ما العامل الأساسي لنجاح شركات التسوق الإلكتروني؟

- (أ) زيادة العروض والخصومات
- (ب) كسب ثقة العملاء
- (ج) الاعتماد على عدد قليل من المنتجات
- (د) تقليل عمليات التسويق الإلكتروني

5. لماذا تحتاج التجارة الإلكترونية إلى منصة إلكترونية مرنة وقوية؟

- (أ) لتقليل عدد العملاء المحتملين
- (ب) للحد من انتشار التجارة الإلكترونية
- (ج) لتلبية احتياجات العملاء اليوم وفي المستقبل
- (د) لمنع استخدام التكنولوجيا الحديثة

