

حل نموذج اختبار تجريبي وفق الهيكل الوزاري منهج ريفيل



تم تحميل هذا الملف من موقع المناهج الإماراتية

موقع المناهج ⇨ المناهج الإماراتية ⇨ الصف الرابع ⇨ رياضيات ⇨ الفصل الثاني ⇨ ملفات متنوعة ⇨ الملف

تاريخ إضافة الملف على موقع المناهج: 06:39:42 2025-03-17

ملفات اكتب للمعلم اكتب للطالب ا اختبارات الكترونية ا اختبارات ا حلول ا عروض بوربوينت ا أوراق عمل
منهج انجليزي ا ملخصات وتقارير ا مذكرات وبنوك ا الامتحان النهائي للمدرس

المزيد من مادة
رياضيات:

التواصل الاجتماعي بحسب الصف الرابع



صفحة المناهج
الإماراتية على
فيسبوك

الرياضيات

اللغة الانجليزية

اللغة العربية

التربية الاسلامية

المواد على تلغرام

المزيد من الملفات بحسب الصف الرابع والمادة رياضيات في الفصل الثاني

نموذج اختبار تجريبي وفق الهيكل الوزاري منهج ريفيل	1
حل اختبار نهائي وفق الهيكل الوزاري منهج ريفيل	2
حل نموذج اختبار نهائي وفق الهيكل الوزاري منهج ريفيل	3
نموذج اختبار نهائي وفق الهيكل الوزاري منهج ريفيل	4
حل أسئلة اختبار تدريبي وفق الهيكل الوزاري منهج ريفيل	5

امتحان تجريبي نهاية الفصل الدراسي الثاني 2024/2025

End of Term Mock Exam 2024/2025

		Student Name	اسم الطالب
		School	المدرسة
4		Class	الصف
General	العام	Stream	المسار
Mathematics	الرياضيات	Subject	المادة
Reveal	ريفيل		

	Total	الدرجة الكلية
100		

Part 1	الجزء 1
--------	---------


Circle the letter corresponding to the correct answer.	ضع دائرة حول رمز الإجابة الصحيحة.
--	-----------------------------------

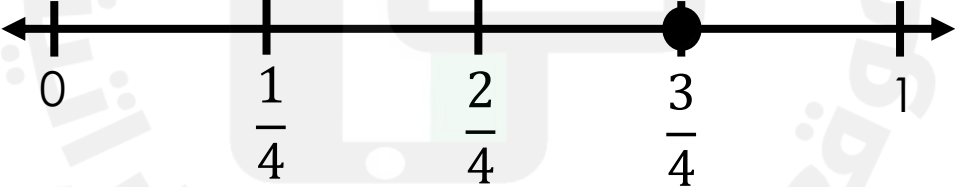
Question	1	السؤال
<div> <div>What is the quotient?</div> <div>ما ناتج القسمة؟</div> <div>420 ÷ 6 = _____</div> </div>		
A	<input type="radio"/>	7
B	<input type="radio"/>	70
C	<input type="radio"/>	700
D	<input type="radio"/>	7000

Question	2	السؤال
<div> <div>Four students equally share 68 binder clips. How many binder clips does each student receive?</div> <div>يتشارك أربعة طلاب 68 مشبكًا بشكل متساوي. كم عدد المشابك التي يحصل عليها كل طالب؟</div> </div>		
A	<input type="radio"/>	17
B	<input type="radio"/>	18
C	<input type="radio"/>	19
D	<input type="radio"/>	20

Question	3	السؤال
<p>There are 210 workers at the football stadium to help cleanup after the game. The workers are divided into 5 equal teams. How many workers are on each team?</p> <p>يوجد 210 عامل في ملعب كرة القدم للمساعدة في التنظيف بعد المباراة. ينقسم العمال الى 5 فرق متساوية. ما عدد العمال في كل ملعب.</p>		
A	40	
B	42	
C	205	
D	215	

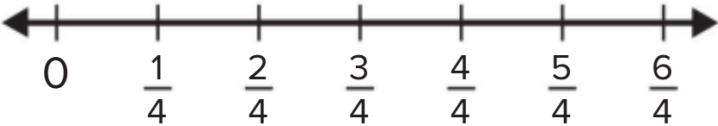
Question	4	السؤال
<p>What is the quotient? Use the partial quotients to solve.</p> <p>ما ناتج القسمة؟ استخدم نواتج القسمة الجزئية للحل.</p> <div> <div> $3,306 \div 2 = \underline{\hspace{2cm}}$ </div> <div> <div>3,306</div> <div>– 3,000 (3 × 1,000)</div> <div>306</div> <div>– 300 (3 × 100)</div> <div>6</div> <div>– 6 (3 × 2)</div> <div>0</div> </div> </div>		
A	1,102	
B	1,120	
C	1,210	
D	2,110	




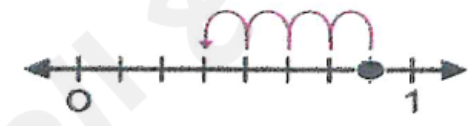
Question	5	السؤال
Use the representation to find an equation fraction.		استخدم التمثيل لإيجاد الكسر المكافئ
		
$\frac{6}{10} = \frac{\square}{5}$		
A		2
B		3
C		4
D		5

Question	6	السؤال
Which fraction is equivalent to $\frac{3}{4}$?		أي كسر مكافئ لـ $\frac{3}{4}$ ؟
		
A		$\frac{3}{12}$
B		$\frac{6}{8}$
C		$\frac{6}{4}$
D		$\frac{4}{12}$

Question		7	السؤال
Which comparison is true?			أي مقارنة هي صحيحة؟
A		$\frac{1}{4} = \frac{2}{5}$	
B		$\frac{3}{6} = \frac{2}{4}$	
C		$\frac{3}{5} > \frac{4}{6}$	
D		$\frac{2}{3} < \frac{3}{8}$	

Question		8	السؤال
Which addition expression shows a decomposition of $\frac{5}{8}$?			ما تعبير الجمع الذي يمثل مفكوك $\frac{5}{8}$ ؟
A		$\frac{1}{8} + \frac{1}{8} + \frac{1}{8} + \frac{1}{8}$	
B		$\frac{1}{8} + \frac{1}{8} + \frac{2}{8} + \frac{1}{8}$	
C		$\frac{1}{8} + \frac{1}{8} + \frac{2}{8} + \frac{2}{8}$	
D		$\frac{2}{8} + \frac{2}{8} + \frac{2}{8} + \frac{2}{8}$	



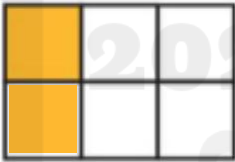
Question		9	السؤال
What is the sum?			ما المجموع؟
		$\frac{3}{4} + \frac{2}{4} = \frac{\boxed{}}{\boxed{}}$ 	
A		$\frac{1}{4}$	
B		$\frac{4}{4}$	
C		$\frac{5}{4}$	
D		$\frac{6}{4}$	

Question		10	السؤال	
Which number line shows the difference $\frac{7}{8} - \frac{3}{8}$?			أي خط أعداد يوضح الفرق $\frac{7}{8} - \frac{3}{8}$ ؟	
A		C		
B		D		

Question		11	السؤال
Which fraction is equivalent to			ما الكسر المكافئ لـ
$2\frac{3}{5}$?			$2\frac{3}{6}$ ؟
A		$\frac{11}{5}$	
B		$\frac{17}{5}$	
C		$\frac{13}{5}$	
D		$\frac{13}{10}$	

Question		12	السؤال
Use the fraction circle to solve			استخدم دائرة الكسور لحل المسألة
$1\frac{4}{6} + 1\frac{3}{6}$			$1\frac{4}{6} + 1\frac{3}{6}$
A		$2\frac{1}{12}$	
B		$2\frac{1}{7}$	
C		$3\frac{1}{12}$	
D		$3\frac{7}{6}$	

Question		13	السؤال
What is the missing the number?			ما العدد المجهول؟
		$3\frac{3}{5} + 3\frac{4}{5} = \boxed{}\frac{2}{5}$	
A		5	
B		6	
C		7	
D		8	

Question		14	السؤال
Use the fraction model to solve			استخدم نموذج الكسر لحل
$2\frac{2}{6} - 1\frac{3}{6}$		  	$2\frac{2}{6} - 1\frac{3}{6}$
A		$\frac{5}{6}$	
B		$1\frac{2}{6}$	
C		$1\frac{3}{6}$	
D		$\frac{4}{6}$	

Question		15	السؤال
What is the product?			ما ناتج الضرب؟
		$2 \times \frac{5}{8} = \frac{\boxed{}}{\boxed{}}$	
A		$\frac{10}{8}$	
B		$\frac{10}{16}$	
C		$\frac{7}{8}$	
D		$\frac{7}{10}$	

Show all your work when answering these questions.	يجب كتابة خطوات الحل التفصيلية للمفردات الاختبارية كافة.
--	--

Question	16	السؤال
----------	----	--------

Estimate a range for the quotient. قدر مدى ناتج القسمة.

Write equations to show your work. اكتب المعادلات لعرض عملك.

$$6,428 \div 9 =$$

2023 2024

Question	21	السؤال
What is the product?	$2 \times \frac{2}{3} = \square \times 2 \times \frac{\square}{\square}$ $= \frac{\square}{\square}$	ما هو ناتج الضرب؟

Question	22	السؤال
What is the product?	$2 \times 4\frac{3}{10} = \square \frac{\square}{\square}$	ما هو ناتج الضرب؟

Question	23	السؤال
What is the product?	$3 \times 2\frac{1}{2} = 3 \times \left(2 + \frac{\square}{\square} \right)$ $= (3 \times 2) + \left(3 \times \frac{\square}{\square} \right)$ $= 6 + \frac{\square}{\square}$ $= 7 \frac{\square}{\square}$	ما هو ناتج الضرب؟