

حل أسئلة الامتحان النهائي القسم الورقي منهج بريدج



تم تحميل هذا الملف من موقع المناهج الإماراتية

موقع المناهج ← المناهج الإماراتية ← الصف الرابع ← علوم ← الفصل الثالث ← حلول ← الملف

تاريخ إضافة الملف على موقع المناهج: 11:40:14 2025-06-06

ملفات اكتب للمعلم اكتب للطالب ا اختبارات الكترونية ا اختبارات ا حلول ا عروض بوربوينت ا أوراق عمل
منهج انجليزي ا ملخصات وتقارير ا مذكرات وبنوك ا الامتحان النهائي ا للمدرس

المزيد من مادة
علوم:

التواصل الاجتماعي بحسب الصف الرابع



صفحة المناهج
الإماراتية على
فيسبوك

الرياضيات

اللغة الانجليزية

اللغة العربية

التربية الاسلامية

المواد على تلغرام

المزيد من الملفات بحسب الصف الرابع والمادة علوم في الفصل الثالث

حل نموذج تدريبي للاختبار النهائي وفق الهيكل الوزاري

1

نموذج تدريبي للاختبار النهائي وفق الهيكل الوزاري

2

نموذج تدريبي ثالث للاختبار النهائي منهج انسباير متبوع بالإجابات

3

نموذج تدريبي ثان للاختبار النهائي منهج انسباير متبوع بالإجابات

4

نموذج تدريبي أول للاختبار النهائي منهج انسباير متبوع بالإجابات

5



ضع دائرة حول رمز الإجابة الصحيحة.

الجزء 1

السؤال	1
	أي مما يلي يحوي أكثر المياه العذبة على سطح الأرض؟
A	البحار
B	المحيطات
C	الأنهار الجليدية و القمم الجليدية
D	الآبار

السؤال	2
	ماذا تُسمى المياه التي تملأ الشقوق وفراغات الصخور تحت الأرض؟
A	البحيرات
B	الأنهار
C	البحار
D	المياه الجوفية





3

السؤال

الجدول يُبين حركة أربع مركبات مختلفة. بناءً على الجدول، ما سرعة المركبة المشار إليها برقم 4؟

المركبة	المسافة المقطوعة	الزمن
1	54 km	10 h
2	64 km	10 h
3	74 km	10 h
4	84 km	10 h

km/h 8.4

A

m/h 8.4

B

km/s 8.4

C

km/h/s 8.4

D

4

السؤال

القمر على عكس النجوم لا يولد ضوءه الخاص. لماذا يلمع القمر؟



لأنه يعكس ضوء الشمس

A

لأنه يعكس ضوء الأرض

B

لأنه يمتص ضوء النجوم


C

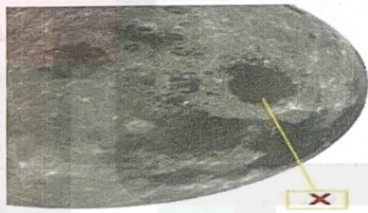
لأنه يعكس ضوء الكواكب

D






السؤال	5
أي مما يلي يشير إلى الماء الذي يتدفق على الأرض دون أن يتبخر أو يغوص في الأرض؟	
	
A	الخزان
B	الآبار
C	البحار
D	الجريان السطحي

السؤال	6
الشكل يوضح القمر. ما الذي يشير إليه الحرف X؟	
	
A	الكوكب
B	الشمس
C	الأرض
D	الفوهة



السؤال	7
استناداً للشكل ماذا يُسمى الشهاب بعد وصوله سطح الأرض؟	
	
A	نيزك
B	مُذنب
C	كويكب
D	نجمة

السؤال	8
كيف يكون المناخ بالقرب من القطبين؟	
A	رطب
B	دافئ
C	بارد
D	حار





السؤال	9
بناءً على الشكل الذي يُبين ظل حيوان الظبي في الصحراء. ما هو موقع الشمس في السماء؟	
 <p>ظل طويل</p>	
A	منخفضة
B	مرتفعة
C	وراء الجبال
D	وراء السحاب

السؤال	10
أي مما يلي يُمثل الترتيب الصحيح لعملية معالجة المياه في محطات المعالجة؟	
A	إضافة المواد الكيميائية ← مرور المياه عبر مرشح ← قتل الجراثيم الضارة
B	مرور المياه عبر مرشح ← إضافة المواد الكيميائية ← قتل الجراثيم الضارة
C	قتل الجراثيم الضارة ← مرور المياه عبر مرشح ← إضافة المواد الكيميائية
D	مرور المياه عبر مرشح ← قتل الجراثيم الضارة ← إضافة المواد الكيميائية

NS1H005058AR04GENSCIXT3P078





السؤال

أي مما يلي يُعبر عن وحدة قياس

نيوتين (N)	A
لتر (L)	B
كيلومتر (Km)	C
كيلوجرام (Kg)	D



السؤال

أي مما يلي يُسبب تعاقب الليل



دوران الأرض حول	A
دوران الشمس حول	B
دوران القمر حول	C
دوران الأرض حول	D

11

السؤال

الشكل يوضح طبقات الغلاف الجوي للأرض. أي طبقة من طبقات الغلاف الجوي تعتبر الأقل سمكاً؟



N3SHJ005058AR04GENSCIXT3P078

N3SHJ005058AR04GENSCIXT3P078

A التروبوسفير

B الإستراتوسفير

C الميزوسفير

D التيرموسفير



السؤال	12
أي مما يلي يُعبر عن وحدة قياس المسافة؟	
A	نيوتن (N)
B	لتر (L)
C	كيلومتر (Km)
D	كيلوجرام (Kg)



السؤال	13
أي مما يلي يُسبب تعاقب الليل والنهار؟	
A	دوران الأرض حول محورها
B	دوران الشمس حول الأرض
C	دوران القمر حول الأرض
D	دوران الأرض حول الشمس

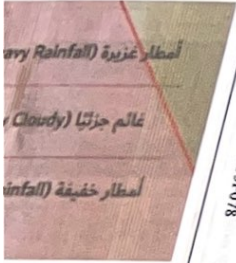
N3S1J005058A804GENSCIX13P078





السؤال

الشكل يبين خريطة طقس دولة الإما
أي مما يلي يصف طقس دولة الإما:



مطر	A
>	B
	C
	D

14

السؤال

عملية توفير المياه إلى التربة من خلال الأنابيب أو القنوات تسمى




A	التكثيف
B	التبخر
C	الري
D	التخزين



15

السؤال

الشكل يبين خريطة طقس دولة الإمارات العربية المتحدة.
أي مما يلي يصف طقس دولة الإمارات العربية المتحدة كما يوضحه الشكل؟



مطر	A
حار	B
صافى	C
مشمس	D

N35H005058AR04GENSCIXT3P078









الجزء 2

16

السؤال

يُظهر الشكل الكواكب العملاقة .

أدرسه ثم أجب عن الأسئلة التالية:

A	B	C	D
 <p>البُعد عن الشمس: مليار و 429 مليون كيلومتر طول الخطر: 120,536 km زمن الدوران المحوري: 10 ساعات أرضية زمن الدوران حول الشمس: 10,759 يومًا أرضيًا حقيقة سريعة: يمكن أن تلتصق الرياح فوق الكوكب زحل بتسعة 500 متر في الثانية</p>	 <p>البُعد عن الشمس: 778 مليون كيلومتر طول الخطر: 143,000 km زمن الدوران المحوري: 10 ساعات أرضية زمن الدوران حول الشمس: 4,333 يومًا أرضيًا حقيقة سريعة: رصد غاليليو عام 1610 أكثر أربعة أقمار تابعة للشمس</p>	 <p>البُعد عن الشمس: 4 مليار و 504 مليون كيلومتر طول الخطر: 49,528 km زمن الدوران المحوري: 16 ساعة أرضية زمن الدوران حول الشمس: 60,190 يومًا أرضيًا حقيقة سريعة: يتناثر ميثان 165 سنة أرضية ليدور حول الشمس</p>	 <p>البُعد عن الشمس: 2 مليار و 871 مليون كيلومتر طول الخطر: 51,118 km زمن الدوران المحوري: 17 ساعة أرضية زمن الدوران حول الشمس: 30,684 يومًا أرضيًا حقيقة سريعة: يسلّ بخور أورانوس نحو الشمس</p>

• ما الحرف الذي يُشير إلى كوكب المشتري؟

.....

• ما الحرف الذي يُشير إلى كوكب نبتون؟

.....

• ما الحرف الذي يُشير إلى كوكب أورانوس؟

.....

• ما الحرف الذي يُشير إلى كوكب زحل؟

.....





17

السؤال

استنادا الى الشكل الذي يوضح أطوار القمر.

1. اختر المصطلح الصحيح مما يلي ثم أجب على الأسئلة الآتية :-

البدر - الأحدب المتناقص - الهلال المتناقص



• إلى ماذا يشير الحرف (A)؟

• إلى ماذا يشير الحرف (B)؟

• إلى ماذا يشير الحرف (C)؟

2. عندما يقطع القمر ثلاث أرباع دورته حول الأرض ، فسينتقل القمر من طور المحاق

ويصل الى طور.....





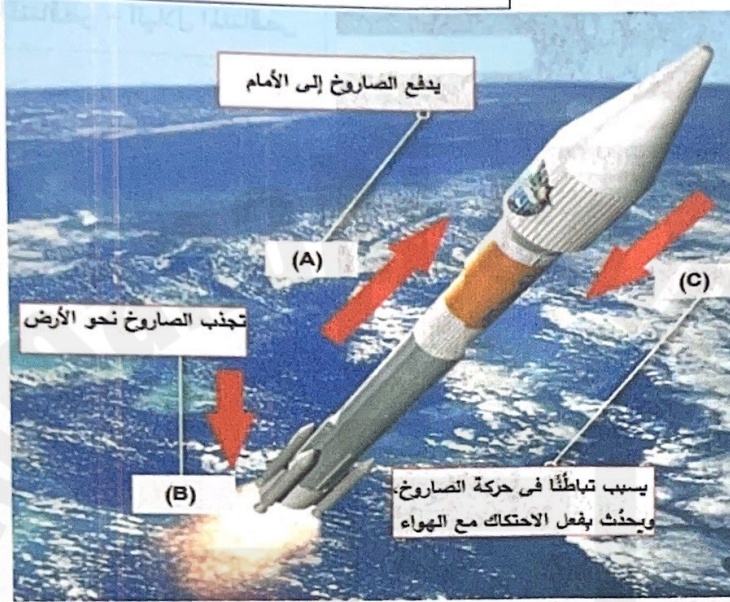
18

السؤال

الشكل يوضح كيف يطير الصاروخ في الفضاء.

1. استخدم المصطلحات أدناه للإجابة على الأسئلة التالية.

الدفع - السحب - الجاذبية



• إلى ماذا يشير الحرف (A) ؟

• (A) يشير إلى الدفع

• إلى ماذا يشير الحرف (B) ؟




• (B) يشير إلى السحب

• إلى ماذا يشير الحرف (C) ؟

• (C) يشير إلى الاحتكاك

2. لا يوجد هواء في الفضاء، وتوجد جاذبية ضعيفة، فكيف يؤثر ذلك على حركة الصاروخ؟



السؤال	19
<p>استنادا الى الشكل الذي يوضح ثلاثة فصول من السنة.</p> <p>1. اختر المصطلح الصحيح مما يلي ثم اكتبه في موقعه المناسب.</p> <div style="border: 1px solid black; padding: 5px; text-align: center; margin: 10px auto; width: 60%;"> <p>الصيف - الشتاء - الخريف</p> </div> <div style="display: flex; justify-content: space-around; align-items: flex-end; margin-top: 20px;"> <div style="text-align: center;">  <p>A 21 ديسمبر - 20 مارس</p> </div> <div style="text-align: center;">  <p>B 22 سبتمبر - 21 ديسمبر</p> </div> <div style="text-align: center;">  <p>C 21 يونيو - 22 سبتمبر</p> </div> </div> <p>ا. يُشير الحرف (A) الى فصل</p> <p>ا. يُشير الحرف (B) الى فصل</p> <p>ا. يُشير الحرف (C) الى فصل</p> <p>2. لماذا يسقط ضوء الشمس على سطح الأرض بزوايا مختلفة؟</p> <p>.....</p>	





20

السؤال

استنادًا إلى الشكل الذي يوضح أدوات قياس الطقس، اختر المصطلح الصحيح مما يلي ثم اكتبه في موقعه المناسب داخل الشكل.

الهيجروميتر - الثيرموميتر - الباروميتر - مقياس المطر



جهاز
لقياس رطوبة.



..... لقياس درجة
حرارة الجو بالسيليزي (°C)
أو بالفهرنهايت (°F).



..... لقياس
ضغط الهواء.

..... أنبوب يجمع فيه
الماء. يظهر كمية هطول المطر.



انتهت الأسئلة

