

أسئلة اختبار في الوحدة 12 التمثيلات البيانية



تم تحميل هذا الملف من موقع المناهج الإماراتية

موقع المناهج ← المناهج الإماراتية ← الصف الثالث ← رياضيات ← الفصل الثالث ← ملفات متنوعة ← الملف

تاريخ إضافة الملف على موقع المناهج: 2025-04-23 10:55:50

ملفات اكتب للمعلم اكتب للطالب | اختبارات الكترونية | اختبارات | حلول | عروض بوربوينت | أوراق عمل
منهج انجليزي | ملخصات وتقارير | مذكرات وبنوك | الامتحان النهائي | للمدرس

المزيد من مادة
رياضيات:

إعداد: مدرسة أم حكيم الأنصارية

التواصل الاجتماعي بحسب الصف الثالث



صفحة المناهج
الإماراتية على
فيسبوك

الرياضيات

اللغة الانجليزية

اللغة العربية

التربية الاسلامية

المواد على تلغرام

المزيد من الملفات بحسب الصف الثالث والمادة رياضيات في الفصل الثالث

أسئلة الاختبار القصير الثاني وحدة التمثيلات البيانية

1

أسئلة الاختبار القصير الأول بدون الحل

2

مذكرة حفظ جدول الضرب

3

أسئلة الامتحان النهائي القسم الورقي منهج بريدج

4

تمارين اختبار وفق الهيكل الوزاري

5

اختبار الفصل الدراسي الثالث في الرياضيات لطلبة الصف الثالث

للعام الدراسي 2021-2022

اسم الطالب:----- الصف:-----



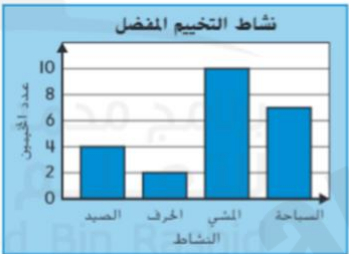
درجتي هي

اختر الإجابة الصحيحة			8 سؤال كل سؤال درجتان
سؤال	الجدول الذي يحتوي على علامات الإحصاء يسمى		
	1	الجدول التكراري	جدول العلامات
		جدول الصور	

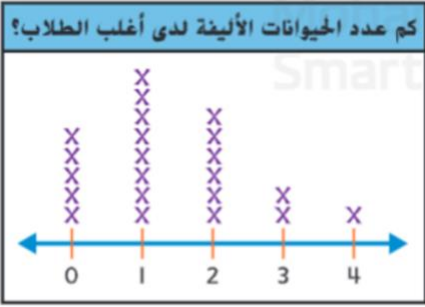
سؤال			ما هو أقل لون تفضيلاً ؟	
2				
الأصفر		الأخضر	الأحمر	

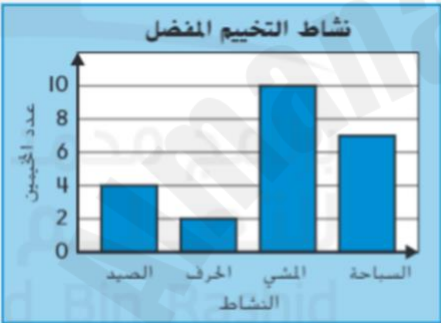
ألوان السيارات	
اللون	علامات الإحصاء
الأحمر	
الأخضر	
الأبيض	
الأزرق	

سؤال										
3										
كم عدد الأشخاص الذين يفضلون الأفلام الكوميدية										
نوع الأفلام المفضل										
<table><tr><td>كوميديا</td><td><div></div><div></div><div></div></td></tr><tr><td>دراما</td><td><div></div></td></tr><tr><td>كارتون</td><td><div></div><div></div><div></div><div></div><div></div></td></tr><tr><td colspan="2">المفتاح: <div></div> = 3 أشخاص</td></tr></table>			كوميديا	<div></div> <div></div> <div></div>	دراما	<div></div>	كارتون	<div></div> <div></div> <div></div> <div></div> <div></div>	المفتاح: <div></div> = 3 أشخاص	
كوميديا	<div></div> <div></div> <div></div>									
دراما	<div></div>									
كارتون	<div></div> <div></div> <div></div> <div></div> <div></div>									
المفتاح: <div></div> = 3 أشخاص										
3	12	9								

<p>سؤال</p> <p>4</p>	<p>ما هو النشاط الأقل تخبيما؟</p>	<p>نشاط التخييم المفضل</p> 
الحرف	المشي	السباحة

سؤال			كم عدد السيارات في المجمل؟												
5															
<table><tr><th colspan="2">ألوان السيارات</th></tr><tr><th>اللون</th><th>علامات الإحصاء</th></tr><tr><td>الأحمر</td><td> </td></tr><tr><td>الأخضر</td><td> </td></tr><tr><td>الأبيض</td><td> </td></tr><tr><td>الأزرق</td><td> </td></tr></table>				ألوان السيارات		اللون	علامات الإحصاء	الأحمر		الأخضر		الأبيض		الأزرق	
ألوان السيارات															
اللون	علامات الإحصاء														
الأحمر															
الأخضر															
الأبيض															
الأزرق															
22	26	25													

<p>كم عدد الحيوانات الأليفة لدى أغلب الطلاب؟</p> 	<p>التمثيل البياني الموضح في الصورة هو:</p>	<p>سؤال 6</p>
<p>التمثيل بالأعمدة</p>	<p>النقاط المجمعة</p>	<p>التمثيل البياني التصويري</p>

<p>نشاط التخييم المفضل</p> 	<p>المقياس المستخدم في هذا التمثيل هو؟</p>	<p>سؤال 7</p>
<p>6</p>	<p>4</p>	<p>2</p>

<p>لون القميص المفضل</p> 	<p>أي المعلومات ضروري لإكمال التمثيل البياني بالأعمدة؟</p>	<p>سؤال 8</p>
<p>النقاط</p>	<p>المقياس</p>	<p>العنوان</p>

أوجد المطلوب

درجتان لكل سؤال

سؤال

9

رتب البيانات في الجدول التكراري

السراويل التي تم ارتداؤها للبهذسة	
نوع السراويل	التكرار

السراويل التي تم ارتداؤها للهدسة	
نوع السراويل	علامات الإحصاء
جينز	
السراويل القطنية	
سراويل الصوف	
سراويل رياضية	

كم عدد الأشخاص الذين شاركوا في الاستطلاع؟
 بكم يزيد عدد الجينز عن عدد السراويل الرياضية؟

سؤال

10

ما هي الدرجات التي كانت من نصيب طالب واحد فقط

كم عدد الطلاب الذي حصلوا على درجة 94 أو أكثر؟

