

أوراق عمل عناصر خريطة بلادي



تم تحميل هذا الملف من موقع المناهج الإماراتية

موقع المناهج ← المناهج الإماراتية ← الصف الثالث ← اجتماعيات ← الفصل الثاني ← ملفات متنوعة ← الملف

تاريخ إضافة الملف على موقع المناهج: 20:35:47 2025-03-17

ملفات اكتب للمعلم اكتب للطالب ا اختبارات الكترونية ا اختبارات ا حلول ا عروض بوربوينت ا أوراق عمل
منهج انجليزي ا ملخصات وتقارير ا مذكرات وبنوك ا الامتحان النهائي للمدرس

المزيد من مادة
اجتماعيات:

إعداد: منى نجيب

التواصل الاجتماعي بحسب الصف الثالث



صفحة المناهج
الإماراتية على
فيسبوك

الرياضيات

اللغة الانجليزية

اللغة العربية

التربية الاسلامية

المواد على تلغرام

المزيد من الملفات بحسب الصف الثالث والمادة اجتماعيات في الفصل الثاني

اختبار تدريبي على درس السهول الساحلية

1

نموذج اختبار تدريبي وفق الهيكل الوزاري

2

تدريبات مراجعة نهائية من أكاديمية تمكين الرقمية

3

نموذج اختبار تدريبي متبوع بالإجابات

4

حل نموذج اختبار تدريبي على الامتحان النهائي

5

مادة الدراسات الاجتماعية و التربية الوطنية

الصف الثالث

الفصل الدراسي الثاني

ورقة عمل عن عناصر الخريطة

الاسم : الشعبة :

أكمل العبارات التالية مستعيناً بالكلمات :

(الجهات الأصلية - الخريطة - مفتاح الخريطة - إطار الخريطة)

- هي أربعة خطوط مستقيمة تحيط بالخريطة
- هو المكان الذي توضع فيه الرموز على الخريطة
- هي الشمال والجنوب والشرق والغرب
- رسم مصغر للأماكن على سطح الأرض.
- ما أهمية عناصر الخريطة ؟

.....

• كيف أصبح قارئ جيد للخريطة ؟

.....



• قيم نفسك :

• استكمل المخطط التالي : (عناصر الخريطة)

.....

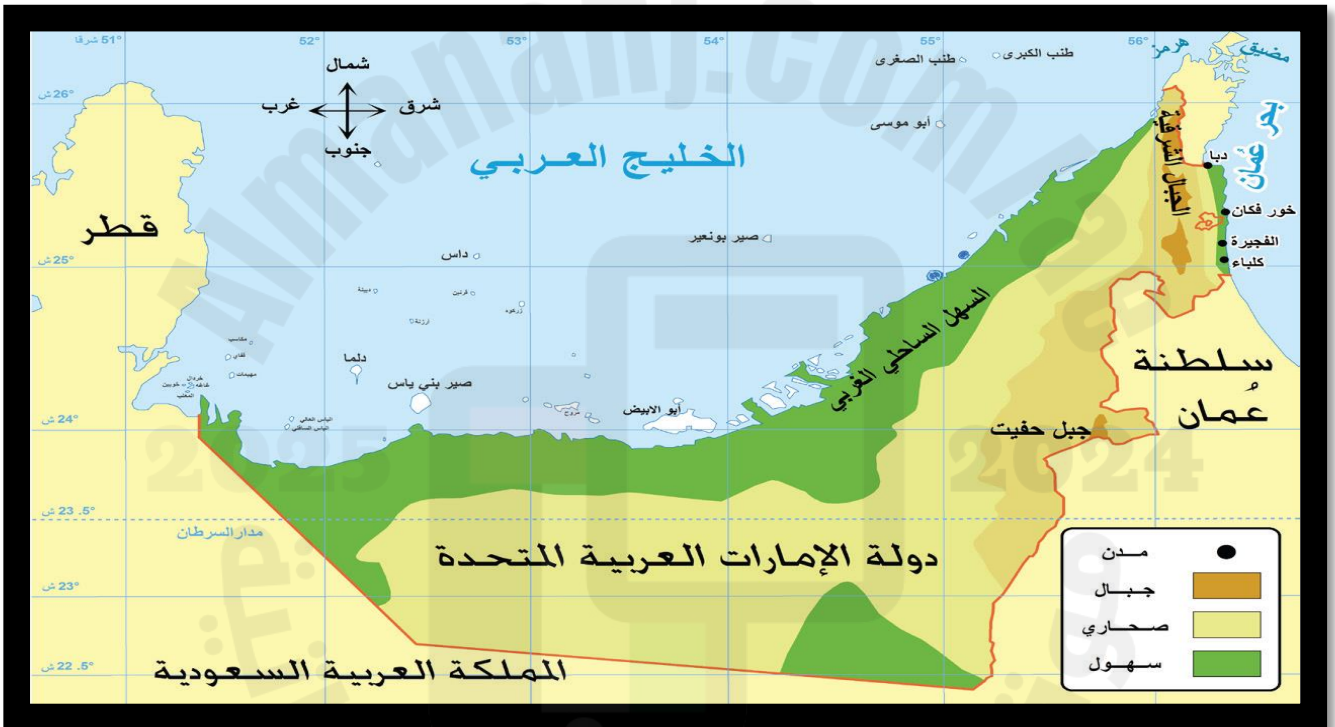
.....

عناصر الخريطة

.....

.....

• حدد على الخريطة التالية عناصر الخريطة :



أشكال السطح في دولة الامارات



قيم نفسك :

مديرة المدرسة : نجية المنصوري

معلمة المادة : منى نجيب

مادة الدراسات الاجتماعية و التربية الوطنية

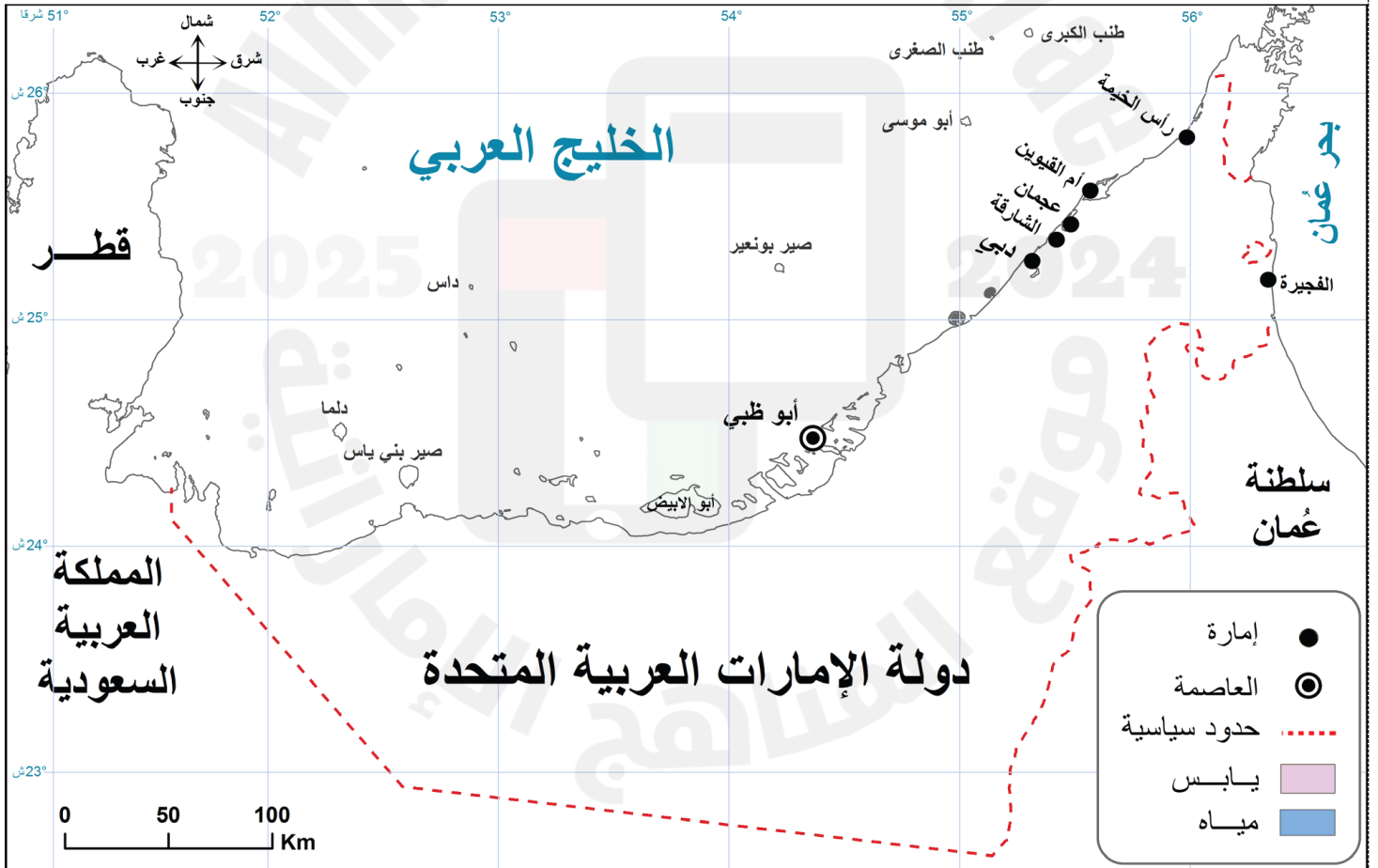
الصف الثالث

الفصل الدراسي الثاني

ورقة عمل عن خريطة بلادي

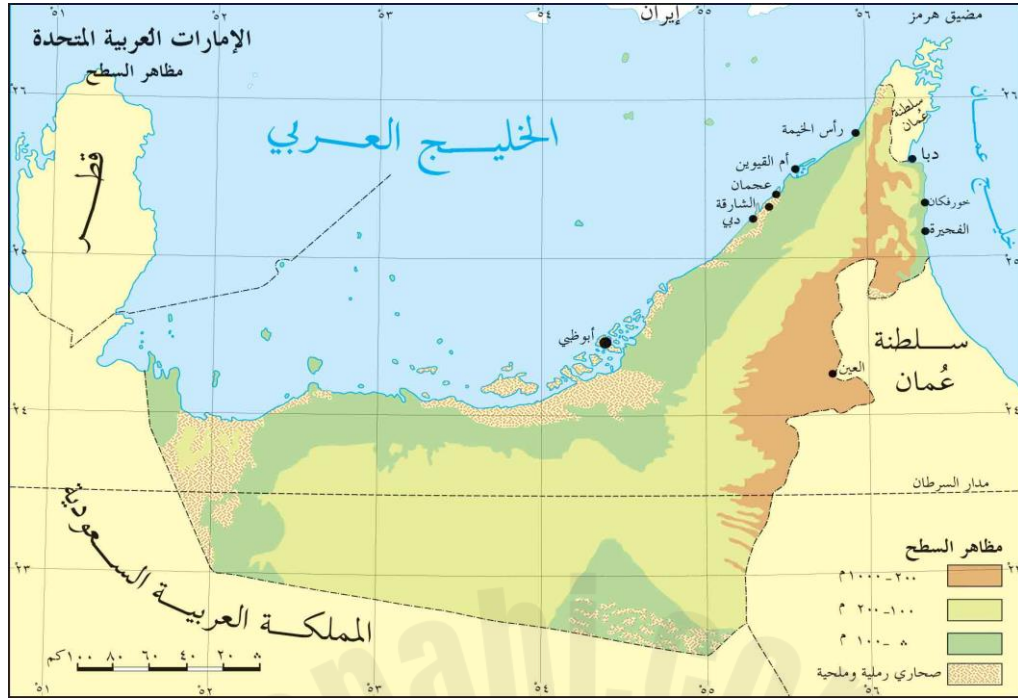
الاسم : الشعبة :

- أَتَّبَعُ النِّقَاطَ الْمُبَيَّنَةَ عَلَى الْخَرِيطَةِ لِاسْتِكْمَالِ رَسْمِ الْحُدُودِ السِّيَاسِيَّةِ لِدَوْلَةِ الْإِمَارَاتِ الْعَرَبِيَّةِ الْمُتَّحِدَةِ.
- أُلَوِّنُ خَرِيطَةَ دَوْلَةِ الْإِمَارَاتِ الْعَرَبِيَّةِ الْمُتَّحِدَةِ:
- أَسْتَكْمِلُ كِتَابَةَ عُنْوَانِ لِلْخَرِيطَةِ .خَرِيطَةُ دَوْلَةِالْعَرَبِيَّةِ الْمُتَّحِدَةِ



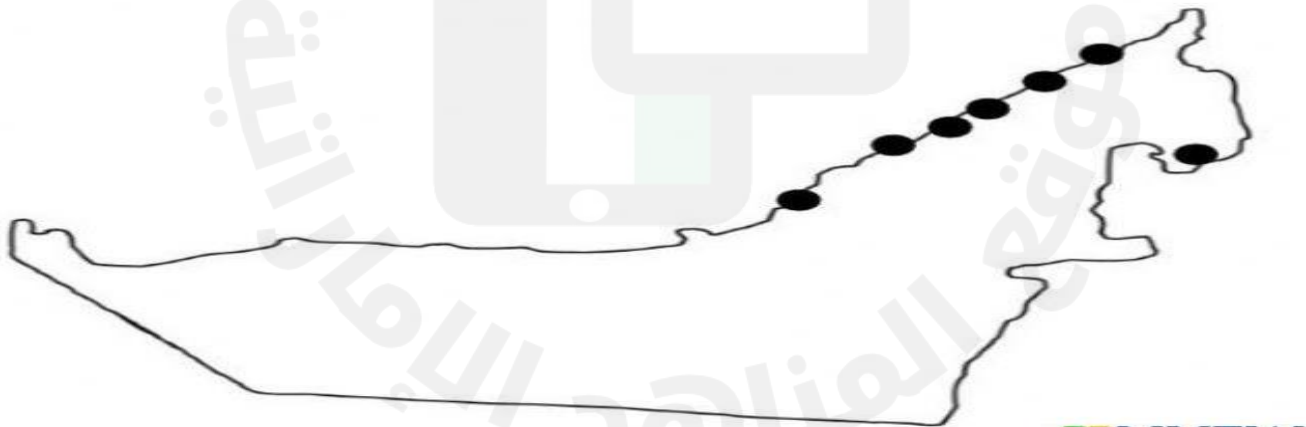
قيم نفسك :

- تأمل الخريطة التي أمامك ثم استخرج منها ما يلي:



- ضع دائرة حول الامارة التي تعيش فيها .
- أسماء الدول الخليجية المجاورة لدولة الامارات :

- المسطحات المائية التي تطل عليها دولة الامارات :



- اكتب أسماء الامارات السبع على خريطة دولة الامارات

مديرة المدرسة : نجية المنصوري

معلمة المادة : منى نجيب