

## تم تحميل هذا الملف من موقع المناهج الإماراتية



## حل نموذج اختبار تدريبي على الامتحان النهائي

موقع المناهج ← المناهج الإماراتية ← الصف الثالث ← اجتماعيات ← الفصل الثاني ← حلول ← الملف

تاريخ إضافة الملف على موقع المناهج: 14:21:22 2025-03-08

ملفات اكتب للمعلم اكتب للطالب | اختبارات الكترونية | اختبارات | حلول | عروض بوربوينت | أوراق عمل  
منهج انجليزي | ملخصات وتقارير | مذكرات وبنوك | الامتحان النهائي | للمدرس

المزيد من مادة  
اجتماعيات:

إعداد: عائشة سعيد الكندي

## التواصل الاجتماعي بحسب الصف الثالث



صفحة المناهج  
الإماراتية على  
فيسبوك

الرياضيات

اللغة الانجليزية

اللغة العربية

التربية الاسلامية

المواد على تلغرام

## المزيد من الملفات بحسب الصف الثالث والمادة اجتماعيات في الفصل الثاني

نموذج اختبار تدريبي على الامتحان النهائي

1

نموذج إجابة أسئلة مراجعة امتحانية وفق الهيكل الوزاري

2

أسئلة مراجعة امتحانية وفق الهيكل الوزاري

3

مراجعة تدريبية للاختبار النهائي

4

تدريبات عامة على مراجعة مهارات المادة

5



# نموذج الاجابة

## لاختبار مادة الدراسات الاجتماعية للصف الثالث

الفصل الدراسي الثاني  
2025-2024

المعلمة : عائشة سعيد الكندي  
مدرسة عبدالرحمن الناصر - الحلقة الأولى

# النموذج الأول

- اِقْرَأِ النَّصَّ الْآتِيَّ بِعُنْوَانٍ: "جَبَلُ جَيْسٍ"، ثُمَّ أَجِبْ عَنِ الْأَسْئَلَةِ الَّتِي تَلِيهِ:

## جَبَلُ جَيْسٍ



1. تَتَمَيَّزُ دَوْلَتُنَا الْحَبِيبَةُ بِمَعَالِمَ طَبِيعِيَّةٍ مُتَنَوِّعَةٍ، مِنْهَا السُّهُولُ، وَالصَّحَارَى، وَالْبَحَارُ، وَالْجُزُرُ، وَالْجِبَالُ ذَاتُ الارتفاعاتِ الشاهقة، وَهِيَ كَثِيرَةٌ فِي دَوْلَتِنَا، وَمِنْ أَهَمِّهَا جَبَلُ (جَيْسٍ).

2. يَقَعُ جَبَلُ (جَيْسٍ) فِي شَمَالِ إِمَارَةِ رَأْسِ الْخَيْمَةِ، شَرْقَ الْحُدُودِ

بَيْنَ دَوْلَةِ الْإِمَارَاتِ وَسُلْطَنَةِ عُمَانَ، وَيُعَدُّ أَعْلَى قِمَّةِ جَبَلِيَّةٍ فِي الدَّوْلَةِ، وَيَلِيهِ فِي الارتفاعِ جَبَلُ (حَفِيتٍ) فِي مَدِينَةِ الْعَيْنِ.

3. جَبَلُ (جَيْسٍ) مِنْ أَهَمِّ الْمَعَالِمِ السِّيَاحِيَّةِ فِي دَوْلَتِنَا، إِذْ يَتَمَتَّعُ بِمَنَاطِرَ طَبِيعِيَّةٍ خَلَابَةِ، وَإِطْلَالَةٍ رَائِعَةٍ عَلَى عَدَدٍ مِنَ الْوُدْيَانِ، وَالسُّهُولِ، وَأَرَاضٍ خَضْرَاءَ، وَأُخْرَى صَحْرَاوِيَّةٍ شَاسِعَةٍ.

4. تَتَمَيَّزُ قِمَّةُ جَبَلِ جَيْسٍ بِانْخِفَاضِ دَرَجَاتِ الْحَرَارَةِ، وَتَنْخَفِضُ كَثِيرًا فِي فَصْلِ الشِّتَاءِ، وَقَدْ



تَنَسَاقَطُ حَبَّاتُ الْبَرَدِ، وَيَتَشَكَّلُ الصَّبْقُ، وَتَهْطُلُ الثَّلُوجُ أحيانًا.

5. وَجَبَلُ (جَيْسٍ) مَقْصِدٌ لِهَوَاةِ تَسْلِقِ الْجِبَالِ، وَرَاكِبِي الدَّرَاجَاتِ،

وَيُمْكِنُكَ أَنْ تُجَرِّبَ الْمُغَامَرَةَ فِي أَطْوَلِ مَسَارٍ فِي الْعَالَمِ، وَالَّذِي يَمْتَدُّ قُرَابَةَ ثَلَاثَةِ آلَافِ مِثْرٍ، لِيَأْخُذَكَ إِلَى أَعْلَى الْجَبَلِ بِسُرْعَةٍ عَالِيَةٍ.

وَيُمْكِنُكَ أَيْضًا أَنْ تَعِيشَ مُغَامَرَةَ أُخْرَى، هِيَ التَّرَحُّلُ بِالزَّلَاجَاتِ فِي مَسَارٍ خَاصٍّ.



6. لَا تُقَوِّتُ زِيَارَةَ جَبَلِ (جَيْسٍ) مَعَ أُسْرَتِكَ، خَاصَّةً فِي هَذِهِ الْأَجْوَاءِ

الشِّتَوِيَّةِ الرَّائِعَةِ، وَاسْتَمْتِعْ بِالتَّنَرُّهِ فِيهِ، أَوْ تَأَمَّلِ جَمَالَ إِمَارَةِ رَأْسِ

الْخَيْمَةِ لَيْلًا مِنْ أَعْلَى قِمَّةِ جَبَلِ فِي الدَّوْلَةِ.

أَوَّلًا: اخْتَرِ الإِجَابَةَ الصَّحِيحَةَ مِمَّا يَأْتِي بِرَسْمِ دَائِرَةِ حَوْلَ رَمْزِهَا الْمُنَاسِبِ:

1- ما الفِكرَةُ الرَّئِيسَةُ فِي النِّصِّ السَّابِقِ؟

أ. جَبَلُ جِيسٍ وَأَهَمِّيَّتُهُ.

ب. رِياضَةُ تَسْلُقِ الْجِبَالَ.

ت. جَبَلُ حَفِيتٍ وَأَهَمِّيَّتُهُ.

2- أَيْنَ يَقَعُ جَبَلُ (جِيسٍ)؟

أ. فِي مَدِينَةِ الْعَيْنِ.

ب. فِي إِمَارَةِ رَأْسِ الْخَيْمَةِ.

ت. فِي سَلْطَنَةِ عُمانَ.

3- ما النَّشاطُ الَّذِي يُمارِسُهُ النَّاسُ فِي جَبَلِ جِيسٍ وَلَمْ يُذَكَّرْ فِي النِّصِّ؟

أ. تَسْلُقُ الْجِبَالَ.

ب. التَّنَزُّهُ.

ت. التَّخْيِيمُ.

4- فِي أَيِّ فَصْلِ يُمكنُ أَنْ تَرَى حَبَاتِ الْبَرَدِ عَلَى جَبَلِ (جِيسٍ)؟

أ. الشِّتَاءِ.

ب. الصَّيْفِ.

ت. الرَّبِيعِ.

5 ما الفكرة الرئيسة لفقرة الخامسة؟

أ. أنواع المغامرات في جبل جيس.

ب. درجة الحرارة في جبل جيس.

ت. موقع جبل جيس.

6- إلام يدعو الكاتب في الفقرة الأخيرة؟

أ. إلى القراءة عن جبل جيس.

ب. إلى زيارة جبل جيس.

ت. إلى التقاط صور لجبل جيس.

7- يطلُّ جبل جيس على الكثير من المناظر الطبيعية.




- في أي فقرة جاءت هذه الفكرة؟

أ. الثالثة.

ب. الرابعة.

ت. الثانية.

8- ما الصورة التي لا تُعبر عن المعالم الطبيعية؟

أ	ب	ت
		



## النموذج الثاني

اقرأ الخريطة الطبيعية الآتية لدولة الإمارات العربية المتحدة، ثم أجب:



✿ ارسم دائرةً حَوْلَ الإجابةِ الصَّحيحةِ لِكُلِّ مِمَّا يَلِي:

1- لِقَهْمِ زُمُوزِ الخَريطةِ وَدَلالاتِ الألوانِ فيها، نَحْتَاجُ إلى قِراءة:

A. مُفتاح الخَريطة

B. مِقياس الرِّسم

C. إطار الخَريطة

2- مِنْ جِبالِ دَوْلَةِ الإِمَارَةِ العَرَبِيَّةِ المُتَّحِدَةِ، جِبل:

A. لِيوا

B. عِجْمَان

C. حَفِيت

3- . تَطلُّ دَوْلَةُ الإِمَارَاتِ العَرَبِيَّةِ المُتَّحِدَةِ مِنْ جِهَةِ الشَّرْقِ عَلَى مُسَطَّحٍ مَائِيٍّ، يُسَمَّى:

A. بَحْرُ عُمان

B. الخَلِيجُ العَرَبِيّ

C. مَدَارُ السَّرَطَان

4- . يُشِيرُ اللَّوْنُ الأَخْضَرُ فِي الخَرِيطَةِ الطَّبِيعِيَّةِ لدَوْلَةِ الإِمَارَاتِ العَرَبِيَّةِ المُتَّحِدَةِ، إِلَى:



A. الزَّرَاعَةُ الجَبَلِيَّة



B. الخَدَائِقُ العامَّة



C. السَّهْلُ السَّاحِلِيَّة

5- لماذا تَكثرُ المُدنُ عَلَى السَّهْلِ السَّاحِلِيّ الغَرَبِيِّ لدَوْلَةِ الإِمَارَاتِ؟

A. لِأَنَّهُ قَصِيرٌ وَضِيقٌ

B. بِسَبَبِ طَوْلِهِ وَاتِّسَاعِهِ

C. لِكَثْرَةِ وَجُودِ الجِبَالِ فِيهِ