

شكراً لتحميلك هذا الملف من موقع المناهج الإماراتية



حل مراجعة اختبار كويز Quiz 4

[موقع المناهج](#) ⇨ [المناهج الإماراتية](#) ⇨ [الصف الثالث](#) ⇨ [علوم](#) ⇨ [الفصل الأول](#) ⇨ [الملف](#)

تاريخ نشر الملف على موقع المناهج: 20-10-2023 15:56:37

التواصل الاجتماعي بحسب الصف الثالث



روابط مواد الصف الثالث على تلغرام

[الرياضيات](#)

[اللغة الانجليزية](#)

[اللغة العربية](#)

[التربية الاسلامية](#)

المزيد من الملفات بحسب الصف الثالث والمادة علوم في الفصل الأول

[حل مراجعة اختبار كويز Quiz 3](#)

1

[حل مراجعة امتحانية للوحدة الأولى review exam 1 Unit](#)

2

[ملخص وشرح الدرس الأول Motion and Position من الوحدة الأولى](#)

3

[أسئلة امتحان الوحدة الأولى والثانية](#)

4

[أوراق عمل الدرس الثالث الحيوانات وأعضاؤها من الوحدة الثانية](#)

5



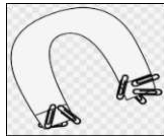
Neima School

Science Quiz 4 REVIEW

Name:..... gr 3..... October 2022

Read then **circle** the correct answer:

1. Identify: This magnet will the paperclip.



a) repel

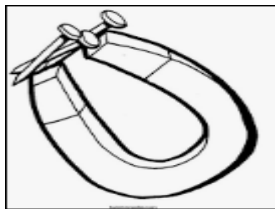
b) attract 

2. What is Magnetism?

a) Not the force of a magnet to attract or repel.

b) The force of a magnet to attract or repel, like steel objects. 

3. Interpret the image by choosing the correct answer:



a) repel

b) attract 

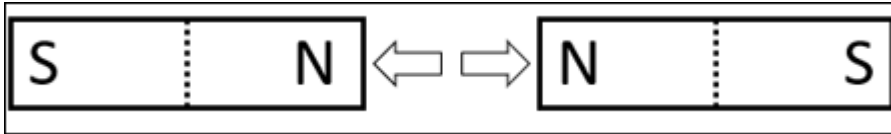
c) the object is made of steel 

4. What is the Magnetic Field?

a) The area around the magnet to attract or repel objects. 

b) The north pole to attract objects.

5. Interpret this sign:

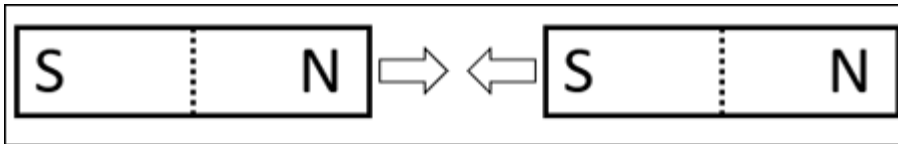


a) attract

b) **repel**



6. Choose the correct answer:

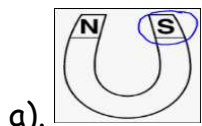


a) **attract**




b) repel


7. Label the images: (North Pole, South Pole, Magnetic Field)



south pole



magnetic field



north pole



..... The End