

# أسئلة الاختبار التكويني الأول في دروس تغيرات الحالة والتغيرات الفيزيائية والتغيرات الكيميائية



تم تحميل هذا الملف من موقع المناهج الإماراتية


موقع المناهج ← المناهج الإماراتية ← الصف الثالث ← علوم ← الفصل الثالث ← ملفات متنوعة ← الملف

تاريخ إضافة الملف على موقع المناهج: 18:47:12 2025-05-04

ملفات اكتب للمعلم اكتب للطالب | اختبارات الكترونية | اختبارات | حلول | عروض بوربوينت | أوراق عمل  
منهج انجليزي | ملخصات وتقارير | مذكرات وبنوك | الامتحان النهائي | للمدرس

المزيد من مادة  
علوم:

التواصل الاجتماعي بحسب الصف الثالث



صفحة المناهج  
الإماراتية على  
فيسبوك

الرياضيات

اللغة الانجليزية

اللغة العربية

التربية الاسلامية

المواد على تلغرام

المزيد من الملفات بحسب الصف الثالث والمادة علوم في الفصل الثالث

ملخص جميع دروس وحدات الكتاب

1

حل أسئلة مراجعة الوحدة 11 القياس

2

أسئلة مراجعة الوحدة 11 القياس

3

أسئلة اختبار الوحدة 11 القياس

4


الخطة الفصلية لتوزيع المقرر الفصل الثالث

5

## الاختبار التكويني 1 مادة العلوم (تغيرات الحالة-التغيرات الفيزيائية-التغيرات الكيميائية)

أولاً: اختر الإجابة الصحيحة: (درجتان لكل سؤال)

1. في الشكل، أي مما يلي يشير إلى الحالة الصلبة للماء؟



4. في الشكل أدناه، ما العملية التي تحدث لبخار الماء




الناجم من تنفس الحصان في الطقس البارد؟

- A. التكاثف  
B. الانصهار  
C. التبخر

7. أي من هذه التغيرات يعد تغيراً كيميائياً لقطعة الورق؟

- A. طي  
B. قص  
C. تمزيق  
D. حرق

2. ما الذي يستخدم فيه الثيرمومتر؟



- A. قياس الوزن  
B. قياس درجة الحرارة  
C. قياس الكهرباء

5. مادة يزداد حجمها عندما تتجمد

- A. الهواء  
B. الزيت  
C. الخل  
D. الماء

8. أي مما يلي يمثل محلولاً؟

fruit salad  
سلطة الفواكه

A

ocean water  
ماء المحيط

B

raisin cake  
كعكة بالزبيب

C

3. في الشكل أدناه، ما العملية التي تؤدي إلى تجفيف الملابس



المبللة عند وضعها في الشمس؟

- A. الانصهار  
B. التكاثف  
C. التبخر

6. في الشكل أدناه، أي حرف مما يلي يمثل تغيراً كيميائياً للقطار؟



A



B



C

9. في الشكل أدناه، أي مما يلي لا يشير إلى تغير كيميائي؟



A

B

C

ثانياً: أجب عن الأسئلة التالية: (درجة لكل إجابة)

10. يمثل الجدول أدناه ثلاثة مخاليط وثلاث طرق يمكن استخدامها لفصل المخاليط  
صل بين المخلوط والطريقة الأنسب لفصله.

التبخير	 الملح والبيذور
المغناطيس	 الملح وبردادة الحديد
المصفأة	 الملح والماء

11. يمثل الشكل مراحل نضج الموز، ادرسه وأجب عن الأسئلة التالية.

- أي حرف يدل على موز ناضج جداً؟.....
- أي حرف يدل على موز غير ناضج؟.....
- أي حرف يدل على موز ناضج؟.....



• ما نوع التغير الذي حدث للموز في مراحل نموه؟