

تم تحميل هذا الملف من موقع المناهج الإماراتية



أسئلة الامتحان النهائي القسم الورقي منهج بريدج العام 2024-2025

موقع المناهج ← المناهج الإماراتية ← الصف الثالث ← علوم ← الفصل الأول ← ملفات متنوعة ← الملف

تاريخ إضافة الملف على موقع المناهج: 2024-11-27 11:20:19

ملفات اكتب للمعلم اكتب للطالب الاختبارات الكترونية | اختبارات | حلول | عروض بوربوينت | أوراق عمل
منهج انجليزي | ملخصات و تقارير | مذكرات و بنوك | الامتحان النهائي للمدرس

المزيد من مادة
علوم:

التواصل الاجتماعي بحسب الصف الثالث



الرياضيات



اللغة الانجليزية



اللغة العربية



التربية الاسلامية



المواد على تلغرام

صفحة المناهج
الإماراتية على
فيسبوك

المزيد من الملفات بحسب الصف الثالث والمادة علوم في الفصل الأول

أسئلة الامتحان النهائي التعويضي القسم الورقي منهج بريدج العام 2023-2024

1

أسئلة مراجعة امتحانية نهائية منهج انسابير

2

مراجعة وحدات الفصل منهج انسابير

3

حل مراجعة درس Solutions Designing and Electricity مع الترجمة للعربية

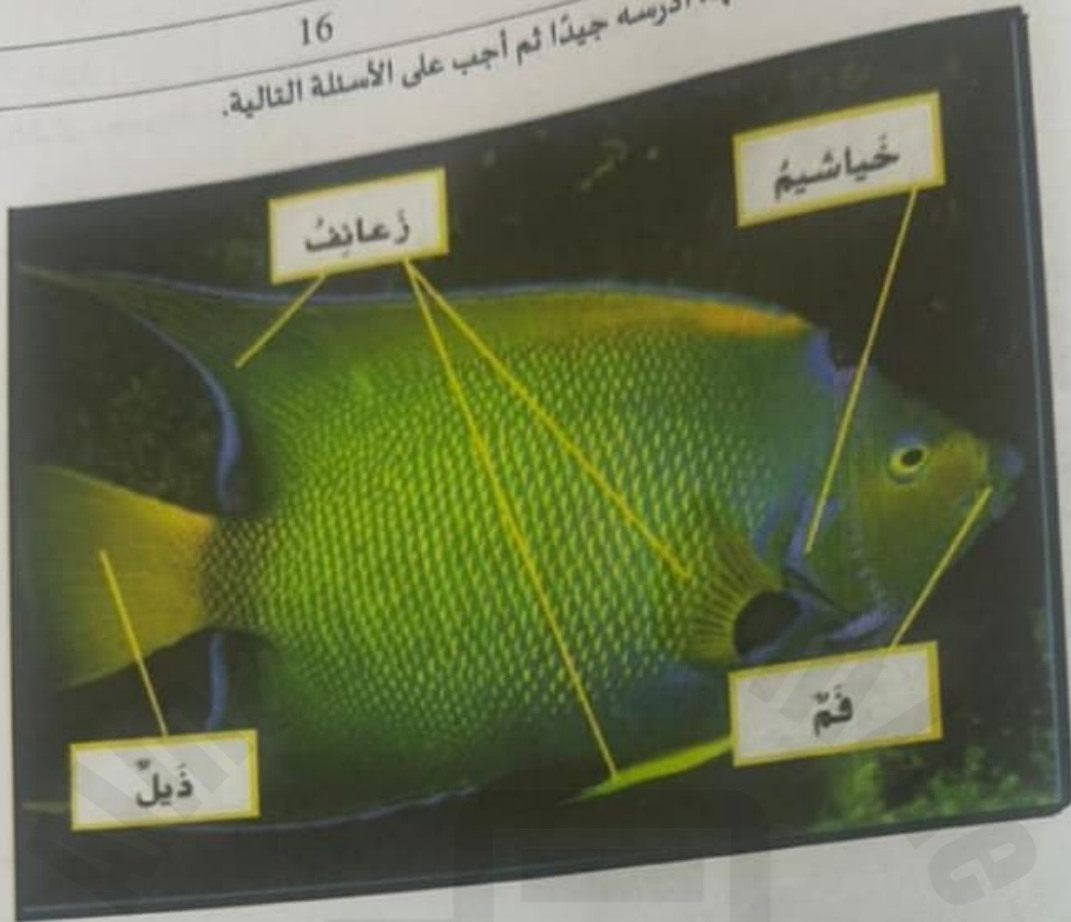
4

مراجعة درس motion change can Force منهج انسابير


5

16

يُظهر الشكل سمكة وأعضائها. ادرسه جيدًا ثم اجب على الأسئلة التالية.



1. أى من الأعضاء يُساعد السمكة على التنفس؟ و.....
2. أى من الأعضاء يُساعد السمكة على الحركة؟ و.....





7

السؤال

أي من الأحرف التالية يُمثل حيواناً يستخدم أشواكه الحادة للدفاع عن نفسه؟



القنفذ



العصفور



السنجاب

القنفذ

A

العصفور

B

السنجاب

C

8

السؤال

أي من التراكيب التالية تُساعد الدودة على التنفس؟



خياشيم

A

زعانف

B

الجلد

C

19

السؤال

الشكل يُمثل دورة حياة نبات الصنوبر. اكتب رقم المرحلة الصحيح مما يلي في الفراغ المناسب .

- (1) شجرة صنوبر صغيرة تنمو
- (2) بذرة صنوبر تنبت في التربة
- (3) شجرة كبيرة تنتج مخاريط
- (4) تنمو البذور داخل مخروط أنثوي



السؤال

18

يوضح الشكل مجموعة من النباتات. ارسم دائرة حول التصنيف الصحيح (مزهرة - غير مزهرة) أسفل كل شكل.



شجرة الكرز



شجرة الطقسوس



شجرة القزعر



التين الشوكي

غير مزهرة

مزهرة

غير مزهرة

مزهرة

غير مزهرة

مزهرة

غير مزهرة

مزهرة



2024

موقع المناهج الإماراتية



السؤال

9

أي من الأحرف التالية يُمثل حيوانًا من البرمائيات؟



A



B



C

A

A

B

B

C

C

10

السؤال

أي من الحيوانات التالية ينتمي إلى الثدييات؟



الحرباء



الحلزون



الدولفين

الدولفين

A

الحلزون

B

الحرباء

C





3

السؤال

أي مما يلي يساعد الكائنات الحية على الحصول على ما تحتاجه للنمو؟



الغذاء

A

الحركة

B

التكاثر

C

4

السؤال

أي مما يلي يحتاجه الدب ليبقى على قيد الحياة؟



الأكسجين

A

الكتاب

B

اللعب

C



20

الشكل يُمثل نبات. اكتب اسم الجزء الصحيح من الشكل في الفراغ المناسب .



1. الجزء الذي يحمل النبات هو.....
2. الجزء الذي يحول ضوء الشمس إلى غذاء للنبات هو.....
3. الجزء الذي يمتص الماء والمواد الغذائية من التربة إلى النبات هو.....



17

السؤال

يوضح الشكل مجموعة من اللافقاريات، ارسم خطأ لربط كل مجموعة بالمثل المناسب الذي يم



الإسفنجيات



الديدان



الرخويات



الحيوانات المفصليّة





1

السؤال

الشكل يُمثل حرباء مدغشقر.

أي مما يلي يُمثل أحد المتغيرات التي تؤثر على أماكن عيش حرباء مدغشقر حسب دراسة راكمورثي؟



لون الأزهار

A

درجة الحرارة

B

طول الأشجار

C

2

السؤال

أي مما يلي يُعد من الكائنات الحية؟



A



B



C

A


A

B

B

C

C



14

السؤال

أي حرف مما يلي يُوضح دورة الحياة الصحيحة لسلحفاة بحرية؟



A

B

C

A

A

B

B

C

C

15

السؤال


أي مما يلي يُمثل أحد المستهلكات في السلسلة الغذائية أدناه؟



الجراد



العشب



الشمس

العشب

A

الجراد

B

الشمس

C

