

أسئلة اختبار قصير أول بدون إجابات



تم تحميل هذا الملف من موقع المناهج الإماراتية

موقع المناهج ← المناهج الإماراتية ← الصف الثالث ← رياضيات ← الفصل الثالث ← ملفات متنوعة ← الملف

تاريخ إضافة الملف على موقع المناهج: 08:55:41 2025-05-07

ملفات اكتب للمعلم اكتب للطالب | اختبارات الكترونية | اختبارات | حلول | عروض بوربوينت | أوراق عمل
منهج انجليزي | ملخصات وتقارير | مذكرات وبنوك | الامتحان النهائي | للمدرس

المزيد من مادة
رياضيات:

التواصل الاجتماعي بحسب الصف الثالث



صفحة المناهج
الإماراتية على
فيسبوك

الرياضيات

اللغة الانجليزية

اللغة العربية

التربية الاسلامية

المواد على تلغرام

المزيد من الملفات بحسب الصف الثالث والمادة رياضيات في الفصل الثالث

أسئلة الاختبار التكويني الأول بدون إجابات	1
أسئلة الاختبار القصير الثاني درس التمثيلات البيانية	2
أوراق عمل مراجعة درس التمثيلات البيانية بدون الحل	3
أوراق عمل درس الساعة	4
أوراق عمل درس الكتلة	5

السؤال الأول : ضع دائرة حول رمز الإجابة الصحيحة فيما يأتي:




(1) اختر أفضل تقدير لكتلة القطّة .

a) 7 kg

b) 12 g

c) 1 g

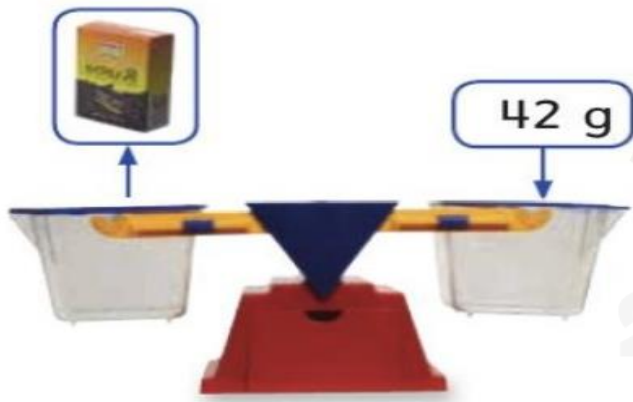
(2) ما كمية السائل الموجود في الوعاء ؟



a) 500 ml

b) 400 ml

c) 300 ml



(3) ما كتلة عبوتين من الزبيب ؟

a) 84 g

b) 80 g

c) 42 g

(4) أوجد قيمة المجهول $90 \text{ g} \div \blacksquare = 10 \text{ g}$

a) $\blacksquare = 1\text{g}$

b) $\blacksquare = 9 \text{ g}$

c) $\blacksquare = 19 \text{ g}$

(5) تقاس كتلة العملة النقدية الموضحة في الصورة بوحدة :



a) كيلو جرام

b) جرام

c) لتر

(6) أفضل تقدير لكتلة سمكة القرش ، هو :

a) 80 كيلو جرام

b) 8 جرام

c) 8 لتر

(7) اذكر الوقت المحدد في الساعة .



a) 7:12

b) 7:05

c) 7 :03

(8) اذكر الوقت المحدد في الساعة .

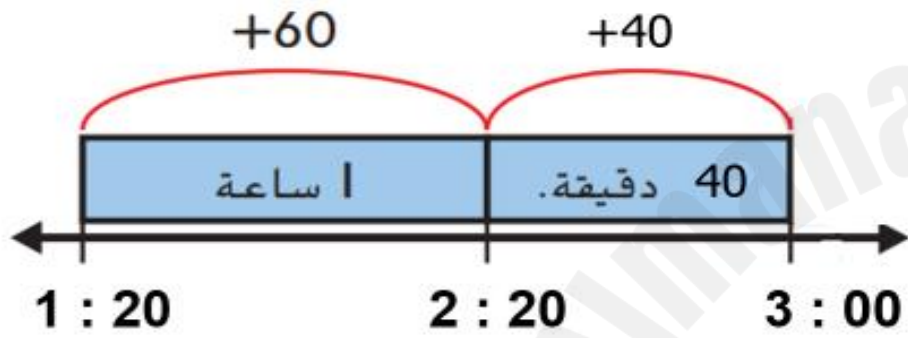


a) 1:10

b) 1:50

c) 2 :50

(9) الفترة الزمنية لمشاهدة فيلم وثائقي في المخطط التالي هي :



وَقْتُ الْبَدْءِ (p.m.) وَقْتُ الْانْتِهَاءِ (p.m.)



a) 120 دقيقة

b) 140 دقيقة

c) 100 دقيقة

السؤال الثاني : حل المسألة فيما يلي :

أراد سالم أن يشتري كرة قدم كتلتها 53 جرام ،
ليضيفها إلى مجموعته من الكرات والتي كتلتها 212 جرام .
احسب إجمالي كتلة الكرات التي يمتلكها سالم ؟

.....
.....

تمنيتي لكم بالتوفيق
معلمة مادة الرياضيات