

تم تحميل هذا الملف من موقع المناهج الإماراتية



تدريبات مراجعة نهائية من أكاديمية تمكين الرقمية

موقع المناهج ← المناهج الإماراتية ← الصف الثالث ← علوم ← الفصل الثاني ← ملفات متنوعة ← الملف

تاريخ إضافة الملف على موقع المناهج: 07:43:29 2025-03-10

ملفات اكتب للمعلم اكتب للطالب الاختبارات الكترونية | اختبارات | حلول | عروض بوربوينت | أوراق عمل
منهج انجليزي | ملخصات وتقارير | مذكرات وبنوك | الامتحان النهائي للمدرس

المزيد من مادة
علوم:

إعداد: عهود عبدالله الأحبش

التواصل الاجتماعي بحسب الصف الثالث



صفحة المناهج
الإماراتية على
فيسبوك

الرياضيات

اللغة الانجليزية

اللغة العربية

التربية الاسلامية

المواد على تلغرام

المزيد من الملفات بحسب الصف الثالث والمادة علوم في الفصل الثاني

مراجعة شاملة

1

أسئلة الامتحان التعويضي القسم الورقي منهج انسابير

2

تجميعه اختبارات تدريبية منهج انسابير

3

أسئلة الامتحان النهائي القسم الورقي منهج انسابير

4

نموذج اختبار تدريبي متبوع بالإجابات منهج انسابير

5



أكاديمية تمكين الرقمية

تدريبات لمادة العلوم للصف الثالث الأساسي

الفصل الدراسي الثاني 2025

المعلمة : عهد عبدالله الأحبش



1- أي مما يلي يغطي معظم مساحة سطح الأرض:

- A. المحيطات
- B. الصحراء
- C. الجزر

2- يوجد في الأرض سبع مناطق كبرى تسمى:

A. المحيطات

B. القارات

C. الجبال

3- خصائص اليايسة التي توضح على الخريطة تسمى:

A. خصائص اليايسة والماء


B. البحار

C. التضاريس

4- نحن نعيش في قارة:

- A. أوروبا
- B. استراليا
- C. آسيا

5- إلى أي تضاريس يشير السهم؟



- A. وادي
- B. جبل
- C. شبه الجزيرة

6- أي مما يلي السهل؟



C




B



A

7- يوضح الشكل أدناه قاع المحيط أي مما يلي يشير إليه الحرف (C)



A. الساحل

B. الخندق

C. الرف القاري

8- في الشكل أدناه ، أي رقم مما يلي يشير إلى طبقة الوشاح :



1 .A

2 .B

3 .C

9- أعمق وأسخن طبقات الأرض:

- A. القشرة
- B. الوشاح
- C. اللب

10- يغطي الماء ----- سطح الأرض

A. ثلاثة أرباع

B. نصف

C. ربع

11- تعد الأنهار والجداول والأنهار الجليدية والبرك من المسطحات المائية التي تتكون من ...

A. ماء مالح

B. ماء عذب

C. ماء حامض

12- من المسطحات المائية التي قد تحتوي على ماء مالح، وفي بعض المناطق تكون ماءً عذباً

A. المحيطات

B. الأنهار

C. البحيرات

13- يابسة تحيط بها المياه من جميع الجهات

A. النهر

B. الجزيرة

C. شبه الجزيرة

14- تسمى اليابسة التي تحيط بالمحيط

- A. الجزيرة
- B. الساحل
- C. الخندق

15- تسمى اليابسة التي توجد تحت المحيط بـ

A. قاع المحيط

B. الساحل

C. الخندق

16- يوجد تحت المحيط ويشبه التل الكبير

- A. الخندق
- B. الرف القاري
- C. الساحل

17- من أجزاء قاع المحيط ويتميز بأنه واسع ومسطح

A. الأعماق السحيقة

B. الرف القاري

C. الساحل

18- الطبقة الخارجية للأرض الأقل سمكاً والأكثر برودة:

- A. القشرة
- B. الوشاح
- C. اللب

19- تتكون الأرض من ----- طبقات رئيسية

- A. خمس
- B. أربع
- C. ثلاث

20- طبقة عبارة عن صخور صلبة والجزء الآخر صخور منصهرة وتكون لينة ومتدفقة تشبه العجينة:

A. القشرة

B. الوشاح

C. اللب

21- يوضح الشكل أدناه انفجار بركاني أي مما يلي يشير إليه الحرف (A) :



A. جبل بركاني

B. صحارة 2024

C. حمم بركانية

22- حركة مفاجئة للصخور التي تتكون منها القشرة الأرضية:

- A. الزلزال
- B. البركان
- C. الفيضان

23- الحركة السريعة للصخور والتربة لأسفل التل :

- A. الزلزال
- B. الانهيار الأرضي
- C. الفيضان


24- أي حدث ينتج عن الأمطار الغزيرة:

- A. الزلزال
- B. الانهيار الأرضي
- C. الفيضان

25- أي شكل مما يلي يعبر عن التعرية:



(C) الحصى الهندسية



(B) الأعمدة الترابية



(A) حمل المياه الجارية للصخور

26- كل ما يلي يسبب التجوية باستثناء :

A. الأمطار والثلوج

B. الكائنات الحية

C. الضوء

28- العملية التي تتجمع الصخور التي تعرضت لعوامل التجوية في مكان واحد تسمى:

A. التجوية

B. التعرية

C. الترسيب

29- غطاء من الغازات والأجزاء الدقيقة المكونة من الأتربة التي تحيط بالأرض يسمى بـ:

- A. القشرة**
- B. الغلاف الجوي**
- C. درجة الحرارة**

30- تعرف حالة الهواء في وقت معين وفي مكان محدد بإسم:

- A. الطقس
- B. فصول السنة
- C. الهطول

31- مجموعة من قطرات الماء الصغيرة أو بلورات الثلج في الهواء:

A. الشمس

B. الهواء

C. السحاب

32- أي مما يلي يستخدم لقياس كمية الهطول :



C



B



A

33- طبقات رقيقة ومسطحة من السحب وقد يكون لونها رمادياً أو أبيض :

A. السحب الطبقيّة

B. السحب الركامية

C. السحب الريشية

34- سحب بيضاء رقيقة وناعمة وتتكون على ارتفاع كبير فوق سطح الأرض:

A. السحب الطبقيّة

B. السحب الركامية

C. السحب الريشية

35- يوضح الجدول التالي حالات الطقس في ثلاثة أيام مختلفة. أي يوم احتمال هطول الثلوج:

اليوم	الغيوم	درجة الحرارة (C)
1	يوجد سحب طبقية	1
2	ملبد بالغيوم	- 2
3	ملبد بالغيوم جزئياً	3

- A. اليوم 1
B. اليوم 2
C. اليوم 3

36- عاصفة قوية ذات رياح دوارة تتكون فوق اليابسة:

A. الأعصار البحري

B. الأعصار القمعي

C. العاصفة الثلجية

37- أي نوع من أنواع الطقس القاسي لا يحدث في فصل الصيف:

A. عاصفة رعدية


B. إعصار بحري

C. عاصفة ثلجية

38- استخدم الرسم التوضيحي لدورة الماء

للإجابة عن السؤال:

أي رقم مما يلي يشير إلى التبخر



1 .A

2 .B

3 .C

39- مقدار الحيز الذي يشغله الجسم:

A. الحجم

B. الوزن

C. الكتلة

40- أي حرف يشير إلى أداة تستخدم لقياس كتلة الجسم:



(C) مخبر مدرج



(B) ميزان ذو كفتين



(A) شريط متري

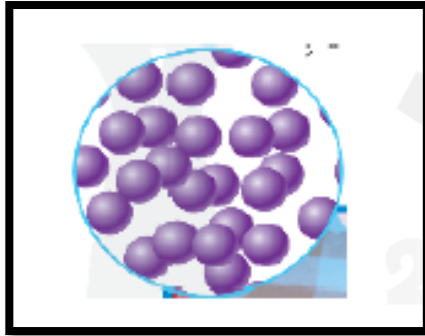
41- المكونات الأساسية للمادة تسمى:

A. العناصر

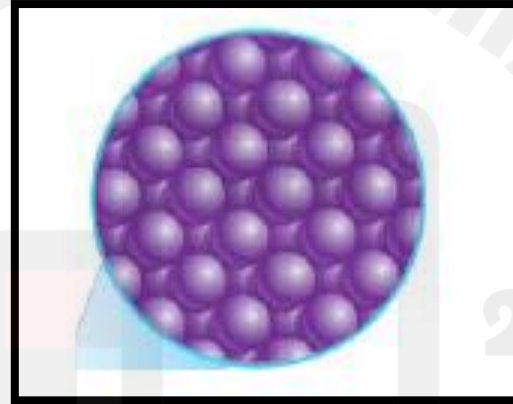
B. الخاصية

C. الماء

42- أي حرف يشير إلى جسيمات المادة الصلبة:



C



B



A

43- أي مادة تأخذ شكل حاويتها:

A. مكعب خشب

B. حليب

C. حبوب

44- لماذا يطفو طوق النجاة في الماء:

- A. لطفو النجاة القليل من الكتلة وكثير من الحجم
- B. لطفو النجاة الكثير من الكتلة والقليل من الحجم
- C. لطفو النجاة مقدار متساوي من الكتلة والحجم

45- أي مما يلي سائل تشربه كل يوم:

A. الشوكولاته

B. الهواء

C. الماء

انتهت الأسئلة