

تم تحميل هذا الملف من موقع المناهج الإماراتية



الملف أسئلة امتحان نهاية الفصل الثالث 2021-2022

[موقع المناهج](#) ⇨ [المناهج الإماراتية](#) ⇨ [الصف الثالث](#) ⇨ [علوم](#) ⇨ [الفصل الثالث](#)

روابط مواقع التواصل الاجتماعي بحسب الصف الثالث



روابط مواد الصف الثالث على تلغرام

[الرياضيات](#)


[اللغة الانجليزية](#)

[اللغة العربية](#)


[التربية الاسلامية](#)


المزيد من الملفات بحسب الصف الثالث والمادة علوم في الفصل الثالث

مقررات الفصل الثالث	1
أوراق عمل الوحدة العاشرة.	2
ملخص علوم.	3
أوراق عمل الوحدة العاشرة مع الحل.	4
امتحان تحريبي في الوحدة 11	5

Question	25	السؤال
The heat energy transfers from the burner to the frying pan shown in the figure via	25	تنتقل الطاقة الحرارية من الموقد للمقلاة الموضحة في الشكل أثناء بطريقه
		
A	Conduction	التوصيل
B	Convection	الحمل
C	Radiation	الإشعاع

انتهت الاسئلة

Question	23	السؤال
In the figure below, which letter refers to formation of heat from electrical energy?	23	في الشكل اتيه، أي حرف يشير إلى إنتاج الحرارة من الطاقة الكهربائية؟
		
A		A
B		B
C		C

Question	24	السؤال
Which of the following statements is true regarding the hot liquid shown in the figure below?	24	أي من العبارات التالية صحيحة فيما يتعلق بالسائل الساخن الموضح بالشكل اتيه؟
		
A	Has low thermal energy	لديه القليل من الطاقة الحرارية
B	Has high thermal energy	لديه الكثير من الطاقة الحرارية
C	It's particles move slowly	تحرك جسيماته ببطء



السؤال 21
في الشكل أدناه، أي حرف يشير إلى جسم يمتلك طاقة حركية؟

Question 21
In the figure below, which letter refers to an object that has kinetic energy?



A		A
B		B
C		C

almanafj.com/ae
المنافج الإلكترونية

السؤال 22
أي من تحولات الطاقة التالية يحدث أثناء استخدام البطارية الموضحة في الشكل أدناه؟


Question 22
Which of the following energy transformations occurs during the operation of the battery shown in the figure below?



A	From kinetic to chemical	من حركية إلى كيميائية
B	From electrical to light	من كهربائية إلى ضوء
C	From chemical to electrical	من كيميائية إلى كهربائية

السؤال 19
يُمثل الشكل أدناه المقص، أي مما يلي يشير إليه الحرف A؟

Question 19
The figure below represents scissors, which of the following does the letter A refer to?



A	Pulley	البكرة
B	Wedge	إسفين
C	Lever	رافعة




السؤال 20
في الشكل أدناه، أي حرف يشير إلى الشخص الذي لا يقوم بالعمل؟

Question 20
In the figure below, which letter refers to a person who does not do work?







A		A
B		B
C		C






Question	5	5	السؤال
Which of the tools shown below you can use to separate the iron filings from the salt without touching the mixture with the tool?			أي من الأدوات الموضحة أدناه يمكنك استخدامها لفصل برادة الحديد عن الملح دون لمس الخليط بالأداة؟
			
A			A
B			B
C			C

المنافذ الإلكترونية

Question	6	6	السؤال
Which of the following is a solution?			أي مما يلي يمثل محلولاً؟
			
	سلطة الفواكه fruit salad	الماء والملح salt and water	كعكة بالزبد round cake
A			A
B			B
C			C

Question	3	3	السؤال
In the figure below, what causes the formation of the water droplets on the plants leaves?			في الشكل أدناه، ما العملية التي تسبب تشكل قطرات الندى على أوراق النباتات؟
			
A	Condensation		التكثف
B	Melting		الانصهار
C	Evaporation		التبخر

Question	4	4	السؤال
In the figure below, which of the following does not indicate a physical change?			في الشكل أدناه، أي مما يلي لا يشير إلى تغير فيزيائي؟
			
	A	B	C
A			A
B			B
C			C




Question	15	السؤال
Which of the following letter represents unbalanced forces?	15	أي من الأحرف التالية يمثل قوى غير متوازنة؟
A		A
B		B
C		C


Question	16	السؤال
Which of the following simple machines represents a pulley?	16	أي من الآلات البسيطة التالية يمثل البكرة؟
A		A
B		B
C		C

Question	17	السؤال
Which of the following simple machines represents an inclined surface?	17	أي من الآلات البسيطة التالية يمثل سطح مائل؟
A		A
B		B
C		C

Question	18	السؤال
The figure below represents how the lever works. Which letter indicates the force exerted?	18	يمثل الشكل أدناه طريقة عمل الرافعة، أي حرف يشير إلى القوة المبذولة؟
A		A
B		B
C		C



Question	1	1	السؤال
In the figure below, which of the following indicates the solid state of water?			في الشكل أدناه، أي مما يلي يشير إلى الحالة الصلبة للماء؟
			
A		A	
B		B	
C		C	

Question	2	2	السؤال
In the following figure, what will happen when we heat the ice cubes shown below?			في الشكل أدناه، ما العملية التي تحدث عندما نقوم بتمسخين مكعبات الثلج الموضحة أدناه؟
			
A	Freezing		التجمد
B	Melting		الانصهار
C	Evaporation		التبخير



السؤال
 Question 9
 In the figure below, what is the **distance** between the two toys?



A	10 cm
B	5 cm
C	7 cm


almanahi.com
 المنهج الإلكتروني

السؤال
 Question 10
 Which of the cars shown below is the **fastest**?



A	The red car	السيارة الحمراء
B	The blue car	السيارة الزرقاء
C	The green car	السيارة الخضراء

السؤال
 Question 7
 In the figure below, which of the following **does not** indicate a chemical change?




A	A
B	B
C	C


السؤال
 Question 8
 In the figure below, which of the following indicates a **chemical change** of the bananas?





A	A
B	B
C	C



Question	13	السؤال
Which boy in the graph below is affected by the least frictional force?	13	في الرسم أدناه، أي صبي يتأثر بقوة احتكاك أقل؟
		
A		الصبي الذي يستخدم الزلاجات على الثلج
B		الصبي الذي يلبس حذاء مطاطي على العشب
C		الصبي الذي يلبس حذاء مطاطي على الثلج

Question	14	السؤال
In the graph below, which of the following represents a contact force?	14	في الشكل أدناه، أي مما يلي يمثل قوة تلامس؟
		
A		A
B		B
C		C

Question	11	السؤال
In the figure below, which represents straight-line movement?	11	في الشكل أدناه، ما الذي ينشور إلى حركة في خط مستقيم؟
		
A		A
B		B
C		C

Question	12	السؤال
In the figure below, which image shows a pull force?	12	في الشكل أدناه، أي صورة تظهر قوة سحب؟
		
A		A
B		B
C		C